

机密★启用前

姓 名 _____

准考证号 _____

湘 豫 名 校 联 考

2023 年 2 月 高三 春季 入学 摸底 考试

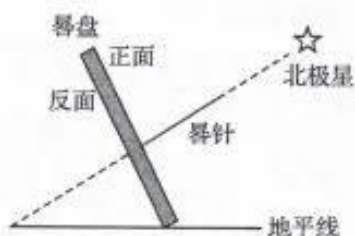
文科 综合 能力 测试

注意事项：

1. 本试卷共 18 页，时间 150 分钟，满分 300 分。答卷前，考生务必将自己的姓名、准考证号填写在答题卡上。
2. 回答选择题时，选出每小题答案后，用铅笔把答题卡上对应题目的答案标号涂黑。如需改动，用橡皮擦干净后，再选涂其他答案标号。回答非选择题时，将答案写在答题卡上。写在本试卷上无效。
3. 考试结束后，将本试卷和答题卡一并交回。

一、选择题：本题共 35 小题，每小题 4 分，共 140 分。在每小题给出的四个选项中，只有一项是符合题目要求的。

北回归线在云南省普洱市墨江县(102°E)穿城而过，下图为墨江北回归线标识园内赤道日晷(日晷由晷针和晷盘组成，是观测日影计时的仪器。常见的赤道日晷的晷针垂直于晷盘，且上端指向北极星附近，并根据地方时在该晷盘上标有子、丑、寅、卯、辰、巳、午、未、申、酉、戌、亥等十二时辰)正面景观及其放置情况示意图。据此完成 1~2 题。



1. 该日晷的晷盘与地平面之间的夹角为

A. $23^{\circ}26'$

B. $30^{\circ}32'$

C. $66^{\circ}34'$

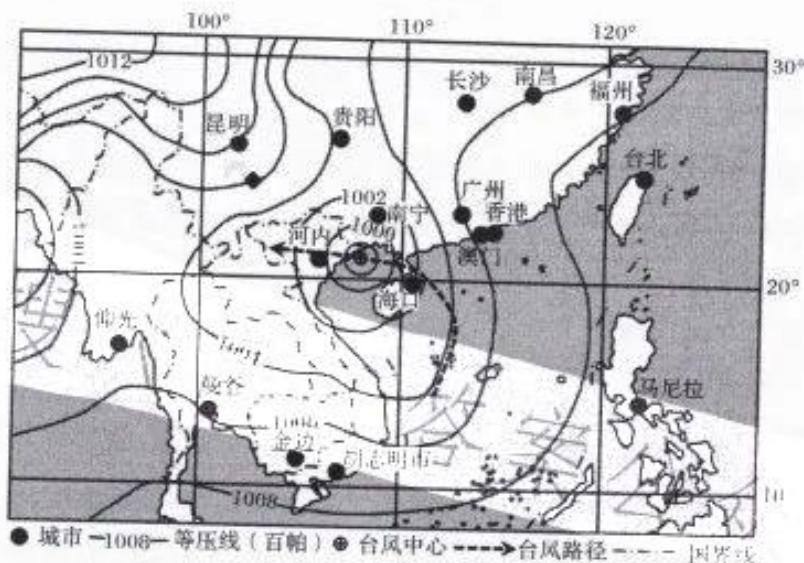
D. $45^{\circ}34'$

文科综合试题 第 1 页(共 18 页)

2. 北京时间 12 点时, 该日晷的晷针影子落在晷盘上的

- A. 午时内部 B. 巳时内部 C. 寅时内部 D. 申时内部

2022 年第 7 号台风“木兰”于 8 月 8 日 14 时在南海中西部海面生成, 生成后先向东北方向移动, 后转向西北方向, 9 日上午加强为热带风暴, 10 日 10 时 50 分前后在广东徐闻登陆后一路向西, 11 日 4 时 30 分在越南东北部沿海再次登陆, 风速也逐渐减小, 11 日 5 时在越南广宁省境内减弱为热带低压。下面为 2022 年第 7 号台风“木兰”移动路径及 11 日 4 时 30 分时海平面等压线分布图。据此完成 3~4 题。



3. 台风“木兰”在越南东北部登陆时

- A. 昆明附近正刮西南风 B. 仰光附近地区已乌云密布
C. 台湾海域风高浪急 D. 雷州半岛附近地区风速较大
4. 此次台风“木兰”从雷州半岛登陆后未能向西偏北方向移动的主要原因是
- A. 越南北部地势平坦 B. 冷空气的势力较强
C. 北部湾海域面积较小 D. 南岭群山阻挡作用

位于河北省中部平原的蠡县是麻山药的原产地。传统种植方式(让山药地下块茎垂直地面竖着生长)平均亩产约 3 000 千克, 且山药的地下块茎容易出现多毛, 表皮粗糙, 弯曲和分叉现象。2019 年开始, 当地采用硬塑料套管山药种植技术(先在半圆形硬塑料管下部打很多小孔, 斜铺后覆土播种, 让山药地下块茎横着生长)进行试种, 亩产超 5 000 千克。下面图 a 为传统山药种植方式景观, 图 b 为套管山药种植方式中斜铺的半圆形硬塑料管情境。据此完

文科综合试题 第 2 页(共 18 页)

成 5~7 题。



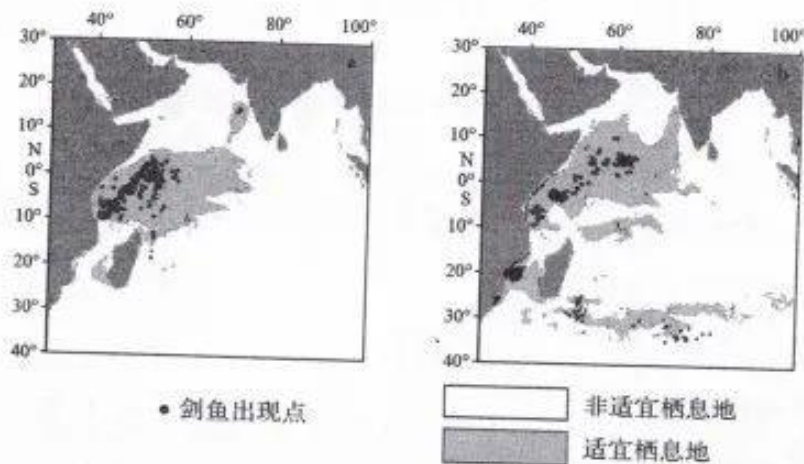
图 a



图 b

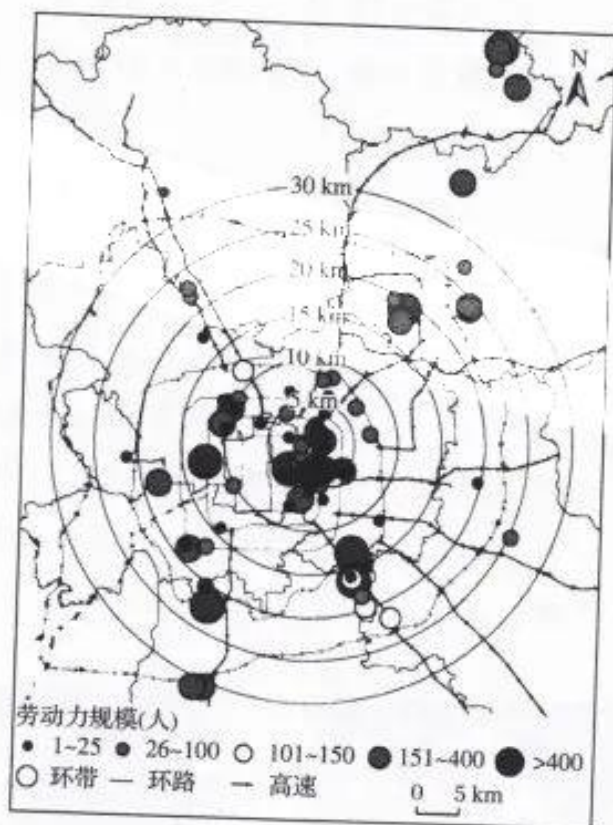
5. 盩县麻山药种植区的土壤具有的典型特征是
- A. 土壤贫瘠 **B. 土层深厚** C. 质地粘重 D. 酸性较强
6. 采用硬塑料套管山药种植方式时,在半圆形硬塑料管下部打很多小孔的目的主要是
- A. 蓄水保肥 B. 提高呼吸能力
C. 利于水分下渗 D. 提高土壤温度
7. 与传统种植方式相比,套管山药种植方式会
- A. 增加土壤污染 B. 使地下块茎更弯曲
C. 增加收获难度 **D. 降低山药伤损数量**

剑鱼是一种大洋性中上层暖水性高度洄游性鱼类。下图 a、b 为某年早、雨两季(雨季为 6—10 月,旱季从 11 月到翌年 5 月)剑鱼适宜栖息区域的分布对比。据此完成 8~9 题。



8. 印度半岛在图中 a、b 两时期的盛行风向分别为
- A. 东北风、西南风
B. 西北风、东南风
C. 西南风、东北风
D. 东南风、西北风
9. 影响图 b 所示季节剑鱼适宜栖息地在 30°S 附近的主要因素是
- A. 纬度位置
B. 海陆位置
C. 洋流
D. 潮汐

大都市区内企业规模的空间分异,尤其是中心城区和郊区的对比、企业集聚区和非集聚区间的对比,受市场规模与分工发育程度的影响显著。下图为在京日企平均劳动力就业规模的空间分布(以在北京的日本企业空间分布重心为圆心,以 5 km、10 km、15 km、20 km、25 km 和 30 km 为半径)。据此完成 10~11 题。



10. 在京日企就业规模空间分布特点为
- A. 由内向外逐渐增大
B. 规模小的主要分布在市中心附近
C. 由外向内逐渐增大
D. 规模大的集中分布在外围

文科综合试题 第 4 页(共 18 页)

11. 在 10 km 环带内,数量最少的日企类型为
- A. 管理投资型 B. 研发设计型
- C. 销售服务型 D. 生产加工型
12. 下表是财政部发布的 2022 年 1—6 月、1—7 月、1—8 月、1—9 月全国国有及国有控股企业经济运行情况

	2022年1-6月			2022年1-7月			2022年1-8月			2022年1-9月		
	营业总收入	利润总额	应交税费	营业总收入	利润总额	应交税费	营业总收入	利润总额	应交税费	营业总收入	利润总额	应交税费
金额(亿元)	392 935.2	22 955.1	30 571.4	457 796.3	26 755.4	35 549.5	523 519.1	30 130.8	40 082.7	596 682.4	34 021.8	44 933.5
同比增长(%)	9.6	-2.1	14.4	9.5	-2.1	13.6	9.5	-1.5	13.8	9.3	-1.1	12.3

注:利润总额指所有国有及国有控股企业获取的利润总和,表格中的数值是不同阶段以上及国有控股企业不同阶段各方面的变化情况

下列对表格数据的解读正确的是

- ①我国国有经济运行总体持续恢复态势
②国有经济的主体地位得到了不断巩固
③资本多元化增强了国有企业的竞争力
④凸显我国国有经济具备抗冲击的韧性
- A. ①② B. ①④ C. ②③ D. ③④
13. 根据《财政部 税务总局 科技部关于进一步提高科技型中小企业研发费用税前加计扣除比例的公告》的规定,科技型中小企业开展研发活动中实际发生的研发费用,形成无形资产的,按照无形资产成本的 200% 在税前摊销。该政策对相关企业的影響路径是
- A. 加大研发投入→提高科技人才待遇→调动研发积极性→促使科研成果向效益转化
B. 引进先进设备→提高产品质量和性能→形成质量竞争优势→提高国际市场占有量
C. 开展劳动者技能培训→降低产品生产成本→形成价格竞争优势→促使商品利润率提高

- D. 提高市场准入门槛→淘汰科技含量低的企业→碳排放量减少→实现经济的高质量发展
14. 在 2022 年 9 月 23 日举行的广东省保健协会第三届第十次理事代表大会暨首届湾区母婴健康产业发展峰会上,《月子保健机构等级评定规范》团体标准在广州启动,这是全国首个月子保健机构等级评定规范。启动该规范
- ①说明政府在资源配置起决定作用
 - ②有助于降低月子保健行业的门槛
 - ③是为了规范月子保健市场的秩序
 - ④是政府加强市场监管的具体举措
- A. ①② B. ①④ C. ②③ D. ③④
15. 2022 年 10 月 7 日,美国政府将 31 家中国公司、研究机构等列入所谓“未经核实的名单”,限制它们获得美国半导体技术。外媒报道,美国对中国芯片技术的一系列围追堵截政策,正在反噬美国本土芯片企业。美国对华出口芯片层层加码,让美国芯片公司“很受伤”。美国的政策反噬美国本土芯片企业
- ①表明美国的逆全球化政策损人不利己
 - ②中国自主研发会使美企失去庞大市场
 - ③促使美国必将停止对中国的技术封锁
 - ④意味着发达国家失去主导全球化能力
- A. ①② B. ①④ C. ②③ D. ③④
16. 截至 2022 年 10 月,我国已有 2 860 种药品进入国家医保目录,国内 67% 的已上市罕见病用药都在其中,大大减轻了患者的用药负担。10 年间,我国医保参保人数从 5.4 亿增加到 13.6 亿,我国建成了全世界规模最大的基本医疗保障网。我国医疗保障取得的重大成就
- ①充分说明了人民民主最广泛最真实最管用
 - ②从侧面反映出我国人民民主全民化的优势
 - ③是我国政府切实履行社会建设职能的体现
 - ④意味着我国是世界上人权指数最高的国家
- A. ①② B. ①③ C. ②④ D. ③④
17. 中央纪委国家监委公布的全国查处违反中央八项规定精神问题情况月报



- 数据显示,2022年8月,全国共查处违反中央八项规定精神问题7799起,批评教育帮助和处理11226人(包括51名地厅级干部、679名县处级干部),给予党纪政务处分7752人。查处违反中央八项规定精神的党员干部
- ①是新形势下党经受住各种考验的必然要求
②充分地体现了全面从严治党的信心和决心
③目的在于进一步确定党的领导核心的地位
④确立了中国特色社会主义最大的政治优势
- A. ①② B. ①③ C. ②④ D. ③④
18. 习近平总书记在党的二十大报告中指出,祖国完全统一一定要实现,也一定能够实现!解决台湾问题是中国人自己的事,要由中国人来决定。我们坚持以最大诚意、尽最大努力争取和平统一的前景,但决不承诺放弃使用武力,保留采取一切必要措施的选项,这针对的是外部势力干涉和极少数“台独”分裂分子及其分裂活动。习近平总书记的讲话
- ①向全世界宣示了我国维护国家统一的坚定信心
②彰显我国坚决维护国际政治经济新秩序的決心
③基于我国作为主权国家享有的独立权和自卫权
④说明和平解决台湾问题的方针已经发生了变化
- A. ①③ B. ①④ C. ②③ D. ③④
19. 2022年10月23日,墨西哥首都举办秋季中国文化节,孔子学院中方教师弹奏古筝,跳民族舞,表演舞龙舞狮,吸引民众前来现场感受中国文化魅力。举办中国文化节
- ①为中华文化的对外传播创造了最为广阔的平台
②有助于广大墨西哥民众加深对中华文化的认同
③符合文化多样性的要求,能促进世界文化繁荣
④有助于展示中华文化魅力,扩大中华文化影响
- A. ①② B. ①③ C. ②④ D. ③④
20. 新华社8月15日报道,今年以来,苏州河大面积死鱼事件已经发生13起。这些鱼并非野生的,多是市民放生的。有人认为放生可以改变命运,有人认为放生可以积累福报,因此前来放生的人很多。由于市民放生的鱼大多是从市场购买的,这些人工养殖的鱼不易适应苏州河的水所以会很快死

- 去。苏州河死鱼事件的发生说明
- ①绿色文化深入人心,人们环保意识增强
 - ②落后文化对社会发展的危害不容忽视
 - ③要有识别落后文化与腐朽文化的能力
 - ④弘扬科学精神、普及科学知识任重道远
- A. ①② B. ①③ C. ②④ D. ③④
21. 科学家们发现,一种化学物质是控制毛囊细胞何时分裂、何时死亡的关键。研究人员表示,这一突破不仅可以有效治疗秃顶,而且最终还能加快伤口愈合,因为毛囊是干细胞的来源。控制毛囊细胞这一研究成果的取得
- ①进一步验证了思维和存在的同一性原理
 - ②充分发挥了意识主观能动性的基础作用
 - ③是科技使人类摆脱客观条件制约的体现
 - ④说明认识规律并利用规律可以造福人类
- A. ①② B. ①④ C. ②③ D. ③④
22. 2022年10月18日,谷歌公布其正在研究的“乒乓球机器人”项目,机器人在与人类对打时,一回合可接球310次。谷歌强调这只是人类与AI的“合作”,但以AI成长的速度,具有挑战专业选手。对“乒乓球机器人”前景的预测
- ①说明人工智能的意识水平超越人类是迟早的事
 - ②彰显出新事物具有远大的前途和强大的生命力
 - ③如实的把事物的运动变化看成是一个质变过程
 - ④彰显人类充分发挥主观能动性具有神奇创造力
- A. ①③ B. ①④ C. ②③ D. ②④
23. 根据《福建省禁止中小学幼儿园学生携带手机进入课堂的规定》,自2022年9月1日起,福建省“禁止中小学幼儿园学生携带手机进入课堂”,学生确有需要将手机带入学校的,可以由其父母或者其他监护人向学校提出书面申请。该《规定》
- ①抓住了手机进校园这一学校全面工作中的主要矛盾
 - ②是基于承认矛盾普遍性从而重视和解决矛盾的举措
 - ③进一步验证了矛盾的普遍性寓于矛盾的特殊性之中
 - ④符合矛盾特殊性原理要求坚持了具体问题具体分析
- A. ①② B. ①③ C. ②④ D. ③④



24. 西周推行的分封制打破了原先以血缘为族群壁垒的状态,使“各非周族群都以政治上的从周感超越了之前狭隘的‘我族’心理与认知”。据此可知,分封制 来源:高三答案公众号
- A. 增强了国家政治认同感 B. 导致了社会组织的混乱
- C. 促进了中央集权的形成 D. 实现了各族群的周族化
25. 汉文帝时对以《孟子》为代表的孟子之学曾专立博士官,但汉武帝设立“五经”博士时却将《孟子》作为诸子之学而废除,致使孟子之学长期淹没不张。这一变化说明
- A. 汉武帝接受董仲舒的学说 B. 孟子之学不符合儒学传统
- C. 儒学开始走向了支离破碎 D. 汉代儒学具有因势而变性
26. 有学者指出,宋代士大夫是历史上首次庶族入仕,因此宋代士人表现出参与政治的强烈愿望,朱熹和陆九渊都向往着王安石的“得君行道”,俨然以政治主体自居,充分体现了“以天下为己任”的气概。该学者意在说明
- A. 王安石是理学的真正践行者 B. 朱熹和陆九渊思想主张趋同
- C. 士人参政有效抑制皇权专制 D. 政治环境激发士人责任意识
27. 据明万历年间的《宣府镇志》记载,宣府(今张家口宣化区)本是一个荒寂的小城,万历年间“贾店鳞比,各有名称,如云:南京罗缎铺,苏杭罗缎铺,潞州绸铺,泽州帕铺,临清布帛铺、绒线铺、杂货铺,各行交易,铺沿长四五里许,贾皆争居之”。这说明
- A. 漕运发展促进了边境贸易 B. 全国性市场网络已现雏形
- C. 南北方的经济互补性加强 D. 明代商业性市镇开始兴起
28. 1854年2月,曾国藩发布了一份檄文,斥责太平军扰乱乡村生活、废除土地私有、捣毁庙宇、破坏儒家礼纲和中国人的生活方式,使文人学士云集于麾下,农民也响应其号召。这说明了
- A. 《天朝田亩制度》不得人心 B. 太平天国内部出现分裂
- C. 地主武装的社会基础雄厚 D. 农民运动方向出现偏差
29. 新文化运动时期,人们借助翻译,发现雅言与俗语可相互转换,白话文亦可有文言没有的美质,民族文化中最有魅力的部分被一点点激活。这说明新文化运动
- A. 推动了世俗文化的兴起 B. 促进了文化领域趋时更新
- C. 提高了人们的文化自信 D. 破除了对西方文明的迷信

30. 右面是 1938 年丁聪创作的漫画《军民合作》，漫画中民工左脚踩着石块，左手叉腰，右手则杵着平锹，目视远方；背对着观众的士兵，目视远方，如雕塑一般守卫着战场阵地。该漫画意在



- A. 促进国共两党联合抗战
- B. 激发广大民众抗战热情
- C. 强调全民抗战的必要性
- D. 说明“兵民是胜利之本”

31. 1985 年，北京丰台区新发地村的菜农们为了给自家蔬菜找销路，纷纷在村口的路边摆摊卖菜。随着各地的菜贩子云集，1988 年 15 位菜农用几条铁丝网作围墙，几辆三轮板床做货架，建起了“新发地农贸市场”。这从侧面反映了

- A. 农业落后面貌得到彻底改善
- B. 国家加大了农村经济的改革
- C. 农业生产集体化进一步加强
- D. 农民的经营自主权开始扩大

32. 罗马共和国早期，法律规定参加诉讼的双方当事人都必须亲自到庭才能审理，而到共和国末期和帝国初期，当事人如有正当理由不能到庭，可允许代理人出庭。这一变化

- A. 旨在保障罗马公民权益
- B. 标志着法律体系成熟
- C. 反映了万民法体系形成
- D. 增强了法律的实用性

33. 18 世纪中期，在法国，随着公共舆论“被定为权力的一个新来源，被定为最高法庭”，其重要性日益增强，被赋予了至高无上的权威。这折射出

- A. 封建专制统治已被推翻
- B. 启蒙思想已显现成效
- C. 天赋人权成为社会共识
- D. 法律权威地位被弱化

34. 右图反映了西方社会的发展，它能够说明



正在一台电话交换机前工作的女性

- A. 英国在工业化潮流中处于领先
- B. 知识经济改善了工人工作环境
- C. 电器的发明提高了女性的地位
- D. 工业革命改变西方的职业结构

35. 20 世纪 90 年代中期，随着大国之间的首脑会晤空前活跃，大国之间纷纷建立和加强了不结盟、不对抗、不针对第三国的战略伙伴关系。这一现象

文科综合试题 第10页(共18页)

- A. 表明国际政治新秩序建立
B. 推动了多极化趋势的加强
C. 打破了美国单极霸权地位
D. 反映了第三世界国家崛起

二、非选择题:共 160 分。第 36~42 题为必考题,每个试题考生都必须作答。

第 43~47 题为选考题,考生根据要求作答。

(一)必考题:共 135 分。

36. 阅读图文材料,完成下列要求。(24 分)

尚奥保护区核心区位于干旱的东非大裂谷中,其中心为当地居民为灌溉等需要打山泉形成的人工水塘,此水塘也是附近众多野生动物的固定饮水池,是野生动物观测点,摄影爱好者常在此水池附近拍照。其南部的马加迪盐湖是肯尼亚最南端的盐碱湖,盐碱浓度极高。下面分别为肯尼亚西南部地图及立体图。



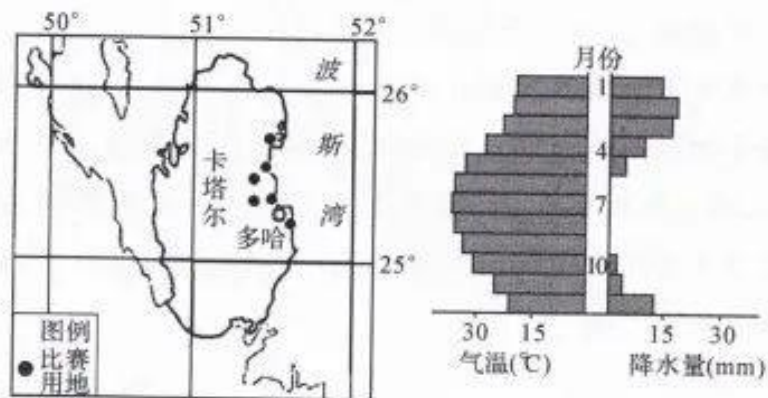
- (1) 图中甲、乙两地都比较干旱,但干旱时间不同,请描述差异并分析其成因。(6 分)
- (2) 说明马加迪盐湖的形成过程。(6 分)
- (3) 说出图中人工水塘周边区域面临的主要生态环境问题,并分析原因。(6 分)
- (4) 指出在人工水塘附近进行野生动物摄影应注意的事项。(6 分)

37. 阅读图文材料,完成下列要求。(22 分)

2022 年 11 月 20 日—2022 年 12 月 18 日,第 22 届世界杯足球赛在卡

文科综合试题 第 11 页(共 18 页)

卡塔尔东部沿海多哈附近的 8 座球场进行。结构复杂的主体育场卢塞尔球场、“球迷村”使用的集装箱式房屋、球场通讯设施及联合指挥控制中心的网络设备、卡塔尔阿尔卡萨 800 兆瓦光伏电站、移动房屋产品和全透明移动“星空房”、世界杯服务用车、各国球衣、帽子、背包等物品,让“中国制造”大放光彩。下面为卡塔尔地图和多哈气候资料图。



- (1)分析第 22 届世界杯足球赛在 11—12 月份举行的主要气候原因。(4 分)
- (2)列举卡塔尔为保障世界杯足球赛正常进行而对其气候环境所采取的改善措施。(6 分)
- (3)为“中国制造”的商品进入卡塔尔选择合理的运输方式,并说明理由。(6 分)
- (4)分析“中国制造”在卡塔尔大放光彩对我国制造业产生的有利影响。(6 分)

38. 阅读材料,完成下列要求。(14 分)

下面是中国近十年 GDP 总量与同比增长、居民人均可支配收入情况



文科综合试题 第12页(共18页)



2022年8月28日,《人民日报》发表的《经济实力科技实力综合国力跃上新台阶》一文介绍说,2012年以来,我国经济增速达年均6.5%,连续多年在世界主要经济体中位居前列,成为世界经济增长的主要贡献国。我国经济总量由2012年的53.8万亿元上升到2021年的114.4万亿元,占世界经济比重从11.4%上升到超过18%。作为世界第二大经济体、第二大消费市场、制造业第一大国、货物贸易第一大国、外汇储备第一大国,中国在全球经济版图中的地位进一步巩固和提升。

(1)解读两幅图中的经济信息。(6分)

(2)结合材料并运用经济生活的知识,说明近十年来我国在全球经济版图中的地位进一步巩固和提升主要得益于哪些因素。(8分)

39. 阅读材料,完成下列要求。(12分)

2022年9月下旬,江苏、安徽、浙江、上海三省一市的人大常委会同步审议通过了《推进长三角区域社会保障卡居民服务一卡通规定》(以下简称《规定》)。

该《规定》自2022年10月1日起在三省一市同步施行,为建立长三角区域以社会保障卡为载体的居民服务一卡通、促进基本公共服务便利共享提供了有力的法治保障。全面推进长三角居民服务一卡通,就是要在长三角区域内,以社会保障卡作为载体,率先在交通出行、旅游观光、文化体验以及社会保障、医疗卫生、金融服务等领域实现一卡多用、跨省通用。

结合材料并运用政治生活的知识,说明长三角三省一市开展“联合行



动”体现了我国政治制度的哪些内容。(12分)

40. 阅读材料,完成下列要求。(26分)

中华民族是崇尚英雄、成就英雄、英雄辈出的民族,和平年代同样需要英雄情怀。特别是党的十八大以来,党中央高度重视英烈保护工作,从立法确定9月30日为烈士纪念日,到各地普遍举行烈士纪念日公祭活动;从英雄烈士保护法正式实施,到依法保护英烈和烈士遗属的合法权益;从发挥烈士纪念设施红色教育阵地作用,到持续开展革命烈士事迹进课堂、进校园、进头脑活动……通过一系列传承红色基因、赓续红色血脉、弘扬红色精神的举措,在全社会营造出崇尚英雄、捍卫英雄、学习英雄的浓厚氛围。

在2022年9月30日第九个烈士纪念日到来之际,各地区各部门开展一系列纪念活动。在历史的长河中,最不能忘却的是英烈壮举,最值得歌颂的是英雄名字。我们不能忘记,李大钊从容赴死时高呼“不能因为反动派今天绞死了我,就绞死了伟大的共产主义”;不能忘记,杨靖宇宁死不屈、中弹殉国前慷慨陈词“我们中国人都投降了,还有中国吗”;不能忘记,王继才一生坚守、无悔付出,“我要求永远守在开山岛,守到守不动为止”;不能忘记,逆行在抗击新冠肺炎疫情的医护人员,挺身而出、拼尽全力,诠释了“为民奉献永远没有句号”的信念……无数英雄儿女,为了祖国、为了人民献出宝贵生命,他们的功绩彪炳千秋,他们的英名万古流芳!

- (1)结合材料并运用价值与价值观的相关知识,分析为什么要铭记歌颂英雄。(12分)
- (2)结合材料并运用文化生活知识,说明举办烈士纪念日活动的重要意义。(10分)
- (3)你认为新时代的青年应该学习英烈的哪些优秀品质?请写出其中的两个。(4分)

41. 阅读材料,完成下列要求。(25分)

材料一 “白银货币化”是明朝中晚期社会经济领域中的重要变动,是明中期由民间社会自下而上促进,明中后期国家法令认可推动的社会进程。明中期以前,朝廷在全国范围各领域大力推行大明宝钞,禁止民间使用白银交易。囿于大明宝钞日益贬值与政府货币信用体系的破坏,民间社会私下多以

文科综合试题 第14页(共18页)

白银为交易性货币,至正统时朝廷不得已调整禁银政策,一方面改革国家财政收支方式,对江南财赋折银征收;另一方面允许民间社会使用白银交易。后经明万历“一条鞭法”的推行,“白银货币化”进程进一步加速。

——摘编自张帅奇《“白银货币化”抑或“货币白银化”
——明清时期货币变动再探讨》

材料二 16世纪欧洲金银数量约增加10倍,欧洲各国普遍经历了一次以物价上涨为标志的所谓“价格革命”。在这之后,由于中国的金银比价与欧洲的不同,中国的银价高,欧洲白银通过马尼拉等中转站购买中国的丝、瓷器等商品到欧洲出售,可以获取高利。所以当时的情况几乎是单向的外国白银与中国商品相交换。虽然中国有大量白银流入,但主导权完全不在中国,白银的流入和流出以欧洲的利益为准绳。

——摘编自杜恂诚、李晋《白银进出口与明清货币制度演变》

- (1)根据材料一并结合所学知识,概括明中晚期“白银货币化”的特点并分析其影响。(10分)
- (2)根据上述材料并结合所学知识,分析明朝欧洲白银大量流入中国的原因。(9分)
- (3)根据上述材料并结合所学知识,说明货币制度演变的主要因素。(6分)

42. 阅读材料,完成下列要求。(12分)

材料 晚清时期是中国历史的转型时期,社会性质、社会经济结构、阶级关系、思想文化等方面都发生了巨大变化。下表为晚清社会现象的部分记述。

作者及文献	记述
《清末筹备立宪档案史料》	前闻举贡生监,以考试既停无所希冀,诗书废弃,失业者多,大半流入会党
胡思敬《国闻备乘》	近科状元改从商业二人,黄思永经营于北,张謇经营于南
1905年12月《大公报》	深州举人胡某率领本州举人七名,廪生三十余名,呈请练兵处王大臣,恳恩分发各镇充当兵勇,以为中国文人秀士倡

——据林海曦《科举制的存废对社会职业化的影响》等
文科综合试题 第15页(共18页)

根据上述材料阐述你从中发现的历史现象,并得出一个相应的结论。
(要求:现象源自材料,结论明确,史论结合,表述清晰。)

(二) 选考题:共 25 分。请考生从 2 道地理题、3 道历史题中每科任选一题作答。如果多做,则每科按所做的第一题计分。

43. [地理—选修 3:旅游地理](10 分)

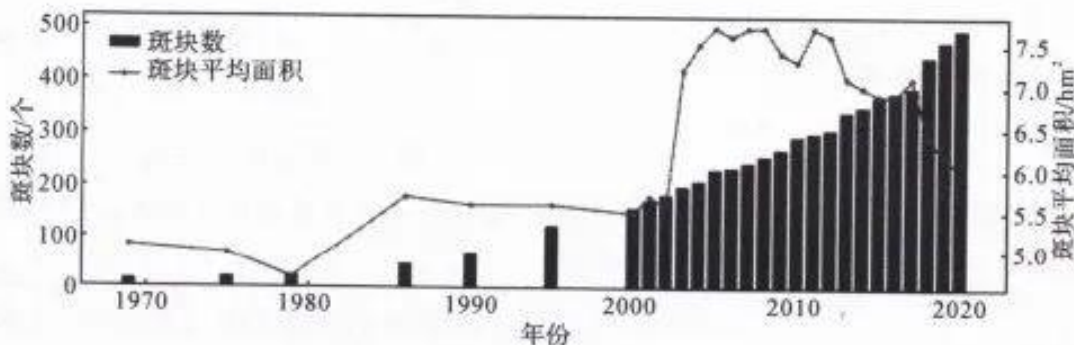
海南岛的椰子资源非常丰富,椰子产量大概占全国的 99%。海南椰雕技艺是在椰壳、椰木和椰棕上进行雕刻,历史久远,成本比较低,而且可以变废为宝,易于大规模产业开发。但是在快速发展的现代社会,海南椰雕的传承、保护与创新面临着新的困难与挑战,同时也充满着机遇和希望。下图为一正在雕刻过程中的海南椰雕工艺品。



分析海南椰雕技艺发展的资源优势及目前发展所面临的困境。

44. [地理—选修 6:环境保护](10 分)

斑块是景观格局的基本组成单元,是指不同于周围背景的、相对均质的非线性区域。下图示意粤港澳大湾区 1969—2020 年红树林的斑块数和斑块平均面积变化。



文科综合试题 第 16 页(共 18 页)



(1)说出粤港澳大湾区 1969—2020 年红树林的斑块数和斑块平均面积的变化特点,并指出该地区红树林分布的特征。(6 分)

(2)结合分布特征,为恢复红树林生态系统提出可行性建议。(4 分)

45. [历史——选修 1:历史上的重大改革回眸](15 分)

材料 周世宗出身寒微,年青时,曾贩卖过茶叶,了解民间疾苦和地方利弊。公元 954 年,柴荣继位,他怀着“十年开拓天下,十年养百姓,十年致太平”的壮志宏图,继续和扩大了周太祖(郭威)的改革事业,主要措施有:恢复生产,均平赋税;选用人才,澄清吏治;整编禁军,严肃军纪。使后周的国势强盛起来,明显超过南方诸国。周世宗开始领导进行统一中国的战争。

——摘编自王士立主编《中国古代史》

(1)根据材料并结合所学知识,概括周世宗改革的背景。(9 分)

(2)根据材料并结合所学知识,分析周世宗改革的影响。(6 分)

46. [历史——选修 3:20 世纪的战争与和平](15 分)

材料 1945 年《雅尔塔秘密协定》规定苏军须在战后三个月内撤出中国东北。然而,战争结束之后,美国拒不承认《雅尔塔协定》中有过关于美国不得进入东北的任何规定,坚持东北必须实行“门户开放”,因为美国需要利用中国作为“在亚洲对抗苏联的平衡器”,而不包括东北的中国将不可能起到这个作用。对苏联而言,“苏联在满洲的军事存在同时也被斯大林拿来作为一张与华盛顿和西方国家进行争斗的中国牌而加以使用”,东北之于苏联的重要性不言而喻……面对美国大力助蒋向东北运兵,苏联担心美国势力随着国民党进入东北,所以苏联对国民党进入东北给予百般阻挠并拖延从东北撤军。由于美国没有接受苏联同时撤军要求,苏联名正言顺

文科综合试题 第 17 页(共 18 页)

地继续留在东北。

——摘编自赵成蓉《战后苏联从中国东北延期撤军的美国因素》

- (1) 根据材料并结合所学知识,概括二战后苏联从中国东北延期撤军的原因。(6分)
- (2) 根据材料并结合所学知识,简析二战后苏联从中国东北延期撤军的影响。(9分)

47. [历史——选修4:中外历史人物评说](15分)

材料 梁军,1930年出生于黑龙江省明水县一个贫苦家庭,原名“梁宝珍”。1948年春,为恢复农业经济,中央从苏联进口拖拉机,开垦北大荒,招募学员开设拖拉机手培训班。梁军第一个报了名,并获得了批准,成为培训班70多名学员中唯一的女性。在短短的两个半月时间里,梁军不但掌握了拖拉机原理、各部件性能,还学会了熟练地驾驶和维修。在北大荒艰苦卓绝的条件下,在短短的两年时间里,梁军和伙伴们为祖国开垦出了1500垧的荒地。1949年《东北日报》发表题为《我们的女拖拉机手》的文章,从此梁军成为北大荒的先进人物。1950年9月,梁军参加了全国第一届工农兵战斗英雄劳动模范大会,在北京受到了毛主席的接见。

——摘编自《新中国第一位女拖拉机手:梁军》

- (1) 根据材料和所学知识,简析梁军成为新中国第一位女拖拉机手的原因。(6分)
- (2) 根据材料和所学知识,评述梁军事迹所体现出的时代精神。(9分)

关于我们

自主选拔在线是致力于提供新高考生涯规划、强基计划、综合评价、三位一体、学科竞赛等政策资讯的升学服务平台。总部坐落于北京，旗下拥有网站（[网址: www.zizzs.com](http://www.zizzs.com)）和微信公众平台等媒体矩阵，用户群体涵盖全国90%以上的重点中学师生及家长，在全国新高考、自主选拔领域首屈一指。

如需第一时间获取相关资讯及备考指南，请关注**自主选拔在线**官方微信号：**zizzsw**。



 微信搜一搜

 自主选拔在线