

2023 届“皖南八校”高三第二次大联考

文科综合

考生注意：

1. 本试卷满分 300 分，考试时间 150 分钟。
2. 答题前，考生务必将自己的姓名、准考证号填写在试题卷和答题卡上。考生作答时，请将答案答在答题卡上。必须在题号所指示的答题区域作答，**超出答题区域书写的答案无效，在试题卷、草稿纸上答题无效。**
3. 本卷命题范围：高考范围。

一、选择题：本题共 35 小题，每小题 4 分，共 140 分。在每小题给出的四个选项中，只有一项是符合题目要求的。

山西某地学生周末上街随手拍了一张照片，如下图，据此完成 1~2 题。




1. 当时该地太阳位于
A. 东北
B. 西北
C. 东南
D. 西南
2. 照片拍摄时，当地的地方时最接近
A. 5:40
B. 18:00
C. 15:20
D. 10:20

“七普”数据显示陕西宁陕县人口负增长和老龄化现象都很严重，与第六次人口普查相比，常住人口下降比例较大，青壮年劳动力流失严重，县域经济增长缓慢甚至萎缩。近日，党的二十大后，陕西宁陕县出台鼓励生育的新政策，生娃就给钱，二胎，三胎每月还有蛋奶补助。不过国内调查显示，幼儿无人照料是阻碍生育的首要因素。据此完成 3~4 题。

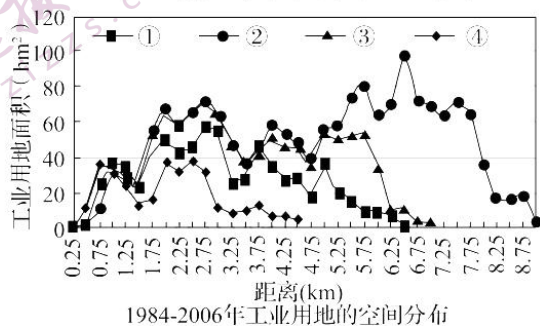
3. 宁陕县出台如此强大的人口生育支持政策，预计长远的根本目的可能是
A. 促进人口增长
B. 缓解人口老龄化
C. 减缓人口下降速度
D. 稳定和发展县域经济
4. 根据调查，无人照料是阻碍生育的首要因素，最能降低家庭育儿照料成本的建议是
A. 完善幼儿教育资源
B. 降低住房成本
C. 延长产假和完善夫妻共同育儿假制度
D. 完善托育服务

下面四幅图分别为珠峰旗云、大理苍山的荚状云、贡嘎山的帽状云以及怒江、澜沧江、金沙江等干热河谷周边的中等海拔高度林区的森腾云。据此完成5~6题。



5. 其成因与地形无直接关系的是
 A. 珠峰旗云 B. 荚状云 C. 帽状云 D. 森腾云
6. 怒江、澜沧江、金沙江等干热河谷周边林区的森腾云的成因可能是
 A. 降水导致空气湿度过高形成
 B. 森林蒸腾作用,局部空气湿度过饱和形成
 C. 地形抬升作用
 D. 对流形成

江苏沿海中部的盐城市,其城市发展受到行政建制、经济区位、区划调整和产业结构等多重因素影响,由小城镇发展成为中等城市,城市内部空间结构演化显著且比较典型。下图为我国东部城市盐城 1984—2006 年工业用地的空间分布图,据此完成 7~9 题。



7. 试着将①②③④所代表的折线统计图,按照时间由远及近排列,下列选项中最有可能匹配的是
 A. ①③②④ B. ①②③④
 C. ①①②③ D. ④①③②
8. 下列说法合理的是
 A. 研究期新增用地主要分布在 6~9km 范围内
 B. 研究期城市工业用地分布的波峰呈现内移趋势
 C. ②时期是工业用地增长最快的时期
 D. 外城工业用地趋于稳定
9. 关于盐城市工业用地情况描述不正确的是
 A. 提升了城市中心区的公共服务功能
 B. 影响了城市的健康发展
 C. 使中心既定的基础设施出现超负荷运行
 D. 该时期工业用地的扩展是必然的

下表为俄罗斯东欧平原某河流下游河段某年水运交通逐月累计旅客发送量(单位:万人次)统计表,该河段自西南流向东北。据此完成 10~11 题。

月份	1	2	3	4	5	6	7	8	9	10	11	12
累计客流量	0.0	0.0	0.0	0.0	17.6	42.5	72.8	110.8	145.1	166.3	166.3	166.3

10. 下列关于该河段结冰期描述正确的是
- A. 结冰期为 5 个月
B. 结冰期较伏尔加河长
C. 结冰期从 1 月份开始
D. 该时间段适合去看北极熊
11. 关于该河段航运情况描述正确的是
- A. 1—4 月份因河流断流而停运
B. 10—12 月份旅客发送量最多
C. 4 月份旅客发送量较少的原因与 11 月份相同
D. 6 月份旅客发送量为 42.5 万人次
12. 二十大报告指出,马克思主义是我们立党立国、兴党兴国的根本指导思想。实践告诉我们,中国共产党为什么能,中国特色社会主义为什么好,归根到底是马克思主义行,是中国化时代化的马克思主义行。拥有马克思主义科学理论指导是我们党坚定信仰信念、把握历史主动的根本所在。马克思主义行是因为它
- ①揭示了人类社会发展一般规律
②揭示了阶级斗争在阶级社会发展中的作用
③提供了解决中国问题的具体方案和实现路径
④决定了中国特色社会主义社会的发展历程
- A. ①②
B. ①④
C. ②③
D. ③④
13. 习近平总书记指出:“在新时代,中国共产党人把马克思主义基本原理同新时代中国具体实际结合起来,团结带领人民进行伟大斗争、建设伟大工程、推进伟大事业、实现伟大梦想,推动党和国家事业取得全方位、开创性历史成就,发生深层次、根本性历史变革,中华民族迎来了从富起来到强起来的伟大飞跃。这一伟大飞跃说明
- ①只有中国特色社会主义才能发展中国
②始终坚持紧紧依靠人民,是实现中华民族伟大复兴的根本力量源泉
③只有坚持和发展中国特色社会主义才能实现中华民族伟大复兴
④加强党的建设是实现中华民族伟大复兴的根本政治保证
- A. ①②
B. ①④
C. ②③
D. ③④
14. 继 2022 年 10 月 1 日,中国人民银行下调首套个人住房公积金贷款利率 0.15 个百分点后,湖南、安徽、海南、杭州、成都、济南、昆明、郑州、南宁、石家庄、哈尔滨等多省市在近日发布公告称,根据中国人民银行关于下调首套个人住房公积金贷款利率的规定,相应调整所在省市首套个人住房公积金住房贷款利率。各地纷纷下调首套个人住房公积金贷款利率对房地产市场的影响传导正确的是
- ①减少购房者贷款利息→进一步降低购房成本与负担→满足刚性和改善性住房需求
②刺激银行信贷需求→扩大银行信贷规模→促进经济持续健康发展
③提振房地产市场信心→促进房地产投资恢复→缓解与改善地产企业面临的资金链压力
④增加商品房供给→提振房地产市场信心→促进房地产投资恢复
- A. ①②
B. ①③
C. ②④
D. ③④
15. 2022 年 10 月,财政部、税务总局联合发布《关于企业投入基础研究税收优惠政策的公告》。《公告》称,对企业出资给非营利性科学技术研究开发机构、高等学校和政府性自然科学基金用于基础研究的支出,在计算应纳税所得额时可按实际发生额在税前扣除,并按 100% 在税前加计扣除。对非营利性科研机构、高等学校接收企业、个人和其他组织机构基础研究资金收入,免征企业所得税。该举措旨在

- ①增强企业创新动能,推动产业转型升级
- ②提高企业经济效益,增加企业生产性消费需求
- ③推进科技体制机制创新,加快培育创新主体
- ④鼓励企业加大创新投入,支持我国基础研究发展

A. ①② B. ①④ C. ②③ D. ③④

16. 2022年9月21日,最高法、最高检、公安部、国家安全部联合发布《关于取保候审若干问题的规定》。《规定》共六章四十条,对取保候审的一般规定、决定、执行、变更、解除、责任等方面作出了规定。其中,重点对以下内容进行了修改:

※进一步明确取保候审的适用范围新规最关键的变化是将“采取取保候审足以防止发生社会危险性”,从“可以”对犯罪嫌疑人适用取保候审,变成了“应当”适用取保候审。
 ※进一步强化对被取保候审人的执行监管。
 ※解决取保候审执行中遇到的具体问题。

该修改

- ①旨在保障法律监督机关依法独立行使审判权
- ②折射出中国在尊重和保障人权方面的巨大进步
- ③说明我国进一步推动司法公开,彰显司法温度
- ④充分体现我国全面推进依法治国,采取宽严相济司法政策

A. ①② B. ①③ C. ②④ D. ③④

17. 近年来,某市探索推行自然村重大事务决策由党组织牵头提议,户主(代)会决议、理事会组织实施、监事会监督落实的“一组三会”村民自治新机制,通过建立“党建引领”治理模式,真正让群众成为基层治理“主角”,激发乡村振兴的勃勃生机。该市的做法

- ①能最大程度调动村民自我管理、自我服务的积极性和主动性
- ②不断提升党建引领乡村治理水平,发挥基层党组织的作用
- ③旨在降低乡村治理成本,有效夯实党在农村的执政基础
- ④实现了加强党的全面领导与推进乡村治理行政化相统一

A. ①② B. ①③ C. ②④ D. ③④

18. 利用“中国天眼”,由中国科学院国家天文台研究员徐聪领导的国际团队发现了一个尺度约为200万光年的巨大原子气体结构,位于著名致密星系群“斯蒂芬五重星系”,比银河系大20倍,是迄今为止在宇宙中探测到的最大的原子气体结构。2022年10月19日,该成果在国际学术期刊《自然》杂志发表。该成果


- ①佐证了世界的真正统一性在于它的物质性
- ②佐证了思维与存在有无同一性的问题是哲学基本问题
- ③说明认识工具可以延伸人类认识器官,促进认识发展
- ④说明意识活动具有主动创造性,搭建了人类认识与太空之间的桥梁

A. ①② B. ①③ C. ②④ D. ③④

19. 漫画《不懂放弃,怎攀高峰》给我们的哲学启示是

- ①矛盾就是对立统一,双方在一定条件下相互转化
- ②矛盾具有特殊性,要具体问题具体分析
- ③发展具有普遍性,要用发展的眼光看问题
- ④发展的总趋势是前进性与曲折性的统一,要对未来充满信心

A. ①② B. ①③
C. ②④ D. ③④



20. 英国当地时间 2022 年 10 月 25 日,英国国王查尔斯三世接受了伊丽莎白·特拉斯递交的正式辞呈。10 月 20 日,特拉斯在上任 45 天后宣布辞去英国保守党党魁职务和首相职务,成为英国历史上在任时间最短的首相。10 月 25 日,刚刚当选为英国保守党党魁的里希·苏纳克在白金汉宫接受英国国王查尔斯三世的正式任命,成为英国新任首相。由此可以得知,在英国
- ①元首是国家权力中心
 - ②实行君主立宪制
 - ③首相需要对元首负责
 - ④首脑由议会中占多数席位的政党领袖担任
- A. ①② B. ①③ C. ②④ D. ③④
21. 原、被告系同一小区前后楼栋的邻居,两家最近距离不足 20 米。在小区已有安防监控设施的基础上,被告为随时监测住宅周边,在其入户门上安装一款采用人脸识别技术、可自动拍摄视频并存储的可视门铃,位置正对原告等前栋楼多家住户的卧室和阳台。原告认为,被告可通过手机 app 操控可视门铃、长期监控原告住宅,生活不得安宁。但无充分证据证明原告因被告的行为造成实际精神及物质损害。对本案分析正确的是
- ①被告侵犯了原告的隐私权
 - ②被告侵犯了原告的个人权益
 - ③法院应支持原告要求被告拆除可视门铃的诉讼请求
 - ④法院应支持原告要求被告赔礼道歉及赔偿损失的请求
- A. ①② B. ①③ C. ②④ D. ③④
22. 某商场举办了一次大规模的促销活动,发布广告称部分商品八折出售。消费者宋女士在活动期间购买了一台洗衣机,3 天后洗衣机因质量问题不能正常工作,宋女士找到该商场解决问题并要求赔偿。令宋女士没想到的是,商家对此的答复是打折商品不负责“三包”。后经有关部门查明,该商场是先将部分商品提价,然后又以八折出售。对该商场的行为分析正确的是
- ①该商场违背了诚实信用的市场交易原则
 - ②该商场应该保障消费者的求偿权,对消费者进行赔偿
 - ③该商场侵害了消费者的知情权和安全消费权利
 - ④打折出售商品是一种促销手段,可以免除“三包”责任
- A. ①② B. ①③ C. ②④ D. ③④
23. 中国载人航天工程实施分“三步走”的发展战略。第一步,发射载人飞船,初步开展空间应用实验;第二步,突破航天员出舱活动等技术;第三步,建造空间站,为开展载人登月等未来发展奠定基础。2022 年 4 月神舟十三号飞行乘组安全返回地面,标志着空间站关键技术验证阶段完美收官。载人航天工程是一个系统的、有层级的整体,由航天员、空间应用、载人飞船、运载火箭等八大系统组成,各子系统既分工明确又相互关联。航天工程的实施

- ①坚持整体性的辩证思维
②坚持动态性的辩证思维
③对事物结构顺序及功能进行了反向思考
④把众多信息逐步引导到条理化的逻辑思路中

A. ①② B. ①③ C. ②① D. ③①

24. 据古籍记载,夏、商、周三朝不断有接待“四夷”的活动,如“夏后即位七年,于夷来宾”“少康即位三年,方夷来宾”。周朝还专门设立“象胥”这一职官,负责接待四方使节和诸侯宾客,“掌蛮夷闽貉戎狄之国使,掌传王之言而谕说焉,以和亲之”。上述现象表明
- A. 内外服制度的历史悠久 B. 国家大一统局面的形成
C. 中央王朝注重与周边民族交流 D. 各民族之间实现了和谐与平等
25. “(曹)魏以中书、尚书为主,两晋中书地位更加重要,门下逐渐崛起、与中书分权。南北朝时期,逐渐形成中书、门下、尚书三省,把皇帝下面的最高政务核心(以丞相为首的三公)分割成为决策、审议和执行三个职能比较明确的系统。”据此可知,三省制的形成
- A. 分割了帝王权力 B. 提高了行政效率
C. 加强了中央集权 D. 强化了君主专制
26. 宋代边塞诗画重在渲染昭君的悲剧与国家的耻辱(如下图)。但元代虞集评论说,“天下为家百不忧,玉颜锦帐度春秋;如何一段琵琶曲,青草离离永未休”。此种格调渐成元代外族类题画诗的主流基调。这一变化反映了



宫素然《明妃出塞图》

- A. 时代背景影响士人心态的变化 B. 程朱理学坚守夷夏之防
C. 文人精神备受民族压迫的摧残 D. 元代诗人丧失民族气节
27. 清朝有人记载在陕鄂川三省交界地区,“山中多包谷(又称玉米)之家,取包谷煮酒,其糟喂猪,一户中喂猪十余口”,“猪至集市,盈千累万,船运至襄阳、汉口售之,亦山中一大贸易”。这表明当时
- A. 传统社会经济结构产生根本变革 B. 三省交界处易于出现工商业市镇
C. 高产作物利于推动农产品商品化 D. 玉米种植缓解了山区的人地矛盾
28. 19世纪70年代以来,近代中国边疆危机日益恶化,触发了晚清“海防”与“塞防”之争。争论的结果迫使清政府及时调整国防战略,从重陆轻海到海陆两防并重。为此,清政府决定
- A. 实行改土归流,强化边疆管理 B. 引进先进技术,推行百日维新
C. 改革边疆建制,新疆台湾设省 D. 编练湖北新军,提高国防实力

29. 下表数据变化说明,这一时期

中美英三国关税平均税率比较表


年份 国别	1922年	1934年
中国	5%	31.3%
英国	33.3%	43.3%
美国	38.5%	53.2%

- A. 英美等主要西方列强控制中国关税
B. 中国民族资本的发展环境有所改善
C. 各国税率的调整基于战时经济体制
D. 英国经济相较美国经济更具竞争力
30. 1957年,我国农业总产值比1952年增长25%,平均每年增长4.5%。农业的增长速度,与世界相比并不低,但粮棉的紧张局势在当时未能显著缓解。出现这一现象的主要原因是
A. 国际贸易出口增长较大
B. 工业增长速度相对较快
C. 非农业人口的比重增加
D. 民众亟需改善生活质量
31. 党的二十大报告中指出:我们全面准确推进“一国两制”实践,坚持“一国两制”、“港人治港”、“澳人治澳”、高度自治的方针,推动香港进入由乱到治走向由治及兴的新阶段,香港、澳门保持长期稳定发展良好态势。这一论断
A. 阐明了国家的外交立场
B. 强调了和平统一的价值
C. 提供了“一国两制”实践的根本遵循
D. 确保了香港澳门地区的政治实体地位
32. 某学者针对西方文明上古与中古分期问题指出:“公元7—8世纪,一系列新的现象打破了尚存的统一性……罗马、基督教和日耳曼传统的融合最终完成。”上古向中古的转变也是“从罗马帝国到神圣罗马帝国”的转变。据此可知,该学者认为中古与上古文明的区别主要在于
A. 文明多元趋势的加强
B. 政教结合局面的出现
C. 王权有限原则的确立
D. 封君封臣制度的形成
33. 埃及经济学家萨米尔·阿明指出:当第一次工业革命在英国和西欧开始时,最不发达国家和最发达国家之间的最大差距不过是1:2,200年后,这种差距变成了1:60。这反映出,作者强调
A. 建立国际经济新秩序的迫切性
B. 反对西方霸权成为时代主题
C. 助力发展中国家实现民族独立
D. 推翻世界殖民体系的必然性
34. 1897年,英国杂志《星期六评论》曾评论道:“德国的商贩和英国的行商……在地球上每个角落里都彼此竞争。无数小冲突会成为大战的借口,总有一天世界上会发生这种大战。”据此可知
A. 英德矛盾不可调和
B. 英国正为战争造势
C. 世界大战一触即发
D. 世界不稳定性增强
35. 二战后初期,随着美国对拉丁美洲政治与经济影响的深入,绝大多数拉美国家成为美国的盟友。但在20世纪70年代,拉美国家纷纷加入不结盟运动。这一变化反映出
A. 社会制度影响外交政策
B. 雅尔塔体系已完全崩溃
C. 经济全球化趋势的加强
D. 政治多极化趋势的发展

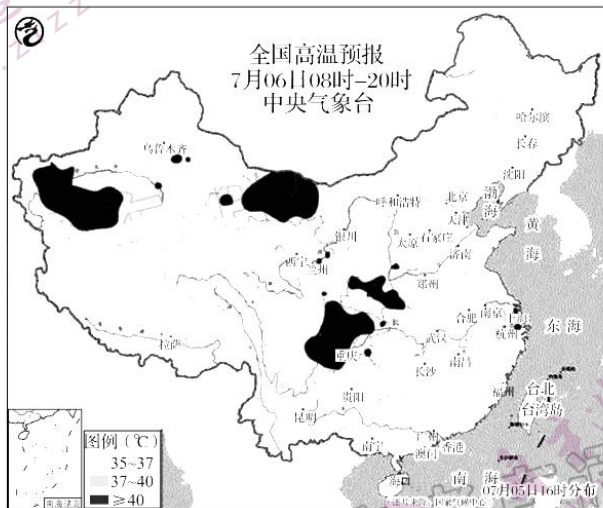
二、非选择题:共 160 分。

36. (30 分) 阅读材料, 结合所学知识回答下列各题。

材料一 央视报道称, 今年在我国最大的塔克拉玛干沙漠, 出现了众多湖泊的壮观景象, 可谓难得一见。2022 年夏季新疆西部降水也较常年明显偏多, 尤其是塔里木河上游部分地区降水偏多了 50% 以上。



材料二 2022 年新疆平均气温创 1961 年以来的最热夏天的纪录, 从极端性来看, 新疆塔里木河流域也是极端高温事件的多发地。

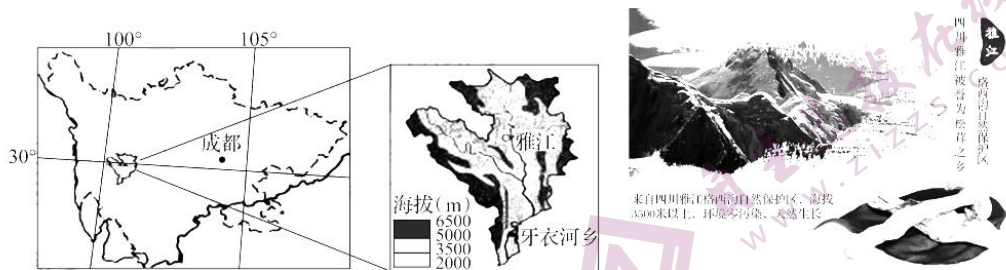


- (1) 分析今年塔克拉玛干沙漠中罕见出现众多湖泊现象的成因。(12 分)
- (2) 从大气、土壤、水文水系角度分析 2022 年异常高温和强降水对塔里木河流域自然环境短期的影响。(10 分)
- (3) 有网友认为, 今年正是沙漠变绿洲的好时机, 应尽快植树。你觉得网友提出的想法是否可行? 并说出你的理由。(8 分)

37. (26 分) 阅读材料, 结合所学知识回答下列各题。

材料一 雅江松茸因产量高、个头大、肉质细、色泽好、味道香, 深受国内外的青睐, 松茸采集量年均高达 1000 吨以上, 但人工栽培少。雅江县松茸产量占据了全国松茸产量的 12%, 2013 年雅江县被中国食用菌协会授予“中国松茸之乡”美誉。

材料二 雅江县地处川西北丘状高原山区,地势北高南低。县境属大雪山中段,海拔5000m以上;中部为河谷地貌;东北和西北部为山原地貌。下图为雅安县地理位置与雅安电商松茸产品宣传图。



材料三 2021年9月上旬,雅江出口日本松茸的批发价格为670元。雅江县设立了7个营地,投入百余架无人机,用无人机解决松茸下山的“第一公里”,将村民手中的松茸运往无人机基地进行转运。然后,这些新鲜的松茸将集中运送至雅江运营基地,随后在松茸预处理中心利用图像识别进行分拣,包装。2000年以后,随着松茸出口量的增加,冻干技术运用到松茸存储上,使松茸的口感和新鲜度都保存得比较好。

- (1)简述四川省甘孜雅江县松茸产业的发展对我国其他地方的松茸产业发展的借鉴意义?(10分)
- (2)说明甘孜雅江县松茸产业进一步做大做强,面临的困境?(8分)
- (3)请为雅江县松茸产业进一步发展提出合理化建议。(8分)

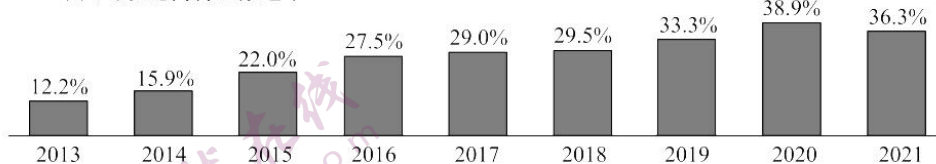
38. (12分)阅读材料,完成下列要求。

材料一 我国跨境电商行业交易规模(万亿元)



图示: 2013~2021年中国跨境电商行业交易规模及增速

中国跨境电商行业渗透率



图示: 2013~2021年中国跨境电商行业渗透率

材料二 商务部数据显示,我国跨境电商进出口规模5年增长近10倍,市场采购贸易出口规模7年增长7倍。但我国跨境电商的发展也面临不少问题。

当前,随着数字技术的创新应用和智能终端的普及,短视频、直播、网红等成为新型网络营销方式,进一步加剧了恶意炒作、刷单、产品质量差、价格欺骗等严重失信问题。随着我国跨境电商的快速发展,国内综合服务能力的短板日益凸显。在销售方面,目前,我国跨境电商出口商大部分选择亚马逊、eBay等平台,其在亚马逊、eBay上的销售量也远超国内相关平

台。在支付方面,目前我国跨境电商企业仍是以使用 PayPal 为主。近年来,我国跨境电商出口品类以电子产品、服装、家居园艺、户外体育为主,大部分是日常低值消费品。同时,中小企业居多,品牌建设意识较弱,品牌建设能力不足,导致我国跨境电商发展的持续性较差。2020 年以来,全球主流跨境电商平台持续加强平台规则建设,引发我国跨境电商出口主体调整。2022 年 3 月底以来,PayPal 风控趋严,明确提出:当用户违反《合理使用规则》情况下,PayPal 有权限制、注销、暂停账户,冻结余额,以及对于违反规则的每笔交易收取 2500 美元的罚款。随着主流跨境电商平台管理规则的逐步严格,我国跨境电商出口合规建设将迎来新挑战。

(1)从《当代国际政治与经济》的角度,解读材料一中的信息。(4 分)

(2)结合材料,运用《经济与社会》《当代国际政治与经济》知识分析,如何促进我国跨境电商健康发展。(8 分)

39. (12 分)阅读材料,完成下列要求。

2022 年 10 月,广东省生态环境厅印发《深入优化生态环境执法方式助力稳住经济大盘的十二项措施》(下称《措施》),对规范、包容、精准、监督执法等作出规定。其中提出探索“观察期”制度,符合条件的企业在观察期内改正违法行为的,依法不予处罚。

《措施》首先明确严防任性执法,对“双随机、一公开”检查、专项检查等计划性检查,检查开始前应由执法机构确定检查对象名单,然后实施检查。过程中,除发现异常线索外,不得临时增加检查对象。临时增加检查对象的,应当取得执法机构负责人同意。并要遵守检查程序,严格落实执法全过程记录。同时,还要规范自由裁量权。各级生态环境部门在处罚案件中应当严格适用《广东省生态环境行政处罚自由裁量权规定》和本地裁量权规定,防止类案不同罚、过度处罚等问题,审慎采取查封、扣押和限制生产、停产整治措施。

结合材料,运用《政治与法治》的知识,分析广东省出台上述措施对法治政府建设的意义。(12 分)

40. (8 分)阅读材料,完成下列要求。

被告运营某款智能手机记账软件,在该软件中,用户可以自行创设或添加“AI 陪伴者”,设定“AI 陪伴者”的名称、头像、与用户的关系、相互称谓等,并通过系统功能设置“AI 陪伴者”与用户的互动内容,系统称之为“调教”。本案原告何某系公众人物,在原告未同意的情况下,该软件中出现了以原告姓名、肖像为标识的“AI 陪伴者”,同时,被告通过算法应用,将该角色开放给众多用户,允许用户上传大量原告的“表情包”,制作图文互动内容从而实现“调教”该“AI 陪伴者”的功能。原告诉至法院。

结合材料,运用《法律与生活》知识分析,被告侵害了原告什么权利,法院应该如何判决该案件,为什么?(8 分)

41. (20 分)阅读材料,完成下列要求。

2022 年 10 月,滚滚独龙江畔,从事非遗就业服务的云南省贡山县独龙族手工业协会会长曾剑君,因诸多媒体报道、转发了他恢复独龙族传统植物染织技艺的事迹,一下子成了“名人”。在当地民族宗教及文化旅游管理部门支持下,曾剑君带着 20 多位独龙族群众,以天然植物为染料,成功恢复了红、黄、绿等 6 种颜色的纯天然染布法,“独龙族传统苧麻染织技艺

保护项目”取得进展。这意味着失传 70 余年的独龙族传统植物染织技艺初步“复活”。

在近年大力推进的脱贫攻坚和乡村振兴进程中,曾剑君被派往大理等地学习非遗文化传承和文旅融合经验。他在云南大理周城受靛蓝扎染启发,想尝试恢复老一辈人讲过的独龙族植物染。曾剑君踏遍全乡 6 个行政村,寻访了八九位老人,从他们口中得知传统独龙毯的彩线是用水冬瓜皮、核桃皮等染成的。他向县里申请非遗资金支持,将材料进行煮制、晾晒,并反复试验,成功找到了染制红色、黑色、蓝色、绿色、黄色、茶色织物的染料。如今,这些植物染料不仅可以作出传统独龙毯,还可以染衣料、手帕、丝巾等。

(1)结合材料,运用实践与认识的辩证关系知识,分析曾剑君是如何让失传 70 余年的独龙族传统植物染织技艺初步“复活”的。(8 分)

(2)结合材料,运用体会认识发展的历程的知识,分析独龙族传统植物染织技艺初步“复活”的历程。(6 分)

(3)结合材料,运用文化知识,以“传承少数民族传统技艺,弘扬中华优秀传统文化”为题,写一篇短评。(6 分)

要求:主题鲜明,表述清晰,逻辑严谨,字数 150—200 字。

42. (25 分)阅读材料,完成下列要求。

材料一 《四民月令》是东汉后期庄园生产活动的记录。崔寔晚年移居洛阳后写成,书中反映的农事季节,也和洛阳及周边地区相符。

正月

农事未起,命成童以上入大学,学《五经》;砚冰释,命幼童入小学,学篇章。

命女工趣(同趋,督促)织布。

可种春麦、豌豆,尽二月止。

命典馈酿春酒。

三月

是月也,杏华盛,可蓄沙白轻土之田。

时雨降,可种秔稻。

缮修门户,警设守备,以御春饥草窃之寇。

可染黍。买布。

九月

缮五兵,习战射,以备寒冻穷厄之寇。

存问九族孤、寡、老、病、不能自存者,分厚彻重,以救其寒。

摘编自缪桂龙《四民月令选读》

材料二 在中世纪欧洲的庄园中,农奴身份的主要标志是承担雇工劳役。由于商品货币经济的发展,城市大量的手工业品进入庄园,领主迫切需要大量的货币购买城市输入的精美手工业品,于是改为征收货币地租。货币地租代替劳役地租于 13 世纪末叶逐渐流行起来,黑死病后发展尤为迅速。劳役折算成一笔固定的货币后,农奴实际上成为领主土地的承租人,与自由佃农已没有什么区别。13 世纪以后,大量农奴涌向包括英国伦敦在内的一些城市,庄园制度加速瓦解。挣脱农奴制枷锁的农民,同新兴市民阶级一起,把社会分工和交换活动推向一个新的水平,同时也在创造着新的社会交往关系,从而为现代工业的发展铺垫了道路。

摘编自侯建新《社会转型时期的西欧与中国》

- (1)根据材料一,概括东汉时期地主庄园的主要特征。(10分)
- (2)根据材料二并结合所学知识,概括欧洲庄园货币地租盛行的原因。(8分)
- (3)根据材料一、二并结合所学知识,分别指出汉代庄园与中世纪西欧庄园对中西方历史发展产生的影响。(7分)

43. (12分)阅读材料,完成下列要求。

材料

1951年	34所大学设立俄语系和科;初、高中学校优先教授俄语课程
1954年	高中外语课程仍以俄语优先
1957年	俄语与英语比例应为1:1;高中英语课开设面扩大
1964年	《外语教育七年规划纲要》确定英语为学校教育第一外语
1978年	《全日制中小学英语教学大纲(试行草案)》提出,外语课语种要以英语为主;高考考生参加外语考试
1979年	教育部要求以英语教育为主,注意日语、德语、法语等外语多语种比例
2001年	教育部决定从2001年秋季开始,全国城市和县城小学逐步开设英语课程
2017年	教育部调整外语规划语种,在英语、日语、俄语的基础上,增加德语、法语和西班牙语。新高考外语科目可以一年两考

摘编自文秋芳《新中国外语教育70年:成就与挑战》

根据材料,提取有关新中国外语教育的变化信息,确定一个主题,并结合所学知识予以说明。(要求:主题明确,史论结合,逻辑清晰,表述成文。)

44. (15分)阅读材料,完成下列要求。

材料一 19世纪六七十年代,美国政局逐步稳定,城市人口占比20%左右。1890年以后,工业革命加速发展,城市人口比例逐步攀升。随着交通的进步,美国大城市的交通更加便利。在接下来的20年里,生活在城市地区的美国人增加到5000万。在1920年,生活在城市地区的美国人的总数超过了生活在农村地区的人。

摘编自李超《城市化:经验回顾与路径启示》

材料二 中国城市由传统城市走向近代是从19世纪40年代开始的,一批有别于传统封建市镇的近代城市首先在通商口岸崛起。通商贸易成为开埠城市的经济主体,城市商业得到发展,洋行大量出现。兴办近代工业使中国城市化发展加快。这些城市通过强行建立租界等手段,将西方资本主义社会新的技术、城市建设与管理、文化样式及价值观移植嫁接到传统城市之中,从而使这些城市走出乡村社会及文化的包围而开始了艰难的近代之旅。

摘编自侯蕊玲《论中国近代城市产生发展中的几个特点》

- (1)根据材料一并结合所学知识,概括美国城市化的历史背景。(6分)
- (2)根据材料二并结合所学知识,分析中国近代城市发展的特点。(9分)

关于我们

自主选拔在线是致力于提供新高考生涯规划、强基计划、综合评价、三位一体、学科竞赛等政策资讯的升学服务平台。总部坐落于北京，旗下拥有网站（网址：www.zizzs.com）和微信公众平台等媒体矩阵，用户群体涵盖全国90%以上的重点中学师生及家长，在全国新高考、自主选拔领域首屈一指。

如需第一时间获取相关资讯及备考指南，请关注**自主选拔在线**官方微信号：**zizzsw**。



微信搜一搜

自主选拔在线