



2021年东北三省四市教研联合体高考模拟试卷(一)

文科综合

本试卷共47题,共300分,考试用时150分钟。

注意事项:1.答题前,考生先将自己的姓名、考生号、考场号和座位号填写在答题卡上。用2B铅笔将试卷类型填涂在答题卡相应位置上。将条形码横贴在答题卡右上角“条形码粘贴处”。

2.作答选择题时,选出每小题答案后,用2B铅笔在答题卡上对应题目选项的答案信息点涂黑;如需改动,用橡皮擦干净后,再选涂其他答案。答案不能答在试卷上。

3.非选择题必须用黑色字迹的钢笔或签字笔作答,答案必须写在答题卡各题目指定区域内相应位置上;如需改动,先划掉原来的答案,然后再写上新答案;不准使用铅笔和涂改液。不按以上要求作答无效。

4.考生必须保证答题卡的整洁。考试结束后,将试卷和答题卡一并交回。

一、选择题:本题共35小题,每小题4分,共140分。在每小题给出四个选项中,只有一项是符合题目要求的。

南宁市位于广西壮族自治区的中部河谷平遮地带,据2019年统计,南宁市人口约为725万,汽车保有量为142.5万辆,电瓶摩托车保有量超过了250万辆。据此完成1~2题。

1.南宁市电瓶摩托车保有量超过汽车保有量的主要原因是

- A.气候适宜 B.地形崎岖 C.道路通畅 D.经济落后

2.哈尔滨市电瓶摩托车保有量少的主要影响因素是

- A.气候 B.地形 C.政策 D.经济

“垸”指挡水的堤,以及堤围住的地区。在围垸内,人们把肥沃的土地开辟成垸田,在湖泊里捕捞、养殖,在围垸外,人们向奔腾的江水讨生活。据此完成3~5题。

3.“围垸造田”所在地区

- ①农业用地紧张 ②生态环境脆弱 ③坡地比例大 ④农业生产精耕细作

- A.①③ B.①④ C.②③ D.②④

4.“围垸造田”的主要目的是

- A.提高作物单产量 B.防治水土流失 C.改善人居环境 D.增加耕地面积

5.“围垸造田”对当地农业生产的影响主要体现在

- A.改变农业生产结构 B.方便机械化作业 C.完善配套基础设施 D.提高土壤肥力

经济脆弱性是指区域发展过程中对意外冲击或干扰引起的损害的承受能力,是衡量区域发展是否健康和稳定的重要指标,主要受开放政策、产业合作、产业结构、基础设施等因素影响。

图1为2006年、2010年和2015年珠三角城市群经济脆弱性空间差异示意图。

据此完成6~8题。

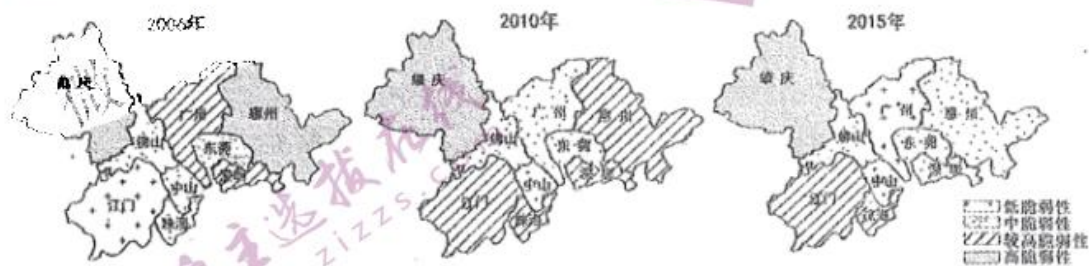


图1

6.图示区域

- A.经济脆弱性空间差异较小 B.广州市经济脆弱性变化最小

- C.核心城市比外围城市经济脆弱性低 D.东部城市比西部城市经济脆弱性高

7.影响图示区域经济脆弱性变化的根本因素是



A.地理位置 B.国家政策 C.产业结构 D.基础设施

8.有利于降低图示区域经济脆弱性的措施有

- ①加强区域间创新协同
- ②扩大同类产业的生产规模
- ③进一步提高核心城市地位
- ④增建区域一体化基础设施

A.①② B.②③ C.①④ D.③④

程海为滇西第二大淡水湖，最大水深 39 米，湖区以下沉气流为主。程海南北的河谷地带是永胜县的经济发展的核心区，明清时期程海湖水通过南部程河流入金沙江，当地引用湖水灌溉，烟叶种植、林果业繁荣。近现代虽然湖区周边先后建成 37 个提灌站用于抽水灌溉，但程海湖水水位仍保持基本稳定。程海所产螺旋藻是国家地理标志营养食品。图 2 为程海分布示意图。据此完成 9~11 题。

9.程海形成于

- A.地壳断陷集水
- B.火山口集水
- C.河流改道
- D.滑坡阻断河流

10.至今，程海仍为淡水湖的最主要原因是

- A.湖水外泄盐分流出
- B.大量雨水补给
- C.人为抽水灌溉
- D.湖区蒸发较弱

11.程海盛产优质的螺旋藻原因有

- ①气候干热
- ②湖水盐度高
- ③光照充足
- ④湖水深水质好

A.①② B.②③ C.③④ D.①③

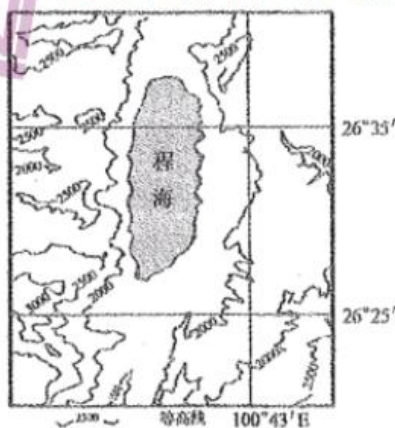


图 2

12.政府消费券是为振兴经济，采取政府出资、企业让利的形式通过补贴商家，向消费者发放的用来购买消费品的票证。2020 年，各地政府委托支付宝、微信、银联等互联网平台多次向民众发放政府消费券。以下对政府向民众发放消费券的影响传导正确的有

- ①利用金融杠杆→刺激消费意愿→释放消费需求→拉动经济增长
- ②通过财政补贴→降低消费成本→促进居民消费→满足生活需求
- ③利用财政政策→拉动消费需求→调整供求关系→稳定经济运行
- ④通过财政补贴→增加企业获利→提振生产信心→促进经济恢复

A.①② B.②③ C.②④ D.③④

13.习近平总书记在中央委员会第八次会议上提出，构建新发展格局，必须把建设现代流通体系作为一项重要战略任务来抓，着力培养一批具有国际竞争力创造力的现代流通企业，促进流通领域新技术新业态新模式茁壮成长。强调建设现代流通体系有利于

- ①进一步畅通经济循环、顺利实现社会再生产
- ②加快完善国内统一大市场，为经济发展增添新动力
- ③将发展立足点转移到国际市场，带动世界经济复苏
- ④打破时空阻隔，促进各区域同步发展壮大

A.①② B.①④ C.②③ D.③④

14.2020 年中央“一号文件”指出，“重点培育家庭农场、农民合作社等新型农业经营主体，培育农业产业化联合体，通过订单农业、入股分红、托管服务等方式，将小农户融入农业产业链。”培育新型农业经营主体的意义在于

- ①提高农业规模化经营水平，提高农业发展质量
- ②促进农村劳动力转移，推进城镇化进程
- ③创新农村经营方式，健全以要素分配为主的新型分配关系
- ④发挥产业链效应，促进农民多渠道增收

A.①② B.①④ C.②③ D.②④



15.自2020年3月20日起,我国提高了1464项产品的出口退税率,除“高耗能、高污染和资源性”产品外,所有出口产品的退税率与征税率一样,实现了出口产品零税率。此次出口退税政策的调整是

- ①提振出口企业信心,减少贸易摩擦的迫切需要
- ②降低企业出口成本,缓解企业资金流压力的重要措施
- ③优化我国外贸结构,促进外贸发展的有力举措
- ④发挥税收调节作用,缩小贸易顺差的现实要求

A.①② B.①③ C.②③ D.③④

16.针对之前政府督查工作中出现的偏差、问题和因缺少法律依据而形成的模糊地带,2020年12月1日国务院常务会议通过了《政府督查工作条例(草案)》,该条例对督查工作的主体、对象、内容、权限、方式、程序、管理体制、救济途径等予以了明确界定和统一规范。该条例的制定有利于

- ①填补政府督查工作领域的法律空白②依法规范政府督查,提高依法行政水平
- ③确保督查实效,杜绝权力滥用④制约行政权力,促进司法公正

A.①② B.①④ C.②③ D.②④

17.2020年是脱贫攻坚的关键年,某县人大常委会对该县政府及有关部门落实精准扶贫政策情况进行视察,并提出行之有效的审议意见。坚持定期依法审查县级财政预算决算情况、国民经济和社会发展规划执行情况、政府债务限额及新增地方债券情况等。这表明

- ①人大常委会有权决定本行政区域内的重大事项
- ②对政府相关工作进行依法审查是人大常委会的法定职责
- ③政府作为人大常委会的职能部门应对其负责、受其监督
- ④人大常委会发挥职能优势,精准发力助力脱贫

A.①② B.②③ C.②④ D.③④

18.当今世界正经历百年未有之大变局,保护主义、单边主义和霸凌行径抬头之时,由联合国大会举行的联合国成立75周年纪念峰会通过了《纪念联合国成立75周年宣言》。联合国会员国的国家元首和政府首脑在宣言中说,没有任何其他全球性组织拥有联合国的合法性、号召力和制定规范的影响分,宣言强调了多边主义和国际合作的重要性。由此可见

- ①联合国参与调解是解决国际争端的根本途径
- ②多边主义和国际合作已成为各国共识
- ③国家间加强合作是应对世界性难题的必由之路
- ④联合国在国际事务中发挥核心作用

A.①② B.①③ C.②③ D.③④

19.来自清华大学、中国人民大学、北京师范大学和中央财经大学的四位顶级名师在战“疫”特殊时期“云”授课,与广大学子们共同研讨疫情大考告诉我们什么、战“疫”青年有怎样的责任和担当等话题,相关网站、客户端、社交媒体总访问量达1.25亿人次。课程中充实的内容、丰富的案例、生动的讲述,凸显了中国战“疫”的“硬核”力量。学生们在线留言,“抱着随便听听的心理,谁想到就听人迷了”“一寸山河一寸血,疫情期间,新一代青年绝不作不知有汉何论魏晋的桃花源中人”。这节思政大课旨在

- ①发挥教育作用,传播中国力量②借助大众传媒,宣传多元价值
- ③透过抗疫实例,培养担当精神④发挥名师效应,继承优良传统

A.①② B.①③ C.②③ D.③④

20.根据真实事件改变的电影《夺冠》,讲述了中国女排从1981年首夺世界冠军到2016年里约奥运会生死攸关的中巴大战,诠释了几代女排人历经浮沉却始终不屈不挠、不断拼搏的传奇经历。团结协作、顽强拼搏的女排精神始终代代相传,极大地激发了中国人的自豪、自尊和自信,激励国人在新征程上努力奋进。材料表明

- ①女排精神不断增添新的时代内涵,历久弥新
- ②女排精神具有持久的生命力和影响力

③女排精神作为精神力量能够转化为物质力量

④女排精神是树立文化自信的源泉和动力

A.①② B.①③ C.②③ D.③④

21.心理学上有一个概念叫做“心流”。“心流”是指当人们全心全意投入到一件事情当中的忘我状态,人的精神将获得满足,内心将感觉到幸福和愉悦,人们可以利用“心流”理论,提升行动效率和幸福感。以下,对“心流”的解读正确的是

①“心流”是一种主观感受,与客观事物无关

②“心流”是对客观世界的反映,不以人的意志为转移

③“心流”的产生需要投入生活实践

④“心流”对人的生理活动有积极的调节作用

A.①② B.①④ C.②③ D.③④

22.习近平总书记在全国抗击新冠肺炎疫情表彰大会上提到:面对突如其来的严重疫情,中央统揽全局、果断决策,以非常之举应对非常之事。这表明

①一切要以时间、地点、条件为转移

②对客观现实的正确认识是做好一切工作的出发点

③具体分析矛盾特殊性是正确解决矛盾的关键

④解放思想才能突破客观条件的制约

A.①② B.①③ C.②③ D.③④

23.列选项与漫画蕴含的哲学道理一致的有

①不破不立,不塞不流


②不以规矩,不能成方圆

③学而不化,非学也

④不慕古,不留今

A.①③ B.①④

C.②③ D.③④



——狂妄之徒，你竟敢坏了瓶上的规矩！

24.战国时期的《考工记》所记青铜合金成分表,据材料可知当时

类别	原文	铜	锡	铜%	锡%
钟鼎之齐	六分其金而锡居一	6/7	1/7	85.71	14.29
斧斤之齐	五分其金而锡居一	5/6	1/6	83.33	16.67
戈戟之齐	四分其金而锡居一	4/5	1/5	80.00	20.00
大刃之齐	三分其金而锡居一	3/4	1/4	75.00	25.00
削杀之矢之齐	五分其金而锡居二	5/7	2/7	71.43	28.57
釜燧之齐	金锡半	1/2	1/2	50.00	50.00

A.中国金属冶炼处于世界领先地位 B.青铜制造是最重要的手工业行业

C.青铜器铸造技术达到较高水平 D.“工商食官”政策受到重大冲击

25.汉代官吏任用,有一限制,地方长官定要由中央派,太守如是,县令也如是。但郡县掾属,必得本地人充当。不过辟用掾属的权,则在长官手里,这叫做“辟署”。材料表明了

A.分工协作,提高行政效率 B.分割相权,加强君主专制

C.分权制衡,中央权力至上 D.权力分割,中央地方配合

26.北宋理学家周敦颐主张“人为天地之灵秀”,人要不断的修养自己,有所作为;在人群中,又特别突出圣人的价值和作用,认为“圣人定以中正仁义,而主静,立人极焉”。这一思想

A.继承发展了西方的人文主义 B.凸显了人的价值和作用



- C.推动了儒学的哲学化思辨化 D.重建新的儒学价值体系
- 27.清代医学家王清任精通各种理论知识,多年实践经验使他发现古医书中对人体脏腑的记载存在许多矛盾或错误,历经42年的探索和实践,他完成了巨著《医林改错》。材料反映了
- A.古代医书的价值值得商榷 B.中医发展受制于当时的环境
C.医学研究应重实践轻理论 D.置疑精神推动传统医学发展
- 28.1864年,总理衙门刊印丁韪良译著的《万国律例》。是年普鲁士与丹麦战争,普鲁士兵船在大沽口扣留丹麦商船,总署援引该书,责其侵犯中国领海,普使认错。这表明当时中国
- A.司法主权进一步丧失 B.具有近代外交意识
C.摆脱不平等条约束缚 D.国际地位得到提高
- 29.1919年,胡适发表《多研究些问题,少谈些“主义”!》一文,阐释空谈主义的危险性。李大钊则针对胡适“少谈些主义”的主张明确声明:“我是喜欢谈谈布尔扎维主义的……如果不宣传主义,没有多数人参加,不管你怎样研究,社会问题永远也没有解决希望。”问题与主义之争
- A.导致新文化运动阵营分裂 B.奠定五四运动的思想基础
C.扩大马克思主义的影响 D.指明未来中国发展之路
- 30.1933年,日本向中国东北进行移民,移民低价在中国购买土地并进行垦荒。1936年日本军部又提出20年内向伪满洲国移民百万户的计划,并对移民进行严格的军事训练。日本移民的根本目的是
- A.扩大对华侵略战争 B.输出国内过剩人口
C.转嫁国内经济危机 D.长期殖民东北地区
- 31.1981年的中国没有一部法典能避免那种绝大部分投入的资金由国家分配而不是由市场自由获得的经济体制的不确定性。可是,香港对大陆的直接投资却是最多的,而且其投资主要投向是广东省。这反映了中国当时
- A.对外开放的进步性 B.法治化建设的必要性
C.血缘文化认同的稳定性 D.“引进来”政策的优越性
- 32.393年,基督教被罗马帝国定为国教,随后,罗马皇帝狄奥多西一世宣布废止奥运会;426年,狄奥多西二世以基督教的名义,放火烧毁了奥林匹克的部分建筑。这些现象的出现主要是由于
- A.体育竞争导致罗马帝国分裂 B.奥运理念与基督教教旨相悖
D.商品经济发展受到政治冲击 C.社会矛盾尖锐致使难以举办
- 33.1830年,英国曼斯菲尔德伯爵在反对圈占汉普斯特德荒野的议案时说,它作为“城市之肺”之一,对伦敦人的健康至关重要《最终该议案因牺牲公众利益而被挫败。这反映出当时英国
- A.贵族操纵政治生活 B.城市理念发生变化
C.化学工业污染严重 D.城市发展空间受限
- 34.1793年,卢浮宫正式作为法国国家博物馆对公民开放,开放之初,里面的藏品多以宣扬革命的当代画作为主,如《网球场宣言》、《攻占巴士底监狱》、《处决路易十六》等。这反映了
- A.卢浮宫成为新国家对外宣传的工具 B.巴黎公社革命打碎了旧的国家机器
C.公民权利观念和共和意识逐渐增强 D.启蒙运动推动了资产阶级民主革命
- 35.核武器是威慑武器,关注微信公众号《试卷答案》其出现在一定程度上减小了核大国与核小国的区别,而信息技术如同核技术一样,在国际社会中具有“均衡器”的作用。据此可知,新科技革命
- A.消除了世界性大战的爆发 B.改变了各国的经济发展方式
C.推动了国际格局的多极化 D.丰富了人民群众的日常生活

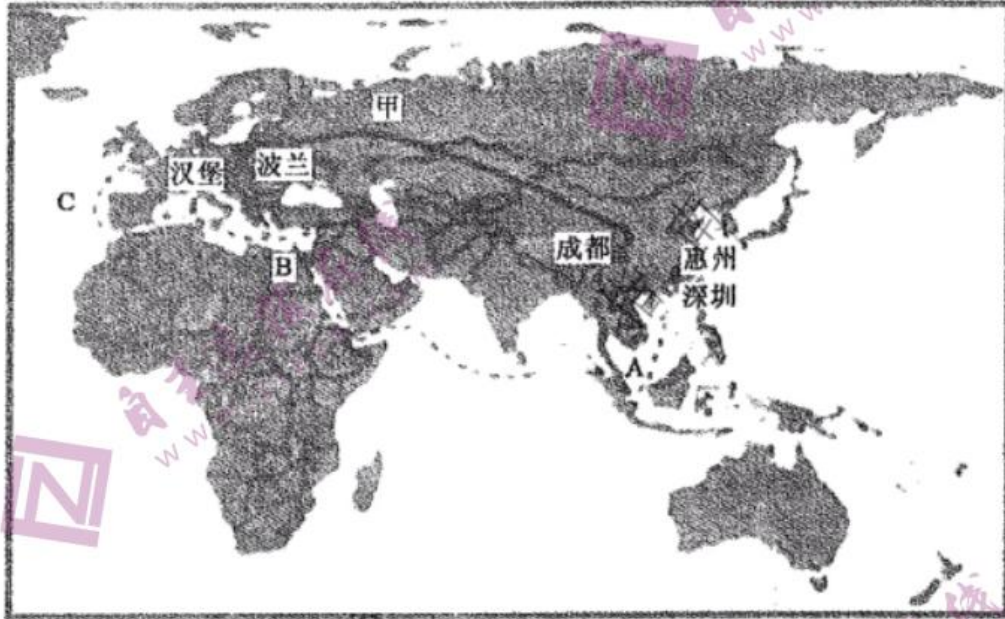
二、非选择题:共160分。第36~42题为必考题,每个试题考生都必须作答。第43~47题为选考题,考生根据要求作答。

(一)必考题:共135分



36.据图文信息回答下列问题。(20分)

T公司波兰工厂专门从事欧洲地区液晶电视的生产和销售,所需的原材料占总成本的80%,绝大部分来源于中国。关注微信公众号《试卷答案》2013年开通“蓉欧”(成都—波兰)班列后,运行时间为11天,比原有海运缩短近20天。班列的“准时化”可实现“零库存”,火车充当“移动的仓库”,原有仓库改建为新的生产车间,生产线由1条增加到5条。工厂根据客户需求进行定制生产,只需一天的时间便能生产出成品迅速投放到整个欧洲市场。“即时生产”取代高昂的“充分备料”,形成特有的“全球流动的即时生产方式”。图3为T公司波兰工厂原料运输路线示意图。



(1)说“蓉欧”班列与原有的海运相比的优势。(6分)

(2)分析现有运输方式对于T公司波兰工厂的产品产销的有利影响。(8分)

(3)“蓉欧”班列运输成本高于原有运输方式,从区位因素变化角度分析T公司依然选择“蓉欧”班列运输方式的原因。(6分)

37.据图文信息回答下列问题。(26分)

2011年,青藏高原的卓乃湖湖水外泄,最终使盐湖与清水河相连,卓乃湖区域变成外流区。由于卓乃湖湖水外泄,导致该区域生态环境发生了一系列的变化。图4为2012年—2020年卓乃湖地区冬春季沙尘暴天数变化图,图5为2011年之后卓乃湖地区沙尘暴影响范围示意图。

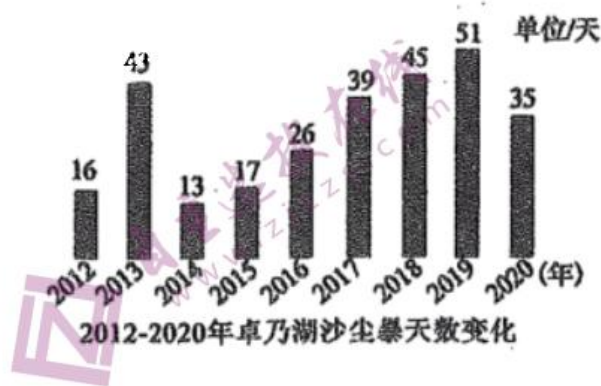


图4

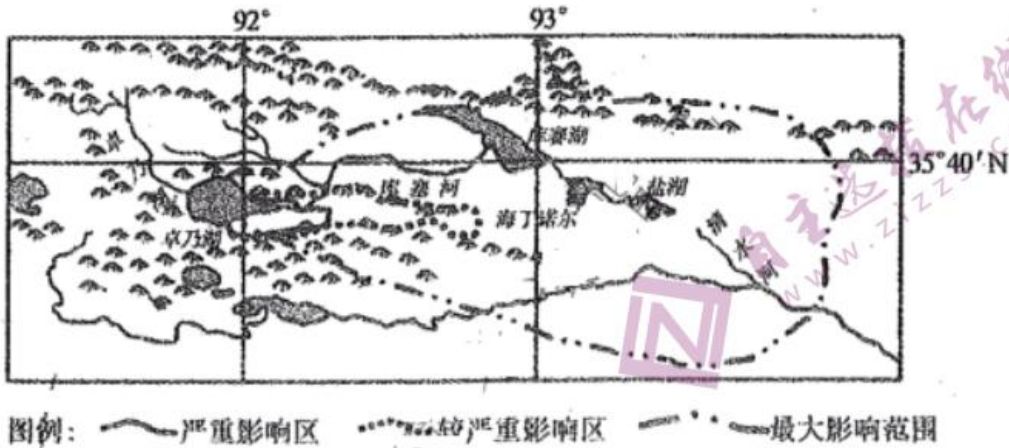


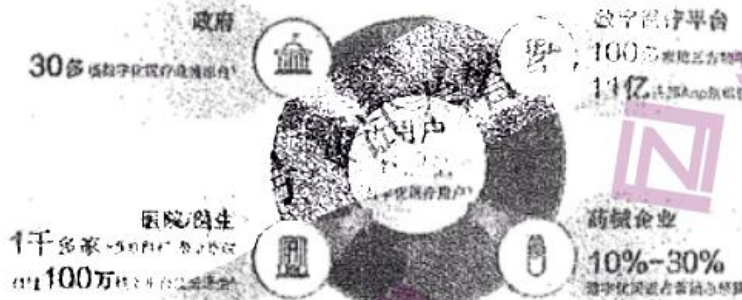
图 5

- (1)指出卓乃湖地区沙尘暴沙源的位置,并分析其形成原因。(6分)
- (2)概括卓乃湖地区沙尘暴最大影响范围的空间分布特征,并分析原因。(10分)
- (3)简述卓乃湖地区沙尘暴对库赛湖湖水水量的影响,并分析其影响过程。(6分)
- (4)针对该区域沙尘暴增加的趋势,请提出合理的防治措施。(4分)

38.阅读材料,回答问题。

波士顿咨询公司携手腾讯营销洞察,通过定量调研、深度访谈、案例研究,基于腾讯平台的消费者数字化医疗全旅程研究,以及近一年数字化医疗头部平台大数据分析,得出与数字化医疗相关的如下数据:

中国数字化医疗生态布局日趋完善,在新冠疫情的催化下行业将迎接新“拐点”的到来



备注:从消费者端观察,过去三年数字化医疗用户平均增速高达30%,截至2019年底中国数字化医疗用户规模已接近移动互联网总用户数的七成,达到6.2亿。63%的消费者从线上了解保健养生、疾病诊疗等相关信息,许多轻急症患者的症状通过线上得到确认并得到购药指导。据此,有观点称“传统医院走数字化发展道路坚持线上线下相结合的发展模式势在必行”,请运用经济生活的相关知识,分析该观点的合理性。(14分)

39.阅读材料,回答问题。

党的十九届四中全会对“构建基层社会治理新格局”等提出了明确要求,为新时代推进基层社会治理现代化提供了遵循、指明了方向。近年来,全国各地深入贯彻落实中央的决策部署,在基层治理创新方面形成了不少务实管用的经验。



天津市北辰区是天津环城四区之一，是典型的城乡结合地区，基层治理问题十分复杂。近年来，北辰区大胆推进体制机制创新，关注微信公众号《试卷答案》初步探索了一套务实管用的基层治理思路和办法，破解了多年未解决的治理“顽疾”。北辰区既强调区委统筹协调，抓好顶层设计和制度创新，又坚持把镇街作为主战区，强化党（工）委基层治理“龙头”作用；通过“平安北辰”APP研发，借助互联网、大数据等科技手段畅通工作流程，解决好“发现情况如何处理”的问题；从自身实际出发，不断进行创新探索，放手让广大居民参与到基层治理中来，丰富志愿者参与社会治理的方式和渠道；要求各级党委政府主动担当作为，敢于动真碰硬，着力解决涉及城市管理、环境整治、食品安全等方面的突出问题。在短短两年多时间里，使天津市北辰区的社会治理局面发生了重大改变，为基层治理现代化积累了一些经验，也给我们提供了一些有益启示。

结合材料，运用政治生活知识分析天津市北辰区是如何发挥作用破解基层治理“顽疾”的？

（12 分）

40. 阅读材料，回答问题。

2020 年以来，甘肃省庄浪县坚决贯彻落实习近平总书记对甘肃工作的重要指示要求，始终把激发贫困群众内生动力作为决胜小康的“先手棋”和脱贫稳固持续的必要要求，深度分析志弱智贫的根源，精准推进“精神扶贫”措施。

该县共编印发放了《扶贫政策解读》等扶贫宣传图册 1.3 万册，并以漫画、插图、案例等形式，对各项惠民政策进行宣传普及，鼓励引导贫困群众牢固树立“勤劳脱贫光荣”的理念。同时，充分利用“村村响”广播、农村文化活动室、农家书屋、村级综合服务中心等进行全方位、立体式的宣传教育，贫困群众对惠民政策的知晓率显著提高。在各村设计制作（绘制）以扶贫扶志扶智为内容的“文化墙”2000 多面（幅），将中华传统美德、文明礼仪知识、道德模范故事、村规民约、扶贫帮困工作成果等内容融入进去，增强贫困群众“幸福都是奋斗出来的”意识，不断传递艰苦创业的正能量。通过开展“脱贫致富先进代表”、道德模范、“庄浪好人”“和谐五星”、最美家庭、十大孝子、“好媳妇、好婆婆”等评选表彰活动，宋晓霞、王安全等一批脱贫攻坚基层先进人物和新乡贤、致富能手、脱贫光荣户脱颖而出，引导贫困群众从骨子里挖掉懒“病根”，彻底摒弃“等、靠、要”消极思想。组织县内科技、社科专家学者深入贫困村，广泛宣传普及农业生产经营管理知识，大力开展畜牧养殖、果树栽培、电子商务、蔬菜园艺、建筑技能、家政服务、传统手工艺等实用技术和家庭技能公益培训，通过“授人以渔”让贫困群众能有一技之长，让他们用辛勤劳动改变贫困面貌。

（1）结合材料，运用文化对人的影响的知识，分析庄浪县“精神扶贫”措施是如何激发贫困群众内生动力的？（10 分）

（2）结合材料，运用价值观的相关知识，阐释扶贫必须先扶志。（12 分）

（3）在贫困户中“等、靠、要”等消极思想仍然存在，激发脱贫内生动力是脱贫的根本所在，请为宣传自主脱贫观念设计两条标语。（4 分）

41. 阅读材料，完成下列要求。（25 分）一

材料一 清代民法直接来源于明代民法，继承了唐宋以来民事法律规范与民事诉讼中的若干制度。民法散见于《大清律例》、《大清会典》、《户部则例》、《六部则例》及其它法规。清代民法中，不仅雇工、佃户、手工业者、商人都具有较完整的民事权利，即使改变身份的贱民也作为主体参加民事活动，这是清朝以前所不曾有的。清代民法一方面沿袭传统的伦理道德观念，另一方面又注意维护封建的家族主义，作为族内法的家法族规，成为国法的重要补充。

——摘编自张晋藩《清代民法综论》

材料二 中国编纂民法典之议始于 19 世纪末，康有为提出建立法制局，他认为，外国人在中国自治其民，不受中国法律约束，“实为非常国耻”。光绪三十三年（1907）命参酌外国法律制定民律，引进了西方民法典的立法理念和编纂方法，于 1910 年完成《大清民律草案》，分总则、债权、物权、亲属、继承五编、共三十七章。

——摘编自白寿彝《中国通史》

材料三 1979年,我国再次起草民法典,1986年颁布民法通则,1992年担保法、合同法等单行法相继制定。进入21世纪,民法典的起草加快。2017年全国人民代表大会通过《中华人民共和国民法总则》,2020年5月28日,全国人民代表大会正式通过了《中华人民共和国民法典》,2021年1月1日起正式实施。

——摘编自梁慧星《中国民法典编纂的几个问题》等

- (1)依据材料一并结合所学知识,概括清代民法的特点。(10分)
 (2)依据材料二并结合所学知识,简析晚清时期民法典制定的原因。(10分)
 (3)结合上述材料,谈谈中国制定民法典的启示。(5分)
- 42.阅读材料,完成下列要求。(12分)

重大世界历史事件的两种观点,约公元500-1900年(节选)

欧洲中心论		反欧洲中心论	
600 - 1000年	欧洲开创了中世纪的农业革命。	公元前400 - 公元500年	中国开创了诸多技术发明,促进了欧洲18、19世纪的农业革命。
约1000年	意大利人开创了远距离贸易及早期资本主义,意大利成为全球主导力量。	约800年	意大利人加入了亚非主导的全球经济。东方全球化导致了东方“资源组合”的传播,从而促进了落后西方的发展。
1434年	中国从世界退出留下的真空很快被优越的西方填补。	1434 - 1800/1839年	中国保持作为世界上最重要的贸易和生产国的优越地位,能够抵御西方的侵入以及支配欧洲商人。
1455年	古登堡发明了金属活字印刷术。	1040/1403年	毕昇发明了活字印刷术(1040);朝鲜人首先发明金属活字印刷术(1403)。
1492年后	欧洲的“大发现时代”和早期西方全球化的出现。	约500 - 1500/1800年	亚非的“大发现时代”;东方缔造并维持全球经济(以及主导了东方全球化),中国选择不实行帝国主义。
1700 - 1850	英国工业化是内部的或内生变革的成功。	1700 - 1850年	“非欧洲世界”(特别是非洲)为英国的工业化做出了巨大贡献,通过后者对其诸多资源的攫取和剥削。
19世纪20年代	英国扭转了对中国的贸易赤字。	19世纪20年代	英国只是通过向中国推销鸦片才扭转了贸易赤字。
1839 - 1858	鸦片战争和不平等条约以武力打开并挽救了中国落后的经济。	约850 - 1911年	中国保持对世界贸易的开放,并在这一时期获得了巨大的经济发展。

——(英)约翰·霍布森著、孙建党译:《西方文明的东方源起》

根据材料并结合所学知识,对上表内容提出自己的看法,并予以说明。(要求:看法具体明确,说明须史论结合。)

(二)选考题:共25分。请考生从2道地理题、3道历史题中每科任选一题作答。如果多做,则每科按所做的第一题计分。

43.【旅游地理】(10分)

云南盈江县石梯村位于我国唯一的伊洛瓦底江水系热带和亚热带区域,森林覆盖率达90%以上,是全国生物多样性最丰富、鸟类最集中的地区之一,有鸟类400多种,国内仅有



林雕鸮及灰孔雀雉等珍稀鸟类均分布于该区域。全村 81 户 363 人，原来长期靠山吃山、刀耕火种的粗放开荒生产生活方式，严重破坏了生态环境，形成“生态破坏—贫困落后”的怪圈。县政府鼓励引导当地村民亦农亦旅，建鸟类监测点、当志愿者，从事餐饮、住宿及配套服务，让农民吃上“旅游饭”，赚上“观鸟钱”，开辟了一条靠生态发家致富的路子。实现了“贫困户变鸟导游”、“绿水青山变金山银山”的蜕变。

简述石梯村“观鸟”旅游资源开发的突出价值并评价石梯村旅游资源开发的条件。

44.【环境保护】（10分）

土耳其欲在 2023 年修建连通黑海和马尔马拉海的人工运河。黑海与马尔马拉海相比，水位高 50 公分；盐度较低，有机物含量远高于马尔马拉海。运河环绕拥有 1500 万人口的伊斯坦布尔市，摧毁候鸟停留地库科切梅切湖。施工计划用电铲和爆破开挖河道两侧的山坡，并将开挖的物料运输到黑海沿岸的填土区内。

分析该运河建设过程中及开通后对于土耳其地区生态环境的影响。

45.[历史一选修 1:历史上重大改革回眸]（15分）

材料

（一）基本税制：中央苏区革命根据地建立以前，国民党反动派制定的苛捐杂税达数百种之多。毛泽东认识到必须废除国民党税收旧制，建立苏维埃政权领导的税收制度。因此首先提出废除一切苛捐杂税，建立统一累进税制的思想。

（二）根本原则：毛泽东在领导中央苏区税收建设中，坚持对剥削富裕阶级征收重税，对劳苦群众阶层减免税收的原则，将纳税重担放在剥削阶级和富裕者身上，这种按阶级区别征税的思想在中央苏区的农业税中体现尤为突出。

（三）主要职能：随着革命战争不断深入，军政人员的扩大，苏区财政供给日渐困难。1933 年，为打破国民党的军事和经济包围，临时中央颁布《关税条例》、《关税税率表》、《关税征收细则》，根据苏区需要的程度，对进出口货物按不同的税率征收关税。关税制度的建立有效调剂了苏区的物质供需，对粉碎敌人的经济封锁，保证军民的物质供应起到重要作用，成为苏区开展对敌斗争的重要工具。通过一系列税收工作，1934 年中央苏区税收收入已占财政收入一半以上，成为苏区最主要的财政来源之一，为巩固红色政权和战争胜利提供了财力保证。

——《中央苏区时期毛泽东税收思想基本内容》

（1）根据材料并结合所学知识，概括中央苏区时期毛泽东税收思想体现的特点与原则。（7分）

（2）根据材料并结合所学知识，简析中央苏区时期毛泽东税收思想的重要意义。（8分）

46.[历史一选修 3:20 世纪的战争与和平]（15分）

材料 消灭苏联是希特勒的基本方针，也是其意图称霸世界的决定性步骤之一。德军在西线获胜后，进攻苏联的议案提上日程。1940 年 12 月 18 日，希特勒批准了代号为“巴巴罗萨”的侵苏作战计划。希特勒预估攻占苏联会有以下好处：解除动员的大量士兵能补充德国产业界的劳工短缺；获取大量便宜食品以及石油需求；改善德国在地缘战略上的处境；进一步孤立英国。1941 年 6 月 22 日，德军对苏联发动闪电战。9 月，北路德军包围了列宁格勒，中路推进到距莫斯科约 400 公里的斯摩棱斯克，南路占领了基辅，苏联面临的形势极为严峻。

9 月 30 日，德军发动进攻莫斯科的“台风行动”。莫斯科全市动员，组成 12 万人的民兵师和巷战小组，约有 45 万人参加修筑防御工事。在苏军的顽强抗击下，德军攻势受阻。11 月 7 日，苏联红场阅兵增强了苏联军民胜利的信心。严冬到来后，德军后勤补给不力，苏军抓住战机大举反攻。到 1942 年 1 月 7 日，中路德军被击退 100-150 公里。莫斯科之战是德军在二战中的首次失利。

——摘编自吴于齐世荣《世界史·现代史编（上）》

（1）依据材料并结合所学知识，概括莫斯科战役爆发的背景。（6分）

（2）依据材料并结合所学知识，简析莫斯科战役的意义。（9分）

47.[历史一选修 4:中外历史人物评说]（15分）

材料

1894 年 10 月 22 日出生在北京前门外一座梨园世家的旧居。



1915、1916 年在北京吉祥园上演创编时装新戏《宦海潮》、《邓霞姑》、《黛玉葬花》。
 1919 年应日本帝国剧场邀请，访问日本进行演出，先后在东京、大阪、神户等地演出。
 1927 年被评为京剧“四大名旦”之首，创编新戏《俊袭人》。
 1930 年赴美国演出，先后在西雅图、芝加哥、华盛顿、纽约等地演出 72 天。
 1933 年在上海天蟾舞台上演了创编新戏《抗金兵》。
 1935 年率剧团赴苏联演出访问，在苏联先后与戏剧大师斯坦尼拉夫斯基、布莱希特会面。
 1941 年，蓄须明志，息影舞台。
 1945 年 10 月，重新登台，在上海美琪大戏院演出了昆曲《断桥》、《游园惊梦》等剧目。
 1951 年，任命梅兰芳为中国戏曲研究院院长。
 1956 年，在周恩来总理直接关心和帮助下，组建了阵容最强大的访日京剧代表团，梅兰芳任团长。这也是梅兰芳第三次访问日本。先后在东京、九州、大阪、京都、名古屋等地演出。

摘编自《梅兰芳年谱》

- (1)根据材料，概括梅兰芳对中国社会的贡献。(8 分)
 (2)根据材料并结合所学知识，简析梅兰芳取得成就的原因。(7 分)

2021 届东北三省四市一模地理参考答案

一、选择题

1.D. 2.A. 3.B. 4.D. 5.A. 6.C 7.A 8.C 9.A 10.C 11.D

二、非选择题

36.(20 分)

(1)运行时间大大缩短(2 分)；受自然条件影响小(2 分)；高效稳定(2 分)。

(2)

空间：原材料的“零库存”效应，大大降低企业存储成本：(2 分)

效益：减少原材料积压，减少资金占用：(2 分)生产规模扩大、生产效率提高：(2 分)市场供应周期缩短(市场响应能力提升)，大大提高企业利润。(2 分)

(3)快速满足市场需求对于企业影响越来越重要。(2 分)

因供应地改变(原料供应地由东南沿海地区向内陆地区转移)，降低了原料成本。(2 分)

现有“流动的即时生产”，在降低存储成本的同时带来更大的利润，可以负担较高的运输成本。(2 分)

37.(26 分)

(1)位置：卓乃湖沿岸(2 分)

原因：冬季，(水位低、植被稀疏等)，湖(河)滩裸露：(2 分)

卓乃湖湖水外泄，湖水减少，冬春季节裸露湖滩面积增大。(2 分)

(2)特征：分布在卓乃湖的东部，范围大(覆盖库赛湖，海丁诺尔湖、盐湖)，(2 分)呈东西方向延伸。(2 分)该地为西风，(2 分)西风从湖面经过，风力大(2 分)；山脉与风向平行，形成狭管效应。(2 分)

(3)水量减少：(2 分)

冬春季节，西风将沙尘搬运到库赛湖面，在库赛湖湖面沉积；(2 分)春季冰雪融化，沙尘等沉积物沉积到湖底，抬高湖床，使库赛湖湖水外泄增加，水量减少。(2 分)

(4)加强监测与预报(2 分)；在湖泊出口处修建水坝。(2 分)

43.【旅游地理】(10 分)

美学价值(或经济价值)(2 分)

生态环境优美，鸟类种类多，旅游资源质量高(或珍稀鸟类分布区，具有较高的美学价值)；

(2 分)乡村旅游与观鸟相结合旅游项目组合效果好；(2 分)

远离经济发达地区，距离客源市场较远：(2 分)村庄小，接待能力有限。(



44.【环境保护】（10分）

破坏森林资源，生物多样性降低：（2分）改变局地小气候；（2分）地下水遭受海水污染；（2分）微生物大量进入马尔马拉海，水中氧气含量降低，破坏马尔马拉海生态环境；（2分）打破两个海域生态系统平衡，引发生态问题。（2分）

历史学科模拟试题参考答案：（2021.03.09）

客观试题答案（12题，每题4分，计48分）：

24	25	26	27	28	29	30	31	32	33	34	35
C	D	B	D	B	C	D	C	B	B	A	C

主观试题参考答案：

41.(1)继承并发展了之前的法律制度（2分）；米源范围广泛，具有分散性（2分）；民事权主体扩大（2分）；沿袭了传统的儒家伦理道德（2分）；受宗法观念的影响（2分）。（直接抄写材料不得分）

(2)列强的侵略，民款危机加深（2分）；民族资本主义发展的需要（2分）；戊戌变法、清末新政等政治事件的影响（2分）；西学东渐，西方法律思想的传播（2分）；有识之士的推动（2分）。

(3)民法典的制定要与时俱进，顺应时代发展的需要（2分）；要继承传统法律的积极因素，结合实际有所创新（2分）；要学习和借鉴先进国家的经验（1分）。

42.看法2分，史实4分（两项即可），逻辑论述4分，结论部分有升华2分。说明：必须有材料之外的论述。

示例1:

看法：500-1900年东方在大部分时间领先于西方。

中国古代专制主义中央集权不断发展，小农经济能够实现自给自足，儒家思想富有人文主义和理性主义精神，有利于稳定社会。中世纪较长时期里西方政治上割据混战，战乱不断，经济上农业生产力水平落后于中国，文化上天主教会实行精神独裁。中国的四大发明深刻推动欧洲社会转型，指南针和火药促进新航路开辟，早期殖民扩张，印刷术造纸术推动了文艺复兴宗教改革启蒙运动。郑和下西洋是明初规模空前政治经济外交活动，密切了亚非的经济文化交流，促进了亚非的友好往来，有利于东方的全球化。也是世界航海史上的壮举，其发生早于西方新航路开辟。鸦片战争前，中英正当贸易中英国处于入超地位，英国为扭转贸易不利地位对华走私鸦片，通过鸦片战争和不平等条约迫使中国打开国门。

综上：500-1900东方在大部分时间里在政治经济文化等方面对西方保有一定的优势。

示例2:

看法：西方文明的发展受益于东方文明。

唐朝国家统一，政局安定，封建经济发展，海陆丝绸之路繁荣，意大利人密切了同东方的经济联系，促进了地中海贸易的发展，中世纪后期意大利最早出现了资本主义萌芽，文艺复兴运动也最早兴起于意大利。中国的四大发明传到欧洲，推动了西方社会由封建社会向资本主义社会的转型，指南针和火药促进新航路开辟，早期殖民扩张促进了资本原始积累。有利于资本主义经济的发展，印刷术造纸术推动了文艺复兴宗教改革启蒙运动的义理性主义传播，有利于思想解放。英国主导的奴隶贸易，为英国提供资本原始积累，为工业化发展创造条件；工业革命提高了英国等国生产力，亚非国家日益卷入资本主义世界市场，逐渐沦为资本主义国家经济附庸，沦为商品市场和原料产地。

综上所述：西方文明在近代的发展受到了东方文明的推动，也给亚非国家带来了灾难。

示例3:



看法：西方文明在人类历史向工业文明演进中起主导作用。

经济上，16世纪新航路开辟，推动了地理大发展和世界市场的形成，使人类历史从孤立分散走向整体，为经济全球化奠定雏形。欧洲国家的殖民扩张，为资本主义经济发展提供了资本原始积累。19世纪中期英国完成工业革命，机器取代手工工场，生产力迅速提高，人类进入蒸汽时代。19世纪末，科学技术飞速发展，发电机和内燃机的应用，新型能源的开发，人类进入电气时代。垄断组织形成，以欧美为主导的世界体系最终确立。英、法、美等国家相继进行资产阶级革命，建立近代资本主义整体，为近代民主政治开辟道路。在文艺复兴，启蒙运动中，资产阶级将自由平等、人民主权等启蒙思想传播到世界各地极大地解放了人们的思想。

总之，在近代工业文明确立的过程当中，西方国家创的先进的生产方式和思想理念为人类文明提供了新的方向。

看法：欧洲中心论不利于全面客观的认识东西方历史进程。

15世纪以后，欧洲民族国家出现，各民族国家往往以自我为中心观察世界，认为在近代历史发展进程中，欧洲处于主导地位，起决定性作用，所以世界史只是国别史的拼凑。而新航路开辟以后，世界市场初步形成，国际交往日益密切，人类由分散走向整体，以单独的民族国家为中心的世界史已经不能全面客观地反映世界发展的变化和东西方历史的进程。尤其是对东方乃至世界其他地区，忽视了这些地区的发展对世界历史发展起到的作用。当今世界国家的主体仍然是民族国家，应该超越民族国家，以人类命运体的理念来书写新的历史。

45.答案：

1.特点：制定统一税制，体现税收思想的先进性；按阶级区别进行征税；根据需要调整进出口关税，体现政策的调控性。（3取2,每点2分）

原则：体现了效率原则，公平原则、适度原则、法制原则（一点2分，两点3分）

2、意义：指导中央苏区建立了第一个系统的税收体系，为其他革命根据地的税收工作树立典范（2分）；促进了中央苏区及各革命根据地经济发展和财政增加，为根据地建设和中国革命提供物质保障（2分）；开创了人民税收思想理论与实践结合的先河（2分）；为我国新民主主义革命税收和新中国税收建设奠定了坚实基础（2分）。

46.答案：

(1)德军在西线获胜，法国灭亡（2分）；英军顽强抵抗（2分）；苏德战争爆发，苏联形势严峻（2分）。

(2)打破了德军“闪电战”不可战胜的神话（2分）；德军被迫面临两线作战的困境（2分）；提升了苏联在军事，政治方面的国际地位（2分）；极大的鼓舞了世界反法西斯人民抗击侵略的决心（1分）；促进了世界反法西斯同盟的形成（2分）。

47.答案：

(1)贡献：使中国京剧走向世界，提高了中国京剧的国际影响力（2分）；创新了京剧形式，促进了戏剧的发展（2分）；有利于中外文化艺术的交流与传播，推动了新文化运动的传播（2分）；梅兰芳先生的民族气节激励了国人的爱国主义热情，助力于抗日战争（2分）。

(2)顺应了时代发展的需求和救亡图存的需要（2分）；受传统文化影响，具有爱国主义精神（2分）；家庭教育和自身的努力与执着（1分）；新中国建立后党和国家的支持与重视（2分）。

2021年哈尔滨市普通高中第一次模拟考试 政治 参考答案及评分细则

一、选择题

12-23 BABCA CDBCD BB

二、非选择题

38.共14分

走数字化发展道路，坚持线上线下相结合的发展模式顺应国家政策导向（2分）、医疗产业发展趋势 / 数字化经济发展趋势（2分）和医疗用户需求 / 满足消费需求（2分）；是传统医院转换经营模式（2分），整合利用多方资源、提高医疗资源利用率（2分），提高医疗服务的质量和效率（2分），提高医院经济效益的需要（2分）；

其他答案言之有理，可酌情给分。

39.共 12 分

北辰区坚持党建引领，（1分）充分发挥党在基层治理中统筹协调作用，（1分）保证基层治理的正确方向和治理的整体性、协调性。（1分）创新体制机制（1分）和基层治理方式（1分），不断提高基层治理效能（1分）；坚持以人民为中心（1分），发挥人民群众在基层治理中的主体作用（1分），凝聚基层治理合力（1分）；坚持抓作风建设（1分），求真务实（1分），提高基层治理水平（1分）。

40(1)共 10 分

文化对人的影响来自于特定的文化环境和文化活动（1分），文化能够影响人的认识活动、实践活动和思维方式（1分）。优秀的文化能够丰富人的精神世界，增强人的精神力量（1分），促进人的全面发展（1分）。庄浪县通过扶贫政策宣传教育活动、绘制“文化墙”（1分），在潜移默化（1分）中引导贫困群众摒弃“等靠要”等消极思想，转变旧有思维模式（1分），牢固树立“勤劳脱贫光荣花”的思想观念（1分）。通过公益培训提升贫困群众的专业技能素养（1分），提高贫困群众自主脱贫能力（1分）。

40(2)共 12 分

价值观对人们认识世界和改造世界的活动具有导向作用（2分），是人生的重要向导（2分）。“等靠要”等消极思想是导致贫困的思想病根（2分），只有引导鼓励贫困群众转变观念 / 摒弃错误观念（1分），树立勤劳奋斗的思想观念（1分），才能够激发贫困群众主动学习技术获得一技之长（1分）、通过辛勤劳动改变贫困面貌 / 实现自主脱贫（1分）。

40(3)共 4 分

答案示例：

“安贫可耻 脱贫光荣 团结一心 共奔小康”（2分）

关于我们

自主选拔在线是致力于提供新高考生涯规划、强基计划、综合评价、三位一体、学科竞赛等政策资讯的升学服务平台。总部坐落于北京，旗下拥有网站（<http://www.zizzs.com/>）和微信公众平台等媒体矩阵，用户群体涵盖全国90%以上的重点中学师生及家长，在全国新高考、自主选拔领域首屈一指。

如需第一时间获取相关资讯及备考指南，请关注**自主选拔在线**官方微信号：**zizzsw**。



关注后获取更多资料：

回复“答题模板”，即可获取《高中九科试卷的解题技巧和答题模版》

回复“必背知识点”，即可获取《高考考前必背知识点》