

苏州市 2021~2022 学年第一学期学业质量阳光指标调研卷

高三历史

2022.01

(本试卷共 20 小题, 满分 100 分, 考试时间为 75 分钟)

注意事项:

1. 答卷前, 考生务必将自己的姓名、考生号等填写在答题卡和试卷指定位置上。
2. 回答选择题时, 选出每小题答案后, 用铅笔把答题卡对应题目的答案标号涂黑。如需改动, 用橡皮擦干净后, 再选涂其他答案标号。回答非选择题时, 将答案写在答题卡上, 写在本试卷上无效。
3. 考试结束后, 将本试卷与答题卡一并交回。

一、选择题: 共 16 题, 每题 3 分, 共 48 分。每题只有一个选项最符合题意。

1. 春秋中期的“夏”字(图 1-1)如同光脚劳动之人; 西周早期的“周”字(图 1-2)为田的象形; 商代晚期的“秦”字(图 1-3)指禾苗。从中可以看出




图 1-1 图 1-2 图 1-3

- A. 当时汉字尚未形成完整的体系
B. 先秦时期书法已进入自觉阶段
C. 三代政治具有明显的神化色彩
D. 早期中华文明与农业关系密切
2. “继嗣”是周代重要的子嗣观念, 也是周代家庭赋予其子重要的责任。“周文王生百子”被认为是祥瑞之兆, 古代有许多“百子图”流传至今, 图 2 为清代冷枚的《百子图》。“百子呈祥”的文化因子



图 2

- ①与宗法观念密切相关
②阻碍社会生产力进步
③深受儒家文化的影响
④有特殊的民族性愿景
- A. ①②③
B. ①②④
C. ①③④
D. ②③④

- 白居易笔下的“卖炭翁”，清晨从“南山”前往长安，进城后“牛困人饥日已高”，但他却在“市南门外泥中歇”。这一现象出现的重要原因是
 - 重农抑商的传统
 - 专卖政策的实施
 - 坊市制度的实行
 - 朝贡贸易的制约
- 明后期徐光启《农政全书》对灾荒高度关注，不仅设置历代农书所没有的“荒政”专题，而且其篇幅占全书约 1/3 左右。材料反映了
 - 以民为本的可贵思想
 - 推崇西学的开放意识
 - 以农为本的传统观念
 - 讲求实验的科学精神
- 明清运河的畅通，使北方村镇中对南方流行的河神、水神的崇拜日益增多，北方的神灵也“泊去”南方受到当地人的尊崇。这从根本上反映了
 - 理学在民间缺少了思想根基
 - 明清商业繁荣贸易发展较快
 - 传统文化重新焕发勃勃生机
 - 运河畅通促进南北经济平衡
- 梁启超在《中国近三百年学术史》中说：“此二书在今日诚为刍狗，中国士大夫之稍有世界地理知识，实自此始。”此二书
 - 是中国思想从传统转向近代的重要标志
 - 是地理大发现时代中国人对世界的回应
 - 为近代中国社会制度变革奠定思想基础
 - 打破科举制并推动中国教育近代化起步
- 图 3 是洋务企业数量变化曲线图，对其解读正确的是

洋务企业数量变化曲线图

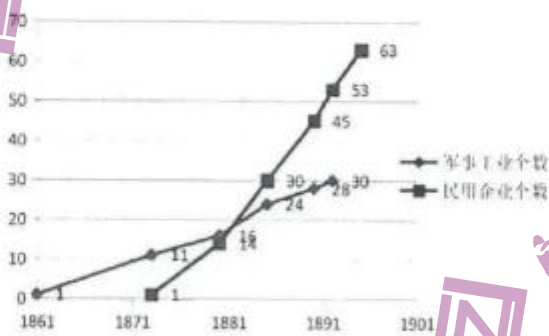


图 3

- 19 世纪 70 年代是洋务企业发展最好的时期
 - 在民用企业创办之前军事工业已经初具规模
 - 民用企业总体多于军事工业反映出二者性质差异
 - 洋务民用企业创办反映出晚清国力得到较快回升
- 美国国务卿曾说，“他们感到，撤走我们军队似乎是抛弃中国让她毁灭”，而且“看到外国租界作为避难所，作为强有力的、稳定的经济资源，有极大的价值”。该言论的背景是
 - 义和团运动的爆发
 - 南京临时政府的成立
 - 日本开始全面侵华
 - 国民党发动全面内战

9. 从图4 邮票中可提取的信息较为合理的是




图4

- A. 国民经济恢复工作接近完成
B. 三大改造与发展重工业同步
C. 初步实现了社会主义工业化
D. 尚未建立社会主义经济体系
10. 1971年8、9月间的《蒋介石日记》载：“今日混乱世界，是非不明，利害倒置，廉耻道丧，礼仪扫地，如尼且者……寡廉鲜耻未有如尼且之甚者，而其忘恩负义之作为犹其次也”。这些言论主要缘于
- A. 联合国驱逐国民党集团
B. 美国承认中华人民共和国政府是唯一合法政府
C. 基辛格访华并发表公告
D. 美国决定从台湾撤出全部武装力量和军事设施
11. 中共某次全国代表大会报告指出：“这场新的革命……不是要改变我们社会主义制度的性质，而是社会主义制度的自我完善和发展。它也不是原有经济体制的细枝末节的修补，而是经济体制的根本性变革。”这次会议
- A. 以完成生产资料私有制的社会主义改造为背景
B. 冲破了党在指导思想上的教条主义和个人崇拜
C. 邓小平明确提出了建设有中国特色的社会主义
D. 成为改革开放和社会主义现代化建设的新起点
12. 下表中，历史材料和结论相符的是

	材料		结论
A.	《王位继承法》	凡按照本法的限制规定可以继承王位者，若信奉罗马天主教或者与罗马天主教徒结婚，都应丧失继承的资格……	标志着英国君主立宪制开始建立
B.	《独立宣言》	一切人生来就是平等的，他们被造物主赋予了他们固有的、不可转让的权利，其中有生命、自由以及追求幸福的权利……	体现了天赋人权思想
C.	《人权宣言》	在权利方面，人们生来是而且始终是自由平等的。	维护了拿破仑战争成果
D.	《德意志帝国宪法》	联邦议会与帝国议会的召集、开会、延会、闭会之权属于皇帝……建议并公布帝国法律及监督执行之权属皇帝……	德国政治民主化程度非常高

13. “我听到人们在所有方面都大声地喧嚣：不要争论。官员说：不要争论，执行！税务征收人说：不要争论，缴钱。牧师说：不要争论，信仰。”康德对此最有可能的回应是
- A. “要借助别人的智慧，来使自己不受蒙蔽”
B. “每个人都应获得他们应该得到的正直的生活”
C. “耶稣的公平就是我们的公平，他就是我们”
D. “要勇于认识！要有勇气运用自己的智力”

14. 西方某文学流派提倡历史剧、历史小说，擅长叙事长诗；作品多取材于中世纪，古堡、教堂、战场、宫廷常是故事发生的地点，人物都有中古的骑士之风。为肯定当时的资本主义城市，则写田园牧歌、自然风光。据此推断该流派是
- A. 浪漫主义
B. 现实主义
C. 印象主义
D. 现代主义

15. 图5反映了大国战略博弈的重要事件，该事件的结果为国际社会治理提供的主要启示是

- A. 通过谈判解决国际争端
B. 增强实力确保战略优势
C. 坚持零和博弈思维
D. 以妥协退让求和平

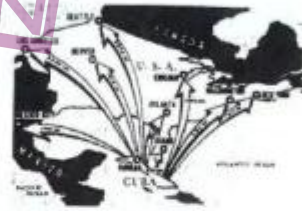


图5

16. 立陶宛共产党脱离苏共的行为是苏联领导人当时始料未及的，它加速了苏共的解体。此后，波罗的海地区的独立浪潮继续发展。立陶宛共产党脱离苏共的根源是
- A. 欧盟积极东扩
B. 西方和平演变
C. 苏联社会动荡
D. 民族分离主义

二、非选择题：共4题，共52分，第17题16分，第18、19、20题各12分。

17. (16分) 阅读材料，完成下列要求。

材料 在中国共产党成立前后以至国民革命时期，早期共产主义者和中国共产党人对五四纪念给予高度重视，实现了五四纪念的奠基，并以话语自觉不断赋予五四纪念以新的意义，形成一套纪念的体系，不仅传播了革命思想，还发挥出民众动员的作用。在五四纪念的起始阶段，已形成以政治、文化双重语义来阐释五四运动的共识，即以“爱国运动”“救国运动”指称“政治五四”，以“新文化运动”言说“文化五四”。这种双重语义合流交融态势影响并奠定了其后中国共产党五四纪念的基本底色。

1919年5月，陈独秀将五四运动视为“国民爱国自卫”和“觉悟”的体现，1919年10月，李大钊强调五四运动系“排斥侵略主义”，并不只是爱国运动，“实为人类解放运动之一部分”。

中国共产党一大纲领提出，“党的根本政治目的是实行社会革命”。因此，激发青年热情，“复活五四精神，到民间去”，动员民众走社会改造之路，便成为建党之初中国共产党人纪念五四运动的“新意义”。

1925年4月，青年团中央在号召学生筹备五月纪念周活动时，将五四运动视为“中国近代民族运动的发端”，并提出“继续五四运动的精神，组织整顿学生会，反对反动思想与腐败教育，到劳动群众中去，参加民族解放运动”的口号。此后，“民族运动”“民族革命运动”“民族解放运动”等话语在五四纪念中渐趋火热。

——摘编自霍新宾《中国共产党早期五四纪念及其内在理路》

- (1) 据材料指出,与早期共产主义者相比,中国共产党人对五四运动的纪念有何新特点?(3分)
- (2) 据材料并结合所学知识,概括五四运动的性质,并分析五四运动与新文化运动的关系。(8分)
- (3) 1925年中国共产党对五四运动的纪念,反映了先进的中国人怎样的时代追求?据此概括五四精神的核心。(5分)

18. (12分) 阅读材料,完成下列要求。

时间	史事
古希腊	天文学家喜帕恰斯以通过地中海罗德岛的经线为基准
2世纪	托勒密以通过非洲大陆西北大洋中的加那利群岛的经线为基准
1573年	西班牙规定,所有经度都以通过本国托莱多市的经线为基准向西度量
1634年	法国以通过加那利群岛的经线为基准
1767年	英国以通过伦敦郊外格林威治的经线为零度经线即本初子午线
1840年	英国铁路实行统一的格林威治时间,即“伦敦标准时”
1847年	英国铁路沿线城市均采用“伦敦标准时”
1871年	国际地理学会决定,整张海图以格林威治经线为本初子午线
1883年	国际大地测量会议决定:经度和时间制度的统一将会给航海、商业、通信、科学带来巨大效益;各国应以格林威治子午线为本初子午线
1883年	美国铁路采用格林威治时间为基准时间
1884年	国际子午线会议决定:以格林威治子午线为本初子午线;在世界范围内,每个太阳日都始于本初子午线的平均午夜时刻
1884年	全美人口一万年以上的城市,85%采用标准时

——摘编自韩卿、吴增建《国际子午线会议之述评》等

材料介绍了学者对国际子午线会议的述评。从材料中提取信息(整体或部分材料信息),拟定一个论题,并结合所学知识进行简要阐述。(要求:论题明确,持论有据,表述清晰。)

19. (12分) 【历史上重大改革回眸】阅读材料,完成下列要求。

材料 孝文帝太和年间(477—499年)的改革是全面性的,行政改革则是其中心环节……因为它代表着政治体制乃至社会形态的变化,其影响也不仅仅限于北魏一朝。由于太和年间在行政制度上的改革,总的导向是权力的集中,对后期的北魏政权来说也有利弊。利在通过行政效能增强了国家的动员能力,从而在经济和军事上对南方形成越来越大的优势,为后世的统一打下了国力基础;弊在权力导致的腐败成了北魏分裂与衰亡的一个祸根。……此外,太和年间的行政改革还可以在在一定程度上减弱官员的民族属性所带来的影响。

——严耀中《关于孝文帝行政改革的一些新诠释》

- (1) 据材料,指出孝文帝太和年间行政改革的总导向,结合所学知识列举两项相关措施并概括其作用。(6分)
- (2) 据材料并结合所学知识,归纳孝文帝太和年间行政改革带来的利弊。(6分)

高三历史 第5页 共6页

20. (12分)【中外历史人物评说】阅读材料，完成下列要求。

材料 1931年九一八事变发生，当时的国际社会表现出无奈和无能……爱因斯坦在西方人士中率先公开谴责日本侵略东三省的行径，呼吁各国联合起来对日本进行经济制裁。……爱因斯坦是国际公正和国际和平的代言人，对中国人民的友爱之情没有任何功利色彩。1937年，主张抗日的沈钧儒、章乃器、史良等“七君子”被捕入狱后，爱因斯坦联合杜威等著名知识分子通电援救，向国民党当局施加道义的压力。1938年，爱因斯坦还与罗斯福总统的长子一同发起“援助中国委员会”，在美国两千个城镇开展援华募捐活动。直到临终，老人还一往情深地说：“20世纪是中国的世纪，因为世界必将从重新认识中国开始，而重新认识中国则必先从重新认识中国哲学开始。”

——单滨新《爱因斯坦与蔡元培的“北大之约”》

- (1) 据材料，归纳爱因斯坦关注中国的表现。(6分)
- (2) 据材料并结合所学知识，分析爱因斯坦为什么有高度国际影响力？(6分)

苏州市 2021~2022 学年第一学期学业质量阳光指标调研卷

高三历史参考答案

2022.01

一、选择题，每题 3 分，共 48 分。

题号	1	2	3	4	5	6	7	8	9
答案	D	C	C	A	B	A	B	C	B
题号	11	12	13	14	15	16			
答案	D	B	D	A	A	D			

二、非选择题，共 4 题，总计 52 分，第 17 题 16 分，第 18、19、20 题各 12 分。

17. (16 分)

- (1) 特点：通过纪念五四，动员民众参与革命、走社会改造之路；中共有组织有规划地实施；促进民族解放运动发展。(3 分)
- (2) 性质：彻底反帝反封建的伟大爱国革命运动（或民族运动，或民族革命运动，或民族解放运动）(2 分)；伟大社会革命运动；伟大思想启蒙运动。(2 分)
- 关系：相互联系。(2 分)；新文化运动为五四运动作了思想和文化上的准备；五四运动促进了新文化运动的发展与继续。(2 分)
- (3) 时代追求：民族独立；国家统一；人民解放（或打倒列强，除军阀，统一中国）。(3 分) 核心：爱国主义。(2 分)

18. (12 分)

【评分标准】论题部分 2 分，史实与论证 9 分，结论 1 分，具体赋分要求如下：

分值	要求
10~12	所拟论题符合要求，指向明确。 能够引用两个或两个以上的信息，支持论题；史实分析准确。 论证充分，结论合理；逻辑严谨，表述通顺。
7~9	所拟论题符合要求，指向明确。 能够引用两个或两个以上的信息，支持论题；史实分析较准确。 论证较充分，结论合理；逻辑较严谨，表述通顺。
4~6	能够拟出论题，基本符合要求。 能够运用史实支持论题；有一定的分析、论证；表述较通顺。
0~3	能够拟出论题。 能够运用史实说明。

示例：

人类社会的需求推动了国际标准的制定。(2 分)

15 世纪起，随着新航路的开辟，欧洲多国在世界范围内进行商业贸易和早期殖民扩张，以西欧为中心的世界市场开始出现并逐步拓展。频繁的航行，迫切需要在海上精准定位。这一需要推动了欧洲多国纷纷进行确定经线基准的探索。从 1573 年至 1767 年西班牙、法国、英国各自提出了不同的经线基准，1871 年国际地理学会采用了英国的标准，以格林威治经线为标准，确立为本初子午线。英国 18 世纪中期成为世界殖民霸主，19 世纪中后期

成为世界工厂和世界贸易中心，经济活动遍布世界各地，不同时间标准不利于其经济活动开展。工业革命催生了新的工厂制度、火车和轮船等新式交通工具以及电报电话等新式通讯手段的出现。这些变革，使得人们出现统一不同地区时间标准的需求，以便于生产、生活的正常有序进行。为此，1840年起，英国铁路开始以格林威治时间为标准，统一时间，之后在国内推广。后美国采用格林威治时间为标准时，世界逐渐产生了统一的时间标准。经度和时间标准的统一，促进了世界的经济、交通和科学的发展，给人们的生活带来了便利。（8分）

综上所述，经济的发展、社会的需求是人类制定国际时空标准的推动力。（2分）

其他视角：（提供思考角度）

参考一：国际标准制定体现了综合国力

格林威治经线被确定为本初子午线，其他国家以格林威治时间作为基准时间，实际上是英国综合国力的一种体现。实行君主立宪制的英国，在殖民争夺中最终确立了世界殖民霸权。工业革命的率先开展与完成，英国成为世界工厂和世界贸易中心。在输出商品的同时，英国人制定的规则逐渐成为世界标准。

参考二：国际标准制定折射出国际竞争

以哪一经线作为基准，反映出大国间的竞争。无论是早期开辟新航路的西班牙，还是英法在经线基准方面的不同做法，都从一个侧面反映了大国争霸的史实。由于率先开始并完成工业革命，英国最终在这场科学竞赛中胜出。

参考三：国际标准制定促进了世界交往

统一空间方位与时间系统的标准，有助于国内和国际不同区域的交往交流，促进世界范围内海上航行与国际贸易的发展，以及世界市场的逐步拓展，利于世界各地联系的加强；一定程度上改变和影响人们的生产、生活。

19.（12分）

（1）总导向：权力的集中。（2分）

措施一：制定官吏俸禄制，整顿吏治。作用：吏治有所好转；措施二：设立三长制取代宗主督护制。作用：完善国家行政体制；保证国家对人民的有效控制。（4分）

（2）利：增强国家动员能力；缓和民族矛盾，促进民族交融，有利于中华民族共同体意识的形成；推进北魏封建化进程；为结束长期分裂局面，重新走向国家统一奠定基础。（4分）

弊：权力导致的腐败，成为北魏分裂与衰亡的祸根；一定程度上弱化了北魏的优良民族传统。（2分）

20.（12分）

（1）表现：率先谴责日本侵华，呼吁制裁日本；向国民政府施压，援救抗日爱国人士（或“七君子”）；开展援华募捐活动；对中国的未来充满信心；号召重新认识中国。（任答三点得6分）

（2）影响力：创立的相对论是近代物理学领域的一次伟大革命；推动量子力学发展（或因光电效应研究获得诺贝尔物理学奖）；在宇宙学、统一场论等物理学领域有重大研究成果；为人类和平进步而斗争（是国际公正和国际和平的代言人）。（任答三点得6分）

关于我们

自主选拔在线是致力于提供新高考生涯规划、强基计划、综合评价、三位一体、学科竞赛等政策资讯的升学服务平台。总部坐落于北京，旗下拥有网站（[网址: www.zizzs.com](http://www.zizzs.com)）和微信公众平台等媒体矩阵，用户群体涵盖全国90%以上的重点中学师生及家长，在全国新高考、自主选拔领域首屈一指。

如需第一时间获取相关资讯及备考指南，请关注**自主选拔在线**官方微信号：[zizzsw](https://www.zizzs.com)。



微信搜一搜

