

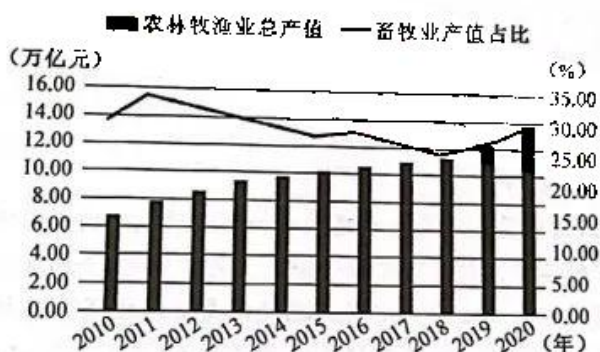
高三文科综合

考生注意：

1. 本试卷分选择题和非选择题两部分。满分 300 分，考试时间 150 分钟。
2. 答题前，考生务必用直径 0.5 毫米黑色墨水签字笔将密封线内项目填写清楚。
3. 考生作答时，请将答案答在答题卡上。选择题每小题选出答案后，用 2B 铅笔把答题卡上对应题目的答案标号涂黑；非选择题请用直径 0.5 毫米黑色墨水签字笔在答题卡上各题的答题区域内作答，超出答题区域书写的答案无效，在试题卷、草稿纸上作答无效。
4. 本卷命题范围：高考范围。

一、选择题：本题共 35 小题，每小题 4 分，共 140 分。在每小题给出的四个选项中，只有一项是符合题目要求的。

畜牧业是推动我国农业和农村经济发展的重要产业，也是我国农业生产中甲烷等非二氧化碳温室气体排放的主要来源。目前，我国畜牧业碳排放主要来自牛、羊等草食牲畜肠胃发酵、畜禽粪便及饲料生产中的化肥、农药、能源投入。下图示意 2010~2020 年我国农林牧渔业总产值及畜牧业产值占比情况。据此完成 1~3 题。



1. 2010~2020 年我国畜牧业
 - A. 产值波动增长
 - B. 产值波动减少
 - C. 占比持续下降
 - D. 占比持续上升
2. 2011 年我国畜牧业产值占比明显高于其他年份，最可能是因为
 - A. 大量乡村劳动力回流农村
 - B. 城市化发展侵占耕地
 - C. 自然灾害导致种植业减产
 - D. 实施畜牧业扶持政策
3. 促进我国畜牧业绿色低碳发展的合理措施是
 - ①牧区畜牧业推广划区轮牧模式
 - ②农区畜牧业推广小户散养模式
 - ③促进畜禽粪便资源化利用
 - ④缩减我国的畜禽养殖规模
 - A. ①②
 - B. ②④
 - C. ①③
 - D. ③④

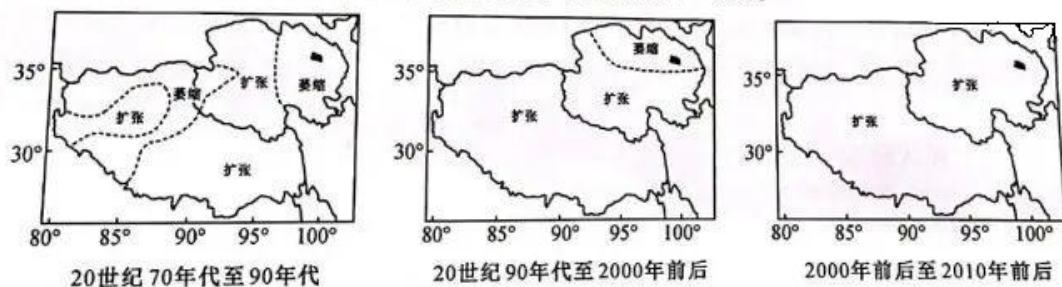
【考前押题·文综 第 1 页(共 12 页)】

2022年7月7日,南水北调中线引江补汉工程在十堰丹江口市正式开工建设。引江补汉工程是从长江引水至汉江的大型输水工程,工程全长195 km,全程采用隧洞输水。下图示意引江补汉工程线路。据此完成4~6题。



4. 引江补汉工程全程采用隧洞输水,主要是因为沿线
- A. 降水量少,蒸发量较大
B. 地质复杂,地貌多样
C. 施工难度小,水可自流
D. 人口众多,缺水严重
5. 引江补汉工程的实施,主要是为了
- A. 提升汉江航运价值
B. 缓解山东地区水资源紧张状况
C. 优化国家水网布局
D. 保障长江中下游经济持续发展
6. 引江补汉工程引水后,水源地
- A. 蓄水速率减缓
B. 水质变差
C. 运行水位抬高
D. 河床变宽

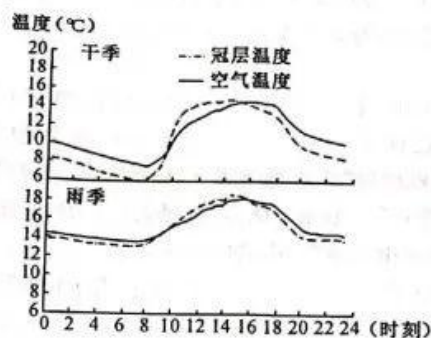
青藏高原是我国湖泊的主要分布区之一,湖泊总面积约占全国湖泊总面积的50%以上。青海湖是青藏高原面积最大的湖泊,该湖雨量偏少,雨热同季,湖周有大小河流70余条。下图示意20世纪70年代至2010年前后青藏高原地区湖泊面积动态变化。据此完成7~9题。



7. 青藏高原是我国湖泊的主要分布区之一,主要是因为该地区
- A. 冰川广布,地壳运动强烈
B. 受西南季风影响显著
C. 冻土退化,年均蒸发量小
D. 是大江大河的发源地
8. 20世纪70年代至2000年前后青海湖面积动态变化状况的形成,最可能是由于
- A. 大气降水锐减
B. 围湖造田面积大
C. 泥沙淤积严重
D. 入湖径流量减少
9. 与2000年前后至2010年前后青藏高原地区湖泊面积动态变化趋势成因的关联性最大的是
- A. 植被增多
B. 冰川退缩
C. 下渗减少
D. 蒸发增加

【考前押题·文综 第2页(共12页)】

冠层(林木枝叶的稠密顶层)温度是衡量植物体内水分变化的重要指标之一,受太阳辐射、风速等多个环境因子及植物体本身生理特征调节作用的共同影响。哀牢山源于云南境内西北部的云岭山系,是热带向亚热带发展的过渡地带,具有独特的气候环境。下图示意干季和雨季哀牢山森林冠层温度和空气温度日变化。据此完成10~11题。



10. 干季和雨季哀牢山森林冠层温度日变化幅度存在较大差异,其主要影响因素是
- A. 昼长时间
B. 风速大小
C. 水热组合
D. 光照强弱
11. 与空气相比较,哀牢山森林冠层的特点是
- ①温度变化速率大 ②温度变化速率小 ③比热容大 ④比热容小
- A. ①③
B. ①④
C. ②③
D. ②④
12. 2023年2月23日,国新办举行“权威部门话开局”系列主题新闻发布会介绍,党的十八大以来,我国中央企业先后完成27组49家战略性重组和专业化整合,国资委新组建、接收13家企业,监管中央企业数量从116家调整至98家。中央企业此举旨在
- ①完善所有制结构,实现各类资本的优势互补 ②优化国企布局,提高中央企业的核心竞争力 ③探索公有制实现形式,发展混合所有制经济 ④发展壮大国有经济,提高国有经济的控制力
- A. ①②
B. ①③
C. ②④
D. ③④
13. 数字经济是以数据资源为关键要素,以现代信息网络为载体,以信息通信技术融合应用、全要素数字化转型为重要推动力的新经济形态。党的二十大报告提出,加快发展数字经济,促进数字经济和实体经济深度融合,打造具有国际竞争力的数字产业集群。不考虑其他因素,落实二十大报告这一要求带来影响的传导过程是
- ①推动实体产业转型升级、提质增效 ②筑牢现代化经济体系的底座、根基 ③推进实体经济城乡、区域协调发展 ④扩大高新技术在实体经济中的应用 ⑤提升实体经济增长的全要素生产率
- A. ④→⑤→③→①
B. ④→⑤→①→②
C. ①→④→⑤→②
D. ④→③→①→②
14. 2023年3月28日,科技部召开赋予科研人员职务科技成果所有权或长期使用权试点工作推进会议,浙江作为改革试点先进省份作了经验交流介绍。近年来,浙江持续探索“赋权+创新创业”模式,将科技成果一定阶段的使用权赋予科研人员,日后收益分成由企业 with 科研人员协商约定。浙江模式的实施有利于
- ①缩小个人收入差距,促进共同富裕 ②营造大众创业、万众创新良好氛围 ③深化改革、提升科技成果转化效率 ④完善再分配机制,促进社会更公平
- A. ①②
B. ①④
C. ②③
D. ③④
15. 2023年2月24日,国家市场监督管理总局发布关于15批次食品抽检不合格情况的通告。责令有关部门查清不合格产品流向,督促企业采取下架召回不合格产品等措施控制产品风险,对违法违规行,依法从严处理。国家市场监督管理总局此举旨在

【考前押题·文综 第3页(共12页)】

- ... ①③
- B. ①④ C. ②③ D. ②④
16. 沿着“党建引领、居民自治”的思路,湘园社区推行居民“自提、自议、自决、自办、自管、自享”的“六自”居民自治工作法,强化辖区居民主人翁意识;设置意见箱、建立民声站等,打通普通群众发声渠道;协助辖区居民成立善治园理事会,鼓励居民既扫“门前雪”,又顾“瓦上霜”。“六自”居民自治工作法
- ①扩大了基层群众自治的范围 ②搭建了政民之间的互动平台 ③激发了社区居民的自治意愿 ④丰富了基层民主实践的形式
- A. ①② B. ①③ C. ②④ D. ③④
17. 为贯彻落实宪法规定和党的二十大精神,根据新时代党的重大理论创新成果,全国人大常委会在经过两次会议审议、广泛征求意见和多次修改完善的基础上,形成了《中华人民共和国立法法(修正草案)》,2023年3月13日,第十四届全国人大一次会议通过了关于修改《中华人民共和国立法法》的决定。可见
- ①中国共产党在立法过程中发挥主导作用 ②全民性是社会主义民主政治的本质属性 ③人民代表大会制度坚持民主集中制原则 ④中国共产党坚持依法执政有效治理国家
- A. ①② B. ①③ C. ②④ D. ③④
18. 2023年4月6日,中国外交部发言人就台湾地区领导人蔡英文“过境”窜美发表谈话时指出,美方不顾中方严正交涉和反复警示,执意允许蔡英文“过境”窜美,此举严重违反一个中国原则和中美三个联合公报规定,向“台独”分裂势力发出严重错误信号,中方对此坚决反对,强烈谴责。中方表示强烈谴责是基于以下事实
- ①美方违背国际义务,侵犯中国主权 ②中美两国立场不同,核心利益相悖 ③中美两国距离遥远,没有相互需求 ④美方以维护自身利益为外交出发点
- A. ①② B. ①④ C. ②③ D. ③④
19. 2023年4月5日,第17届中法文化之春正式启动,从4月到7月,超过65个文化项目将在中国二十多座城市展开,涵盖音乐、戏剧、电影、美术等多个领域,包括中法艺术家联合演出和展览,中法文化论坛、中法电影周以及中法青年交流等活动。开启中法文化之春的意义在于
- ①增强中法民众对彼此文化的认同 ②促进中法文化取长补短去除差异 ③推动中法文化在互融互鉴中共进 ④在中法文化交流中深化政治互信
- A. ①② B. ①③ C. ②④ D. ③④
20. 2023年3月23日,由文化和旅游部承办2023非遗品牌大会在广州市开幕。大会以“坚持守正创新,擦亮非遗品牌”为主题。非遗品牌展主要包括中国传统工艺品牌展、研培计划成果展、非遗工坊品牌展、“海丝·湾区·广作华章”展等板块,涵盖近150个中国非遗品牌。这一活动的举办旨在
- ①合理吸收一切外来文化的有益成果 ②展示对非遗创造性转化的工作成果 ③保障我国人民群众的基本文化权益 ④彰显博大精深的中华优秀传统文化
- A. ①② B. ①③ C. ②④ D. ③④
21. 2023年4月3日新华社报道,瑞士研究人员研制出一种微型燃料电池,能用血液中多余的葡萄糖(血糖)发电,便捷可靠地为植入式医疗器械供电,无须外部电源。目前这种电池在动物实验中已经取得成功,但要将该技术应用于人体,还有很长的路要走。这体现了
- ①燃料电池的问世是人类实践活动的产物 ②实践是检验电池发电技术的真理性标准 ③研发燃料电池发电技术具有主体差异性 ④燃料电池发电技术的发展前景是有限的
- A. ①② B. ①④ C. ②③ D. ③④
22. 2023年3月15日,习近平总书记在中国共产党与世界政党高层对话会上发表讲话时强调,现代化不能搞简单的千篇一律、“复制粘贴”。一个国家走向现代化,既要遵循现代化一般规律,更要立足本国国情,具有本国特色。什么样的现代化最适合自己的,本国人民最有发言权。总书记的讲话

【考前押题·文综 第4页(共12页)】

①坚持了矛盾普遍性和特殊性相互联结 ②看到了主要矛盾在事物发展中的作用 ③分清事物发展过程中的主流与支流 ④肯定了人民群众的社会历史主体地位

A. ①②

B. ①④

C. ②③

D. ③④

23. 右面漫画给我们的哲学启示是

①辩证否定观的实质是“扬弃”

②创新需要破除落后的思维惯性

③在砥砺自我中创造和实现价值

④个人价值和社会价值是统一的

A. ①②

B. ①③

C. ②④

D. ③④

自我塑造，过程很疼
但你最终能收获一个更好的自己



来源：高三管家

24. 《尚书》中称君主、诸侯、公卿大夫为君子；《诗经》中，除了具有德行的统治者称君子外，女性的丈夫也称为君子；而《论语》中，孔子称有德行的人都是君子。君子内涵的演变

A. 加速了王权与族权的分离

B. 体现了社会阶层的流动和转变

C. 适应了大变革的政治需求

D. 折射出西周礼乐制度走向瓦解

25. 有学者在谈及魏晋政治时指出：“如果让皇权在官僚政治与士族政治之间做一个选择的话，那么皇权将倾向于前者而不是后者。皇权固然必须给予官僚相当特权以换取其合作，但并不情愿让其分割其权势。”该学者意在说明

A. 皇权与士族特权间互相制衡

B. 选官制度变革有一定必然性

C. 分权体制削弱了政府统治力

D. 官僚政治开始取代贵族政治

26. 司马光在《投壶新格》中指出：“荡而无度，将以自败，故圣人制礼以为之节。因以合朋友之和，饰宾主之欢，且寓其教焉。”而王阳明则认为，“君子之于射，内志正……故古者射以观德”。这折射出宋明时期

A. 儒家观念融入社会生活

B. 经世致用的价值取向

C. 全民健身得到政府推崇

D. 崇文抑武的社会风气

27. 下表是清代前中期财政的统计情况(局部)。其反映出这一时期

年份	收入银数 (万两)	收入粮数 (万石)	米价 (两/石)	货币收入所占份额 (%)
1652	2 438	562	1.15	79.05
1682	3 110	634	0.59	89.26
1766	4 937	831	1.48	80.06
1812	4 013	810	2.10	70.23
鸦片战争前夕	4 850	800	2.16	73.73

A. 商品经济冲击农业生产

B. 赋役货币化导致白银贬值

C. 赋税的货币化趋势明显

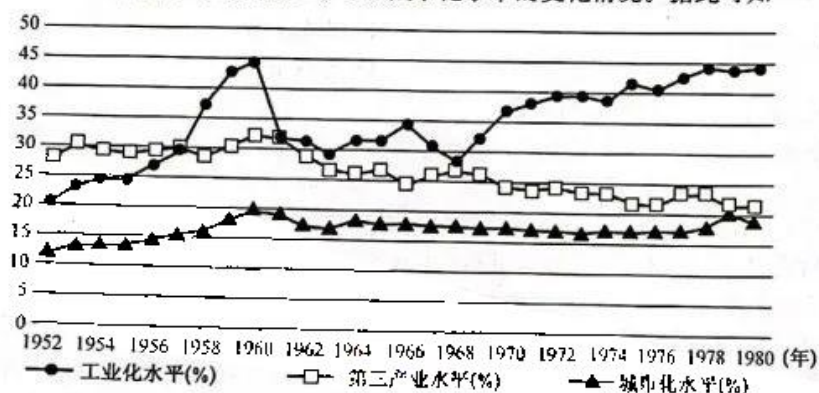
D. 商业税成为政府主要税源

28. 下表是 1871~1881 年中国第一批留美幼童归国后的职业分布情况。其对近代中国的深远影响是

职务	人数	职务	人数	职务	人数	职务	人数
国务总理	1人	工矿产业	7人	兵器工人	2人	报业	1人
外交官员	11人	海关	1人	侍郎	1人	律师	1人
铁路局长	6人	大学校长	2人	教师	1人	公使	2人
电报官员	6人	铁路官员	14人	电报局长	4人		
海军军医	3人	海军军官	8人	转入商界	8人		

【考前押题·文综 第5页(共12页)】

- A. 推动了资本主义初步发展
B. 为近代政治变革奠定基础
C. 使学习西方观念发生改变
D. 孕育了社会变革的新力量
29. 1926年3月,毛泽东指出:“贫农和其他半无产阶级,中农和其他小资产阶级,是我们最接近的朋友,是无产阶级伟大可靠的同盟军”。而秋收起义能够首先从行动上正确解决建立农村革命根据地,迅速实现工作重心转移的战略问题,这与党的八七会议和毛泽东对当时中国农民问题的深刻认识是密切相关的。这说明当时
- A. 中国革命摆脱了苏联道路的束缚
B. 党的工作重心转移逐步得以实现
C. 农民政治主体地位得到广泛认可
D. 国民革命使广大群众受到了洗礼
30. 1943年10月,中共中央要求根据地“在自愿原则下,以运输队、互助社、合作社等形式,把一切全劳动力和半劳动力组织起来从事生产”。毛泽东认为“这是人民群众得到解放的必由之路,由穷苦变富裕的必由之路,也是抗战胜利的必由之路”。中共中央这一指示
- A. 旨在激发民众互助合作的热情
B. 扩大了抗日民族统一战线
C. 顺应了民族战争新形势的需要
D. 指导了解放区的土地改革
31. 下图为1952~1980年中国工业化、第三产业、城市化水平的变化情况。据此可知



- A. 我国城乡经济体制改革势在必行
B. 八字方针使经济建设持续走高
C. 发展计划经济是历史的必然选择
D. 城市化最高时工农业发展平衡
32. 伯里克利时期,对除将军外参与公务活动的人实行公职津贴制,对作战的士兵和水手实行给薪制,发展付酬的市政工程,吸引失业者、闲散人员参加建设,还实行观剧津贴制度,鼓励公民观剧接受教育。伯里克利的这些举措
- A. 提高了贫困公民的参政素养
B. 推动了雅典城邦的经济发展
C. 扩大了自由公民的来源范围
D. 利于增强民主政治的生命力
33. 英国启蒙运动中“自由”主要是针对不允许政府随意征税及买卖不受政府太多干扰的“自由”;法国启蒙思想中“自由”主题则是“政治自由何以可能”;德国启蒙思想中“自由”蕴含“理性自由”,追问“什么是启蒙”。英、法、德三国启蒙运动中“自由”内涵的不同缘于其
- A. 资产阶级力量的大小
B. 工业革命发展的程度
C. 资本主义发展的阻力
D. 传统文化理念的追求
34. 1922年10月11日,苏俄政府颁布法令,授权国家银行发行切尔文券。切尔文券是通过对工业和商业的短期贷款(由票据和商品作为担保)方式发行的。1924年,外国记者惊讶地发现莫斯科“几乎没有追求美元的现象,美元的供给似乎比需求更大,现在美元也不得不屈服于本土的切尔文”。据此可知,苏俄政府发行切尔文券
- A. 体现出对社会经济发展的新认识
B. 为制定粮食税政策奠定了理论基础
C. 是马克思主义俄国化开始的标志
D. 旨在极力消除西方经济危机的影响

【考前押题·文综 第6页(共12页)】

35. 1963年8月,美、英、苏三国签署《部分禁止核试验条约》,中、法两国都没有在条约上签字。1964年,法国率先与中国建交。1967年,欧共体成立。由此可知,当时

- A. 美国霸权地位开始动摇
- B. 美苏两极格局遭受冲击
- C. 苏联解体成为历史必然
- D. 冷战初步向深层次发展

二、非选择题:共160分。第36~42题为必考题,每个试题考生都必须作答。第43~47题为选考题,考生根据要求作答。

(一)必考题:共135分。

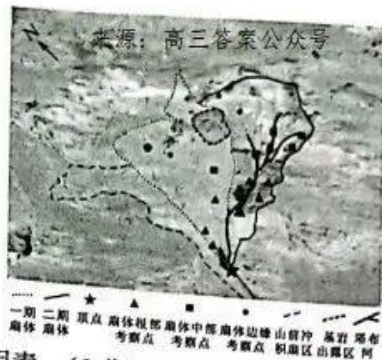
36. 阅读图文材料,完成下列要求。(22分)

乍得共和国(简称乍得)位于非洲中部,国土面积128.4万 km^2 ,人口1640万(2020年),全国共有256个民族,首都恩贾梅纳与最邻近的海港相距1600km。乍得经济落后,经济严重依赖石油资源,自2003年成为产油国以来,其百分之八十的出口和百分之六十的公共财政依靠石油收入。近年来,乍得大力发展制造业,计划到2030年将制造业产值占国内生产总值的比重增至16%。下图示意乍得地理位置。



- (1) 简析乍得经济落后的主要原因。(6分)
- (2) 分析乍得经济严重依赖石油资源的原因。(4分)
- (3) 简述乍得大力发展制造业的主要目的。(6分)
- (4) 请你为乍得提高制造业产值提出可行性建议。(6分)

河流扇,是一种发育在山口或平原地带,内部以河流沉积作用为主,在地质时间尺度上形成沿上游顶点向下游区域发散的扇状沉积体,是在没有水平约束的情况下河流频繁改道形成的。我国西部是世界上河流扇发育的主要地区,内蒙古中部地区曾观测到巨型河流扇。下图示意内蒙古中部塔布河现代河流扇扇体全貌,风成沉积在河流扇扇体各部位均有发育,但存在差异,且扇体边缘风积层规模迅速扩大。



- (1) 指出影响河流扇发育的主要因素。(6分)
- (2) 我国西部是世界上河流扇发育的主要地区,对此做出合理解释。(6分)
- (3) 比较塔布河现代河流扇扇体根部、扇体中部及扇体边缘的沉积物粒径大小,并分析原因。(8分)
- (4) 推测塔布河现代河流扇扇体边缘风积层规模迅速扩大的原因。(4分)

38. 阅读材料,完成下列要求。(14分)

党的二十大报告指出,高质量发展是全面建设社会主义现代化国家的首要任务。2023年2月,习近平总书记在学习贯彻党的二十大精神研讨班开班式上再次强调,全面深化改革开放,推动高质量发展。高质量发展拓宽中国式现代化之路。中国式现代化是物质文明和精神文明相协调的现代化,是人与自然和谐共生的现代化。高质量发展不仅关注经济增长,而且关注环境保护、民生保障、社会建设等领域,高质量发展为中国式现代化的目标实现提供了可选择的途径。当前,我国在高质量发展中仍存在科技创新能力不强、现代产业结构不优、区域发展不平衡不充分等问题,破解这些问题的关键依然是高质量发展。

结合材料,运用经济生活知识,说明我国应如何以高质量发展拓宽中国式现代化之路。

39. 阅读材料,完成下列要求。(12分)

2023年4月,公安部铁路公安局部署各级铁路公安机关开展为期6个月的“三项治理”专项行动,集中打击整治站车霸座、猥亵、强讨等违法犯罪。公安部铁路公安局要求各级铁路公安机关不断提升依法治理意识,严格规范执法行为,提升站车防范水平,实现治理效果、社会效果、法律效果的统一。广大铁路公安民警要围绕“反霸座、防猥亵、拒强讨”开展广泛宣传,提示广大旅客群众文明出行,增强自我安全防范意识,自觉抵制霸座、强讨行为,防范猥亵违法犯罪,共同维护良好的乘车环境。

结合材料,运用政治生活知识,说明公安机关开展上述系列活动的积极意义。

40. 阅读材料,完成下列要求。(26分)

2023年是毛泽东等老一辈革命家为雷锋同志题词60周年。新时代新征程把雷锋精神代代传承下去,对推动中华民族伟大复兴具有重要意义和深远价值。

2023年2月,习近平总书记对深入开展学雷锋活动作出重要指示指出,“60年来,学雷锋活动在全国持续深入开展,雷锋的名字家喻户晓,雷锋的事迹深入人心,雷锋精神滋养着一代代中华儿女的心灵。实践证明,无论时代如何变迁,雷锋精神永不过时。”

针对一些地方学雷锋活动流于形式等问题,2023年3月3日,教育部印发了《教育系统关于新时代学习弘扬雷锋精神 深入开展学雷锋活动的实施方案》的通知,要求各地教育部门要将学雷锋活动始终当作一项常规工作来抓,充分结合学生特点和成长规律,丰富拓展学雷锋活动的方式方法,推动形成齐抓共管的长效机制,使学雷锋活动常态化长效化。

(1)结合材料,运用文化生活知识,说明开展学雷锋活动对推动中华民族伟大复兴的意义。(10分)

(2)结合材料,运用辩证唯物论的知识,说明各地教育部门应如何避免学雷锋活动流于形式。(12分)

(3)某校组织学雷锋活动,请你写出两种活动方式以及各自对应的主题。(4分)

41. 阅读材料,完成下列要求。(25分)

材料一

“工匠”一词出现于春秋战国时期。《逸周书·文传解》中记载:“山林以遂其材,工匠以为其器”。东汉的《说文解字》中解释为“工者,巧饬也。百工皆称工、称匠。”《管子·立政》说道:“工事竞于刻镂,女事繁于文章,国之贫也……工事无刻镂,女事无文章,国之富也。”《考工记》中记录了大量有关器物制造的标准尺寸和技术要求,书中从零件制造、工艺应用、材料选择、规格要求以及成品检验等环节都进行了详尽叙述……被封建统治者、士大夫、官吏文人所鄙视的科学技术终究要发展,但是只能在农业、手工业生产实践的基础上,依靠匠人经验的缓慢积累而自发地发展。崇德尚贤、德艺兼修也成为中国古代工匠砥砺技艺、修身养性的专业职责与精神追求。

——摘编自赵薇《中国古代工匠精神特点及其价值追求》

【考前押题·文综 第9页(共12页)】

材料二

19世纪30年代,德国最初在制造业上采取偷师、模仿英法制造业的方式,假冒伪劣现象严重。1887年,英国在修改《商标法》条款时,带有侮辱性地规定,所有德国进口商品必须标明“德国制造”。19世纪90年代开始,德国在深刻反思的情况下开始学习美国,大力促进应用科学研究。德国工匠勤奋、严谨、有序、热情的工作态度无不体现着宗教追求,充满着理性精神的德国哲学渗透着德意志民族内向、深沉和善于思辨的民族品格。从1907年德国建立第一个旨在主张标准化和批量化生产设计组织——德意志制造联盟起,截至目前德国已经基本建立起了涵盖主要行业与产业的标准起草组织。一战后,德国相继出台了《反对限制竞争法》《企业基本法》等一系列法律法规,用以规范企业的治理结构和能力,并适时进行修订。德国著名的伍尔特集团,自1945年成立以来,始终如一地生产“螺丝”这一单一产品,其产品在很多领域是不可替代的。德国鼓励技术工人移民,在德国工作的技术“工匠”,享受永久居留权。德国“工匠”培育的最主要渠道是职业教育,有近80%的年轻人接受不同形式的职业教育,而且职业教育几乎覆盖所有职业。在工匠精神的影响下,德国在机械、钢铁、电气、化工等领域打下深厚根基,“德国制造”声名显赫。

——摘编自徐春辉《德国“工匠精神”的发展进程、基本特征与原因追溯》

- (1)根据材料一并结合所学知识,指出古代中国工匠精神产生及发展的特点。(6分)
- (2)根据材料二并结合所学知识,概括近代德国工匠精神形成的原因,并分析其影响。(12分)
- (3)根据材料一、二并结合所学知识,归纳古代中国和近代德国工匠精神的共同价值追求。(7分)

42. 阅读材料,完成下列要求。(12分)

材料

研究中国的现代化转型过程,往往脱离不了西方现代政治发展要求和中國政治发展传统的逻辑这两种基本语境。然而,当我们在追究“中国问题”的根源,试图了解其发展脉络,描绘它未来的发展图景时,却也往往流连于对理想模式的关注,而忘记了中國最基本的政治需要,即处于竞争国际环境中对生存、发展的渴望。对中国来说,无论我们是尝试理解中國政治转型过程中古代政治文明与现代政治实践的困难与努力,或是力图解析中國国家与社会关系所形成的政治结构,从而力图找到中國政治发展的价值、制度与组织安排等逻辑,我们始终要记住一点,就是理解中國政治的需求:在今天,它表现为革命、民主与国家现代化建设,但在昨天它却表现为其他问题,在未来,它还将不断给我们带来新的问题。因此,政治重心始终在变化,我们要做的就是找准这个重心,并由此满足中國政治发展的需要,即推动政治转型,提供更多的合法性、体制与秩序。

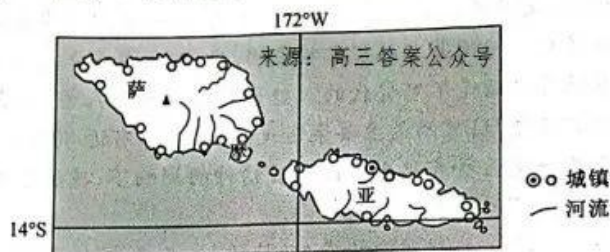
——摘编自王安华《略论中国近现代政治转型的现实逻辑》

根据材料并结合所学知识,围绕“近代中國政治转型”自拟一个论题,并加以论述。(要求:观点明确,论述充分;史论结合,逻辑清晰。)

(二)选考题:共 25 分。请考生从 2 道地理题、3 道历史题中每科任选一题作答。如果多做,则每科按所做的第一题计分。

43. [地理——选修 3:旅游地理](10 分)

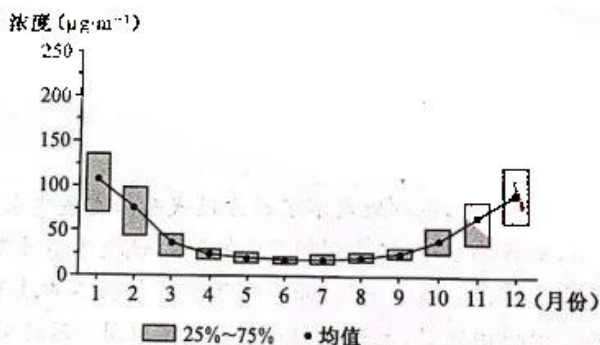
萨摩亚独立国(简称萨摩亚,如下图所示),位于太平洋南部,由两个主岛和八个小岛组成,全年温暖宜人,自然旅游资源和人文旅游资源丰富,境内陆路交通全部依赖公路。萨摩亚政府十分重视发展旅游产业,目前旅游业已成为该国重要的支柱产业之一。但与周围岛国(特别是斐济、帕劳和巴布亚新几内亚等)相比,萨摩亚旅游产业没有形成强大的市场竞争力。



推测萨摩亚旅游产业没有形成强大的市场竞争力的原因。

44. [地理——选修 6:环境保护](10 分)

伊宁市位于新疆西北部,天山支脉科古尔琴山南麓、伊犁河谷地的中部。伊宁市依托伊犁河谷优势资源,重点发展煤电煤化工、机械制造业等产业,经济实力不断增强。近十年来,伊宁市 $PM_{2.5}$ 污染天数呈上升趋势, $PM_{2.5}$ 污染日趋凸显,空气质量呈恶化态势。下图示意 2016~2020 年伊宁市 $PM_{2.5}$ 月均浓度分布。



分析 2016~2020 年伊宁市 $PM_{2.5}$ 月均浓度分布状况的成因,并为改善该市空气质量献计献策。

45. [历史——选修 1:历史上重大改革回眸](15 分)

材料

明治政府在《学制令》颁布后,进行教育改革,建立了覆盖全国的教育系统,摒弃了“四书”“五经”,以“实学”为基本教育内容。同时,迅速建立起了近代教育体制,依托精英云集的大学,产生了以本国人为研究为主体的“日本科学”。1871 年 10 月,明治政府命大臣兼外务卿岩仓具式为全权大使出访欧美诸国。政府重金聘请外国科技人才作为国内大学教师和工业技术人员。日本政府通过财政开支来引进先进工业设备和技术,并将产业技术向民间推广。明治天皇发布诏书,督促并鼓励华族带头赴美留学,要求他们学习西方的文物制度、工艺百科。为了鼓励留学,文部省于 1873 年制定了《贷款留学

【考前押题·文综 第11页(共 12 页)】

生规则》，并进行严格考试。黑船事件后，幕府末期一批重工业工厂、海军造船厂等近代军工厂相继建立，这些军工厂配备了来自西方的制造装备。受西方的殖民威胁，为了快速实现“富国强兵”以与“万国对峙”，日本的科技引进政策向军事技术倾斜，产业技术有着强烈的军事色彩。

——摘编自安可《日本明治维新时期科技政策改革及影响》

(1)根据材料并结合所学知识，概括明治维新时期科技政策改革的特点。(9分)

(2)根据材料并结合所学知识，简析明治维新时期科技政策改革的影响。(6分)

46. [历史——选修3:20世纪的战争与和平](15分)

材料

一战爆发后，英国政府就设立了一个对美宣传机构——美国信息部，由该机构领导在美国的宣传工作，影响美国的社会舆论倾向。在对抗德国的宣传中，英国建立了一个对敌宣传司，向德国发动了一场声势浩大的传单心理战。一战期间，英国采取各种外交手段，积极同其他国家进行交涉。由于其强大的经济、政治、军事影响力，外交活动取得了巨大的成果。英国采取了包括传单、小册子、书籍、报纸、宣传画、漫画、电影等在内的宣传形式。报纸是英国进行战争宣传的主要渠道，随着英国宣传的全面展开，大大带动了报纸的销售量。1921年，英国成立了“不再战运动”，宣传“一切战争都是错误的”，坚持绝对的和平主义，其出版的刊物《不再战》达到了1.5万份。英国的宣传机构一般选择与一些杰出的商人进行合作，通过商人的商业活动将这些宣传材料散发到世界各地。与德国在中立国家开展的野蛮行径不同，英国在中立国家中的战争宣传，尤其是对美国的宣传中，是一种自由名义的、不易察觉、隐蔽性的宣传。

——摘编自信游《第一次世界大战中英国战争宣传探究》

(1)根据材料并结合所学知识，分析英国在第一次世界大战中进行战争宣传的有利条件。(6分)

(2)根据材料并结合所学知识，指出英国在第一次世界大战中进行战争宣传的特点及影响。(9分)

47. [历史——选修4:中外历史人物评说](15分)

材料

孙冶方(1908~1983年)在担任国家统计局副局长期间多次深入农村、工厂调研，发现了大量现实经济问题，并开始从理论上反思计划经济体制的弊端。当时源自苏联的传统社会主义理论在我国理论界占据了主流地位，它排斥价值和价值规律，将社会主义经济看作是不存在流通、自给自足的自然经济。自然经济论导致的必然结果是不按经济规律办事，不讲经济效果，扼杀企业的积极性。孙冶方从20世纪50年代中期开始写了《把计划和统计放在价值规律的基础上》《从总产值谈起》《论价值》等著名论文，以巨大的勇气对传统理论提出了挑战。与此同时，他以其价值理论、流通理论和生产价格理论为基础，提出了一系列改革观点，其中最主要的是抓利润指标、扩大企业自主权与改革固定资产管理制度、把计划和统计建立在价值规律基础上的观点。他重视研究农业问题，研究工农产品交换问题。孙冶方在学术讨论中，平等待人，虚怀若谷，热情欢迎来自各方面的批评和商榷意见，公开检讨并放弃那些被实践证明是错误的或自己认为应该补正的学术观点。经过多年的探索，他最终形成了包括生产、流通、总过程和消费的理论结构，这一结构影响深远，直到今天仍被许多社会主义经济理论教科书所采纳。来源：高三答案公众号

——摘编自王立胜等《孙冶方的学术遗产及其时代价值——纪念孙冶方诞辰110周年》

(1)根据材料并结合所学知识，概括孙冶方在经济理论方面的主要贡献。(9分)

(2)根据材料并结合所学知识，简要说明孙冶方精神的主要内涵。(6分)

【考前押题·文综 第12页(共12页)】

高三文科综合参考答案、提示及评分细则

1. A 读图可知,2010~2020年我国农林牧渔业总产值有较快增长,畜牧业产值占比波动变化,且2020年占比与2010年占比相差不大,据此估算可知,我国畜牧业产值在此期间波动增长。
2. D 图中显示2011年我国畜牧业产值占农林牧渔业总产值的34%左右,且农林牧渔业总产值较2010年增长幅度大,最可能是当年国家实施了扶持畜牧业发展的优惠政策,使得畜牧业呈现快速发展的势头。
3. C 结合所学知识分析可知,划区轮牧可以维护草场生态稳定,提高固碳能力,有利于为牲畜提供优质牧草,减少精料使用,减少牲畜(肠胃发酵)产生的碳排放,①正确;小户散养模式不利于集中处理牲畜粪便,②错误;利用畜禽粪便生产沼气或有机肥,提高其资源化利用率,既减少了畜禽粪便的碳排放,也减少了化肥使用,③正确;我国对肉奶蛋的需求量日益增加,故不能缩减我国的畜禽养殖规模,④错误。
4. B 结合所学知识分析可知,引江补汉工程线路区处于我国地势第二阶梯东缘向第三阶梯的过渡地带,地质复杂,地貌多样,全程采用隧洞输水,有利于缩短输水线路,实现全程自流供水。
5. C 据图并结合所学知识分析可知,引江补汉工程建成后,将连通三峡水库和丹江口水库两大战略水源地,增加南水北调中线供水能力,提高中线工程稳定供水能力,连通长江流域、汉江流域与华北地区,优化国家水网布局,加快构建国家水网主骨架和大动脉,同时对于保障中线受水区(华北地区)、汉江中下游经济社会持续健康发展和生态环境修复具有重要意义。
6. A 引江补汉工程的水源地是三峡库区,该工程引水会对三峡水库水位和下泄流量产生一定影响,部分时段三峡水库因调水而降低运行水位,使得水库蓄水速率减缓,消落速率加快。引江补汉工程引水后,对三峡主库区水质基本无影响。
7. A 分析可知,地质历史时期青藏高原地壳活动强烈,地表断裂形成沟谷及洼地,加之该高原冰川广布,冰川侵蚀形成大量洼地,利于众多湖盆形成,冰川和冻土的消融为湖盆提供了充足的水源,导致该高原湖泊众多,成为我国湖泊的主要分布区之一。
8. D 据材料“该湖雨量偏少,酷热回季,湖周有大小河流70余条”,可知青海湖以河流补给为主,20世纪70年代至2000年前后青海湖面积萎缩,最可能是由于入湖径流量减少,导致该湖面积减小。
9. B 据图分析可知,2000年前后至2010年前后青藏高原地区湖泊面积整体呈扩张趋势,主要是因为受全球气候变暖影响,青藏高原气温呈升高趋势,冰川消融退缩,冻土退化,冰雪融水增多,降雨量增加,湖泊水量增加,导致湖泊面积整体呈扩张趋势。
10. C 据图分析可知,雨季哀牢山森林冠层温度日变化幅度较干季平缓,主要是因为雨季哀牢山水热组合条件较好,森林生长状况好,叶面积较大,使得雨季冠层温度日变化幅度较干季平缓。
11. B 据图可知,与空气相比,哀牢山冠层温度变化的幅度和速率均较大,由此可进一步推断冠层的比热容较小。
12. C 中央企业战略性重组和专业化整合,旨在促进国有经济竞争力、创新力、控制力、影响力和抗风险能力增强,②④符合题意;中央企业战略性重组和专业化整合不是为了完善所有制结构,也不涉及其他所有制经济,①③不选。
13. B 加快发展数字经济,促进数字经济和实体经济深度融合,打造具有国际竞争力的数字产业集群,可以扩大高新技术在实体经济中的应用,提升实体经济生产率,推动产业转型升级,提质增效,筑牢现代化经济体系的根基,正确的传导顺序是:④→⑤→①→②,B符合题意,C不选;数字经济和实体经济深度融合,不能实现城乡区域协调发展,排除③,A、D不选。
14. C “赋权+创新创业”模式,有利于提升科研人员创新创业和成果转化积极性,营造大众创业、万众创新良好氛围,提升了科技成果转化效率,②③符合题意;“赋权+创新创业”模式有利于增加科研人员的收入,可能会扩大收入差距,①不选;这一模式没有涉及再分配,④不选。
15. A 市场监督管理局抽检食品质量,处理食品违法违规行,是履行经济职能,为了弥补市场缺陷,优化营商环境,促进公平竞争,①③符合题意;市场监督管理局抽检食品质量,不是宏观调控的经济手段,②不选;④中“淡化市场作用”的说法错误,与构建有效市场说法矛盾,不选。
16. D “六自”居民自治工作法强化辖区居民主人翁意识,打通普通群众发声渠道,有利于激发居民自治的积极性,丰富基层民主实践的形式,③④符合题意;基层群众自治的范围是法定的,“六自”居民自治工作法不会扩大基层群众自治的范围,①不选;“六自”居民自治工作法没有涉及政府,材料中“政民互动”没有体现,②不选。
17. D 修改立法法的决定,贯彻落实了宪法规定和党的二十大精神,根据新时代党的重大理论创新成果,在广泛征求意见的基础上,经人大表决通过,体现了人民代表大会制度坚持民主集中制原则和党坚持依法执政,③④符合题意;在我国,人大主导立法,①不选;全过程人民民主是社会主义民主政治的本质属性,②不选。
18. A 美方不顾中方严正交涉和反复警示,执意允许台湾地区领导人蔡英文“过境”窜美,侵犯了中国主权和领土完整,侵犯了中国的国家利益,①②符合题意;中美两国之间有共同的利益需求,③中“没有相互需求”不符合实际,不选;④与中方的表态不构成因果关系,不选。

【考前押题·文综参考答案 第1页(共4页)】

19. D 开展中法文化之春活动,让中法文化项目在中国二十多座城市展出,有利于促进中法文化交流互鉴,共同发展,有利于通过文化交流增进中法政治互信,③④符合题意;文化认同是针对本民族文化而言的,①不选;②中“去除差异”的说法违背了文化的多样性,不选。
20. C 2023 非遗品牌大会包括多个板块,涵盖 100 多个中国非遗品牌,有利于展示非遗创造性转化、创新性发展的工作成果,彰显中华优秀传统文化的博大精深,②④符合题意;2023 非遗品牌大会展示的是中国的非物质文化遗产,不涉及外来文化,①不选;举办这一活动的主旨与保障人民群众基本文化权益无关,③不选。
21. A 瑞士研究人员研制出微型燃料电池,体现了①;目前这种电池在动物实验中已经取得成功,该技术是否能够应用于人体要经过实践的检验,②符合题意;③中“主体差异性”在材料中没有体现,不选;④中“发展有限”违背了认识的无限性,不选。
22. B 一个国家走向现代化,既要遵循现代化一般规律,更要立足本国国情,具有本国特色,体现了矛盾的普遍性和特殊性是相互联结的,①符合题意;什么样的现代化最适合自己的,本国人民最有发言权,肯定了人民群众的历史主体地位,④符合题意;主要矛盾在事物发展中的作用、矛盾的主次方面在总书记的讲话中没有体现,②③不选。
23. B 漫画中的人通过雕刻,不断塑造更好的自己,体现了事物发展过程中肯定和否定的双重性,也启示我们要在砥砺自我中创造和实现价值,①③符合题意;落后的思维惯性、个人价值与社会价值的关系在材料中没有体现,②④不选。
24. D 考查先秦政治、思想。根据材料并结合所学知识可知,春秋时期,周天子与诸侯间因血缘而生的自然之情日渐消失,爵禄之位成为诸侯失德而争利的主要诱因。在这样的时代背景下,孔子对周代以来的礼乐文明产生了怀疑。孔子淡化了君子概念中“位”的爵禄之意,转而寻求精神修养的内涵——“德”。由此可见,先秦君子内涵的演变实际上折射出礼乐制度走向瓦解,故 D 项正确。王权与族权的分离在材料中没有体现,故排除 A 项;B 项表述不符合史实,故排除;儒家的君子文化在战乱频仍的春秋战国时期,无法适应社会政治需要,故排除 C 项。
25. B 考查门阀政治与选官制度的变革。根据材料“如果让皇权在官僚政治与士族政治之间做一个选择的话,那么皇权将倾向于前者而不是后者”并结合所学知识可知,魏晋时期门阀士族凭借九品中正制把持选官特权,垄断政治权力,不利于加强皇权,亦动了选官制度的变革,即后来科举制的出现,故 B 项正确。材料未体现出皇权对士族的制约,故排除 A 项;门阀政治介于中央集权与分权制之间,世家大族垄断特权、轮流坐庄,故排除 C 项;郡县制的确立标志着官僚政治取代贵族政治,故排除 D 项。
26. A 考查儒学对中国古代社会生活的影响。根据材料可知,司马光强调投壶运动的目的是为了使这项运动更好地为封建礼教服务,寓礼教于投壶之中才是他的本意,他把投壶看成是圣人教化人们行中正、中和之道的一项措施;而王阳明继承了儒家的体育思想,强调射箭可以观德,寓德育教化于体育之中,故 A 项正确。材料体现了儒家观念融入社会生活的现象,经世致用价值取向在材料中没有体现,故排除 B 项;材料仅是宋明时期部分思想家的主张,不能代表政府,故排除 C 项;投壶是一种娱乐活动,射箭是一项体育运动,据此并不能体现出崇文抑武的社会风气,故排除 D 项。
27. C 考查清朝经济。材料中反映了顺治、康熙、乾隆、嘉庆、道光年间的各一个代表性年份财政收入的货币化程度。政府的财政货币化不仅反映了社会经济的货币化进程,而且政府的财政行为对社会经济的影响也在日益增强,结合清前中期史实可知,这一时期赋税的货币化趋势增强,故 C 项正确。A 项与材料主旨不符,故排除;材料没有显示白银购买力的变化情况,故无法得出白银贬值这一结论,且明朝至清朝前期,导致白银贬值的主要原因是白银数量的增加,即贸易出超导致的白银大量流入,而这在材料中没有体现,故排除 B 项;D 项在材料中没有体现,故排除。
28. D 考查中国近代留学教育及其影响。从表格中可看出,第一批留美幼童归国从事的职业有行政、经济、教育、军事、外交等,这些职业的发展有利于推动中国向近代社会转型,近代留学教育孕育了革新社会的新力量,故 D 项正确。从第一批留学人员职业看从事商业的人是极少数的,资本主义初步发展是在甲午战争之后,故排除 A 项;近代第一次资产阶级政治变革是维新运动,其经济、思想、政治力量奠基主要得益于甲午战争后民族资本主义初步发展,故排除 B 项;甲午战后,学习西方从科技领域转向政治层面,新文化运动转向文化观念层面,均与材料中的职业无直接关联,故排除 C 项。
29. B 考查国共十年对峙。根据材料并结合所学知识可知,早在国民革命时期,毛泽东同志就多次阐述农民问题的重要性。党的八七会议关于领导农民实行土地革命的决定,对秋收起义后迅速实现工作重心的转变也有重大的影响。这说明当时党的工作重心的第一次转移是在充分认识中国农民问题的重要性的基础上逐步实现的,故 B 项正确。当时中国革命尚未彻底摆脱苏联道路的束缚,故排除 A 项;材料没有涉及农民的政治主体地位,故排除 C 项;材料主要涉及中共工农武装割据道路的探索过程,D 项所述不符合材料主旨,故排除。
30. C 考查抗日战争。材料核心信息是 1943 年根据地组织劳动力进行大生产运动,毛泽东对此做出高度评价,结合所学可知,大生产运动是应对根据地经济困难、坚持抗战的一种措施,适应了抗战新形势的需要,故 C 项正确。材料显示互助合作等组织形式发生在抗日根据地大生产运动中,其主要目的不是激发各阶层民众互助合作热情,而是应对根据地经济困难的措施,故排除 A 项;大生产运动是根据地保障经济的措施,故排除 B 项;1943 年动员根据地人民的大生产运动,不涉及土地改革问题,且解放区土地改革开始于 1947 年,故排除 D 项。
31. A 考查现代中国经济。根据材料可知,1976~1980 年,城市化水平有所提升,但是工业化发展水平与城市化水平、第三产业水平之间差距很大,存在较尖锐的矛盾,工业化需要的市场、原料、劳动力等得不到满足,故农村和城市经济体制改革成为解决工业化需求的重要手段,故 A 项正确。八字方针是 1960~1962 年间,以调整二农业发展比例为中心,

- 当时城市化、工业化水平迅速回落,故排除 B 项;计划经济建立的必然性在材料中没有体现,故排除 C 项;材料中城市化水平最高时处于“大跃进”时期,当时优先发展重工业,工农业发展不平衡,故排除 D 项。
32. D 考查雅典民主政治。材料中伯里克利对参与公务的人、士兵、水手、失业者、闲散人员等雅典公民进行资助,实质上是维护公民群体内部贵族和平民力量的平衡,这利于增强民主政治的生命力,故 D 项正确。参政素养与教育有关,不是发放公务津贴等能够促成的,故排除 A 项;材料未涉及经济发展状况,且市政工程修建不等于城邦经济发展,故排除 B 项;材料中的士兵、水手、失业者、闲散人员都是城邦公民,且在古代雅典公民群体是特定的,故排除 C 项。
33. C 考查启蒙运动。英国在资产阶级革命时期产生的启蒙运动,主要是解决资产阶级和新贵族的利益不受王权侵害问题,故英国“自由”以追求资产阶级经济自由为主;法国资产阶级思考的是如何战胜王权和教权实现政治平等,故法国追求的“自由”是反对王权专制和教会特权,即通过资产阶级革命,实现“政治自由”以维护资产阶级利益;德意志诸侯割据引发了对国家统一的强烈愿望与追求,反映在思想领域就是德意志思想家追求国家统一的“理性自由”。因此英、法、德资本主义发展的阻力不同,决定资产阶级革命的任务不同,启蒙思想中的“自由”侧重点也就不同,故 C 项正确。资产阶级力量的大小与资本主义经济的发展程度有关,不能决定启蒙思想的发展程度,故排除 A 项;启蒙运动发端于 17 世纪的英国,发展于 18 世纪的法国,接续于 18 世纪末 19 世纪初的德国,当时三国都没有发生工业革命,故排除 B 项;启蒙思想作为推动各国资产阶级革命的一种思潮,其思想内涵侧重不同主要与现实社会政治环境和斗争需要有关,各国历史文化传统不是决定性力量,故排除 D 项。
34. A 考查苏俄新经济政策及其影响。根据材料并结合所学知识可知,十月革命后,苏维埃政府推行战时共产主义政策,战时共产主义政策排斥货币、市场和价值规律,这导致粮食紧张、生活用品奇缺,激化了供求矛盾,使原本没有得到有效缓解的通货膨胀更加严重。面对这种困境,列宁转变了过去的认识,形成了利用商品货币关系进行社会主义建设而实施货币改革的构想,故 A 项正确。1921 年 3 月,粮食税政策已经实行,排除 B 项;十月革命已经是马克思主义俄国化的产物,排除 C 项;此时西方经济危机尚未爆发,故排除 D 项。
35. B 考查二战后世界政治格局多极化趋势的出现。根据材料并结合所学知识可知,20 世纪六七十年代,世界多极化趋势开始出现。1963 年,中法两国拒绝在《部分禁止核试验条约》上签字及法国不顾美国阻挠,于 1964 年率先与中国建交;1967 年,欧共体成立。这些都反映出政治多极化趋势的出现,都在一定程度上冲击了美苏两极格局,故 B 项正确。美国霸主地位没有动摇,故排除 A 项;苏联解体的必然性是苏联自身体制造成的,与材料主旨不符,故排除 C 项;D 项在材料中没有体现,故排除。
36. (1)以沙漠气候为主,自然环境恶劣;水资源不足,制约经济发展;工业基础薄弱,工业发展进程缓慢;为内陆国家,没有出海口,不能直接参与海运贸易;民族构成复杂,民众受教育水平低等。(每条 2 分,答对 3 条得 6 分,共 6 分)
(2)乍得石油资源丰富;石油资源市场需求量大;工业基础薄弱,经济结构单一;石油资源用途广,收益高,能够推动经济发展和减少贫困等。(每条 2 分,答对 2 条得 4 分,共 4 分)
(3)带动就业,推动经济发展;带动相关产业发展,降低经济对石油资源的依赖度;完善产业结构,延长产业链;增加财政收入,为基础设施建设提供资金支持等。(每条 2 分,答对 3 条得 6 分,共 6 分)
(4)加大科技投入,提高资源利用率;加强素质教育,提高劳动生产率;发展新兴产业,积极拓展市场;改善投资环境,吸引国外资金;加大政策支持力度等。(每条 2 分,答对 3 条得 6 分,共 6 分)
37. (1)地质构造;地形;气候;河流(水文);沉积物供给等。(每条 2 分,答对 3 条得 6 分,共 6 分)
(2)我国西部以高原、盆地为主,地势利于河流扇发育;河流多,地形复杂,河流节点频繁发生改道;枯水期长,植被发育程度低,利于河道决口和迁移;河流流量季节变化大,周期性洪水频发等。(每条 2 分,答对 3 条得 6 分,共 6 分)
(3)扇体根部>扇体中部>扇体边缘。(2 分)原因:扇体根部位于河流上游,水流速度快,河流下切明显,以河道沉积为主,沉积物粒径最大;扇体中部河流横向扩散,水流速度变慢,沉积物粒径较扇体根部小;扇体边缘河道逐渐干枯,水流速度最慢,沉积物粒径最小。(每条 2 分,共 6 分)
(4)扇体边缘河道逐渐干枯,河床裸露,沙源丰富;地表水缺乏,物理风化和风力作用显著;沉积物粒径较小,易被风吹起等。(每条 2 分,答对 2 条得 4 分,共 4 分)
38. ①坚持党的领导,以习近平新时代中国特色社会主义思想为科学指引推动我国经济高质量发展,为中国式现代化提供支撑;(3 分)②坚持以人民为中心的发展思想,坚持在高质量发展中保障和改善民生,实现全体人民共同富裕的现代化;(4 分)③坚持创新驱动发展战略,建设创新引领、协同发展的产业体系,优化产业结构,建设现代化经济体系,塑造引领未来的新增长极;(3 分)④贯彻协调发展理念,促进城乡之间、区域之间资源要素有序自由流动,增强发展的整体性。(4 分)(其他答案,符合题意,可酌情给分)
39. ①促进政府依法行政和推进法治政府建设,提升国家专政职能对违法犯罪的威慑力。(4 分)②落实依法治国方略,推动国家治理体系和治理能力现代化,切实保障人民合法权益。(4 分)③增强公民法治观念,营造法治氛围,建设法治社会,促进社会长治久安。(4 分)(其他答案,符合题意,可酌情给分)
40. (1)①文化是一种精神力量,能够在人的实践中转化为物质力量,对社会发展产生深刻影响。在开展学雷锋活动中把雷锋精神代代传承下去,能够为推动中华民族伟大复兴提供强大的精神动力。(2 分)②优秀文化塑造人生,开展学雷锋活动可以丰富人的精神世界,增强人的精神力量,促进人的全面发展,为推动中华民族伟大复兴打下坚实的人才基



- 础。(3分)③雷锋精神是社会主义建设时期中华民族精神的突出表现。开展学雷锋活动有助于弘扬中华民族精神,增强推动中华民族伟大复兴的民族凝聚力、向心力。(3分)④中华民族伟大复兴需要担当民族复兴大任的时代新人。开展学雷锋活动可以筑牢人们的理想信念之基,提高人们的思想道德修养,为推动中华民族伟大复兴培养时代新人。(2分)(其他答案,符合题意,可酌情给分)
- (2)①物质决定意识,要坚持一切从实际出发,实事求是。教育部门要立足社会现实,结合学生实际需要,使雷锋精神绽放时代光芒。(4分)②意识对认识和改造世界具有指导作用。教育部门要全面贯彻习近平总书记的重要指示,认真落实教育部印发的通知,制定切实可行的行动方案。(4分)③坚持发挥主观能动性和尊重客观规律相结合。教育部门要遵循学生成长规律和教育规律,发挥主观能动性,不断丰富拓展学雷锋活动的方式方法,使学雷锋活动常态化长效化。(4分)(其他答案,符合题意,可酌情给分)
- (3)①演讲比赛。主题:我与雷锋精神同行。(2分)②敬老院志愿服务活动。主题:弘扬雷锋精神,传承敬老美德。(2分)(其他答案,符合题意,可酌情给分)
41. (1)特点:工匠精神产生与手工业发展密切相关;注重实用的技道合一;重经验积累和技术传承;具有崇德尚贤的“理想人格”。(6分,任答三点即可)
- (2)原因:工业化初期屈辱记忆的刺激;新教伦理、理性与启蒙思想影响民族品格;德国有严格、完整的制度体系和完备的法律法规;社会自治组织的推动;德国崇尚工匠的社会氛围;德国职业教育发展的推动;德国企业的觉醒蜕变与潜能制造。(10分,任答五点即可)影响:加速了德国科学与技术的结合,大大推动了德国工业革命的进程;一定程度上提高了德国的综合国力和国际地位。(2分,言之成理即可)
- (3)共同价值追求:精益求精;严格严谨;耐心专注;品质至上;开拓进取,追求卓越。(7分,任答三点即可)
42. 示例:
论题:近代中国政治重心的变化影响近代中国政治变迁。(2分)
论题:1840年至1912年,中国政治重心是从“一家一姓”到现代民族国家。这一时期,清朝面临的不是失天下的危险而是亡国的灾难。辛亥革命爆发,清王朝覆灭。“如何建立一个现代民族国家?”成为政治重心的主要内容。孙中山的“三民主义”、中华民国的《临时约法》,以及国民党对袁世凯的妥协以谋求宪政等一系列政治实践,都是为了回答这一问题而采取的措施。然而,清朝崩溃遗留下来的大量政治力量依然处于博弈之中,而动荡的国际局势进一步激化了中国的国内形势,演化为旷日持久的军阀混战和纷乱复杂的社会思潮。国民党希望按照孙中山军政、训政、宪政道路来统一中国,而中国共产党则找到了马克思主义与革命道路。于是,政治重心之间的“角力”使中国进入了长达十年的土地革命时期。1937年,日本全面侵华战争爆发后,中国的内部矛盾迅速被统一到一致对外的民族矛盾之下,中华民族步入全民族抗战道路。抗日战争胜利后,国共基于不同理念形成的不同政治设计不可避免地产生了矛盾。1946年6月,解放战争全面爆发。中国共产党历史性地胜利奠定了中华人民共和国的基础,形成了人民民主专政、政治协商、民族区域自治等一系列制度安排,产生了土地改革、社会主义改造等一系列政治活动,形成了中国特色的政治发展模式,使中国政治重心趋于平稳,朝“稳定与繁荣”不断迈进。(10分)
43. 岛内公共交通体系等基础设施不完善,旅游接待能力弱;属太平洋岛国,距离主要客源市场远;航空线路不足,交通通达性弱;经济社会发展水平不高,旅游业投入不足,旅游业规模较小;与周边岛国旅游资源相似性大,同质化竞争严重;对外宣传不足,旅游品牌影响力有限等。(每条2分,答对5条得10分,共10分)
44. 成因:4~9月降水多,污染物沉降作用强,10月~次年3月,降水少,污染物沉降作用弱;4~9月气温高,空气流动强,利于污染物扩散,10月~次年3月空气流动差,不利于污染物扩散;4~9月取暖燃煤量小,10月~次年3月取暖燃煤量大;4~9月植被茂密,对污染物的屏障或吸收功能强,10月~次年3月树木落叶,花草枯萎,对污染物的屏障或吸收功能弱等。(每条2分,答对2条得4分,共4分)献计献策:减少污染物排放;大力推行清洁生产;采暖季集中供热;大力发展公共交通,对高污染车辆实行区域限行;制定和完善相关法律法规,加强环境执法等。(每条2分,答对3条得6分,共6分)
45. (1)特点:将教育视为科技发展的基础,重视教育的先导作用;科技移植(引进)以政府为主导;率先发展军事技术;受幕府末期科技引进政策的影响;围绕“文明开化”“富国强兵”“殖产兴业”三大国策进行。(9分,任答四点即可)
- (2)影响:引进和传播了近代科学知识和技术,促进了日本资本主义的迅速发展;推动明治维新改革向深层次发展;促进了日本民众思想观念的转变;加速了日本的崛起。(6分,任答三点即可)
46. (1)有利条件:雄厚的经济实力;强大的外交影响力;英国政府对战争宣传的重视和支持。(6分)
- (2)特点:宣传形式多样化;宣传面广;组建宣传机制;宣传动机隐蔽性强。(4分,任答两点即可)影响:促进了英国国内的战时动员;大大促进了英国报业的发展;促使美国加入一战;使英国赢得更多国际力量的支持;对战后和平主义思潮兴起有一定影响;对后世舆论宣传有一定借鉴意义。(5分,任答三点即可)
47. (1)贡献:批判自然经济论;突破传统社会主义的经济理论;进行经济体制改革的理论探索;进行社会主义经济理论体系构建。(9分)
- (2)内涵:坚持理论联系实际、实事求是原则;坚持真理,为人民做学问;倡导学术自由,虚心接受批评意见;强烈的人文关怀。(6分)

关于我们

自主选拔在线是致力于提供新高考生涯规划、强基计划、综合评价、三位一体、学科竞赛等政策资讯的升学服务平台。总部坐落于北京，旗下拥有网站（网址：www.zizzs.com）和微信公众平台等媒体矩阵，用户群体涵盖全国 90% 以上的重点中学师生及家长，在全国新高考、自主选拔领域首屈一指。

如需第一时间获取相关资讯及备考指南，请关注**自主选拔在线**官方微信号：**zizzsw**。

