

历史试题

注意事项:

- 1. 本试卷考试时间为75分钟, 试卷满分100分, 考试形式闭卷;
2. 本试卷中所有试题必须作答在答题卡上规定的位置, 否则不给分;
3. 答题前, 务必将自己的姓名、准考证号用0.5毫米黑色墨水签字笔填写在试卷及答题卡上。

一、单项选择题:共16题, 每题3分, 共48分。每题只有一个选项最符合题意。

1. 战国时期, 诸子对利用舆论来管理基层社会的态度各异。孟子主张君主决策时要把国人的舆论作为重要参考, 但不能盲从。韩非主张应采取对统治有利的舆论, 但前提是必须受到法律制约。"言行而不轨于法令者必禁"。两种主张的共同目的是

- A. 加强君主集权 B. 稳定社会秩序
C. 强化思想控制 D. 迎合贵族诉求

2. 据张家山汉简《二年律令·亡律》, "奴婢为言而主欲免者, 许之", 被免之奴名为私属、媵为庶人, 其身份介于奴婢与自由民之间, 国家免除其算赋和徭役, 但他们仍需像从前为奴婢时一样, 服侍自己的主人。这一规定, 从长远看利于

- A. 促进社会阶层的双向流动 B. 消除国家与主家间的矛盾
C. 扩大编户齐民的社会基础 D. 强化重农抑商的经济政策

3. 宝相花纹是我国具有代表性的传统吉祥纹样之一, 寓意吉祥平安。如唐彩陶、紫彩昌盛等。唐代是宝相花纹最为流行的时期, 图1为敦煌宝相花纹藻井(屋顶装饰图案), 其蕴含了中国的莲花、牡丹、菊花, 欧洲的卷草、忍冬和中亚的葡萄、石榴等形象。这一现象反映了

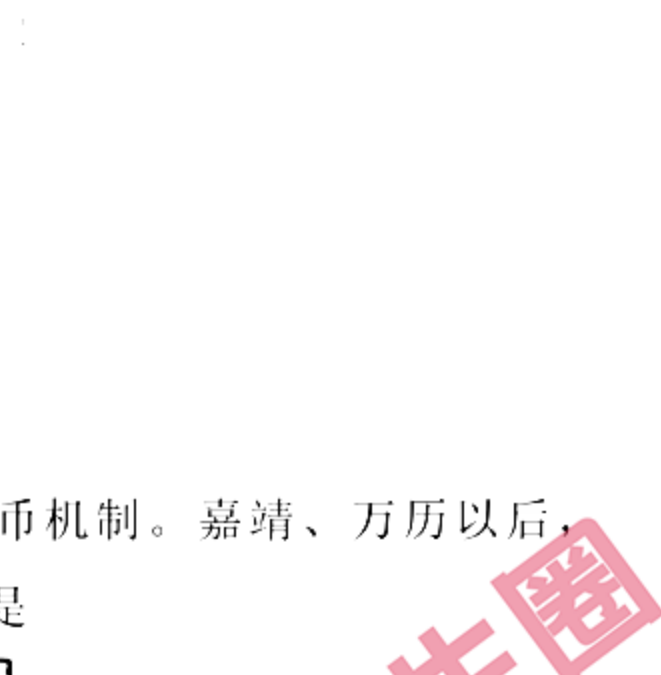


图1

- A. 图案设计源于艺术想象
B. 耐人审美趋于世俗化
C. 地域文化差异渐趋模糊
D. 唐文化在交流中发展

4. 宋朝虽积极采取招抚蕃船、鼓励贸易政策, 但仍设置诸般禁防, "自来有市舶处, 不许私发番船"。凡船出海贸易, 皆须申请公凭, 经市舶司检验, 对于出港不经检验而无公凭者, "许诸色人告捉, 舶物没官"。此举意在

- A. 拓展商品海外市场 B. 防止政府税收流失
C. 加强东南沿海防务 D. 改善边疆民族关系

5. 元朝将纸币作为单一流通货币, 明朝恢复铜钱、纸币并行的货币机制。嘉靖、万历以后, 铜钱流通范围趋于萎缩(见图2)。图2现象出现的时代背景是

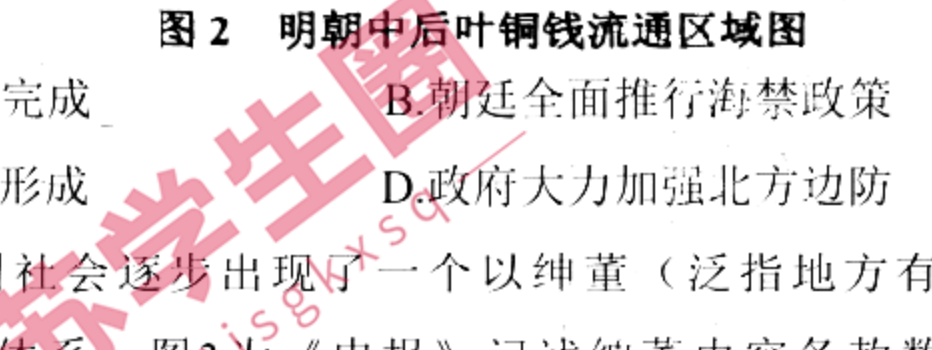


图2 明中后期叶铜钱流通区域图

- A. 经济重心南移进程完成 B. 朝廷全面推行海禁政策
C. 世界丝银贸易网络形成 D. 政府大力加强北方边防

6. 道光咸丰之际, 中国社会逐步出现了一个以绅董(泛指地方有身份地位的绅士)为主体的地方社会治理权属体系。图3为《申报》记述绅董内容条款数量的变化曲线图。图中最高点的成因最有可能

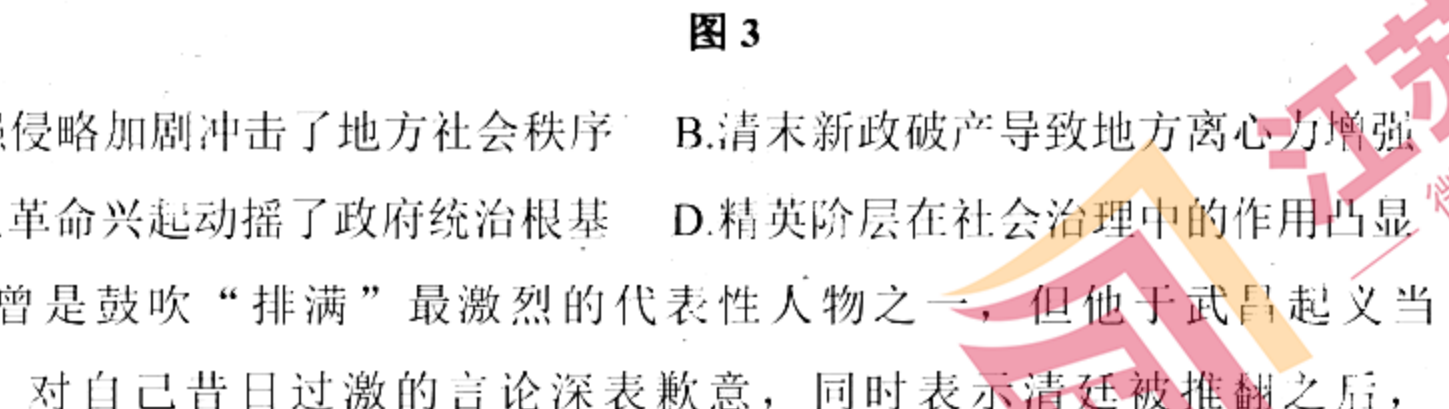


图3

- A. 列强侵略加剧冲击了地方社会秩序 B. 清末新政破产导致地方离心力增强
C. 民主革命兴起动摇了政府统治根基 D. 精英阶层在社会治理中的作用凸显

7. 章太炎曾是鼓吹"排满"最激烈的代表性人物之一, 但他于武昌起义当日即致书满族留日学生, 对自己昔日过激的言论深表歉意, 同时表示清廷被推翻之后, "君等满族, 亦是中国人民, 农商之业, 任所欲为, 选举之权, 一切平等, 优游共和政体之中, 其乐何似?"。章太炎民族观的转变

- A. 消强了满汉民族的隔 B. 适应了革命斗争的需要
C. 引发了武装起义的浪潮 D. 反映了民族意识的萌发

8. 1930年, 安徽岳西县爆发清水寨起义, 成立了根据地革命委员会。委员会经常组织战士们在沙村大河滩、金家祠堂等地上演反映当时斗争的新型黄梅戏, 观戏者达数千人, 这种盛况在高山人稀的山区十分罕见。这表明

- A. 中共注重革命的宣传发动 B. 土地革命赢得群众普遍支持
C. 中共开始探索新的革命道路 D. 当地群众政治觉悟逐步提高

9. 1942年3月, 重庆《中央日报》指出, 缅甸东吁(又称同古、东瓜)保卫战"无论在中国抗战史还是世界大历史均有其不朽的价值"。《泰晤士报》称"东瓜之命运如何, 姑且不论。但被围守军, 以寡敌众与其英勇作战, 实使中国军队光荣簿中增添新页"。上述评论表明, 该战役

- A. 推动了抗战相持阶段的到来 B. 扩大了中国抗战的国际影响
C. 扭转了国军缅甸战场的困局 D. 粉碎了日军以战迫降的企图

10. 1950年1月, 新中国接连电告联合国, 称已任命出席联合国相关组织和会议的人员, 并要求驱逐台湾当局的非法代表。但到1950年底, 新中国决定:"在联合国没有坚决改变它在所采取的错误的方针之前, 中华人民共和国中央人民政府将不再考虑委派任何新代表出席联合国各组织的问题。"与上述转变相关的是

- A. 美苏冷战的开始 B. "一边倒"外交方针的施行
C. 朝鲜战争的升级 D. 联合国事务完全被美国操纵

11. 表1为我国1961-1965年国家债务收入和支出情况表(单位:亿元)。该表可以佐证

Table 1: National Debt Income and Expenditure (1961-1965). Columns include Year, Domestic Debt Income, Foreign Loans, Domestic Debt Repayment, and Foreign Loan Repayment.

- A. 国民经济调整成效显著 B. 国际环境的极大改善
C. 三线建设布局初见成果 D. 宏伟目标的激励效应

12. 考古学家在南美的秘鲁和印度河谷的摩亨朱达罗(今巴基斯坦境内)挖掘出了4000多年前的棉布碎片;在新疆罗布泊西汉末至东汉的楼兰遗址中, 发现了非洲棉的棉布残片, 这是中国目前发现的最早的棉织物。这反映了

- A. 技术传播突破地理障碍 B. 人类文明发展的多源性
C. 文明演进呈一体化趋势 D. 历史研究依赖考古发现

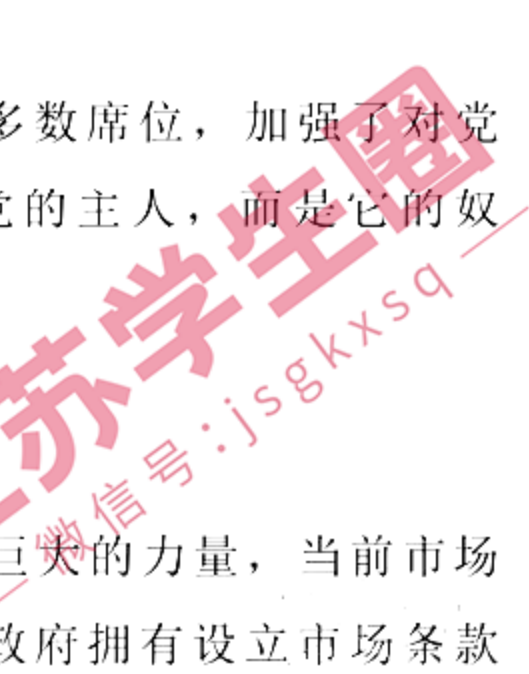


图4

13. 1324年, 马里国王曼萨·穆萨率领一支庞大商队, 带着100头骆驼驮着的黄金前往麦加, 史称"黄金朝圣"。1339年, 欧洲地图上首次出现了曼萨·穆萨和马里帝国(见图4)。以上史实表明

- A. 人类历史逐步从分散走向整体 B. 欧亚非三洲的宗教趋于同质化
C. 国家实力取决于区域位置优势 D. 交流使西非文明国际影响扩大

14. 1737年法国巴黎美术学院沙龙艺术展和1768年伦敦学院展览不仅将艺术家推荐给潜在的赞助人, 而且开始公开地向民众开放。当时, 罗马、柏林、圣彼得堡等欧洲城市都不同程度地将私人或王室收藏向公众开放。上述现象的出现主要因为

- A. 西欧自治城市的兴起 B. 法国革命浪潮的冲击
C. 欧洲工人运动的发展 D. 启蒙思想的广泛传播

15. 19世纪后半期, 英国各政党间为了争夺选票, 力图在下院中占据多数席位, 加强了对党员的纪律要求, 以致出现了"即使是多数党的议员也不是其政党主人, 而是它的奴仆"。各政党加强纪律要求, 主要是基于

- A. 议会至上原则得到改变 B. 内阁的政治影响力扩大
C. 政党之间矛盾得到缓和 D. 文官制度的建立和完善

16. 曾任美国商务部长的经济学家罗伯特·夏皮罗说:"全球化蕴藏着巨大的力量, 当前市场已经或者接近全球化, 但是, 世界仍然围绕主权国家运行, 各国政府拥有设立市场条款的权力, 不管是国内市场还是国际市场, 都要受其影响"。这表明

- A. 发达国家仍主导着全球化进程 B. 全球化与国家主权之间冲突剧烈
C. 经济全球化推进面临现实困难 D. 经济全球化成为强劲的时代潮流

二、非选择题:共4题, 共52分。第17题14分, 第18题12分, 第19题13分, 第20题13分。

17. (14分) 阅读材料, 完成下列要求。

材料一 表2 古代中西立法过程对照表(部分)

Table 2: Comparison of Ancient Chinese and Western Legislation Processes. Columns include Time, China, and Foreign countries.

--摘编自王宏治《从中西立法过程比较<唐律>与<民法大全>》

材料二: 任何社会法律的生成都不是其社会现象中的孤立存在, 法律与社会的关系极为密切, 中国固有的悠远古老的中华法系、中国传统法律文化与中华民族的民族习惯、民族精神以及民众的法律观念紧紧相连。同样, 外国法律制度也反映某一时期、某一社会的社会结构和文化观念, 维护并巩固其社会制度和社会秩序。

--摘编自邓琦《中外古代法律比较研究》

- (1) 据材料一并结合所学知识, 比较古代中西法制建设的异同。(8分)
(2) 运用材料一中某一时段的相关史实, 论证材料二的主要观点。(6分)

18. (12分) 阅读材料, 完成下列要求。

材料 版画既是艺术作品, 也是武器; 版画家们既是艺术家, 更是战士。图5为版画家李桦1935年创作的黑白木刻画一《怒吼吧, 中国》, 被称为"版画中的《义勇军进行曲》"。

高三历史试卷第4页共6页



图5

画面十分有力, 一位青年壮士破蒙眼绑在木桩上, 身体扭曲着, 正张开口, 怒吼, 一只手伸向一把匕首。让人不禁畅想, 一旦他将匕首拿到手中, 便可斩断一切束缚的绳索, 获得解放。

结合所学知识, 以《"怒吼吧, 中国"赏析》为题写一则历史短文。(要求: 表达成文, 叙述完整; 立论正确, 史论结合; 逻辑严密, 条理清晰。)

19. (13分) 阅读材料, 完成下列要求。材料一: 1903年, 清政府提出修建川汉铁路意向, 其西段为成渝铁路; 1936年, 国民政府成立成渝铁路工程局, 次年开始修筑; 1937年7月, 因抗日战争爆发而停工, 仅完成工程量的14%, 寸轨未铺。1950年, 党中央决定修建成渝铁路, 101厂(今重钢集团)承担了钢铁的生产任务。在苏联友人的热心指导下, 101厂战胜了重重困难, 胜利完成了供给钢铁的任务。全四川百姓掀起捐献枕木的热潮, 鞍山生产的钢铁、上海生产的钢梁、武汉生产的机车等纷纷驰援四川。期间先后有3万余名军工、10万余名民工参与筑路。1952年7月1日, 全长505公里的成渝铁路全线通车, 这是新中国修建的第一条铁路, 更是第一条完全由中国人自己设计施工、完全用国产材料建成的铁路。

--摘编自黄海等《修建新中国第一条铁路的燃情岁月--成渝铁路珍品读》材料二 高铁开通后成渝经济区2011-2016年三次产业生产总值分布图



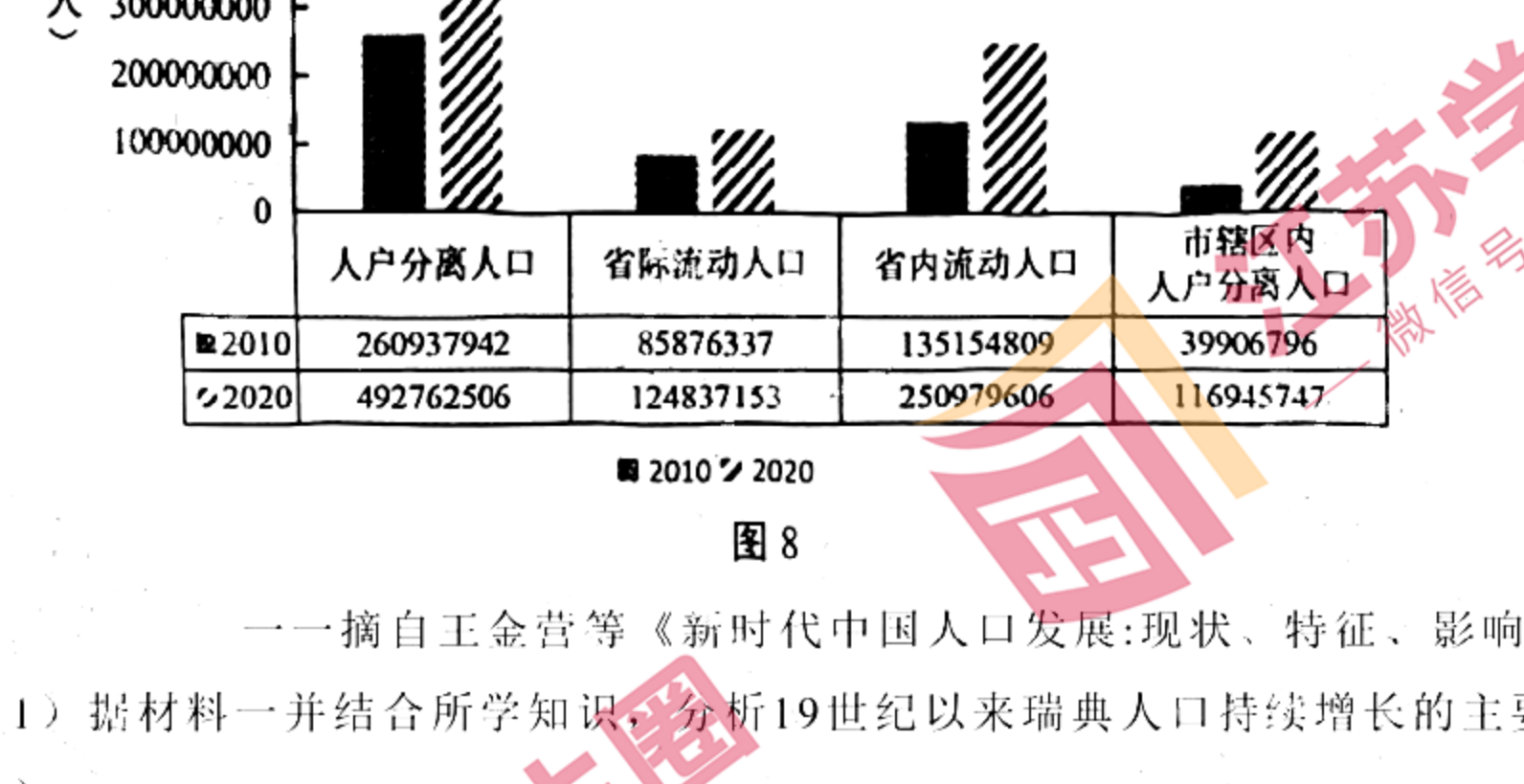
图6

--摘自袁程林《高速铁路对区域空间结构的影响研究--以成渝经济区为例》

- (1) 据材料一并结合所学知识, 概述新中国修建成渝铁路的必要性及有利条件。(9分)
(2) 据材料二并结合所学知识, 阐述交通建设对成渝地区社会经济发展的意义。(4分)

20. (13分) 阅读材料, 完成下列要求。

材料一 瑞典的死亡率与人口情况图



--摘自《剑桥现代欧洲经济史》图7

材料二 2010年和2020年中国人户分离人口情况

Table 8: Population Separation in China (2010 vs 2020). Categories include Population Separation, Inter-provincial, Intra-provincial, and Urban.

图8

--摘自王金营等《新时代中国人口发展: 现状、特征、影响和挑战》

- (1) 据材料一并结合所学知识, 分析19世纪以来瑞典人口持续增长的主要原因。(5分)
(2) 据材料二并结合所学知识, 概括新时代中国人口发展的显著特征并简析其成因。(6分)
(3) 据材料一、二并结合所学知识, 归纳人口迁移对文化产生的共同影响。(2分)