

## 2021年河南省普通高中毕业班高考适应性测试

### 文科综合能力测试

一、选择题：本题共35小题，每小题4分，共140分。在每小题给出的四个选项中，只有一项是符合题目要求的。

宁波港和舟山港是浙江省的两大港口（图1），原油接卸能力位居全国前两名，2015年宁波港和舟山港正式合并。新组建的宁波舟山港是我国重要的石油存储中转基地，承担了长江沿线石化产业密集带90%以上的油品中转量，2019年起舟山新建的国家级石化基地先后投产。据此完成1—3题。



图1

1. 宁波港和舟山港合并有利于

- ①加强省际协作 ②减少同质竞争 ③提高竞争优势 ④扩大服务范围  
A. ①②③ B. ①②④ C. ①③④ D. ②③④

2. 宁波舟山港发展石油存储中转业务的主导因素是

- A. 原料 B. 市场 C. 技术 D. 劳动力

3. 2020年新冠肺炎疫情期间石油消费疲软，对舟山新投产石化基地的影响是

- A. 扩大消费市场 B. 提高接卸能力 C. 降低原料成本 D. 降低仓储成本

卡帕多西亚位于土耳其中部，地质历史时期火山大规模爆发，厚厚的火山灰散落在地表，层层堆积固结形成凝灰岩。凝灰岩内部存在岩性差异，在此基础上形成了塔状的“精灵烟囱”地貌景观。图2为“精灵烟囱”地貌演变过程图。据此完成4-6题。




图2

4. 凝灰岩属于

- A. 侵入岩 B. 喷出岩 C. 沉积岩 D. 变质岩

5. 根据③阶段“精灵烟囱”的形态判断

- A. a岩层岩性坚硬，对b岩层起保护作用 B. a岩层岩性松软，外力侵蚀速度快  
C. 岩层岩性坚硬，对a岩层起支撑作用 D. b岩层岩性松软，内力断裂成塔状

6. 阶段④侵蚀速度急剧加快的主导因素是

- A. 河水流速 B. 重力崩塌 C. 岩性差异 D. 人为破坏

对干旱区的绿洲城市而言，绿洲如同“婴儿的胎盘”是居民生产、生活与生



的重要空间,绿洲大小直接决定着城乡居民点的规模。绿洲居民点孕育指数是指城乡居民点面积与其所在绿洲面积之比。图3为河西走廊城乡居民点空间分布图。图4为区域内四个地区绿洲面积和绿洲居民点孕育指数图。据此完成7-8题。

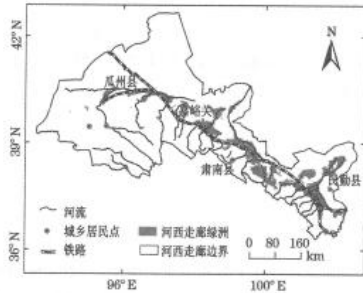


图3

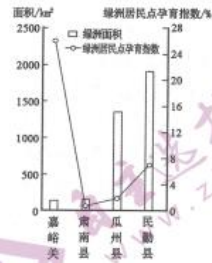


图4

7. 河西走廊城乡居民点

- A. 都分布于洪积扇上    B. 都分布于河流沿岸  
C. 西部分布较为密集    D. 铁路沿线较为密集

8. 下列四个地区中,人地矛盾最突出、绿洲生态环境最脆弱的是

- A. 嘉峪关    B. 肃南县    C. 瓜州县    D. 民勤县

流石滩位于高山雪线和高山草甸之间,受冻融风化、冻土蠕动等影响形成,我国流石滩主要分布在川西、云南、藏南等地。梭砂贝母是我国西南高山流石滩上的特有物种,6月开花,10月枯萎,是名贵中药川贝的重要来源。流石滩岩石多呈灰棕色,植物多呈亮丽色彩,研究发现,近年来梭砂贝母的颜色出现从黄绿色向灰棕色的进化趋势。据此完成9—11题。

9. 与新疆山区相比,西南山区流石滩发育较多的主导因素是

- A. 海拔    B. 纬度    C. 水分    D. 光照

10. 流石滩植物多呈亮丽色彩,主要是为适应

- A. 严寒    B. 强辐射    C. 强风    D. 贫瘠

11. 推断梭砂贝母颜色变化的可能原因是

- A. 吸引昆虫传粉    B. 吸收紫外辐射  
C. 增强环境色差    D. 规避人类采摘

12. 2020年10月,深圳市政府联合中国人民银行开展数字人民币红包试点。数字人民币由中国人民银行发行,是有国家信用背书、有法偿能力的法定货币,其功能属性与纸币相同,可视作纸币的数字化形态。数字人民币的使用

- ①能提高零售支付的便捷性、安全性和防伪水平  
②与其他网上支付工具本质相同,将逐步取代现金  
③降低投资风险、保护货币主权,推进人民币国际化  
④将有效防范和打击洗钱、偷逃税等违法犯罪行为

- A. ①③    B. ①④    C. ②③    D. ②④

13. 习近平总书记作出重要指示强调,坚决制止餐饮浪费行为,切实培养节约习惯,在全社会营造浪费可耻、节约为荣的氛围。坚决制止餐饮浪费是

- ①树立正确消费观的应有之义    ②由我国居民收入水平决定的  
③落实抑制消费需求政策的体现    ④保障国家粮食安全的重要举措

- A. ①②    B. ①④    C. ②③    D. ③④

14. 无还本续贷指金融机构允许符合条件的企业可在不归还贷款的前提下,继续使用银行贷款资金。疫情发生以来,为落实国家保就业政策,某商业银行大力推广无还本续贷服务。该措施的正确传导路径是

- ①推动企业正常运行    ②降低贷款门槛





③保持就业岗位稳定 ④缓解企业资金压力

- A. ①→②→④→③
- B. ①→③→②→④
- C. ②→④→③→①
- D. ②→④→①→③

15. 近年来，平台消费已经成为扩大内需的生力军，而平台经济领域的垄断行为也时有发生。在此背景下，2020年11月10日，市场监管总局发布《关于平台经济领域的反垄断指南（征求意见稿）》，对于平台经济领域的垄断行为进行了界定，明确禁止平台经营者达成垄断协议、滥用市场支配地位、实施具有限制竞争效果的集中。反对平台经济垄断

- ①有利于发挥市场在资源配置中的决定作用
- ②促进公平竞争，保护其他经营者合法权益
- ③弥补市场自发性缺陷，降低企业经营成本
- ④激励企业成为创新主体，推动高质量发展

- A. ①②
- B. ①③
- C. ②④
- D. ③④

16. 自2019年5月起，江苏省南通市政协全力推动政协协商与基层协商有效衔接，在全市推进“有事好商量”协商议事室试点工作。在协商会场上，党政部门和人大代表、政协委员、乡贤、有关专家等齐聚一堂，协商解决事关发展和民生的大事小情。协商议事室

- ①在党委政府与人民群众之间搭建了新平台，助推基层问题的解决
- ②作为爱国统一战线组织，积极通过政治协商参与基层民主治理
- ③为在基层社会治理中发挥协商民主的作用提供了新的突破口
- ④创新了基层群众自治组织形式，有效扩大基层民主治理范围

- A. ①②
- B. ①③
- C. ②④
- D. ③④

17. 在当前社会生活中，政务事项的“秒批”、智能问答机器人，让政府的办事程序、政民互动模式发生显著改变，“健康码”“同乘查询”等数字化应用快速上线并被公众广泛认可。借科技之力打造数字政府

- ①旨在提高行政效率，着力塑造政府权威
- ②创新政务管理方式，更好履行政府职能
- ③调整政府职权范围，提高政府治理能力
- ④优化政务服务，践行人民至上发展理念

- A. ①②
- B. ①③
- C. ②④
- D. ③④

18. “十三五”期间，中央累计安排超过270亿元资金支持新疆卫生健康事业；19个对口支援省市将卫生等民生项目作为支持重点，累计投入59亿元援疆资金。这极大改善了新疆医疗卫生基础设施条件，逐步补齐了卫生健康服务体系短板。这些举措

- ①体现了民族平等、共同繁荣的原则
- ②凸显了民族区域自治制度的优越性
- ③会有助于筑牢中华民族共同体意识
- ④旨在巩固和发展社会主义民族关系

- A. ①②
- B. ①③
- C. ②④
- D. ③④

19. 新冠肺炎疫情是百年来全球发生的最严重的传染病大流行。在这场同严重疫情的殊死较量中，中国人民和中华民族以敢于斗争、敢于胜利的大无畏气概，铸就了生命至上、举国同心、舍生忘死、尊重科学、命运与共的伟大抗疫精神。伟大的抗疫精神

- ①是我党带领中华民族实现伟大复兴征程中的必然产物
- ②同中华民族长期形成的特质禀赋和文化基因一脉相承
- ③是爱国主义、集体主义和社会主义精神的传承和发展
- ④是共产党带领中华民族实现伟大复兴的重要方向保证

- A. ①②
- B. ①④
- C. ②③
- D. ③④

2020年，因为疫情的冲击，“云时代”“云端见”成了这一年各种文化场所和消费空间的流行消费形式，虽然这一转变始于无奈，但危机也推动一些文化产业找到“新赛道”。书店可以点“图书外卖”，云端演出层出不穷。疫情不能阻止我们继续享受文化生活，动动脑子，





彩依旧。据此完成 20~21 题。

20.从文化生活角度看，微信公众号《试卷答案》上述材料给我们的启示是

- ①互联网极大地改变了当今社会文化传播的内容和形式
- ②网络科技已经成为新时代文化创新发展的基础和源泉
- ③科技进步与创新是推动经济和社会发展的关键性因素
- ④文化事业也可以借助互联网来更好地满足人民的需求

A. ①② B. ①④ C. ②③ D. ③④

21.新冠肺炎疫情给我国经济发展带来了严峻挑战，也赋予了网络经济、大数据产业前所未有的发展机遇，我国在 2020 年以此为契机实现了数字经济跨越式的发展。这说明

- ①挑战和机遇作为矛盾双方因具有共性而能实现相互转化
- ②挑战和机遇作为矛盾双方因具有个性而能实现相互转化
- ③挑战和机遇的相互转化与人主观能动性的发挥密切相关
- ④挑战和机遇并存要求我们正确认识和把握联系的多样性

A. ①② B. ①③ C. ②④ D. ③④

22.图 5 是 2020 年第四届中国绿化博览会的会徽，它是以“生机勃勃的芽”为主要元素，中心以树叶的形状为核心，形象地表达了绿博会以生态文明、国土绿化、绿色发展为核心的发展理念。这说明

- A. 审美观作为社会意识具有鲜明时代性
- B. 审美观作为社会意识具有主体差异性
- C. 优秀的艺术作品能反映不同时代的要求
- D. 优秀的艺术作品来源于成功的社会实践



图 5

23.2020 年 12 月 17 日，嫦娥五号返回器携带月球样品安全着陆，探月工程嫦娥五号任务取得圆满成功。这标志着我国探月工程“绕、落、回”三步走规划如期完成。该活动对深化人类探索月球成因和太阳系演化历史具有重要意义。上述材料说明

- ①我国科技工作者在探月实践中实现了主观与客观的统一
- ②科学的规划是月球探测工程取得圆满成功的决定性因素
- ③“绕、落、回”三步走规划是具体问题具体分析的表现
- ④要获得对一个事物的正确认识需要人们付出艰辛的努力

A. ①② B. ①③ C. ②④ D. ③④

24.春秋以前，贵族有姓又有氏，史料中提到的“百姓”通常是指贵族成员；而到了春秋战国时期，普通民众也开始有自己的姓，“百姓”也成为民众的通称。这一变化反映了

- A. 贵族已经被百姓所取代
- B. 宗法血缘制度逐渐崩溃
- C. 诸侯地位已高于周天子
- D. 宗法观念影响已经消失

25.许倬云的《汉代农业》载：公元前 2 世纪中叶在经历了一段相对和平之后，人口迅速增加，粮食短缺现象日益明显，这却被错误地归因于农业人口向商业领域的外流，进而为汉武帝摧毁私人贸易扫清了道路。据此可知作者认为

- A. 商业的发展争夺了农业领域的劳动力
- B. 重农抑商的措施自汉武帝时开始实施
- C. 汉初人口的迅速增长导致了粮食危机
- D. 汉初政府的积极努力使人口大幅增加

26.北宋初年，士大夫里面真正人格崇高的大都是道教徒，如陈抟、种放等。到了宋仁宗时期，整个文明突然达到一个跃升，范仲淹“乐以天下，忧以天下”的精神，是那一时期士大夫精神风貌的典型。该变化出现的主要原因是

- A. 唐末的藩镇割据
- B. 宋初大一统的实现
- C. 北宋儒学的复兴
- D. 理学成为官方哲学

27.1621 年，一位葡萄牙商人谈到：白银在全世界游荡，直至流入中国。它留在那里，好像到了它的天然中心。美国学者弗兰克也认为，17、18 世纪全世界白银产量的三





之一流入中国。这说明他们认可当时中国

- A. 制银技术的领先地位
- B. 城市化的发展水平
- C. 积极的海外贸易政策
- D. 世界经济中心地位

28. 1875年, 洋务派开始筹办海军, 随后不光李鸿章从国外购买军舰, 驻南京的南洋通商大臣以及福建和广东两省的官员也相继从国外购买军舰。至甲午战前, 全国至少建立起四支互不统属的海军舰队。这一状况

- A. 实现了海军强国的目标
- B. 促成了民用企业的兴起
- C. 导致了地方割据的出现
- D. 埋下了甲午战败的隐患

29. 20世纪初, 在清政府的动员和上海的带动下, 除内蒙古、西藏地区之外, 全国各省区均建立了自己的商会, 总数以千计, 特别是在东南沿海地区, 商会几乎发展到每一个县级以上的城镇。据此可知当时

- A. 小农经济迅速解体
- B. 经济结构已经发生变动
- C. 上海最早出现商会
- D. 沿海地区经济结构失衡

30. 大革命失败后, 人们对中国革命的性质及其前途感到困惑。20世纪20年代末到30年代, 知识分子掀起了一场中国社会史大论战, 论战主要集中在三个方面: 中国社会性质问题、中国社会发展史问题和中国农村社会性质问题。这场论战

- A. 促使知识界在理论上达成共识
- B. 使中共找到正确的革命道路
- C. 推动抗日民族统一战线的建立
- D. 有利于马克思主义的中国化

31. 1980年11月, 天津市核准天津自行车厂进行独立核算、照章纳税、自负盈亏试点。以天津自行车一厂为例, 1983年“飞鸽”牌自行车产量为260万辆, 1988年成立的飞鸽自行车集团, 年产量达661.25万辆, 员工达到3万多人。据此可知

- A. 对外开放扩大了产品海外市场
- B. 城市经济体制改革增强了企业活力
- C. 对内改革提升了产品技术含量
- D. 市场经济体制推动了国有企业转型

32. 公元前5世纪, 雅典智者们在给学生传授修辞学、论辩术的同时, 也贯穿了批判迷信、抨击传统、藐视权威、高扬个性、崇尚感觉、鼓吹怀疑的思想内容。这些内容的传播

- A. 促进了雅典的思想解放
- B. 体现了理性主义的本质
- C. 破除了人对神灵的崇拜
- D. 动摇了民主政治的基础

33.

表1

国家	1890年	1910年	1930年
美国	1.7	483	762
英国	145	185	184
德国	71	158	177
日本	4.6	15.4	55.8

表1为1890-1930年各大国的能源消耗(相当于百万吨煤)表, 表明这一时期

- A. 英国顺利完成了工业革命
- B. 一战导致列强两极分化
- C. 美英德日经济发展不平衡
- D. “新经济”推动美国发展

34. 世界近代民主运动中, 英国采用和平的、改良的、渐进的方式建立了君主立宪制政体; 法国以革命、战争和政变的方式最终形成“两院制加总统制”的政权组织形式。与英国、法国均不同, 美国以其独特的条件建立起总统制民主共和制政体。这表明

- A. 代议制是民主实现的唯一形式
- B. 民主的实现形式具有多样性
- C. 美国的民主形式优于其他国家
- D. 总统制共和政体是民主主流

35. 1997年全球跨国公司有5.3万家。1990年跨国公司实现全球并购11300次, 并购金额约4000亿美元; 1995年实现全球并购22700次, 并购金额猛增至8000亿美元。跨国公司的对外投资总额从1990年的2355.29亿美元增至1999年的8650亿美元。这反映了



- A. 经济全球化即是全球经济趋同化
- B. 跨国公司是资源优化的唯一途径
- C. 跨国公司实现对全球市场的垄断
- D. 跨国公司推动了经济全球化发展

二、非选择题: 共 160 分。第 36—42 题为必考题, 每个试题考生都必须作答。第 43~47 题为选考题, 考生根据要求作答。

(一) 必考题: 共 135 分。

36. 阅读图文材料, 完成下列要求。(22 分)

云南抚仙湖是我国最大的深水型淡水湖泊, 呈“倒葫芦”状。蓄水量占云南省总蓄水量的 78%, 是滇中地区社会经济可持续发展的重要资源保障。湖面海拔超 1720 米, 流域面积达 1000 余  $\text{km}^2$ , 湖盆四周群山环抱, 百余条河流汇入, 海口河为抚仙湖唯一的出水口。图 6 为抚仙湖 8 月湖流示意图, 图 7 为抚仙湖表层湖水温度、湖区气温和太阳总辐射量逐月变化图。

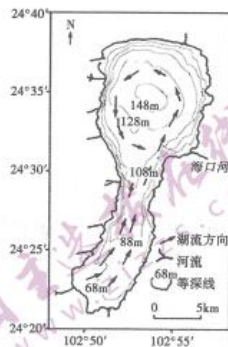


图 6

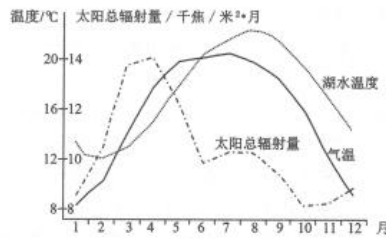


图 7

- (1) 说出抚仙湖湖区气温高于表层湖水温度的季节, 并分析其主要原因。(6 分)
- (2) 分析 8 月抚仙湖南、北部湖水的流动特征及其原因。(10 分)
- (3) 说明抚仙湖成为滇中地区社会经济可持续发展的重要资源保障的自然原因。(6 分)

37. 阅读图文材料, 回答下列问题。(24 分)

河南省淅川县被确定为南水北调中线水源地后, 当地的产业发展受到限制, 处于“守水守穷”的困境。随着丹江口水库蓄水, 大面积耕作层将被水淹没。耕作层富含有机质和氮磷矿物, 是不可再生的耕地精华, 而水中的有机质、总氮磷含量超标将导致水体富营养化和水质恶化。2013 年淅川县采取移土培肥措施, 在库区蓄水之前, 将水库淹没区坡度  $6^\circ$  以下 40cm 厚的耕作层剥离, 转移至库区周边裸露的瘠薄坡地之上, 改造形成了层层梯田绕山转、道道山梁披绿装的美丽景观。移土培肥等微信公众号《试卷答案》措施的实施使淅川县逐步从“守水守穷”走向“生态富民”。图 8 为淅川县和丹江口水库位置示意图。

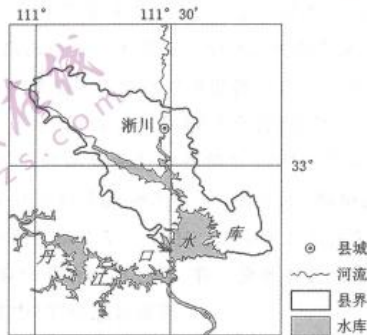


图 8

- (1) 说出淅川县被确定为水源地后“守水守穷”的原因。(4 分)





(2)分析移土培肥多选在平缓地带进行耕作层取土的主要原因。(6分)

(3)说明移土培肥给丹江口库区及淅川县带来的有利影响。(8分)

(4)请为淅川县从“守水守穷”走向“生态富民”提出合理化建议。(6分)

38.阅读材料,完成下列要求。(14分)

表2 我国“三新”经济增加值核算结果

产业	增加值(亿元)				相当于GDP比重(%)			
	2016年	2017年	2018年	2019年	2016年	2017年	2018年	2019年
“三新”经济	113587	129577	145369	161927	15.3	15.7	16.1	16.3
第一产业	5830	5998	6227	6685	0.8	0.7	0.7	0.7
第二产业	48497	54253	62453	70443	6.5	6.6	6.9	7.1
第三产业	59260	69326	76689	84799	8.0	8.4	8.5	8.6

数据来源自国家统计局网站

表3 “三新”经济的涵义和具体表现

名称	涵义	具体表现
新产业	应用新科技成果、新兴技术而形成一定规模的新型经济活动。	新技术应用产业化直接催生的新产业、传统产业采用现代信息技术形成的新产业等。
新业态	顺应多元化、多样化、个性化的产品或服务需求,依托技术创新和应用,从现有产业和领域中衍生叠加出的新环节、新链条、新活动形态。	以互联网为依托开展的经营活动等。
新商业模式	为实现用户价值和企业持续盈利目标,对企业经营的各种内外要素进行整合和重组,形成高效并具有独特竞争力的商业运行模式。	将互联网与产业创新融合、把硬件融入服务、提供消费、娱乐、休闲、服务的一站式服务等。

近年来,在我国新产业、新业态、新商业模式持续兴起的基础上,消费数字化转型和产业升级加快推进,信息消费、网络消费、平台消费、智能消费等新兴需求快速成长,以互联网经济为代表的新动能正显现出强劲生命力。我国经济发展新动能加速发展壮大,经济活力进一步释放,新经济成为我国目前缓解经济下行压力、推动高质量发展的重要引擎。

(1)表2反映了什么经济现象?(4分)

(2)“三新”经济已成为助推我国经济发展的重要引擎。结合材料并运用经济生活知识加以说明。(10分)

39.阅读材料,完成下列要求。(12分)

2020年11月,我国832个贫困县全部脱贫,标志着脱贫攻坚决战取得伟大胜利。

作为全国脱贫攻坚主战场,G省省委省政府始终以脱贫攻坚统揽经济社会发展全局,形成了整体联动、协调并进的“系统工程”。强化省市县乡村五级书记一起抓,省政府落实主体责任,压实各级责任,省级干部带头挂帮、带头督战、蹲点调研。省人大常委会制定、修改和完善地方性法规,为脱贫攻坚保驾护航,组织人大代表参与专题调研和集中视察、执法检查。省政协委员围绕易地扶贫搬迁后续扶持、深入推进农村产业革命等重点工作开展调研、资政建言。加强乡村治理体系和治理能力建设,基层组织服务能力不断提升,为乡村发数字化转型加快推进行,信息消费、网络消费、平台消费、智能消费等新兴需求快速成长,以互联网经济为代表的新动能正显现出强劲生命力。我国经济发展新动能加速发展壮大,经济展振兴注入动力与活力。

结合材料,阐述打赢脱贫攻坚决战是如何彰显我国政治制度的特点和优势的。(12分)

40.阅读材料,完成下列要求。(26分)

青年是国家和民族的希望。

100年前,十几位青年立志救国救民,冲破重重险阻,在浙江嘉兴南湖的





中国共产党，中国革命从此掀开了崭新的篇章。

70年前，朝鲜战争爆发，全国各阶层青年为了正义与和平，高唱“保和平、卫祖国，就是保家乡”，踊跃参加中国人民志愿军赴朝作战。

2020年春，在抗击新冠肺炎疫情的斗争中，当代青年为了人民生命安全，不怕苦、不畏难、不惧牺牲，用臂膀扛起如山的责任，展现出青春激昂的风采，展现出中华民族的希望！

我们的国家，我们的民族，从积贫积弱一步一步走到今天的繁荣富强，靠的就是中华民族自强不息的奋斗精神一代又一代的传承。开启全面建设社会主义现代化国家新征程，实现中华民族伟大复兴的中国梦，更需要一代又一代青年传承和弘扬伟大的中华民族精神。

(1)结合材料并运用价值观的知识，分析一代代青年能够担负起国家富强和民族复兴使命的原因。(12分)

(2)结合材料并运用文化生活的知识，说明传承和弘扬中华民族精神对当代青年健康成长的意义。(10分)

(3)不负人民重托，承担国家和民族希望，这是每个青年的责任。请你为当代青年如何担当社会责任提出两条建议。(4分)

41.阅读材料，完成下列要求。(25分)

材料一

近代中国社会资本较为缺乏，资金的一般流向是土地、高利贷、旧式商业和房地产业。为了吸引民间投资创办近代企业，企业无论盈亏都必须支付股东类似贷款利息的“官利”。从英美等资本主义各国情形看，企业借入资金的来源，不外商业信用、银行放款、商业票据、公司债券等款项。但是，近代中国公司企业的资本结构和资金筹集方式由于国情迥异、金融资本市场尚未完善等缘故，与欧美等国有很大的不同，其中，“尤以收受存款一项为唯一之特色”。张謇评价官利制度时说：“且亦赖以此习惯耳。否则资本家一齐谓（萎）缩矣，中国宁有实业可言？”

——摘编自朱荫贵《引进与变革：近代中国企业官利制度分析》

材料二

1407年，有商人在威尼斯设立银行。到16、17世纪，在西欧各大城市，银行如雨后春笋般地建立起来。1657年，瑞典设立国家银行。1694年，英格兰银行成立。这些新式银行资金雄厚，信用良好，颇受商人们青睐。有了商业银行作为依靠，股份公司发展成为能获取巨额利润的新的商业模式。股份公司既能够集中大量资金，从而实现高额利润，又能够分担风险。而且对于一些中小股东而言，无须直接参与公司经营，也能分享利润。

——摘编自武寅《简明世界历史读本》

(1)根据材料一并结合所学知识，概括近代中国企业中“官利”出现的原因。(10分)

(2)根据材料二并结合所学知识，比较中西方近代企业融资的不同之处，并分析各自产生的影响。(15分)

42.阅读材料，完成下列要求。(12分)

材料

人类以往的社会，似乎是一动一静的。任何一个社会，在以往大都有个突飞猛进的时期。隔着一个时期，就停滞不进。再阅若干时，又可以突飞猛进起来。已而复归于停滞。如此更互不已。社会只能在遇见困难时，奋起而图功，到认为满足时，就要停滞下来了。社会在这时期就会本身无所发明；对于外来的，或消极的不肯接受，或积极地加以抗拒。

——摘编自吕思勉《中国通史》

请结合史实对材料中的观点（任意一点或整体）加以评析，并得出结论。（要求：论之有据，史论结合，表述清晰）

(二) 选考题：共25分。请考生从2道地理题、3道历史题中每科任选一题作答。如果多做，则每科按所做的第一题计分。

43.[地理——选修3：旅游地理] (10分)



新冠肺炎疫情期间,人员跨国流动受到限制,旅游业和航空业受到较大影响。澳大利亚航空公司推出“哪儿也不去”航空旅行项目(Flight to Nowhere),航班从悉尼起飞,飞经黄金海岸、大堡礁、艾尔斯巨岩等景点上空,经7小时飞行后返回悉尼降落。与常规航班相比,此类航班的飞行速度微信公众号《试卷答案》和飞行高度通常有所降低,乘客免于防疫隔离检查,同时可享受国际航班的免税购物优惠。航班推出后,在10分钟内机票便被抢购一空。图9为澳大利亚航空公司推出的“哪儿也不去”航空旅行项目线路示意图。



图9

简析“哪儿也不去”航空旅行机票热销的原因,并指出其对经济复苏的积极作用。(10分)

44.[地理——选修6:环境保护](10分)

港口露天料场常堆放煤炭、铁矿等矿物原料,是港口地区的主要污染源。露天料场的封闭治理是绿色港口建设的重要措施。气膜建筑(图10)通过空气加压纤维薄膜形成封闭空间,具有柔性特征,造价是传统钢建筑的50%左右,施工周期仅3-5个月,是露天料场封闭治理的新技术。



图10

指出露天料场封闭治理的积极作用,并简述气膜建筑相比于传统钢建筑的优势。(10分)

45.[历史——选修1:历史上重大改革回眸](15分)

材料

安史之乱以后,唐朝为重振中央权威进行了一系列努力和改革。唐肃宗后期,盐铁使刘晏改进食盐专卖制度,增加政府收入;整顿漕运,降低成本,提高安全系数及运输效率;平抑物价。唐德宗时期,宰相杨炎筹划两税法,一方面简化了税收名目,另一方面扩大了征税面,使百姓负担更为合理,也使政府财政状况有所改善。唐朝政府在此基础上展开了对藩镇的斗争。唐宪宗(年号元和)即位后坚主用兵,命将得人,很快讨平剑南西川、夏绥、镇海、淮西、淄青等藩镇。声威波及河朔三镇,此时藩镇对抗中央的局面似乎已经结束,“元和中兴”达到了顶峰。

—摘编自张帆《中国古代简史》

(1)根据材料,概括安史之乱后唐朝为重振中央权威采取的措施。(8分)

(2)根据材料并结合所学知识,简要分析唐朝上述措施的历史意义。(7分)

46.[历史——选修3:20世纪的战争与和平](15分)

材料

1942年5月,中国军队第一次远征缅甸与英、印军配合对日作战失利,滇缅路被中断,主力部队一部撤驻印度,另一部撤回滇西。为反攻缅甸,中国方面作了大量准备。但当时美、英对此事并未积极响应。1943年10月末,美军已完全掌握了太平洋地区对日作战的主动权。欧洲战场的局势也有根本改观。经过中国军事委员会与盟军联合参谋部一再协调,协定

主力和英、美军一部，向缅甸北部发起反攻。为相互策应，驻滇西的中国远征军于1944年5月对日军发动了滇西反攻战。1943年12月至1945年3月的缅北、滇西反攻战，在人民群众的大力支持下，克服恶劣气候下山地丛林作战的艰难，毙伤俘日军共25102人，最终取得彻底击败日寇的完全胜利。

——摘编自王秀鑫、李荣《全民抗战》

(1)根据材料并结合所学知识，概括指出缅北、滇西反攻战取胜的原因。(6分)

(2)根据材料并结合所学知识，指出缅北、滇西反攻战胜利的重要意义。(9分)

47.[历史——选修4：中外历史人物评说](15分)

材料

陈潭秋(1896-1943年)，湖北省黄冈县人，秉承曾考中举人的祖父“穷不废读”的信念，刻苦读书。青少年时从五哥陈树三处受到三民主义思想的启发，他认为“救国是政治问题，教育绝不能救国”。为寻求先进的思想改造社会，1916年他考入国立武昌高等师范学校(今武汉大学)英语部学习，畅读《新青年》《每周评论》等书刊。1918年他研读了李大钊的《法俄革命之比较观》等文章。1919年他在武汉积极参加了五四运动。随后，他又在上海与董必武、李汉俊等一起研读《新青年》微信公众号《试卷答案》等杂志的文章以及日本出版的《共产党宣言》等书籍，并于1920年创建武汉共产主义小组。1921年7月他作为代表出席了中共一大，成为党的创始人之一。他艰苦卓绝坚持为党工作，1943年牺牲于新疆。

——摘编自陈乃宣《中共一大代表丛书·陈潭秋》

(1)根据材料并结合所学知识，概括指出陈潭秋救国思想的变化。(6分)

(2)根据材料并结合所学知识，分析陈潭秋救国思想变化的原因。(9分)



## 2021年河南省普通高中毕业班高考适应性测试

### 文科综合能力测试参考答案

#### 一、选择题(共140分,每小题4分)

1.D 2.B 3.C 4.C 5.A 6.C 7.D 8.A 9.C 10.B 11.D  
12.B 13.B 14.D 15.A 16.B 17.C 18.B 19.C 20.D 21.D 22.A  
23.B 24.B 25.C 26.C 27.D 28.D 29.B 30.D 31.B 32.A 33.C  
34.B 35.D

#### 二、非选择题(共160分)

##### (一)必考题

##### 36. (22分)

(1)季节:春季。(2分)原因:春季(3-5月)太阳总辐射量大,(2分)陆地增温迅速,在地面长波辐射作用下,空气(增温快,气温高于湖泊表层水温(2分)。

(2)南部湖区:湖水从西南流向东北。(1分)原因:地处我国西南地区,夏季受西南季风影响;(2分)

南部湖区较窄,呈西南—东北走向,盛行风向与湖盆走向一致,因而形成较稳定的由两南流向东北的湖流(2分)。

北部湖区:逆时针方向环流。(1分)原因:8月湖面平均气温高于四周,在陆风作用下,水流形成辐合,(2分)北部湖面较宽,在地转偏向力作用下形成逆时针方向的环流(2分)。

(3)湖大而深,湖盆容量大;降水多,流域面积广,河流汇入补给量大;湖水出口唯一,径流排水量小;海拔较高,湖面蒸发较弱;湖泊淡水储量巨大,成为该地区重要的资源保障。(任答三点得6分)

##### 37. (24分)

(1)为保护水质,(2分)产业发展受限:矿产开采和工矿业发展受限;库区水产养殖业受限;耕地面临被淹没,农药和化肥使用量减少,耕作业受限。(任答一种产业得2分)

(2)地形平缓易堆积,土壤肥沃,取土品质高;坡度小,剥离土层后不易产生水土流失;地形起伏小,不易出现坡体滑塌现象,有利于湖岸稳定;施工难度小,成本较低。(任答三点得6分)

(3)保护耕作层资源,保证粮食产量,提高农业收益;(2分)减少进入库区的有机质和氮磷含量,降低水质污染;(2分)剥离40cm土层,增加库区库容量,提高丹江口水库蓄水能力;(2分)提高库区周边坡地的土壤肥力,提高植被覆盖率,减少水土流失,减少库区泥沙淤积(2分)。

(4)提高农业的规模化和专业化程度;发展生态林果业;建设绿色环保的农产品加工业,提高农产品收益;利用丹江口库区和梯田等景观资源,推动旅游业发展。(任答三点得6分)

##### 38. (14分)

(1)2016年以来,“三新”经济的增加值与其在GDP中的占比均逐年增加;“三新”经济在三次产业中增加值均逐年提高,在GDP占比中,第一产业略有下降、保持稳定,第二、三产业有所增加。(4分)

(2)“三新”经济作为新的经济形态,助推供给侧结构性改革,推动经济高质量发展;促进传统产业转型升级,优化经济结构;优化资源配置,增强企业盈利能力和市场竞争力;助力消费升级,进一步扩大内需;助力复工复产,激发经济活力。(10分)

##### 39. (12分)

坚持党的领导,凝聚脱贫力量,保证脱贫的正确方向,彰显中国特色社会主义制度的显著优势;省人大为脱贫攻坚提供法治保障,促进各项脱贫措施的落实,坚持了我国根本



政协委员利用自身优势，建言献策，发挥协商民主的独特优势；各级政府坚持对人民负责，积极履行职能；通过加强乡村治理体系和能力建设，发挥基层群众自治制度优势，激发群众脱贫内生动力。（12分）

40.（26分）

(1)价值观对人们认识和改造世界的活动有重要的导向作用，是人牛的重要向导。一代代青年站在人民的立场上，认清时代使命，勇于担当，选择了正确的人生道路；在改造社会、保卫和平、实现人民利益的伟大实践中建功立业。（12分）

(2)文化作为一种精神力量，对个人成长有深刻影响。中华民族精神是激励当代青年实现中华民族伟大复兴的强大精神动力。新时代，青年传承和弘扬中华民族精神，有利于坚定理想信念，牢记使命；树立正确的世界观、人生观和价值观，培育和践行社会主义核心价值观；促进其全面发展，成为社会主义

事业合格的建设者和接班人。（10分）

(3)示例：坚定理想信念，立志报效祖国和人民；努力学习，增长本领；积极参加社会实践活动，为全面建设社会主义现代化国家贡献力量；等等。（4分）

【评分说明】考生思想政治非选择题的答案若与参考答案不一致时，只要符合题意，言之有理，均可酌情给分。

41.（25分）

(1)原因：长期奉行重农抑商政策，影响了企业的扩大再生产；小农经济长期占据主导地位，市场不成熟；民族资本主义经济的发展；社会资本的缺乏；高利贷的盛行；余业经营融资的需要；股票转让不易，影响股东获利。（每点2分，答出任意五点得10分）

(2)不同：

融资来源：近代中国企业融资渠道少，企业可直接吸收社会存款；近代西方企业融资渠道多，商业银行等是重要来源。（2分）

获利：近代中国企业无论盈亏均需支付“官利”；西方支付股息等以企业经营状况为基础。（2分）

影响：中国——有利于企业筹措创业资金；有利于民族资本主义的发展；但“官利”也加重了企业的负担，减少了企业的资本积累。（每点2分，共6分）西方——促进了资本主义经济的发展；加速了西方的对外殖民扩张；推动了世界市场的形成与发展。（每点2分，三点共5分）

42.（12分）

评分说明：

一等：（12-9分）

①观点、结论明确，理由充分。

②能够准确、充分运用史实予以论述，逻辑严密。

二等：（8-5分）

①观点、结论明确，理由充分。

②能够运用史实予以论述，逻辑关系较清楚。

三等：（4-0分）

①有观点、结论，运用史实不够准确，逻辑关系不清。

②观点不明确，缺少论证。

(二) 选考题

43. [地理——选修3：旅游地理]（10分）

原因：航速慢，飞行高度低，便于空中观赏景点，旅行体验独特；疫情期间出行受限，游客旅行意愿强烈；免于防疫检查，可免税购物，政策支持力度大；澳大利亚疆域较大，自然风光多样，航空旅行路线丰富。（6分）

作用：促进游客消费；创新旅游形式，降低飞机闲置率，提高航空业收



44. [地理——选修 6：环境保护]（10 分）

积极作用：减轻大气粉尘污染；减少资源损耗浪费。（4 分）

优势：成本低；建设周期短；重量轻，对地基要求低，对沿海松散沉积层的适应性强；柔性结构，对台风、地震等灾害的抵御能力强。（6 分）

45. [历史——选修 1：历史上重大改革回眸]（15 分）

(1)措施：改革盐法；整顿漕运；平抑物价；颁行两税法；平叛藩镇；任人唯贤。（每点 2 分，答出任意四点得 8 分）

(2)意义：增加了政府收入（或政府财政状况有所改善）；有利于加强中央集权；缓和了社会矛盾；两税法对后世赋税制度产生深远影响。（每点 2 分，答出任意三点得 7 分）

46. [历史——选修 3：20 世纪的战争与和平]（15 分）

(1)原因：缅北、滇两战场的相互配合；爱国官兵的不怕牺牲；人民群众的大力支持；反法西斯同盟国的援助和支持；世界反法西斯有利形势的推动。（每点 2 分，答出任意三点得 6 分）

(2)重要意义：打通了中国西南国际交通补给线，支援了国内战场的抗战；有力地支援和配合了盟军的作战，对世界反法西斯战争的胜利作出了重要贡献；中国军队沉重打击了侵缅日军，提高了中国的国际影响。（每点 3 分，答出三点得 9 分）

47. [历史——选修 4：中外历史人物评说]（15 分）

(1)变化：从传统的教育救国思想到以三民主义、民主科学等思想救国，再到以马克思主义为指导建立无产阶级政党救中国的坚定信仰。（每点 2 分，共 6 分）

(2)原因：中国近代半殖民地半封建社会危机的加重；中国民族资本主义的发展；无产阶级的壮大；西方资产阶级思想和马克思主义在中国的传播；先进分子的引导和带动；中国革命形势的不断发展；家庭的影响和个人的爱国精神追求。（每点 3 分，共 9 分）

## 关于我们

自主选拔在线是致力于提供新高考生涯规划、强基计划、综合评价、三位一体、学科竞赛等政策资讯的升学服务平台。总部坐落于北京，旗下拥有网站（<http://www.zizzs.com/>）和微信公众平台等媒体矩阵，用户群体涵盖全国90%以上的重点中学师生及家长，在全国新高考、自主选拔领域首屈一指。

如需第一时间获取相关资讯及备考指南，请关注**自主选拔在线**官方微信号：**zizzsw**。



关注后获取更多资料：

回复“答题模板”，即可获取《高中九科试卷的解题技巧和答题模版》

回复“必背知识点”，即可获取《高考考前必背知识点》