

绝密★启用前

试卷类型 A

晋中市 2023 年 5 月普通高等学校招生模拟考试

文 综

(时间:150 分钟 满分:300 分)

注意事项:

1. 答题前,考生务必将自己的学校、姓名、班级、考号填写在试卷和答题卡上相应的位置。
2. 全部答案在答题卡上完成,答在本试卷上无效。
3. 回答选择题时,选出每小题答案后,用 2B 铅笔把答题卡上对应题目的答案标号涂黑。如需改动,用橡皮擦干净后,再选涂其他答案标号。回答非选择题时,将答案用 0.5 毫米及以上黑色笔迹签字笔写在答题卡上。
4. 考试结束后,将本试卷和答题卡一并交回。

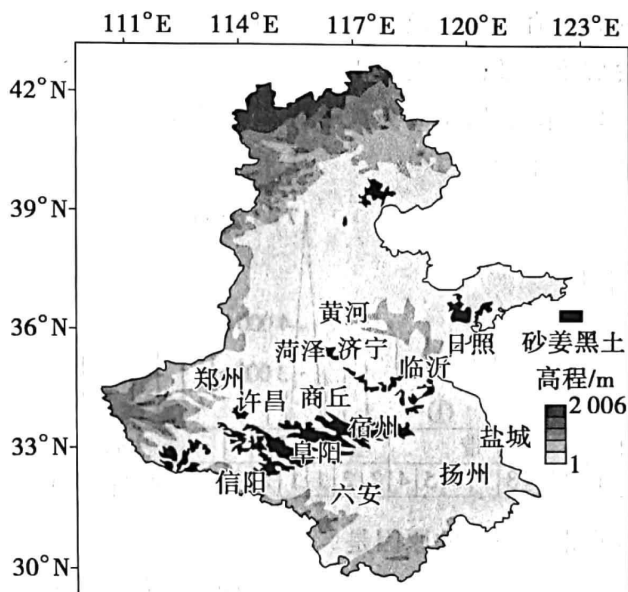
本卷共 35 小题,每小题 4 分,共 140 分。在每小题给出的四个选项中,只有一项是符合题目要求的。

W 公司是一家家族手推车企业,产品的所有部件都由自己工厂生产。该企业在全球约有 4 000 名员工(2015 年数据),远低于世界 500 强企业的体量,但在全世界的购物车中,每两辆就有一辆出自该公司。借鉴 W 公司的企业发展模式,对提升我国同类企业全球竞争力有重要意义。据此完成 1~3 题。

1. W 公司所代表的企业,最显著的特点是 ()
A. 知名度较高
B. 产品类型多样
C. 生产规模大
D. 核心竞争力强
2. W 公司产品的所有部件都由自己工厂生产,其目的是 ()
A. 缩短生产时间
B. 保证产品品质
C. 降低生产成本
D. 宣传企业文化
3. 借鉴 W 公司的发展模式,我国同类企业应 ()
①专注特定产品或领域,强调深度 ②企业愿景足够大,做全球生意 ③紧盯上游产业链,获取高利润 ④转向传统产业,减轻竞争压力
A. ①②
B. ①④
C. ②③
D. ③④

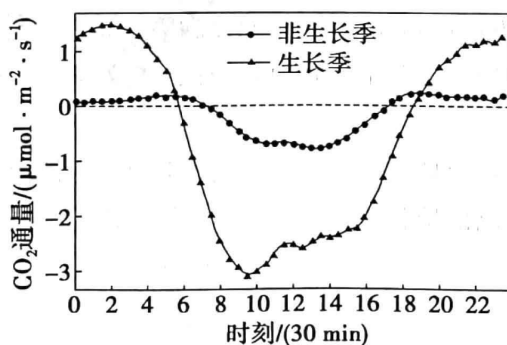
砂姜黑土(分布见下图)是我国典型的中低产田土壤类型之一,黏粒含量高且富含膨胀性黏土矿物,湿时膨胀黏闭、干时龟裂僵硬。砂姜黑土分布区易旱易涝。改良砂姜黑土,提高耕地质量,对保障我国粮食安全具有重要意义。实验证明,在利用玉米秸秆改良砂姜黑土的过程中,趁秸秆青绿时及时粉碎还田效果更佳。据此完成 4~5 题。

高三文综试题 第 1 页(共 16 页)



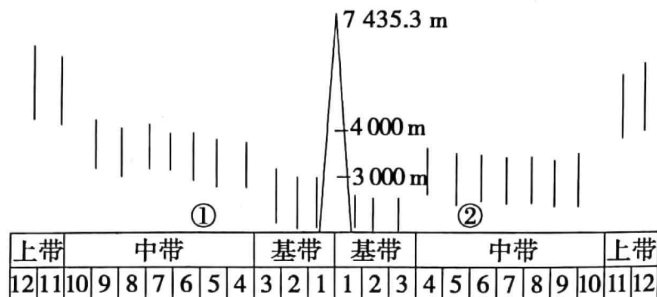
4. 砂姜黑土属于中低产田土壤的根本原因是 ()
- A. 季风气候,降水变率大 B. 土壤加剧旱涝灾害影响程度
- C. 地势低平,排水条件差 D. 重盐碱导致土地生产力低下
5. 在改良砂姜黑土的过程中,趁秸秆青绿时及时粉碎还田的直接目的是 ()
- A. 加速腐烂分解 B. 减少堆放占地 C. 提高土壤肥力 D. 防止火灾发生

二氧化碳通量是一定时间通过一定面积的二氧化碳的量,正值表示二氧化碳被排放,负值表示二氧化碳被吸收。下图示意锡林郭勒草原区生长季和非生长季二氧化碳通量日变化情况。据此完成 6~8 题。



6. 锡林郭勒草原区二氧化碳通量日变化最为剧烈的时段为 ()
- ①日出、日落前后 ②夜间和白天 ③生长季 ④非生长季
- A. ①② B. ②④ C. ①③ D. ③④
7. 与非生长季相比,生长季锡林郭勒草原区 ()
- A. 表现为碳源 B. 夜间植物呼吸作用较弱
- C. 碳汇作用小 D. 午间碳汇受气温制约大
8. 在保障牧民经济收益的基础上,能最大限度提高草地生态碳汇潜力的措施是 ()
- A. 发展“光伏+轮牧” B. 划区轮牧
- C. 储存草原生长期牧草 D. 围栏封育

由气候原因引起的各种自然灾害随山地海拔高度的增加,其发生、分布也产生相应的变化,形成山地特有的自然灾害垂直带谱。天山山地主要灾害类型有12种,可分为3个带(基带为暴雨—塌方带,中带为融水—冰冻带,上带为风吹雪—雪崩带)。下图示意天山山地自然灾害分布的垂直带谱。据此完成9~11题。



9. 天山山地自然灾害垂直带谱完整的原因是 ()
- A. 海拔高度大
B. 两侧气候差异小
C. 呈东西走向
D. 自然带界线分明
10. 图中8为热融沉降 ()
- A. ①②两坡具有对称性
B. ①坡较②坡持续时间短
C. ①坡季节融化层厚度大, 沉降量大
D. ②坡降水量丰富, 沉降深度大
11. 图中9、12表示两类雪崩。与12相比,9类型雪崩发生的季节最可能是 ()
- A. 春季
B. 夏季
C. 秋季
D. 冬季
12. 今天的中国,改革开放蹄疾步稳,科技创新大潮澎湃,区域发展活力四射,乡村振兴气象一新……广袤大地上,处处洋溢奋斗激情,处处充满美好希望。科学社会主义在二十一世纪的中国焕发出新的蓬勃生机。下列能体现“科学社会主义在二十一世纪的中国焕发出新的蓬勃生机”的是 ()
- ①社会主义运动出现了严重曲折
②中国特色社会主义的伟大实践
③中国探索民族复兴之路的历程
④新时代的中国发展的巨大成就
- A. ①③
B. ①④
C. ②③
D. ②④
13. 高扬民主与科学的《新青年》、新中国第一部现代汉语字典《新华字典》的各种版本、2001年见证中国加入世界贸易组织的木槌……走进中国国家版本馆中央总馆,“见证伟业——中华民族复兴版本展”的一件件展品震撼人心。这些成就 ()
- ①是马克思列宁主义同中国工人运动相结合的产物
②是党和人民历尽千辛万苦并付出巨大代价取得的
③在党领导人民进行社会革命的百年实践中得来的
④是人类社会发展两大矛盾运动起支配作用的结果
- A. ①③
B. ①④
C. ②③
D. ②④

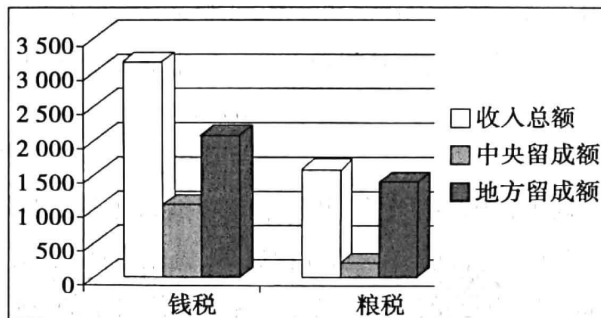
14. 党的十八大以来,我国各地先后建立起 53 万多个农村集体经济组织,理清和盘活农村“沉睡的资源”,农村集体经济资产一年比一年厚实,愈加充分的财产权益让亿万农民的增收致富渠道不断拓宽。数据显示,2022 年农民人均可支配收入首次突破 2 万元台阶,达到了 20 133 元。由此可见,农民收入增加的原因是 ()
- ①十八大以来我国农村集体经济的发展
②有效市场和有为政府共同作用的结果
③实现全体人民共同富裕的本质要求
④健全生产要素由市场决定报酬的机制
- A. ①② B. ①④ C. ②③ D. ③④
15. 先进制造业集群是产业分工深化和集聚发展的高级形式,拥有一批有国际竞争力的先进制造业集群,是制造强国的重要标志。目前,我国已建设 18 家国家制造业创新中心,拥有国家级技术创新载体 1 700 余家,培育创建了 170 多家单项冠军企业,2 200 多家专精特新“小巨人”企业,涌现出生物航空煤油等一批重要创新技术和产品。先进制造业集群的创建,有利于 ()
- ①增强企业控制力、创新力和抗风险能力
②发展实体经济,推动制造业高质量发展
③贯彻创新发展理念,建设现代市场体系
④稳定工业经济,提高制造业核心竞争力
- A. ①② B. ②④
C. ①③ D. ③④
16. 2023 年 4 月,习近平总书记在广东考察时围绕“以学铸魂”提出明确要求,在阐述“站稳人民立场”时强调,强化宗旨意识,坚守初心使命,践行党的群众路线,把人民群众满意不满意作为评判主题教育成效的根本标准,解决好人民群众最关心最直接最现实的利益问题,把惠民生的事办实、暖民心的事办细、顺民意的事办好,让现代化建设成果更多更公平惠及全体人民。以学铸魂,站稳人民立场,体现了 ()
- ①加强党集中统一领导,巩固党的执政地位
②以党员的先锋模范作用带动主题教育成效
③人民立场是中国共产党的根本政治立场
④党的理论是来自人民、为了人民、造福人民的
- A. ①② B. ①④
C. ②③ D. ③④
17. “群英断是非”工作法,是某地探索的基层治理工作法。就是在基层党组织主导下,先由利益相关方充分阐述观点,再由“群英”公开评议,引导各方往解决问题的方向交流,最终达成一致,找到解决问题的方案。“群英会”上议一议,小区闲置空地如何改造利用有了共识;“群英会”上断一断,社区设置垃圾桶集中点的问题迎刃而解;“群英会”上论一论,老旧小区改造的“优先事项”终于拍了板……这一工作法 ()

- ①体现了全过程人民民主,社会治理更好聚民智惠民生
②深化基层民主法治建设,推进基层社会治理的法治化
③增强居民群众自我管理、自我服务和自我教育的实效
④鼓励居民直接参与管理,推动基层党政权力规范建设
- A. ①②
B. ①③
C. ②④
D. ③④
18. 潘兴明是云南省农业科学院首席专家。近 40 年来,他潜心从事玉米遗传育种研究,在热带亚热带玉米种质创新、玉米品质改良、优质专用玉米新品种选育等方面取得多项突破性成果,成功解决了玉米种子同质化等重大技术难题。他率领团队累计选育出 60 余个玉米品种,推广优质玉米超 1.4 亿亩,新增产值超过 170 亿元,助力我国边疆民族地区的农民增收致富。这体现了 ()
- ①实践具有主观能动性和社会历史性
②正确认识指导实践促进事物的发展
③人们追求真理的过程并非一帆风顺
④新的认识工具提高了人的认识能力
- A. ①②
B. ①③
C. ②④
D. ③④
19. 贵州省首届“美丽乡村”篮球联赛总决赛于 2023 年 3 月 25 日在黔东南苗族侗族自治州台江县台盘村举行,没有专业的选手,没有超高难度的动作,也没有精致的啦啦队,但就是这样的业余大战,却吸引了众多粉丝的关注。从两万现场球迷的热情到网络粉丝的直播,从少数民族风情的啦啦队到当地的特色小吃……被网友亲切地称为“村 BA”。“村 BA”火爆的密码是 ()
- ①乡土文化承载人们植根于内心的乡愁
②新农村发展带动人们文化生活的需求
③全民健身运动促进文化强国战略实施
④乡村体育产业蓬勃发展助力乡村振兴
- A. ①②
B. ①③
C. ②④
D. ③④
20. 历史和实践告诉我们,中俄关系之所以能够经受住国际风云变幻考验,关键在于找到了国与国正确相处之道。结伴而不结盟、对话而不对抗、共赢而非零和,中俄关系走出的国与国正确相处之道,对于大国交往具有显著示范意义。表现在 ()
- ①大国根据国家性质和国家力量决定国与国之间交往的形式
②大国交往中,在维护自身利益的同时要兼顾他国合理关切
③国家地位平等,国际上的事应由各国政府和人民平等协商
④大国关系都应是结伴、对话和共赢而非竞争、对抗和冲突
- A. ①②
B. ①④
C. ②③
D. ③④

25. 秦朝灭亡后,刘邦据秦之地、用秦之人、承秦之制,在秦国故土推行当地人更能接受的秦国风俗法律;对于东方六国故地,则设立同姓乃至异姓诸侯王,并允许东方王国从俗而治。这些措施旨在 ()

- A. 因势利导化解紧张态势
B. 推行郡国并行之制
C. 遵循旧制促进经济发展
D. 吸取秦朝速亡教训

26. 下图为唐代中后期中央与地方税额分配图。据此可知 ()



- A. 国家税收不断增加
B. 赋税改革成效显著
C. 中央集权面临危机
D. 货币经济占据主导

27. 元代中后期,元大都“百司庶府之繁,卫士编民之众,无不仰给于江南”。元末农民起义军不断占据浙西、浙东海道以获取物资。由此可知,元代后期 ()

- A. 经济重心不断南移
B. 南粮北运出现困难
C. 民族矛盾异常尖锐
D. 区域之间贸易兴盛

28. 1899年,新加坡潮州籍侨商募银支援山东省赈灾,清政府为新加坡天后庙颁“曙海祥云”匾额;1900年,黄河决口,南洋巨商张振勋回南洋募捐百万两白银用于赈灾,清政府为此赐其“急公好施”牌匾,竖于其故乡潮州大埔县。这反映出 ()

- A. 华侨在晚清赈灾体系中占据主导
B. 晚清近代民族国家观念已经形成
C. 华侨参与国内赈济凸显家国认同
D. 晚清政府及时调整闭关锁国政策

29. 下面为1931—1932年鄂豫皖苏区人口总数及红军战士人数表。据表可知 ()

时间	苏区人口总数	苏区红军战士人数
1931年4月	250万人	正规军2万人
1932年6月	350万人	正规军4.5万人,地方武装20余万人

- A. 中共土地政策适应形势发展
B. 国内政治经济形势有所缓和
C. 新民主主义革命道路的确立
D. 国共两党力量对比发生变化

30. 古希腊哲学家亚里士多德在《政治学》一书中记载了当时普遍流行的说法:“正如人们谈论风向时,只有北风和南风,其他都是二者的变体,政体亦是只有两类,即民主制和寡头制。”在同时期的阿提卡演说词中,民主制和寡头制也往往被视为黑白分明、相互对立的政体。这反映了当时 ()

- A. 民主制度普遍受欢迎
B. 公民政治走向衰落
C. 平民和贵族矛盾尖锐
D. 城邦政体形式单一
31. 14 世纪以来,英国传统社会结构逐渐式微,从教俗贵族和劳动者中分化出乡绅和城乡中产阶级。14—16 世纪,英国议会制订了 11 部禁奢法令,详细规定了全国各阶层的饮食标准,以及各等级尤其是新兴阶层的服饰消费标准。这反映出当时英国 ()
A. 议会主权地位确立
B. 商品经济发展迅速
C. 等级制度逐渐瓦解
D. 禁欲主义观念盛行
32. 20 世纪,科学哲学家托马斯·库恩指出:“《天体运行论》的意义不在于它自己说了什么,而在于它使得别人说了什么,这本书引发了它自己并未宣告的一场革命。”作者意在强调《天体运行论》 ()
A. 彻底颠覆了教会的权威
B. 拉开近代科学革命帷幕
C. 宣告了理性时代的降临
D. 推动牛顿力学体系形成
33. 据记载,1840—1843 年英国议会批准建造铁路的法案每年不过 10 个,而 1844 年有 37 个,1846 年 219 个;被核准建造铁路的里程和资金额在 1843 年底以前总共大约为 3 662 公里和 8 380 万英镑,而 1846 年就有 7 302 公里和 13 260 万英镑。这说明当时英国 ()
A. 政府对经济干预的增强
B. 铁路建设速度领先世界
C. 交通运输网络已经形成
D. 快速发展中潜藏着危机
34. 有学者认为,相比于一战,二战持续时间更长、战争的残酷性更强,但二战的胜利迅速将那个依靠霸权、殖民统治来实现资本无限积累,依靠战争和掠夺来稳固资本扩张基础的“帝国主义时代”淘汰出局了。这一观点意在说明 ()
A. 二战的破坏性远高于一战
B. 帝国主义时代终结于二战的胜利
C. 战后国际新秩序已经形成
D. 国际政治观念演进付出巨大牺牲
35. 1985 年 6 月,苏联启动新一轮高等教育改革,相关文件规定,高等学校应培养“具有牢固的马列主义知识”“具备现代经济思维,从事管理、组织和教育工作的能力”“大胆作出有关革新的决定并积极付诸实施的能力”的人才。这些要求 ()
A. 是苏联加速经济发展战略的举措
B. 促成了苏联高校发展的良好局面
C. 以加强思想政治素质为根本宗旨
D. 试图引领新技术革命的发展方向

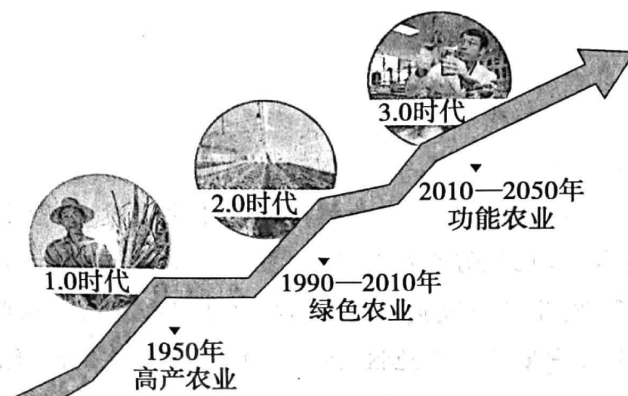
本卷共 9 小题,共 160 分。

36. (28 分)阅读材料,完成下列各题。

功能农业是指在天然富含有益成分的土地、生境中生长或通过生物营养强化及其他生物技术手段,培育出能定量满足人体所需微量元素,具有增强体质、防止及控制疾病等功能农产品的农业生产过程。功能农业被认为是农业发展的 3.0 时代,这一时代赋予农业新的内涵。目前全世界有 20 亿以上,中国有近 3 亿人正遭受微量营养素缺乏,发展功能农业是解决这一世界难题的关键,也是大健康战略背景下我国农业发展的必然选择。

高三文综试题 第 8 页(共 16 页)

硒是一种具有抗氧化、增加免疫、拮抗重金属危害等作用的微量元素。我国有72%的国土缺硒,农产品营养素有效供给不足。江西省是我国富硒土壤优势分布区,当地依托这一优势,开发富硒功能农业。产业发展初期,受规模、产业标准、同质化等影响,发展缓慢。2022年12月,当地出台政策,提出建设富硒农产品基地,借助富硒功能农业数字化平台,发展集研发、生产、加工、销售、储运、体验、服务为一体的全链产业,形成富硒产品标准高地,让“最好的富硒农产品在江西”唱响全国,打造乡村振兴样板之地。下图为农业发展阶段示意图。



(1)归纳 3.0 时代农业新内涵的特征。(6 分)

(2)分析“发展功能农业是我国农业发展必然选择”的原因。(8 分)

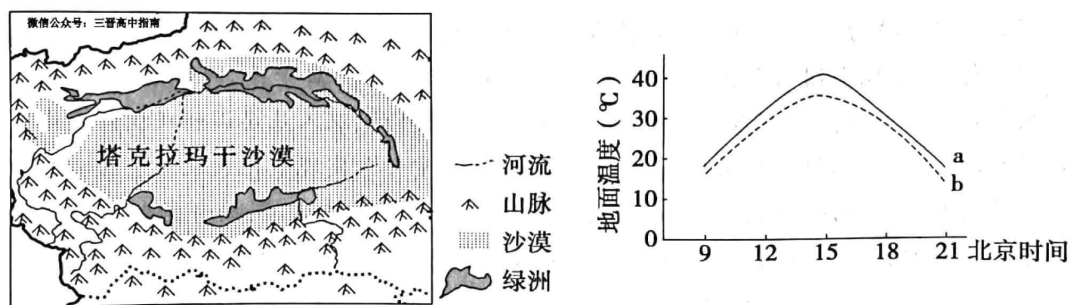
(3)推测功能农业发展初期可能面临的问题。(6分)

(4)简述江西省制定产品标准、发展全产业链生产对富硒功能农业发展的作用。(8分)

37. (28分)阅读材料,完成下列各题。

塔克拉玛干沙漠(左图)位于塔里木盆地中心,平均年降水量不超过100毫米,蒸发量高达2500~3400毫米。该地气候干旱,昼夜温差达40℃以上。全年有三分之一是风沙日,大风风速每秒达300米。塔克拉玛干沙漠沙粒多为细沙和粉沙,在自然状态下很难发育成熟土壤。研究小组发现,在无风和微风的天气下,沙漠会出现热力扬尘,造成绿洲草地退化。右图示意5月某日塔克拉玛干沙漠与绿洲草地地表温度状况。

2023年3月下旬,主要来自境外的沙尘在我国北方狂飙,多地发布沙尘黄色预警。过去的几年,我国高度重视生态文明建设,取得显著成效。《联合国防治荒漠化公约》执行秘书在中国考察时表示中国有对全人类非常重要的可复制、可推广、可持续的全球最佳的治沙模式,可以为建设清洁美丽的世界贡献中国智慧和方案。如今沙尘突然来袭,人们感慨:中国是时候引领更多国家治理荒漠化,发挥一个负责任大国的担当了。



高三文综试题 第10页(共16页)

(1)推测塔克拉玛干沙漠沙粒多细沙和粉沙的原因。(8分)

(2)结合土壤发育过程,分析塔克拉玛干沙漠难以发育成熟土壤的原因。(6分)

(3)指出该地热力扬尘最强的时段,并用地理原理进行解释。(8分)

(4)请对“中国引领荒漠化治理,发挥大国担当”谈谈自己的看法。(6分)

38. (10分)阅读材料,完成下列要求。

近五年来,科技部共承办全国人大建议2702件、全国政协提案2650件,建议提案涉及国家战略科技力量、基础研究、科技成果转化等诸多重要方面。科技部高度重视建议提案办理工作,把办理全国人大代表建议和政协委员提案作为问需于民、问计于民、问策于民的重要途径。通过“请进来”召开座谈会,“走出去”登门拜访、深入基层调研及视频连线交流等方式广泛听取意见,科技部与代表委员们实现“常来常往”,实现了把代表委员的真知灼见转化为推动科技创新发展的强大动能。通过吸纳代表委员的建议,科技部编制完成了新一轮国家中长期科技发展规划,接续部署实施了科技体制改革三年攻坚方案,最大限度激发各类创新主体和科研人员的积极性、创造性。

高三文综试题 第11页(共16页)

结合材料,运用政治与法治的知识,说明科技部、全国人大代表和政协委员是如何发挥在推动科技创新方面的作用的。

39. (10分)阅读材料,完成下列要求。

党的十八大以来,以习近平同志为核心的党中央高度重视调查研究工作。通过历史看现实、透过现象看本质,把握好全局和局部、当前和长远、宏观和微观、主要矛盾和次要矛盾、特殊和一般的关系,整体性推进党和国家各项事业不断发展。从脱贫攻坚战中看实情、看真贫,走遍全国14个集中连片特困地区,到“十四五”规划编制时开门问策、集思广益,召开一系列座谈会听取意见建议,再到多次围绕国家重大规划、重大决策开展网络征求意见,扎实开展调查研究,把加强顶层设计和坚持问计于民统一起来,既有效提高了决策的科学性、有效性,又推动各项工作落地落实。

运用辩证思维的知识,说明十八大以来党中央是如何开展调查研究工作的。

40. (20分)阅读材料,完成下列要求。

只有命运与共,世界才有前途

◆提出

习近平主席在联合国日内瓦总部万国宫发表重要演讲,这样描绘世界应有的样子——持久和平、普遍安全、共同繁荣、开放包容、清洁美丽——这就是人类命运共同体的清晰蓝图,这就是人类“大同”理想的当代版本。

习近平总书记10年前发起的“一带一路”倡议,已成为各方共建、世界共享的优质国际公共产品。中欧班列迄今开行6万5千列,是联通亚欧的“钢铁驼队”;中老铁路让老挝从“陆锁国”变成“陆联国”;佩列沙茨跨海大桥建成通车,圆了克罗地亚人民南北领土相连的梦想……

高三文综试题 第12页(共16页)

(1)结合材料,运用当代国际政治与经济的知识,说明构建人类命运共同体的中国实践的意义。(8分)

◆路径

走向“大同”,任重道远;唯有“共同”,才能抵达。在中国人看来,真正追求世界和平,就要对话协商;真正造福天下苍生,就应共建共享。10年来,和平、发展、公平、正义、民主、自由的全人类共同价值日益深入人心,建设持久和平、普遍安全、共同繁荣、开放包容、清洁美丽的世界,成为越来越多国家的共同追求。

世界是各国人民的世界,世界的命运必须由各国人民共同掌握。人类命运共同体理念,之所以深刻影响世界,是因为其守正创新行正道,下自成蹊成大道。这条正道,最符合世界绝大多数人的共同利益。这条大道,不断有人加入进来,大道越走越宽广。

人类命运共同体方案,是“中国发起”,更是“大家一起”。

(2)结合材料,运用价值判断与价值选择的知识,说明人类命运共同体方案,为什么是“中国发起”,更是“大家一起”。(8分)

◆未来

(3)结合上述两则材料,运用所学思想政治的知识,以“守正创新的正道”为主题撰写一篇短评。(4分)

要求:①围绕主题,观点明确;②论证充分,逻辑清晰;③学科术语使用规范;④总字数在150字左右。

41. (12分) 阅读材料, 完成下列要求。

孟先生 2020 年 1 月与某旅行社签订旅游合同, 委托旅行社代订机票和酒店, 并交纳 2 万元, 约定 2 月 1 日出发, 还约定因不可抗力导致无法履行的, 旅行社退还孟某未实际发生的费用。

合同签订后, 因暴雨航班延误, 孟先生无法出行, 遂通知旅行社退团、返还全部费用, 被旅行社拒绝。旅行社辩称: 合同签订后就向酒店支付了全款, 向当地接待的旅行社支付了部分费用, 已经开始履行合同, 不同意退款。可孟先生觉得之前合同明明规定这种情况是可以退费的, 旅行社这样做侵犯了自己的合法权益。

(1) 结合材料, 运用法律与生活的相关知识, 分析本案例中孟先生应如何实现自己的权益, 请说明理由。(6分)

(2) 结合材料, 运用法律与生活的有关知识, 说明本案例对旅行社的经营活动的启示。(6分)

42. (25分) 阅读材料, 完成下列要求。

材料一 士绅阶层源远流长, 但直到明清时期才逐渐成为一个群体, 并在乡村治理中发挥其相应的功能。明清士绅阶层鼓舞民众开垦荒地, 种植粮食作物, 修建农业灌溉设施; 带领乡民开山架桥, 修建道路, 并定期修整维护道路; 躬体力行, 传授经典, 传播传统道德信条。每逢粮食歉收、灾荒年份、乡民生活窘困之时, 士绅阶层筹资筹粮, 开设粥棚, 赈济乡民。士绅阶层带领乡村民众制定乡规民俗, 对地方进行自我管理、自我服务。士绅阶层有时候还凭借其特殊的社会地位, 无情地剥削乡里民众, 强迫民众为其劳动服务。在调解处理乡民诉讼纠纷时, 士绅阶层有时也会因为收受贿赂, 导致调解判罚的偏颇。

——摘编自李富豪、罗运胜《论明清士绅在乡村治理中的角色及其对当今乡村振兴的启示》

材料二 近代以来, 中国社会面临“千古未有之大变局”, 保甲废弛, 政府对乡村治理进行了适度调整与变革。晚清政府仿效日本推行地方自治, 在乡村推行了一系列积极有效且具有现代治理色彩的举措, 如兴办新式教育、制定村规民约和发展乡村经济等。1915年, 民国政府在清末制度设计的基础上相继颁布了《地方自治试行条例》及《施行细则》, 最早确立了现代意义上的乡村自治模式。1920年代, 乡村建设运动渐成风尚, 众多社会精英投身其中, 中国乡村建设呈燎原之势, 600多个乡村学术团体和教育机构参与其中, 通过兴办教育、改造农业、流通金融、提倡合作、办理防卫, 复苏日趋衰落的农村经济, 实现“民族再造”与“民族自救”。

——摘编自冯俊锋、唐琼《清末民初中国乡村治理再考察》

高三文综试题 第 14 页(共 16 页)

材料三 民族要复兴,乡村必振兴。进入实现第二个百年奋斗目标新征程,“三农”工作重心已历史性转向全面推进乡村振兴。各级党委和政府要贯彻党中央关于“三农”工作的大政方针和决策部署,坚持农业农村优先发展,加快农业农村现代化,让广大农民生活芝麻开花节节高。

——习近平 2021年9月向全国广大农民和工作在“三农”战线上的同志们致以节日祝贺和诚挚慰问

(1)根据材料一并结合所学知识,概括明清时期士绅在乡村治理中的功能并分析其不足。(10分)

(2)根据材料二并结合所学知识,说明清末民初中国乡村治理的特点并分析其原因。(12分)

(3)根据以上材料并结合所学知识,谈谈你对乡村振兴的认识。(3分)

43. (12分)阅读材料,完成下列要求。

材料 书籍是传播知识的工具,是传承文化的载体,是推动人类社会进步的力量。

书籍名称	书籍的力量
《史记》	示例:西汉史学家司马迁撰写,以本纪、表、书、世家、列传的形式,叙述了上起黄帝、下至汉武帝年间约三千年的历史,首创了纪传体通史体裁,是一部兼具史学和文学特色的不朽名著
《海国图志》	
《新民主主义论》	
《查士丁尼法典》	
《马可·波罗行纪》	
《共产党宣言》	

根据材料并结合所学知识,任选表格中两种书籍,参照示例说明其为推动人类社会进步所发挥的力量。(要求:书名准确,逻辑清晰,观点明确)

44. (15分)阅读材料,完成下列要求。

材料 二战后,东亚在实现高速增长与社会进步的过程中也表现出了一些共同之处,国家努力保持发展中的较高程度的政治稳定,增强社会的内聚力制定维护主权与独立的工业化计划,采取保护民族经济政策,以强制的劳工政策调整公私的利益冲突,保证社会公平与福利等。在东亚的重新崛起中,儒家的“行仁政”的思想、家族本位思想与家族伦理秩序、重视教育与机会均等的教育思想扮演了有利于现代化的因素。甚至有的西方学者认为“儒教伦理”在东亚现代化中扮演的角色比新教伦理在欧洲所起的作用还要大。

——摘编自罗荣渠《东亚跨世纪的变革与重新崛起》

(1)根据材料并结合所学知识,概括二战后东亚现代化取得重大成就的因素。(8分)

(2)根据材料并结合所学知识,简析东亚现代化进程的历史启示。(7分)

关于我们

自主选拔在线是致力于提供新高考生涯规划、强基计划、综合评价、三位一体、学科竞赛等政策资讯的升学服务平台。总部坐落于北京，旗下拥有网站（[网址：www.zizzs.com](http://www.zizzs.com)）和微信公众平台等媒体矩阵，用户群体涵盖全国 90% 以上的重点中学师生及家长，在全国新高考、自主选拔领域首屈一指。

如需第一时间获取相关资讯及备考指南，请关注**自主选拔在线**官方微信号：**zizzsw**。



自主选拔在线

