

试卷类型：A

潍坊市高考模拟考试

历史

2023. 2

注意事项：

1. 答题前，考生先将自己的学校、姓名、班级、座号、考号填涂在相应位置。
2. 选择题答案必须使用2B铅笔（按填涂样例）正确填涂；非选择题答案必须使用0.5毫米黑色签字笔书写，绘图时，可用2B铅笔作答，字体工整、笔迹清楚。
3. 请按照题号在各题目的答题区域内作答，超出答题区域书写的答案无效；在草稿纸、试题卷上答题无效。保持卡面清洁，不折叠、不破损。

一、选择题：本大题共15小题，每小题3分，共45分。在每小题列出的四个选项中，只有一项是符合题目要求的。

1. 二里头文化以洛阳盆地的二里头遗址为中心，直接控制范围在方圆200公里内。图1为二里头文化兴盛期，具其文化风格的陶酒器（盃、鬲、爵、觚）分布的情况。据此可知在当时

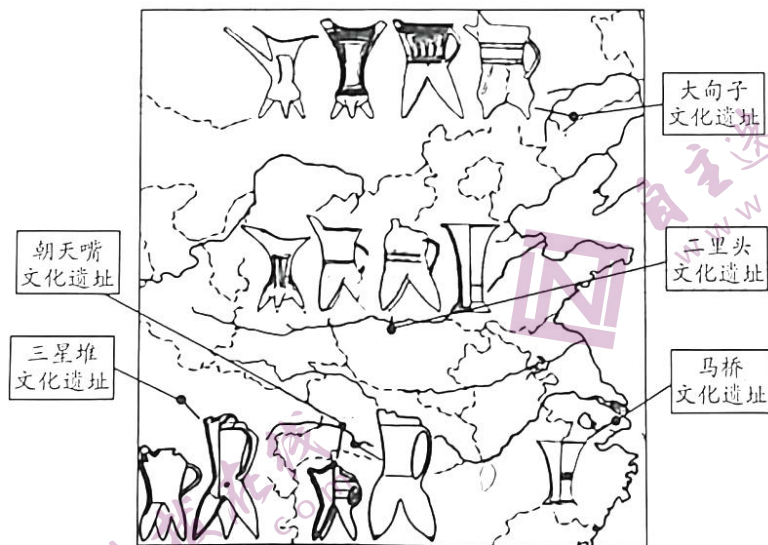


图1

- A. 大一统秩序已建立
- B. 手工业生产水平较高
- C. 阶级分化日趋明显
- D. 形成了地域核心文化

高三历史 第1页（共8页）

7. 表1为1933年中央苏区部分商品进出口的关税税率表。据此可知，苏区关税征收在当时

表1

出口货物		进口货物	
货物	税率	货物	税率
竹	3%	西药	3%
木	3%	酒	50%
家禽	5%	洋参	100%
煤	30%	盐	免税
米谷	50%	铁	免税

注：此处关税指中央苏区和国民党统治区贸易中需向苏区缴纳的税种。

- A. 适应了民族战争的需要
B. 有利于巩固根据地政权
C. 保障了战略物资的供应
D. 旨在增加苏区财政收入
8. 1961年，法国官员访华时表示，中法建交必须在阿尔及利亚问题解决之后。陈毅外长回答说：我们对中法建交可以等待，但我们对阿尔及利亚人民在政治、经济和军事上的支持，将一直持续到他们的独立斗争取得胜利为止。这说明中国致力于
- A. 践行和平共处五项原则
B. 支持世界非殖民化运动
C. 促进非洲国家经济发展
D. 推动世界的多极化趋势
9. 表2为浙江枫桥镇干部群众创造的“枫桥经验”在不同时期的表现，此表反映了我国的基层治理

表2

时期	“枫桥经验”
社会主义革命与建设时期	以柔和的方式教育改造“四类分子”，在全国率先给“四类分子”摘帽，恢复其社会评价。
改革开放和社会主义现代化建设新时期	实行专群结合、群防群治，被广泛应用于社会治安综合治理和基层社会稳定。
中共十八大以来	把数字法治融入基层治理全过程，建立智慧治理中心、矛盾纠纷调处中心，提供“一站式服务”“组团式服务”等。

- A. 继承民本思想崇德尚贤
B. 基于法治维护基层稳定
C. 依据时代发展不断创新
D. 创新科技提升治理效率
10. 图3是出土于阿富汗的公元前3世纪的饰板，天空中是希腊太阳神赫利俄斯，背生双翅、手持长棍和缰绳驾车的是希腊胜利女神妮可，车上头戴皇冠的是希腊自然女神西布莉，车子具有波斯风格。据此可知
- A. 该饰品体现多元文化交汇
B. 东西方商贸联系十分密切
C. 希腊文化与西亚文化同源
D. 中亚已出现政教合一国家



图3

11. 12 世纪初，法国琅城居民向主教高德理和国王路易六世买回城市自治权。但是，高德理又要重新统治琅城。1112 年，琅城居民起义，成立“公社”，杀死高德理等人。1128 年，路易六世颁发特许状，承认琅城自治。由此可知
- A. 天主教的统治地位受到冲击 B. 市民采取多种方式维护自身权益
C. 法国封君封臣制度逐步瓦解 D. 城市自治得益于王权与教权斗争
12. 1635 年，英国人塞尔登在其著作中宣称，“封闭的海洋”就是通过权利和占领而被分割开来，因而不再为人类共有的海洋。该著作在英国国王授意下出版，成为“长达一个多世纪的英国官方原则的公认基础”。该著作
- A. 推动了全球航路的开辟 B. 奠定了国际法的理论基础
C. 适应了海外扩张的需要 D. 缓和了欧洲国家间的矛盾
13. 1841 年，某学者指出：“（德意志）还不能编制棉纱和麻纱以适应它自己的需要，还没有能从热带地区直接输入它所需要的殖民地产品，用它自己制造的工业品来偿付，还没有用它自己的船只来经营这类贸易，还没有方法来保护它自己的国旗，还没有完善的内河、运河和铁路运输系统。”该学者强调
- A. 长期分裂阻碍德意志工业化 B. 德意志民族认同意识有待加强
C. 自由放任政策存在严重缺陷 D. 近代交通对国家实力的重要性
14. 1894 年，恩格斯指出：无产阶级获得国家政权后，“将竭力设法使他们（小农）的命运较为过得去一些，如果他们下了决心，就使他们易于过渡到合作社，如果他们还不能下这个决心，那就甚至给他们一些时间，……能被我们争取过来的农民人数越多，社会改造的实现也就会越迅速和越容易”。这一主张意在
- A. 强调社会革命条件已成熟 B. 建设高度集约的现代大农业
C. 建立社会主义的经济基础 D. 调动农民阶级的生产积极性
15. 根据 1958 年美苏签订的交流协议，双方进行国家展览交流，“目的是展示国家的成就”。美国展出的主要是较高的生活水平、丰富的消费品；苏联的展品主要以喷气式飞机、汽车、水力发电装置、国家农场等。美苏间的交流活动
- A. 旨在展示两国的经济实力 B. 深受冷战思维的影响
C. 缓和了美苏间的紧张关系 D. 顺应了全球化的趋势

二、非选择题：本大题共4小题，第16题17分，第17题12分，第18题14分，第19题12分，共55分。

16. (17分) 阅读材料，回答问题。

汉武帝与“罢黜百家，独尊儒术”

目前所见最早而确切的“罢黜百家，独尊儒术”出处，是蔡元培于1910年所著《中国伦理学史》。1916年，易白沙在《青年杂志》上发表《孔子评议上篇》，对“罢黜百家，独尊儒术”进行了论述。这一观点，为清末民初的学者所普遍接受，其影响直至上世纪90年代。近年来，不少学者对这一观点提出了疑问。

【资料夹】

①关于董仲舒：司马迁（前145年或前135年~不可考）曾问学董仲舒（前179年~前104年），在《史记》中以三百余字简述其生平，对其学术成就，仅说：“终不治产业，以修学著书为事，故汉兴至于五世之间，唯董仲舒名为明于《春秋》，其传《公羊氏》也”。

②关于《春秋繁露》：《春秋繁露》是董仲舒代表作，其中多篇以“阴阳”或“五行”命名，如《五行对》《五行之义》《阴阳位》《阴阳义》等，除阴阳家外，董仲舒思想又杂有道、法、墨等成分，如道家的顺应天道、清静无为，法家的君尊臣卑、循名责实，墨家的天志、尚同、明鬼等，均被董仲舒吸收改造。

③关于“罢黜百家”：班固（公元32年~公元92年）在《汉书·武帝纪》的中说：汉承百王之弊，高祖拨乱反正，文、景务在养民，至于稽古礼文之事犹多阙焉。孝武初立，卓然罢黜百家，表章六经。

④关于汉代诸子之学：近代学者吕思勉考察《汉书·艺文志》指出“诸子十家，惟名、墨二家无秦、汉人著述；《兵书略》中《兵阴阳家》及《数术略》《方技略》各四家，有无秦、汉人著述不明；余率皆有，或颇多。”又根据《史记》《汉书》《三国志》探讨诸子百家在秦、汉传承，指出：“秦、汉之世，百家之学，见于《史》《汉》《三国志》纪、传者如此，合《汉志》所载之书观之，诸学之未尝废绝；弥可见矣。安得谓一经汉武之表章罢黜，而百家之学，遂微不足道邪？”

【人教社普通高中教材关于“罢黜百家，独尊儒术”的表述调整】

表3

<p>董仲舒适应汉武帝加强中央集权的需要，提出“春秋大一统”和“罢黜百家，独尊儒术”的主张。……汉武帝接受董仲舒“罢黜百家，独尊儒术”的建议，并付诸实行。</p> <p>——《历史必修③》（2004年版）</p>	<p>汉武帝继位后，加强中央集权……思想上，接受董仲舒的建议，尊崇儒术。此后，儒学成为我国封建社会的主流意识形态。</p> <p>——《中外历史纲要（上）》（2019年版2022年印刷）</p>
--	---

(1) 运用资料夹中的材料，对汉武帝是否“罢黜百家，独尊儒术”进行探讨。(13分)

(2) 人教版普通高中教材关于“罢黜百家，独尊儒术”的表述做了相应调整，这一调整有何意义？(4分)

17. (12分) 阅读材料, 回答问题。

材料一

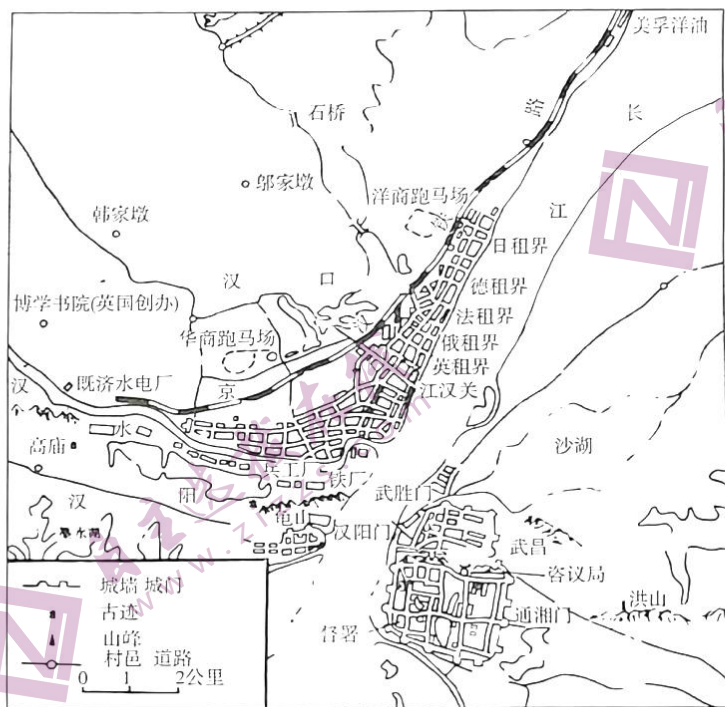


图4 晚清武汉地图

材料二 辛亥革命曷为成功于武昌乎? 论者……精神上、物质上皆比较彼时他省为优。以是之故, 能成大功。虽为公所不及料, 而事机凑巧、种豆得瓜。

——摘编自张春霖《张文襄公治鄂记》

根据材料一并结合所学知识, 对材料二中“(武汉)精神上、物质上, 皆比较彼时他省为优。以是之故, 能成大功”的观点进行论证。(12分)

18. (14分) 阅读材料，回答问题。

南阳供销合作社：过往与新生

1950年7月全国合作社工作者第一届代表会议后，我国开始建立各级合作社，全国总社、河南省社、南阳专区社先后成立，1950年10月，南阳县供销社系统逐步形成。

社会主义改造、建设时期，供销社为新中国建设事业做出了突出贡献。1950至1953年南阳县供销社系统向农村供应了小麦、玉米、食盐、土布、肥皂、火柴等27种生活资料，供应铁锹、镰刀、犁铧等15种生产资料，并开始供应农药、化肥、药械及新式农具等。同时，为国家收购和为农民推销农副产品如土布、活猪、烟叶、棉花共20余种。1953年南阳县遭受罕见霜灾，供销合作社系统受国家委托，以低价向灾民供应粮食，全年共代销粮食约1500万斤。图5为1951~1954年供销社、私商、国营在南阳县商品流转额中的比重变化情况。

改革开放初期，在市场化大潮冲击下，供销社经营出现困境。1995年中共中央下发《关于深化供销合作社改革的决定》，根本目标是把供销合作社真正办成农民自己的合作经济组织。南阳供销系统先后通过设立村级综合服务站等机构，不断完善供销社“支农”服务体系，为农民提供急需的服务。表4为1994~1998年南阳县供销社系统支农服务体系建设情况。

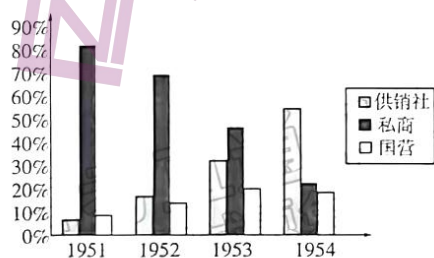


图5

表4

组织名称	1994	1995	1996	1997	1998
综合服务站(个)	62	110	150	193	193
庄稼医院(个)	13	13	21	44	44
机防队(个)	7	7	13	14	14
专业合作社(个)	1	2	5	14	39
科技示范田(亩)		13961	28169	25000	25000

——摘编自李建中《南阳县供销合作社研究(1949—2010)》

根据材料并结合所学知识，对不同时期农村供销合作社的职能作出合理解释。(14分)

19. (12分) 阅读材料, 回答问题。

凡尔赛宫: 标志与象征

材料一 凡尔赛位于巴黎西南郊。17世纪60年代, 为远离暴乱频发的巴黎, 路易十四在此兴建凡尔赛宫, 王室成员和贵族在其中极尽奢华。1789年法国大革命爆发前的三级会议在此召开, 第三等级的代表们在这里进行了著名的“网球场宣誓”。1789年10月, 路易十六在巴黎民众的压力下返回首都, 凡尔赛宫作为法国政治中心的历史就此终结。

在王室离开以后, 围绕凡尔赛宫的命运曾产生过争论, 部分民众要求摧毁其中的宫殿和花园, 以示对专制统治的打击, 但最终被议会以“凡尔赛宫是祖国的财产”为由制止。

1799年拿破仑发动雾月政变, 结束了法国大革命以来长达十年的混乱状态。拿破仑提过对凡尔赛宫的规划: (我) 将使其成为我们取得的胜利和我们民族的荣耀的永恒丰碑, 雄踞于欧洲首都的大门前, 供来自世界各地的人们参观。

1815年波旁王朝复辟, 路易十八下令恢复凡尔赛宫的最初用途——王室的居所, 招致巨大阻力, 同时复辟王朝无力对凡尔赛宫进行大规模的修缮, 使这一计划搁置下来。

1830年七月革命以后, 法国进入了一个相对稳定的时期。国王路易·菲利普在1833年颁布法令, 将凡尔赛宫改造为一座具有公共属性的“历史博物馆”, 用来记录能够体现法国光辉历史的重大历史事件。

——摘编自荆文翰《从破坏到保护: 法国大革命以来国家遗产政策研究》

材料二 从1870年起, 在不到一个世纪的时间里, 法德三次兵戎相见。普法战争后, 威廉一世选在凡尔赛宫镜厅登基, 加冕为德意志帝国皇帝; 一战后的议和条约也被选在凡尔赛宫签订, 埋下了德国20年后挑起更大战争的祸根。二战后, 法德在冷战的威胁下, 终于出现和解的契机。

——摘编自吴于廑、齐世荣《世界史》

(1) 根据材料一, 简析法国大革命以来人们对凡尔赛宫的不同态度。(6分)

(2) 结合材料二法德关系的史实, 对凡尔赛宫遗产价值进行解读。(6分)

关于我们

自主选拔在线是致力于提供新高考生涯规划、强基计划、综合评价、三位一体、学科竞赛等政策资讯的升学服务平台。总部坐落于北京，旗下拥有网站（[网址: www.zizzs.com](http://www.zizzs.com)）和微信公众平台等媒体矩阵，用户群体涵盖全国90%以上的重点中学师生及家长，在全国新高考、自主选拔领域首屈一指。

如需第一时间获取相关资讯及备考指南，请关注**自主选拔在线**官方微信号：**zizzsw**。



微信搜一搜

自主选拔在线