

绝密★启用前

高三年级 2022~2023 学年 4 月份模拟考

文科综合

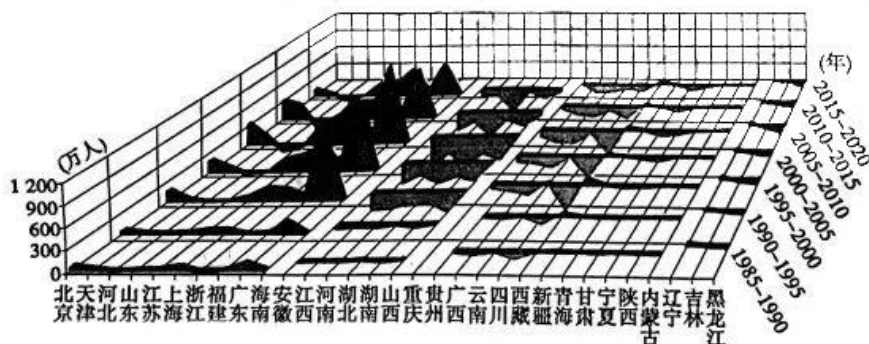
全卷满分 300 分,考试时间 150 分钟。

注意事项:

1. 答卷前,考生务必将自己的姓名、准考证号填写在答题卡上,并将条形码粘贴在答题卡上的指定位置。来源:高三答案公众号
2. 回答选择题时,选出每小题答案后,用铅笔把答题卡上对应题目的答案标号涂黑。如需改动,用橡皮擦干净后,再选涂其他答案标号。回答非选择题时,将答案写在答题卡上。写在本试卷上无效。
3. 考试结束后,将本试卷和答题卡一并收回。
4. 本卷主要考查内容:高考范围。

一、选择题:本题共 35 小题,每小题 4 分,共 140 分。在每小题给出的四个选项中,只有一项是符合题目要求的。

改革开放以后,我国跨省区人口迁移规模和方向发生了较大的变化。下图为 1985~2020 年我国省际人口净迁移量(峰面向上为正,峰面向下为负)统计图。读图,完成 1~3 题。



1. 我国省际人口迁移的特征为
 - A. 人口迁移规模不断上升
 - B. 东部沿海省区迁入量均多
 - C. 中部地区人口迁出量多
 - D. 西部省际人口迁移差异小
2. 1985~2020 年我国省际人口迁移的主要影响因素是
 - A. 西部大开发政策
 - B. 省区间经济差异
 - C. 省区间环境差异
 - D. 自然资源的分布
3. 未来我国省际人口迁移
 - A. 分散化趋势显著
 - B. 规模持续减小
 - C. 空间平衡性减弱
 - D. 迁移方向反转

福建省晋江市东南部濒临台湾海峡,快速城镇化导致城市热岛效应加剧,给居民生活和城市发展带来了巨大影响。海陆风是由海陆温差引起的中小尺度热力环流,某研究小组为了研究海陆风与城市热岛的关系,对晋江市典型海陆风日(海陆风日的基本特征是昼夜风向变换,且海陆风的风向具有持续性)风向进行统计,得出其海风时段(13:00 至 17:00)风向变化示意图(见下图)。读图,完成 4~5 题。

【高三文综 第 1 页(共 12 页)】

9. 早期城区选址建设的有利条件可能是
A. 地势平坦开阔 B. 煤铁资源丰富 C. 战略防御安全 D. 气候凉爽湿润
10. 功能区甲适宜规划为 来源：高三答案公众号
A. 工业区 B. 高级住宅区 C. 商业区 D. 产业物流区
11. 近年来该城市的新城区逐渐向东南部发展，主要得益于
A. 优美的自然环境 B. 充足的就业机会
C. 丰富的煤铁资源 D. 便利的交通运输
12. 方向决定道路，道路决定命运。党的十九届六中全会决议将“坚持中国道路”列为具有根本性和长远指导意义的十条历史经验之一。脚踏中华大地，传承中华文明，走符合中国国情的正确道路，党和人民就具有无比广阔的舞台，具有无比深厚的历史底蕴，具有无比强大的前进定力。这启示我们要
①回看走过的路，以曾有的辉煌激发前行的动力
②借鉴别人的路，注意吸取他国之路的优点经验
③远眺前行的路，坚定中国特色社会主义道路自信
④独辟蹊径走自己的路，打破人类社会发展规律的桎梏
A. ①② B. ①③ C. ②④ D. ③④
13. 从江南水乡到白山松水，从扎实推进农村土地制度改革到稳步推进农村集体产权制度改革，农村改革的音符汇聚成动人的旋律。从两亿多农户领到土地承包经营权证、吃上“定心丸”，到集体产权归属更明了、农民财产权利更多了，强农惠农富农，广袤沃野上铺展共同富裕的壮丽画卷。农村集体产权的改革有利于
①明确农民的集体土地所有权，调动农民积极性
②明晰农村集体产权归属，激发集体经济的活力
③放活经营权，培育新型经营主体，发展适度规模经营
④承包权的自由转让，促进农村一、二、三产业的融合
A. ①③ B. ①④ C. ②③ D. ②④
14. 国家税务总局发布了全国统一实施的税务行政许可事项清单，推进税务行政许可标准化、规范化、便利化。同时，将原有的 6 个税务行政许可事项减少至 1 个，“对纳税人延期缴纳税款的核准”等 5 个事项不再作为行政许可事项管理。同时将税务行政许可文书样式由 15 种减少至 12 种，并调整优化部分文书内容。国家税务总局的这些举措
①有利于激发市场活力和社会创造力 ②是市场要素发挥作用的前提条件
③有利于降低市场主体制度性交易成本 ④能够有力弥补纯粹市场调节的弊端
A. ①③ B. ①④ C. ②③ D. ②④
15. 依托山海协作工程(浙江省内发达地和欠发达地区开展优势互补经济合作，实现全省区域协调发展)，衢州市柯城区和杭州市余杭区组建“乡村振兴共同体”，探索协同发展、共同富裕路径，携手将碗窑村打造为农文旅融合发展示范乡村。这样带来的积极效果是
①发挥东西部的比较优势，协同推进缩小地区发展的差距
②促进城乡一体化发展的同时，增添了共同富裕的新动力
③贯彻先富帮后富的方针，促进地区发展之间的协调推进
④落实山海协作工程，促进不同地区之间的发展效率同步
A. ①③ B. ①④ C. ②③ D. ②④
16. 最高人民检察院召开党组会议强调，中央和国家机关是贯彻落实党中央决策部署的“最初一公里”，最高检机关必须以上率下，深入学习贯彻习近平总书记重要指示精神，带头落实全面从严治党、坚持党的全面领导，建强党的组织体系，锻造坚强有力的基层党组织，为落实好党

【高三文综 第 3 页(共 12 页)】

- 中央赋予的各项工作职责提供坚强组织保证。这样可以
- ①利于在最高检工作中始终坚持党的坚强领导
②不断促进最高检的工作能力和工作效率提高
③促进司法公正落实和保证最高检的方向正确
④提高最高检严格执行监察工作的觉悟和水平
- A. ①③ B. ①④ C. ②③ D. ②④
17. 某社区在党群服务中心建立了“开放空间”议事平台,在社区党组织的领导下,由社区居委会组织开发商、物业公司、党员代表、志愿者协会成员、居民代表等,共同商议解决社区的大小事,实现有事大家说、过程大家议、事情大家办、好坏大家评。“开放空间”议事平台的建立
- ①创新了基层群众自治组织的形式 ②拓宽了基层民主实现的现实路径
③是基层治理全民民主的有效实现 ④调动了居民参与民主共建的热情
- A. ①③ B. ①④ C. ②③ D. ②④
18. 2023年3月15日,北京市某区举行法律顾问团换届会议暨第四届法律顾问聘任仪式。近年来,这些专家顾问充分发挥法律专业优势,紧紧围绕老旧小区改造、城市保护更新、政府投资管理等重点领域主动建言献策,齐心协力共同防范风险、破解难题、维护稳定,全区法治水平与能力不断提升。政府聘请法律顾问旨在
- ①构建和谐社 会,进一步提升民生福祉 ②推进严格依法行政,完成法治政府目标
③代替政府处理纠纷,提升政府行政效率 ④推动依法科学决策,建设人民满意政府
- A. ①③ B. ①④ C. ②③ D. ②④
19. 党的十六大提出“在更大程度上发挥市场在资源配置中的基础性作用”。党的十七大提出“从制度上更好发挥市场在资源配置中的基础性作用”。党的十八大提出“更大程度更广范围发挥市场在资源配置中的基础性作用”。党的十八届三中全会指出“必须坚持和完善社会主义基本经济制度,使市场在资源配置中起决定性作用,更好发挥政府作用”。党对政府和市场关系的表述不断变化说明
- ①对同一对象的认识没有确定结论 ②实践能够推动认识的不断深化
③人的认识是不断向前发展的过程 ④客观事物的复杂度决定着人的认识
- A. ①③ B. ①④ C. ②③ D. ②④
20. 如今的9月18日,北京、沈阳等城市都会拉响防空警报,行人驻足默哀,路上车辆停驶,共同鸣笛……急促的防空警报声和汽车喇叭声汇成巨响,提醒着国人“牢记历史、维护和平”。这说明
- ①只有在特殊的文化环境中,才能激发爱国主义
②爱国主义体现在生活中的点滴的小事之中
③爱国主义是抽象的,是存在于人民的精神中的
④爱国主义在不同的时期有不同的表现
- A. ①③ B. ①④ C. ②③ D. ②④
21. 世纪疫情阴霾还未散尽,局部冲突硝烟又起,冷战思维和集团政治回潮,单边主义、保护主义抬头,经济全球化遭遇逆流,和平赤字、发展赤字、信任赤字、治理赤字有增无减。站在何去何从的十字路口,面对“世界怎么了,我们怎么办”的时代之问,世界各国应当
- ①持续推进人类命运共同体的建设 ②继续维持一超多强的国际政治格局
③坚持共同、综合、合作、可持续的安全观 ④捍卫以国家利益为基础的国际秩序
- A. ①③ B. ①④ C. ②③ D. ②④

【高三文综 第4页(共12页)】

22. 马某于 2021 年 10 月入职某快递公司, 双方订立的劳动合同约定试用期为 3 个月, 试用期月工资为 8000 元, 工作时间执行该快递公司规章制度相关规定。该快递公司规章制度规定, 工作时间为早 9 时至晚 9 时, 每周工作 6 天。2 个月后, 马某以工作时间严重超过法律规定上限为由拒绝超时加班安排, 某快递公司即以马某在试用期间被证明不符合录用条件为由与其解除劳动合同。下列关于此案件的观点正确的是

- ①马某在维权时必须和该快递公司协商
- ②快递公司的劳动制度严重违反法律规定
- ③马某可以直接向人民法院起诉快递公司
- ④马某的要求可以得到劳动仲裁组织的支持

A. ①③ B. ①④ C. ②③ D. ②④

23. 中华田园犬在多年前就已被列为禁养品种。最近两年陆续有城市将中华田园犬从禁养名录中删除。严格来说, 从生物、习性特征等条件评价, 中华田园犬并不具备整体列入烈性犬的条件。基因不稳定可能会导致小部分个体出现接近于烈性犬的标准, 但大部分中华田园犬无疑是“躺枪”。下列有关材料的观点正确的是

- A. 从“禁止”到“解禁”体现了感性到理性的认识过程
- B. 对事物的认识必然要经历一个循环往复的过程
- C. 对小部分的深刻分析能够加深对实践对象的认识
- D. 以小部分个体为基准制定标准反映了形而上学的作风

24. 下表为西周初年齐鲁两国的受封情况。据此可知, 分封制

齐国	姜尚受封, 在营丘(今山东淄博)建立齐国, 对于违抗王室的伯侯之国, 齐国有讨伐的特权, 推行“因其俗, 简其礼”的文化政策
鲁国	周公自己受封, 命长子伯禽前往, 在曲阜建立鲁国, 附近的若干小国, 都是它的附庸。受封时, 分有“祝、宗、卜、史, 备物典策, 官司彝器”

- A. 以同姓宗族为受封主体
- B. 传承周朝完备礼仪典制
- C. 维护了周朝的统治秩序
- D. 内政为周天子直接控制

25. 东汉建立后, 仍以三公为丞相, 但掌管内廷文书的尚书机构扩大, 正式称尚书台。时人仲长统说, 丞相职权“曩者任之重而责之轻, 今者任之轻而责之重”。这反映出当时

- A. 丞相职权范围的扩大
- B. 君权对相权的抑制
- C. 中枢决策程序的变化
- D. 注重提高行政效率

26. 据《新唐书》记载: “唐兴, 高祖改郡为州, 太守为刺史, 又置都督府以治之。”都督对府内所属各州刺史有考核、监察之权。在各州刺史处理具体政务的基础上, 由都督决策定夺后汇总上报中央。据此可知, 唐初设立都督府的主要目的是

- A. 提高地方治理的有效性
- B. 扩大地方政府的自主权
- C. 缓和中央与地方的关系
- D. 加强对地方官员的监督

27. 明代小说家热衷于塑造心地仁慈、品行端正、求财有道的商人形象。在他们的笔下, 只有这样的商贾才能发家致富, 甚至可以得到上天的垂青; 反之, 则在商场上一败涂地, 即使发了财也无福消受。据此可知, 明代小说

- A. 体现了重利轻义思想
- B. 加强了对百姓的思想控制
- C. 表现出极强的虚构性
- D. 深受市民价值观念的影响

【高三文综 第 5 页(共 12 页)】

20. 下图是刊登在1908年《神州日报》上的漫画。漫画左边屋顶上的字依次为“出版者之宅”“言论者之宅”，门头上写有“自由社”。该漫画表明



- A. 晚清政府在钳制民间舆论
B. 基层组织维护社会治安
C. 禁绝封控以缓解社会矛盾
D. 各方协作改善国家治理
29. 2023年3月5日,不少外媒记者把中国发布的政府工作报告和美国的国情咨文相提并论。美国国情咨文演讲6次提及中国,不断强调中美对抗;而中国政府工作报告不仅没提到美国,还强调我国将坚定扩大对外开放,深化互利共赢的国际经贸合作。这种反差反映了
- A. 美国干涉他国内政
B. 逆经济全球化阻碍了世界发展
C. 中国国际地位提高
D. 人类命运共同体之路任重道远
30. 下图为古埃及象形文字、腓尼基字母、早期希腊字母、希腊字母、拉丁字母的对比。这体现了

古埃及象形文字	腓尼基字母	早期希腊字母	希腊字母	拉丁字母
𐀀	𐤀	Α	Α	A
𐀁	𐤁	Β	Β	B
𐀂	𐤂	Γ	Γ	G
𐀃	𐤃	Δ	Δ	E
𐀄	𐤄	Ζ	Κ	K
𐀅	𐤅	Μ	Μ	M

- A. 埃及的象形文字领先世界
B. 希腊字母是希腊化时期产物
C. 世界文化存在影响与借鉴
D. 文明交融是文化发展的源头
31. 《法国史》第7卷开头明言:“16世纪是从哥伦布到哥白尼,从哥白尼到伽利略,从地球的发现到天上的发现。推动‘人’发现了他自己,探测了他自己的深奥复杂的人性。”这反映了
- A. 自然科学具有人文价值
B. 封建等级秩序受到冲击
C. 启蒙思想得到广泛传播
D. 欧洲社会生活发生巨变
32. 宗教改革时期,原属于教会所管辖的事务,如教育、福利等被移交给相应的国家部门来管理,国家承担起向邦国内所有学校提供物质支持和管理的责任,成为高等教育的监护者。据此可知,宗教改革
- A. 增加了政府财政负担
B. 有利于民族国家的形成
C. 提升了高等教育质量
D. 培养了大批的管理人才
33. 欧洲对非洲的殖民侵略始于16世纪。到18世纪末为止,欧洲人直接侵占的地区仅占非洲总面积的3%,到1790年,整个非洲大陆的欧洲居民不超过25 000人。但从1881年开始,欧洲瓜分非洲的速度迅速提升,到1914年只剩下两个非洲国家保持独立。这
- A. 加剧了欧美列强殖民地争夺
B. 导致了欧洲工业劳动力大量缺失
C. 激发了非洲的民族反抗运动
D. 促进了非洲奴隶制种植园的发展

【高三文综 第6页(共12页)】

34. 有学者指出,苏俄战时共产主义政策“实行小农经济的共耕制和集体化,实现了农业经济的社会主义转化;取消私人贸易,实现了商业的社会主义化;将工业集中和国有化,实现了社会主义工业化的构建”。这说明战时共产主义政策

- A. 塑造了苏维埃政权的权威
B. 提高了工农业生产的效益
C. 始终发挥积极有效的作用
D. 践行了社会主义基本原则

35. 下表是二战前和 20 世纪 80 年代西方国家国有经济变化情况。据此可知,二战后西方国家

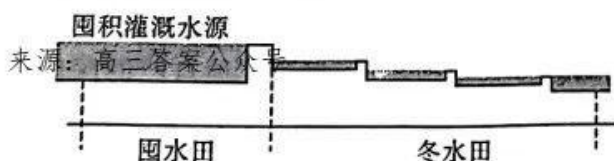
时间	二战前	20 世纪 80 年代
占国内 GDP 比重(%)	不超过 5%	平均在 20%以上
涉及领域	少数公用部门或基础设施部门	基础工业、高科技产业以及许多加工制造业乃至农业等部门
所起作用	临时性或应急性的手段	政府引导和调节整个国民经济发展的主要依托力量

- A. 提高了公有制经济所占比重
B. 加强了国家干预经济的力度
C. 实现了社会财富均衡化分配
D. 深化了企业管理体制的改革

二、非选择题:共 160 分。

36. 阅读图文材料,完成下列要求。(29 分)

四川盆地属亚热带季风气候区,秋多雨、春易旱,盆地内部的平原与丘陵是发展农业的主阵地,沿河平原分布渠堰灌溉系统的稻田,而低山丘陵地带多修筑梯田,古时梯田多因地势高而无法引河水浇灌,为解决梯田种稻用水难题,当地于清代兴起了冬水田,所谓冬水田是指为保来年春季栽插、蓄水越冬的稻田。按其蓄水状况不同,又有冬水田与囤水田之分:前者蓄水量主要用以保证翌年稻田自身整地和栽秧;后者蓄水量除满足自身需要外,并可解决邻近稻田的泡田整地用水,其主要位于低山丘陵区以及高山沟谷的山顶缓坡区域。冬水田所种水稻通常 4 月至 8 月为生产期,其余为蓄水期。当地官员的倡导和来自水利技术发达省份移民促进了冬水田的发展,冬水田繁荣发展了 200 余年后,在 20 世纪 60 年代后大部分走向消亡。下图为囤水田与冬水田的剖面示意图。



- (1) 分析冬水田在四川兴起发展的主要原因。(8 分)
 (2) 简述冬水田的主要优势。(9 分)
 (3) 说明囤水田分布于低山丘陵区以及高山沟谷的山顶附近的益处。(6 分)
 (4) 推测冬水田在 20 世纪 60 年代大部分消亡的主要原因。(6 分)

37. 阅读图文材料,完成下列要求。(27分)

地表水在工农业生产、气候调节和生态系统维持等方面发挥着至关重要的作用,地表水域面积的时空格局受气候变化和人类活动的影响,下面图1示意黄河流域2000~2019年地表水域面积变化,图2示意各因素对黄河主河道区和子流域区水域面积变化趋势的影响量与相对影响率,其中温度因素对黄河流域不同河段水域面积的变化呈现不同的相关性。

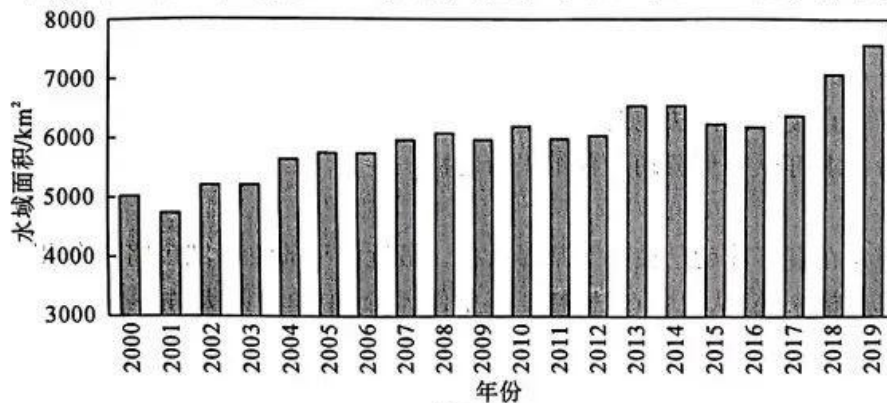
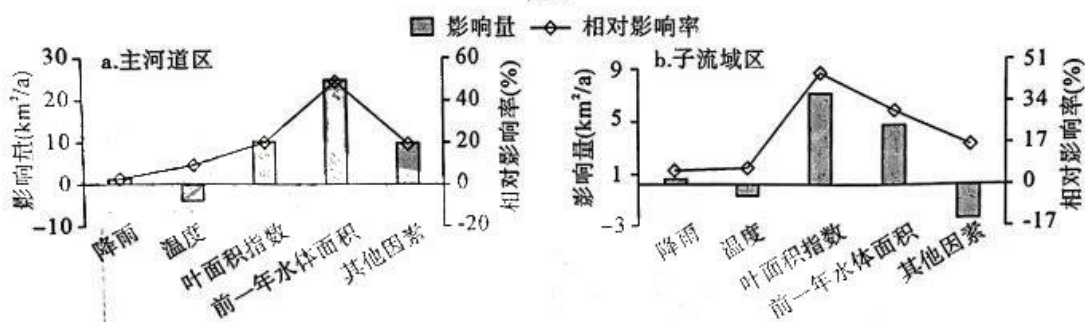


图1



(叶面积指数是指单位土地面积上植物叶片总面积与土地面积的比值)

图2

- (1)分析近年来黄河流域水域面积变化对区域安全产生的积极影响。(9分)
- (2)说明叶面积指数对黄河流域水域面积的影响原理。(6分)
- (3)从主河道区和子流域区解释修建水库和引水灌溉等“其他因素”与水域面积的相关性。(8分)
- (4)推测温度因素与黄河水域面积呈正相关的主要河段,并分析原因。(4分)

38. 阅读材料,完成下列要求。(10分)

十三届全国政协第67次双周协商座谈会上,委员们围绕“推动‘一带一路’民心相通”协商议政。会议强调,要学习贯彻习近平总书记关于推动“一带一路”民心相通的重要论述,各方面工作都要坚持以问题为导向提高针对性、精准性、实效性,为推动共建“一带一路”高质量发展夯实深厚社会基础。10位政协委员在会上发言,包括民主党派人士在内的30位委员和在全国政协委员履职平台上发表意见。大家认为,我国与“一带一路”沿线国家政治互

【高三文综 第8页(共12页)】

信度高,经济互补性强,民间往来源远流长,给沿线国家带来了实实在在的利益。委员们建议,要完善“一带一路”民心相通工作推进机制,秉持共商共建共享的原则,引导海外中资企业规范投资经营行为,自觉遵守所在国法律法规。要利用各种媒体手段,讲好共建“一带一路”的故事,做好政策宣介、解疑释惑工作,有理有据驳斥不实言论,营造良好国内外舆论氛围。

结合材料,运用我国政党制度的知识,分析本次政协双周座谈会召开的意义。

39. 阅读材料,完成下列要求。(10分)

2022年,我国的文艺创作持续繁荣活跃,现实主义题材疾风劲吹。一大批反映时代、扎根人民的文艺佳作竞相涌现,从人民生活一切鲜活和具体的方面,把握时代大势,体现时代精神。

文学创作多姿多彩,文学盛典大幕开启。8月,第八届鲁迅文学奖揭晓,35部获奖作品多方面、多角度体现艺术水准,书写丰富多彩的现实,呈现对美好生活的期待。11月,“中国文学盛典·鲁迅文学奖之夜”在北京举行,名家与大奖交相辉映、作品与读者双向交流,让文学“破圈”传播,让文学照亮生活。影视作品观照现实,在光影中讴歌时代。剧集《人世间》《县委大院》等描绘出温情又真实的人间烟火,塑造出鲜活又生动的人民群像;电影《奇迹·笨小孩》《人生大事》《万里归途》等轮番闪耀大银幕,或展示大城市中年轻人的创业历程,或聚焦“冷门”行业从业者的喜怒哀乐,或讲述国际视野中的大国姿态……不仅有家国情怀、使命担当,也有人民生活、人生百态。

结合材料,运用社会存在与社会意识关系的知识,说明我国发展优秀文艺作品的积极作用。

40. 阅读材料,完成下列要求。(12分)

推进中国式现代化必须坚持独立自主、自力自强,坚持把国家和民族发展放在自己力量的基点上,坚持把我国发展进步的命运牢牢掌握在自己手中。这些年,矢志攻克关键领域核心技术,努力破解“卡脖子”难题;发展数字经济、人工智能,抢占未来先机;构建全国统一大市场,为畅通国内大循环奠定基础……

对外开放是中国的基本国策,任何时候都不会动摇。推进中国式现代化,也需要不断扩大高水平对外开放。新春伊始,天津港码头机器轰鸣,国际班列接踵而至;“最北自贸区”中国(黑龙江)自由贸易试验区黑河片区的企业生产正忙,奋力冲刺首季“开门红”;浙江义乌国际商贸城兔年开市首日,客流量超22万人次,210多万种商品上新……

【高三文综 第9页(共12页)】

“我们开放的大门永远是敞开的，同时一定要定下心来，一心一意走自己的路，而且要建立这样的一种自信，就是我们一定会把自己的事业办好，屹立于世界民族之林。”习近平总书记的一番话发人深思。

结合材料，综合运用《经济与社会》和《当代国际政治与经济》的知识，说明推进中国式现代化进程中如何处理好独立自主和对外开放的关系。

41. 阅读材料，完成下列要求。(12分)

56岁的姜某和65岁的邓某是邻居，两家对面有一片空地，平时堆放杂物。2022年3月19日上午8时许，邓某堆放的芝麻秆被风刮倒，于是收拾重新堆放。不想，姜某看见后认为碍事，就让邓某把芝麻秆挪一挪，邓某不同意。双方发生口角，进而撕扯到一起，后被人拉开。经报警后，当地派出所对姜某进行了处罚。而邓某上排门牙脱落，经鉴定构成轻微伤，遂住院治疗，进行牙再植术。后由于双方对赔偿意见不一，邓某向当地法院起诉，要求姜某赔偿医疗费等各项损失1.5万余元。法官根据查明的事实，划分了各自的责任，核定了医疗费数额，并作出了一审判决，由被告姜某赔偿原告邓某医药费的60%，即7799.30元。法庭宣判后，邓某不服却不上诉，坚持要上访。

“案结不是终点，事了才是目的。”承办法官又及时邀请镇、村干部对该纠纷进行调解。“远亲不如近邻，如果你们确实觉得‘柴火垛’碍事，可以找村干部给予解决。”经过承办法官、镇、村干部的耐心释法明理，又为双方当事人指定新的堆放柴火地界，终于促成双方达成和解协议，并当场履行。至此，一起柴火垛引起的邻里纠纷得以彻底化解。

(1)有人说，调解就是“当和事佬”“和稀泥”。结合材料，运用《法律与生活》的知识，谈谈你对这种说法的理解。(7分)

(2)结合材料，运用《法律与生活》的知识，谈谈上述案件给我们的生活启示。(5分)

42. 阅读材料，完成下列要求。(8分)

◆二十大报告解读

2022年10月16日，中国共产党第二十次全国代表大会在北京召开。

二十大报告中指出，从登上中国政治舞台的那一刻起，中国共产党就坚持用马克思主义立场观点方法践行初心使命，使我们党经受一次次挫折而又一次次奋起。中国共产党团结带领人民进行艰苦卓绝的斗争，使中华民族的命运发生了历史性变化。我们党历经千锤百炼而朝气蓬勃的重要原因是勇于自我革命，百年大党擦亮初心、刀刃向内，在革命性锻造中更加坚强。百年跨越，中国共产党交出了彪炳史册的时代答卷。成就的背后，蕴藏着运筹帷幄的胆识，包含着气贯长虹的行进，凝聚着震撼人心的巨变。

【高三文综 第10页(共12页)】

- (1)“成就的背后,蕴藏着运筹帷幄的胆识,包含着气贯长虹的行进,凝聚着震撼人心的巨变。”请说出这一判断的类型,并从《逻辑与思维》角度分析正确运用这一判断的重要意义。(4分)
- (2)从上述材料中找出中国共产党交出彪炳史册的时代答卷的条件并说明这些条件是充分条件还是必要条件。(4分)

43. 阅读材料,完成下列要求。(25分)

材料一 中国古代的乡里组织,是王朝国家权力向基层社会的延伸,以达到直接或间接控制基层社会的目的,是“下县的皇权”。广泛存在于基层社会的宗族组织(族权)与地方势力(绅权),以及各类民间会社组织,填补了传统国家因受政治资源限制而留下的权力空白,在构建地方秩序方面发挥着重要作用。在乡村社会权力网络实际运作中,政权、族权、绅权相互联结、互相交融、彼此配合,使得中国古代社会具有不断自我修复、自我完善的机制,国家治理体系更加稳固而难以瓦解。

——摘编自杨国安《古代基层社会如何治理》

材料二 民国时期县下设区进行管理,区逐渐成为县下常设的政区,区下设置的类型不一的组织则类似于以前的保甲管理制度。乡族与近代社团等社会力量并存,华南地区的农民协会、上海的工会以及各地的商会(团)、城镇的自治会(社),使多数人参与协调和解决纠纷、矛盾和冲突,在基层社会治理中发挥了重要作用。民国时期各种类型的法律更加细化,基层社会治理方面也开始出现配套的法律。

——摘编自温建钦《近代基层社会治理出现转型》

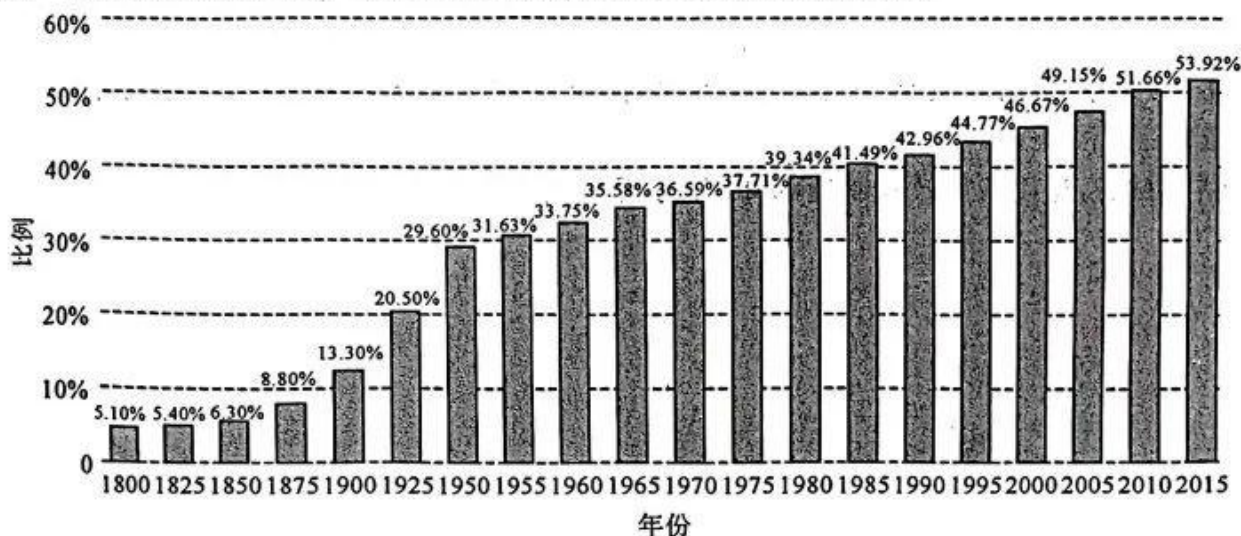
材料三 新中国成立后至改革开放前,在基层治理上继承了传统中国自上而下的行政和自下而上的自治相结合的“双轨政治”,并创造出群众路线,形成全新的现代治理经验。群众路线既是全新的治理理念与方法,又是对治理传统的继承,既是群众工作方法,又要在行政体系内实践,是基层治理全过程民主的具体体现。通过发动群众,新中国实现了比传统社会更高的动员组织程度,依靠农村自身资源完成了现代农村建设,如沿用至今的完善的水利体系,简易公路交通系统等,并推进一系列乡村公益事业,如扫盲运动、学校教育、卫生运动等。

——摘编自吕德文《中西基层治理有何差异?》

- (1)根据材料一并结合所学知识,概括中国古代基层社会治理的特点。(8分)
- (2)根据材料一、二并结合所学知识,指出与中国古代相比,民国时期基层治理的不同之处,并分析其原因。(10分)
- (3)根据材料三并结合所学知识,简析新中国成立后至改革开放前基层治理的历史经验。(7分)

44. 阅读材料,完成下列要求。(12分)

材料 下图反映了从1800年到2015年间的世界城镇化发展趋势。



世界城镇人口占世界总人口比例的变化情况

——摘编自联合国《世界城镇化展望(2018年版)》

根据材料并结合所学知识,从材料中提取信息,拟定一个论题,结合相关史实就所拟论题进行简要阐述。(要求:观点明确、史论结合、言之成理)

45. 阅读材料,完成下列要求。(15分)

材料一 夏商时期的学校已经有了体育教育内容,其中习射是重要的教育内容。西周时期的学校形成了以礼为中心,以射、御为主要内容的文武兼备的六艺教学体系。秦汉时期基本形成中华体育文化特征。晋唐时期,体育精神和体育中“武”的地位得到提升。宋元明清时期,体育重心逐渐向民间转移,例如武术在宋代逐步从军事体育分化出健身、娱乐性质的武术运动,并在明清时期进一步成熟。

材料二 晚清,西方近代体育传入中国。辛亥革命至新文化运动以后,中国近代体育进入了一个新的发展阶段,体育开始由学校向社会渗透,现代体育文化获得了越来越多的社会认同。新中国成立后,批判改造旧体育,建立新体育,成为当时体育界的主要任务。1952年,毛泽东“发展体育运动,增强人民体质”的题词,明确地界定了新中国体育的性质、目的和任务。20世纪80年代,中国体育全面走向世界,中国体育在适合中国国情的体育发展道路方面进行了初步探索与实践。

——摘编自崔乐泉《中国体育简明通史》

(1)根据材料一并结合所学知识,概括中国古代体育发展的特点。(7分)

(2)根据材料二并结合所学知识,指出近现代中国体育发展的意义。(8分)

关于我们

自主选拔在线是致力于提供新高考生涯规划、强基计划、综合评价、三位一体、学科竞赛等政策资讯的升学服务平台。总部坐落于北京，旗下拥有网站（[网址: www.zizzs.com](http://www.zizzs.com)）和微信公众平台等媒体矩阵，用户群体涵盖全国90%以上的重点中学师生及家长，在全国新高考、自主选拔领域首屈一指。

如需第一时间获取相关资讯及备考指南，请关注**自主选拔在线**官方微信号：**zizzsw**。



 微信搜一搜

 自主选拔在线