

青岛市2023年高二年级第一次适应性检测

历史试题

2023.03

注意事项:

1. 答卷前, 考生务必将自己的姓名、考生号等填写在答题卡和试卷指定位置。
2. 回答选择题时, 选出每小题答案后, 用铅笔把答题卡上对应题目的答案标号涂黑。如需改动, 用橡皮擦干净后, 再选涂其他答案标号。回答非选择题时, 将答案写在答题卡上。写在本试卷上无效。
3. 考试结束后, 将本试卷和答题卡一并交回。


一、选择题: 本题共 15 小题, 每小题 3 分, 共 45 分。每小题只有一个选项符合题目要求。

1. 孔子说: “政宽则民慢, 慢则纠之以猛。猛则民残, 残则施之以宽。宽以济猛, 猛以济宽, 政是以和。” 韩非子说: “今轻刑罚, 民必易之。犯而不诛, 是驱国而弃之也; 犯而诛之, 是为民设陷也。…此则可谓伤民矣!” 这表明两者
A. 重视民众的治理
B. 轻罪重刑的策略
C. 外儒内法的思想
D. 以刑辅德的理念
2. 西汉立国之初, 听民私铸钱币, 遂有将铅、铁等掺入铜钱内铸作“伪金”者。公元前 144 年, 汉景帝颁行《铸钱伪黄金弃市律》, 禁止民间私铸货币, 只准郡国铸币。这一转变
A. 反映国家指导思想发生转变
B. 导致地方割据势力迅速膨胀
C. 推动经济政策发生根本改变
D. 有利于铸币权逐步收归中央
3. 据唐玄宗开元年间全国户口统计, 秦岭、淮河以北地区户数占 54.5%, 其中河南、河北两道户数占全国 37.1%。这表明
A. 经济繁荣促进人口增长
B. 全国经济重心仍在北方
C. 安史之乱加剧人口迁徙
D. 赋税改革放松人身控制
4. 下表是历史上载有中国瓷器的部分沉船信息。据此可知唐朝至明朝期间

朝代	沉船	所在地	瓷器
唐朝	黑石号	印尼勿里洞岛海域	长沙窑、越窑、邢窑、巩县窑瓷器
五代	井里汶号	爪哇海域	越窑青瓷
宋朝	南海 1 号	广东阳江海域	德化和景德镇窑青白瓷、龙泉窑青瓷
元朝	新安沉船	韩国全罗道新安郡海域	福建龙泉青瓷、景德镇白瓷和青白瓷
明朝	南澳 1 号	南澳县海域	江西景德镇青花瓷 福建漳州窑青花瓷

- A. 瓷器是中外贸易的大宗商品
- B. 南方瓷器的生产越来越发达
- C. 瓷器商品常见于中外间贸易
- D. 中国经济重心自北向南转移

5. 1880年，清朝再次出现关于修建铁路的争论。李鸿章认为：铁路之妙用在调兵运炮，铁路之命脉在商贾贸迁。张家骥认为：铁路有资敌、扰民、夺民生计三大弊端。他们争论的焦点是
- 挽救民族危亡
 - 实现国强民富
 - 实行重商主义
 - 学习西方技术
6. 1911年11月，山东巡抚孙宝琦上奏朝廷请旨革命，清廷回复“奉旨允许”，最终山东于13日宣布独立，但24日又取消独立。这反映了
- 清朝的统治土崩瓦解
 - 地方实力派投机革命
 - 官僚的软弱性妥协性
 - 中央的权力开始下移
7. 1937年1月，西北办事处规定：“苏维埃机关或部队，进驻到友军区域，为保证商业自由，及尊重当地市场习惯，在苏票未能在当地流通以前，一般的须使用友军的白票、现洋。”此规定旨在
- 完善抗日民主政权金融建设
 - 落实抗日民族统一战线策略
 - 践行工农武装割据的革命思想
 - 打破国民党的经济封锁和围剿
8. 下图是1950年《提高文化》宣传画。其内容主要反映了



- 人民当家做主的喜悦
- 工业化建设的热情高涨
- 经济建设的迫切需求
- 对“双百”方针的拥护

9. 1964年，周恩来总理在访问加纳时，系统阐述了中国对外提供经济技术援助的八项原则，如“中国政府一贯根据平等互利的原则对外提供援助……认为援助是相互的”“严格尊重受援国的主权，绝不附带任何条件，绝不要求任何特权”。这表明中国
- A. 积极支持非洲的反对殖民主义
 - B. 践行和发展和平共处五项原则
 - C. 构建与非洲国家的伙伴关系
 - D. 奉行“不结盟”原则和精神
10. 11世纪前后，欧洲庄园领主们更倾向于直接经营自营地，且更大程度地使用奴役劳动；在12世纪后期，领主自营地出租成为一时潮流，以雇佣劳动逐渐取代奴役劳动。该变化主要是由于
- A. 封建经济的发展
 - B. 城市自治权扩大
 - C. 封建庄园制度强化
 - D. 资本主义萌芽产生
11. 历史学家乔治·勒费弗尔评价某历史人物时写道：他撼动了欧洲各国的旧制度，并将近现代欧洲各国新秩序的各项原则推广到了欧洲其他地区，大大加快了这一演变的过程。蓬勃发展的文化、人民主权的宣布、浪漫主义的传播等都预示了民族主义的觉醒，他进行的领土调整和种种改革促进了这种觉醒。该历史人物是
- A. 英国的克伦威尔
 - B. 美国的华盛顿
 - C. 法国的拿破仑
 - D. 德国的俾斯麦
12. 孟德斯鸠认为暴君政体是靠恐惧来维持的，在这个政体下，君主把自己看成是一切，把其他一切都视同草芥；同时他不要任何法律，他个人的意志就是法律。这说明了孟德斯鸠
- A. 主张人民主权
 - B. 主张暴力革命
 - C. 力推民主共和
 - D. 反对君主专制
13. 1914年-1918年，英国女汽车驾驶员从1700人增加到28900人；1914年，伍尔维奇兵工厂仅雇佣了125名女工，到1917年上升至28000人。这反映了
- A. 战争改变了劳动力就业结构
 - B. 工人运动增加女性就业机会
 - C. 政治地位的提高激发女性就业动力
 - D. 重工业的发展促使劳动力需求增加

14. 苏俄（联）某经济学家对当时正在实行的经济政策提出如下问题：如何对待富农问题；如何对待私营经济的经营者；如何获得工业化的资金……据此可知，该经济政策是

- A. 战时共产主义政策
- B. 新经济政策
- C. 农业集体化
- D. 社会主义工业化

15. 下图为二战时期美国的宣传海报，图中上方文字为“**When you ride ALONE you ride with Hitler!**”（单独驾车无异于与希特勒为伴）。对此解读正确的是



- A. 战争导致了美国自然环境急剧恶化
- B. 美国为保障战略物资进行社会动员
- C. 美国汽车制造业发展亟需石油能源
- D. 美国欲结束中立组建反法西斯同盟

二、非选择题：本题共4小题，共计55分。

16. (14分) 所有历史叙述在本质上都是对历史的解释。阅读材料，回答问题。

材料一

初命何铸鞠之，飞裂裳以背示铸，有“尽忠报国”四大字，深入肤理。既而阅实无左验，铸明其无辜。

——摘自《宋史·岳飞传》

材料二

咨尔宋忠臣岳飞，精忠贯日，大孝昭天，愤泄靖康之耻，誓清朔漠之师，原职宋忠文武穆岳鄂王，兹特封尔为三界靖魔大帝。

——摘自历历四十三年明神宗诏书

材料三

岳母道：“故我今日祝告天地祖宗，要在你背上刺下‘精忠报国’四字。但愿你做个忠臣……”
岳飞道：“圣人云‘身体发肤，受之父母，不敢毁伤。’母亲严训，孩儿自能领遵，免刺字罢！”
岳母道：“胡说！倘然你日后做些不肖事情出来，那时拿到官司，吃敲吃打，你也好对那官府说‘身体发肤，受之父母，不敢毁伤’么？”
岳飞道：“母亲说得有理，就与孩儿刺字罢。”

——摘编自清评书《说岳全传》

根据材料并结合所学知识，谈谈你对岳飞形象多重叙述的理解。(14分)

忠

日
正
什
么

女
界

17. (15分) 目录阅读法是我们建立对整本书结构化认知的有效途径。阅读材料, 回答问题。

目录 (部分)

第一章 公元纪年的传入与纪年之争	第五章 时间管理方式的近代变革..... 时间、工业纪律与近代工人 近代学校兴起与时间管理的科学化趋势 星期制: 工作与休闲
第二章 政治与时间: 近代历法改革的历史考察 科学和实用: 晚清知识分子的改历观 政府主导下的改历: 政治与民俗的对抗 《中华民国(生活)历》对官方节庆体系的调适 民国时期的历法科普与改历思潮	第六章 城市时间: 晚清民国时期的上海
第三章 近代计时器的更新与时间计量的变化 钟点时间社会化 感觉与象征——民国文学作品中的时钟与时间	第七章 守时与赞助: “时间价值”的新诠释 延年会及其“时间”关切 守时: 一场国家运动 民国“时间经济”话语解析.....
第四章 新式交通与时间 地球观念的更新与时差概念的传入 标准时制的实施..... 新式交通与生活中的时间	第八章 时间观念的近代嬗变.....

——摘编自湛晓白《时间的社会文化史——近代中国时间制度与观念变迁研究》

(1) 根据目录, 指出影响中国近代“时间制度和观念”变迁的要素, 并任选其一加以分析说明。(12分)

(2) 基于历史阅读的一般程序, 请描述你对本目录的结构化认知。(3分)

18. (12分) 阅读材料, 回答问题。

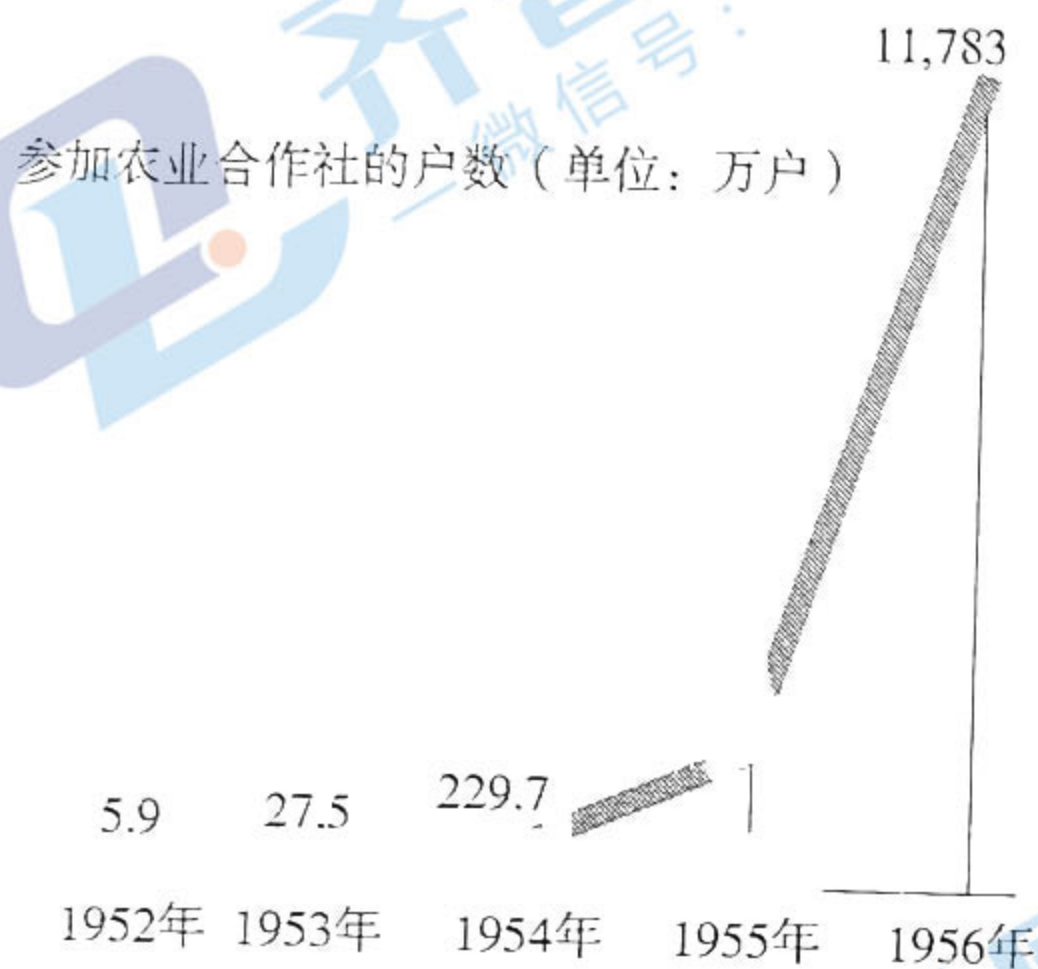
材料一

新中国成立初期工农业生产统计表

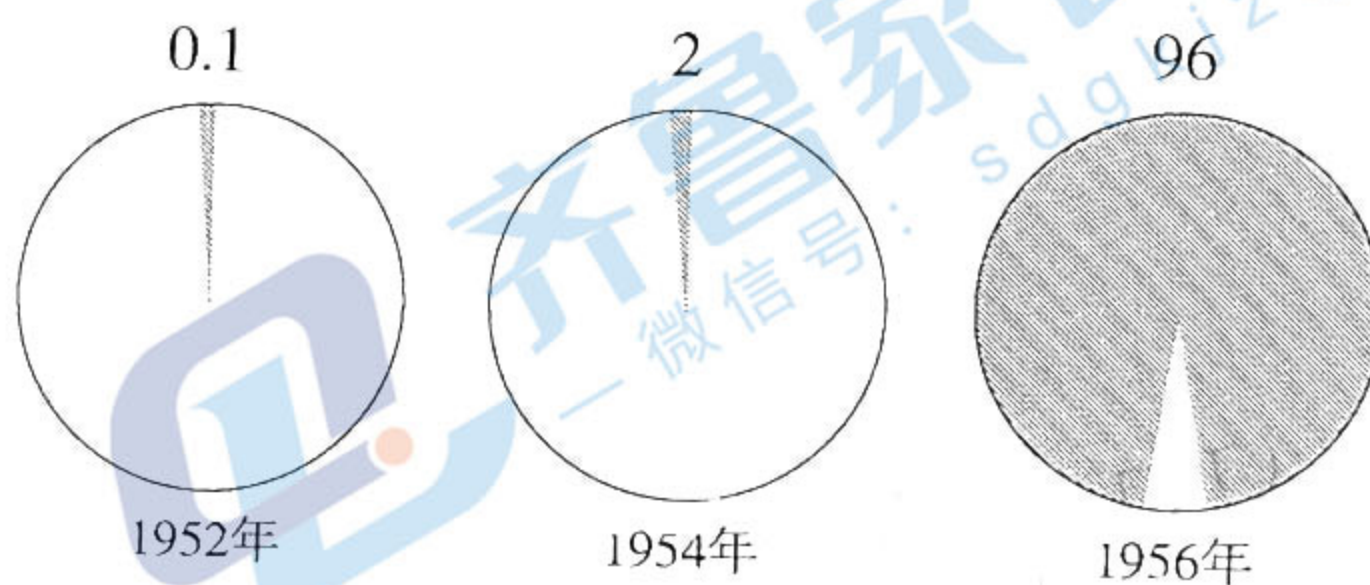
金额单位: 亿元

	1952年	1956年	1957年
工业总产值	343.3	703.6	783.9
农业总产值	483.9	582.9	604.0
工农业总产值	827.2	1286.5	1387.9

材料二



参加农业合作社的户数占总农户的百分比

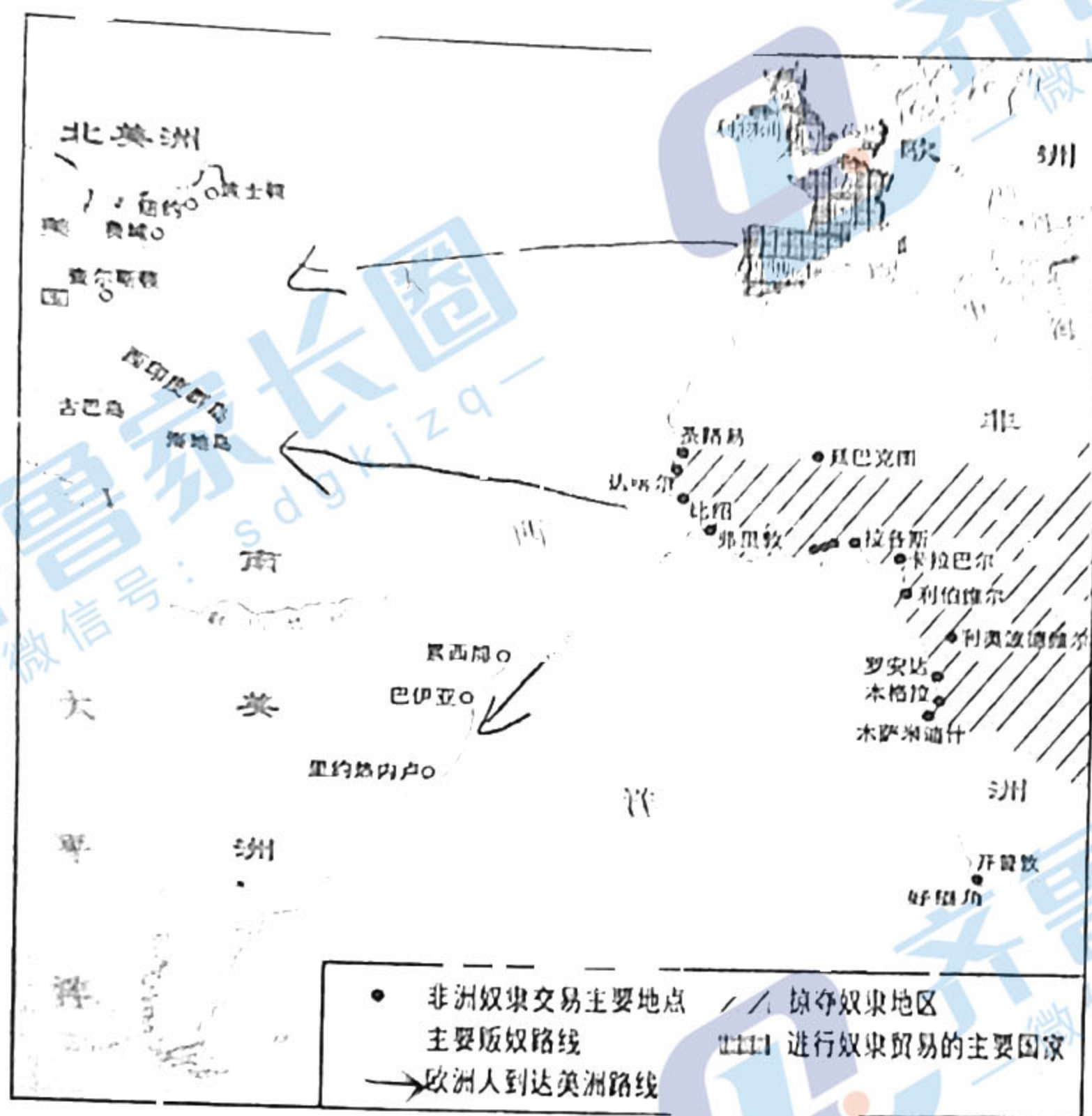


对新中国这一时期经济发展的现象予以阐释。(12分)

——摘自《伟大的十年》

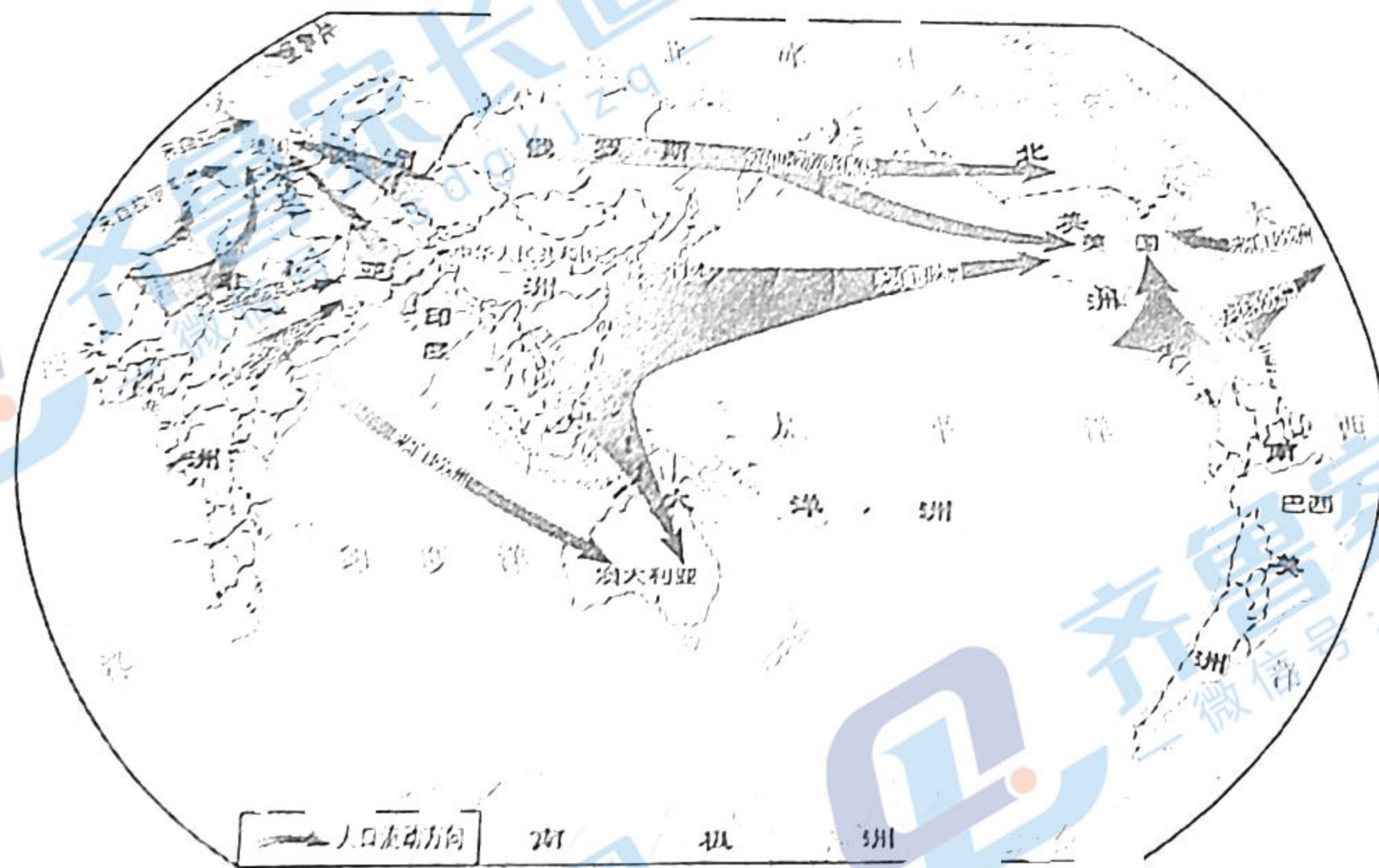
19. (14分) 美国学者博格提出的推拉理论认为, 人口迁移的发生是由迁入地的拉力因素和迁出地的推力因素(共同)作用的结果。阅读材料, 回答问题。

材料一



16-18 世纪大西洋两岸的人口转移图

材料二



一战后劳动力的全球流动图

——摘自《普通高中历史地图册》

(1) 请补全材料一的图例并绘制人口迁移方向。(4分)

(2) 结合上述材料反映的史实, 谈谈你对博格推拉理论的认识。(10分)