

## 福建省漳州市 2023 届高三毕业班第四次教学质量检测

### 历史试题

本试题卷共 6 页，20 题。全卷满分 100 分。考试用时 75 分钟。

#### 一、选择题（本大题共 16 题，每小题 3 分，共 48 分）

1. 距今约 7000—5000 年前，仰韶文化的居民以粟等为主要作物，并使用彩绘陶瓷；河姆渡文化的居民种植水稻，并掌握了养蚕缫丝技术。大致同一时期，大汶口文化、良渚文化等交相辉映，都出现比较稳定的定居生活。这主要得益于，

- A. 地理环境的优越  
B. 木石工具的使用  
C. 国家雏形的出现  
D. 中华文明的多元

2. 表 1 东汉光武帝度田（丈量土地）的相关记载

内容	文献
建武十五年诏下州郡检核垦田顷亩及户口年纪，又考实二千石长吏阿枉不平者。	《后汉书·光武帝纪下》
十五年，诏下州郡检核其事（垦田），而刺史、太守多不均，或优饶豪右，侵刻羸弱，百姓嗟怨，遮道号呼。	《后汉书·刘隆传》
十六年……天下刺史、太守以垦田不实下狱死者十余人，于是南郡太守刘隆亦系狱，上以隆功臣也，免为庶人。	《后汉纪》卷七《光武皇帝纪》

据表 1 推知，光武帝的度田措施旨在

- A. 削弱地方豪强势力  
B. 完善地方监察体系  
C. 增加政府赋税收入  
D. 重构封建经济基础
3. 《女史箴图》在中国绘画史上具有划时代的意义，图 1 中的女子们正对镜梳妆，仪态宛然，细节描绘精微。榜题“人咸知修其容，而莫知饰其性。性之不饰，或愆礼正。斧之藻之，克念作圣。”该作品




图 1 东晋顾恺之《女史箴图》的唐代摹本（局部）

- A. 反映儒学仍占统治地位  
B. 体现文人画的艺术风格  
C. 表现魏晋女性爱美风尚  
D. 彰显审美与教化相结合

4. 乡愁的产生是以人对故乡的远离为前提。中国士人早期的乡愁表达更多是城市性的，即更多关注旧国旧都，以废墟化的城市作为情感原乡；隋唐后中国士人的乡愁逐渐以乡村为主导，通过对乡村的回望寄托情感世界。该变化的主要原因是
- A. 商品经济的发展  
B. 科举制度的施行  
C. 中央集权的加强  
D. 市民文化的兴盛
5. 明代推行招商中茶制，利用茶商的力量将川陕茶叶运往西北茶马司易马，并以变卖茶叶运输总量的百分之六十作为酬劳。这
- A. 改变了重农抑商政策  
B. 增加了茶叶贸易成本  
C. 提高了茶商社会地位  
D. 促进了资本主义萌芽
6. 清廷原以礼部和理藩院为主接待藩邦属国或外国的贡使，1861年改设总理各国事务衙门总揽外交事务。但君臣朝野视之为不祥之物，终晚清之世，大臣出任军机处、内阁、部院、疆吏者皆立年表，而任事于总理衙门之人则独无年表。这说明
- A. 官僚等级秩序仍然森严  
B. 近代中国外交开始转型  
C. 宗藩外交体系土崩瓦解  
D. 思想解放运动亟需推进
7. 康有为奏请“诏定国是”时重点强调了变法的必要性，主张“采万国之良规，行宪法之公议”；光绪帝颁布《定国是诏》时却强调：“以圣贤义理之学植其根本，又须博采西学之切于时务者实力讲求……”这表明光绪帝
- A. 致力发展资本主义  
B. 立志进行制度革新  
C. 立足维护封建统治  
D. 热衷学习西方技术
8. 1916年，段祺瑞指出“日本人既已加入（一战），我若不参加，日本对青岛势必染指掠夺”，而“德国虽系当今之强国，但众怒难犯，料其难以取胜。将来协约国取得胜利……中国也是战胜国之一，和会上有我一席之地”。据此判断，段祺瑞主张参战的动机是
- A. 维护国家主权利益  
B. 反抗日本对华侵略  
C. 扩大皖系军阀势力  
D. 改变中国弱国地位
9. 1938年11月的中共六届六中全会指出，全国抗战开始后，人民军队“必须把过去的正规军和运动战，转变成为游击军和游击战，才能同敌情和任务相符合”。这一作战原则
- A. 促进国共两党合作  
B. 推动三三制政策实施  
C. 坚持全面抗战路线  
D. 与持久战方针相适应
- 10.

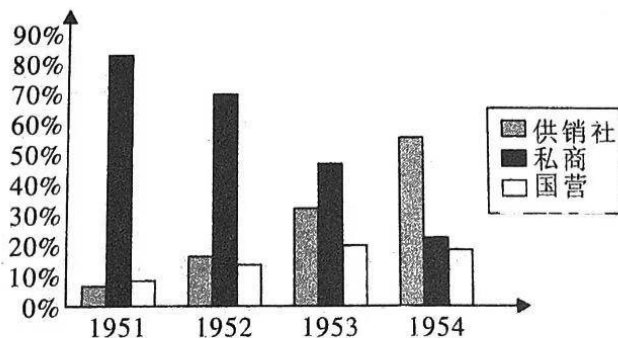


图2 1951~1954年南阳县商品流转额比重变化情况

据图2判断，这一变化

- A. 确保新民主主义的发展方向  
B. 具有向社会主义过渡的特征  
C. 体现改造与建设并举的路线  
D. 开创社会主义现代化的模式

11. 图3 二神驾车图像饰板创作于公元前3世纪, 材质为今阿富汗特产青金石。图像中希腊太阳神赫利俄斯高悬空中, 手持长棍驾车的是希腊胜利女神妮可, 车上头戴皇冠的是希腊自然女神西布莉, 巨轮高扶手战车则具有波斯风格。对此艺术作品的出现, 合理的解释是



图3 二神驾车图像饰板 (出土于阿富汗)

- A. 波斯帝国的商人贸易范围广阔  
B. 亚历山大建立地跨欧亚非大帝国  
C. 阿富汗成为东西方交往的中心  
D. 古希腊宗教文化普及至欧亚各地
12. 17世纪之后, 随着欧洲民族国家的建立和发展, 对奥斯曼帝国造成猛烈冲击。为此, 奥斯曼帝国专门编订了一套《纳西巴特文献》作为改革的理论准备。这些理论一致认为, 造成目前奥斯曼帝国内忧外患的根源是因为帝国抛弃了古老传统的价值观念和制度。这一举措
- A. 造就奥斯曼帝国的再次繁荣  
B. 抵御来自西欧列强的扩张威胁  
C. 传播奥斯曼帝国的历史传统  
D. 忽视造成帝国落后的根本原因
13. 新航路开辟后, 蔗糖作为奢侈品传入欧洲; 18世纪, 蔗糖成为民众日常生活必需品, 同时也带来蛀牙、肥胖等健康问题; 19世纪80年代后, 甜菜糖的产量超过了蔗糖并迅速成为糖类产品的角色(甜菜糖是由化学方法制成的热量很低的甜味剂)。这反映了
- A. 人们对糖类多样化需求的增长  
B. 拉美殖民地的蔗糖产量供不应求  
C. 社会需求推动科学技术的革新  
D. 垄断组织的形成控制了蔗糖销售
14. 从20世纪40年代后期到70年代中期, 在亚非拉形成了一个民族独立国家体系。20世纪60年代联合国接纳的43个新会员国全都是第二世界国家, 在70年代又接纳31个第三世界国家。这说明
- A. 维护各国利益是联合国的主要任务  
B. 反对霸权主义改变世界格局  
C. 参与国际事务是第三世界努力方向  
D. 尊重国家主权成为时代共识
15. 1983年美国里根总统提出“星球大战”计划, 苏联被迫投入军备竞赛。美国又鼓动沙特增产石油, 导致1985至1988年世界油价爆跌, 苏联石油美元和军火贸易的外汇收入锐减, 苏联经济出现负增长。美国的这些举措成功拖垮苏联, 主要是因为苏联
- A. 经济结构畸形  
B. 经济改革停滞  
C. 综合国力下降  
D. 争霸战略失误

16. 图4是2022年法国报纸上发表的一幅讽刺画，图中美国拖着欧洲一群待宰的羔羊在大海上漂泊。作者意在



图4

- A. 呼吁欧洲加强独立性
- B. 唤起欧洲各国团结一致
- C. 说明欧盟一体化受挫
- D. 谴责美国推行霸权主义

二、非选择题：本大题包括4小题，第17题8分，第18题24分，第19题8分，第20题12分，共52分。

17. 阅读材料，回答问题。(8分)



图5 20世纪30年代红军在南靖县和西镇斗米村云水坑的宣传标语

宣传标语：“欢迎靖卫弟兄们（国民党地方武装）等回家打土豪分田地、反对日本出兵东三省、打倒蒋介石的走狗、反对地主”等。

根据材料并结合所学知识，概括宣传标语的主旨，说明其作用。

18. 阅读材料，回答问题。(24分)

材料一

现代体育作为资本主义的产物，最早出现于英国。18世纪中叶，资本主义入侵了经济和社会生活的方方面面，渐渐破坏了传统“绅士体育”的基础，随之大量由私人资本投资的竞技体育俱乐部成立并组织竞赛，一系列体育专刊，如《体育杂志》、《赛艇年鉴》等出现，宣传“每个人都为利益而驰骋”的理念，政府也颁布了一系列与运动相关的法律法规。19世纪中叶后，近代科学对体育指导的逐步深入，竞技运动的体育教育制度、竞赛制度、场地器材、体育组织管理体制、运动竞赛训练方法日益规范完善。19世纪末，伴随着工业化和城市化的快速发展，大量城市工人阶级不仅为体育产业提供了市场基础，同时促使运动职业化被立法允许，出现了近代最早的职业竞技运动员，推动了英国现代体育运动的繁荣。

——摘编自【英】托尼·柯林斯《体育简史》

材料二

鸦片战争后，西方体育开始进入中国，在民族危机不断加深的情况下，体育运动是强身救国的手段。20世纪30年代，在闽浙赣等根据地就有举办工农兵舞、劳动体操、工人运动会等推动红色体育发展。新中国成立以后，体育的任务是“摘帽子”（“东亚病夫”）和“破封锁”，国家需要体育促进与世界人民友好交往，如1971年的“乒乓外交”、1981-1986年女排五连冠，让世界看到中国体育力量。20世纪90年代，国家制定了《关于深化体育改革的意见》，确立以体育强国、健康中国为核心的中国体育现代化建设的基本思路。北京奥运会后，体育健身休闲、体育用品等市场的发展，初步构建了面向大众、以服务消费为主的体育市场体系。党的二十大报告明确要求完善公共文化服务体系，加强基层场地建设，让村村、乡乡、县县都可以广泛开展文化体育活动。积极申请中华武术列为亚运会和奥运会比赛项目。

——摘编自李树旺、金子微《新时代“中国式现代化体育”的新价值与新路向》等

(1) 根据材料一，概括英国现代体育发展的特点。(8分)

(2) 根据材料二并结合所学知识，归纳中国体育现代化发展与英国的不同，并说明其影响。(12分)

(3) 综合以上材料，谈谈你对中西方体育现代化发展的认识。(4分)

19. 阅读材料，完成下列要求。(8分)

小美在历史学习中发现，严复、陈寅恪、钱穆等著名学者都曾评价，当今社会的很多现象大都为宋人所造。小美尝试考证今日都市生活习以为常的“饿了么”“美团”等外卖服务是否在宋朝也有流行。据此，搜集到以下史料。

材料一：




图6 北宋张择端《清明上河图》(局部)

(注：经查阅，图中A、B两人为送外卖的餐饮服务人员)

材料二：

朝代	作者	著作	节选内容
北宋	孟元老	《东京梦华录》 (笔记体散文)	处处拥门，各有茶坊酒店、勾肆饮食，市井经纪之家，往往只于市店旋买饮食，不置家蔬。
南宋	吴自牧	《梦粱录》 (笔记体)	市食点心，四时皆有，任便索唤，不误主顾……处处各有茶坊、酒肆……下饭鱼肉等铺。盖经纪市井之家往往多于店舍，旋买见成饮食，此为快便耳。
南宋	耐得翁	《都城纪胜》 (笔记体)	孝宗皇帝孟享(宗庙祭礼)回，就观灯买市……宣押市食(宣召内侍点外卖吃食)……如李婆婆羹、南瓦子张家圆子。

结合所学知识，简析小美搜集的不同类型史料的价值，说明“外卖服务早在宋朝也有流行”是否可信。

20. (12分) 阅读材料，回答问题。

材料

当文明一开始的时候，生产就开始建立在级别、等级和阶级对抗上，最后建立在积累的劳动和直接的劳动的对抗上。没有对抗就没有进步。这是文明直到今天所遵循的规律。到目前为止，生产力就是由于这种阶级对抗的规律而发展起来的。

——摘自《马克思恩格斯全集》

根据材料并结合世界史知识，自拟一个具体论题，加以阐述。(要求：观点明确，逻辑清晰，史论结合。)

## 关于我们

自主选拔在线是致力于提供新高考生涯规划、强基计划、综合评价、三位一体、学科竞赛等政策资讯的升学服务平台。总部坐落于北京，旗下拥有网站（[网址: www.zizzs.com](http://www.zizzs.com)）和微信公众平台等媒体矩阵，用户群体涵盖全国90%以上的重点中学师生及家长，在全国新高考、自主选拔领域首屈一指。

如需第一时间获取相关资讯及备考指南，请关注**自主选拔在线**官方微信号：**zizzsw**。



 微信搜一搜

 自主选拔在线

