

2023- -2024 学年度高三年级第一次调研测试

历史试题

2023.09

注 意 事 项

考生在答题前请认真阅读本注意事项及各题答题要求。

1. 本试卷共 6 页。本次考试满分为 100 分，考试时间为 75 分钟。
2. 答题前，请务必将自己的姓名、考试号等用 0.5 毫米黑色签字笔填写在答题卡上。
3. 请认真核对答题卡表头规定填写或填涂的项目是否正确。
4. 作答非选择题必须用 0.5 毫米的黑色签字笔写在答题卡上的指定位置，在其他位置作答一律无效。作答选择题必须用 2B 铅笔把答题卡上对应题目的答案标号涂黑。如需改动，请用橡皮擦干净后，再选涂其他答案。

一、选择题：本大题共 16 小题，每小题 3 分，共 48 分。在每小题列出的四个选项中，只有一项是符合题目要求的。

1. 风俗是一种被模式化的社会生活方式。《诗经·周南·关雎》倡导“美教化，移风俗”；

《庄子·秋水》提出“当其时，顺其俗者，谓之义徒”；《商君书·算地》中云“故圣

人之为国也，观俗立法则治，察国事本则宜。”可见三者都主张

- A. 重视风俗，顺俗行事
B. 道德教化，移风易俗
C. 观俗立法，察国事本
D. 以俗观政，政俗结合

2. 图 1 反映了两晋时期参与中央决策的官员出身变化的情况

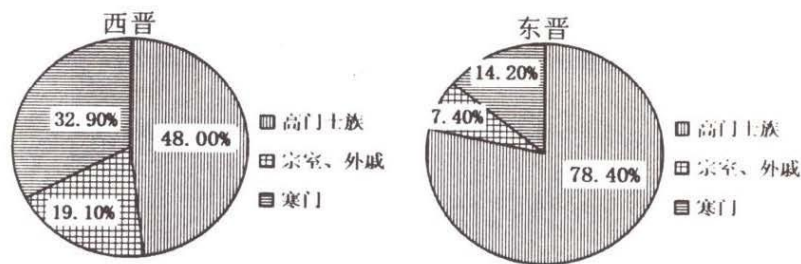


图 1

由此可知东晋时期

- A. 专制皇权受到削弱
B. 江南士族垄断政权
C. 皇权与士族特权间相互制衡
D. 分权体制削弱了政府统治力

3. “和亲”是中国古代王朝处理民族问题的重要方式。唐代和亲多达 27 起，终唐一朝，东起海隅，西达大漠北至碛北，都留下了和亲公主的足迹。下列诗句中赞同和亲政策的是

- A. 早得用蛾眉，免陷边戎卒
B. 汉家青史上，计拙是和亲
C. 君王莫信和亲策，生得胡虏雏更多
D. 何事将军封万户，却令红尘为和戎

4. 据《马可·波罗行纪》载：某府位于东南和东方之间的方向，靠近被黄河夺占的淮河下游故道，是蛮子国（元朝蒙古统治者对被征服汉族地区的称呼）的门户。其过境的船舶舟楫，川流不息。这里盐产量极其丰富……通过大运河将货物运销各地。该府位于图 2 中的



图 2

- A. ① B. ② C. ③ D. ④
5. 万历年间，礼科给事中张问达上书弹劾李贽：“……以卓文君为善择佳偶，以秦始皇为千古一帝，以孔子之是非为不足据。”材料反映李贽
- A. 继承心学，强调主观能动性 B. 提倡平等，违背主流价值观
C. 反对传统，蔑视权威和教条 D. 追求个性，倡导良知和童心
6. 1853 年太平天国颁布了《天朝田亩制度》，提出“有田同耕”的口号。可是 1861 年在太平天国占领区内，有地方政府发布告示招徕流亡地主回乡收租，并“令各乡官设局照料”。政策的变化表明太平天国
- A. 借助传统政策维护自身统治 B. 不具有反封建的性质
C. 失败的根本原因是财政危机 D. 蜕化为地主阶级政权
7. 洋务名臣张之洞在武昌创办早期工业区“布纱丝麻”4 局，是当时中国中部地区最大的纺织企业群。在湖北织布局开张时，张之洞为其题写的楹联内容最有可能是
- A. “为民生谋福祉；为国家争利权” B. “布衣兴国；蓝缕开疆”
C. “枢机之发，动乎天地；衣被所及，遍我东南” D. “兴办自我；利归于民”
8. 袁世凯任山东巡抚时曾于某日接买办官僚盛宣怀电报：“粤、闽、浙、长江各省已与各国商定互相保护，各领事询山东如何。或以各国牵制一国何如？但须先任保护各国商民，盖与岷、香二帅商之。”袁世凯接电报后欣然同意加入互保。该事件表明
- A. 清政府统治已经土崩瓦解 B. 清政府地方已实行自治
C. 南方与中央政府分庭抗礼 D. 清政府中央权威已式微

9. 康有为据《公羊传》的“三世说”提出：“社会历史进化是沿着据乱世——升平世——太平世的轨道，由君主专制到君主立宪，再到民主共和，一世比一世文明进步。”其后孙中山也指出：“共和者，我国治世之神髓，先哲之遗业也。我国民之论古者，莫不倾慕三代之治。”两人都

- A. 借助传统文化阐述民主思想
B. 对儒家思想内涵进行修正
C. 以传承儒家政治理想为宗旨
D. 推崇民主共和的治国理念

10. 在国民党中央某次会议上，孙科、冯玉祥等人主张：自民国十六年北伐以后十年内，历次政变，所有一切政治犯，无论已被逮捕或尚在通缉判决，应由国府明令予以特赦。该会议

- A. 导致国民党内部分裂
B. 制定“攘外必先安内”政策
C. 加剧国共两党的矛盾
D. 推动抗日民族统一战线建立

11. 建国初期，针对图3所反映的问题，陈云发布密令：“（甲）目前抢购风盛时，我应乘机将冷货呆货抛给投机商，但不要给其主要物资。（乙）等到收缩银根、物价平稳，商人吐出主要物资时，我应乘机买进。”

密令表明中共



图3

- A. 建立了计划经济体制
B. 终结了恶性通货膨胀
C. 运用了市场价值规律
D. 统一了全国财政管理

12. 20世纪五六十年代，党中央果断决定研制“两弹一星”，重点突破国防尖端技术，并确定我国国防尖端科技的发展要坚持自力更生为主。这一决策

- A. 得益于“双百方针”的贯彻
B. 基于严峻的国际形势
C. 推动了“一五计划”的实施
D. 改变产业不均衡状态

13. 十一届三中全会以后，党和国家开展组织路线的拨乱反正，平反冤假错案工作开始按照实事求是、有错必纠的原则，加快了工作步伐。到1982年年底，全国共平反、纠正大约300万干部的冤假错案。该举措

- A. 为改革开放奠定了社会基础和群众基础

- B. 开启了我国社会主义现代化建设新时期。
- C. 标志社会主义民主政治建设进入新阶段
- D. 恢复中国共产党民主集中制的优良传统。

14. 图 4 为建国以来我国公共图书馆发展柱状图

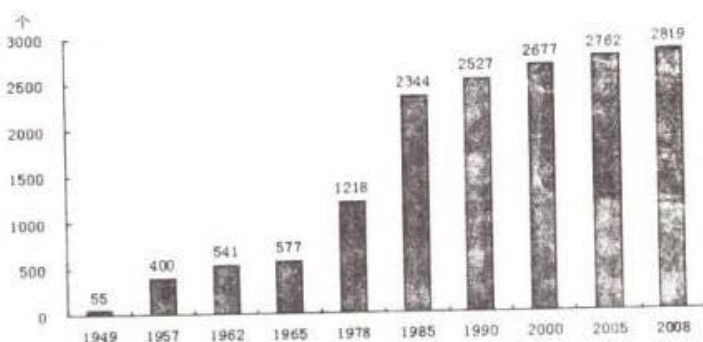


图 4 1949-2008 年我国公共图书馆个数

该图反映了我国公共图书馆建设

- A. 旨在加强文献的保护
 - B. 提供各领域知识
 - C. 有助于推动社会教育
 - D. 传播了现代文化
15. 19 世纪末 20 世纪初, 埃塞俄比亚皇帝号召人民抗击侵略者, 保卫国家的独立; 亚洲掀起了反帝反封建的民族民主运动的新高潮; 欧洲先进无产阶级开始夺取政权的斗争。这种差异说明
- A. 殖民体系形成引发民族解放运动
 - B. 经济发展水平影响政治斗争
 - C. 无产阶级革命进入夺取政权阶段
 - D. 世界历史发展进入全新时期

16. 图 5 为钱乘旦所著《世界现代化进程》中的部分目录。

第六章	自由主义的工业化模式 英国的工业化—法国的工业化—美国的工业化
第七章	统制式的工业化模式 德国的工业化—日本的工业化—俄国的工业化
第八章	……

图 5

据此推断, 第八章的标题最有可能是

- A. 第三世界国家的工业化
- B. 摆脱专制走向民主
- C. 走出中世纪: 现代化准备阶段
- D. 计划指令型工业化

二、非选择题: 本大题共 4 小题, 共 52 分, 其中 17 题 14 分, 18 题 13 分, 19 题 12 分, 20 题 13 分。

17. (14分) 阅读材料, 完成下列要求。

材料一

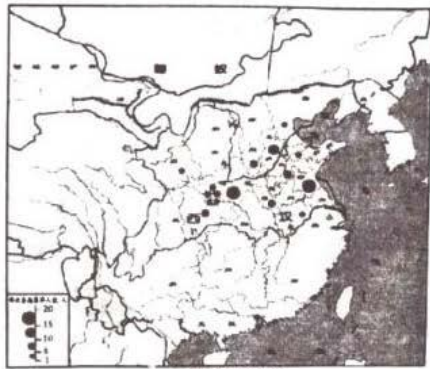


图6

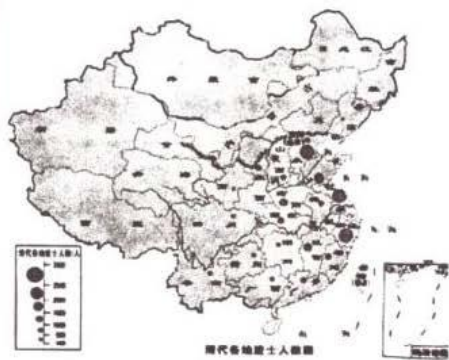


图7

——摘编自《普通高中历史地图册》

材料二 工业革命带来的生产力水平的大提高导致政府管理职能的膨胀, 政府面临着许多新课题……工业革命犹如经济魔棍, 点化出了19世纪中叶英国政治改革的浪潮, 选举与考试相配套的文官制度由此诞生了。…资产阶级兴起之时就提出的天赋人权、人。人平等、主权在民的思想经过几百年的发展, 已经深入人心。人们开始崇尚理性, 反对等级制度和封建特权, 追求自由竞争和机会均等。

——摘编自鲍红信《英国近代文官制度的建立》

- (1) 据材料一并结合所学知识, 概括从汉朝至清朝前期我国人才选拔的变化趋势。(8分)
- (2) 据材料二并结合所学知识, 指出中国古代科举制与英国近代文官制度产生背景的不同。(6分)

18. (13分) 阅读材料, 完成下列要求。

材料一 由于新旧民主革命的交替、革命道路的曲折, 在20世纪上半叶的中国, 不是出现一次革命高潮, 两次革命高潮, 确是三次革命高潮…它们是近代中国出现的政治革命高潮, 都要求全局性的变革。它们的依次发生, 在中国近代史上都是划时代的, 反映了政治上、思想上新陈代谢的快速步骤。材料二 毛泽东指出: 敌我力量严酷较量及其消长的历程就是“腐朽的大的力量要让位给新生的小的力量, 力量小的要变成大的, 因为大多数人要求变。”……中国近代革命的过程就是中国人民“斗争、失败, 再斗争、再失败, 直至胜利”的过程。

——均摘编自 陈旭麓《关于中国近代史线索的思考》

- (1) 据材料一并结合所学知识, 指出“三次革命高潮”的名称。(3分)
- (2) 概括材料二的观点, 结合材料一及所学知识对其进行论述。(10分)

19. (12分) 阅读材料, 完成下列要求。



图 8

——摘编自《新中国成立 60 周年经济社会发展成就回顾系列报告之二》

- (1) 结合所学知识，分析图 8 中国实际 GDP 增长率的两个峰值出现的原因。(6 分)
- (2) 结合所学知识，归纳影响我国经济发展的因素。(6 分)

20. (13 分) 8 月 24 日，日本政府无视国际社会的强烈质疑和反对，单方面强行启动福岛核事故污染水排海。同日，中国知名画师乌合麒麟发布名为《与人类同归于尽吗混蛋》的新图，引发关注。这幅作品描绘了跪在近海洋面上的一头巨兽，画面下方以日文和英文标注着“2023 年 8 月 24 日，罪兽开始了对全世界的报复”。



图 9

提取漫画中的相关信息，并结合所学知识加以解读。(要求：明确列出所提取的信息，史论结合，条理清晰)

关于我们

自主选拔在线是致力于提供新高考生涯规划、强基计划、综合评价、三位一体、学科竞赛等政策资讯的升学服务平台。总部坐落于北京，旗下拥有网站（[网址：www.zizzs.com](http://www.zizzs.com)）和微信公众平台等媒体矩阵，用户群体涵盖全国 90% 以上的重点中学师生及家长，在全国新高考、自主选拔领域首屈一指。

如需第一时间获取相关资讯及备考指南，请关注**自主选拔在线**官方微信号：**zizzsw**。

