

周至县 2022 ~ 2023 学年度高考第二次模拟考试

文综试题

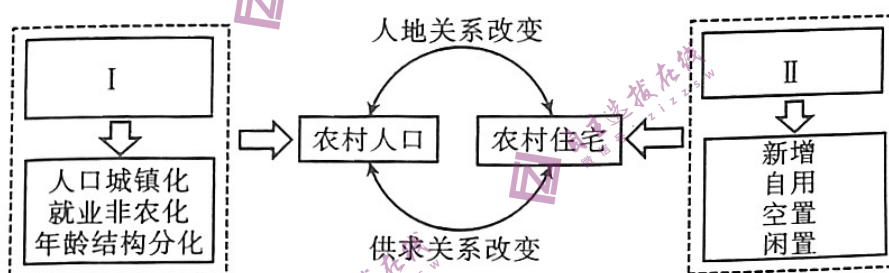
注意事项:

1. 本试题共 14 页, 满分 300 分, 时间 150 分钟。
2. 答卷前, 考生务必将自己的姓名和准考证号填写在答题卡上。
3. 回答选择题时, 选出每小题答案后, 用 2B 铅笔把答题卡上对应题目的答案标号涂黑。如需改动, 用橡皮擦干净后, 再选涂其它答案标号。回答非选择题时, 将答案写在答题卡上。写在本试卷上无效。
4. 考试结束后, 监考员将答题卡按顺序收回, 装袋整理; 试题不回收。

第 I 卷 (选择题 共 140 分)

一、选择题: 本大题共 35 小题, 每小题 4 分, 共 140 分。在每小题给出的四个选项中, 只有一项是符合题目要求的。

乡村振兴是以产业兴旺、生态宜居、乡风文明、治理有效、生活富裕为总要求, 着眼于我国当下国情与未来发展, 从根本上解决“三农”问题, 保障乡村充分发展, 促进城乡均衡发展的重大战略。下图示意广东省农村宅基地利用特征, 其中 I、II 是影响农村宅基地利用特征形成的两个重要阶段。据此完成 1~3 题。



1. 影响该地区人地关系发生改变的主要因素有

- ①经济发展 ②气候变化 ③农业技术 ④基础设施
A. ①② B. ②④ C. ②③ D. ①④

2. I 阶段农村地区的特征最有可能表现为

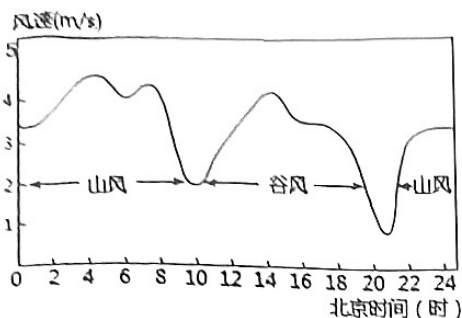
- A. 经济发展迅速 B. 人口流失比较严重
C. 人地矛盾加剧 D. 农民返乡意愿强烈

3. 促使 II 阶段农村宅基地利用特征形成的关键原因包括

- ①户籍制度调整 ②农民收入提高
③生态环境转好 ④人口大量迁出
A. ②④ B. ②③ C. ③④ D. ①②

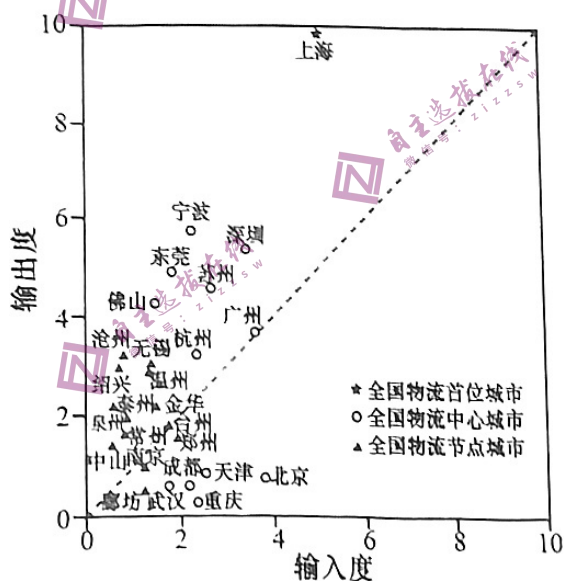
天山北坡的天池位于博格达峰(海拔为 5445m)的坡下, 山谷风相当典型, 与普通山谷风相比, 山风略大于谷风。下图示意某年 7 月 25 日至 8 月 8 日无大风干扰的情况下, 天山天池平均山谷风

及该地日变化曲线。据此完成4-6题。



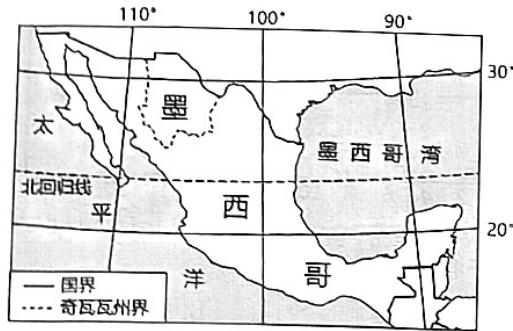
4. 影响天山天池山风略大于谷风的主要因素是
- A. 雪峰上升的暖空气
 - B. 湖泊的稳定水量
 - C. 雪峰下沉的冷空气
 - D. 阴坡缺少光照
5. 依据该时段山谷风的变化特点,可推测天山天池1月
- A. 谷风势力减弱,频率升高
 - B. 山风势力更强,频率升高
 - C. 谷风势力更强,频率升高
 - D. 山风势力减弱,频率升高
6. 山顶出现较厚云层的时段最有可能是
- A. 4~6时
 - B. 9~11时
 - C. 14~16时
 - D. 20~22时

专线物流(又称货运专线)是指物流运输企业在两个特定的城市或区域之间,通过公路、铁路或航空等方式运输货物的第三方物流服务模式。下图示意我国部分城市专线物流层级结构。据此完成7-8题。



7. 全国物流中心城市中的多数城市
- A. 空间位置临近
 - B. 发展模式相同
 - C. 行政级别较高
 - D. 海港规模较大
8. 宁波和东莞的物流输出度较高,其驱动要素分别是
- ①港口规模
 - ②消费群体
 - ③经济总量
 - ④制造业基础
- A. ①、②
 - B. ③、④
 - C. ②、③
 - D. ①、④

奇瓦瓦州位于墨西哥边境地区,区内大部分为向北倾斜的高平原,植被类型多样,物种丰富。末次冰期晚期,奇瓦瓦州是末次冰期北方针叶树种的“避难所”,该地既有北方南下的针叶林,又有低纬副热带地区典型的灌丛。下图示意奇瓦瓦州的位置。据此完成9~11题。



9. 奇瓦瓦州植被类型多样、物种丰富,主要得益于
- A. 演替过程持续
 - B. 地形复杂
 - C. 气候温暖
 - D. 受人类活动影响小

10. 与现代气候相比,奇瓦瓦州末次冰期晚期

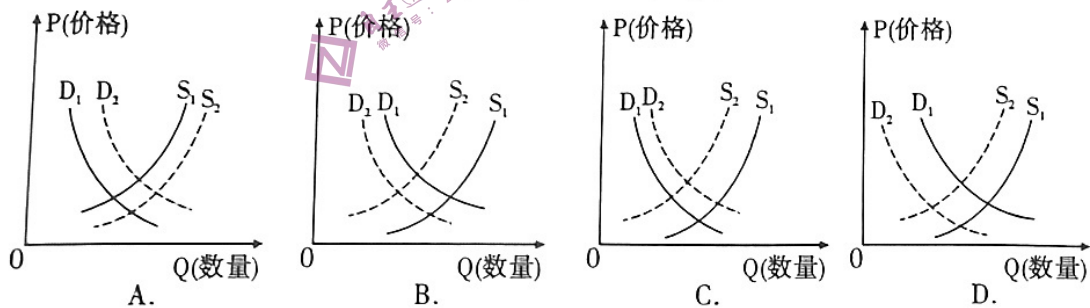
- ①夏季气温明显偏低
- ②冬季气温明显偏低
- ③气候更加干旱
- ④气候更加湿润

- A. ①③
- B. ①④
- C. ②③
- D. ②④


11. 与末次冰期晚期相比,奇瓦瓦州存留至今的针叶树种

- A. 叶片气孔较大
- B. 体型较小
- C. 扎根更深
- D. 枝干更加弯曲

12. 碳酸锂是新能源电池的重要原材料。截至2022年9月1日,碳酸锂市场长协价达到49.36万元/吨,相比5月最低价上涨3.8%。据有关人士分析,受限电、疫情等因素影响,锂盐供应紧张加剧,以及新能源汽车消费回暖等多个因素叠加影响,导致碳酸锂价格再度上涨。不考虑其他因素,如果用P表示碳酸锂的价格、Q表示碳酸锂的数量(D_1 、 S_1 表示变化前, D_2 、 S_2 表示变化后),下列图示最有可能反映上述现象的是



13. 专精特新“小巨人”企业(见下图)是中小企业中的杰出代表,是我国制造业创新创业的重要力量。2021年,中共中央政治局召开会议,要求开展补链强链专项行动,加快解决“卡脖子”难题,发展专精特新中小企业。中央财政于2021年至2025年,累计安排100亿元以上奖补资金,分三批重点支持1000余家国家级专精特新“小巨人”企业高质量发展,促进这些企业发挥示范作用。国家积极培育“专精特新”中小企业旨在



- ①解决“卡脖子”问题,提高关键技术及领域国产化水平
- ②提升企业在细分领域的创新能力,优化产业链和供应链
- ③提升非公经济积极性与活力,更好地与公有制经济竞争
- ④增加中小企业的数量,发挥其在促就业、稳增长中的作用

A. ①② B. ①④ C. ②③ D. ③④

14. 国务院决定从2022年9月到2023年3月,阶段性调整价格补贴联动机制,将启动条件中的居民消费价格单月同比涨幅由3.5%降到3.0%;在现行覆盖低保对象、孤儿等7类群体基础上,将领取失业补助金人员、低保边缘人口新增纳入保障范围,扩围后政策覆盖6700万人。上述调整

- ①表明国家财政能通过再分配促进社会公平
- ②发挥了第三次分配对缩小收入差距的作用
- ③通过增加社会总供给促进国民经济平稳运行
- ④有利于加大对困难群众基本生活的保障力度

A. ①③ B. ①④ C. ②③ D. ②④

15. 2023年2月13日,中共中央、国务院发布《关于做好2023年全面推进乡村振兴重点工作的意见》强调巩固提升农村集体产权制度改革成果。产权制度是市场经济的基石。十八大以来,国家全面推行农村集体产权制度改革试点,有序开展集体成员身份确认、集体资产折股量化、股份合作制改革、集体经济组织登记赋码等工作。通过改革,清查核实农村集体资产7.7万亿元,集体土地等资源65.5亿亩,确认农村集体经济组织成员身份9亿人。农村集体产权制度改革的影响路径是

- ①盘活农村“沉睡”的生产要素资源
- ②确认农民土地所有权和承包经营权
- ③发展壮大农村集体经济
- ④促进乡村振兴和共同富裕
- ⑤赋予农民更多的财产权利

A. ②→⑤→③→④ B. ⑤→④→①→③
C. ⑤→①→③→④ D. ③→①→④→⑤

16. 某市构建社区党组织领导下的“网格—楼栋—单元”分级负责的社区治理组织架构,网格长由社区专职工作人员担任,楼栋长和单元长从居民中选出。网格长牵头,定期组织楼栋长、单元长共同商议小区事务,梳理居民需求信息,化解居民矛盾,提出工作建议。“三长”联动机制

- ①是完善基层政府管理体制的积极探索
- ②通过共建共治共享激发基层治理活力
- ③有助于推动社区社会组织规范执法

④有利于维护公民参与基层治理的民主权利

A. ①②

B. ①③

C. ②④

D. ③④

17. 2022年10月,市场监管总局等九部门联合发布了《建立健全碳达峰碳中和标准计量体系实施方案》,这将对相关行业、领域、地方和企业开展碳达峰碳中和标准计量体系建设工作起到指导作用。这表明我国

①完善生态治理机制,统筹协调“双碳”工作

②坚持科学立法,为生态建设提供了法律保障

③赋予地方政府更大权限,激发地方政府活力

④践行生态惠民理念,促进经济社会实现绿色转型

A. ②③

B. ①④

C. ②④

D. ①③

18. 2022年人参产业高质量发展大会视频协调会议召开前夕,民革吉林省委调研组就2022年人参产业高质量发展大会筹备工作进行调研。举办2022年人参产业高质量发展大会,是贯彻落实习近平总书记视察吉林重要讲话重要指示精神的具体实践,民主党派开展调研活动,有利于充分发挥民主党派资源优势,为推动人参产业高质量发展贡献智慧和力量。这表明

①我国的各民主党派接受中国共产党的领导

②中国共产党与各民主党派政治联盟更加牢固

③政协在推进国家治理体系建设中发挥作用

④我国政党制度能把各政党团结起来共同奋斗

A. ①④

B. ①②

C. ②③

D. ③④

19. 《儿童阅读计划2022—2026》围绕“推广科学阅读理念,提升儿童阅读能力”的核心主题开展系列活动。如《我把中国诗“画”给你》以24首古诗搭配24座中国历史名城,将诗词、地理、人文与影像结合在一起,让孩子们在阅读中认识祖国的大好河山,让中华优秀传统文化全面融入儿童教育,让孩子们在阅读中走向更加美好的未来。推进儿童阅读计划有利于

①发挥文化的物质力量,促进社会发展

②发挥文化引领风尚、教育人民的功能

③大力发展先进文化,依法取缔落后文化

④推动优秀传统文化创造性转化、创新性发展

A. ②③

B. ①③

C. ②④

D. ①④

20. 2022年8月,国家乡村振兴局等八部门联合印发《开展高价彩礼、大操大办等农村移风易俗重点领域突出问题专项治理工作方案》,明确自2022年8月至2023年12月开展专项治理工作,重点整治高价彩礼、人情攀比、厚葬薄养、铺张浪费等陈规陋习,减轻农民群众在这些方面的支出负担。持续推进农村移风易俗,需要

①顺应时代发展,重视挖掘传统习俗蕴含的商业价值

②在坚持意识形态领域多元化的同时弘扬主旋律

③加强社会主义精神文明建设,营造文明风尚

④传递正能量,在继承优秀传统文化的基础上体现时代精神

A. ①②

B. ①④

C. ②③

D. ③④

21. 2022年11月15日,国家主席习近平出席二十国集团(G20)领导人第十七次峰会并发表重要讲话。他指出,各国应该互相尊重,求同存异,和平共处,推动建设开放型世界经济,不应该以邻为壑,构筑“小院高墙”,搞封闭排他的“小圈子”。二十国集团要坚守团结合作初

心、传承同舟共济精神,坚持协商一致原则。下列选项与材料观点蕴含哲理相同的是

①奋楫笃行,臻于至善

②不谋全局者,不足以谋一域

③上下同欲者胜,风雨同舟者兴

④山不让尘乃成其高,海不辞盈方有其阔

A. ②③

B. ①③

C. ②④

D. ①④

22. 中国式现代化新道路是一种新型的人类文明形态。习近平总书记指出,中国式现代化道路“破解了人类社会发展的诸多难题,摒弃了西方以资本为中心的现代化、两极分化的现代化、物质主义膨胀的现代化、对外扩张掠夺的现代化老路,拓展了发展中国家走向现代化的途径,为人类对更好社会制度的探索提供了中国方案”。中国式现代化新道路

①是对西方式现代化道路肯定与否定的结合

②改变了人类社会发展的具体形态和总的趋势

③是中国人民发挥意识能动性的直接成果

④符合历史发展的必然趋势和人民的根本利益

A. ①③

B. ②③

C. ①④

D. ②④

23. 2022年12月1日起施行的《中华人民共和国反电信网络诈骗法》坚持以人民为中心,统筹发展和安全,立足各环节、全链条防范治理电信网络诈骗,精准发力,为反电信网络诈骗工作提供有力法律支撑。从唯物史观的角度看,该法的通过说明

①生产关系的调整一定要适应生产力的发展状况

②物质决定意识,意识对物质具有能动的反作用

③要不断调整上层建筑以适应经济基础发展状况

④社会发展是在社会基本矛盾不断解决中实现的

A. ①②

B. ②③

C. ①④

D. ③④

24. 秦朝地方政府把法令作为指导政务处理的标尺,贯彻不打折扣的“法令行政”,但学者研究发现,在县级官员处理中央下达的政务占比中,自主行政达到了80.8%,法令行政只有19.2%。对这一现象解释正确的是

A. 政务处理需结合实情

B. 郡县制度初创存在着缺陷

C. 中央的监管力度不够

D. 官员处理政务能力有差异

25. 唐初官修六史《梁书》《陈书》《北齐书》《周书》《晋书》和《隋书》,分政权修撰,无正统与否之分,改变了南北朝时期修史“南书谓北为索虏,北书谓南为岛夷”的陋习。此举旨在

A. 缓和民族矛盾

B. 总结前朝教训

C. 增强国家认同

D. 巩固儒学地位

26. 下表为宋太祖时期中央所辖州县数量统计表(单位:个),根据表中的信息,可以确认的历史结论是,宋初

时间	州	县
公元960年	111	638
公元979年	297	1 860

A. 科举改革成效显著

B. 地方治理得到强化

C. 经济重心南移加快

D. 地方机构日渐臃肿

周至县高考文综第二次模拟考试-6-(共14页)

27. 明代江南涟川地主沈氏的农事《逐月事宜》中有如下的记载：
 正月：至苏杭买粪；苏州买烧酒；角直买余豆泥。四月：平望买牛粪（注：牛粪，稻草与牛粪便混合而成的特制肥料）；南浔买茧黄。十月：桐乡、海宁买枯叶；山里买柴草。十二月：嘉兴买腊猪油。
 该记载反映出当地
- A. 农村与市镇经济联系广泛
 B. 自然经济已彻底瓦解
 C. 出现资本主义经济的萌芽
 D. 农副产品向城市集中
28. 近代中国早期股份制企业普遍实行“官利（或称官息，指政府规定的利息）”制度，即不论企业是否盈利，股息都要预先付出，然后再进行结算，仍有利润时，再按股分配“红利”。官息年利一般为7%~8%，有时高达10%。据此可知，“官利”制度
- A. 减轻了企业的资金负担
 B. 保证了企业资金运行
 C. 解决了政府的财政困难
 D. 有利于吸引民间资本
29. 新文化运动号召人民“冲决过去历史之网罗，破坏陈腐学说之囹圄”，以求得“思想的解放”。钱玄同等思想家提倡将汉字直排改为横排，但市面上买不到横格纸，找不到横排的印刷厂。同时读者也反映阅读横排文字“甚感不便”，直到《新青年》停刊也未能将此变为现实。这说明当时
- A. 印刷技术阻碍文化多元化
 B. 激进的改革无法赢得认可
 C. 文化革新缺乏坚实的基础
 D. 小农经济根深蒂固未解体
30. 1940年1月11日，毛泽东说：“目前还不是全国下雨之时，在全国任务还是组织进步力量，力争中间阶层，击破大资产阶级的动摇与反动，这种可能性现在还未丧失。”这一讲话旨在
- A. 痛斥日寇侵华的残暴罪行
 B. 鼓励民主人士积极投身抗战
 C. 维护国共合作的抗日局面
 D. 揭露国民党破坏抗战的行为
31. 1984年10月《中共中央关于经济体制改革的决定》要求，要“确立国家和全民所有制企业之间的正确关系，扩大企业自主权；确立职工和企业之间的正确关系，保证劳动者在企业中的主人翁地位”。提出这一要求，主要是为了
- A. 积极发展多种经济形式
 B. 提高人民生活水平
 C. 发展社会主义商品经济
 D. 增强国有企业活力
32. 共和国中期以后的罗马法对婚姻家庭关系有如下规定：婚姻的条件是夫妻完全同意；夫对妻无“夫权”，妻子对丈夫没有绝对服从的义务，夫妻处于形式上的“同等地位”；夫妻财产原则上彼此分开，妻子的财产不问婚前婚后所得，一律属于自己所有。这反映了罗马法
- A. 私法规定完备
 B. 具有人文精神
 C. 维护家庭稳定
 D. 保护妻子权利
33. 文艺复兴时期，透视、人体比例、解剖学等受到艺术家们的广泛关注。达·芬奇称“画家是一切看得见的自然景物的模仿者”。这表明在文艺复兴运动中，绘画艺术
- A. 主题聚焦宗教题材
 B. 反映日常生活场景
 C. 重视科学知识运用
 D. 强调事物的光与色
34. 德意志帝国时期（1871-1918年）出现了以回归乡土为取向的乡土运动。其间乡土文学大行其道，传统乡村生活被想象成一种家庭和谐、生活悠然、亲近自然的“田园诗”。各地争相编撰乡土教程、乡土志，面向学校、家庭和社会广泛传播。这反映了

- A. 工业化和城市化快速发展
 B. 浪漫主义思潮进一步传播
 C. 民族国家概念被普遍认同
 D. 小农经济占据了主导地位
35. 1921年8月8日,苏俄人民委员会颁布《关于修订收归市有的房产名单》,责成公用事业处在两个月内列出面积不大、不适合公用事业和国家需要的房屋名单,从应该保留和妥善管理的意义出发,转交给个人或者集体。这一指示
- A. 减少了政府对经济的干预
 B. 巩固了苏维埃新生政权
 C. 重置了国家资源分配方式
 D. 有意识地限制私有房产

第 II 卷(非选择题 共 160 分)

二、非选择题:共 160 分。第 36~42 题为必考题,每个试题考生都必须作答。第 43~47 题为选考题,考生根据要求作答。

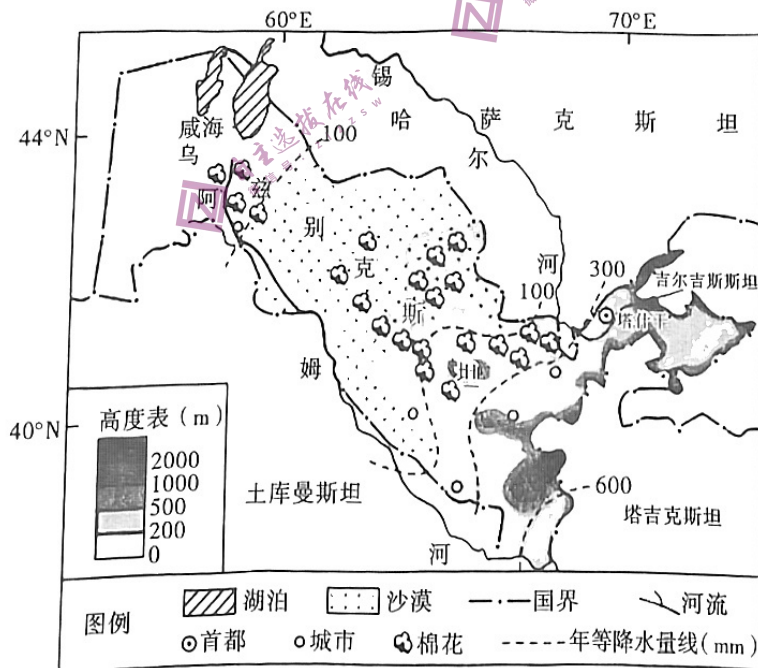
(一)必考题:共 135 分。

36. (22 分)阅读图文材料,完成下列要求。

乌兹别克斯坦是“一带一路”沿线的重要国家,纺织服装业是乌兹别克斯坦的支柱产业,发展前景广阔。

乌兹别克斯坦(如下图)是位于中亚腹地的“双内陆国”,是世界第六大产棉国。2017 年引进中国的棉花种植技术后,棉花产量大幅度增加。棉花产业链中棉花资源较为丰富,而棉花加工生产较弱。2020 年起,乌兹别克斯坦取消了棉花和棉纱的出口,以提升国家纺织产品深加工能力,把 70% 的植棉土地分配给纺纱企业,让企业自行完成种植—轧花—纺纱环节—服装生产—出口,建立全产业链,国家鼓励使用滴灌技术种植棉花,并给予较高的补贴。政府计划将这一模式覆盖 80 多个棉花产区。

乌兹别克斯坦劳动力资源丰富,潜在劳动力约为 1850 万人,占该国总人口的 57%,近 63% 的人口年龄在 30 岁以下。就业人口受过高等教育的约占 28%,受过中等专业教育的约占 31%。下表为近年乌兹别克斯坦和中国部分工业成本情况表。



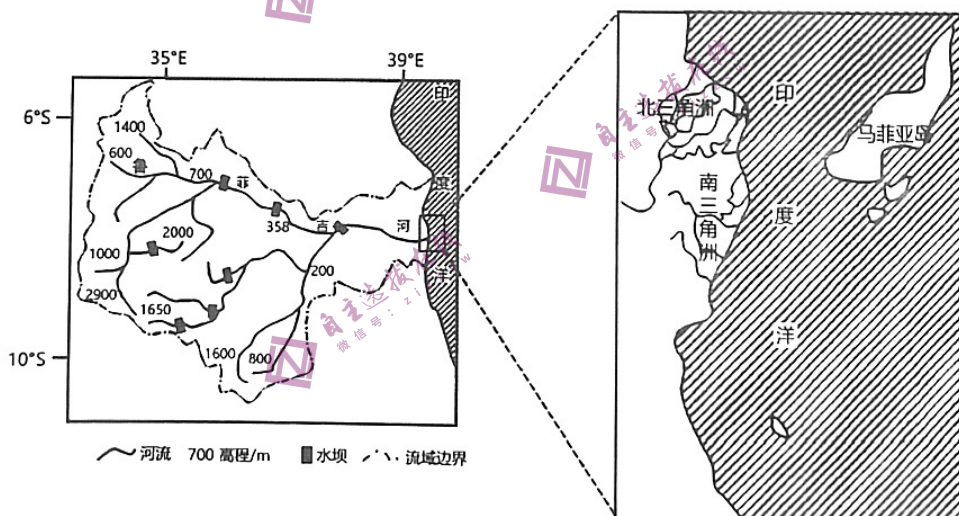
周至县高考文综第二次模拟考试-8-(共 14 页)

	乌兹别克斯坦	中国
工业用电价格(每千瓦时)	0.27 元	0.725 元
工业用水价格(每立方米)	1.8 元	4.1 元
废水处理价格(每立方米)	0.9 元	1.5 元
纺织服装行业劳动力成本(每小时)	0.41 美元	1.7 美元

- (1) 乌兹别克斯坦素有“白金之国”之称,分析其种植棉花的有利自然条件。(6分)
- (2) 分析乌兹别克斯坦政府对采用滴灌技术种植棉花给予较高补贴的原因。(4分)
- (3) 分析乌兹别克斯坦谋求从棉花出口国向棉纺织品出口国转型的优势条件。(6分)
- (4) 乌兹别克斯坦在 80 多个产棉区推行以企业为主体的种植—轧花—纺纱环节—服装生产—出口产业链模式。分析这一做法的利弊。(6分)

37. (24 分) 阅读图文材料,完成下列要求。

鲁菲吉河地处东非,流域面积 177420km²,最大流量出现在 3 月至 5 月的湿季,最小流量出现在 10 月下旬和 11 月的干季。鲁菲吉河三角洲规模宏大,包括北三角洲和南三角洲,多分汊。1978 年一场洪水之后,南三角洲和鲁菲吉河的联系被切断,南三角洲上的河道逐渐废弃,引发红树林扩张。近年来,鲁菲吉河流域兴建了多座水电站,这遭到了部分环保人士反对。下图示意鲁菲吉河流域及三角洲结构。



- (1) 分析鲁菲吉河三角洲规模宏大的形成条件。(6分)
- (2) 说明 1978 年洪水事件导致南三角洲河道逐渐废弃的过程。(8分)
- (3) 简述南三角洲河道废弃对红树林扩张的意义。(4分)
- (4) 请从保护河口环境的角度,说明限制流域水电开发规模的理由。(6分)

38. (14分) 阅读材料, 完成下列要求。

2023年中央一号文件提出“深入实施数字乡村发展行动, 推动数字化应用场景研发推广”。数字乡村建设是乡村振兴的战略方向之一, 是实现乡村振兴的必由之路。

我国某村因地制宜, 以数字化改革为抓手, 走出适合本地实际的乡村振兴之路。该村在政府的带领下, 数字力量赋能乡村振兴, 成效显著。该村利用“农抬头”智慧农业平台, 实现对农作物种植评估、生产监测、终端溯源等进行全流程数字化、自动化和智能化管理, 构建品质保障; 通过大数据精准分析柑橘等特色产业的发展数量、价格走势、市场供求等数据, 帮助小农户找到大市场, 开启“直播+电商”销售新模式, 推进当地特色农产品“走出去”, 带动户均年增收约5万元; 通过“互联网+旅游”聚焦特色农产品、绿色食品、生态景区资源; 努力填补基础设施建设空白, 积极探索村级公共数据平台, 积极推进“互联网+医疗健康”, 让数字技术红利不断下沉。

结合材料, 运用经济生活知识, 说明该村是如何以数字乡村建设为乡村振兴注入新动能的。

39. (12分) 阅读材料, 完成下列要求。

在社会主义制度下, 人民是国家的主人, 国家的一切权力属于人民。2002年, 党的十六大报告提出: “健全民主制度, 丰富民主形式, 扩大公民有序的政治参与, 保证人民依法实行民主选举、民主决策、民主管理和民主监督, 享有广泛的权利和自由, 尊重和保障人权。”2007年, 党的十七大报告进一步提出, “坚持国家一切权力属于人民, 从各个层次、各个领域扩大公民有序政治参与, 最广泛地动员和组织人民依法管理国家事务和社会事务、管理经济和文化事业”, 并将“公民政治参与有序扩大”明确作为实现全面建设小康社会奋斗目标的新要求之一。2012年, 党的十八大报告指出, 全面建成小康社会, 在政治体制改革上, 需“加快推进社会主义民主政治制度化、规范化、程序化, 从各层次各领域扩大公民有序政治参与, 实现国家各项工作法治化”。2021年在中央人大工作会议上, 习近平总书记强调, 要扩大人民民主, 健全民主制度, 丰富民主形式, 拓宽民主渠道, 从各层次各领域扩大公民有序政治参与, 发展更加广泛、更加充分、更加健全的人民民主。

结合材料, 运用政治生活知识, 简述扩大公民有序政治参与的重要意义。

40. (26分) 阅读材料, 完成下列要求。

一杯“中国茶”, 初品“色香味”, 再品“精气神”。

中国是茶的故乡, 我国是世界上最早种植茶树和制作茶叶的国家。中国茶的利用最初是出于“食用之性而孕育于野生采集活动之中的, 以满足于古人解决温饱的需求。在长期的食用过程中, 人们越来越注重它的某些疗病的“药用之性, 茶类植物油的止渴、清神、消食、除瘴、解毒、利便等功能逐渐为人们所发现。在漫长的生活实践中, 中国人久服成习, 茶的药用之旨也逐渐隐没, 日益转化为寻常的饮料。

中国人爱茶, 在泡茶、品茶、论茶这些充满仪式感的时刻中, 体悟自然、感悟人生, 增进交流、强化认同。数千年来, 中国人采茶、制茶、饮茶, 勤劳智慧的中国人民用世代相传的手工艺制作出各

种风味的茶品,供人饮用与分享,并由此形成了不同的制茶技艺及相关习俗。同时,中国茶文化在世代传承中形成了地域性、群体性和民族性特征,促进了茶器、茶歌、茶戏等文化表现形式的发展,营造了茶馆等关联性文化空间。中国茶,世界香。从古代丝绸之路、茶马古道、茶船古道,到今天丝绸之路经济带、21世纪海上丝绸之路,茶穿越历史、跨越国界,深受世界各国人民喜爱。2022年11月29日,我国申报的“中国传统制茶技艺及其相关习俗”被列入联合国教科文组织人类非物质文化遗产代表作名录。

(1)中国茶与国人相伴千年,历久弥新生生不息。结合材料,运用实践与认识的知识对此加以说明。(12分)

(2)结合材料并运用文化生活知识,说明传承和弘扬中国茶文化的重要意义。(10分)

(3)对于非物质文化遗产的保护传承,总书记一直十分关心。为传承非物质文化遗产,某地拟举办一次“让文化遗产‘活’起来”的主题研讨活动,请你写一篇短文,为该活动建言献策。(要求:①围绕主题,观点明确;②论证充分,逻辑清晰;③学科术语使用规范;④总字数在150字左右)(4分)

41. (25分)阅读材料,完成下列要求。

材料一:17世纪以前,中国和俄罗斯并不接壤,17世纪以后,沙俄通过扩张,使得中国和沙俄互为最大的邻国。沙俄侵华政策基本方针早在彼得一世就已奠定,他的后继者亚历山大、叶卡捷琳娜等沙皇都继承了这一侵略方针。1917年俄国十月社会主义革命后,给中国带来了马克思主义,苏俄支持中国的革命事业。中华人民共和国成立以后,中苏形成了结盟关系,《中苏友好同盟互助条约》签订,斯大林在维持苏联利益的同时,也真正给予了我们帮助。20世纪60年代到80年代,苏联撤走援华工程师,拆除设备,几令中国陷入极大困难之中,甚至还发生了珍宝岛战役。1989年戈尔巴乔夫访华,中苏关系正常化的进程演变成正常化的中俄关系。现在两国在经济领域的合作进一步加深,最重要的是还建立了中俄边境贸易,在互利互惠原则上发展沿边城市的全面合作。

——摘编自王钰《近现代中俄关系走向》

材料二:二战后,日本一直处于美国的控制之下。新中国成立后,特别是朝鲜战争的爆发,美国更重视日本作为战略基地的作用,要将其纳入它的战略体系中。美国片面炮制的对日“和约”就是在这样的背景下出现的,其目的是谋求使其长期占领日本“合法化”。1950年8月,美英公布了“对日和约草案定本”。其中,在领土问题上它违背了《开罗宣言》和《波茨坦协议》的规定,故意把中国台湾、澎湖列岛等归属问题弄得含混其词。同时,日本吉田政府在美国指示下,也同蒋介石集团签订了所谓的“和约”,并建立“外交关系”。1958年,杜勒斯等人说蒋军驻扎在金门、马祖是“愚蠢和不明智的”,企图使蒋军撤出金马等沿海岛屿,把台湾与大陆完全隔离开。20世纪60年代末70年代初,面对国际格局的演变和超级大国霸权地位的起落,以及中华人民共和国在联合国的一切合法权利得以恢复,美国开始调整对华、对台政策。1972年,中美两国在上海发表了《上海公报》,美国表示:“在台湾海峡两边的所有中国人都认为只有一个中国,台湾是中国的一部分。美国对这一立场不提出异议。”这是中国对美斗争的重大胜利。

——摘编自高民政《1949至1979:中美围绕台湾问题的军事政治较量及其影响》

(1)根据材料一并结合所学知识,概括中俄两国关系发展进程。(10分)

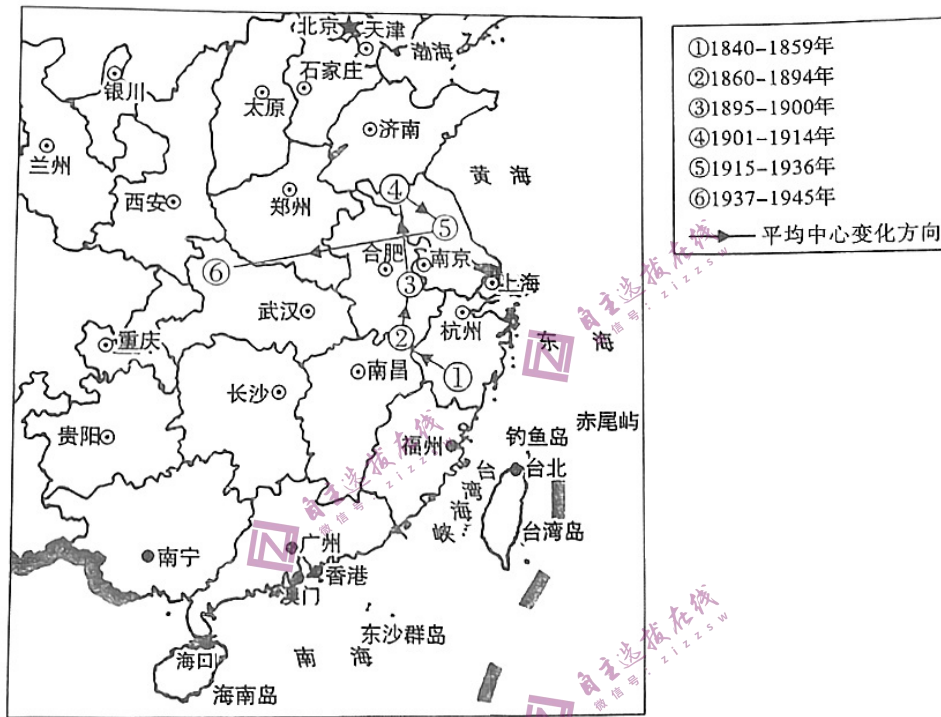
周至县高考文综第二次模拟考试-11-(共14页)

(2)根据材料二并结合所学知识,指出新中国成立后美国对台政策的表现,并分析 20 世纪 70 年代中美关系走向正常化的原因。(10 分)

(3)根据材料一、二并结合所学知识,谈谈你对国家对外政策调整的认识。(5 分)

42. (12 分) 阅读材料,完成下列要求。

材料:下图反映了中国近代工业各时段平均中心的变动轨迹。



——据刘静等《中国近代城市工业时空演变分析》

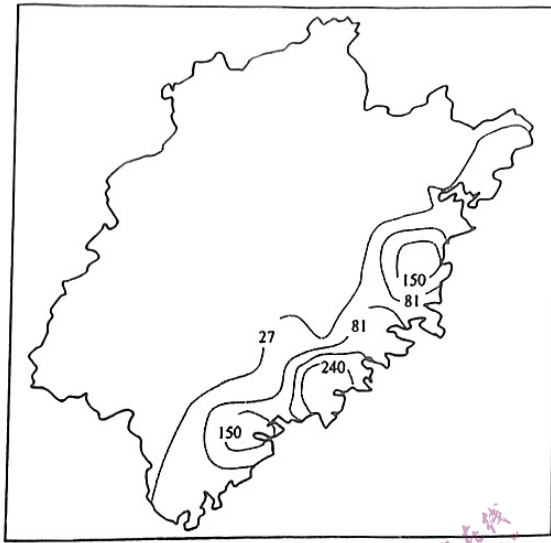
提取材料信息,对中国近代工业的时空演变加以阐释。(要求:明确写出时空演变,阐释须有史实依据。)

(二) 选考题:共 25 分。请考生从 2 道地理题、3 道历史题中每科任选一题作答。如果多做,则每科按所做的第一题计分。

43. (10 分)【地理——选修 3:旅游地理】

福建省是我国“海上丝绸之路”的起点区域,拥有丰富的“海丝”文化旅游资源。有研究将福建省“海丝”文化旅游资源分为海上交通类(海港设施、海防设施、航线遗存、祈风遗存)、商业贸易类(商贸街市、商贸管理、外销产品生产)、宗教文化类(宗教信仰、民间信俗)、文化融合类(聚落遗址、名人事迹、文化展览),共 4 大类 12 个亚类,有 406 个旅游资源点。将这些资源进行统计并计算其疏密程度,形成如下图所示的核密度图(数值越大,密度越大)。

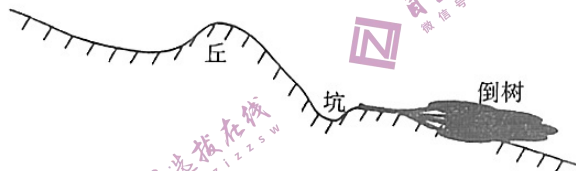
周至县高考文综第二次模拟考试-12-(共 14 页)



- (1) 指出福建省“海丝”文化旅游资源分布的突出特点。(4分)
- (2) 请围绕福建省“海丝”文化旅游资源设计和开发文化体验旅游活动。(6分)

44. (10分)【地理——选修6:环境保护】

当树木倒在山坡上时,它们通常会连根拔起附着在根部的土壤,在坡面留下土坑,松动的土壤堆在坑外形成土丘,构成倒树“坑—丘”系统。研究表明,倒树“坑—丘”系统通过改变物源条件和动力条件影响坡面水土流失过程。下图示意倒树“坑—丘”系统剖面。



评价倒树“坑—丘”系统对坡面水土流失的影响。

45. (15分)【历史——选修1:历史上重大改革回眸】

材料:戊戌变法时期,许多官绅认识到,洋务运动时期设立新式学堂与鼓励留学等教育改革只是一种在中国传统教育制度基础上进行的局部式改革,不利于中国教育发展。戊戌变法期间颁布的《学堂章程》规定:小学堂毕业授予生员,中学堂毕业授予举人,大学堂毕业授予进士。在京师大学堂“设管学大臣一员”,下设总办、提调、司员等官职,其职责是“节制各省所设之学堂”“其在学堂办事各员,统由该大臣慎选奏派”。哲学家冯友兰认为,因为新式学堂和科名刚好都是三级,父母也就愿意把孩子送入学堂。管理全国学务的孙家鼐也认同将设立的大学堂作为中央教育行政机构

的必要性,以及它对全国学堂所产生的作用。此后,大学堂人数每年都稳定维持在300人左右,地方新式学堂的学生人数也在逐年增加。

——摘编自陈睿腾《晚清戊戌变法时期的教育改革经验与现代启示》

- (1) 根据材料,概括戊戌变法时期教育改革的主要措施。(9分)
- (2) 根据材料并结合所学知识,分析戊戌变法时期教育改革的影响。(6分)

46. (15分)【历史——选修3:20世纪的战争与和平】

材料:二战中的不列颠空战,鲜明地显露出英德空军在作战思想上的差异。二战时期,尽管德国飞行员在排行榜中数不胜数,但德国空军仍坚持空军的主要任务是为陆军和海军扫清障碍,克服敌军的强固抵抗的保守作战思想。德国战斗机的首要任务是为轰炸机护航,用于战略轰炸的远程重型轰炸机却没有得到发展。英国空军早就认为,战斗机的首要任务是歼灭敌方航空兵,夺取制空权,而轰炸机除了对地支援外,就是对敌方实施战略规模的轰炸,摧垮对手的战争潜力。1940年,德国空军总司令戈林虽制定了彻底消灭英国空军的“飞鹰”计划,但德国空军只能单纯在海上和敌国领土的上空作战,而英国空军则能够获得雷达的战术合作。不列颠空战结束后,英国(本土)得以保存下来,且把德军拖入了致命的持久战泥淖里,此后,德军陷入了东西两面作战的绝境。

——摘编自孔扬《从不列颠空战看二战期间英德空军作战思想的差异》

- (1) 根据材料,概括不列颠空战中英德空军作战思想上的差异。(9分)
- (2) 根据材料并结合所学知识,简要评价德国在不列颠空战中的军事举措。(6分)

47. (15分)【历史——选修4:中外历史人物评说】

材料:屈原,名平,字原,丹阳(今湖北秭归)人,出生于公元前339年。屈原身处战国末期的楚国,其家世显赫,又“博闻强志,明于治乱,娴于辞令”,早年深得楚怀王的宠信,曾任楚国的左徒和三闾大夫,主张革新政治,“举贤而授能兮,循绳墨而不颇”。后受上官大夫靳尚等人的诬陷,怀王“怒而疏屈平”。公元前304年,屈原离开郢都,漂泊汉北;五年后,被怀王召回郢都重新任用。公元前296年,屈原再被放逐江南。秦将白起率军攻下郢都后,屈原理想破灭,万念俱灰,投汨罗江而死。屈原没有复兴楚国,但他在楚地民歌的基础上创作了《楚辞》,创新了诗歌的形式,丰富了浪漫的精神气质,承继了《诗经》的比兴手法,厚实了象征性意象,也实现了中国诗歌由集体咏唱进入个人独创的跨越。司马迁对他毫不吝惜赞美之言:“其文约,其辞微,其志洁,其行廉……推此志也,虽与日月争光可也。”

——摘编自《浅论屈原的家国情怀》等

- (1) 根据材料并结合所学知识,概括屈原生活的时代特征。(9分)
- (2) 根据材料并结合所学知识,简析司马迁高度评价屈原的原因。(6分)