

# 高三考试思想政治试卷

本试卷满分 100 分,考试用时 75 分钟。

## 注意事项:

1. 答题前,考生务必将自己的姓名、班级、准考证号填写在答题卡上。
2. 回答选择题时,选出每小题答案后,用铅笔把答题卡上对应题目的答案标号涂黑。如需改动,用橡皮擦干净后,再选涂其他答案标号。回答非选择题时,将答案写在答题卡上。写在本试卷上无效。
3. 考试结束后,将本试卷和答题卡一并交回。
4. 本试卷主要考试内容:必修 1,必修 2,必修 3。

一、选择题:本题共 16 小题,每小题 3 分,共 48 分。在每小题给出的四个选项中,只有一个是符合题目要求的。

1. 中国式现代化符合中国实际,反映中国人民意愿,适应时代发展要求,既体现了社会主义建设规律,也体现了人类社会发展的—般规律,是创造人民美好生活、实现中华民族伟大复兴的康庄大道。中国式现代化体现了人类社会发展的—般规律,其表现在
  - A. 党的领导是我们推进中国式现代化的根本保证
  - B. 以与时俱进的科学理论为指导,创造了中国奇迹
  - C. 中国式现代化立足本国历史传统和现实国情
  - D. 中国式现代化切合中国实际,独具中国特色
2. 马克思在《1857~1858 年经济学手稿》中指出:在未来的社会中,社会生产力的发展将如此迅速……生产将以所有的人富裕为目的。今天可以从中汲取的智慧有
  - ①实现共同富裕必须坚持系统观念
  - ②共同富裕必须置于人本逻辑之下
  - ③共同富裕必须以生产发展为前提
  - ④必须以一切人的自由发展为目标

A. ①②                      B. ①④                      C. ②③                      D. ③④
3. 2023 年是辽宁自贸试验区建设运营六周年。2022 年,辽宁自贸试验区财税收入 125 亿元,固定资产投资完成 300 亿元,均为成立前的 5 倍;实现进出口总额 1308 亿元,占全省的比重为 16.5%;实际利用外资 13.4 亿美元,同比增长 48%,占全省的比重为 21.8%。辽宁自贸试验区的实践证明
  - ①改革开放只有进行时,没有完成时
  - ②改革开放是党领导人民进行的伟大革命
  - ③没有改革开放就没有中国的今天
  - ④改革开放是发展进步的活力之源

A. ①③                      B. ①④                      C. ②③                      D. ②④

【高三思想政治 第 1 页(共 6 页)】

4. 当前,我国发展进入新征程,风险挑战、不确定难预料因素增多,各种“黑天鹅”“灰犀牛”事件随时可能发生,需要应对的风险挑战、防范化解的矛盾问题比以往更加严峻复杂。这就需要我们
- ①充分认识伟大斗争的长期性、复杂性、艰巨性
  - ②保持战略清醒,对各种风险挑战做到胸中有数
  - ③一以贯之深入推进中国特色社会主义伟大事业
  - ④锐意进取、埋头苦干,抓住大有可为的历史机遇
- A. ①②                      B. ①③                      C. ②④                      D. ③④
5. 党的二十大将习近平新时代中国特色社会主义思想新发展写入党章,对总纲第八自然段进行了充实完善,坚持把马克思主义基本原理同中国具体实际相结合、同中华优秀传统文化相结合,科学回答了新时代坚持和发展什么样的中国特色社会主义、怎样坚持和发展中国特色社会主义等重大时代课题;此外,党章增写实现第一个百年奋斗目标,开启了实现第二个百年奋斗目标新征程的内容。党章的这些修改
- ①表明党的指导思想是与时俱进的发展的理论体系
  - ②反映了以习近平同志为核心的党中央的理论创新成果
  - ③以党章的形式确立了第二个百年奋斗目标
  - ④表明中国特色主要体现在马克思主义与中国文化的结合上
- A. ①②                      B. ①③                      C. ②④                      D. ③④
6. 2023年8月,北京、河北等地山洪暴发后,国务院国资委贯彻落实党中央、国务院决策部署,要求央企加强风险研判,积极参与抗洪抢险、防汛救灾,全力做好交通、通信、电力等基础设施保障畅通的工作,特别关注山洪、滑坡、泥石流等自然灾害对野外施工、道路运输的安全威胁,以及强降雨等极端天气对电力、通信、水利等领域的影响。材料表明
- ①央企是维护国家经济安全的重要支柱
  - ②国有企业是国有经济最主要的实现形式
  - ③我国央企坚持党的领导,积极承担社会责任
  - ④国有企业是党执政兴国的重要依靠力量
- A. ①②                      B. ①③                      C. ②④                      D. ③④
7. 重新组建科学技术部,是2023年国务院机构改革的一项内容。根据《党和国家机构改革方案》精神,强化科学技术部的战略规划、体制改革、资源统筹、综合协调、政策法规、督促检查等宏观管理职责。此次改革
- ①意在克服市场调节缺陷,实现持续发展
  - ②有利于更好实现我国经济社会发展目标
  - ③通过实施产业政策提高资源配置效率
  - ④能更好统筹科技力量,推动高质量发展
- A. ①③                      B. ①④                      C. ②③                      D. ②④
8. 总需求不足是当前经济运行面临的突出矛盾。2023年中央拟安排地方政府专项债券3.8万亿元,将在重点支持现有11个领域项目建设基础上,适量扩大资金投向领域和用作项目资本金范围,持续加力重点项目建设,呈现“资金跟着项目走”的特点。下列关于“资金跟着项目走”的影响路径传导正确的是

【高三思想政治 第2页(共6页)】



- ①避免资金闲置或低效使用  
②地方债规模维持较高水平  
③带动、扩大有效投资和内需  
④维护产业链供应链的稳定  
⑤缓解社会总需求不足之困  
⑥有效支持高质量发展
- A. ④→①→⑥      B. ②→⑤→④      C. ⑤→①→③      D. ③→⑤→⑥

9. 下表是 2021 年我国外出农民工的地区分布及构成情况。据此,下列推断正确的是

按输出地分	规模(单位:万人)			构成(单位:%)		
	外出 农民工	跨省流动	省内流动	外出 农民工	跨省流动	省内流动
合计	17172	7130	10042	100.0	41.5	58.5
东部地区	4636	700	3936	100.0	15.1	84.9
中部地区	6320	3578	2742	100.0	56.6	43.4
西部地区	5582	2669	2913	100.0	47.8	52.2
东北地区	634	183	451	100.0	28.9	71.1

- ①我国区域发展存在不平衡、不协调的状况  
②乡村振兴让东北民众更愿意留在省内发展  
③在中西部,选择省内务工的农民工占比提高  
④东部地区开放程度制约了农民工跨省流动
- A. ①②      B. ①④      C. ②③      D. ③④
10. 实现共同富裕,扩大内需,就要扩大中等收入群体比重,构建初次分配、再分配、三次分配协调配套的基础性制度安排,实现社会公平稳定。从持续优化初次分配格局角度看,需要
- ①加快零工市场规范化建设,更好促进劳动者灵活就业创业  
②提高基础养老金最低标准,坚持在发展中保障和改善民生  
③大幅度提高个人所得税专项附加扣除标准,增加个人收入  
④健全和完善最低工资标准调整和工资支付保障长效机制
- A. ①②      B. ①④      C. ②③      D. ③④
11. 中国共产党是世界上组织规模最大、党员人数最多的政党。如同世界上任何事物都具有两面性,大也有大的难处。习近平总书记用六个“如何始终”对大党独有难题作了高度概括(如图)。解决大党独有难题

“大党独有难题”,即“如何始终不忘初心、牢记使命,如何始终统一思想、统一意志、统一行动,如何始终具备强大的执政能力和领导水平,如何始终保持干事创业精神状态,如何始终能够及时发现和解决自身存在的问题,如何始终保持风清气正的政治生态”。  
——习近平总书记在二十届中央纪委二次全会上的讲话

- ①需要以加强党的长期执政能力建设为着力点  
②应完善党的领导体制和党的自身建设工作机制  
③应坚持不懈锤炼党员忠诚干净担当的政治品格  
④要掌握科学执政这一党的基本工作方法和领导方法
- A. ①②      B. ①④      C. ②③      D. ③④

【高三思想政治 第 3 页(共 6 页)】

12. 下列选项对图片解读正确的是

- ①选举民主是社会主义民主的本质属性
- ②协商民主是我国民主政治的特有形式
- ③两者都是全过程人民民主的实践形式
- ④相较于协商民主,基层民主更接地气

A. ①③

B. ①④

C. ②③

D. ②④



13. 川渝政协 2023 年重点工作是围绕深入贯彻党中央关于推动成渝地区双城经济圈建设重大战略部署,共建机制、共搭平台,开展联合履职,团结引导社会各界进一步凝心聚力,共同助力“双城记”,赋能“经济圈”。由此可见,该地政协

- ①聚焦党和国家的中心任务,凸显政治联盟参与执政的优势
- ②围绕团结和合作两大主题,推进国家决策的科学化民主化
- ③通过政治协商和参政议政,实现高水平高质量的建言资政
- ④推进现代化治理体系建设,发挥政协参与政治生活的效能

A. ①②

B. ①③

C. ②④

D. ③④

14. 下列选项能反映图片主题的是

- ①加强各民族交往交流交融,铸牢中华民族共同体意识
- ②充分保证民族地方依法行使自治权,维护少数民族权益
- ③各民族呈现“大杂居、小聚居、交错居住”的分布格局
- ④在民族平等的基础上,我国各民族互相合作、共同奋斗

A. ①③

B. ①④

C. ②③

D. ②④



15. 基层作为为民服务和各项政策落实落地的“最后一公里”,代表了党和政府的工作态度和精神风貌。广西某地上级党委引导基层党组织建立“红色物业”“红色业委会”,让大家的事情自己说、自己议、自己定、自己办,把“干部的事”逐渐变为居民主动参与的“大伙的事”。这一基层治理的变化

- ①赋予了基层党组织基层治理的职能
- ②创新了我国基层群众自治的组织形式
- ③能调动广大居民参与社区建设的积极性
- ④有利于巩固和扩大党长期执政的群众基础

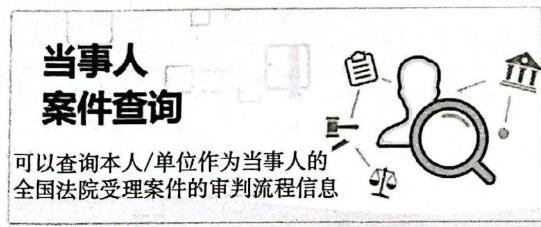
A. ①②

B. ①③

C. ②④

D. ③④

16. 下图是中国审判流程信息公开网“当事人案件查询”界面,用鼠标点击该界面,即可查询案件的审判流程信息。此举



①保障了当事人的知情权

②有助于构建阳光司法体制

③是推进检务公开的重要举措

④能支持人们理性表达诉求

A. ①②

B. ①③

C. ②④

D. ③④

【高三思想政治 第 4 页(共 6 页)】



二、非选择题:本题共4题,共52分。

17. 阅读材料,完成下列要求。(8分)

近年来,国际重大体育赛事在提升城市发展能级上展现出独特价值,已逐渐成为国内外各大城市推动高质量发展的重要选择。

上海嘉定区以举办F1中国大奖赛为契机,吸引各类相关市场主体,逐步形成具有国际影响力的赛车运动产业链;上海闵行区目前正依托ATP1000大师赛这一优质赛事资源,加快构建网球运动产业链。据统计,上海2019年举办了12项重大体育赛事,相关产业拉动效应超过102亿元。目前,上海已针对重大赛事逐一研究体育赛事带动其他产业发展的具体机制,以期进一步发挥体育赛事的综合效益。

结合材料,运用《经济与社会》的知识,分析上海举办体育赛事是如何发挥其综合效益的。

18. 阅读材料,完成下列要求。(10分)

粮食安全是“国之大者”,党的二十大报告明确提出,“全方位夯实粮食安全根基”“确保中国人的饭碗牢牢端在自己手中”。

为落实党的二十大部署,2023年8月30日,十四届全国人大常委会第五次会议举行联组会议,审议国务院关于确保国家粮食安全工作报告并开展专题询问。以下是现场实录的部分内容:

“国务院下一步将如何通过进一步制定和完善政策,为全方位夯实粮食安全根基提供保障?”全国人大代表、全国人大常委会委员庞某第一个发言询问。

直面问题,国务院相关负责人强调要牢记粮食安全这一“国之大者”,重点介绍了下一步的工作;同时还表示,将积极配合全国人大及其常委会推进相关立法,制定实施好粮食安全保障法、耕地保护法等法律,不断强化粮食安全的法治保障。

结合材料,运用《政治与法治》的知识,阐述我国国家权力的运行机制。

19. 阅读材料,完成下列要求。(12分)

2023年1月,一位美国母亲在《纽约时报》上发表了一篇署名文章。文章中,她讲述了她的两个女儿是如何在中国成长,并在当地学校接受教育的。这位母亲告诉美国人民,她的女儿从7岁起就独自安全地在一座拥有超过千万人口的城市中穿梭,她和丈夫对她们的安全一直很放心,因为这种安全不仅是由警察,而且是由整个中国的氛围和社会保障的,她非常感谢中国为她的家人所做的。她还提及回到美国后的感受,她在中国的安全感已变成在美国时常对家庭成员生命和健康的担心。

结合材料,运用全面推进依法治国的基本要求的知识,从不同的角度阐释中国为保障民众安全所做的努力。

20. 阅读材料,完成下列要求。(22分)

材料一 【转型升级推动发展】

东北这片沃土曾孕育出中国一重、一汽集团等一大批“国品之光”企业,然而在经济结构调整与产业升级过程中,东北企业一度面临着转型缓慢、市场竞争力弱化等挑战。下图是东北某企业的转型升级之路。

【高三思想政治 第5页(共6页)】



以客户为中心：为客户创造极致体验的产品和服务，超越客户预期，并聚集优质资源为客户提供服务。

以数据为驱动：所有的工作用数据来体现，业务操作做到数字化、在线化，管理过程做到数字化、智能化。

体系优化：着力构建“理念先进、逻辑清晰、要素完备、作业落地、方法创新”的领先管理体系。

(1)结合材料一，运用《经济与社会》的知识，说明该企业的转型升级之路给我们的启示。(8分)

**材料二 【党旗领航全面振兴】**


党的十八大以来，“东北振兴”这一宏大命题从未离开过人们的视野。围绕东北振兴，习近平总书记亲自谋划、亲自推动，先后三次主持召开专题座谈会。

2015年  
习近平总书记在吉林调研期间，专门在长春召开部分省区党委主要负责同志座谈会并指出，振兴东北老工业基地已到了滚石上山、爬坡过坎的关键阶段。


2018年  
习近平总书记在沈阳主持召开深入推进东北振兴座谈会。座谈会上，总书记不回避问题，明确指出东北存在的“四大短板”，并寄语东北广大干部群众。

2023年  
习近平总书记在哈尔滨主持召开了新时代推动东北全面振兴座谈会。他指出，当前，推动东北全面振兴面临新的重大机遇，要牢牢把握东北的重要使命，奋力谱写东北全面振兴新篇章。

(2)有人认为：对东北振兴充满信心的最大底气，就是坚持和加强党的全面领导。结合材料二，运用《政治与法治》的知识对此加以评析。(8分)




辽宁强力推进战略性新兴产业、高技术产业发展，超前布局未来产业。图为沈阳M公司研发生产的智能移动机器人系统。



辽宁坚持推进绿色发展、循环发展、低碳发展，打好污染防治攻坚战。图为辽宁省盘锦市辽河口红海滩湿地。



辽宁积极服务国家重大发展战略，深度融入共建“一带一路”，高水平参与东北亚区域交流合作。图为辽宁省营口港码头。



辽宁各地区域协调发展取得长足进步。图为辽宁省沈阳市浑河北岸。

(3)上图是某校围绕“体会成就 振兴有我”这一主题举办的图片展(部分)，展示和介绍了近年来辽宁在东北振兴中所取得的发展成就。假如你参观了该图片展，运用《中国特色社会主义》的知识，在留言板上写下你的参观感受。(6分)

要求：主题鲜明，表述清晰，逻辑严谨，150~200字。

## 关于我们

自主选拔在线是致力于提供新高考生涯规划、强基计划、综合评价、三位一体、学科竞赛等政策资讯的升学服务平台。总部坐落于北京，旗下拥有网站（[网址：www.zizzs.com](http://www.zizzs.com)）和微信公众平台等媒体矩阵，用户群体涵盖全国 90% 以上的重点中学师生及家长，在全国新高考、自主选拔领域首屈一指。

如需第一时间获取相关资讯及备考指南，请关注**自主选拔在线**官方微信号：**zizzsw**。



自主选拔在线

