

绵阳南山中学 2023 年春高 2020 级入学考试文科综合试卷

出题人：杨光有 李小建 杨骥 审题人：任申义 唐丽玲 冯艳春 组题人：唐丽玲
本卷分第 I 卷（选择题）和第 II 卷（非选择题）两个部分，满分 300 分，考试时间 150 分钟。

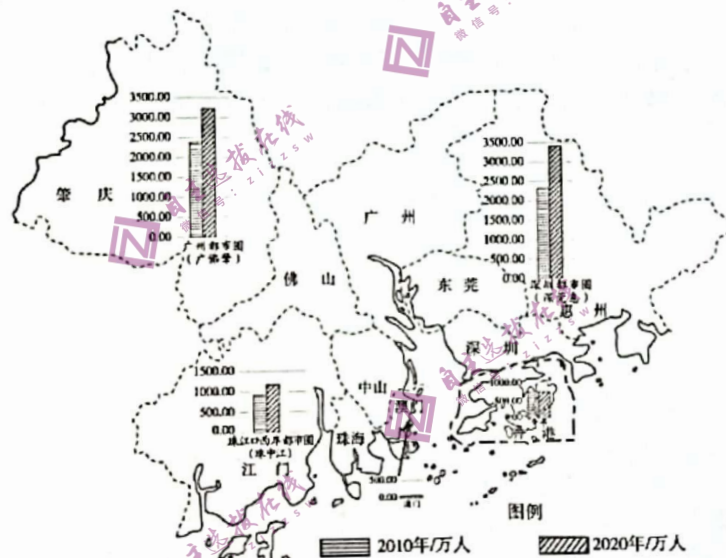
注意事项：

1. 答题前，务必将自己的姓名、考号填写在答题卡上规定的位置上。
2. 答选择题时，必须使用 2B 铅笔将答题卡上对应题目的答案标号涂黑，如需改动，用橡皮擦擦干净后，再选涂其他答案标号。
3. 答非选择题时，必须使用 0.5 毫米黑色签字笔，将答案书写在答题卡规定的位置上。
4. 所有题目必须在答题卡上作答，在试卷上答题无效。
5. 考试结束后，只将答题卡交回。

第 I 卷（选择题）

一. 选择题：本题共 35 小题，每小题 4 分，共 140 分。

粤港澳大湾区以占全国 0.58% 的国土面积承载了约 5.29% 的人口。下图为粤港澳大湾区城市分组人口规模示意图。读图，完成 1—3 题。



1. 粤港澳大湾区 ()
 - A. 广州都市圈人口密度最大
 - B. 香港、澳门人口密度最小
 - C. 深圳都市圈人口增长最快
 - D. 珠江口西岸都市圈人口增长最慢
2. 粤港澳大湾区人口数量变化的影响是 ()
 - A. 提升区域的城镇化水平
 - B. 提高区域人口老龄化水平
 - C. 缓解城市公共服务压力
 - D. 降低区域资源环境承载力
3. 潞 (音jiào), 是大湾区特有的地名用字, 与当地地理环境关系密切, 在广州、佛山等地多达上百处。“潞”字含义最有可能是 ()
 - A. 低平海岸
 - B. 河道交汇
 - C. 山地丘陵
 - D. 冷湿沼泽

某纺织品品牌2007年成立于甘肃省甘南藏族自治州的一处偏远山村。该公司只雇佣当地牧民, 经过培训之后, 牧民以复杂的工艺, 利用春季采集的牦牛绒手工编织围巾。自2008年起, 该品牌开始与巴黎时装品牌合作。2017年, 该品牌荣获巴黎可持续奢侈品大会年度大奖。2020年新冠肺炎疫情期间, 该品牌销量并未显著下降。据此完成下4—6题。

4. 该公司生产的牦牛绒围巾 ()
 - A. 地域特色浓厚
 - B. 年产量高
 - C. 价格低廉
 - D. 编织工序简单

5. 该品牌与巴黎时装品牌合作的主要目的是 ()

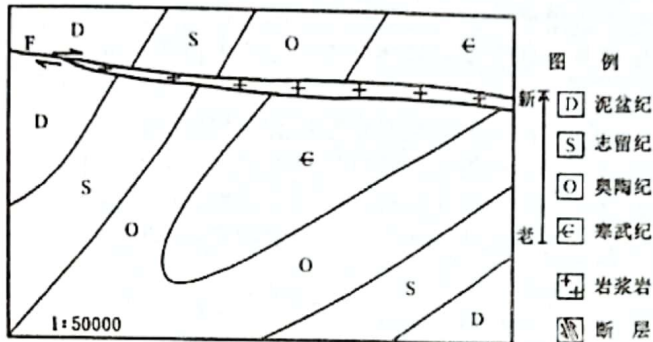
- A. 延长该品牌产业链 B. 增强客户体验感
C. 加强国际文化交流 D. 提高品牌知名度

6. 新冠肺炎疫情期间, 该品牌销量并未显著下降, 可能是由于 ()

- ①围巾制作周期长, 疫情之前接单量大 ②客户群体广, 受疫情影响相对较小
③总产量较高, 年产量基本稳定 ④客户收入高, 疫情期间支付力较强

- A. ①② B. ①④ C. ②③ D. ③④

下图为某地地质图。完成7—8题。



7. 图中岩浆岩 ()

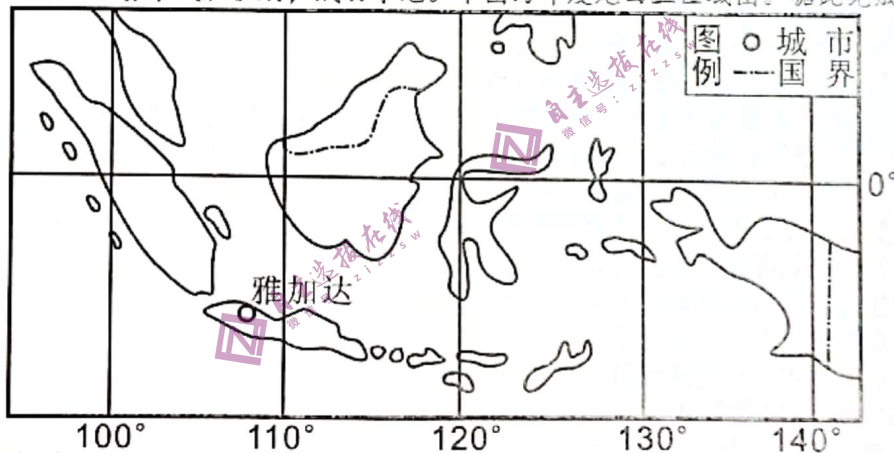
- ①沿断层F侵入 ②切穿背斜轴部 ③切穿向斜轴部 ④早于寒武纪形成

- A. ①② B. ②③ C. ③④ D. ①④

8. 该地区经历的地质过程是 ()

- A. 褶皱隆升—固结成岩—断层错位
B. 固结成岩—断层错位—褶皱隆升
C. 固结成岩—褶皱隆升—断层错位
D. 褶皱隆升—断层错位—固结成岩

雅加达是继曼谷(泰国)、新德里(印度)后第三个取得第二次亚运会主办权的首都城市。中国队在当地时间9月1日19:30开始的男篮决赛中战胜伊朗, 成功夺冠。下图为印度尼西亚区域图。据此完成9—11题。



9. 与新德里相比, 雅加达 ()

- A. 气温年较差大 B. 白昼时间更长
C. 光照条件更好 D. 水循环更活跃

10. 某上海球迷计划乘机赴现场观看男篮决赛, 飞行时间约6时20分, 其最合适的出发时间(北京时间)是 ()

- A. 8月31日13:10 B. 8月31日14:10
C. 9月1日12:00 D. 9月1日16:10

11. 近年, 印尼成为欧美品牌的代工企业主要集聚地之一, 印尼只负责代工生产, 产品运回欧美消费。欧美国家将代工企业向东南亚转移而不是我国西部的主要因素是 ()

- A. 市场 B. 交通 C. 劳动力 D. 政策

12. “手撕钢”是一种厚度极薄, 能够徒手撕碎的不锈钢, 广泛应用于高新技术领域, 其核心制造技术一直掌握

在发达国家手中。近年来，山西太钢自主攻克关键技术，成为全球唯一能批量生产厚度 0.015 毫米宽幅“手撕钢”的企业，把“百炼钢做成了绕指柔”。“手撕钢”价格堪比黄金，为山西太钢创造了可观的经济效益。关于上述材料，下列认识正确的有（ ）

- ①高新技术领域的广泛需求决定了“手撕钢”拥有较高的商品价值
- ②山西太钢通过自主创新实现了向全球价值链高端攀升的经营战略
- ③国产“手撕钢”的出现对于畅通国内大循环“堵点”具有重要意义
- ④山西太钢通过供给侧改革创造生活消费新需求，形成自身核心竞争力

A. ①② B. ①④ C. ②③ D. ③④

13. 面对异常复杂的困难局面，我国加大宏观政策调节力度。作为宏观调控的重要手段，财政政策和货币政策纷纷打开工具箱，为市场主体减负，增加发展后劲，稳住经济大盘。据此，下列实施的经济政策及其传导正确的是（ ）

- ①提高企业增值税起征点→实施减税退税→减轻企业税费负担→助力企业发展
- ②缩小国债发行规模→减少财政赤字→防范债务风险→促进实体经济平稳发展
- ③降准降息→降低企业融资成本→缓解企业融资困难→不断释放经济发展动力
- ④央行卖出有价证券→宽松市场货币流动→增加信贷资金的供应→助推经济复苏

A. ①② B. ①③ C. ②④ D. ③④

14. 产权制度是市场经济的基石。党的十八大以来，国家全面推行农村集体产权制度改革试点，有序开展集体成员身份确认、集体资产折股量化、股份合作制改革、集体经济组织登记赋码等工作。通过改革，清查核实农村集体资产 7.7 万亿元，集体土地等资源 65.5 亿亩，确认农村集体经济组织成员身份 9 亿人。农村集体产权制度改革的影响路径是（ ）

- ①盘活农村“沉睡”的生产要素资源
- ②确认农民土地所有权和承包经营权
- ③发展壮大农村集体经济
- ④促进乡村振兴和共同富裕
- ⑤赋予农民更多的财产权利

A. ②→⑤→③→④ B. ⑤→④→①→③
C. ③→①→④→⑤ D. ⑤→①→③→④

15. 2022 年中央经济工作会议提出，社会政策要兜住兜牢民生底线，要统筹推进经济发展和民生保障，围绕人民群众关心的就业、住房、养老、生育等民生问题开展积极有效的工作。下列民生政策与具体措施对应最恰当的是（ ）

- A. 减少企业税收——把“蛋糕”做大做好，大力提高企业利润
- B. 强化就业优先导向——提高经济增长的就业带动力，保障全社会人员就业
- C. 坚持“房住不炒”——发展和利用保障房、长租房、商品房，满足居民合理居住需求
- D. 防止规模性返贫——坚持效率优先、扩大中等收入群体，提高脱贫人口家庭经营性收入

16. 人民调解委员会是村(居)民委员会下设的调解民间纠纷的群众组织，在基层人民政府和人民法院指导下进行工作。人民调解委员会聘任的人民调解员对纠纷当事人进行说服规劝，促其彼此互谅互让，在自主自愿情况下，达成协议，消除纷争。由此可见，人民调解制度（ ）

- ①是社会主义法治建设中严格执法和公正司法的制度载体
- ②集中体现人民群众的自我教育、自我管理、自我服务
- ③是基层群众性自治组织履行社会建设职能的重要途径
- ④在化解人民内部矛盾过程中体现人民民主的真谛

A. ①③ B. ①④ C. ②③ D. ②④

17. 2022 年 11 月，第二十五次中国—东盟领导人会议发表的《纪念〈南海各方行为宣言〉签署 20 周年联合声明》重申有关各方承诺根据公认的国际法原则，包括 1982 年《联合国海洋法公约》，由直接有关的主权国家通过友好磋商和谈判，以和平方式解决领土和管辖权争议，而不诉诸武力或以武力相威胁。由此可见（ ）

- ①《南海各方行为宣言》推动周边国家的根本利益趋向一致
- ②以和平方式维护南海地区和平稳定符合世界各国共同利益
- ③求和平、谋发展、促合作成了南海地区国家的共同愿望
- ④国际法对维护地区稳定、促进地区和平发挥了重要的作用

A. ①② B. ①③ C. ②④ D. ③④

18. 中国共产党的党内法规是体现党的统一意志、规范党的领导和党的建设活动、依靠党的纪律保证实施的专门规章制度。目前，全党有以党章为核心的党内法规 3000 多部，已经形成比较完善的党内法规体系。加强党内法规建设是（ ）

- ①通过依规治党促进依法治国的有力抓手 ②全面从严治党 and 推进党的自我革命的有效举措
 ③立法机关完善国家法律法规体系的具体表现 ④把党的主张上升为国家意志的制度安排

- A. ①② B. ①③ C. ②④ D. ③④

19. 2022年11月4日,海南省纪委监委会同省委组织部对一年来新提拔和进一步使用的省管干部及其配偶和成年子女开展“家庭式”廉政谈话活动,273名党员干部、237名配偶及成年子女集体参观了省反腐倡廉警示教育基地,并观看服刑人员现身说法和《贪奢败家》警示教育片。参加活动的人员很受触动,一致表示要以更好状态、更实作风履职尽责,为海南省建设贡献力量。这表明()

- ①在家庭中逐步培育的家教家风是人们文化素养的核心
 ②人们进行各种社会交往的方式都带有自己的文化印记
 ③文化对人的影响来自特定的文化环境和各种文化活动
 ④文化对人的影响一般都是发生于潜移默化的过程之中

- A. ①② B. ①③ C. ②④ D. ③④

20. 当前,人类面临的气候变化、传染性疾病等共同挑战日益增多。面对困难,中国总能展现出强大的民族凝聚力和动员力,依托制度优势、强大的经济韧性,及时采取有力有效措施。同时,中国倡导并践行人类命运共同体理念,积极地参与全球治理体系改革和建设,显著提升了我国国际影响力、感召力、塑造力。这表明()

- ①文化软实力越来越成为影响综合国力竞争的重要因素
 ②一个国家的文化软实力是与经济政治实力同步发展的
 ③文化影响力是一个国家的国际影响力的基础和关键
 ④国家的影响力是经济、政治、文化等共同作用的结果

- A. ①③ B. ①④ C. ②③ D. ②④

21. 伴随卡塔尔世界杯的火热进行,世界杯吉祥物“拉伊卜”(如图)也火出了圈。“拉伊卜”在阿拉伯语中意为技艺高超的球员,其设计灵感来自卡塔尔人的传统服饰,它鼓励人们相信自己,也寓意着它将带领所有人享受足球的快乐。由此可知()



- ①艺术家创作的“拉伊卜”的内容具有主观性 ②吉祥物“拉伊卜”是创造者对现实的直观反映
 ③意识反映外部事物会受到主观因素的影响 ④意识的内容根源于人们的社会生活 and 实践

- A. ①② B. ①③ C. ②④ D. ③④

22. 为贯彻落实国家“放管服”改革 and 优化营商环境的要求,某市自然资源和规划局不断优化审批流程,压缩审批时间,助推政府投资项目审批时间压减在85个工作日内,社会投资项目审批时间压减在35个工作日内,深化工程建设项目全流程在线审批,推进业务审批在线办理,智能化审批,持续释放市场主体活力。该市优化审批流程的措施体现了()

- ①上层建筑一定要适应经济基础的发展状况 ②生产关系一定要适应生产力的发展状况
 ③改革是社会主义制度的自我完善和发展 ④社会基本矛盾必须通过社会改革来解决

- A. ①③ B. ①④ C. ②③ D. ②④

23. 下边漫画告诉我们的哲理是()



- ①要果断抓住时机,促成事物的发展 ②要坚持久久为功,重视量变的作用
 ③要进行科学规划,隔断不利的联系 ④要重视实践,促成矛盾双方的转化

24. 周公认为“惟命不于常”，即天命不会永远保佑一个王朝；提出“天畏棗忱，民情大可见”，即天的威严与诚信，应当从民情中进行观察；强调“敬从天命，怀保小民”，即通过时常体察民情以通达天意。这表明西周
- A. ①② B. ①④ C. ②③ D. ③④

25. 表1为汉代文献史料节选。这些史料可以印证 ()
- A. 蕴含居安思危意识
B. 重视神权维护王权
C. 重视民意维护统治
D. 强调政权的权威性

表1

史料	出处
济南【jian】氏宗人三百余家，豪猾，二千石莫能制。	《汉书·酷吏传》
往者豪强大家，得管山海之利，采铁石鼓铸，煮盐。一家聚众或至千余人，大抵尽收放流人民也。	《盐铁论·复古篇》
豪人之室，连栋数百，膏田满野，奴婢千群，徒附万计。	《后汉书·仲长统列传》

- A. 推行“推恩令”的必然性 B. 放松“抑商”政策的可行性
C. 加强政府管控的必要性 D. 士家大族专权的危害性
26. 宋初，在井盐富集的蜀地，朝廷控制大口浅井以垄断盐利。仁宗时，民间开始以新技法开凿小口深井——“卓筒井”。官方屡禁不止后，遂允其兴开并行盐课。蜀地盐井的发展表明 ()
- A. 技术革新推动政府调整政策 B. 政府放弃了盐业专卖政策
C. 私盐产销兴盛导致盐税锐减 D. 私营手工业占据主导地位
27. 在明末小说“三言”“二拍”中，商人群体得到了作者的肯定和赞美。在作者笔下，他们地位崇高、英俊儒雅、讲求品德、爱情得意、个性解放，“爱财而取之有道”，“修雅”而不“轻薄”。这说明当时 ()
- A. 经济发展助推文学体裁创新 B. 市民文化成为主流思想
C. 士农工商传统观念发生改变 D. 儒家正统地位发生动摇
28. 1876年《中英烟台条约》增开芜湖为通商口岸。读表2《芜湖开关至19世纪末进出口贸易表》，通过材料可以印证这一时期 ()

表2

年份	进口额(海关两)	出口额(海关两)	主要进出口货物
1877	893408	693274	进口：鸦片(占总额的30%)、棉纱、棉布 出口：农产品，以稻米和茶叶为最
1887	2994036	283704	
1899	6959066	13322783	

- A. 芜湖农民收入有显著提高 B. 安徽自然经济解体加速
C. 安徽进出口贸易顺差扩大 D. 芜湖近代工业迅速发展
29. 1927年2月成立的湖北黄冈县农民协会信用合作社是中国共产党创建的最早的农村信用社，由农民协会管理和监督现金的使用，并吸收存款、发放贷款、发行货币(见图1)据此可知，该社 ()


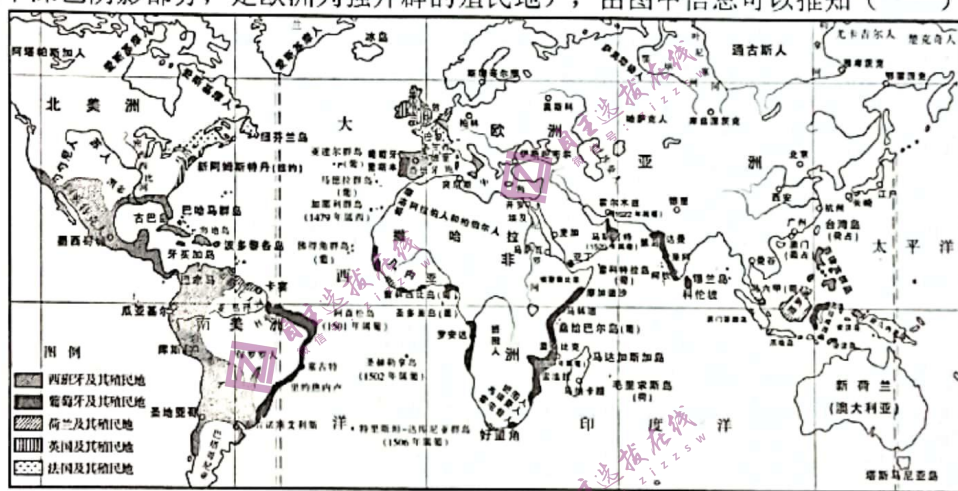


图1

- A. 为共产党经济探索积累经验 B. 反映农民阶级最迫切愿望
C. 巩固了国民革命运动的成果 D. 动摇了国民党的金融主权

30. 20世纪60年代初，党中央开始将国家建设的重点放在西南和西北地区，先后建成了四川攀枝花钢铁工业基地、甘肃酒泉钢铁厂、成昆铁路干线、成都航空工业基地、西北航空航天工业基地和核工业新基地等重大项目。这一战略决策的主要目的是（ ）
- A. 应对日趋紧张的国际形势
B. 改变西部地区的落后面貌
C. 建立独立的国民经济体系
D. 完善国家的基础设施建设
31. 赵建国是河南省信阳县金牛湾村村民，他保存着从1980年到2018年的家庭账本：1981年之前过的一直是集体生活，账本上能记的主要是工分；1981年分田到户后，他们才有了第一笔靠卖菜所得的收入；1984年以后每个月都有进账；1998年的账本里，除了日常饮食开销外，还记有大哥大费63.36元、电话费151.59元。据此可知，金牛湾村（ ）
- A. 1981年之前长期受人民公社影响
B. 1981年城市改革全面展开
C. 1984年得益于国有企业改革成功
D. 1998年小康社会初步建立
32. 公元前242年起在罗马大法官中专门设立“外事裁判官”，其审理涉外案件的原则，既不能套用罗马公民法，也不能完全依照异邦人本民族的法例，而是互相参照通融权衡，取得一些双方同意的解决方案，所以他们便称自己凭据的是万民通用之法，因此形成万民法的概念。这体现出罗马法
- A. 具有多样性的特点
B. 缓和了民族间矛盾
C. 仅维护罗马人利益
D. 为各族人民所借鉴
33. 观察下图（图中深色阴影部分，是欧洲列强开辟的殖民地），由图中信息可以推知（ ）



- A. 资本主义世界市场正在形成
B. 商品输出成为主要殖民方式
C. 工业革命的基本条件已具备
D. 自由主义成为社会主流思潮
34. 表3是苏联第一、二个“五年计划”期间农轻重产业的经济增长率情况，这说明（ ）

时间	农业	轻工业	重工业
一五计划期间	负增长	90%	143%
二五计划期间	54%	100%	139%

表3

- A. 新经济政策促进经济的恢复
B. 农业发展迅速生活水平提高
C. 社会主义建设取得较大发展
D. 轻重比例失调阻碍经济发展
35. 1962年，美国设立“跨文化交流项目”，在中央情报局控制下向苏联来访学者提供资料，这些学者通过在美国的工作和生活，对美国逐渐有了不同于以往的认识。这反映出（ ）
- A. 美苏冷战形势总体趋于缓和
B. 文化交流渗透意识形态传播
C. 国家利益是国际交往的基础
D. 美国文化对苏联更具吸引力

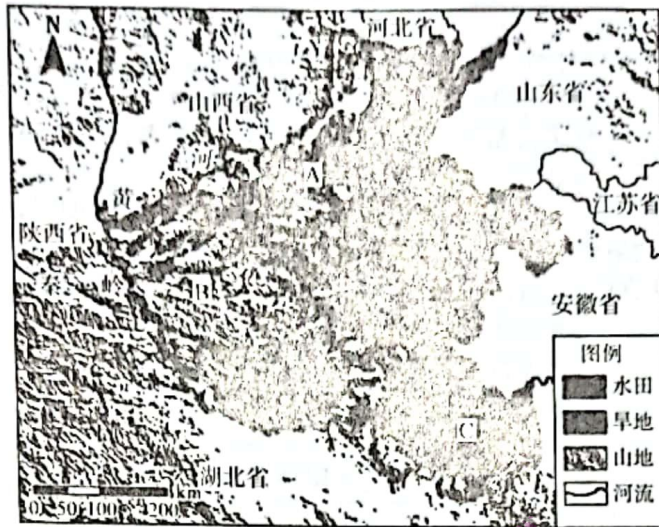
第II卷（非选择题）

二、非选择题：共160分。第36--42题为必考题，每个试题考生都必须作答。第43-47题为选考题，考生根据要求作答。

（一）必考题：共135分

36. 阅读图文资料，完成下列要求（22分）。

河南省是全国重要的农业大省、粮食生产大省。长期以来，河南用占全国6.25%的耕地，生产出占全国10.3%的粮食，小麦产量居全国第一；但是旱涝、风沙、盐碱等制约了河南农业的高产稳产。近年来，随着经济保持较快增长，坚守耕地保护红线，持续保持耕地数量不减少、质量不降低，成为粮食生产安全的重中之重。下图为2020年河南省耕地分布状况简图。



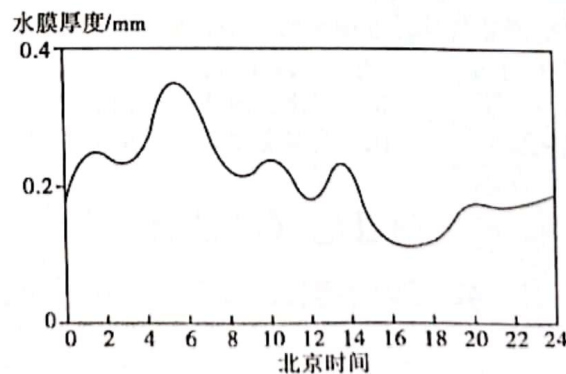
(1) 分析河南省耕地可持续发展利用压力大的原因。(6分)

(2) 指出图中A、B、C三地土壤盐碱化最严重的地区，并分析其成因。(10分)

(3) 针对当地的土壤盐碱化问题，从水循环的角度提出合理的整治措施。(6分)

37. 阅读图文资料，完成下列要求(24分)。

降雨时，公路表面会形成水膜。车辆在公路上高速行驶时，由于水膜的润滑作用，车辆行驶时安全系数显著降低。当水膜厚度较大时，只要汽车的行驶速度超过某一临界值，车辆的前轮就会发生水漂。京藏高速公路湟水谷地段地形向东开口，在西移暖湿气流和地形的相互作用下，气象条件复杂。下图示意京藏高速公路湟水谷地段某路面5-9月水膜厚度的多年平均日变化。



(1) 描述该公路水膜厚度的日变化特征。(6分)

(2) 16-18时水膜厚度最小，据此分析该时段的降水特征。(6分)

(3) 湟水谷地清晨水膜平均厚度较大，对此做出合理解释。(8分)

(4) 就降低水膜对公路交通的威胁提出合理建议(4分)

38、阅读材料，完成下列要求。(12分)

2022年以来，我国综合运用经济手段，释放出“稳住经济大盘”的强烈信号，通过增加地方政府专项债券3.65万亿元，用于铁路，能源、生态环保等重大项目，并发挥专项债“四两拨千斤”作用，吸引更多社会资本投入；中央财政安排50亿元左右，支持全国性重点枢纽城市建设，提升枢纽的货物集散、仓储、中转运输、应急保障能力，推进多式联运融合发展；将新能源汽车购置税政策再延期至明年底，并继续免征车船税和消费税，以进一步增加新能源汽车消费。此外，还通过对小型微利企业和个体工商户实施大规模留抵退税，改善生产经营现金流，稳定经济大盘，确保经济运行在合理区间。

结合材料，运用经济生活知识分析我国现阶段采取的经济手段在稳住经济大盘中的作用。(12分)

自主选拔在线
微信号: z1225w

自主选拔在线
微信号: z1225w

39、阅读材料，完成下列要求。(12分)

湿地，被喻为“地球之肾”、“物种基因库”，是重要的生态系统，与人们的生产生活息息相关。

我国自1992年加入《湿地公约》至今，与国际社会共同努力，全面强化湿地保护修复。湿地生态状况持续改善，特别是党的十八大以来，以习近平同志为核心的党中央高度重视湿地保护修复工作，就保护湿地守护百姓福祉作出了一系列决策部署。

2015年，中共中央与国务院印发《关于加快推进生态文明建设的意见》，明确湿地面积不低于8亿亩。2016年，中共中央深化改革领导小组审议通过《湿地保护修复制度方案》，成为指导全国湿地保护修复的纲领性文件。2021年12月，十三届全国人大常委会第三十二次会议表决通过《中华人民共和国湿地保护法》，为强化湿地保护修复，实现湿地保护高质量发展提供了坚实法律保障。各省、自治区、直辖市也不断根据中央要求，结合本地实际，修订完善新的地方湿地保护法规，为湿地保护修复保驾护航。

2022年11月5日，习近平主席出席在武汉举行的《湿地公约》第十四届缔约方大会开本式开年时再次指出：“我们要深化认识、加强合作，共同推进湿地保护全球行动。”

截至目前，全球共有43个“国际湿地城市”，其中中国城市有13个，数量位居全球第一。中国以占全球4%的湿地，满足了世界1/5人口对湿地的生产、生活、生态等多种需求，中国湿地保护也为全球生态环境治理提供了可借鉴的中国式治理路径。

结合材料并运用政治生活知识，阐释中国湿地保护为全球生态环境治理提供的中国式治理路径。(12分)

40. 阅读材料，完成下列要求。

材料一：

马克思主义中国化就是将马克思主义基本原理同中国具体实际相结合，不断形成具有中国特色的马克思主义理论成果的过程。

以习近平同志为主要代表的中国共产党人，坚持把马克思主义基本原理同中国具体实际相结合、同中华优秀传统文化相结合，坚持毛泽东思想、邓小平理论、“三个代表”重要思想、科学发展观，深刻总结并充分运用党成立以来的历史经验，从新的实际出发，创立了习近平新时代中国特色社会主义思想，实现了马克思主义中国化又一次新的飞跃，这一思想是发展中国特色社会主义的理论指南，也必将激励中国人民团结一心、砥砺前行，战胜一切艰难险阻，实现中华民族伟大复兴。

在新的征程上，我们要把深入学习贯彻习近平新时代中国特色社会主义思想作为全党全国的首要政治任务，在学懂弄通做实上下功夫，更加自觉地以这一思想为指导，以史为鉴、开创未来，奋力夺取全面建设社会主义现代化国家新胜利。

材料二：

2022年10月28日，习近平总书记来到位于河南安阳林州市的红旗渠。红旗引领方向，精神震撼人心。这里孕育出了“自力更生、艰苦创业、团结协作、无私奉献”的红旗渠精神。总书记指出：红旗渠精神同延安精神是一脉相承的，是中华民族不可磨灭的历史记忆，永远震撼人心，红旗渠精神永在！红旗渠就是纪念碑，记载了林县人不认命、不服输、敢于战天斗地的英雄气概。要用红旗渠精神教育人民特别是广大青少年，社会主义是拼出来、干出来、拿命换来的，不仅过去如此，新时代也是如此。

材料三：

2022年1月，人民数据研究院对19-30岁年龄段就业与职业规划情况进行了分析。结果表明，近六成青年认为缺乏实践和工作经验是困扰就业的重要因素，不少青年表示缺少职业规划、专业不对口或专业面太窄会对就业产生困扰。

- (1) 运用文化生活的有关知识并结合材料一，分析先进文化在实现中华民族伟大复兴中的作用。(10分)
- (2) 结合材料二并运用社会存在与社会意识关系原理，分析中国共产党为什么要代代传承“延安精神和红旗渠精神”。(12分)
- (3) 针对材料三反映的问题，请结合政治学科有关知识，就青年“如何解决就业困扰”写一篇小短文。要求：围绕主题，观点明确；②学术术语使用规范；③字数150字左右。(6分)

41. 阅读材料，完成下列要求。(25分)

材料一

英国是率先发生工业革命的国家，也是世界上第一个工业化国家，它开创了通过自由竞争和自由贸易、以市场机制自发推进工业发展的市场化内生发展模式，走出了一条通过纺织业走向全面机械化、工业化的道路。在其工业化过程中，英国先后制定了一系列有关保护财产和合同的法律，如《人身保护法》《货物买卖法》等，建立起保护消费者的商品检验制度和价格控制制度，制定保护投资者的《取缔证券投机法》，建立起保护劳动者的评定工资制度、工厂法和济贫法。与英国的“圈地运动”有异曲同工之妙的是，美国依靠让农民广占耕地，以不断提高农业劳动生产率来为工业化积累资本。在两次工业革命期间，美国农业的全面机械化推动了美国农业的迅速发展，这既为工业提供了市场，也促使农产品加工业一度成为美国的第一大制造业，而农业剩余劳动力大量转移到工业部门，又为美国工业化提供了源源不断的人力资源。经过两次工业革命，美国日渐成为以重工业为主导的工业化强国……当然，英美等发达资本主义国家的工业化也一度产生了社会及生态环境等突出问题，为世界工业化留下了沉重的历史教训。

——摘编自周宇《论欧美发达国家在工业化道路上的经验教训及其借鉴意义》

材料二

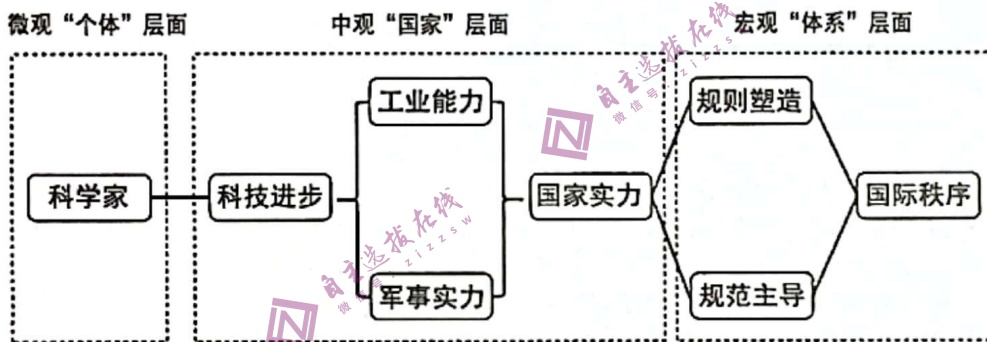
1949年6月，毛泽东在《论人民民主专政》一文中指出：“严重的经济建设任务摆在我们面前。……帝国主义者算定我们办不好经济，他们站在一旁看，等待我们的失败。……苏联……在列宁和斯大林领导之下，他们不但会革命，也会建设。他们已经建设起来了一个伟大的光辉灿烂的社会主义国家。苏联共产党就是我们最好的先生，我们必须向他们学习。”直到1957年2月，尽管苏联的社会主义建设暴露出了一些缺点和错误，毛泽东在讲到正确处理人民内部矛盾问题时仍然强调向苏联学习。他说：“为了使我国变为工业国，我们必须认真学习苏联的先进经验。苏联建设社会主义已经有四十年了，它的经验对于我们是十分宝贵的。”新中国成立初期，中国人民选择的苏联模式的工业化道路，在短时期内对新中国国民经济的快速发展产生了积极作用，但从长远来看也给中国经济、社会带来了一些消极影响。

——摘编自公茂虹《向苏联学习工业化建设》

- (1) 根据材料一并结合所学知识，概括近代英美工业化的主要特点，并指出其历史教训。（12分）
- (2) 根据材料一、二并结合所学知识，简析新中国成立初期工业化选择向苏联而非英美学习的历史背景，并谈谈你对我国工业化发展的认识。（13分）

42. 阅读材料，完成下列要求。（12分）

科技革命与国际秩序逻辑关系图示



——据郑华《科技革命与国际秩序变迁的逻辑探析》

从图中提取两个或两个以上相关要素，自拟一个具体的论题，并结合材料与所学知识，加以阐述。（要求：明确写出所拟论题，史论结合）

(二) 选考题：共 25 分。请考生从 2 道地理题、3 道历史题中每科任选一题作答，如有多做，则按所做第一题计分。并用 2B 铅笔在答题卡上把所选题目题号后的方框涂黑。

43. 【旅游地理】（10分）

下图为某旅行社设计的青海——甘肃西北大环线自驾游线路，沿途均为国道或者高速公路连接，在青海境内平均海拔在3000米左右，自驾时间大约7-8天左右。此自驾线路深受各地自驾游游客喜爱。以下是沿途主要景点。

评价该旅行社设计的旅游路线的优点。



44. 【环境保护】（10分）

内盖夫区位于以色列，以丘陵为主，年降水量约300mm，有200多年的放牧历史，主要牲畜类型为山羊和绵羊。

牲畜长期沿相对固定的路径在坡面上行走，形成牧道。牧道可直接对植被产生影响，也可通过土壤状况间接影响植被生长。

评价内盖夫区牧道对坡面植被生长的影响。

45. 【历史——选修1：历史上重大改革回眸】（15分）

19世纪中后期，当世界已经形成了以互派常驻使节为主要交往方式的近代外交局面之时，中国的外交体系依然还是以东亚地区为主要地理依托的“朝贡”制度。两次鸦片战争失败以后，清廷中的有识之士才以较为积极的态度应对前所未有的变局。随着总理衙门的成立，清政府的外交策略开始转变。掌握实权的洋务派向清廷大造舆论，要求遣使列强，对西方向中国的遣使做出对等性的反应。清廷根据各方建议，开展了三次临时性遣使以为探路。随着中日危机和“马嘉里教案”的爆发，清政府意识到正式遣使已经刻不容缓。1875年5月，清廷急令总理衙门尽快推荐人选。1876年2月，清廷制定了初步的出使章程。此后，选派驻外使节的主要方式均为通过总理衙门和南北洋大臣的举荐。

——摘编自许敏、刘常青《试析晚清早期驻外公使的遴选机制》

(1) 根据材料并结合所学知识，概括晚清政府派遣驻外公使的特点。（8分）

(2) 根据材料并结合所学知识，简析晚清政府派遣驻外公使的原因。（7分）

46. [历史——选修4：中外历史人物评说]

张载（1020—1077），字子厚，陕西横渠镇人，北宋著名的思想家、哲学家、教育家。其“为天地立心，为生民立命，为往圣继绝学，为万世开太平”的名言，历代传颂不衰。张载生活的时代，北宋西部边境经常受西夏侵扰，青年张载立志从军，希望能够抗敌报国，建功立业。21岁时，他向主持西北防务的范仲淹上书，受到了召见。范仲淹劝他：“儒者自有名教可乐，何事于兵！”，建议他研究《中庸》，从此，张载踏上了学术创造的道路。他曾受邀在开封相国寺设虎皮椅讲《易》，期间遇程颢、程颐兄弟。张载是二程的表叔，静心听取他们对《易经》的见解，深感二程的研究超过了自己，便毅然撤掉了虎皮座椅，对听讲的人说可向二程请教。张载博览群书，认为世界万物的一切存在和一切现象都是“气”，主张“理在气中”。因讲学关中，故其学派称为“关学”，是宋代理学四大主流之一。其“尊礼贵德”的伦理思想，“天人合一”的宏阔哲思，“民胞物与”的人文情怀，在学术界享有盛誉。宋神宗熙宁十年，张载病逝，奉祀孔庙西庑第三十八位。张载一生，两被召晋，三历外仕，终身清贫，歿后贫无以殓。学生闻讯赶来，才得以买棺成殓。

——摘编自张梅《一代大儒张载》

(1) 根据材料，概括张载的个人优秀品质。（8分）

(2) 根据材料并结合所学知识，概述张载对儒学发展的贡献。（7分）