

考号

姓名

班级

学校

题  
答  
要  
不  
内  
线  
封  
密

## 高三文科综合试卷

考生注意：

1. 本试卷分第Ⅰ卷(选择题)和第Ⅱ卷(非选择题)两部分,共300分。考试时间150分钟。
2. 请将各题答案填写在答题卡上。
3. 本试卷主要考试内容:高考全部内容。

### 第Ⅰ卷 (选择题 共140分)

本卷共35小题,每小题4分,共140分。在每小题给出的四个选项中,只有一项是符合题目要求的。

根据住房产权是否清晰,可以分为正规居住空间和非正规居住空间(如“城中村”)。深圳作为沿海经济活跃的一线城市,正规与非正规二元居住空间并存,不同居住空间之间的迁移频繁。下表示意深圳四种人口空间迁居模式样本均值比较。据此完成1~3题。

迁居模式	平均租金变化/(元·m <sup>-2</sup> )	交通可达性变化/m	教育可达性变化/m	综合区位变化/m	平均年龄/岁
①类迁移	-1.2	88	14	560	35.1
②类迁移	-38.1	319	-81	2328	33.3
③类迁移	-0.3	154	5	620	32.8
④类迁移	36.3	-85	103	-1170	33.7

1. ①②③④分别代表

- A. 正→正、正→非、非→非、非→正  
B. 非→非、正→非、非→正、正→正  
C. 正→正、非→正、正→非、非→非  
D. 非→非、非→正、正→非、正→正

2. 推测②类人口迁移主要是为了

- A. 购物便利  
B. 方便上下班  
C. 孩子上学  
D. 改善居住环境

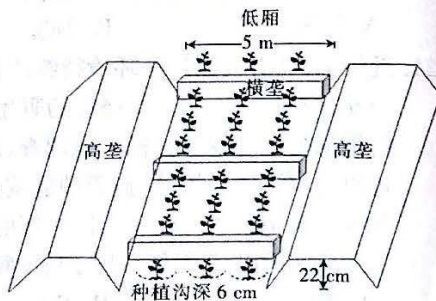
3. 为稳定来深流动人口,最应该通过优化住房政策增加

- A. ①类迁移  
B. ②类迁移  
C. ③类迁移  
D. ④类迁移

大蒜喜冷凉,生长适宜温度为5~26℃。青藏高原海拔3000m左右的农区每年最低气温在0℃以上的时间近半年,蒜苗适宜露地栽培。试验发现,在高原上采用高垄低厢田块式栽培效果显著(如图)。每年需要定期对低厢进行深松,一段时间后可以清除大部分病原体、杂草种子。据此完成4~6题。

4. 推测在低厢中起横垄隔断,主要是为了

- A. 阻挡大风  
B. 减少水分蒸发  
C. 灌水均匀  
D. 阻隔病虫害



5. 青藏高原大蒜播种深度比较大,主要是考虑土壤

①温度 ②水分 ③肥力 ④类型

A. ①② B. ①④ C. ②③ D. ③④


6. 对青藏高原海拔 3000 m 左右的农区低厢进行深松适合选择在

A. 2 月 B. 5 月 C. 8 月 D. 11 月

日晕,又叫圆虹,是一种大气现象。它的形成原理是在 5 km 的高空中出现了由冰晶构成的卷层云,卷层云中的冰晶经过太阳照射后会发生折射和反射等物理变化,阳光便分解成了红、黄、绿、紫等多种颜色,这样太阳周围就出现了一个巨大的彩色光环,称为晕。下图示意日晕现象。据此完成 7~8 题。

7. 日晕发生时

A. 可长时间用肉眼观看奇景  
B. 近地面对流运动强  
C. 短时间内可能出现降水  
D. 近地面河流正涨水



8. 下列地区中,人们更容易观测到日晕现象的是

A. 四川盆地 B. 亚马孙平原 C. 刚果盆地 D. 华北平原

卡尔布科火山为智利中部安第斯山脉的活火山。布兰科埃斯特河源于卡尔布科火山。1961 年卡尔布科火山大规模喷发后,大量火山灰进入布兰科埃斯特河,河道形态发生显著变化。下图示意 2015 年火山再次喷发前该火山下游 7.5 km 处的河段特征。据此完成 9~11 题。

9. 1961 年卡尔布科火山大规模喷发后,该河段

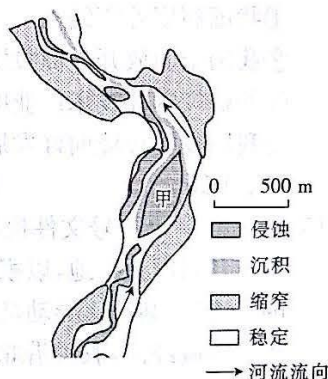
A. 持续变宽  
B. 持续变窄  
C. 先变宽,后变窄  
D. 先变窄,后变宽

10. 甲处侵蚀区的形成主要是由于

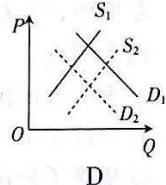
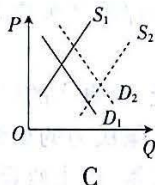
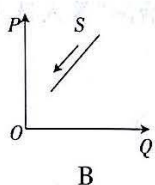
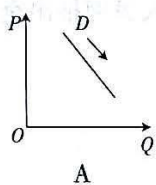
A. 落差加大 B. 水流束窄  
C. 水流偏转 D. 挟沙量减少

11. 2015 年卡尔布科火山再次喷发,该河段河道形态变化较上一次偏小,可能是由于

A. 植被覆盖减少 B. 上游沙源增加 C. 气候总体变暖 D. 喷发规模较小



12. 从 2021 年开始,硅料的高价格加快了硅料产能投资的节奏,国内硅料年产能由 2022 年年初的 42 万吨提高到年末的 120 万吨;同时硅片的厚度从 170 微米减到了 130 微米,电池片的效率从 22% 上升到了 25%,从而使得单瓦的硅料用量从 2.8 克降到了 2.2 克。2022 年 12 月开始,硅料价格由每公斤 300 元下降到每公斤 120 元。不考虑其他因素,下列能够正确反映硅料价格下降原因的图示( $P$  代表硅料价格, $Q$  代表数量, $S_1$ 、 $D$  分别代表硅料供给和需求)是



【高三文科综合 第 2 页(共 12 页)】





- ④集中体现全国人大坚持民主集中制原则
- A. ①②                      B. ①④                      C. ②③                      D. ③④
17. 五年来,十三届全国政协外事委员会将“‘十四五’规划对外开放重大举措落实情况”作为民主监督的重点内容,研究制定外事委 2021~2025 年民主监督工作方案,先后赴中部地区河南和山西、西部地区四川和云南开展民主监督调研,推动中央决策部署落实落细。材料表明
- ①人民政协聚焦党和国家中心任务                      ②各民主党派与中国共产党通力合作  
③人民政协通过调研的方式参政议政                      ④政协履职时注重发挥协商民主的作用
- A. ①②                      B. ①④                      C. ②③                      D. ③④
18. 为响应习近平主席关于中国支持沙特阿拉伯王国同伊朗伊斯兰共和国发展睦邻友好关系的积极倡议,沙特和伊朗代表团于 2023 年 3 月 6 日至 10 日在北京举行会谈。三方联合声明,宣布沙特、伊朗达成协议,同意恢复中断近 7 年的外交关系。三国表示愿尽一切努力,加强国际地区和平与安全。这一成就的取得体现了
- ①中国倡导矛盾分歧应通过对话寻求政治解决  
②沙伊两国摒弃利益差别,共同维护地区长治久安  
③中国支持中东国家坚持战略自主,加强团结协作  
④联合国在维护中东和平与稳定中发挥着重要作用
- A. ①③                      B. ①④                      C. ②③                      D. ②④
19. 场景式展现湘江战役、飞夺泸定桥、过雪山草地、大会师等重要历史事件,立体描绘红军长征这一壮美史诗画卷的大型交响套曲《长征》;以“岁月征程”为内涵,以“民族复兴”为底色,以“人民至上”为立意的管弦乐曲《星辰大海》……进入新时代,中国交响乐作品主题鲜明,大气磅礴,充满时代荣光,赢得广泛喝彩。由此可见
- ①革命文化是中国交响乐作品创作的源泉  
②革命文化在传承与创新中恒久而鲜活  
③革命文化是弘扬社会主义核心价值观的重要载体  
④正能量作品能够满足人们多层次的文化需要
- A. ①③                      B. ①④                      C. ②③                      D. ②④
20. 从先秦时期“五方之民”共天下到隋唐“六合同风,九州共贯”,从“洛阳家家学胡乐”到“万里羌人尽汉歌”……从“夷夏有别”到“夷夏一家”,“中华民族”的概念逐渐从“自在”走向“自觉”。这体现了
- ①中华文化求同存异、兼收并蓄                      ②各民族文化寓于中华文化之中  
③华夏文明文脉相通、多元一体                      ④中华文化具有明显的区域特征
- A. ①②                      B. ①③                      C. ②④                      D. ③④
21. 近年来,随着我国生态环境持续改善,一些地方野猪等野生动物泛滥成灾,危害群众人身财产安全和农牧生产。新修订的野生动物保护法规定县级以上人民政府野生动物保护主管部门根据野生动物及其栖息地调查、监测和评估情况,对种群数量明显超过环境容量的物种,可以采取迁地保护、猎捕等种群调控措施。这一规定启示我们
- ①要始终把事物的变化控制在度的范围内                      ②要实现客观与主观具体的历史的统一  
③要从实际出发,具体分析矛盾的特殊性                      ④要善于分析和把握事物存在和发展的条件
- A. ①②                      B. ①③                      C. ②④                      D. ③④



22. 为解决金融领域长期存在的突出矛盾和问题,2023年国务院机构改革方案提出组建国家金融监督管理总局,统一负责除证券业之外的金融业监管,强化机构监管、行为监管、功能监管、穿透式监管、持续监管,统筹负责金融消费者权益保护,加强风险管理和防范处置,依法查处违法违规行为。从哲学上看,组建国家金融监督管理总局

- ①能使上层建筑更好地服务经济基础
- ②使生产关系更好地促进生产力的发展
- ③能把各个部分联系起来考察,形成监管合力
- ④表明新事物必然会战胜和取代旧事物

A. ①③                      B. ①④                      C. ②③                      D. ②④

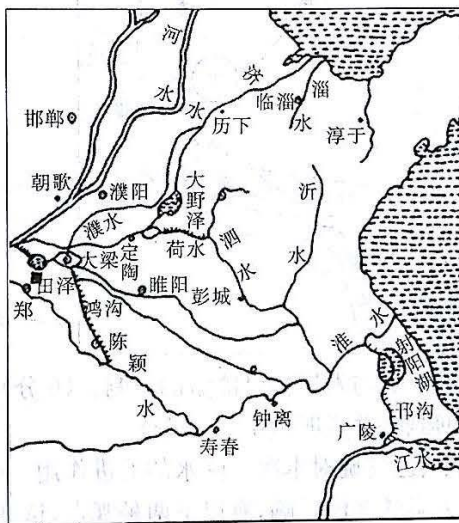
23. 漫画给我们的哲学启示是

- ①既要仰望星空,又要立足实践
- ②既要深化认识,又要强化保障
- ③善于抓住时机,积极促成质变
- ④坚持循序渐进,注重量的积累

A. ①③                      B. ①④                      C. ②③                      D. ②④



24. 下图所示为春秋战国时期的运河示意图,其中吴国修建的邗沟和魏国修建的鸿沟尤为著名。这反映出当时



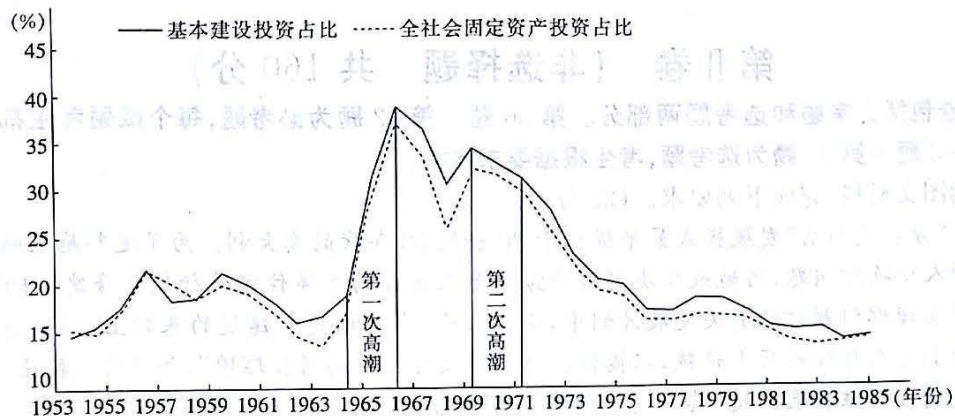
- A. 社会转型加速发展
- B. 中原经济优势凸显
- C. 国家统一动力增强
- D. 争霸方式趋于多元

25. 秦朝到隋朝中叶的“乡绅之治”,指的是郡县以下实行“乡亭制”,管理乡亭的人员以官派为主,民间选拔为辅。通过民间的力量来治理社会,在“王权与族权”的结合下形成了“中央—郡—县—乡—亭—里—什—伍—户”金字塔型的控制体系。这一治理模式

- A. 使官僚政治取代贵族政治
- B. 削弱了中央对地方的控制
- C. 提升了政府的组织能力
- D. 恢复和发展了血缘宗法制度

26. 宋以前的家训内容主要以修身养性、治国齐家为主;宋代以来,家训中逐渐增添了重文的内容,如家颐的“养子弟如养芝兰,既积学以培植之”“士人家切勤教子弟,勿令诗书味短”等语。这一变化

- A. 催生了崇文抑武的政策  
B. 促进了社会规范的变化  
C. 改变了家训家规的宗旨  
D. 推动了文学家庭的发展
27. 明朝中期，“盗矿”之事，遍及各省，有的在深山偷挖，有的则凭借势力占领官家的矿场，有的则建立武装公然和官府对抗，如在广东顺德，就有豪强勾结“势家”经营银矿达 30 年之久。由此可知，当时
- A. 私营矿业得到发展  
B. 中央集权制度衰微  
C. 资本主义萌芽兴起  
D. 官营手工作坊破产
28. 1897 年，严复和夏曾佑在《国闻报》发表《本馆附印说部缘起》（“说部”即小说），其中写道“夫说部之兴，其入人之深，行世之远，几几出于经史上。而天下之人心风俗，遂不免为说部之所持”“且闻欧、美、东瀛，其开化之时，往往得小说之助”。这表明他们
- A. 极力弘扬中华传统文化  
B. 主张利用小说开启民智  
C. 传承了“经世致用”思想  
D. 表达了政治改良的诉求
29. 中共二大发布的宣言指出，中国大量的贫苦农民能和工人“握手革命”，可以保证中国革命的成功。党为保障工人和贫农的利益，在联合战线里设定的奋斗目标是：消除内乱，打倒军阀，建设国内和平；推翻国际帝国主义的压迫，达到中华民族完全独立；统一中国为真正的民主共和国。由此可知，当时中国共产党
- A. 认识到国共合作的必要性  
B. 客观分析了民主革命的实际问题  
C. 开始独立领导国民大革命  
D. 探索出了中国农村革命的新道路
30. 南京国民政府成立后，先后与西方列强签订了《关税条约》《友好通商条约》等新约，列强承认中国有完全的关税主权。此后，南京国民政府先后于 1931 年、1933 年、1934 年三次提高关税税率。由此可知，南京国民政府的关税政策
- A. 促成了社会性质的转变  
B. 避免了世界经济危机的冲击  
C. 对关税的作用认识不足  
D. 有利于保护民族工商业发展
31. 下图所示是四川(含重庆)、贵州、云南、陕西、甘肃、青海和宁夏七个省区的历年投资占全国总投资比重变化情况。其中两次投资高潮的出现是基于



- A. 国家备战备荒的政治考量  
B. 落实民族政策的需要  
C. “文革”“左”倾路线的影响  
D. 国民经济调整的需要

【高三文科综合 第 6 页(共 12 页)】



32. 在古代雅典,公民可以是统治者,也可以是被统治者。雅典官员的任期一般为一年,除去交接的工作时间外,其实际用于工作的时间很短,官员的频繁更换使其工作缺乏连续性和稳定性。这说明古代雅典
- A. 直接民主难以保证社会公正  
B. 城邦至上原则忽视公民利益  
C. 轮番而治导致行政效率低下  
D. 公民素质影响民主政治发展
33. 法国启蒙思想家达朗贝尔把对技艺的蔑视斥之为“人最高贵的部分被最卑劣的部分所窃取的最初的优势以某种方式来进行报复,因而精神的才能通常被认为高于体力的才能”。这一思想
- A. 顺应了经济发展的需要  
B. 推动了科学革命的产生  
C. 摧毁了天主教会的势力  
D. 促进了工业革命的兴起
34. 下表为 1838~1856 年英国纺织行业用工统计表(单位:%)。表中反映的现象

时间	13 岁以下儿童	13~18 岁少年	18 岁以上女工	18 岁以上男工
1838 年	5.9	16.1	55.2	22.8
1850 年	6.1	11.5	55.9	26.5
1856 年	6.6	10.6	57.0	25.8

- A. 推动了资本的原始积累  
B. 加剧了社会矛盾  
C. 促进了棉纺织业的兴起  
D. 解决了失业问题
35. 20 世纪 50 年代中期,美国新闻总署建立起一个全球范围内的图书馆网络体系和图书流通系统。以 1959 年为例,美国新闻署负责翻译的图书多达 800 个版本、35 种语言、700 万册,其中绝大部分流向了美国设在亚非拉第三世界国家的图书馆。美国此举意在
- A. 促成国际文化交流发展  
B. 致力于消除国家间的隔阂  
C. 缓与新兴国家的关系  
D. 与苏联争夺第三世界国家

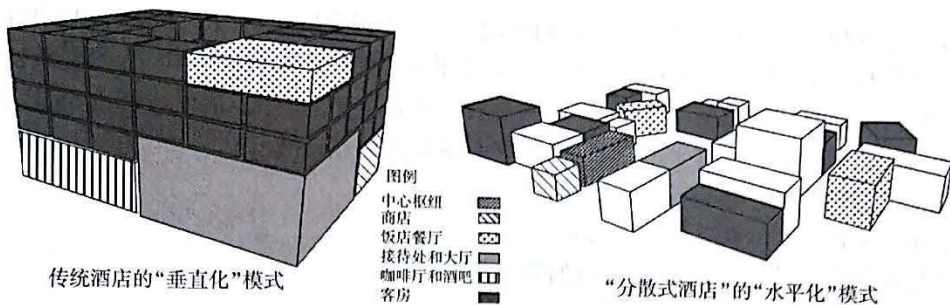
## 第 II 卷 (非选择题 共 160 分)

本卷包括必考题和选考题两部分。第 36 题~第 42 题为必考题,每个试题考生都必须作答。第 43 题~第 47 题为选考题,考生根据要求作答。

36. 阅读图文材料,完成下列要求。(22 分)

“分散式酒店”发展模式最早提出于 20 世纪 80 年代的意大利。为了遏制越来越严重的乡村人口收缩问题,当地政府决定对损毁和无人居住的房屋住宅进行翻新修建。1989 年意大利管理部门制订的有关发展计划中,明确当地“在不增建新建筑的基础上,通过更新和改良既有无人居住的历史建筑,以提供具有本地文化特色的居住环境”,并且首次提出“建筑的翻新需要保证真实环境,其目的不仅是为了游客,更主要的是服务当地居民”等关键要求。下图示意传统酒店的“垂直化”模式与“分散式酒店”的“水平化”模式。

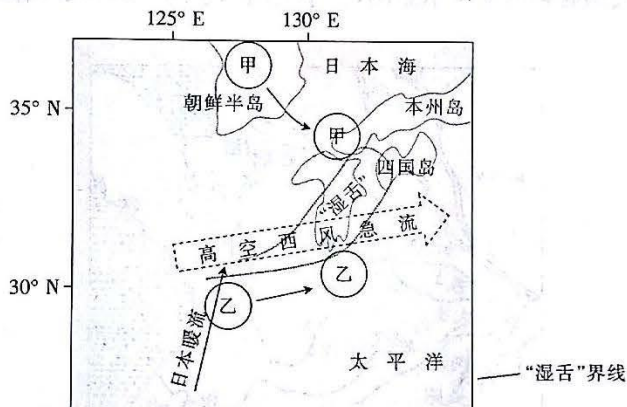
【高三文科综合 第 7 页(共 12 页)】



- (1) 指出意大利“分散式酒店”发展模式提出的背景。(8分)  
 (2) 简述与传统酒店的“垂直化”模式相比，“分散式酒店”的“水平化”模式具有的优势。(8分)  
 (3) 根据材料，提出“分散式酒店”发展模式在我国推行需要落实的配套措施。(6分)

37. 阅读图文材料，完成下列要求。(24分)

某年10月6~9日，西北太平洋来自不同方向的甲、乙两个气旋逐渐合并。气旋合并过程中形成显著的水汽输送带——“湿舌”，为日本带来强降水。“湿舌”受图示气旋外侧气流的影响，向东北方向输送水汽。在甲气旋高空辐散气流的影响下，高空西风急流向南偏移。下图示意两个气旋合并的过程。



- (1) 简述日本暖流为气旋的形成与发展提供能量的机制。(6分)  
 (2) 比较甲、乙两个气旋的强弱，并说明理由。(6分)  
 (3) 分析来自不同方向的甲、乙气旋对本次强降水的促进作用。(6分)  
 (4) 关于本次气旋合并对人类活动的影响，有以下两种观点，请任选其一加以阐释。(6分)

观点①：引发自然灾害 观点②：改善舒适指数

38. 阅读材料，完成下列要求。(14分)

近年来，我国机器人应用已经取得显著成效，我国已连续9年成为全球最大的机器人应用市场。工业机器人有效解决了行业精密加工难度大、恶劣环境高风险作业等痛点，并且能24小时连续作业，可以代替2~4个人工；以扫地机器人、陪伴机器人、康复机器人等为代表的服务机器人走入人们的生活；特种机器人在多个国家重大工程领域实现创新应用，帮助人类征服“星辰大海”。

2023年1月，工业和信息化部等十七部门联合发布《“机器人+”应用行动实施方案》，提出到2025年，制造业机器人密度较2020年实现翻番，服务机器人、特种机器人行业应用深度和广度显著提升。方案聚焦十大应用重点领域，要求突破100种以上机器人创新应用

【高三文科综合 第8页(共12页)】

密封线内不要答题



技术及解决方案,推广 200 个以上具有较高技术水平、创新应用模式和显著应用成效的机器人典型应用场景,打造一批“机器人+”应用标杆企业。

结合材料,运用经济生活知识,说明扩大“机器人+”应用对我国经济社会发展的积极影响。

39. 阅读材料,完成下列要求。(12 分)

在我国,反垄断法素有“经济宪法”之称,自 2008 年 8 月 1 日施行以来(2022 年 8 月 1 日起,新修订的反垄断法开始实施),反垄断法为调整规制经营者达成垄断协议,滥用市场支配地位以及具有或者可能具有排除、限制竞争效果的经营者集中等垄断行为提供了法律依据。

目前我国反垄断执法已经实现常态化。市场监管部门聚焦群众“急难愁盼”问题,在原料药、公用事业、建材、汽车等民生领域及时出手,同时对物流、公用事业、食品制造、医药健康等民生领域的经营者集中审查,依法查处。根据 2022 年 6 月发布的《中国反垄断执法年度报告(2021)》,2021 年全年查处各类垄断案件 175 件,同比增长 61.5%。2022 年 8 月,国家市场监督管理总局相继公布了一系列反垄断执法案例:某省水泥协会组织 13 家水泥企业达成并实施垄断协议的违法行为,被责令停止违法行为,并处罚款约 4.51 亿元;多家互联网企业因未依法申报实施经营者集中被处罚;某公司因滥用市场支配地位实施限定交易行为,被处罚款 889 万余元。

结合材料,运用政治生活知识,说明市场监管部门反垄断执法常态化的必要性。

40. 阅读材料,完成下列要求。(26 分)

随着科技发展和媒体的日益发达,大众的科学素养和对科学事件的关注程度不断提高。与此同时,在资本的驱动和网络媒体的推波助澜之下,娱乐明星和网红成为一些青少年争相追捧和效仿的对象。在此背景下,2022 年,《钱学森》《诗与真》《袁隆平》等 6 部国产科学家主题电影在中国科技馆 4D 影院免费展映。这些科学家主题电影使科学精神和科学家精神通过银幕绽放出夺目的光彩。电影《钱学森》突出反映了新中国成立初期国家经济一穷二白、安全受到威胁的时代背景下,钱学森归国的特殊意义和他强烈的家国情怀。纪录片《诗与真》中的严东生,着眼于国家经济、社会、国防的迫切需求,制定中国第一个耐火材料的生产、检验和测试标准,紧急受命解决我国第一代洲际导弹端头防热的难题。这种对特定历史背景的还原,为科学家不计功利、献身科学研究事业的壮举找到了强大的精神支撑。

科学家主题电影离不开对科学家科学精神的生动阐释,也少不了对科学家人文情怀的充分展示。《我是医生》中的肝胆外科医生吴孟超,强调“科学就是事实本身”,决不放弃任何一个实验,其背后的支撑是“把每一个病人都背过河”的信念。《袁隆平》中,袁隆平百折不挠研究杂交水稻的初衷和目标,是让地球上有限的土地收获更多的粮食,让人类远离饥饿。这种对科学家人文情怀的描述,给予观众深刻的思想启迪:科学创新的终极目标,是解决全人类生存与发展中的困境,让世界更美好。

(1)科学家的科学成就需要科学精神与人文精神的同频共振。结合材料,运用意识的能动作用的知识对此加以说明。(12 分)

(2)结合材料,运用文化生活知识,说明科学家主题电影使科学精神和科学家精神绽放出夺目的光彩对当代青少年的意义。(10 分)

(3)作为当代青少年,我们应该如何正确追星?请你提出两点合理化建议。(4 分)

41. 阅读材料,完成下列要求。(25 分)

材料一

15~17 世纪的英国急剧变化,司法体系在新旧交替中发展。英国大致存在几种不同类

【命题立意:综合 第 9 页(共 12 页)】



型的法庭：一是构成近代早期司法之主体的普通法（建立在习惯法基础上、全国普遍适用的法律）法庭；二是以“良心”和“衡平”为原则的衡平法法庭；三是传统封建法庭；四是教会法庭。每种法庭都有不同的司法管辖权以及各自相应的组织结构。普通法法庭和衡平法法庭是当时英国政府所倚重的主要司法统治工具。各种法庭司法管辖权的重叠交叉为普通民众解决纠纷、维护利益、带来便利的同时，也使他们在面临诉讼时的选择变得多元化。

——摘编自陈娟《近代转型时期英国基层司法机构探析》

#### 材料二

在清代前期，州、县主要受理笞杖刑以下的民事案件、轻微刑事案件，徒刑以上较重的刑事案件则归省与中央司法机关管辖。通过对 242 个真实判例的研究发现，清代州、县的基层司法官员主要依靠“礼（儒家伦理）、情（案情、常理）”来断案，体现了古代基层司法的价值追求。从判牍来看，州、县官员推崇民间调解，如果能够在民间调解可以解决的案件，他们就不主张再进行诉讼。对于已诉讼的案件，也会在审理中进行调解。基层官员注重在司法过程中，实现社会的教育作用，实现对良好社会风气的培养。曾任布政使的于成龙认为，司法官判案时一定要结合案件具体情况，不能完全拘于法律条文，提到了“实质正义高于形式正义”等问题。这些司法价值追求有着深远的历史文化因素，反映了统治阶层治国理政的经验和智慧。

——摘编自王新霞、任海涛《清代基层司法的价值追求及启示——以清代州县判牍为材料》

- (1) 根据材料一并结合所学知识，指出近代早期英国基层司法体系的基本特点及其意义。（11分）
  - (2) 根据材料二并结合所学知识，概括清代前期基层司法的价值追求及其形成的历史背景。（11分）
  - (3) 根据材料并结合所学知识，阐述近代英国和清代前期基层司法体系的历史启示。（3分）
42. 阅读材料，完成下列要求。（12分）

#### 材料

鸦片战争后，由于外国资本主义的入侵，中国的社会开始发生巨大变化。为了使潜在的获利机会变成现实，越来越多的人要求改革旧的经济制度，在这种压力下，中国政府从 19 世纪末期开始转变经济政策，参照西方各国的样板，制定一系列新的工业、商业、金融业、税收政策。这些新制度促进了中国的工业化，使经济在 20 世纪早期有了较快的发展。由于清政府、北洋政府和后来的国民政府在利益取向上与社会大多数人偏离，以及传统意识形态与近代经济制度引进产生冲突等多方面的原因，中国近代的制度变迁是被动的，因而也是滞后的和不彻底的，有些甚至只是一纸空文。这是中国近代工业化进程比西方国家滞后的基本原因。

——摘编自刘佛丁《制度变迁与中国近代的工业化》

从材料中提取一个观点，并结合中国近代史的相关史实展开论述。（要求：观点明确，史论结合，逻辑严密，表述清楚。）

请考生从 2 道地理选考题、3 道历史选考题中每科任选一题作答。如果多做，则每科按所做的第一题计分。

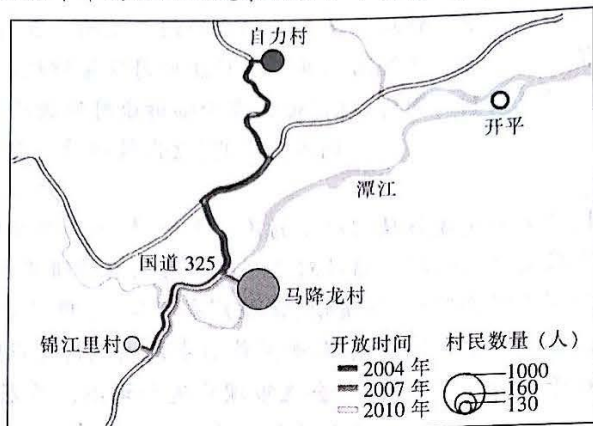
#### 43. [地理——选修 3: 旅游地理] (10 分)

锦江里村隶属广东省开平市蚬冈镇，距开平市区 22 km，与塘口镇的自力村、百合镇的马降龙村并称“开平碉楼三村落”，现存碉楼 1833 栋。2007 年以来，“世界遗产地”的称号给了这三个村落前所未有的旅游业发展契机。锦江里村虽然在“世界遗产地”的名单内，但是

【 ♪ 高三文科综合 第 10 页 (共 12 页) ♪ 】



一直没能充分开发,全面开放旅游时间为2010年5月。锦江里村在三村落中,每年接待的游客数量最少,村民的年平均收入也是最低的。下图为“开平碉楼三村落”的地理位置图。



- (1)分析锦江里村在三村落中每年接待的游客数量最少的原因。(4分)  
(2)请为今后锦江里村旅游业的可持续发展提出合理化建议。(6分)

44. [地理——选修6:环境保护](10分)

红树林是生长在热带、亚热带海岸潮间带,由红树植物为主体的常绿乔木或灌木组成的植物群落。随着气候变暖,巴西沿海地区近岸的红树林萎缩,而距离海岸线有一定距离的内陆远岸红树林反而有所扩张。

分析气候变暖导致巴西沿海地区近岸红树林萎缩而远岸红树林扩张的原因,并据此提出保护近岸红树林的工程措施。

45. [历史——选修1:历史上重大改革回眸](15分)

材料

随着经济体制改革的启动,我国高等教育领域也开始进行了一系列的改革。1981年至1985年,教育改革的主要目标是加速高等教育的发展,进行高等教育结构改革,主要针对高等教育结构单一、规模偏小的状况,采取措施扩大高校办学自主权,充分调动高校办学积极性……1986年到1988年,政府主要采取稳定规模和层次,全面深化管理体制,引进市场机制,如委托培养人才、招收自费生等做法……1992年第四次全国高教工作会议以后,特别是《中国教育改革和发展纲要》颁布以后,政府主要从打破高校单一隶属关系入手,采取共建、合作办学、合并、中央部委院校划归地方政府管理、企业和科研单位参与高校办学等措施……为了缓解东南亚金融风波对我国造成的影响,拉动内需、缓解就业压力及满足社会广大人民群众接受高等教育的需要,中央决定从1999年起连续三年进行高等教育大扩招。

——摘编自刘铁《中国高等教育办学体制研究》

- (1)根据材料,概括改革开放以来我国高等教育改革的措施。(7分)  
(2)根据材料并结合所学知识,分析改革开放以来推动我国高等教育改革的因素。(8分)

46. [历史——选修3:20世纪的战争与和平](15分)

材料

雅尔塔体系的基础,主要是其创立的大国间相互制约的和平机制,这种机制在冷战结束后并没有改变。二战结束前后,雅尔塔体系所设想的是由美、英、中、苏四警察来维持的四极

【高三文科综合 第11页(共12页)】

战后国际格局,但由于中国内战的爆发,美国随后又提出了由美、英、苏三国主宰的三极格局。然而,战后英国无力维持其在北非、中东、地中海地区和东欧的警察任务,美国先后承担了本属于中国和英国的警察任务,盟国的战后三极格局设想也在实践中变成了美苏两极格局。1991年年底,两极格局虽然崩溃,但在雅尔塔国际机制中,联合国和世界贸易组织等运行机制仍然存在,雅尔塔体系并没有崩溃,崩溃的只是两极格局。

——摘编自李世安《从国际体系的视角再论雅尔塔体系》

(1)根据材料并结合所学知识,指出二战结束前后雅尔塔体系对战后世界格局设想的变化趋势及其原因。(9分)

(2)根据材料并结合所学知识,论证冷战结束后“雅尔塔体系并没有崩溃,崩溃的只是两极格局”。(6分)

47. [历史——选修4:中外历史人物评说](15分)

材料

袁枢(1131—1205),南宋建州建安南乡人,著名史学家。袁枢在任国史院编修官时,十分不满当时政治腐败、朋党互争、压制人才等现象。袁枢喜读《资治通鉴》,在阅读过程中发现检索不便,于是他把《资治通鉴》里属于同一事件的原文按时间顺序摘抄在一起,再加上一个标题,历时两年,编著完成了《通鉴纪事本末》,开创了史书的新体裁——纪事本末体。《通鉴纪事本末》共42卷,只相当于《资治通鉴》的1/4,这为人们阅读和学者研究提供了极大便利。清朝闾萃祥在《汇刻九朝纪事本末·序》中说:“袁氏枢有见于此,乃作《通鉴纪事本末》,揭事为题,聚类而分,首尾详备,巨细无遗,一变编年、纪传之例而实会其通,诚记事之别格,而史学之捷径也。”《通鉴纪事本末》成书后不久,南宋孝宗时的章冲和理宗时的杨仲良就开始仿作。到明末清初,纪事本末体史书的编纂达到了高峰,形成了历史编纂学的一大流派。

——摘编自程利田《袁枢对中国史学的贡献》

(1)根据材料并结合所学知识,分析袁枢编著《通鉴纪事本末》的原因。(6分)

(2)根据材料并结合所学知识,概括《通鉴纪事本末》的特点及意义。(9分)



## 关于我们

自主选拔在线是致力于提供新高考生涯规划、强基计划、综合评价、三位一体、学科竞赛等政策资讯的升学服务平台。总部坐落于北京，旗下拥有网站（[网址: www.zizzs.com](http://www.zizzs.com)）和微信公众平台等媒体矩阵，用户群体涵盖全国 90% 以上的重点中学师生及家长，在全国新高考、自主选拔领域首屈一指。

如需第一时间获取相关资讯及备考指南，请关注**自主选拔在线**官方微信号：**zizzsw**。



 微信搜一搜

 自主选拔在线

