

## 普高联考 2022—2023 学年高三测评(四)


### 文科综合

#### 注意事项:

1. 答卷前,考生务必将自己的姓名、准考证号填写在答题卡和试卷指定位置上。
2. 回答选择题时,选出每小题答案后,用铅笔把答题卡上对应题目的答案标号涂黑。如需改动,用橡皮擦干净后,再选涂其他答案标号。回答非选择题时,将答案写在答题卡上,写在本试卷上无效
3. 考试结束后,将本试卷和答题卡一并交回。

一、选择题:本题共 35 小题,每小题 4 分,共 140 分。在每小题给出的四个选项中,只有一项是最符合题目要求的。

船舶产业是典型的大型装备制造业,产业链长、涉及面广、对配套服务和地理条件要求高。从我国船舶产业整体来看,基本上形成了长三角领头、其他省份跟进的格局。岸线较长、港口众多、经济水平高是船舶产业发展的重要因素,但不同地区各有侧重。浙江省民间资本雄厚,船舶产业发展快速。下图示意船舶制造存续企业数量前五省份情况。读图完成 1~3 题。



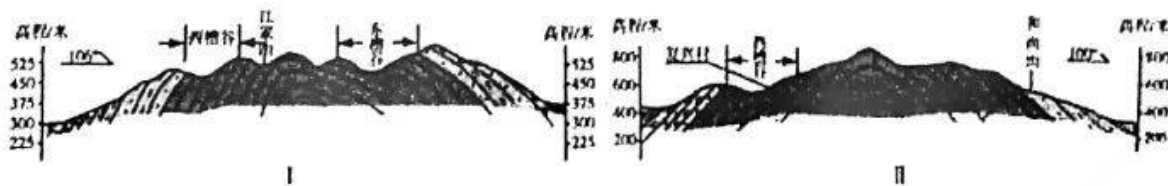
1. 图中甲、乙、丙、丁代表的省份分别是
 

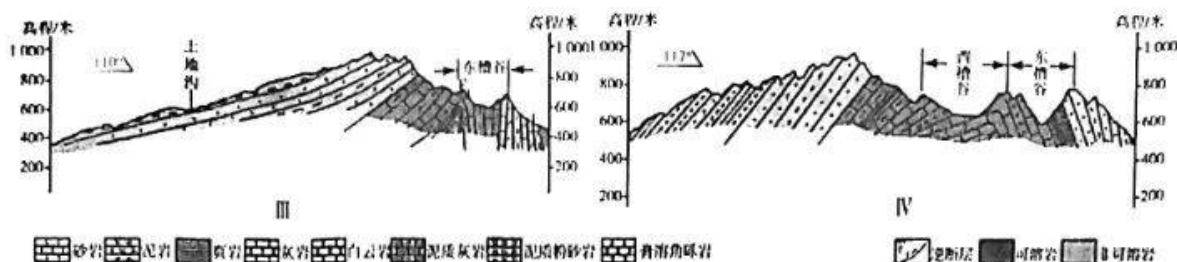
A. 浙江、江苏、湖北、广东	B. 上海、广东、山东、江苏
C. 安徽、广西、辽宁、广东	D. 江苏、浙江、山东、广东
2. 根据主导因素推断,浙江省船舶产业集群属于
 

A. 政府推动型	B. 市场推动型	C. 技术推动型	D. 劳动力推动型
----------	----------	----------	-----------
3. 浙江省舟山市是国内唯一的群岛型地级市,其主导产业最不可能是
 

A. 海洋生物产业	B. 装备制造产业	C. 品牌服装产业	D. 清洁能源产业
-----------	-----------	-----------	-----------

川东褶皱带在不同岩性地层的组合下形成了独特的岩溶地貌景观及地下水循环模式,具有独特的地下岩溶发育规律。褶皱带大致形成于喜马拉雅运动时期,而进入华蓥山形成时期及歌乐山形成时期,地壳稳定,非可溶岩覆盖完整性遭到破坏,但无溶蚀作用。歌乐山形成之后,逐渐形成早期的岩溶槽谷。下图示意该区域某山岭各段地质横剖面。读图完成 4~6 题。



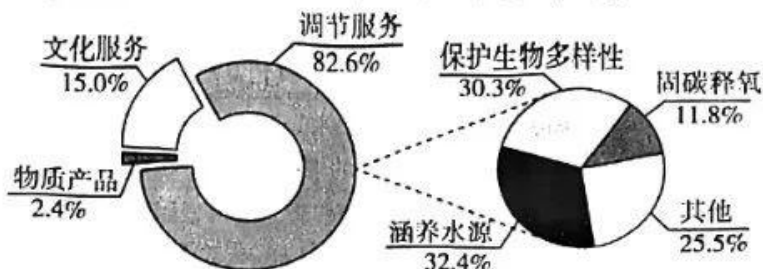


4. 方位角标示剖面走向,以北方向为起始方向 $0^\circ$ ,沿顺时针方向旋转。图中山岭的走向是  
 A. 东西  
 B. 东北—西南  
 C. 南北  
 D. 西北—东南
5. 歌乐山形成时期,该区域  
 A. 地表沉积作用显著  
 B. 岩浆活动非常频繁  
 C. 地表剥蚀作用强烈  
 D. 断裂上升表现明显
6. 岩溶塌陷坑主要分布于槽谷中地势低洼地带,是因为此处  
 A. 岩溶强烈发育,地下水运动活跃  
 B. 土层厚度大,农业发展历史悠久  
 C. 以非可溶岩为主,裂隙发育强烈  
 D. 向斜地质构造,容易汇集地下水
- 屋顶绿化作为一种低影响开发措施,可有效削减暴雨径流,为雨水进入城市管网树立第一道屏障。下表为南京不同功能区屋顶绿化的雨洪调控效应差异表。据此完成7~9题。

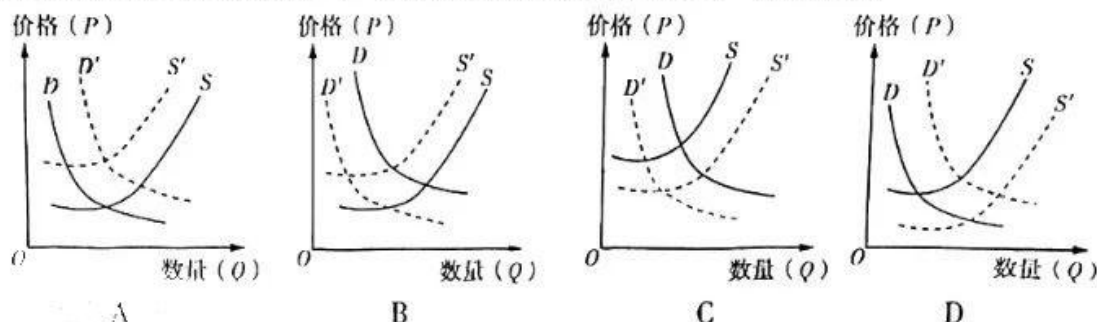
名称	类型	平均建筑高度(m)	建筑密度(%)	现绿化覆盖率(%)	绿化现状	预期径流量削减率(%)
瑞金新村	老居住区	18	28.9	9.3	以乔木为主	12.7
星雨华府	新居住区	70	12.5	69.8	乔灌草	7.6
新街口	商业区	100	49.2	5.3	多种植在树坛	19.8

7. 该项研究进行过程中需要  
 ①借助高分辨率卫星遥感影像  
 ②南京市多年洪涝观测的数据  
 ③人工智能得出水文过程模型  
 ④实地调查研究区域植被树种  
 A. ①②  
 B. ③④  
 C. ②③  
 D. ①④
8. 实施屋顶绿化后,透水性表面增幅最大的功能区是  
 A. 老居住区  
 B. 新居住区  
 C. 商业区  
 D. 商住混合区
9. 实施屋顶绿化的雨洪调控效应排序为  
 A. 商业区 > 老居住区 > 新居住区  
 B. 新居住区 > 商业区 > 老居住区  
 C. 老居住区 > 新居住区 > 商业区  
 D. 商业区 > 新居住区 > 老居住区

生态系统生产总值(GEP)是指生态系统能够为人类生活和社会发展提供的最终产品与服务价值的总和,由物质产品、调节服务和文化服务构成。2019年海南热带雨林国家公园GEP高达2045亿元,其各项价值量占比如下图所示。读图完成10~11题。



10. 热带雨林单位面积价值量远高于人工林,主要是因为其
- A. 强大的生态服务功能                      B. 总面积大于其他系统
- C. 提供更多的林业产品                      D. 科普教育项目更成熟
11. 生态产品价值实现的路径有
- ①谁受益、谁补偿    ②有机农产品认证    ③大力发展经济林    ④碳排放抵消机制
- A. ①②③                      B. ①③④                      C. ②③④                      D. ①②④
12. 近年来,受新能源汽车畅销拉动,锂的需求大幅上升,而持续反复的全球性新冠疫情和地缘政治不确定等因素,又极大地影响到锂的开采与运输。 $S$ 、 $D$  分别表示供给、需求,实线( $S$ 、 $D$ )表示变化前,虚线( $S'$ 、 $D'$ )表示变化后,正确反映这一现象的是



13. 党的二十大报告强调“实施就业优先战略”,并将促进高质量充分就业、消除不合理限制和歧视、技能培训和权益保障等,作为就业工作的主要任务。下列分析正确的是

就业工作的主要任务	理由
促进高质量充分就业	①经济发展速度与质量直接影响劳动者就业
消除不合理限制和歧视	②各种正当的职业都没有高低贵贱之分
技能培训	③劳动者的素质对经济发展质量起着重要作用
权益保障	④权益的实现影响劳动者的积极性和创造性

- A. ①②                      B. ①④                      C. ②③                      D. ③④
14. 中央经济工作会议在部署 2023 年经济工作时强调,“积极的财政政策要加力提效”。按照这一要求,我国财政将
- ①适度扩大政府专项债规模,增加社会的总供给
- ②增加中央对地方转移支付,推动区域协调发展
- ③适当控制投资领域和范围,提高政府投资的质量
- ④增强税费优惠政策精准性,带动社会投资和消费
- A. ①②                      B. ①③                      C. ③④                      D. ②④
15. 在我国,市场采购贸易方式试点、国家进口贸易促进创新示范区、跨境电商综合试验区等外贸创新平台近年来相继扩围。这些举措的影响路径是
- ①优化跨境贸易的营商环境                      ②激发外贸转型发展新活力
- ③培育外贸发展的新动能                      ④更好地满足人民对美好生活的需要
- ⑤实现经济发展动能转换                      ⑥国内市场供给更加丰富
- A. ①→⑤→③                      B. ①→⑥→④                      C. ⑥→②→③                      D. ②→④→⑤

16. 自疫情暴发以来,我国不断适应新冠病毒变异新特点和疫情防控新形势,各级政府因时因势因地优化调整防控措施,力争用更小的代价把疫情控制在最小的范围,最大限度减少疫情对经济社会发展和群众生产生活的影响。这表明我国政府
- ①确定政府权力边界,规范政府权力运行 ②树立求真务实作风,诚心诚意地办实事  
③真心实意对民负责,尽心竭力为民解难 ④理顺与市场的关系,减少微观上的管理
- A. ①②                      B. ①④                      C. ②③                      D. ③④
17. 近年来,C县440个村的村级党组织不断优化体系、提升能力,已组织村党组织书记走出去学习560多人次,从致富带头人队伍中累计发展党员623名,县委增派驻村工作队136个。这将有利于
- ①加强党对农村工作的全面领导 ②进一步完善基层政权组织建设  
③扩大基层党组织的群众基础 ④为推进乡村振兴提供根本保障
- A. ①③                      B. ①④                      C. ②③                      D. ②④
18. 中国式现代化道路描绘出中国与世界携手前行的美好前景,这不是传统大国崛起的翻版,更不是国强必霸的再版,而是造福中国、利好世界的正道。中国与世界携手前行,是
- ①坚持走中国特色社会主义发展道路的必然要求  
②因为中国式现代化是适应中国国情的发展道路  
③中国根据时代潮流和国家利益作出的战略抉择  
④中国在国际事务中代表性和话语权增强的表现
- A. ①②                      B. ①③                      C. ②④                      D. ③④
19. 中国大运河是世界上现存距离最长、规模最大的运河,也是中华民族重要的文化基因库。大运河文化的赓续灿烂源于运河的流动不息,更源于运河沿岸人民世代相守、南北交融的文化传统、生存智慧与艺术创造。这表明
- ①文化素养是在社会生活中培养出来的 ②一定的文化反作用于一定的经济政治  
③精神产品凝结在一定的物质载体之中 ④一定的文化是对一定经济政治的反映
- A. ①②                      B. ①④                      C. ②③                      D. ③④
20. 敦煌画院30年来首次出书《敦煌如是绘——接续1600年美的历程》,将精心打磨多年的泥本摹绘壁画一次性展示给读者,“真实”还原壁画的本色。敦煌如是绘,即敦煌是此般绘成的。该书的出版有助于
- ①带领人们触摸博大精深的中华文化 ②彰显文化自信的“敦煌力量”  
③为敦煌文化艺术注入时代内涵 ④海内外读者对敦煌文化的认同
- A. ①②                      B. ①③                      C. ②④                      D. ③④
21. 近年来,全国各地持续开展生态调查工作,创新调查技术手段,调查成果广泛应用于资源普查、政策制定、公众科普教育等方面,有力推动了生态环境保护工作。这体现了
- ①人们的意识活动具有主动创造性 ②事物变化发展的规律具有客观性  
③意识对人们改造世界的指导作用 ④调查得到的结论能促进社会进步
- A. ①②                      B. ①③                      C. ②④                      D. ③④

22. 2022年11月30日清晨,两个航天员乘组首次实现“太空会师”,标志我国载人航天发展新的高度。一代代航天人自力更生、自主创新,我们最终走出了一条中国特色的载人航天发展道路。由此可见

- ①人们的实践活动是历史的发展着的 ②实践的过程是物质相互作用的过程  
③实践是检验认识真理性的唯一标准 ④量变积累到一定程度必然导致质变  
A. ①③ B. ①④ C. ②③ D. ②④

23. 近年来,全国各地涌现了一批又一批身边好人,助人为乐、见义勇为、诚实守信、敬业奉献、孝老爱亲……正是这些平凡又细微的小事,让人们感受到美德的可贵,也正是因为这一件件小事,使得我们的社会更加温暖,生活更加美好。这些身边好人留给我们的启示是


- ①人生的价值在于对社会的责任和奉献 ②要从个人力所能及的好事、善事做起  
③人们的社会责任和贡献没有大小之分 ④每人的微小行动都将促进社会的进步  
A. ①② B. ①④ C. ②③ D. ③④

24. 据史料记载,西周时期对进入市场的商品有明确禁令,如“圭璧金璋,不鬻于市;宗庙之器,不鬻于市;牺牲,不鬻于市”。这些交易禁令主要基于

- A. 维护小农经济发展的需要 B. 维护重农抑商政策的需要  
C. 维护贵族政治秩序的需要 D. 维护公平交易秩序的需要

25. 右图为2002年在湖南湘西里耶镇出土的秦朝简牍一枚,此简牍为秦朝官方文档。该枚秦简详细记录了当地某户人家的人口数目、性别、年龄,是征发赋役的依据。该枚秦简可以佐证

- A. 秦朝的中央集权制度 B. 秦朝官方字体为小篆  
C. 秦朝的法律刑罚严酷 D. 秦朝的农民负担沉重



26. 朱熹在儒家“人心”和“道心”基础上提出:“凡饥渴而欲得饮食以充其他且足者,皆人心也。然必有义理存焉,有可以食,有不可以食。”以下与朱熹观点一致的是

- A. 穿衣吃饭,即是人伦物理 B. 人不可以无耻,无耻之耻,无耻矣  
C. 天下之有无,非思虑之所能起灭 D. 圣人之道,吾性自足,不假外求

27. 清朝军机处设立之初,军机大臣的任命,其名目为“军机处行走”或“军机大臣上行走”,所谓“行走”,是说让其入值办事,军机大臣多为兼职,升转仍在原衙门进行。这种制度设计体现了

- A. 军机处地位的中枢性 B. 军机处职能的单一性  
C. 军机处的临时差遣性 D. 军机处设置的随意性

28. 下表内容为《新青年》不同时间所刊发文章的对比。其内容变化反映的历史趋势是

期数	发行时间	所刊发部分重要文章
第五卷第4号	1918年10月	《文学进化观念与戏剧改良》《戏剧改良各面观》《再论戏剧改良》《予之戏剧改良观》《我的中国旧戏观》
第六卷第5号	1919年9月	《马克思学说》《俄国革命之远因近因》《马克思传略》《我的马克思主义观》

材料二 20世纪60年代后,英国经济发展速度开始放缓,但社会福利开支仍有增无减,导致政府赤字大增。到1982年,英国国债已高达1000亿英镑,被讥讽为“靠借债度日的安乐国家”。由于生老病死由国家包办,许多人丧失了责任心和进取心,产生了一批依赖福利制度的“躺平”阶层。这不仅违背了福利制度的初衷,而且严重败坏了社会风气。

——摘编自赵立新《论英国养老保障制度》

材料三 20世纪90年代初,国家提出的社会保障发展方针是“广覆盖、低水平、多层次”;21世纪初,这一方针变更为“广覆盖、保基本、多层次、可持续”;2012年,党的十八大则将这一表述修改为“全覆盖、保基本、多层次、可持续”,社会保障各项目全部纳入基本公共服务范畴,社会保障成为了政府的基本职责和国民的基本权利。

——摘编自何文炯《改革开放以来社会保障制度的演变逻辑》

- (1) 根据材料一和所学知识,概括元明清时期养老政策的主要特征。(10分,不可简单重复原文)
- (2) 根据材料二和所学知识,分析二战后英国福利制度的影响。(8分)
- (3) 根据材料三和所学知识,概括20世纪90年代以来中国社会保障事业取得进步的原因。(7分)

42. 阅读材料,完成下列要求。(12分)

材料 解读史料,获得历史认识,探求史料表象背后的意蕴,是历史学的魅力所在。下表内容为20世纪中国几部法律文献的部分史料信息。

时间	名称	部分条文内容摘录
1908年	《钦定宪法大纲》	凡法律须经议院议决,而未奉诏命批准颁布者,不能见诸施行。……用人之权,操之君上,而大臣辅弼之,议院不得干预。
1912年	《中华民国临时约法》	参议院对于临时大总统认为有谋叛行为时,得以总员五分四以上之出席,出席员四分三以上之可决弹劾之;临时大总统受参议院弹劾后,由最高法院……组织特别法庭审判之。
1931年	《中华苏维埃共和国宪法大纲》	在苏维埃政权下,所有工人、农民、红军兵士及一切劳苦民众都有权选派代表掌握政权的管理。
1949年	《中国人民政治协商会议共同纲领》	中华人民共和国的国家政权属于人民。人民行使国家政权的机关为各级人民代表大会和各级人民政府。各级人民代表大会由人民用普选方法产生之。

依据以上材料的一则或多则信息,结合所学知识,撰写一篇历史小论文。(要求:论题明确,论述充分,史论结合,表述清晰。)

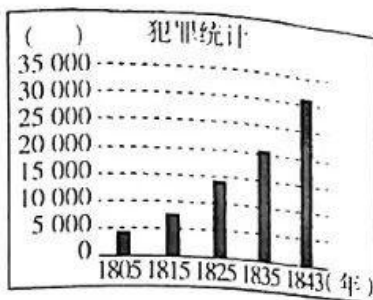
(二) 选考题:共25分。请考生从2道地理题、3道历史题中每科任选一题作答。如果多做,则每科按所做的第一题计分。

43. 【地理——选修3:旅游地理】(10分)

祁连山国家公园是我国重要的生态功能区、西部地区生态安全的重要屏障。该公园冬季长而寒冷干燥,夏季短而温凉湿润,是我国生物多样性保护优先区之一。祁连山有着

普高联考2022—2023学年高三测评(四) 文科综合 第11页

34. 右图是 19 世纪中叶英国内务部统计的英国社会犯罪增长情况(横坐标为年份,纵坐标为犯罪人数)。这种现象反映出当时的英国



- A. 生产力与生产关系矛盾尖锐
- B. 经济效率与社会公平的反差
- C. 资产阶级民主制度出现倒退
- D. 英国居民生活水平有所下降

35. 英国“湖畔派”三诗人中成就最高者为华兹华斯。他于 1798 年和柯勒律治合作发表了《抒情歌谣集》,二人从拥护法国革命发展为反对法国革命,前者寄情山水,在大自然里寻找慰藉,后者神游异域和古代,以梦境为归宿。和该作品属于同一创作风格的是

- A. 《诗经·氓》
- B. 《百年孤独》
- C. 《九歌》
- D. 《老人与海》

二、非选择题:共 160 分。第 36~42 题为必考题,每个试题考生都必须作答。第 43~47 题为选考题,考生根据要求作答。

(一)必考题:135 分。

36. 阅读图文材料,完成下列要求。(22 分)

黄桃的营养十分丰富,每年 7—9 月成熟,成熟的黄桃皮薄汁多,鲜果宜在产地附近售卖。加工后的黄桃也能保持肉质饱满、颜色鲜艳,多数果农选择把黄桃送到罐头加工厂进行加工。山东省临沂市是全国黄桃重点产区,黄桃产业已成为其果品行业的支柱产业,其中蒙阴、沂水、费县、平邑为黄桃生产大县。平邑县地方镇南部山区大多为丘陵山地,黄桃种植面积约 4.73 万亩(1 亩 $\approx$ 666.7 平方米)。现在地方镇已经形成了集水果种植、罐头加工、包装印刷等于一体的省级产业集群。新形势下,地方镇正依托园区、电商、金融进行罐头产业转型升级。右图为临沂市政区图。

临沂市政区图



- (1) 分析黄桃鲜果销售以本地为主、外销以罐头为主的原因。(8 分)
- (2) 分别说明园区、电商、金融在地方镇罐头产业转型升级中的主要作用。(6 分)
- (3) 请为促进平邑县黄桃网络营销的发展提出合理建议。(8 分)

37. 阅读图文材料,完成下列要求。(24 分)

特殊岩土体是指具有特殊的成分和结构并表现出特殊的物理力学性质的岩土体。各项基础设施的建设都离不开岩土体,岩土体的性质对工程建设有着重要的影响,非洲红砂和膨胀岩土都属于特殊岩土体。非洲红砂是第四纪更新世的海相沉积物,具有典型的物理力学性质,如图 2 所示。膨胀岩土是在自然地质过程中形成的一种多裂缝土体,具有显著的吸水膨胀和失水收缩两种变形特性。图 1 示意非洲红砂和膨胀岩土分布范围。图 2 示意非洲红砂含水率与承载力特征值关系。



图1

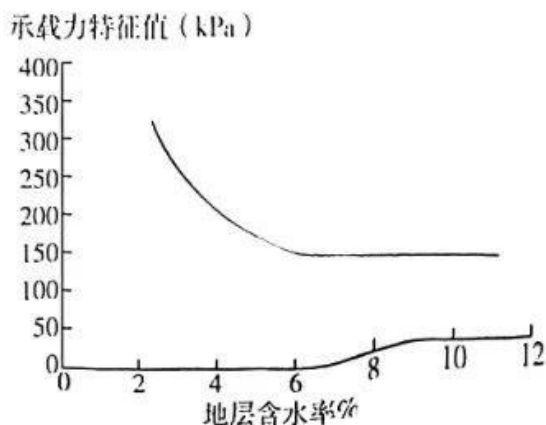
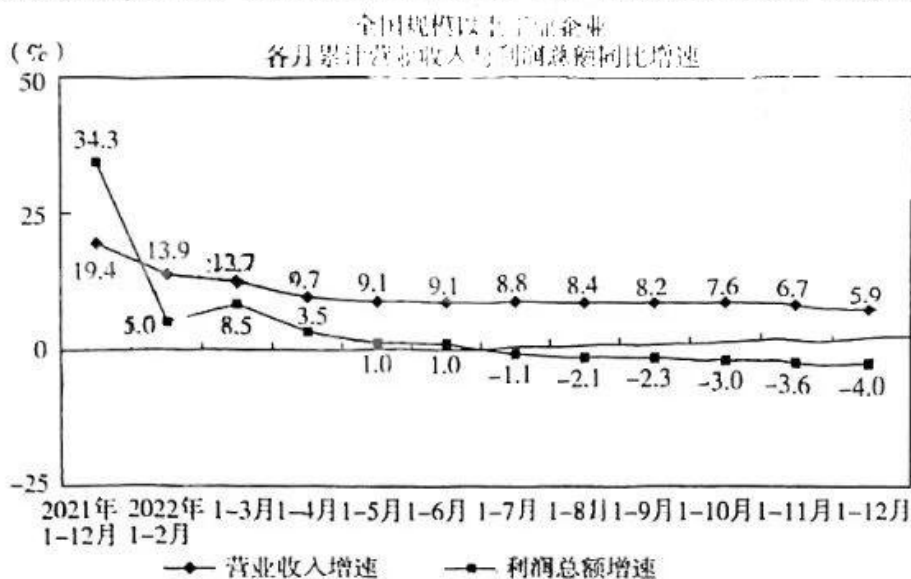


图2

- (1) 简述非洲红砂和膨胀岩土分布特征。(6分)
- (2) 分析非洲红砂分布区工程建设易出现地基问题的主要原因。(6分)
- (3) 说明膨胀岩土对公路和建筑物的危害。(6分)
- (4) 简述非洲红砂和膨胀岩土分布区工程建设的应对措施。(6分)

38. (14分) 阅读材料, 完成下列要求。

近年来, 受错综复杂国内外形势影响, 我国工业企业发展面临不少困难和问题。特别是近期受原材料价格高企、订单不足、用工难用工贵、融资难回款慢、物流成本高、新冠肺炎疫情、用电紧张等因素影响, 规模以上工业企业下行压力持续加大(见下图)。



市场主体是经济社会发展的重要力量, 是稳定经济基本盘的重要基础, 我国已经吹响了保市场主体的冲锋号。不等不靠, 在用好政府纾困政策的同时, 依据自身情况, 拿出积极有效的应对良策, 实现突围自救, 把握发展良机, 更应成为当前工业企业在困境中的生存良方。

结合材料并运用经济生活知识, 分析我国规模以上工业企业面临的压力, 并为它们如何实现突围自救想办法。(14分)



39. (12分) 阅读材料,完成下列要求。

2022年9月,湖北全省启动“美好环境与幸福生活共同缔造”试点工作,要求每个县、市、区确定5—10个城乡社区或农村自然湾、城市居民小区作为试点,发动群众决策共谋、发展共建、建设共管、效果共评、成果共享,共同参与基层社会治理。湖北省委主要负责同志强调,要以改善群众身边、房前屋后的实事小事为切入点,充分发动群众、组织群众、依靠群众,共同建设美好家园。目前,湖北全省已确定“共同缔造”试点1037个,各地通过入户走访、调查问卷、“村湾夜话”、“七点半议事厅”等形式,充分调动群众出资、出力、出点子,汇聚最大治理合力。群众共谋、共建、共管、共评、共享的社会治理模式正在逐渐成形。

结合材料并运用政治生活知识,分析湖北省启动“共同缔造”工作的积极意义。(12分)

40. (26分) 阅读材料,完成下列要求。

1921年7月,刚满20岁的水族青年邓恩铭,跟随信仰赴上海出席党的一大,与12名同行者宣告成立中国共产党,掀起了开天辟地的大事变。

2022年10月,31岁的水族姑娘韦子涵身着民族盛装走进人民大会堂,出席党的二十大,与近2300名代表一同描绘中国式现代化图景。

两代水族青年参加党的代表大会相距百年,但他们的价值追求有不变的主线——“为人民谋幸福,为民族谋复兴”

2017年1月,韦子涵成为一名共产党员,国家也进入实现第一个百年奋斗目标的冲刺阶段,担任驻村干部的她在办公桌上贴着一张纸条,上面写着“无奋斗不青春,无磨炼不精彩,坚持用奋斗的青春践行党员初心使命”。几年过去了,村里修了路、有了产业,水乡村致富有了新路子,生活有了新变化。邓恩铭畅想的“穷人有饭吃、有衣穿”已经实现,韦子涵正是这场人类减贫史上奇迹的见证者、参与者。

出席党的二十大代表中,有一批像韦子涵这样的80后、90后,他们用奋斗的青春助力第一个百年奋斗目标实现,也必将是第二个百年奋斗目标征程上的先锋力量,在新征程上传承中国共产党人的精神谱系。

- (1) 深深融入血脉的红色基因是中国青年百年奋斗的最宝贵财富。结合材料并运用文化生活知识对此进行分析。(10分)
- (2) 结合材料并运用价值创造与实现的知识,说说新征程上当代中国青年怎样才能当好先锋力量。(10分)
- (3) 班级主办一期黑板报,主题为“让中国共产党人精神谱系代代传承”。你认为本期黑板报应着重介绍哪些内容。(请列举其中两个方面,并简述理由)(6分)

41. 阅读材料,完成下列要求。(25分)

材料一 古代中国统治者历来重视养老问题。元代对80岁以上的老人赐予锦帛。朱元璋钦定《诏天下养老之政》规定:凡80岁以上为人正派者,即月给米5斗、肉5斤,老年人见多识广、德高望重者,可协助地方整顿吏治,与县官平礼。乾隆谕令全国,凡70岁以上老人,家中可免一个成年男丁的赋役,80岁以上老人,则赐以官服顶戴。清代诏令地方设养宗族义田、济源堂、普济堂等以收养孤苦老人,并把养老作为地方政绩考核的重要依据。

——摘编自《元明清的社会保障制度》

普高联考2022—2023学年高三测评(四) 文科综合 第9页(共12页)

材料二 20世纪60年代后,英国经济发展速度开始放缓,但社会福利开支仍有增无减,导致政府赤字大增。到1982年,英国国债已高达1000亿英镑,被讥讽为“靠借债度日的安乐国家”。由于生老病死由国家包办,许多人丧失了责任心和进取心,产生了一批依赖福利制度的“躺平”阶层。这不仅违背了福利制度的初衷,而且严重败坏了社会风气。

——摘编自赵立新《论英国养老保障制度》

材料三 20世纪90年代初,国家提出的社会保障发展方针是“广覆盖、低水平、多层次”;21世纪初,这一方针变更为“广覆盖、保基本、多层次、可持续”;2012年,党的十八大则将这一表述修改为“全覆盖、保基本、多层次、可持续”,社会保障各项目全部纳入基本公共服务范畴,社会保障成为了政府的基本职责和国民的基本权利。

——摘编自何文炯《改革开放以来社会保障制度的演变逻辑》

- (1) 根据材料一和所学知识,概括元明清时期养老政策的主要特征。(10分,不可简单重复原文)
- (2) 根据材料二和所学知识,分析二战后英国福利制度的影响。(8分)
- (3) 根据材料三和所学知识,概括20世纪90年代以来中国社会保障事业取得进步的原因。(7分)

42. 阅读材料,完成下列要求。(12分)

材料 解读史料,获得历史认识,探寻史料表象背后的意蕴,是历史学的魅力所在。下表内容为20世纪中国民主宪政文献的部分史料信息。

时间	名称	部分条文内容摘录
1908年	《钦定宪法大纲》	凡法律虽经议院议决,而未奉诏命挂印颁发者,不得见诸施行。……用人之权,操之君上,而大臣辅弼之,议院不得干预。
1912年	《中华民国临时约法》	参议院对于临时大总统认为有谋叛行为时,得以总员五分四以上之出席,出席员四分三以上之可决弹劾之;临时大总统受参议院弹劾后,由最高法院……组织特别法庭审判之。
1931年	《中华苏维埃共和国宪法大纲》	在苏维埃政权下,所有工人、农民、红军兵士及一切劳苦民众都有权选派代表掌握政权的管理。
1949年	《中国人民政治协商会议共同纲领》	中华人民共和国的国家政权属于人民。人民行使国家政权的机关为各级人民代表大会和各级人民政府。各级人民代表大会由人民用普选方法产生之。

依据以上材料的一则或多则信息,结合所学知识,撰写一篇历史小论文。(要求:论题明确,论述充分,史论结合,表述清晰。)

(二) 选考题:共25分。请考生从2道地理题、3道历史题中每科任选一题作答。如果多做,则每科按所做的第一题计分。

43. 【地理——选修3:旅游地理】(10分)

祁连山国家公园是我国重要的生态功能区、西部地区生态安全的重要屏障。该公园冬季长而寒冷干燥,夏季短而温凉湿润,是我国生物多样性保护优先区之一。祁连山有着

丰富而多元的文化资源,形成了“六大民族、四大文化系统”。如果从西宁出发逆时针游览,全程约1972千米,可途经青海湖、茶卡盐湖、敦煌、嘉峪关等众多景点。近年来,生态旅游业的快速发展,为当地带来了丰厚的经济利益,但伴随而来的是生态系统的压力愈发加重。2018年,国家对甘肃省祁连山局部生态遭到严重破坏的事件开展专项督查,并整治旅游乱象。

简述祁连山国家公园生态旅游的开发条件。

#### 44.【地理——选修6:环境保护】(10分)

休闲渔业是美国最受欢迎的户外活动之一,在发展过程中带动众多产业发展,创造了巨大的经济和社会效益。为适应休闲渔业空间分布格局,美国在管理过程中形成联邦政府部门、各州政府、行业协会等共同参与的多中心治理机制。多中心治理提倡形成多个权利主体,各主体在治理过程中发挥不同的治理作用,最终形成合力达到治理目标。例如,各个渔业协会在平衡政府和休闲渔业参与者的利益关系、保护休闲渔业资源方面发挥着重要作用。下图示意美国大西洋沿岸及墨西哥湾海水休闲垂钓点分布。



简述美国在休闲渔业管理过程中采用多中心治理机制的目的。

#### 45.【历史——选修1:历史上重大改革回眸】(15分)

材料 1980年,深圳特区创办。经测算,仅罗湖区第一期开发最少也要投资近20亿元,这对于当时的特区简直是一个不敢想象的天文数字。当时主管基建的副市长回忆说:“国家对深圳的投资,当时只有百分之二,现在算来只有百分之一点儿。……香港人启发了我们,香港财政收益三成以上都来自土地拍卖。于是我们就想到了租地的方法,用土地换资金。”

1980年深圳房管局与香港妙丽集团谈判,深圳出地,妙丽集团出资,利润分成。1981年东湖丽苑小区竣工入住,该小区成为中国第一个商品房且有物业公司的小区。邓小平同志来深圳视察的时候,登上了罗湖区国际商业大厦的楼顶,对这种市场化运作方式表示了认可。

普高联考2022—2023学年高三测评(四) 文科综合 第11页(共页)

## 关于我们

自主选拔在线是致力于提供新高考生涯规划、强基计划、综合评价、三位一体、学科竞赛等政策资讯的升学服务平台。总部坐落于北京，旗下拥有网站（[网址: www.zizzs.com](http://www.zizzs.com)）和微信公众平台等媒体矩阵，用户群体涵盖全国90%以上的重点中学师生及家长，在全国新高考、自主选拔领域首屈一指。

如需第一时间获取相关资讯及备考指南，请关注**自主选拔在线**官方微信号：**zizzsw**。



 微信搜一搜

 自主选拔在线