

# 衡水中学 2021 届上学期高三年级二调考试

## 政 治

本试卷分第 I 卷（选择题）和第 II 卷（非选择题）两部分。共 10 页，总分 100 分，考试时间 90 分钟

### 第 I 卷（选择题 共 45 分）

一、选择题:本题共 30 小题，每小题 1.5 分，共 45 分。在每小题给出的四个选项中，只有一项是

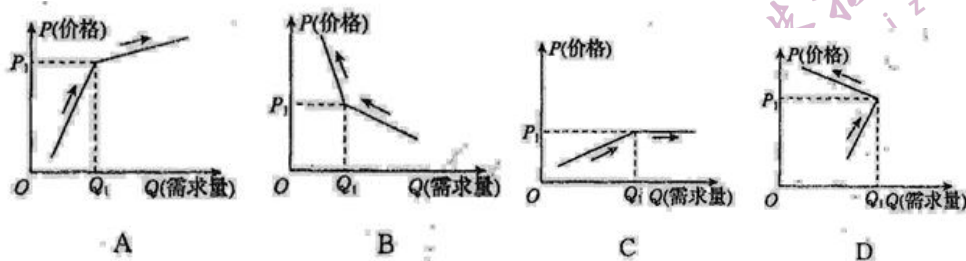
符合题目要求的。

1. 2019 年 7 月 25 日，中国银行雅加达分行携手印尼外交政策协会在雅加达成功举办了人民币国际化论坛。本次论坛是在人民币国际化 10 周年，两国经贸合作日趋紧密，同时印尼央行致力于推动区域内各国货币直接进行贸易结算机制的背景下举办的。区域内各国货币直接进行贸易结算

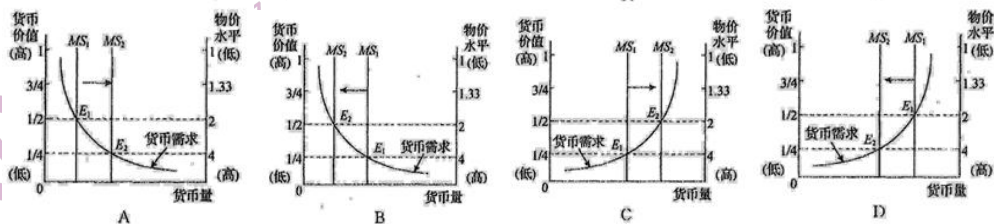
- ①提高资本配置效率和外汇储备安全性
- ②使人民币汇率的国际化步伐加快，提升人民币使用率
- ③有利于外贸企业规避外汇风险
- ④能使中国居民直接拿着人民币到国外购买更多的商品

- A. ④②      B. ②③      C. ①④      D. ③④

2. 刚性需求是指在商品供求关系中受价格影响较小的需求，即使价格上涨，需求也会增加。当刚性需求被商品价格变动过快破坏后，刚性需求就变成了弹性需求。不考虑其他因素，下列图示中能较为准确地反映某商品价格上涨过快，由刚性需求向弹性需求转化的是



3. 货币的供应量必须以流通中所需要的货币量为限度，如果货币的供应量超过这个限度会引起物价上涨，货币贬值，物价水平也随之发生变化。下图中的  $MS_1$ 、 $MS_2$  分别为变化前后的货币供给量， $E_1$ 、 $E_2$  分别为变化前后的均衡点。下列图示能正确反映这一经济现象的图像是



4. 下图是 2015-2019 年中国农村贫困人口数量和贫困发生率。

2015-2019 年年末全国农村贫困人口和贫困发生率统计图

由上图可以推断出，近五年来我国  
①农村贫困居民家庭耐用消费品升级换代

②农村贫困居民可支配收入增长高于城镇居民

③农村贫困居民消费结构改善

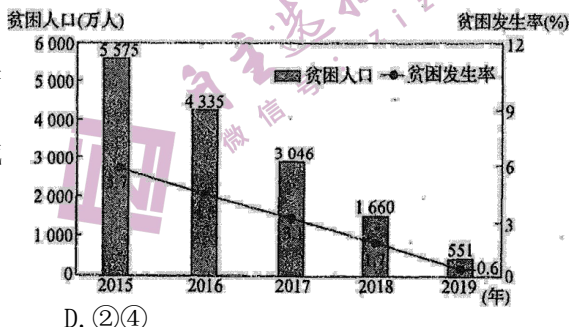
④农村贫困居民生存资料消费减少

A. ④③

B. ①④

C. ②③

D. ②④



5. 某小区把停车场对外承包给某公司经营，该公司在出租车位时有两种方案:A 方案，包月租，每月 350 元，保证有车位但是不固定车位;B 方案，包月租，每月 500 元，固定车位。此外，两种方案都可以接受临时停车，按每小时 3 元收费。经过两个月的试运行，该公司最终选择了 A 方案，其原因可能是

①有很多流动车辆需要在小区临时停车

②B 方案月租费太高，小区业主有意见

③A 方案可以让车位得到最大限度利用

④不固定车位让小区业主增加了选择性

A. ①③

B. ②③

C. ②④

D. ①④

6. 我国某企业打破了国外技术的封锁和垄断，依靠自主研发生产出了一种达到国际领先水平可替代进口的特种钢材，虽然该产品的价格远高于普通钢材，但仍供不应求，目前已出口到欧、美等国家和地区。该企业的成功主要得益于

①立足高端市场，满足个性化需求

②依靠科技进步，提升产品附加值

③发挥价格优势，提高产品竞争力

④坚持自主创新，实现高质量发展

A. ①②

B. ①③

C. ②④

D. ③④

7. 下表为 2019 年民生大事记（部分）

民生大事记	主要内容
最低工资标准	湖南、河南、河北、陕西、辽宁等地上调最低工资标准，上海、北京、广东、天津、江苏、浙江 6 省市的月最低工资标准超过 2 000 元
降低个人所得税占比	2019 年，全国一般公共预算收入中，个人所得税 10 388 亿元，同比下降 25.1%
城乡医保和大病保险	城乡居民医保人均财政补助标准新增 30 元，大病保险政策范围内报销比例由 50% 提高至 60%
推进药品带量采购	国家组织药品带量采购，试点城市的 25 种中选药品平均降幅达 52%

依据上述表格，下列分析正确的有

①国家坚持共享发展理念，让人民有更多获得感

- ②国家切实提高中低收入者收入，兜住民生底线  
③由政府和市场共同决定民生领域商品价格，以减轻居民负担  
④国家优化财政支出结构，以促进社会公平、改善人民生活

A. ①②      B. ①④      C. ②③      D. ③④

8. 某钟表集团有限公司搭建了“钟联网”系统，将销往世界各地的时钟通过网络联系在一起，可以远程控制统一校时、统一监控，出现问题还能及时发出提醒，有了这个全生命周期服务系统，该企业不仅增加了收入，也大大提高了竞争力。该模式表明

- ①企业通过提品质、增效益能够让使用价值决定商品价值量  
②企业由单一的生产型向为消费者提供综合解决方案转型  
③先进制造业与现代服务业深度融合能够产生新产业新业态  
④提升制造业的技术和知识含量是提升服务水平的前提条件

A. ①②      B. ①④      C. ②③      D. ③④

9. 《中华人民共和国电子商务法》规定，通过互联网等信息网络从事销售商品或者提供服务的经营活动的自然人、法人和非法人组织都属于电子商务经营者，应当依法办理市场主体登记，履行纳税义务。这些规定将会

- A. 加强市场监管→规范经营行为→维护市场秩序促进经济繁荣  
B. 引导正当竞争→促进优胜劣汰→形成供需平衡→促使价格合理  
C. 建立协商机制→供需有效对接→发挥“消协”作用维护消费者权益  
D. 运用法律手段加强宏观调控→抑制盲目发展→优化资源配置

10. 2019年8月29日，世界人工智能大会在上海世博中心召开，大会以“智联世界无限可能”为主题，以“高端化、国际化、专业化、市场化、智能化”为特色，集聚全球智能领域最具影响力的科学家和企业家，使得相关上市公司股票价格随之上涨。下列能正确描述该方案出台的影响路径的是

- ①利好预期强化 ②融资成本下降 ③企业利润增加  
④股票买多卖少 ⑤股票价格上涨 ⑥利息收入增加  
A. ①→②→③      B. ①→④→⑤      C. ②→③→⑤      D. ②→④→⑤

11. 2020年7月21日，习近平总书记在企业家代表座谈会上指出：“企业家要立足中国，放眼世界，提高把握国际市场动向和需求特点的能力，提高把握国际规则能力，提高国际市场开拓能力，提高防范国际市场风险能力，带动企业在更高水平的对外开放中实现更好发展，促进国内国际双循环。”这要求企业家

- A. 树立开放意识，按市场规律办事      B. 树立危机意识，不断扩大生产规模  
C. 树立改革意识，提高宏观调控能力      D. 坚持诚信意识，勇于承担社会责任

12. 中国经济的韧性来自巨大的市场优势，14亿多人口的庞大市场、4亿多中等收入群体的强大购买力，是任何国家都无法比拟的。巨大的市场优势发挥作用的路径是

- ①将释放源源不断的消费潜力②支撑中国经济的高质量发展  
③倒逼深化供给侧结构性改革④促进产品质量提升和产业转型

A. ①→②→③→④      B. ①→③→②→④  
C. ①→③→④→②      D. ①→④→③→②

13. 2020年9月21日，国务院印发《关于北京、湖南、安徽自由贸易试验区总体方案及浙江自由贸易试验区扩展区域方案的通知》，至此，中国的自由贸易试验区数量增至21个。4个新设自由贸易试验区或者扩展区，围绕着服务贸易、先进制造业、科技创新

和数字经济等新领域新业态，提出了特色鲜明的差别化试点任务，打造各具特色的改革开放新高地，促进经济的高质量发展。据此，下列传导路径正确的有

- ①优化营商环境→促进贸易投资自由化→发展更高层次的开放型经济
- ②全面开放市场→强化竞争机制→培育中国经济新优势
- ③打造新的外向型产业集群→加快“走出去”步伐→防范与化解市场风险
- ④开展差别化探索→完善社会主义市场经济体制→促进经济的高质量发展

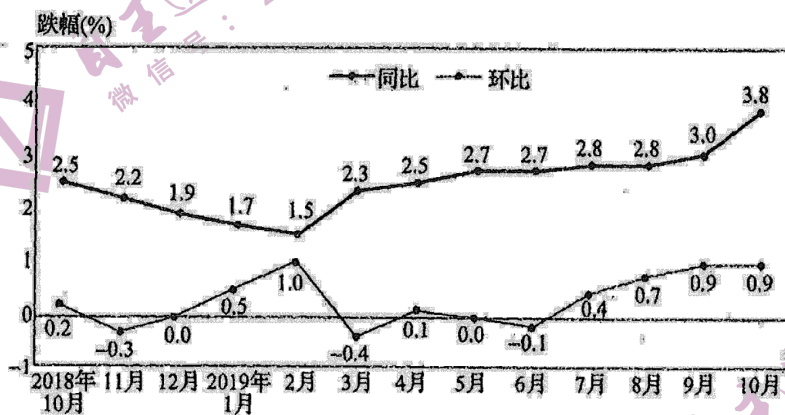
A. ①②      B. ①④      C. ②③      D. ③④

14. 2019 年前三季度，全国规模以上工业企业利润总额 4593.5 亿元，同比下降 2.1%。在 41 个工业大类行业中，30 个行业利润总额同比增加，汽车电子行业利润回暖带动装备制造行业利润增速由负转正，高技术制造业和战略性新兴产业利润增长加快。据此可知

①规模以上的工业企业效益呈现出结构性改善的特征②工业企业利润总额同比下降有利于推动高质量发展③企业之间的上下游产业链之间相互影响，相互作用④工业品价格下降和成本上升导致利润总额同比下降

A. ①③      B. ①④      C. ②③      D. ②④

15. 下图为 2018 年 10 月至 2019 年 10 月全国居民消费价格涨跌情况



注:2019 年 10 月猪肉价格上涨 101.3%，影响 CPI（居民消费价格指数）上涨约 2.43 个百分点，占 CPI 同比总涨幅的近三分之二。对此，下列理解正确的有

①国家将采取措施促进生猪养殖②国家应该实施从紧的财政政策③表明市场调节失灵，市场秩序混乱④消费者会减少对猪肉的消费

A. ①②      B. ①④      C. ②③      D. ③④

16. 《中华人民共和国个人所得税法修正案（草案）》把个税起征点提高到 5000 元，最高一档税率保持 45% 不变，这与部分群众先前期望的个税起征点调高至 8000 元以上，最高税率调低到 35% 以下有着明显的差异。政府进行个税改革的依据是

①最高档税率保持不变→稳定国家税收收入→促进经济结构转型→推动更高质量发展

②大幅提高个税起征点→个税纳税人减少→财政收入大幅减少→不利于国家职能的发挥

③最高档税率如果下调→高收入者税负降低→不利于缩小贫富差距→不利于社会和谐

④适度提高个税起征点→中低收入者税负降低→促进社会公平→有利于实现共同富裕

裕

- A. ③④      B. ①②      C. ①③      D. ②④

17. 《中共中央国务院关于构建更加完善的要素市场化配置体制机制的意见》提出，大幅度减少政府对要素的直接配置，推进土地、劳动力、资本、技术和数据要素配置的市场化改革，完善要素价格形成机制和市场运行机制。这一改革发生作用的传导路径合理的是

①企业调整生产经营活动②让市场供求与价格信号引导要素合理配置③充分发挥政府在资源配置中的关键性作用④引导各类要素协同向先进生产力集聚⑤推动经济发展质量变革、效率变革

- A. ①→⑤→②→④      B. ②→①→④→⑤  
C. ③→①→④→⑤      D. ④→①→②→⑤

18. 近年来，各地稳步推进“政府增信扶贫、龙头企业带贫、特色产业扶贫及扶贫贴息贷款等十大金融扶贫模式”，不断扩大农业保险的覆盖面，对金融机构向农村贫困户及小微企业发放小额贷款取得的利息收入免征增值税等各项举措，推动金融精准扶贫真正落地。下列传导正确的是

- ①政府增信+贴息贷款→落实积极货币政策→降低贫困户贷款成本  
②产业联动+金融扶贫机制→特色产业发展→形成市场合力精准脱贫  
③免征金融机构增值税→鼓励向贫困户发放贷款→缓解贫困农户融资难  
④不断扩大农业保险的覆盖面→健全社会保险制度→减少农业风险损失

- A. ①②      B. ①④      C. ②③      D. ③④

19. 随着国内新冠肺炎疫情趋于平稳，为缓解疫情对市场的冲击，进一步提振内需，某市政府采用网上摇号的方式公开向市民发放总额 3.18 亿元的消费券，并运用区块链技术对消费券的预约、发放、兑现等环节的数据进行存储和监管，确保消费券的精准、公平、透明使用。这一做法旨在

①贯彻创新发展理念以增强民众获得感 ②规范消费行为以提高消费质量和水平 ③通过政府再分配增加居民收入刺激消费 ④充分发挥消费对经济发展的基础性作用

- A. ①②      B. ①③      C. ②④      D. ③④

20. 从 2019 年 12 月 1 日起，证照分离改革全覆盖试点日正式在全国自贸试验区展开，传统经济模式下，经营者需要拿到所有经营许可资格后，才能申办营业执照。证照分离改革需要重点解决企业办证多、办证难的问题，做到能取消则取消，不能取消的列入市场准入或经营资格许可“负面清单”，最终实现“取消为常态、审批为例外”的格局。实现证照分离旨在

①发挥市场的作用，弱化政府的监管②降低交易成本，激发市场活力③创新宏观调控手段，弥补市场不足④优化营商环境，提高创业效率

- A. ①②      B. ②③      C. ③④      D. ②④

21. 2019 年 11 月 5 日，习近平主席在出席第二届中国国际进口博览会开幕式时指出，各国要以更加开放的心态和举措，共建开放合作、开放创新、开放共享的世界经济。重申中国开放的大门只会越开越大，中国坚持以开放促改革、促发展、促创新，持续推进更高层次的对外开放。这表明我国

- ①创新对外投资方式，培育世界经济发展新优势

②转变对外开放总体格局，提高开放型经济水平

③奉行积极开放战略，推动贸易自由化与便利化

④顺应经济全球化趋势，促进国家间合作与发展

A. ①②      B. ①③      C. ②④      D. ③④

22. 党的十八大以来，党中央提出了京津冀协同发展、长江经济带发展、共建“一带一路”、粤港澳大湾区建设、长三角一体化发展、黄河流域生态保护和高质量发展等重大战略，并将“实施区域协调发展战略”写入了党的十九大报告，区域协调发展取得了一系列新的历史性成就。推进区域协调发展

①能够促进各类要素合理配置，优化产业布局

②旨在增强发展的协调性，从根本上解决发展不充分问题

③通过健全区域协调发展机制，实现城乡一体化

④有利于贯彻新发展理念，建成高质量发展区域集群

A. ①③      B. ①④      C. ②③      D. ②④

23. 2019年4月1日，江苏省政府办公厅下发《江苏省化工行业整治提升方案（征求意见稿）》，该方案大幅度压减化工生产。企业数量计划到2020年底，全省化工生产企业数量减少到2000家；到2022年，全省化工生产企业数量不超过100家。不考虑其他因素，这方案的实施

①旨在减少市场对化工产品的消费需求以及投资需求

②可能会导致化工产品的终端销售价格上涨

③可能淘汰低端化工企业，优化化工产业布局

④有利于提高化工产品的质量和化工企业的效益

A. ①②      B. ①④      C. ③④      D. ②③

24. 近年来，“新国货”强势回归，国货自我价值升级，以智能、品质、品牌为标签，开启民族品牌全球崛起之路。材料表明，“新国货”的崛起

①提升自主品牌价值，为消费创造巨大动力

②打造强大的国内市场，增强居民消费能力

③优化产品供给结构，推动制造业品质革命

④深化生产分工与协作，延伸商品的价值链

A. ①②      B. ①③      C. ②④      D. ③④

25. 新冠肺炎疫情在全球范围内的持续蔓延给我外贸企业发展带来严峻挑战，许多企业借助国内直播带货、网上销售等“新零售”平台进行出口转内销。当前，有利于这些企业实现从商品到货币“惊险一跃”的因素包括

①我国作为世界制造大国，具备相对完整的产业链

②我国经济发展持续稳定，人口多、市场潜力巨大

③我国不断扩大进口规模，市场竞争日趋激烈

④国家不断完善市场机制，竞争秩序和信用环境不断优化

A. ①③      B. ②③      C. ①④      D. ②④

26. 2020年3月30日，《中共中央国务院关于构建更加完善的要素市场化配置体制机制的意见》（以下简称《意见》）正式发布。《意见》中对土地要素市场化配置的相关要求有诸多新亮点，例如进一步加快集体建设用地入市、混合产业用地供应推动融合发展、利用市场化机制盘活存量土地资源、进一步向省级下放土地管理权等。这有利于

- ①突破耕地红线，为城乡协调发展提供土地资源
- ②改变集体土地属性，引导要素自由有序地流动
- ③优化土地要素配置，提升现有要素的使用效率
- ④提高要素市场化配置水平，健全要素市场体系

A. ①②      B. ①③      C. ②④      D. ③④

27. 我国下沉市场（一般指三四线城市及广大农村地区的市场）网购潜力正在逐渐爆发。某电商大数据显示，2019年前三季度，县镇及农村市场数码相机销量同比增长高达1500%；破壁料理机、多门冰箱销量同比增长439.4%与363.1%。下列对我国下沉市场网购潜力爆发原因推断正确的有

- ①信息基础设施建设加强，城镇和农村互联网普及率提高
- ②城乡居民可支配收入不断增加，消费潜力得以释放
- ③通过供给侧改革，放宽市场准入让企业产品质量提升
- ④科技创新提高社会劳动生产率，使商品价值增加

A. ①②      B. ③④      C. ①③      D. ②④

28. 在新的国内国际市场环境下，国务院提出质量提升行动，推动企业实现“同线同标同质”，即出口和内销产品在同生产线上按照相同的标准生产，使供应国内市场的产品达到供应国际市场产品相同的质量水准，此举旨在

- ①提高供给质量水平，促进产业转型升级
- ②推动中国标准国际化，扩大在国际经济领域话语权
- ③面向国际市场，增强供应国际市场产品的竞争力
- ④引导海外消费回流，让国内消费者享受更多质量红利

A. ①②      B. ①④      C. ②③      D. ③④

29. 2020年6月1日起施行的《中华人民共和国基本医疗卫生与健康促进法》是我国医疗卫生领域第一部基础性、综合性的法律，它结束了“发展医疗卫生与健康事业”“保障公民享有基本医疗卫生服务”无法可依的局面。该法的施行，有利于

- ①彰显民主的真实性，维护公民基本民主权利
- ②尊重和保护公民健康权，提高公民健康水平
- ③强化公民在基本医疗卫生服务中的主体责任
- ④推动医药卫生改革发展，推进健康中国建设

A. ①③      B. ①④      C. ②③      D. ②④

30. 《网络信息内容生态治理规定》所称网络信息内容生态治理，是指政府、企业、社会，网民等主体，以培育和践行社会主义核心价值观为根本，以网络信息内容为主要治理对象，以建立健全网络综合治理体系、营造清朗的网络空间、建设良好的网络生态为目标，开展的弘扬正能量处置违法和不良信息等相关活动。这一规定

- ①贯彻以人民为中心的发展理念，有利于维护公民合法权益
- ②突破政府单一主导模式，体现了多元参与协同共治的理念
- ③明确各主体基本权利与义务，有利于实现网络生态治理权责统
- ④明确网络生态治理目标任务，将极大促进国家网络安全技术进步

A. ①②      B. ①③      C. ②④      D. ③④

## 第II卷（非选择题 共55分）

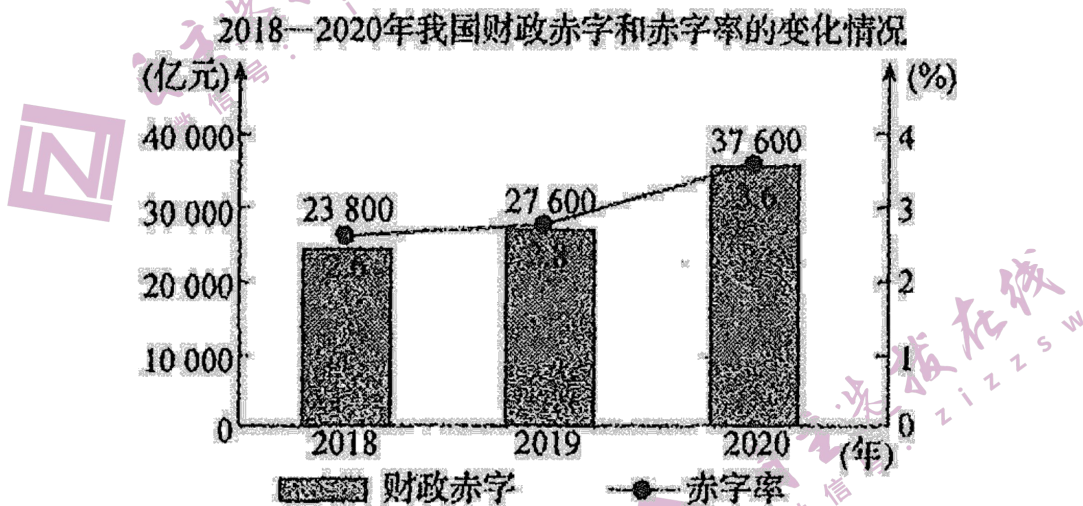
二、非选择题：本题共5小题，共55分

31. 阅读材料，完成下列要求。(8分)

拼多多：消费降缓还是消费升级？2019年，我国人均GDP超过1万美元。随着收入的增加，居民消费出现两个变化：一是高品质消费、个性化消费成为“消费升级”的大趋势；二是人们在消费产品的选择上，不仅有追求高价格、高效率、大品牌，而且有更多的消费者偏爱物美价廉的商品或服务，如“拼多多”现象。最直观的感受就是：以前买便宜的、现在买贵的，就叫消费升级；以前买贵的、现在买便宜的，就叫消费降级。但直观的感受往往是错觉，贵不一定代表消费升级，便宜不一定代表消费降级。科技进步带来的成本下降，有力推动高端产品平民化。据大数据统计，拼多多背后的用户多是月可支配收入1000多元的所谓低消费人群，拼多多其实就是抓住了中国人口基数最广大的人群：他们绝对收入可能很低，但消费意愿很强，同时消费通路又长期被压抑。所以，不能单纯地以便宜或者贵这样的标签来判断是不是消费升级。综合材料，请运用消费的有关知识，为“拼多多现象不代表消费降级”的观点说明理由。

32. 阅读材料，完成下列要求。(16分)

材料一



材料二 新冠肺炎疫情给中国经济带来严重冲击。2020年1—4月，我国财政收入同比下降14.5%；同时抗疫、救助企业和贫困家庭、发放消费券等大量刚性支出增加，财政收支缺口较大。

2020年国务院《政府工作报告》指出财政赤字规模比2019年增加1万亿元，同时发行1万亿元抗疫特别国债，部资金直达市县基层、直接惠企利民，主要用于地方公共卫生等基础设施建设和抗疫相支出以及保就业、保基本民生、保市场主体，决不允许藏留挪用

结合材料，运用《经济生活》知识，完成下列任务

(1) 解读材料包含的经济信息。(6分)

(2) 分析我国发行抗疫特别国债的积极影响。(10分)

33. 阅读材料，完成下列要求。(9分)

市场主体退出制度是现代化经济体系的重要组成部分。在相当长的一个历史时期，我国对于各类经营主体退出市场更多使用“关停并转”的处理手段。



2018年12月，中央经济工作会议要求，稳步推进企业优胜劣汰；加快处置“僵尸企业”，制定退出实施办法。2019年7月16日，国家发改委、最高人民法院等13个部门联合印发《加快完善市场主体退出制度改革方案》（以下简称《方案》），要求逐步建立起与现代化经济体系相适应，覆盖各类市场主体的便利、高效、有序的退出制度。《方案》明确提出要坚持市场化改革、坚持法治化方向、坚持保护各方合理权益，坚持约束与激励并举，具体包括规范市场主体退出方式、健全清算注销制度、完善破产法律制度等7个主要领域，基本涵盖了各类市场主体退出的主要方面，搭建起法治化、常态化、科学化的市场主体退出制度。

结合材料，说明完善市场主体退出度的经济意义。

34. 阅读材料，完成下列要求。（8分）

当前，第五代移动通信技术（5G）正步前行，它持以全新的网络架构，开启万物广泛互联、人机深度交互的新时代。5G将对汽车、媒体娱乐、公共交通、医疗、金融服务、农业、零售、能源和工业、公共安全、制造等十大领域产生深刻影响，并使自动驾驶、人工智能等技术真正具备规模商用条件，带动社会创新能力和生产效率的极大提高。业界认为，作为新兴通用目的技术，5G技术的商用化将重塑传统产业发展模式，成为经济社会发展的关键动力，推动我国数字经济发展关键动力，推动我国数字经济发展迈上新台阶。

中国的5G技术一直走在世界前列。近年来，我国一些科创企业依托5G技术，积极开拓海外市场，5G或将成为继高铁之后的又一张国家名片。2019年6月，工信部正式向中国电信、中国移动、中国联通、中国广电发放5G商用牌照，标志着我国正式进入5G商用元年。

结合材料，运用《经济生活》知识，说明5G技术对我国经济社会发展的积极影响。

35. 阅读材料，完下列要求。（14分）

某县土地肥沃，是传统产粮大县，但粮食种植分散，效益较低，农民贫困发生率高。为打赢脱贫攻坚战，该县推进农村承包地“三权分置”改革，鼓励土地经营权向种粮大户流转。对土地进行整治，把原来分散的小块农田改造成连片的耕地，使用大型农业机械耕种、收割，让物联网、农业自动化等新技术扎根田间，实时了解苗情、早情、病虫害等信息，工作人员在手机App上即可实行管理。实施粮食高质量工程，大幅度增加优质小麦种植面积，按照绿色产品标准统一经营管理，并注册了商标。吸引知名企业到本地投资，将小麦加工成面条、饺子等食品，销往全国各地。结合农村人居环境整治工程，变“种粮食”为“种风景”，发展观光农业。目前，该县粮食产业实现了高质量发展，产量稳步增长，经济效益明显提高，脱贫攻坚战成效显著。

运用《经济生活》知识，完成下列要求

(1) 结合材料，说明该县是怎样转变农业生产方式，为当地高质量发展赋能的。（8分）

(2) 有人认为：在农村“种粮食”变“种风景”，会影响粮食安全。结合材料，对这一观点加以评析。（6分）

## 政治答案

### 一、选择题

01-05 BDAAB 06-10 CACAB 11-15 ACBAB 16-20 ABCDD 21-25 DBDBD 26-30 DABDA

### 二、非选择题

31. ①经济发展、科技进步带来成本下降,从根本上提高了人们的消费水平和消费热情。(2分)②收入是消费的基础和前提。居民收入影响消费,拼多多挖掘了低收入群体消费欲望,激活消费市场潜力。(2分)③消费观念影响消费行为,受求实消费心理的影响,人们不再一味追求价格、品牌,也偏爱物美价廉,人们的消费选择多样化。(2分)④消费结构更加多元、合理、优化,激发了高、中、低端的收入人群的消费潜力(2分)

32. (1)我国财政赤字和赤字率呈上升趋势,(2分)说明我国实行积极的财政政策,(2分)通过扩大财政支出,促进经济社会发展。(2分)

(2)弥补地方财政资金缺口,缓解地方财政收支矛盾;(2分)促进资源合理配置,提高卫生防疫水平;(2分)保障和改善民生,提高人民生活水平,维护社会和谐稳定;(2分)增加就业,稳定居民收入,刺激消费,扩大内需;(2分)缓解企业经营困难,支持企业复工复产,促进经济复苏。(2分)

33. ①有利于降低市场主体退出成本,实现企业优胜劣汰,激发市场主体竞争活力,促进创业创新。(3分)


②有利于完善市场规则,发展社会主义市场经济体制,提高资源配置的效率和公平性。(3分)③推动产业转型升级,深化供给侧结构性改革,建设现代化经济体系,推动经济高质量发展。(3分)

34. ①增加信息消费有效供给,助力供给侧结构性改革推动产业转型升级,拉动经济增长;(2分)②推动信息消费的扩大和升级,释放内需潜力,提升消费品质,满足消费者日益增长的美好生活需要;(2分)③贯彻新发展理念,激发创新活力,促进技术进步和生产效率提升,推动经济高质量发展;(2分)④拓展国际市场空间,提升我国产品的国际竞争力,增强我国的综合国力。(2分)(如从“拉动投资、推动基础设施建设、扩大就业、促进实体经济发展”等角度回答,言之有理可酌情给分)

35. (1)①该县通过“三权分置”改革,放活土地经营权,转变生产关系,实现集约经营,促进土地资源优化配置。(2分)(强调“土地生产关系的改革”)②科技是第一推动力。推动物联网等新技术与粮食产业融合,实现管理现代化,提高生产管理水平。提高粮食品质,树立农业品牌,增强市场竞争力。(2分)(强调“科技”、品质)③通过对小麦进行加丁、销售,延长了产业链,形成有竞争力的产业集群,推动农村二三产业融合发展。(2分)(强调“产业融合”)④推进农村人居环境整治工程,发展观光农业,促进粮食产业综合经济效益提升,为农村可持续发展赋能。(2分)(强调“环境”、可持续发展)

(2)①农业是国民经济的基础,粮食是基础的基础,无农不稳,有粮不慌。“种粮食”特别是优质粮食,同样可以获得增收,藏粮于地,藏粮于技,不会影响粮食安全。(强调“种优质粮食”得2分)②“种风景”是指改善农村人居环境,使之生态宜居,发展观光农业,带来旅游收入,是农民增收的途径之一,并实施粮食高质量工程,所以与“种粮食”不一定矛盾。(强调“二者不矛盾”,得2分)③如果为了农民致富,而一味地改变种植结构,就会影响粮食安全。发展农业,要宜粮则粮、宜林则林,优化农村产业结构,实现发展现代农业,

才能既维护粮食安全,又通过多种途径发家致富。(强调“怎样就会影响粮食安全”“二者怎样统一”,得2分)



## 关于我们

自主选拔在线是致力于提供新高考生涯规划、强基计划、综合评价、三位一体、学科竞赛等政策资讯的升学服务平台。总部坐落于北京，旗下拥有网站（<http://www.zizzs.com/>）和微信公众平台等媒体矩阵，用户群体涵盖全国90%以上的重点中学师生及家长，在全国新高考、自主选拔领域首屈一指。

如需第一时间获取相关资讯及备考指南，请关注**自主选拔在线**官方微信号：**zizzsw**。



 微信搜一搜

 自主选拔在线

关注后获取更多资料：

回复“答题模板”，即可获取《高中九科试卷的解题技巧和答题模版》

回复“必背知识点”，即可获取《高考考前必背知识点》

