

高三年级第十次调研考试

文科综合试卷

本试卷共 16 页，47 小题，满分 300 分。考试用时 150 分钟。

注意事项：

1. 答卷前，考生务必将自己的姓名、考生号、考场号和座位号填写在答题卡上。用 2B 铅笔将试卷类型填涂在答题卡相应位置上。将条形码横贴在答题卡右上角“条形码粘贴处”。
2. 作答选择题时，选出每小题答案后，用 2B 铅笔在答题卡上对应题目选项的答案信息点涂黑；如需改动，用橡皮擦干净后，再选涂其他答案。答案不能答在试卷上。
3. 非选择题必须用黑色字迹的钢笔或签字笔作答，答案必须写在答题卡各题目指定区域内相应位置上；如需改动，先划掉原来的答案，然后再写上新答案；不准使用铅笔和涂改液。不按以上要求作答无效。
4. 考生必须保证答题卡的整洁。考试结束后，将试卷和答题卡一并交回。

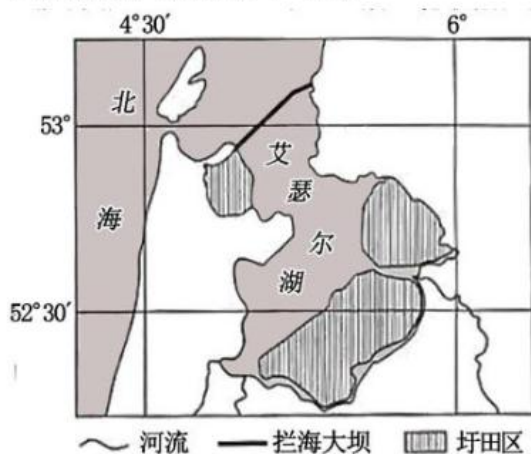
一、选择题：本题共 35 小题，每小题 4 分，共 140 分。在每小题给出的四个选项中，只有一项是符合题目要求的。

香云纱俗称莨绸、云纱，是用特色植物薯莨的汁水对桑蚕丝织物涂层、再用珠三角地区特有的含矿河涌塘泥覆盖、经日晒加工，历经 13 项的纯手工艺循环往复而成的一种昂贵丝绸制品。通常从每年的 4 月初至 10 月底为一年的晒莨时间，其中，7 月到 8 月上旬不宜开工。香云纱穿在身上凉爽、不粘身，被称为纺织界的“软黄金”。目前香云纱设计师与故宫开展合作。据此回答 1~3 题。

1. 晒莨期间面临的不利条件和避开 7、8 月份的原因分别是()
①气温高 ②多台风 ③温差大 ④降水多
A. ① ② B. ② ③ C. ④ ① D. ④ ②
2. 目前香云纱在中国成衣市场份额比较小的原因主要是()
A. 香云纱纯手工制作，工序复杂 B. 香云纱市场青睐度低
C. 生产原料地域性强 D. 缺乏传统技艺的香云纱艺人
3. 香云纱未来发展的建议，最合理的是()
A. 延长产业链，带动相关产业的发展 B. 扩大生产规模，拓展海外市场
C. 注重区域品牌优势，创新文化产业 D. 加大薯莨生产，保护河泥

自 2020 年 1 月起，荷兰政府为重塑国家形象将荷兰 (Holland) 这一名称改为尼德兰 (Netherlands)，意为“低地之国”。荷兰还拥有“鲜花王国”、“风车之国”、“海上马车夫”等称号。20 世纪 30 年代，荷兰在下图所示地区修筑拦海大坝、将湖中的海水抽取置换淡水，

并在湖边部分低地开垦发展农业，形成圩田区。2019年6月，谷歌宣布将投资10亿欧元在荷兰拓展数据中心基础设施。据此完成4~6题。



4. 下列关于荷兰在图示地区修建拦海大坝产生的影响，叙述正确的是()
- A. 减弱海水侵袭 B. 扩大湿地面积 C. 增加海岸线长度 D. 减少泥沙淤积
5. 荷兰是世界上最大的花卉生产和出口国，花卉生产有利的自然条件是()
- A. 气候适宜，水热充足 B. 地形平坦，土壤肥沃
- C. 国际市场需求大 D. 水陆空交通便利
6. 荷兰吸引谷歌投资建设数据中心的优势条件有()
- ① 风能、太阳能等可再生能源丰富 ② 气候凉爽，耗电量小
- ③ 网络基础设施完善 ④ 土地广阔且成本较低
- A. ①② B. ①③ C. ②③ D. ②④

中国是土壤侵蚀较为严重的国家之一，土壤侵蚀造成土壤肥力下降、土地退化、生产力下降，严重影响区域生态平衡。我国某红壤山地丘陵区，地表植被遭到破坏后，受流水强烈侵蚀后呈现“千沟万壑”的景象。下表为该地区某小流域土壤侵蚀面积(hm^2)在不同海拔高度的分布情况。根据材料回答7-9题。

土壤侵蚀类型	高程/m					
	< 300	300 ~ 350	350 ~ 400	400 ~ 450	450 ~ 500	> 500
微度	1 118.45	1 060.87	612.66	378.83	220.55	210.44
轻度	52.35	109.64	19.18	7.15	2.77	2.11
中度	46.67	156.58	46.22	24.50	11.05	8.75
强烈	12.14	93.50	46.98	26.94	13.32	8.07
板强烈	1.20	27.73	47.02	42.77	23.46	13.65
剧烈	0.04	2.63	11.77	17.19	10.33	8.15

不同海拔高度下的土壤侵蚀面积 (hm^2)

7. 该山地丘陵区最有可能位于()

- A. 山东丘陵 B. 黄土高原 C. 河西走廊 D. 浙闽丘陵
8. 根据材料信息，下列叙述不正确的是()
- A. 随着海拔高度的增加，微度侵蚀不断减少
- B. 高程小于 300 m 时土壤侵蚀面积最大，450-500m 的侵蚀面积最小
- C. 轻度以上土壤侵蚀先增加后减少
- D. 300 ~ 400 m 的区域为土壤侵蚀主要分布区域，应作为水土流失重点治理区域
9. 关于该地区水土流失严重的原因分析，叙述正确的是()
- A. 季风气候，降水丰富且分配均匀 B. 土质疏松，直立性强，易被侵蚀
- C. 河流众多，水系发达，地表侵蚀强烈 D. 过度放牧，植被破坏严重

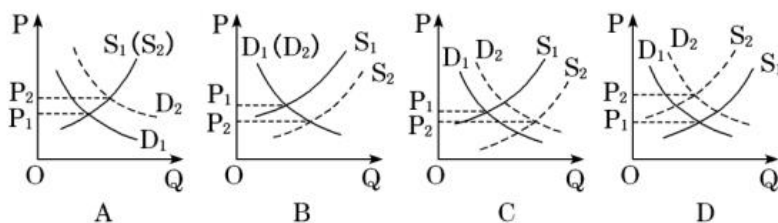
12 月某校东西向主干道旁一侧栽种绿化树，某地理兴趣小组同学发现工人在每颗树木栽种后都会在其两侧斜插白管，白管表面钻满小孔（如图 a），并在某时刻拍下了绿化树景观图（如图 b）。根据材料，回答 10~11 题。



图 a

图 b

10. 图 a 中栽树后在两侧斜插入白管的主要目的是利于()
- A. 透气排水 B. 施肥 C. 渗水灌溉 D. 固定土壤
11. 同学拍摄图 b 照片时当地最有可能的时间是()
- A. 8:30 B. 11:30 C. 15:30 D. 18:30
12. 疫情就是命令，防控就是责任。新型冠状病毒感染肺炎疫情发生以来，全国各地不少地方出现借疫情哄抬物价、囤积居奇、销售伪劣、扰乱秩序、妨碍公务等现象。口罩是抗击此次疫情的重要“防护装备”。随着疫情的扩散，过去不起眼的口罩成为“抢手货”，更成为不法分子非法牟利的手段。不考虑其他因素，若用供求曲线来反映上述变动情况，正确的是()



13. 存款准备金是商业银行为保证客户提取存款和资金结算需要而按规定向中央银行缴存的部分存款。存款准备金占商业银行吸纳存款总额的比率就是存款准备金率。中国人民银行决定,从2019年5月15日开始,对聚焦当地、服务县域的中小银行,实行较低的优惠存款准备金率,释放长期资金约2800亿元,全部用于发放民营和小微企业贷款。这一政策对我国民营企业和小微企业的发展产生重大影响。下列传导正确的是()

- ①中小银行增加对民营和小微企业的贷款 ②民营和小微企业扩大生产或增加研发投入
③推动民营和小微企业发展 ④降低中小银行的信贷风险
⑤缓解民营和小微企业融资难问题

A. ①→⑤→②→③ B. ①→③→④→⑤ C. ②→①→⑤→③ D. ④→①→②→③

14. 2019年8月,财政部下达农业转移人口市民化奖励资金300亿元,支持农业转移人口市民化,推进新型城镇化。要求地方财政部门合理分配资金,重点向吸纳农业转移人口较多地区倾斜,向有效解决农业转移人口市民化过程中有突出问题的地区倾斜,切实保障农业转移人口基本公共服务需求。这体现了()

- ①财政是国家治理的基础,在社会经济生活中的作用巨大
②财政支出可以扩大社会总供给,完善社会基本公共服务
③财政有利于促进国民经济平稳运行,推动经济高质量发展
④国家通过国民收入的再分配,促进社会公平、改善民生

A. ①② B. ①④ C. ②③ D. ③④

15 2019年10月,国务院发布《关于修改〈中华人民共和国外资保险公司管理条例〉和〈中华人民共和国外资银行管理条例〉的决定》,进一步放宽了保险公司、外资银行准入门槛,取消了多项业务限制,这一做法()

- ①为扩大对外开放提供了法治保障 ②有助于中外金融机构公平竞争
③促进我国多层次社会保障体系建设 ④增强金融市场创新对外投资的能力

A. ①② B. ①③ C. ②④ D. ③④

16. 2019年10月21日,生物安全法草案首次提请十三届全国人大常委会第十四次会议审议。针对我国法律对前一时期的生物技术谬用等行为和事件缺乏相应处罚规定的问题,草案明确了相应的责任及处罚,填补了法律空白。生物安全法的制定要经历的下列程序中排序正

确的是()

- ①全国人大常委会对生物安全法草案进行初审
- ②草案通过全国人大网向社会公开征求意见
- ③国务院常务会议讨论通过生物安全法草案
- ④全国人大常委会审议通过生物安全法

A. ③—①—②—④ B. ③—④—①—② C. ④—①—②—③ D. ④—②—①—③

17. 中央纪委国家监委网站公布的全国纪检监察机关监督检查、审查调查情况显示, 2019年1月至9月, 全国纪检监察机关共接受信访举报 249.3 万件次, 处置问题线索 122.6 万件, 谈话函询 25.9 万件次, 立案 45.2 万件, 处分 38.3 万人。材料表明()

- ①信访制度是公民参与民主监督的重要途径
- ②中央纪委不断完善中国共产党的领导方式
- ③国家监委受全国人大监督, 并对其负责
- ④国家监察机关保障公民的监督权

A. ①② B. ①④ C. ②③ D. ③④

18. 2019年11月21日, 国务委员兼外交部部长王毅在北京会见美国前国防部长科恩时表示, 中美交往 40 年最宝贵、也是最重要的启示是, 合则两利、斗则两伤。当前, 中美关系再次来到十字路口。美方应同中方相向而行, 共同推进以协调、合作、稳定为基调的中美关系。在十字路口上, 中美双方应()

- ①坚持求同存异、彼此尊重, 聚焦合作、管控分歧
- ②遵守国际关系基本准则, 携手坚持走和平发展道路
- ③立足双方共同利益, 增强政治互信, 实现合作共赢
- ④以合作取代竞争冲突, 共同维护人类和平发展事业

A. ①③ B. ①④ C. ②③ D. ②④

19. 《2020 年中央广播电视总台春节联欢晚会》是中央广播电视总台制作播出的晚会, 既表达了中华民族喜迎新年的共同心愿, 又体现了各民族欢度节日的不同特点; 既体现传统文化的厚重, 又展示了现代元素的精彩。春晚是源于生活、不断创新且深受观众喜爱的晚会。材料表明()

- ①人们在社会实践中创造了文化, 文化也通过特定的活动深刻影响着人
- ②教育通过选择、传递、创造文化等功能, 展示中华文化的深厚底蕴
- ③民族节日是一个国家历史文化成就的重要标志, 有利于展现文化的多样性
- ④春晚在继承中不断发展传统文化, 有利于发挥优秀传统文化的积极作用

A. ①④ B. ②③ C. ①③ D. ②④

20. 新中国成立 70 周年重点影片《中国机长》在创作拍摄过程中，演职人员对民航系统的重要环节、职位和专业化技术都进行了深入有效的体验和交流，对影片所呈现出的过硬的专业化气质带来了很大帮助。这要求广大电影工作者（ ）

- ①应该力求真实，还原生活本来面貌 ②植根于民族历史传统引领世界文化的发展
③用电影讲好中国故事展示中国精神 ④以更高的艺术水准和专业标准来要求自己
A. ①③ B. ②③ C. ①④ D. ③④

21. 漫画往往给人以启迪。下面漫画的哲学寓意是（ ）



- ①发挥意识的能动性，积极调控心理状态
②把握事物多样性，根据需要创建人为事物的联系
③尊重客观规律，把握发展趋势，顺势而为
④坚持对立统一的观点，在对立中把握统一
A. ①③ B. ①④ C. ②③ D. ②④

22. 粮食事关国运民生，粮食安全是国家安全的重要基础。党的十八大以来，以习近平为核心的党中央把粮食安全作为治国理政的头等大事，提出了“确保谷物基本自给，口粮绝对安全”的新粮食安全观。中国依靠自己自身力量端牢自己的饭碗，实现了由“吃不饱”到“吃得饱”，并且“吃得好”的历史性转变。由过去“吃不饱”到“吃得饱”，并且“吃得好”，表明（ ）

- ①事物的变化发展存在量变和质变两种状态
②“吃不饱”到“吃得饱”的量变是“吃得好”的质变基础
③坚持适度原则，积极促进“吃不饱”到“吃得好”的飞跃
④事物的发展会经历在新质的基础上开始新的量变的过程
A. ①② B. ①④ C. ②③ D. ③④

23. 党的十九届四中全会指出，中国特色社会主义制度和国家治理体系是以马克思主义为指导、植根中国大地、具有深厚中华文化根基、深得人民拥护的制度和治理体系，是具有强大生命力和巨大优越性的制度和治理体系，是能够持续推动拥有近十四亿人口大国进步和发展的制度和治理体系。这说明（ ）

- ①社会意识具有相对独立性，先进的社会意识促进社会发展
②上层建筑适应经济基础的发展状况时，会推动社会的进步

③改革是中国特色社会主义的自我完善，是社会发展的动力

④社会存在决定社会意识，社会意识是社会存在的主观反映

A. ①② B. ①④ C. ②③ D. ③④

24. 春秋时期，王室衰微，列国官制先后突破《周礼》的框架，各成系统；而到了战国时期，各国官制再次发生变化，秦国不断学习三晋，楚国不断面向中原。“再次变化”反映了()

A. 各国在官制上仍然遵循《周礼》 B. 春秋战国时期“礼崩乐坏”
 C. 战国统一的官僚政治雏形显现 D. 中华民族具有强大的凝聚力

25. 下表是两汉时期有关教育的文献记载，由此可以得出两汉时期的共同结论是()

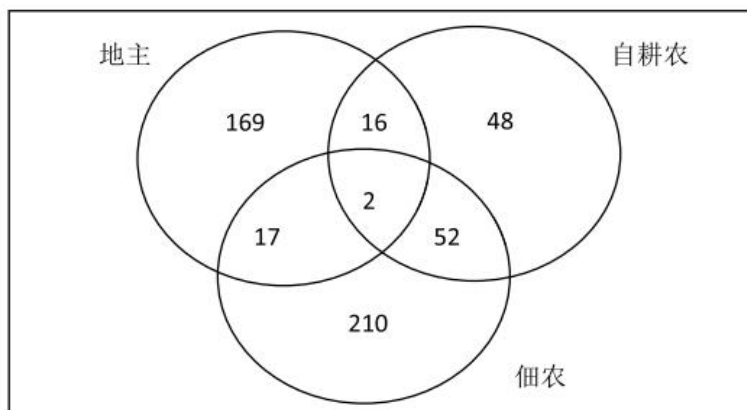
《汉书·儒林传》	“申公归鲁，退居家教，终身不出门，复谢宾客，独王命召之乃往。弟子自远方至受业者千余人。”
《后汉书·李膺传》	“膺诣诏狱考死，妻子徙边，门生、故吏及其父兄，并被禁锢。”
《后汉书·马融传》	“融才高博洽，为世通儒，教养诸生，常有千数。”
《后汉书·郑玄传》	“造太学受业，师事京兆第五元，先始通《京氏易》《公羊春秋》等，又从东郡张恭祖受《周官》《礼记》《韩诗》《古文尚书》。”

A. 儒学正统地位确立 B. 专制皇权不断加强
 C. 教育体系逐步完善 D. 私家授学发展兴盛

26. 儒医始称于宋代。《宋会要辑稿》言：“伏观朝廷兴建医学，教养士类，使习儒术、通黄素、明诊疗而施于疾病，谓之儒医。”，“道林养性”逐渐不被医家重视，医生以“儒门事亲”自附于儒林，对于鬼神致疾说大肆批评。儒医的出现表明()

A. 古代的医术与巫术开始分离 B. 治国思想由道家转向儒家
 C. 医学不断适应社会发展现实 D. 传统儒家思想的不断分化

27. 下图是晚明时期吴县长洲社会经济地位长期变化分布状况，由此可知该地()



图：晚明时期吴县长洲社会经济群体（单位：户）

- A. 自耕农经济长期占据主导 B. 地主阶级占绝对优势地位
C. 农业经济内部流动性较强 D. 租佃关系受阻碍发展缓慢
28. 《马关条约》签订后, 外国铁路设施大大破坏了传统的运输体系。两条老的南北干线——大运河和从汉口到北京的陆路——在与铁路的竞争中失败, 成千上万的船夫、车夫、客栈店主和商人失业。随着南来的贡米运输在 1900 年变成现金支付, 大运河差不多就成为了明日黄花。这种现象()
- A. 体现清政府沦为列强统治中国工具 B. 推动民族资本主义经济进一步发展
C. 揭示了义和团盲目排外的深层原因 D. 表明民族矛盾开始上升为主要矛盾
29. 随着民族工业的发展, 中国国民生产总值逐年增加, 从 1935 年的 237 亿元, 增加到 1936 年的 258 亿元, 增长 8.86%。其中农业产值增加 6.1%, 工商业产值增加 21.3%。这些数据从侧面可以反映出()
- A. 近代中国民族工业发展迅速 B. 经济结构中自然经济仍占主导
C. 国民经济轻重工业比例失衡 D. “国民经济建设运动”顺利完成
30. 20 世纪 50 年代, 农民诗人匡荣归写出了这样的诗句“天上没有玉皇, 地上没有龙王。我就是玉皇, 我就是龙王。喝令三山五岳开道, 我来了!” 这句诗体现了该时期()
- A. “左”倾错误对文艺的压制 B. 农民文学素养有待提高
C. “双百方针”推动文化繁荣 D. 革命浪漫主义文学特色
31. 改革开放之初, 陈云强调指出要根据“鸟”的需要, 设计“笼”的大小, 并不断调整“笼”的尺寸, 使“鸟”不被“笼”困死, 而且能在“笼”中充分飞翔。“鸟笼经济”的提出意在()
- A. 按计划指导下扩大市场调节 B. 摆脱计划对社会经济的影响
C. 建立社会主义市场经济体制 D. 阐释计划与市场的互动关系
32. 柏拉图认为“美”和德行一样, 也是因适度、调和、有序才会存在。一件艺术品应该像人的形体一般, 头、躯体和四肢都以一个理念使其具有生机, 使其统一。真正的“美”应该是智力的而非形体的美。这集中体现出柏拉图()
- A. 追求人的智力与形体的统一 B. 认为“美”是人的终极追求
C. 主张“思想是万物的尺度” D. 强调理性对于人的重要作用
33. 陈乐民先生在介绍西方民主政治发展的历程时有过这样一段概述: 这条脉络是这样下来的: “大宪章”——洛克的思想——“权利法案”——“宗教宽容”——美国的“独立宣言”——法国的“人权宣言”。这条线代表了也反映了人类前进的方向。这条线实质上是早期资产阶级()
- A. 对专制王权的制约 B. 对宗教思想束缚的抗争
C. 对天赋权利的实践 D. 对人类共同理想的思考
34. 钢琴家们乘着风驰电掣的交通工具可以迅速到达自己的目的地, 在 19 世纪 70 年代的欧洲甚至兴起了一股长途有偿巡演的风潮。这一现象主要反映了()

- A. 工业革命推动钢琴艺术商业化扩大 B. 工业革命方便了艺术家们的出行
C. 钢琴艺术开始成为人们的休闲选择 D. 工业革命增加了人们的经济收入

35. 1957 年苏联的人造卫星上天, 被美国人看成是“技术上的珍珠港事件”。美国以此为契机, 调整科研发展战略, 研究重点由原子能转向空间技术, 1969 年阿波罗登月成功。这反映了()

- A. 美国对苏联科技全面超越 B. 美苏争霸中美国攻势强劲
C. 国家间科技竞争被政治化 D. 科技领域是美苏争霸焦点

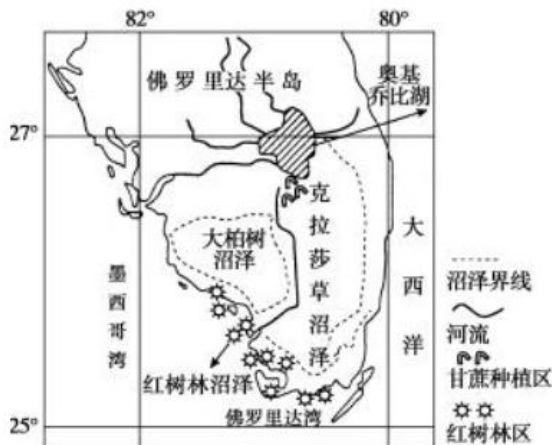
二、非选择题: 共 160 分。第 36—42 题为必考题, 每个试题考生都必须作答。第 43—47 题为选考题, 考生根据要求作答。

(一) 必考题: 共 135 分。

36. 读图文材料, 完成下列问题。(22 分)

材料一: 美国佛罗里达半岛南部地势低洼, 由于生境条件不同, 分布着不同类型的沼泽(如下图)。每年 6—10 月, 奥基乔比湖水溢出, 并通过克拉莎草沼泽缓慢注入海洋。20 世纪初为了种植甘蔗, 当地抽取沼泽水, 并切断湖水与沼泽地的联系。此后, 克拉莎草沼泽生态环境发生明显变化。1996 年, 美国国会通过法案限制克拉莎草沼泽地区甘蔗种植。

材料二: 佛罗里达半岛南部沿海分布大面积的红树林, 红树林是生长在热带、亚热带海潮间带滩涂上特有的木本植物, 属常绿阔叶林。一般分布在南北回归线之间, 最北可达 32°N , 最南可达 33°S 。



(1) 人们在奥基乔比湖开挖了许多入海通道, 简述开挖入海通道对奥基乔比湖的积极影响。(8 分)

(2) 读图分析佛罗里达半岛南部红树林形成的自然条件。(8 分)

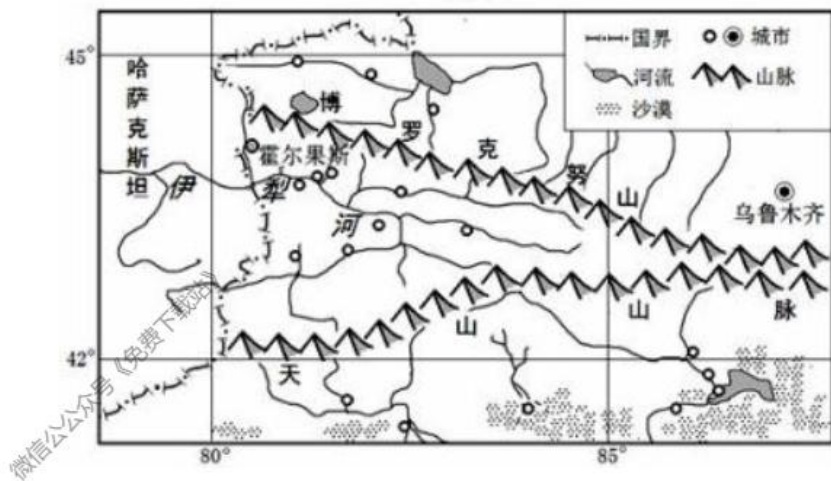
- (3) 分析甘蔗种植后, 克拉莎草沼泽生态环境的变化对红树林适生范围带来的影响及成因。(6分)

37. 阅读图文材料, 回答下列问题。(24分)

材料一 伊犁被誉为“塞外江南”、“西域湿岛”, 土地肥沃, 水源充足, 草原辽阔, 物产丰富。该地区蜜源分布广、数量大, 蜜源品质高, 加之传统的采蜜方式和无添加的制备工艺, 使之品质优良, 所产蜂蜜具有含糖量高, 矿物质、有机酸、蛋白质、维生素和酶等营养成分丰富的特点, 成为我国优质蜂蜜生产基地。近几年, 在地方政府支持下, 蜜农结合“互联网+”电商模式销售蜂蜜, 收入大大提高。每年春季伊犁河流域极易发生洪灾。

材料二 新疆地域辽阔, 荒草地、盐碱地、沼泽、芦苇地等后备耕地资源丰富, 合理开发利用后备耕地资源对新疆乃至全国经济发展都具有重要意义。

材料三 下图为伊犁河谷位置及周边区域图



- (1) 结合地形和气候, 分析伊犁河谷 3-4 月份多发洪灾的原因。(8分)
- (2) 根据材料, 简析伊犁河谷盛产优质蜂蜜的自然地理条件。(6分)
- (3) 简析蜜农通过电商销售大大提高收入的原因。(6分)
- (4) 结合地理环境特征, 分析新疆开发利用后备耕地资源的制约条件。(4分)

38. 阅读材料，完成下列要求。(14分)

青山巍巍，溪水潺潺，鸟鸣啾啾，赣鄱大地宛若一幅幅山水画，目之所及天更蓝、山更绿、水更清。4600万江西人民按照习近平总书记的指引，奋力走出一条具有江西特色的绿色发展新路，让绿色生态成为江西永恒的宝贵资源和最大财富，打造出美丽中国“江西样板”。

同时，江西着力改善民生，2019年全省民生支出达到5197.7亿元，占财政支出比重为81.2%，比上年提高1.3个百分点，其中，统筹1800亿元资金实施民生实事工程，51件惠民实事圆满完成；加快推进新一代信息技术与工业互联网的深度融合，兴建5G产业园，规划建设5G研发中心、5G核心部件制造中心、5G检测中心等，提高企业市场竞争力；将发展外向型经济作为促进经济结构调整、提升产业水平的重要手段，推动对外贸易、利用外资的规模不断扩大，投资结构不断优化，对外经济活力不断增强。

结合材料，运用《经济生活》的知识，分析江西是如何打造美丽中国“江西样板”的。

39. 阅读材料，完成下列要求。(12分)

2020年，面对来势汹汹的新冠肺炎疫情，江西各级党组织和党员干部按照中央和江西省委工作部署，发扬越是困难越向前的精神，奋战在疫情防控一线。南昌市运用城市基层党建领导体系和联动机制，以“党建+网格”为疫情防控的重要载体，推动2000多个城市网格投入疫情防控工作。共青城市1200余名党员干部组建37支党员“先锋队”，设立176个党员责任区。抚州市委组织部通过党员干部现代远程教育视频会议系统，举办全市农村党员干部防控新型冠状病毒感染的肺炎疫情培训会，为农村基层党员提供抗击疫情的专业知识培训讲座。

一张张《请战书》刷屏朋友圈，一个个鲜红的手印，感动了许多人。“我是党员，我先上”。赣南医学院第一医院呼吸内科主治医师左慧敏主动请缨加入了江西首批驰援湖北医疗队。“为了尽可能缩短工期，我们从早上8点开工一直干到凌晨2点。”江西建工集团第二建筑有限责任公司党委副书记、总经理丁国老带领160位工人夜以继日地赶工，建好防疫病房。“我这点伤不算什么，群众安危才重要。”鹰潭市交通运输局派驻贵溪市文坊镇西窑村的第一书记周明不顾医生的叮嘱，手术出院后第八天就回到了村里，进村入户组织卫生消杀，宣传防疫知识，值守出入村路口……放眼江西，党徽闪耀赣鄱大地的每一个角落，党旗正凝聚起战胜疫情的力量。

结合材料，运用《政治生活》的有关知识，说明江西各级党组织和党员干部发挥了怎样

的作用？为什么能发挥这样的作用？

40. 阅读材料，完成下列要求。（26分）

材料一 近年来，真人秀综艺节目狂飙猛进，不仅成为电视台刷新收视率的“摇钱树”，也成为演艺明星追逐快钱、增加曝光的“聚宝盆”。在经历泡沫式发展后，真人秀综艺节目并不是每一档都被观众买账。当观众的口味愈发挑剔而且善变时，真人秀综艺节目在收视率的指挥棒下，就会更加追求眼球效应，用刺激的效果来讨好观众。于是，一些具有一定安全风险却能换来观众惊叫的真人秀，你方唱罢我登场。像浙江卫视的某档真人秀节目，设计了“梅花桩、飞檐走壁、徒手爬高楼、高空速降”等多个高强度项目，正是这种迎合观众导向下的必然反映。

材料二 当影视综艺制作方与演艺明星陷入彼此需要又相互消耗的循环时，双方已经无力打破这个畸形闭环，这时就需要外力干预。演员群体组织能否发挥更大作用，充分保障演员各项权益；能否推动制度出台，强制限定演员的工作时间，并以严格的措施推行落地；能否将明星身上的关注“聚光灯”，扩散到像“横漂”、群演等更多的演职人员群体……当制度化地将一个个问号拉直，相信行业繁荣才能告别野蛮成长、病态发展，艺人们才能更放心地飞翔。

(1) 结合材料一，运用文化生活相关知识，谈谈如何解决材料中文化市场出现的问题。（10分）

(2) 运用矛盾的观点，分析材料二蕴含的哲学道理。（12分）

(3) 请你为“艺人们更放心地飞翔”提两点合理化建议。（4分）

41. 在历史发展过程中，事物的内因固然重要，但我们也不能忽视外部条件的影响。阅读下列材料，回答问题。（25分）

材料一 1847年，沃尔特·惠特曼夸耀：“唱着《扬基歌》并以6500马力的蒸汽机无敌的能量向前飞奔……让那旧世界的大车载着笨重的货物赶路吧。我们是新的、充满活力的大陆人，我们要说的一切，是指50年以后可以说‘赢者欢笑吧’。”到1897年，美国人笑起来

了。他们的胜利是富饶的美国新大陆赋予的。向西扩张、不断增加的移民以及无数的创新，把美国人带进了一个新时代。

——艾伦·布林克利的《美国史》

材料二 在市场学派人士的眼里，企业家在追求私利的过程中促进了社会资源的最优分配和社会的整体利益。利己主义和利他精神通过神奇的市场达到和谐统一……要理解这种观点的局限性，我们必须用市场经济的分析方法来打破市场经济的迷思。以彼之矛，攻彼之盾。在这里我们回到一个市场经济理论的概念：外部性。外部性最早由经济学家庇古提出，又称为溢出效应、外部影响或外部效应、外部经济，指一个人或一群人的行动和决策使另一个人或一群人受损或受益的情况。正外部性是某个活动使他人或社会受益，而受益者无须花费代价，负外部性是某个活动使他人或社会受损，而施害者却没有为此承担成本。而当代中国产生的任何财富都和以下三大正外部性因素息息相关：首先是建国的正外部性；其次是前三十年的正外部性；最后是改革开放的正外部性……

——复旦大学中国研究院沙焯撰《文化纵横》

(1) 根据材料一及所学知识，概括美国工业化发展的外部条件以及国际影响。(14分)

(2) 根据材料二及所学知识，指出中国改革开放前三十年推动今天工业化发展的“正外部性”，综合两则材料信息谈谈自己的认识。(11分)

42. 阅读材料，完成下列要求。(12分)

材料 在英国历史学家尼尔·弗格森编著的《未曾发生的历史》一书的开篇，他提出了一系列假设：“假如英国没有出现查理一世与议会的冲突，将会怎样？假如美国没有爆发独立战争，将会怎样？假如爱尔兰从未被分离出去，将会怎样？假如英国未曾参加第一次世界大战，将会怎样？假如希特勒入侵英国，将会怎样？假如他打败苏联，将会怎样？假如苏联赢得冷战，将会怎样？假如肯尼迪还活着，将会怎样？假如没有戈尔巴乔夫，将会怎样？”作为严肃的历史学家，他也清楚“时光不可能倒流，过去的行为无法改变”。但他强调的是：“这类对非事实的想象却是我们学习的一种重要方式。由于对未来的决断通常建立在对别的可能行为的潜在结果的估量上，因此把我们得到的实际结果与我们或许能得到的结果加以比较，并非没有意义。”他主张，对历史的分析讨论，可以建立在对实际结果的掌握上，也可以建立在具体的人和事当时面临的各种选择和背景上。

根据材料及所学知识，围绕“历史研究与假设”，自拟一个具体论题，并就此简要论述。
(要求：观点明确，持论有据，表述清晰)

(二) 选考题：共 25 分。请考生从 2 道地理选考题、3 道历史题中每科任选一题作答。如果多做，则每科按所做的第一题计分。

43. 【地理——选修 3：旅游地理】阅读材料，回答问题。(10 分)

澳大利亚丛林大火是其炎热干燥季节频繁发生的野外火灾。澳官方宣布，自 2019 年 7 月澳进入林火季以来，持续了 4 个多月的山火从经济最发达、人口最稠密的东南部沿海地区，到塔斯马尼亚、西澳州和北领地区，几乎每个州都有林火在燃烧。过火面积超过 600 万公顷，已造成 20 多人死亡，2000 多所房屋被毁，当地数以千计的民众被迫离开家园。与此同时山火烧毁考拉 80% 的自然栖息地，超 2 万只考拉死亡，5 亿多只鸟类和其他动物丧生；同时澳洲多地温度连续多天 40℃ 以上，甚至接近 50℃；持续数月的山火危机中，浓烟已经飘到距其 2000 公里外的新西兰。旅游业是澳大利亚经济中重要部分，澳洲旅游出口委员会表示，此次山火令国际游客却步，估计导致澳大利亚 2020 年旅游业收益损失 45 亿澳元（约 212 亿元人民币）。

澳大利亚此次山火将给其旅游业带来巨大损失，试简析其原因。

44. 【地理——选修 6：环境保护】阅读材料，回答问题。(10 分)

为救治新型肺炎患者、解决现有医疗资源不足，2020 年 1 月 23 日，武汉决定参照北京小汤山医院模式建设武汉蔡甸火神山医院，2 月 3 日，备受瞩目的武汉火神山医院正式启用。火神山医院按照《传染病医院建设标准》设计施工，除常规的物理技术外，还采用了生化处理技术可有效消除各种细菌病毒。在医院建设之初的施工过程中，地下 2.5 万平方米铺设 HDPE 防渗膜，并建有地下污水处理设施(包括预处理消毒池、化粪池、雨水池和污水池)。同时配备了医疗垃圾焚烧炉和两组污水处理系统(一组运行，一组备用，实现双保险)，并已投入使用。

武汉火神山医院在建设和使用过程中采取了哪些措施来高效、无害化的处置医疗废水和医疗废弃物？

45. 【历史上的重大改革回眸】阅读材料，回答下列问题。(15分)

材料 城市化固然是宋代经济繁荣与社会发展的象征，然其负面影响也不容被忽视……城市经济活跃，市区面积扩大，城市人口增长，城市化的进程明显加快，在宋代城市经济繁荣的同时，也产生了一些不容忽视的问题：城市土地、水源等资源相对短缺，各种垃圾、污秽也随之增加，城市的水源、土壤乃至空气都在不同程度上遭受污染。城乡差别的加大引发人口由乡村向城市迁徙，难以果腹的灾民可能遗尸街头，城市内部贫富分化也很严重，孤贫之家无力殡葬，更使得城市沦为疾疫暴发的中心。

疾疫的严重威胁使得宋代城市管理者们面临着重大考验，促使他们审慎探究致疫成因，妥善拟定处置方案，以积极主动的姿态去应对城市防疫问题，防疫观念为之一变，城市防疫制度随之发展。宋代统治者通过采取整治城市周边环境、积极推广医疗防疫、主动隔离疾病病患，以及埋瘞尸骸等措施，初步形成了独具特色的城市防疫制度。这些制度在特定历史场合无疑发挥着积极作用，对后世也产生了一定影响，成为宋代以至明清城市防疫制度的核心部分。

——摘编自余小满《宋代城市的防疫制度》

(1) 结合材料和所学知识，概括宋代早期城市疾疫暴发难以控制的原因。(8分)

(2) 结合材料和所学知识，简析宋代后期城市防疫措施的影响。(7分)

46. 【20 世纪的战争与和平】阅读材料，回答下列问题。(15分)

材料 1959年5月，古巴国内推行了《土地改革法》，废除庄园制，禁止外国人控制土地，并把土地分给农民。8月，美国宣布减少古巴食糖对美出口份额。此时恰逢古巴食糖丰收，大量食糖无法出口，导致糖价大跌，古巴经济损失惨重。美古关系日趋紧张。就在此时，苏联适时出现。1960年，苏联宣布将大量采购古巴食糖，同时以低于美国三分之一的价格，为古巴提供各类石油制品。此后，古巴与苏联越走越近，美国则忧心忡忡，筹划推翻卡斯特罗。当年洛佩斯带领雇佣兵三次远征古巴的历史，给美国提供了历史经验。

1961年的年初，肯尼迪当选美国总统。在交接工作时，艾森豪威尔建议他要加紧训练反卡斯特的秘密部队。肯尼迪走马上任之后，急火火地想将苏联的气焰打击下去，对在古巴展开秘密军事行动也充满了兴趣。3月15日，中情局再次提交了对古巴的行动计划，并

选择猪湾作为登陆地。经过再三商酌，4月14日，肯尼迪批准了行动计划。猪湾事件的最大影响，是使古巴彻底与美国决裂，形成了此后几十年对峙的局面。猪湾事件之后，美国对古巴政策目标，仍是将卡斯特罗驱除，但手段从军事行动变为禁运、孤立和限制来往。苏联则向古巴提供了大量军事、经济援助，两国关系日益密切，之后苏联在古巴建设导弹基地，更引发了新的危机。

——摘编自袁灿兴《从洛佩斯到猪湾事件——美国对古巴政策的演变》

(1) 结合材料和所学知识，概括猪湾战争爆发的背景。(8分)

(2) 结合材料和所学知识，简述猪湾事件的影响。(7分)

47. 【中外历史人物评说】阅读材料，回答下列问题。(15分)

材料 汉武帝的统治，前后历54年之久，他在反击匈奴的长期过程中，开边兴利，继往开来，对中华民族的历史有很大的贡献。但是他竭天下民力资财以奉其政，数十载无宁日，加之以重刑罚，穷奢丽，弄鬼神，终使民怨沸腾，社会后果极其严重。文武之道，一张一弛。汉武帝要保存所取得的积极成果，必须及时的在政策上实现转折，使社会安定下来，使人民得以休养生息。

政策的转折出现于征和四年(前89)，也就是汉武帝死前二年。这一年，汉武帝所颁布的轮台“哀痛之诏”，是中国古代帝王罪己以收民心的一次比较成功的尝试，它澄清了纷乱局面，稳定了统治秩序，导致了所谓“昭宣中兴”，使西汉统治得以再延续近百年之久。

——摘编自田余庆《论轮台诏》

(1) 结合材料和所学知识，概括汉武帝颁布《轮台诏》的原因。(8分)

(2) 结合材料和所学知识，对汉武帝颁布的《轮台诏》进行简要评价。(7分)

自主招生在线创始于 2014 年，致力于提供自主招生、综合评价、三位一体、学科竞赛、新高考生涯规划等政策资讯的服务平台。总部坐落于北京，旗下拥有网站（www.zizzs.com）和微信公众平台等媒体矩阵，用户群体涵盖全国 90% 以上的重点中学师生及家长，在全国自主招生、综合评价领域首屈一指。

如需第一时间获取相关资讯及备考指南，请关注自主招生在线官方微信信号：**zizzsw**。



识别二维码，快速关注