

绝密★启用前

试卷类型：A

深圳市 2019 年高三年级第二次调研考试

文科综合能力测试

2019.4

注意事项：

1. 答卷前，考生务必将自己的姓名、准考证号填写在答题卡上。
2. 回答选择题时，选出每小题答案后，用铅笔把答题卡上对应题目的答案标号涂黑；如需改动，用橡皮擦干净后，再选涂其它答案标号。回答非选择题时，将答案写在答题卡上。写在本试卷上无效。
3. 考试结束后，将本试卷和答题卡一并交回。

一、选择题：本题共 35 个小题，每小题 4 分，共 140 分。在每小题给出的四个选项中，只有一项是符合题目要求的。

在挪威斯瓦尔巴群岛海岸边的山坡上，零星地分布着一些与当地基岩岩性完全不同的大砾石（图 1）。据此完成 1~2 题。

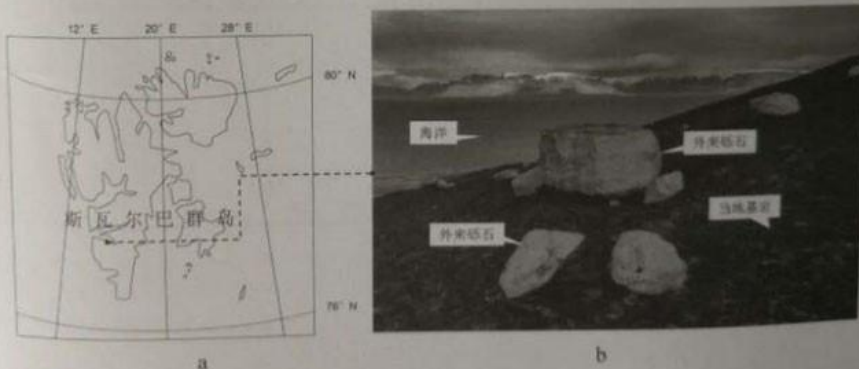


图 1

1. 导致这些砾石出现在该处的外力是
A. 海浪 B. 风力 C. 流水 D. 冰川
2. 当地现今的气候与该处出现这些砾石的地质时期相比，最确定的变化是
A. 变冷 B. 变暖 C. 变干 D. 变湿

图2示意2016年我国不同品类特色农产品在国际市场的比较优势指数（取值越大竞争优势越强）。据此完成3~5题。




图2

- 与我国大量进口的粮、棉、油、糖等农产品生产相比，中国具有出口竞争优势的农产品主要是
 - 土地密集型产品
 - 资金密集型产品
 - 劳动密集型产品
 - 技术密集型产品
- 中国出口量最多的鲜冷藏水果是苹果和柑橘，其主要出口市场是
 - 美国和欧盟
 - 日本和韩国
 - 东南亚和俄罗斯
 - 非洲和南美洲
- 提升我国特色农产品出口竞争力的关键是
 - 扩大种植规模
 - 推广高产高效栽培模式
 - 精准施肥施药
 - 优化品质和强化品牌建设

蒸发是指水由液态转化为气态的相变过程。蒸发能力是指在一定气象条件下，充分供水时某一固定下垫面的最大可能蒸发量。气象台站利用持续盛有液态水的蒸发皿观测到的蒸发量是蒸发能力，并不是下垫面的实际蒸发量。图3示意我国西北干旱区年实际蒸发总量的空间分布。据此完成6~8题。

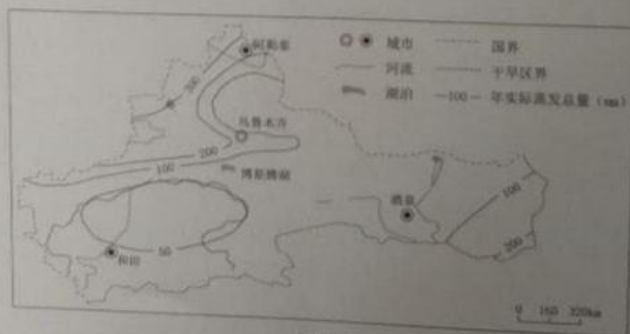


图3

深圳市2019年高三年级第二次调研考试文科综合试题 第2页共16页

6. 根据区域的自然环境推测, 四个地形区中蒸发能力均值最高的是
- A. 塔里木盆地 B. 天山山地
C. 阿尔泰山地 D. 准噶尔盆地
7. 我国西北干旱区年实际蒸发总量的分布格局主要取决于
- A. 太阳辐射强弱 B. 气温高低
C. 降水多少 D. 风速大小
8. 我国下列四个湖泊, 冬季湖面单位面积实际蒸发量最小的是
- A. 台湾日月潭 B. 江西鄱阳湖
C. 云南滇池 D. 新疆博斯腾湖

2019年2月18日, 中共中央、国务院发布了《粤港澳大湾区发展规划纲要》。

图4是粤港澳大湾区区位图。据此完成9~11题。

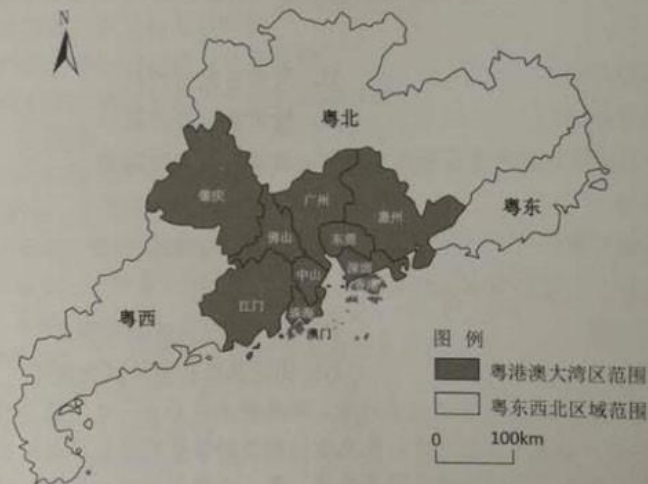


图4

9. 目前, 广东省在全球最具竞争优势的产业是通信设备、电气机械及器材制造。这些优势产业在大湾区高度集群化且难以转移的最主要原因是
- A. 劳动力数量大 B. 产业链长、供应商多
C. 对市场依赖性大 D. 对机场和港口依赖性大
10. 粤港澳大湾区产业升级的主导方向是
- A. “科技+制造+金融”产业融合
B. 大力发展海洋新兴产业
C. 大力发展文化创意和文化旅游产业
D. 大力发展金融服务和现代物流业

11. 加强粤港澳大湾区内的区际联系, 实现“人流、物流、资金流、信息流”互联互通, 在交通运输建设方面最有效的措施是

- A. 完善高速公路运输网
- B. 实现高速轨道线网的一体化和公交化
- C. 扩大香港、深圳、广州国际机场的吞吐量
- D. 扩大香港、深圳、广州集装箱港的吞吐量

12. 近几年来, 我国坚持积极的财政政策取向不变, 聚力增效, 推进供给侧结构性改革。在此背景下, 若其他条件不变, 能引起市场供给曲线从 S 移动到 S_1 (图 5) 的是

- ① 深化增值税改革, 2019 年将制造业现行 16% 的税率降至 13%
- ② 降低贷款利率水平, 缓解我国实体经济发展中的融资难问题
- ③ 提高个人所得税起征点, 增加相关专项费用扣除, 合理减负
- ④ 政府合理扩大有效投资, 继续加强新一代信息基础设施建设

- A. ①②
- B. ①④
- C. ②③
- D. ③④

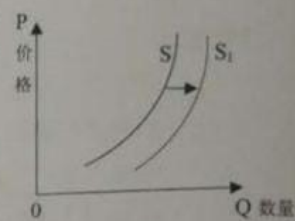


图 5

13. 根据 2014-2018 年广东省民营经济发展情况 (图 6), 我们可以作出如下合理判断

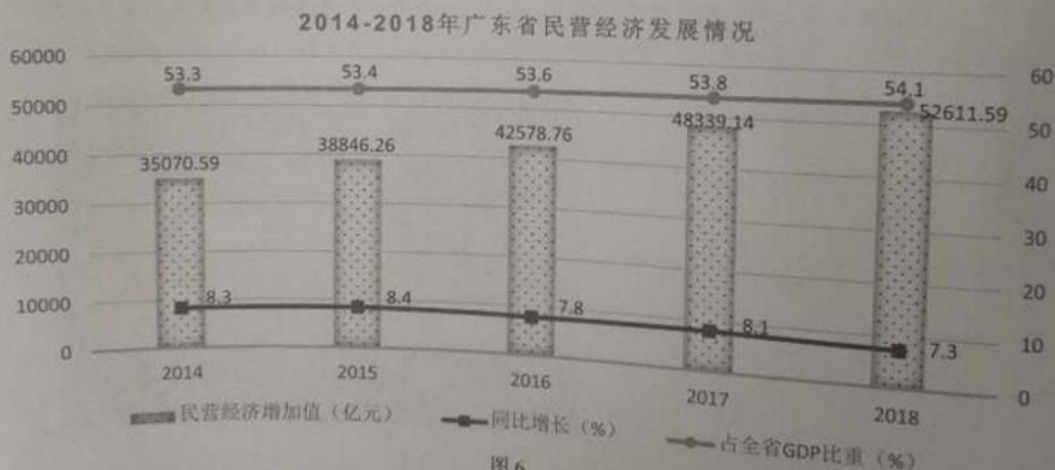


图 6

- ① 民营经济控制着广东经济运行的整体态势
- ② 民营经济是推动广东经济发展的重要力量
- ③ 民营经济占广东国民生产总值的比重不断增加
- ④ 民营经济是推动广东经济高质量发展的重要主体

- A. ①③
- B. ②③
- C. ①④
- D. ②④

深圳市 2019 年高三年级第二次调研考试文科综合试题

第 4 页 共 16 页

14. 《中华人民共和国外商投资法》规定，国家实行高水平投资自由化便利化政策，建立和完善外商投资促进机制，营造稳定、透明、可预期和公平竞争的市场环境，鼓励外国投资者依法在中国境内投资。这一规定旨在
- ①推动我国形成全面开放的新格局
 - ②促进社会主义市场经济健康发展
 - ③扩大对外贸易，优化商品贸易结构
 - ④保护外商的权益，助力经济全球化
- A.①② B.①③ C.②④ D.③④
15. 经济是肌体，金融是血脉，金融安全关系经济全局。为此，要防范化解金融风险特别是防止发生系统性金融风险。下列措施中切实可行的有
- ①建设规范、透明、开放、有活力、有韧性的资本市场
 - ②健全社会征信体系，提高资本流通中的社会信用成本
 - ③全面放开市场准入，发挥市场在资源配置中的决定性作用
 - ④促进国民经济的健康发展，为防范化解金融风险奠定基础
- A.①② B.①④ C.②③ D.③④
16. 扶贫攻坚，贵在“准”，成在“实”，要坚持因地因人制宜，采取针对性更强、作用更直接、效果更可持续的举措，将“准”“实”进行到底。扶贫攻坚做到更“准”更“实”，政府要
- ①切实履行职能，促进经济社会发展
 - ②重视民主评议，完善贫困识别机制
 - ③坚持求真务实，加大脱贫数据统计力度
 - ④优化政策供给，提高扶贫措施的有效性
- A.①② B.②③ C.①④ D.②④
17. 随着经济社会发展，城乡社区治理、基层公共事业建设的任务越来越重，村委会、居委会换届频繁，较难制定和实施长远规划，也不便与基层政府工作对接。为此，十三届全国人大常委会第七次会议决定将村委会、居委会的任期由3年改为5年。这一决定有利于
- A.更好地保障城乡基层自治的基础
 - B.保证人民群众依法直接行使权利
 - C.进一步扩大我国的城乡基层民主
 - D.促进村和社区公共事业有序发展

18. 习近平在上海合作组织成员国元首理事会第十八次会议上发表讲话时提出：“世界经济复苏艰难曲折，国际和地区热点问题频发，各国面临许多共同威胁和挑战，没有哪个国家能够独自应对或独善其身。各国只有加强团结协作，深化和平合作、平等相待、开放包容、共赢共享的伙伴关系，才能实现持久稳定和发展。”这一主张重在倡导
- ①世界各国要精准把握国际局势，维护本国根本利益
 - ②世界各国人民应该同心协力，构建人类命运共同体
 - ③独善其身的外交理念不可能应对共同的威胁与挑战
 - ④推动建设合作共赢的新型国际关系，走向共同繁荣

A.①② B.①③ C.②④ D.③④

19. 推动媒体融合发展、建设全媒体是我们面临的一项紧迫课题。党报、党刊、党台、党网等主流媒体要加强传播手段建设和创新，发展各种互动式、服务式、体验式新闻信息服务，做大做强主流舆论，巩固全党全国人民团结奋斗的共同思想基础。这需要
- ①中国共产党始终牢牢掌握意识形态工作领导权
 - ②创新传播手段，提升各媒体的传播力、公信力
 - ③中国特色社会主义文化坚持以正确的舆论引导人
 - ④发挥大众传媒选择、传递、创造文化的特定功能

A.①③ B.②④ C.②③ D.①④

建国 70 周年以来，我国涌现出一大批奋斗者。他们中有忠诚奉献、科技报国的“两弹一星”元勋，有逐梦太空的英雄航天员，有致力于公益事业的企业家，有扎根基层的社区干部，有辛勤劳作的普通工人和农民……根据材料回答 20-21 题。

20. 党的十八大以来，我国进入了日新月异的新时代，依靠“撸起袖子加油干”的奋斗精神，中国人民取得了全方位的、开创性的成就，创造了举世瞩目的丰功伟绩。弘扬“奋斗精神”的时代价值在于
- ①为中华民族伟大复兴提供行动指南
 - ②培养担当民族复兴大任的时代新人
 - ③为我国经济建设提供强大智力支持
 - ④激励人们不断创造美好幸福的生活

A.①② B.①③ C.②④ D.③④

21. 新时代是奋斗者的时代，只有奋斗的人生才称得上幸福的人生。树立“奋斗幸福观”是因为
- ①奋斗是衡量人生价值大小的根本标准
 - ②奋斗幸福观是价值观的重要组成部分
 - ③努力奋斗是拥有幸福人生的重要途径
 - ④奋斗是将理想变为现实的必由之路

A.①② B.①③ C.②④ D.③④

深圳市 2019 年高三年级第二次调研考试文科综合试题 第 6 页 共 16 页

22. 漫画《如此“满腹经纶”》(图7,作者:张砚钧)告诫我们应该



- ①学以致用,防止教条僵化
- ②尊重规律,切忌主观随意
- ③掌握知识,重视理论指导
- ④敢于创新,突破成规陈说

A.①② B.①④ C.②③ D.③④

23. 2019年3月18日,习近平在学校思想政治理论课教师座谈会上

指出:“青少年阶段是人生的‘拔节孕穗期’,最需要精心引导和栽培。我们办中国特色社会主义的教育,就是要理直气壮开好思政课,用新时代中国特色社会主义思想铸魂育人。”“思想政治课教学改革创新要坚持统一性和多样性相统一”。上述论断蕴含的哲学道理是

- ①矛盾的特殊性通过普遍性表现出来
- ②矛盾的普遍性和特殊性是相互联结的
- ③矛盾的斗争性推动事物的运动变化和发展
- ④把握矛盾的特殊性才能找到解决矛盾的正确方法

A.①② B.①③ C.②④ D.③④

24. 韩非认为,选贤任能仅凭外貌或是言辞,就是孔子也做不到;只有在实践过程中才可判断其人是否堪用。下列选项中可以体现这种理念的是

- A. 宰相必起于州部,猛将必发于卒伍
- B. 公门有公,卿门有卿
- C. 男儿欲遂平生志,六经勤向窗前读
- D. 九品访人,唯问中正

25. 五代十国时期,吴越境内钱塘江一带遭到海潮侵袭,万亩农田被淹。吴越国王钱镠(liú)组织人力修筑海塘堤坝,使钱塘江附近逐渐变成富庶的农业区。这反映了

- A. 藩镇林立的局面难以抵御灾害
- B. 人口大批南迁引发环境问题
- C. 政治相对稳定有利于经济发展
- D. 北方经济发展依仗南方财富

26. 小说《红楼梦》中,王熙凤说:“那时我爷爷专管各国进贡朝贺的事,凡有外国人来,都是我们家养活。粤、闽、滇、浙所有的洋船货物都是我们家的。”对此描写判断合理的是

- A. 《红楼梦》是一部浪漫主义文学
- B. 政府严格控制当时的朝贡贸易
- C. 虚构的小说情节不具有史料价值
- D. 海禁政策难以在地方有效实施

27. 汉字“丁”的变化如图8所示:




图8
深圳市2019年高三年级第二次调研考试文科综合试题 第7页共16页

对这一演变过程解读合理的是

- A. 总体的趋势是由繁到简
- B. 反映了经济与社会的发展
- C. 已形成完整的文字体系
- D. 衍生出个性化的书法艺术

28. 1885 年台湾建省，刘铭传上奏称台湾“惟沿海仅数县之地”，“气局未成”，闽台“本为一省”，“仍须唇齿相依”。清政府依奏设“福建台湾巡抚”，并要求福建为台湾提供五年“协饷”。此举

- A. 化解了列强侵略带来的边疆危机
- B. 反映了自强求富的指导思想
- C. 体现了加强东南海防的战略目的
- D. 扫除了台湾经济发展的障碍

29. 据《民国鄞县通志》记载：近代以来宁波妇女发髻，初受苏沪之风影响，流行“上海头”，清末又流行日本发式，辛亥革命后则加髻于前额，称为“兴汉头”。这说明

- A. 女性社会地位得到显著提高
- B. 民主共和的观念渐入人心
- C. 流行文化代表社会主流方向
- D. 民间风尚折射出社会变化

30. 1949 年 4 月，刘少奇在《天津工作问题》调查提纲中写到：“为在党的总路线之下实现发展生产的目的，必须正确确立与改善以下各方面的关系：公私关系、劳资关系、城乡关系、内外关系。”这一思想

- A. 有利于推动党的工作重心转移
- B. 准确指出了当时国内的主要矛盾
- C. 是过渡时期总路线的指导方针
- D. 为社会主义改造提供了理论基础

31. 1963 年底至 1964 年初，周恩来应邀访问阿拉伯联合共和国（今埃及）、索马里等非洲十国，就国际局势、不结盟运动、非洲民族独立运动、经济援助与合作等事宜进行了近两个月的交流。这一系列的外交活动

- A. 促进了“求同存异”思想的形成
- B. 有利于改善新中国的外交环境
- C. 标志第三世界国家登上国际舞台
- D. 推动社会主义阵营力量的壮大

32. 共和国时期，罗马人将一些抽象理念人格化，比如和谐女神、胜利女神、健康之神。祭祀这类神祇的宗教节日大多在执政官换届选举之时。这反映了

- A. 君权神授的思想观念盛行
- B. 公民宗教信仰呈现多元化
- C. 执政者重视政治理念宣传
- D. 罗马人尚武色彩非常浓厚

33. 《共产党宣言》中写道：“资产阶级用来推翻了封建制度的那个武器，现在却对准资产阶级自己了”，“资产阶级不仅锻造了置自身于死地的武器，同时它还造就了将运用这武器来反对它自己的人——现代的工人，即无产者。”以上论述

- A. 肯定了资本主义的积极作用
- B. 指出工业革命促进了自由主义发展
- C. 宣告了工人阶级的历史使命
- D. 揭示生产力发展必将引发社会变革

34. 二战后有西方学者认为，发达的工业社会让人们满足于眼前的物质享受，工人和老板可以享受同样的电视节目，漫游同样的风景胜地，技术的进步控制了人们的身心，人们不再具有否定、批判和超越的向度，成为单向度的人。此观点重在强调

- A. 物质享受降低人的工作积极性
- B. 福利政策有利于缓和劳资矛盾
- C. 国家应减少对社会经济的干预
- D. 技术发展可能会导致人的异化

深圳市 2019 年高三年级第二次调研考试文科综合试题 第 8 页 共 16 页

35. 二战后，美国推动建立布雷顿森林体系，主导了世界经济体系。2012年包括中国在内的金砖国家计划成立开发银行，并称其为“美国主导的世界银行与国际货币基金组织的替代机制方案”。这反映了
- A. 世界经济发展呈现出多极化趋势 B. 经济全球化冲击美国经济霸权
C. 区域经济集团合作领域不断拓宽 D. 新兴国家主导了国际金融体系

二、非选择题：共 160 分。第 36~42 题为必考题，每个试题考生都必须作答。第 43~47 题为选考题，考生根据要求作答。

(一) 必考题：共 135 分

36. 阅读图文资料，完成下列要求。(22 分)

某科考队于 11 月考察南美洲巴塔哥尼亚地区，发现该地距海洋近但很少受到海洋水汽的“滋润”，草原、沙漠广布，但多外流河；沙漠中分布有保存完好的大片石化森林。科考队员遇到当地游牧民特维尔切人赶着牲畜游牧，并得知他们每年在大西洋沿岸与安第斯山草场之间定期迁徙放牧。图 9 是巴塔哥尼亚地区略图及石化森林形成的一般过程。



图 9

- (1) 分析巴塔哥尼亚高原很少受到东西两侧大洋水汽“滋润”的原因(4分)。
- (2) 分析干旱的巴塔哥尼亚地区多外流河且流程中流量损耗相对较少的自然原因(6分)。
- (3) 说明巴塔哥尼亚地区出现大规模“石化森林”的原因(6分)。
- (4) 指出考察期间(11月)特维尔切人游牧迁徙的方向，分析迁徙目的地该季节适宜放牧的有利条件(6分)。

深圳市 2019 年高三年级第二次调研考试文科综合试题 第 9 页 共 16 页

37. 阅读图文资料，完成下列要求。(24分)

改革开放后，广东顺德依托外来资本、丰富的低技能劳动力和充足的土地资源等优势，成为以家电、家具、机械等专业镇为单位的经济快速增长地区，各镇产业区之间多为制造业的上下游供应关系。近年来，伴随着以互联网、云计算、大数据、人工智能和物联网等新一代信息技术为核心的第四次工业革命的出现，顺德制造业企业积极实施“机器人”战略，较成功地实现了从要素驱动模式逐步向技术创新驱动模式转变，在产业升级、空间布局、就业结构等方面焕然一新。图10示意“机器人”战略带动下的产业平台空间扩散与集聚过程。



图 10

- (1) 从制造业区位条件变化的角度，说明顺德制造业积极实施“机器人”战略的理由。(8分)
- (2) 简述机器人产业与传统产业的相互促进作用。(4分)
- (3) 概述“机器人”战略实施以来顺德地区产业空间分布的变化特点。(6分)
- (4) 分析“机器人”战略实施后顺德地区对劳动力需求的变化。(6分)

38. 阅读材料，完成下列要求。（14分）

材料一 世界四大大湾区 2017 年 GDP 总量及实际增速情况



图 11

注：粤港澳大湾区人均 GDP、地均 GDP、第三产业比重和营商环境等得分远低于其他三大湾区，位居末位；创新基础指标和创新能力指标也表现乏力，排在最后一位。

材料二 粤港澳大湾区是我国开放程度最高，经济活力最强的区域之一，在国家发展大局中具有重要战略地位。但是，部分地区和领域存在同质化竞争和资源错配现象，产能过剩、供给与需求结构不平衡，市场互联互通不畅，产业链协同效率不高，合作伙伴建立信任的过程较慢。针对这些问题，粤港澳大湾区运用“区块链+”等技术打造信息公开、融合共享、高效可信的“价值互联网”，突破经济瓶颈，助力大湾区发展。

(1) 简要概括材料一包含的经济信息。（4分）

(2) 结合材料并运用经济生活知识，分析“区块链+”等技术的应用对促进粤港澳大湾区经济发展的意义。（10分）

39. 阅读材料，完成下列要求。（12分）

近年来，S村发挥基层党组织的战斗堡垒作用，撬动了乡村多元振兴的发力点。

该村通过党支部“三会一课”、主题党日等活动，打造过硬支部，党员干部成为带领群众干事创业奔小康的主心骨。他们走遍每家每户，宣传党的政策，了解群众需求，解决群众困难，积极为村民发展支高招、提方案，为村民增收提供“牵引力”。基层党组织的建设为实现乡村振兴打下了良好基础，村民的获得感和幸福感显著提高。

结合材料并运用政治生活的有关知识，说明S村基层党组织为什么要在乡村振兴中发挥战斗堡垒作用。（12分）

40. 阅读材料，完成下列要求。(26分)

材料一 随着信息技术的发展，故宫正以新姿态走进老百姓的生活。依托互联网等技术，加强博物馆网上展览、网络课堂建设，推出《上新了·故宫》等优秀节目，扩大博物馆文化供给的辐射范围，构建社区化、参与式博物馆，邀请用户参与文化创建，让更多公众了解、走进博物馆。开发文化创意产品，“萌萌哒”故宫御猫、戴墨镜的乾隆、《故宫回声》主题漫画、手机上动手建宫殿等产品被网友盛赞。近600岁的故宫不仅“活起来”，而且“火起来”，成为“超级网红”。

材料二 某班学生利用暑假积极开展了“走进故宫，感受传统文化”的主题实践活动。同学们走进博物馆，了解故宫的建筑布局、装饰内涵、历史故事、艺术价值等，领悟“故宫博物院”的深刻内涵。活动结束后，同学们立志“弘文化，传精神，立自信”“担当责任，光大中华优秀传统文化”。此次实践活动实现了学校教育 with 博物馆教育的完美结合。

- (1) 故宫成为“网红”表明，传统文化的传承只有“活起来”，才能真正实现“火起来”。结合材料一并运用文化生活的知识加以分析说明。(10分)
- (2) 运用认识论的有关知识，说明“走进故宫，感受文化”主题实践活动对学生成长的作用。(10分)
- (3) 有专家建议，让故宫从“超级网红”走向“有故事的智者”，文创产品应做到与历史、与传统文化的真正融合。请你从哲学方法论的角度，对此提出三点建议。(6分)

41. 阅读材料，完成下列要求。(25分)

材料一 魏晋南北朝时期的家训以“家书”或“遗令”的形式为主，世家大族重视对子弟的教育，内容从修身到治学，从处世到事君。唐政府推广魏晋南北朝以来重视家训的经验，强化基层教化。唐《柳氏家规》是家训史上最早的一部比较系统、完整的家法。宋《袁氏世范》最初是袁氏家塾训蒙之作，因其“厚人伦，美习俗”，经版印后广泛流传。这一时期还诞生了大量家训诗，内容涉及报国恤民、为官廉正、重节崇德、耕读传家等。明清时期，上至帝王显宦，下至普通百姓，多有家训问世。明代家训纷纷引用朱元璋亲制的《圣谕六言》，特别注意要求子弟修身养德，“做个好人”，“学而优则仕”。同时还有宣扬勤谨、诚实等商德准则的，比如清代官商胡雪岩的“五字商训”。此外当时社会上还出现了记录手工艺和科技的家训。

——摘编自徐少锦、陈廷斌《中国家训史》等

材料二 被誉为“延安五老”之一的谢觉哉，以其严格的家风著称。在他写给家人的115份家书中，谢觉哉常教育子女：“我是共产党人，你们是共产党人的子女，不许有特权思想。”“也希望你们这样，为人民服务，做人民的公仆，不辜负国家和人民对你们的培养。”建国初，儿女们得知父亲做了“大官”，希望得到一些“照顾”，到城里工作。谢觉哉写信告诫子女们，在农村老家搞好生产生活，安分守己，做一个自食其力的劳动者。谢老的家书，反映出老一代无产阶级革命家优秀的“红色家风”。

——摘编自郝建良《做官就要做“焦官”——从〈谢觉哉家书〉看家风》

(1) 根据材料一概括中国古代家训的特点，并结合所学知识指出明清时期家训所折射出的时代背景。(14分)

(2) 根据材料二并结合所学知识，概括“红色家风”的主要内容。(6分)

(3) 综合上述材料并结合所学知识，谈谈建设家训家风的现实意义。(5分)

42. 阅读材料，完成下列要求。(12分)

材料 从康熙到宣统年间，雷氏家族连续八代主持或参与设计皇家建筑。雷家工匠先做烫样（建筑模型），御览钦准后再绘制施工图。立体可拆卸的烫样展示了建筑内部梁架结构；平面的图档绘制出建筑环境，大小比例等；有些还细化到室内装修、家具和陈设。这些精准描绘的烫样和图档有助于还原中国传统建筑在世界建筑史上的真实地位。2007年，中国清代“样式雷”建筑图档入选联合国教科文组织世界记忆遗产名录。

类型	图像	备注
烫样模型		圆明园“天地一家春”立体模型，原建筑已毁于战火。
总样总设计图		《清西陵全图》，图中所有陵寝配合山川形势，因地制宜，“虽为人作，宛如天开”。
立样立体设计图样		圆明园“方壶胜境”铜龙陈设立样，描绘了铜龙及石座尺寸及细节。
平格样二维平面上的三维信息图样		按比例绘制格网、在交点处标注高程数据，与西方“数字高程模型”的技术核心原理一致。

——据《国家宝藏》(第二季)解说词整理

世界记忆遗产名录中的“记忆”，都是人类历史发展长河中不可或缺、不可复制的宝贵财富。请围绕“中国记忆”的主题，从上述材料中提取相关的信息，自拟一个具体论题，并加以论证。(要求：观点明确，史论结合)。

深圳市 2019 年高三年级第二次调研考试文科综合试题 第 13 页 共 16 页

(二) 选考题: 共 25 分。请考生从 2 道地理题、3 道历史题中每科任选一题作答。如果多做, 则每科按所做的第一题计分。

43. 【地理——选修 3: 旅游地理】(10 分)

海南岛旅游资源丰富, 全岛气候宜人, 具有迷人的热带景观和独具特色的海岛风情, 有“东方夏威夷”之称。在海南国际旅游岛建设及全域旅游的背景下, 全岛协调发展是亟待解决的问题。图 12 表示为海南岛主要旅游资源分布及旅游重心演变轨迹。



图 12

指出海南岛游客重心、国际游客重心、游客消费重心的空间位置及位置变化的共同特征, 并分别分析其原因。

44. 【地理——选修 6: 环境保护】(10 分)

加冷河-碧山宏茂桥公园(图 13a)是新加坡国内唯一的大型公园, 于 20 世纪 60 年代末为了缓解洪涝灾害而建。40 年后, 一条简单笔直的混凝土河道已经不能满足新加坡城市基础设施的功能和景观需求。新加坡政府于 2009 年 10 月启动了加冷河生态修复工程, 将原有的缺失生态服务功能的混凝土排水渠改造为功能复合、景观优美、富有活力的城市滨水公共空间。其主要措施是: ①将笔直的混凝土排水道改造为蜿蜒曲折、宽窄不一的天然河流(图 13b); ②利用土壤生物工程(植被、天然材料和土木工程技术的组合)来巩固河岸和防止土壤侵蚀(图 13c); ③仿造河漫滩阶地, 使河道通过洪水的最大宽度从原来的 17-24m 拓宽到近 100m。



图 13

简述加冷河—碧山宏茂桥公园生态修复措施对改善生态环境的作用。

45. 【历史——选考一：历史上重大改革回眸】（15分）

材料 从中世纪后期开始，巴黎的面貌不断变化。19世纪，法国工业化和城镇建设高速发展，进城定居的人越来越多。1832-1849年间的巴黎空气混浊，房屋老旧，道路狭窄，用水短缺，霍乱等疾病肆虐。1852年，市政府开始着手改造城市。到1870年，市内道路总长度从239英里增至525英里，路宽从39英尺增至79英尺，大量人行道和林荫大道建成，路旁还设有公厕、长椅、凉亭、垃圾箱等。城市下水管道总长由142公里扩展到600公里。多达19730座房屋被拆除，34000座新房落成，城市人口容量大增。此外，政府还兴办公立学校、医院、剧院等，除了保障低收入租户利益，还面向工人推广福利房。市内广植树木，形成了许多绿地公园，连同新的建筑风格一起形成了巴黎特有的城市美学。从此，巴黎走出中世纪，成了现代意义上的城市。19世纪末，罗马、马德里等城市纷纷效仿，上海法租界的规划也参考了巴黎的经验。

——摘编自朱明《奥斯曼时期的巴黎城市改造和城市化》等

(1) 根据材料并结合所学知识,分析 1852-1870 年巴黎城市改造的历史背景,并概括其措施。(11 分)

(2) 根据材料并结合所学知识,简析巴黎城市改造对当今中国城市化的启示。(4 分)

46. 【历史——选考二: 20 世纪的战争与和平】(15 分)

材料 第二次世界大战是对殖民主义的致命打击。战争期间,反法西斯同盟通过一系列声明、宣言等,支持殖民地半殖民地的独立要求。1945 年 6 月通过的《联合国宪章》强调“促成国际合作,以解决国际间属于经济、社会、文化及人类福利性质之国际问题,且不分种族、性别、语言或宗教,增进并激励对于全体人类之人权及基本自由之尊重。”二战后,英帝国很快解体,法国也不得不承认印度支那、阿尔及利亚等法属殖民地独立。1955 年万隆亚非会议隆重举行,通过《关于促进世界和平与合作的宣言》,引中和发展了和平共处五项原则,提出了各国和平相处友好合作的十项原则。60 年代非洲的民族独立运动风起云涌,仅 1960 年就有 17 个非洲国家独立,这一年被称为“非洲年”。1945—1991 年,全世界有 90 多个国家摆脱了殖民统治获得独立,以惊人的速度摧毁了世界殖民体系。

——摘编自吴于廑,齐世荣主编《世界史(现代史编下)》

(1) 根据材料,概括二战后世界殖民体系崩溃的原因。(8 分)

(2) 根据材料并结合所学知识,简析世界殖民体系崩溃的历史意义。(7 分)

47. 【历史——选考三: 中外历史人物评说】(15 分)

材料 托马斯·潘恩(1737-1809), 英裔美国思想家、政治活动家。潘恩幼年失学,先后做过店员、教员、税吏等职业。1774 年,因对英王言论不敬,潘恩被革去税吏之职,随后远赴北美求生。当时,北美独立的先驱们都还沉浸在“北美英国人”的假想中,全无脱离英格兰独立之心。1776 年初,潘恩毕生最重要的著作《常识》出版。他在书中指出: 由于个人能力不足,需要政府提供安全和自由的保障,安全是政府的目的和存在的意义; 英式政体是君主暴政和贵族暴政的肮脏残余,是达官贵人们用以剥削本国人民的利器,更是宗主国盘剥殖民地的工具。因此,他呼吁建立自由平等的“世界共和国”。“不共和,毋宁死”的理想在北美造成了空前的舆论影响。在仅有 200 万居民的情况下,《常识》的总销量高达 50 万册。受潘恩思想的影响,1776 年 7 月,北美十三州的代表审议并通过了《独立宣言》,北美独立运动正式拉开序幕。

——摘编自《潘恩,被历史辜负的人》

(1) 根据材料概括潘恩提出的政治主张,并结合所学知识简析其形成原因(9 分)

(2) 根据材料并结合所学知识,说明潘恩的《常识》对美国历史发展的影响。(6 分)

2019年深圳市高三第二次调研考试

文科综合能力测试·地理试题参考答案及评分参考

评分说明:

1. 非选择题部分,若考生答案与本答案不完全相同,但言之有理,可酌情给分,但不得超过该题所分配的分值。

2. 考生答案中,中国地名出现错别字一般不给分;外国地名应以地图出版社出版的世界地图集为依据评分,若出现同音字可酌情给分。

题号	1	2	3	4	5	6	7	8	9	10	11
答案	D	B	C	C	D	A	C	D	B	A	B

36. (22分)

(1) (4分)

巴塔哥尼亚地处西风带,西部高大(的安第斯)山脉阻挡了太平洋水汽进入(2分);巴塔哥尼亚高原海拔较高,且西风使大西洋水汽向东输送(2分),大西洋水汽也难以进入。

(2) (6分)

河流多发源于高大的安第斯山脉,冰雪融水补给较多,河流流量较大(2分);地势西高东低,河流落差较大,流速较快(2分);陆地(东西方向)狭窄,河流较短,河流流程中蒸发、下渗损失较小(2分)。

(3) (6分)

安第斯山脉还未隆起之前,巴塔哥尼亚地区受西风的影响,降水丰富,森林茂密(2分);板块运动(碰撞挤压)使安第斯山脉隆起抬升,大量的火山喷发导致大片森林被火山灰埋没,经过漫长的地质作用森林演变成化石(2分);外力(侵蚀、搬运)作用使埋藏在地下的石化森林出露地表(2分)。

(4) (6分)

由大西洋沿岸迁徙到安第斯山地(草场)(2分),当地11月份以后进入夏季,安第斯山冰雪融水增多,牧草丰富(2分);山地牧场海拔高,气候凉爽(2分);蚊虫少,可减少蚊虫叮咬(2分)。(有利条件答对2点得4分)

37. (24分)

(1) (8分)

廉价劳动力和土地资源等成本优势减弱(或中西部、东南亚等地劳动力和地价方面的比较优势更加突出)(2分);国际市场对传统工业产品的需求逐渐萎缩(定制化、小批量生产趋势使得规模效益优势不再突出)(2分);产业升级对创新人才和新技术的需求越来越高(2分);政府对新兴产业的支持力度加大(2分)。

(2) (4分)

机器人产业的发展,为传统产业提供更先进的自动化设备,实现生产流程升级,提高劳动生产率和经济效益(或促使传统产业生产附加值更高的产品,实现产品升级)(2分);传统产业为机器人产业提供广阔的应用市场(2分)。

(3) (6分)

出现了与机器人相关的新产业空间并逐步向外扩散(3分);传统产业空间(机械功能区)逐渐被新兴产业空间取代(3分)。

(4) (6分)

(从事简单机械重复、危险性高、污染大的生产环节以及机械重复的服务环节的)低技能劳动力需求减少(2分);(机器操作工、机器维修工、机器人运营管理等与机器人产业相关的)高技能劳动力需求大量增加(2分);(衍生出机器人研发设计、信息技术、数据处理、教育培训、会展服务、生活休闲等)专业服务和等方面的劳动力需求增加(或第三产业高端服务及管理人才需求增加)(2分)。

43. (10分)

空间位置上: 都始终处于地理重心的东部(2分)。主要原因是东部沿海地区旅游资源丰富, 交通便利, 旅游设施较好, 接待能力较强(3分)。

移动方向上: 都逐步向西南偏移(, 且南北向偏移速度都明显快于东西向偏移速度)(2分)。主要原因是三亚的热带气候和滨海景观, 全岛最南端的区位等旅游资源较海口更为独特, 三亚逐渐取代海口成为旅游首位城市(3分)。

44. (10分)

能够有效滞留雨水, 增加下渗量, 提高蓄水(洪)能力(2分); 自然形态的河流为动植物提供了更多的栖息地, 使生物多样性增加(2分); 河流、池塘与生物群落净化水质的能力增强(2分); 河道拓宽, 泄洪能力提升, 有利于减少城区的洪涝灾害(2分); 水域扩大和植被覆盖率提高, 有利于调节城区小气候(2分)。

2019年深圳市第二次调研考试政治参考答案

一、选择题（48分）

题号	12	13	14	15	16	17	18	19	20	21	22	23
答案	B	D	A	B	D	b	c	A	C	D	B	C

二、非选择题（52分）

38.（1）简要概括材料一包含的经济信息。（4分）

2017年世界四大大湾区中，粤港澳大湾区整体经济影响力不俗，发展势头强劲。但与发达国家湾区相比，还存在一定差距，需要落实新发展理念，改善营商环境，加快创新步伐。（4分）

（2）结合材料并运用经济生活知识，分析“区块链+”等技术对促进粤港澳大湾区经济发展的意义。（10分）

创新是引领发展的第一动力，“区块链+”等技术对促进粤港澳大湾区经济创新发展具有重大作用。（1分）“区块链+”为市场提供交易信息，便于市场主体把握供求状况，制定正确的决策，实现资源优化配置，保障有效供给；（3分）通过融合共享增进市场互联互通，提高产业链协同效率，促进经济转型升级；（3分）建立高效可信的合作关系，完善统一开放、竞争有序的现代市场体系，形成良好的营商环境和合作机制。（3分）

39.结合材料并运用政治生活的有关知识，说明S村基层党组织为什么要在乡村振兴中发挥战斗堡垒作用。（12分）

乡村振兴，是全面建成小康社会、全面建设社会主义现代化强国的重大历史任务。中国共产党是中国人民和中华民族的先锋队，宗旨是全心全意为人民服务，乡村振兴必须坚持中国共产党的领导。（3分）基层党组织发挥战斗堡垒作用，才能调动党员干部发挥先锋模范作用，有效落实党的政策，巩固党在农村经济和社会发展中的领导地位，发展好人民根本利益，促进农业强、农村美、农民富。（9分）

40.（1）故宫成为“网红”表明，传统文化的传承只有“活起来”，才能真正实现“火起来”。结合材料一并运用文化生活的知识加以分析说明。（10分）

故宫依托科技手段创新传承模式，开发创意产品，激活文化内容，推动中华优秀传统文化创造性转化、创新性发展，使优秀传统文化焕发出新的生命力，让优秀传统文化“活起来”。（5分）

在创新发展的基础上，采取人民群众喜闻乐见的方式，扩大优秀传统文化的传播广度和影响力，满足人民群众的文化需求，让人民群众领会其文化内涵，认同其文化价值，增强文化自信，激发人民群众参与文化创建的热情，真正实现优秀传统文化“火起来”。（5分）

（2）运用认识论的有关知识，说明“走进故宫，感受文化”主题实践活动对学生成长的作用。（10分）

实践是认识的基础，实践是认识的来源、发展动力和目的，是检验认识真理性的唯一标准。我们要树立实践第一的观念，勇于实践。（4分）学生通过实践活动，把课堂同社会结合起来，能够丰富文化知识，领略中华文化的源远流长、博大精深，增强文化自信，激发创造财富、促进社会变革的理想信念，能够把学习成果转化为坚定的意志和自觉的行动，创造美好的生活，促进全面发展。（6分）

（3）有专家建议，让故宫从“超级网红”走向“有故事的智者”，文创产品应做到与历史、与传统文化的真正融合。请你从哲学方法论的角度，对此提出三点建议。（6分）

答案示例：

- ①从实际出发，尊重历史事实。（2分）
- ②继承优秀传统，锐意改革创新。（2分）
- ③以人民为中心，满足文化需求。（2分）

自主招生在线创始于 2014 年，是专注于自主招生、学科竞赛、全国高考的升学服务平台，旗下拥有网站和微信两大媒体矩阵，关注用户超百万，用户群体涵盖全国 90% 以上的重点中学老师、家长和考生，引起众多重点高校的关注。

如需第一时间获取相关资讯及备考指南，请关注**自主招生在线**官方微信号：**zizzsw**。



微信扫一扫，快速关注