

绝密★启用前

文科综合能力测试

注意事项:

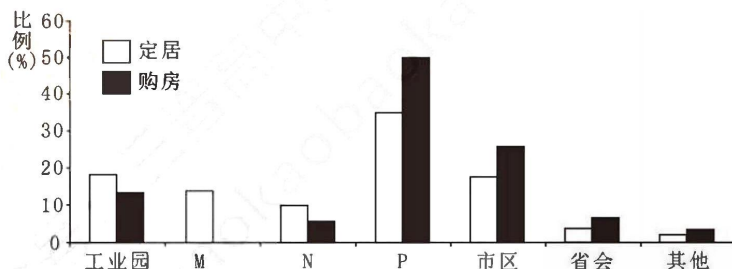
- 1.答卷前,考生务必将自己的姓名、准考证号填写在答题卡上。
- 2.回答选择题时,选出每小题答案后,用铅笔把答题卡上对应题目的答案标号涂黑。如需改动,用橡皮擦干净后,再选涂其他答案标号。回答非选择题时,将答案写在答题卡上,写在本试卷上无效。
- 3.考试结束后,将本试卷和答题卡一并交回。

一、选择题:本题共35小题,每小题4分,共140分。在每小题给出的四个选项中,只有一项是符合题目要求的。

回流城镇化是我国中部地区外出务工人员从东南沿海大城市回流而形成的一种新型城镇化现象。如图示意江西省某市回流人口定居和购房意愿。据此完成1~2题。

1.M、N、P代表的内容是

- A.农村、县城、乡镇
- B.农村、乡镇、县城
- C.乡镇、农村、县城
- D.乡镇、县城、农村



2.回流城镇化的主要驱动力是

- ①沿海产业升级
 - ②亲情社会网络
 - ③基础设施完善
 - ④特色农业开发
- A.①②
 - B.①④
 - C.②③
 - D.③④

青藏高原生态较为脆弱,区域植被带谱发育典型、独特性强、地带性分异明显。如图示意青藏高原地区及其周边植被分布。据此完成3~5题。

3.推测图示X代表的自然带最可能是

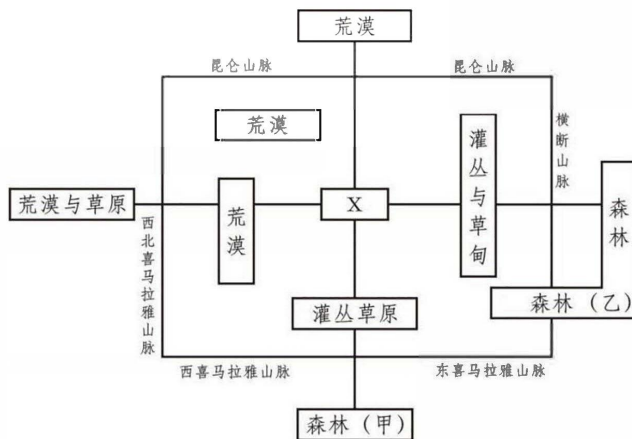
- A.森林
- B.冰川
- C.草原
- D.沼泽

4.影响图示自然带分异的主导因素是

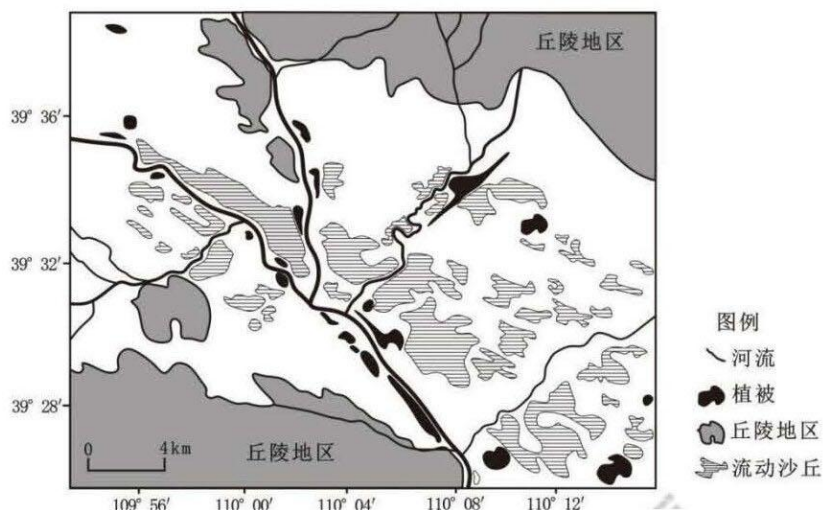
- A.水分
- B.热量
- C.光照
- D.土壤

5.关于甲乙两处的说法正确的是

- A.甲处秋季落叶多
- B.乙处人类活动多
- C.乙处季风更显著
- D.甲处生物量较大



窟野河流域地处黄土高原和毛乌素沙地的过渡带,流水作用和风力作用强烈,流域为典型的温带大陆性气候,人类活动影响显著。研究发现,河流对该区流动沙丘的形成影响较大,且该区域近年来流动沙丘面积减少。如图示意2015年窟野河流域(局部)流动沙丘分布。据此完成6~8题。



6.窟野河年内产沙量最大的时段为

- A.12~2月 B.3~5月 C.6~8月 D.9~11月

7.近年来该区流动沙丘面积减少的原因为

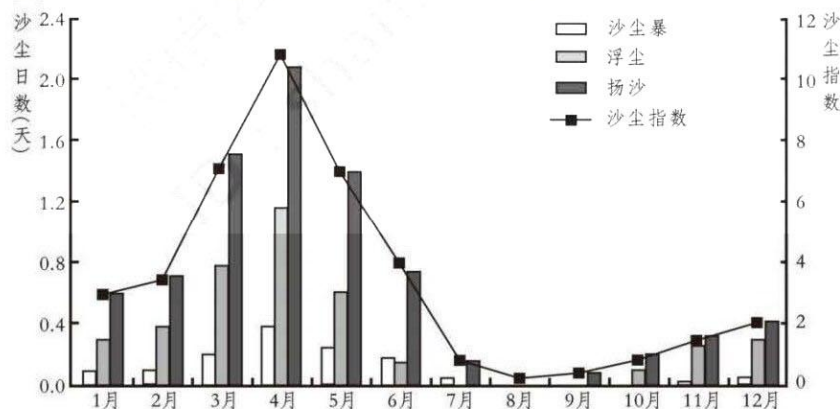
- A.狭管效应减弱 B.河流流量减小 C.人类开垦增多 D.流域降水增多

8.为减弱沙丘流动对该区的影响，最合理的措施是

- A.硬化河流渠道 B.缩减城市规模 C.积极植树造林 D.控制放牧规模

沙尘天气是风将地面尘土、沙粒卷入空中，使空气浑浊、天空能见度降低的一种天气现象，按照能见度水平可划分为浮尘、扬沙、沙尘暴 3 个等级。如图示意 1960~2020 年我国某省沙尘日数、沙尘指数平均月变化。

据此完成 9~11 题。更多试题与答案，关注微信公众号：三晋高中指南



9.关于该省份沙尘天气说法正确的是

- A.各月沙尘日数均低于 3 天 B.沙尘指数大致呈单峰变化
C.冬季沙尘暴次数少于秋季 D.沙尘暴迁移最远且影响大

10.该省冬季沙尘天气偏少的主要原因是

- A.气温较低 B.风速较小 C.日照较短 D.植被茂密

11.推测该省份最有可能是

- A.新疆 B.湖北 C.河北 D.河南

12. 外媒高度评价中国改革开放 40 多年来的发展成就：这是令人难以置信的转变！40 多年来，中国经济总量跃居世界第二位，成功从低收入国家迈入中等偏上收入国家，综合国力和国际影响力显著提升。对此评论理解正确的是

- ① 改革开放四十多年让我国步入了发达国家行列
- ② 改革开放是发展中国家实现跨越式发展的法宝
- ③ 改革开放是实现中华民族伟大复兴的关键一招
- ④ 中华民族迎来了从积贫积弱到繁荣富强的飞跃

A. ①② B. ①④ C. ②③ D. ③④

13. 下表为 2022 年上半年我国各类型工业企业利润总额累计值及累计增长有关情况。根据表中信息可推测出

2022 年上半年我国各类型工业企业利润总额累计值及累计增长有关情况（单位：亿元/%）

指标	2022 年 1~2 月	2022 年 3 月	2022 年 4 月	2022 年 5 月	2022 年 6 月
股份制	8 385.7/9.4	14 396.3/14.4	19 961.5/10.7	25 802.5/7.8	31 977.9/6.7
国有控股	4 157.8/16.7	7 068.5/19.5	9 219.5/13.9	11 583.7/9.8	14 894.5/10.2
私营	3 291.3/-1.7	5 331.5/3.2	7 651.4/-0.6	10 070.9/-2.2	11 885.7/-3.3

- ① 国有经济控制国民经济命脉，对经济发展起主导作用
- ② 混合所有制经济的抗市场风险能力强于非公有制经济
- ③ 股份制公司的发展更具活力，有较强的市场生存能力
- ④ 股份制公司是解放和发展我国社会生产力的重要力量

A. ①② B. ①③ C. ②④ D. ③④

14. “不再对跨地区流动人员查验核酸检测阴性证明和健康码，不再开展落地检”“非高风险区不得限制人员流动，不得停工、停产、停业”……2022 年 12 月 7 日，国务院应对新型冠状病毒肺炎疫情联防联控机制综合组发布了《关于进一步优化落实新冠肺炎疫情防控措施的通知》（简称“新十条”），提出了一系列优化疫情防控的举措。对这一疫情防控政策带来的影响描述正确的是

- A. 消费意愿增强→人员流动增加→餐饮旅游等产业回暖→消费正向反作用于生产→经济加快回暖复苏
- B. 人员流动增加→消费需求增加→第三产业普遍触底反弹→经济发展的动力增强→经济平稳健康发展
- C. 人员流动增加→社会总需求回暖→消费的基础性作用增强→住宿运输等服务业回暖→经济企稳向好
- D. 管控限制幅度减少→人员流动增加→社会总需求回暖→消费对生产的贡献逐步提升→经济加快复苏

15. 近年来，江苏 H 县县委探索实施“三提三知”工作法：通过开展亲民履职活动实现“提户知人”，开展说事评人活动实现“提人知事”，开展五维评干活动实现“提事知情”，推动基层党员干部走进群众，察实情、办实事。这体现了 H 县县委

- ① 坚持人民立场，从群众中来到群众中去
- ② 勇做先锋模范，自觉维护人民根本利益

- ③履行国家职能，增强人民群众的获得感
- ④坚持执政为民，提高工作的质量和水平

A.①② B.①④ C.②③ D.③④

16.在 2022 年开展的扫黑除恶行动中，广州市公安机关共打掉涉黑组织 4 个、恶势力犯罪集团 11 个，刑拘犯罪嫌疑人 284 人，查封冻结扣押涉案资产 1.19 亿元，追缴了一批黑恶势力敛聚的不义之财，有力维护了良好的社会环境。这体现了广州市公安机关

- ①对极少数敌对分子实行专政，以保障人民民主
- ②坚持公正司法，坚定不移维护国家的各项安全
- ③履行专政职能，妥善管控处理好人民内部矛盾
- ④履行对内职能，保障人民群众的生命财产安全

A.①② B.①④ C.②③ D.③④

17.在内蒙古“阿拉善”这片“五彩斑斓之地”，曼德拉山岩画、黑城遗址见证着旧石器时期以来各民族交流交融的历史，土尔扈特部离开故土一个半世纪后依然万里东归，额济纳旗三易旗府只为“最好牧场献航天”。材料表明


- ①中华民族多元一体，各民族间相互依存、密不可分
- ②中华民族是具有强大的民族凝聚力和向心力的民族
- ③我国已形成民族平等、团结和共同繁荣的民族关系
- ④民族团结为实现各民族共同繁荣奠定坚实政治基础

A.①② B.①③ C.②④ D.③④

18.漫画《长大后我就成了你》（作者：何青云）启示我们要

- ①乘风破浪，善于险中求生
- ②把握分寸，避免适得其反
- ③明察秋毫，具有远见卓识
- ④抓住机遇，加快发展进程

A.①③ B.①④ C.②③ D.②④



19.小到赛事纪念品，大到决赛地卢赛尔体育场，2022 年卡塔尔世界杯，“中国智慧”“中国建造”无处不在。开赛前夕，两只大熊猫“京京”“四海”来到卡塔尔，各国球迷目睹了中国“国宝”的风采，从而融入到对中国文化的探寻之中。这表明

- ①文化的交流和传播离不开一定的文化载体
- ②中华文化在交流中展现着自身独有的魅力
- ③人类通过文化交融，让世界变得更加美好
- ④文化传播着美与善，为人们提供精神指引

A.①② B.①③ C.②④ D.③④

20.2023 年 1 月 16 日，达沃斯世界经济论坛年会开幕。从“充分利用一切机遇，合作应对一切挑战”，到“人类

只有一个地球，人类也只有一个共同的未来”，到“各国不是乘坐在 190 多条小船上，而是乘坐在一条命运与共的大船上”……习近平主席在达沃斯论坛上生动真诚的话语，传递出一个鲜明主张：“团结就是力量，分裂没有出路。”上述主张

- ①是中国奉行独立自主的和平外交政策，促进共同发展的有力佐证
- ②源于和平问题和发展问题是时代主题，各国需团结一致合力应对
- ③源于当今世界，没有哪个国家能够独自应对人类面临的各种挑战
- ④为完善全球治理体系，构建全球公平正义的新秩序提供具体方案

A.①③ B.①④ C.②③ D.②④

21.程某与 H 公司约定：程某赊购产品 12 套共 3.6 万元作为入门费，并为公司发展传销下线，团队年消费达 200 万元，程某可获 100 万元（下线也遵循该规则）。后程某发展下线，业绩超 300 万元，但 H 公司拒绝支付 100 万元。为讨回 100 万，程某将 H 公司诉至法院。本案中

- ①程某与 H 公司的合同已经成立
- ②H 公司应向程某支付 100 万元
- ③程某的诉求不会得到法院支持
- ④H 公司可采取一定的补救措施

A.①② B.①③ C.②④ D.③④

22.张某和姚某协议离婚，约定 3 岁儿子小张由姚某抚养，张某一次性付清抚养费 4 万元。10 年后，姚某因动手术花去 10 万元，而小张学习、生活费不断增加。穷困潦倒的姚某以小张的名义向张某再次主张抚养费，张某以已按约付清抚养费为由拒付。据此可知

- ①本案民事法律关系客体为人身利益
- ②张某未履行教育和保护小张的义务
- ③基于道义责任，张某可再付抚养费
- ④张某已经违法，理应承担侵权责任

A.①② B.①④ C.②③ D.③④

23.俄国画家列宾的《伏尔加河上的纤夫》描绘了在伏尔加河畔，一组在沉闷压抑的气氛中奋力拉纤的纤夫群像，寄托了画家对下层人民群众悲惨生活的同情，也艺术地体现了作者民主主义革命的思想。从中可以看出

- ①通过形象思维能概括出事物的共同属性
- ②形象思维在思维表达上具有情感性特征
- ③形象思维能通过意象符号触及事物本质
- ④脱离抽象思维的形象思维没有实际意义

A.①③ B.①④
C.②③ D.②④



24.商周交替之际，有一批商人或受商文化影响的人群经鄂东南越过长江，溯湘江而上到达黄材盆地。这些人南来时，不仅带来了大量商代青铜器，而且带来了中原先进的铜器铸造技术，他们在沅水流域定居下来，建筑

城池、铸造铜器，创造出了灿烂的湖南炭河里文化和宁乡青铜器。据此可知，当时的中国

- A.南方青铜文化处于领先地位
- B.“武王克商”推动了商文化的扩张
- C.南北经济文化联系有所加强
- D.西周宗法分封制逐渐向南方拓展

25.东晋顾恺之《女史箴图》中“班姬辞辇”，讲述了西汉时期，汉成帝欲与班婕妤同辇，班姬执礼以辞，并指出“圣贤之君皆有名臣在侧，三代末主乃有嬖女”的故事。这体现了



顾恺之《女史箴图》第五段“班姬辞辇”（摹本）

- A.道教思想影响艺术创造
- B.文人画的典型艺术特征
- C.儒家伦理对画作的渗透
- D.对女性形象的精准刻画

26.据《武林旧事》记载，南宋临安的瓦肆，大小就有二十余座。瓦肆里设有勾栏、店铺、摊贩、酒芦、茶社等商贸、休闲、娱乐的场所。瓦肆纵横街衢，游人往来，昼夜不绝，“深冬冷月无社火看，却于瓦市中消遣”。这反映出南宋

- A.宫廷之风蔓延到民间
- B.城市政治功能的衰退
- C.临安城市生活多样化
- D.坊市制度已日趋完善

27.张居正就任内阁首辅十年中，采取“考成法”考核各级官吏，“虽万里外，朝下而夕奉行”，政体为之肃然；经济上，推行一条鞭法，使明王朝“太仓粟可支十年，周寺积金，至四百余万”。据此可知，张居正的改革

- A.挽救了统治的危机
- B.解决了财政危机
- C.完成了社会的转型
- D.缓和了社会矛盾

28.1861年，英国借口“九江、汉口两地之英国贸易骤形发达”，照会太平天国要求“勿允许进入该两处一百里以内”。太平天国指出：“攻取汉口、九江、镇江、金山之际，贵国忽伪托友好，派兵驻守彼等重地，钳制我军行动。”这表明太平天国

- A.希望与英合作推翻清朝统治
- B.坚持传统“华夷秩序”观
- C.已具有强烈的国家主权意识
- D.提出发展资本主义的方案

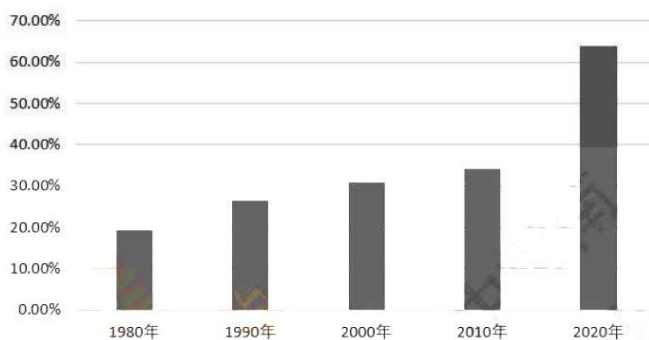
29.1895—1899年期间，上海、宁波、无锡、苏州、杭州、萧山、南通等地增设了10家棉纺织厂，18.8万枚纱锭，著名的无锡业勤纱厂、张謇创办的大生纱厂等就是在这一时期建立的。这能够说明晚清

- A.政府政策具有导向性作用
- B.资本输入保障企业资金的需求
- C.自然经济主体地位的突破
- D.中国纺织产品占据欧洲的市场

30.1934年红军将士在湘江等地同国民党军展开阻击战，为了掩护军委两个纵队过江，红三军团第五师坚决执行“不惜一切代价，全力坚持三天到四天”的铁令，浴血奋战三昼夜，以血肉之躯突破国民党军第四道封锁线。湘江之战

- A.体现了红军长征初期战略部署的合理性
B.使红军掌握了对敌战争的主动权
C.保存了革命的火种且利于革命形势发展
D.贯彻执行了遵义会议的最新精神

31.改革开放以来，我国城市化水平不断提高，下图是1980—2022年我国城市化率变化图。此图说明



1980~2022年我国城市化率变化

- A.城乡二元结构体制加快城市化进程
B.合理的城市化体系逐步完善和发展
C.社会主义现代化建设以城市为中心
D.城市化率提升源于新时代户籍改革

32.罗马帝国的万民法规定契约订立需要“意思合致”，即交易双方的自愿与平等为最基本条件；万民法实行“己法自守”的原则，规定裁判官们必须遵守自己制定的法律。这些规定

- A.旨在维护法律的严肃性
B.蕴含了自然法的精神
C.促进罗马帝国对外扩张
D.说明罗马执法的公平

33.西欧绅士最初的含义与世袭的贵族头衔有关，尊贵的出身和较高的社会地位是其主要特点。18世纪以后，勤勉和忍耐的中产阶级逐渐赢得了此称誉，绅士日益与美德和智慧相关联，成为外在教养和内在精神的融合。这一变化

- A.反映出西方的社会转型
B.得益于商业革命引发的阶层流动
C.冲击了西方的国家政体
D.反映了西方民主范围的逐步扩大

34.道琼斯工业指数，即股票价格平均指数。至1929年，美国的道琼斯工业指数10年内上涨了400%，而美国国内生产总值才上涨了50%。当年美国伯利恒钢铁公司在证券投资上达到1亿5千万美元。这表明此时美国

- A.产业转型促进经济发展迅速
B.经济繁荣背后存在一定的虚假性
C.实体经济加速了经济的危机
D.国家垄断资本主义加速资本扩张

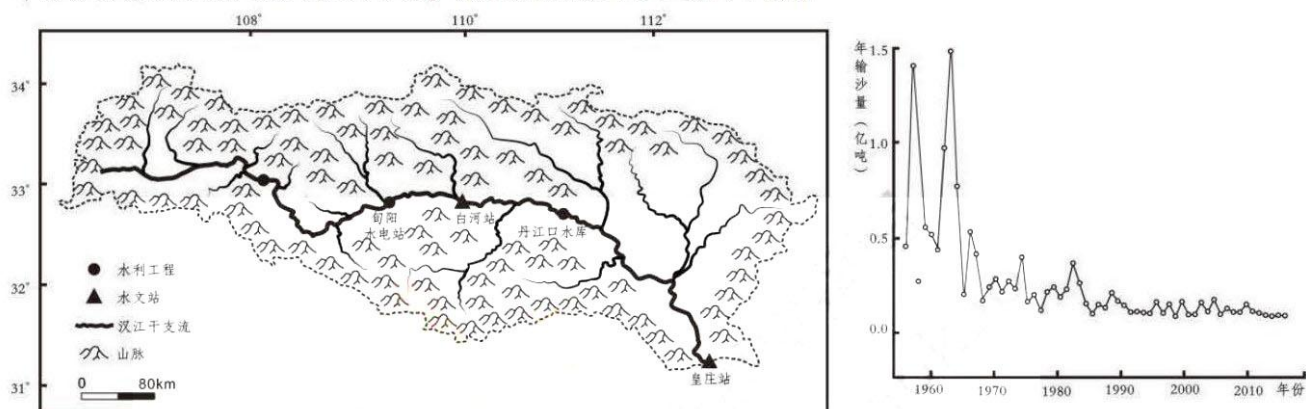
35.西方现代主义文学的先驱卡夫卡作品《城堡》里的主人公K，表面上拥有充分的自由，可是实际上却处处碰壁；表面上在这个空间中拥有自由移动的权限，实际上有一道无形的墙拦在城堡和他之间，给他的行动造成阻碍。据此可知这一作品

- A.体现了作者对社会现实极为不满
B.以具体性来再现典型环境和人物
C.表现了生活的危机和心态的扭曲
D.反映了二战后孤独和焦虑极端化

二、非选择题：本题共 9 小题，共 160 分。

36. 阅读图文资料，完成下列要求。（22 分）

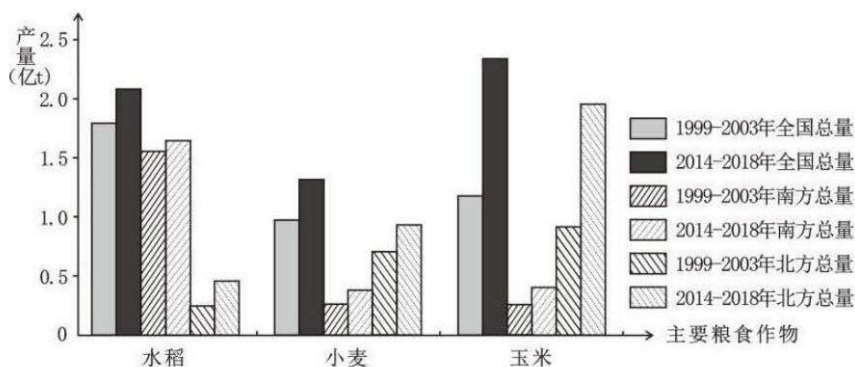
汉江流域位于我国南北过渡带，西部山脉众多，东部地势相对平缓。得益于流域天然林资源保护工程的实施，汉江流域输沙量发生了显著变化。新时代以来，汉江中上游被划定为重要的生态涵养区，是南水北调工程的重要水源地，对流域水质有了更高的要求。下左图示意汉江流域，右图示意汉江皇庄站 1957~2016 年输沙量变化过程。更多试题与答案，关注微信公众号：三晋高中指南



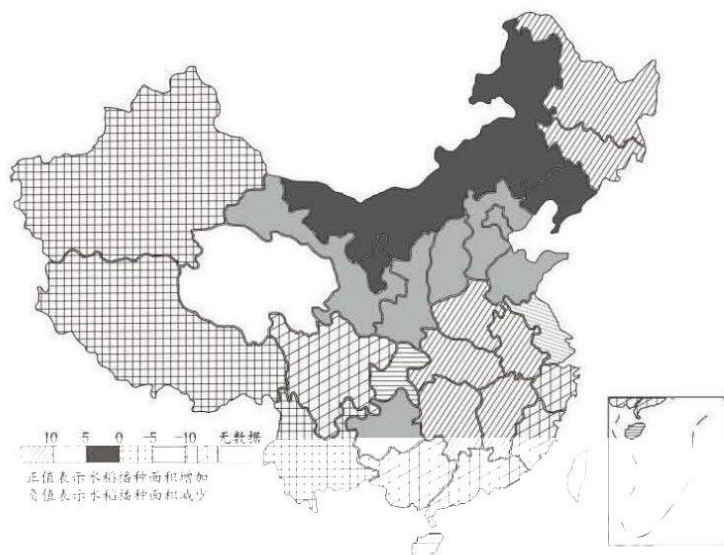
- (1) 结合右图，归纳汉江流域 1957~2016 年输沙量的变化规律。（4 分）
- (2) 相比于皇庄站河段，说明白河站所在河段的径流特点。（6 分）
- (3) 分析天然林防护工程的实施导致该流域输沙量发生变化的原因。（6 分）
- (4) 除增加植被覆盖率外，请为进一步改善汉江水质提出可行性建议。（6 分）

37. 阅读图文资料，完成下列要求。（16 分）

中国是一个农业大国，用占世界不到 9% 的耕地养活了占世界近 20% 的人口。1999~2018 年我国主要粮食生产发生了重要的变化（图甲），其中不同时期我国南方与北方的水稻、玉米、小麦等粮食作物产量差异较大。随着经济及技术的发展，以水稻为代表的粮食作物在各省的播种面积发生了明显的变化（图乙）。研究发现，区域生态保护、经济社会发展对当地的水稻播种面积影响较大。现阶段，我国居民对粮食作物的需求正在由“数量需求”向“质量需求”转变，国家及地区的粮食安全问题是影响我国可持续发展的重要问题。



甲

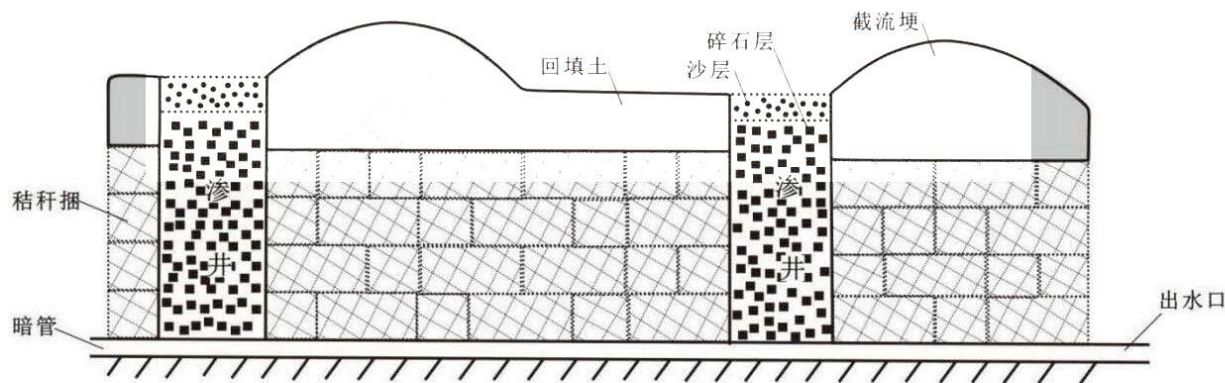


乙

- (1) 概括我国 1999~2018 年主要粮食作物产量变化情况。(6 分)
- (2) 从社会经济角度分析东北地区水稻播种面积上升的原因。(4 分)
- (3) 推测我国南部沿海地区水稻播种面积显著下降的原因。(6 分)

38. 阅读图文资料，完成下列要求。(18 分)

沟道侵蚀是土地退化严重的表现，东北黑土区是我国除黄土高原外沟道侵蚀最为严重的区域，其危害表现在耕地的损坏以及阻碍人机通行等方面。某研究团队提出可从沟道整形、暗管铺设、秸秆打捆、秸秆铺设、表层覆土、截流埂修筑、渗井修筑和出口防护等 8 项工程措施系统治理沟道侵蚀。如图示意东北农区沟道修复工程系统。



- (1) 用水循环原理分析该系统减轻沟道侵蚀的原理。(6 分)
- (2) 为保证该系统治理沟道侵蚀的最佳效果，指出施工时应注意的问题。(6 分)
- (3) 简述采用该模式治理土壤侵蚀的优点。(6 分)

39. 阅读材料，完成下列要求。(12 分)

2022 年以来，K 市人大常委会顺应中国式现代化对全过程人民民主的本质要求，紧紧围绕 K 市党委确定的大事、群众关心的要事，主动担当。在将“建设高品质人居环境”列为“一号议案”后，充分运用代表网

格化履职等机制，组织人大代表直抵基层、直听民意。项目执行方案确定前，依法开展事前监督，并由人大代表票决确定；项目实施过程中，人大、纪委监委联合实地考察、听取汇报；项目完成阶段，广泛收集民意反馈，推进项目整改和运行。通过这些不懈努力，全过程人民民主的“K市典范”应运而生。

结合材料，运用《政治与法治》知识，说明全过程人民民主“K市典范”是如何应运而生的。

40. 阅读材料，完成下列要求。(18分) 更多试题与答案，关注微信公众号：三晋高中指南

推进以县城为重要载体的城镇化建设，是在中国式现代化进程中实现乡村振兴的有效路径。有关专家指出，践行这一路径，首先必须始终坚持和加强全面的、系统的、整体的党的领导。其次，必须建立县域资源整合机制：一是加强资源整合，促进城镇化与乡村振兴协同发展；二是加强信息整合，通过动态监测和数据比对识别返贫风险；通过收集产业信息和市场信息，加强对农产品的市场预警、形势分析；三是加强产业整合，充分发掘、发挥地域资源禀赋，调整农业产业结构；四是加强人力资源整合，开展适合农村人口的职业教育和创业培训，提升农户自我发展的内生动力和能力。

(1) 结合材料，运用《经济与社会》知识，分析有关专家观点的合理性。(10分)

(2) 材料中专家的相关观点坚持了联系的多样性，请结合材料予以分析说明。(8分)

41. 阅读材料，完成下列要求。(22分)

材料一

立足世界百年未有之大变局，在深入调查研究、广泛征集意见的基础上，党中央国务院编制印发了《“十四五”文化发展规划》。《规划》锚定建成文化强国的远景目标，坚持目标导向和效果导向相结合，全面规划和突出重点相协调，综合考虑“十四五”时期文化发展的形势和条件，提出诸多新举措：把先进科技作为文化产业发展的战略支撑，建立健全文化科技融合创新体系；引导和鼓励文化企业运用云计算、人工智能等新技术，促进文化内容生产和传播手段现代化；落实统一的市场准入负面清单制度，清理破除文化市场准入隐性壁垒。

(1) 结合材料一，从超前思维的角度，说明党中央国务院编制印发《“十四五”文化发展规划》，引领“十四五”文化产业发展的道理。(8分)

材料二

比亚迪进入日本乘用车市场，蔚来汽车宣布在匈牙利建设首个海外工厂……得益于我国新能源整车技术实力(续航、能耗、智能化应用等)的提升和外部环境所提供的机遇(欧洲多国加大对新能源汽车的补贴力度)，中国新能源车企正加速“出海”。然而，“海上既有风景，也有风浪”，过去中国传统燃油车企由于竞争力不足和配套服务跟不上，只想收割市场，不能给当地创造就业，导致海外出口遇到“坑”，最终拉低品牌在海外的形象和口碑。因此，新能源车企如何真正实现全球化，仍需不懈求索。

(2) 结合材料二，运用《当代国际政治与经济》的有关知识，为新时代我国外向型企业真正实现全球化提出合理建议。(8分)

材料三

习近平总书记在党的二十大报告中强调，以中国式现代化全面推进中华民族伟大复兴。报告指出，中国式现代化是人口规模巨大的现代化，是全体人民共同富裕的现代化，是物质文明和精神文明相协调的现代化，

是人与自然和谐共生的现代化，是走和平发展道路的现代化。中国式现代化的本质要求是：坚持中国共产党领导，坚持中国特色社会主义，实现高质量发展，发展全过程人民民主，丰富人民精神世界，实现全体人民共同富裕，促进人与自然和谐共生，推动构建人类命运共同体，创造人类文明新形态。

(3) 某校组织开展“习近平新时代中国特色社会主义思想与中国式现代化之我见”主题演讲比赛。请你结合材料三撰写一份演讲稿。(6分)

要求：①结合“习近平新时代中国特色社会主义思想”的有关知识；②观点明确，逻辑清晰；③学科术语使用规范；④字数 200 字左右。

42. 阅读材料，回答下列问题。(25分)

材料一

19 世纪早期的中国人在打量欧美人时，套用了以往几千年中与亚洲各国往来的模式。中国人还搞混了西方各国的名称。如在阮元主持编写的广东地方志中记载，殖民菲律宾的西班牙是居住在斯里兰卡和马六甲之间的蛮夷，葡萄牙位于马六甲附近，英国即是荷兰或为后者的属国，法国人原为佛教徒，后改信基督教（当时中国人普遍认为基督教是佛教的一个分支），而法国即是葡萄牙云云。当魏源等杰出之士试图了解西方时，他们不得不求助于西方著作的译本。时人对西方一无所知，当西方开始横行中国时，中国人才发现，多少年来对付外夷行之有效的那套办法突然失灵，丝毫不起作用。

——摘编自费正清《中国：传统与变迁》

材料二

冷战结束后，面对复杂的局势，中国大力推动伙伴关系的构建，与世界各国先后建立了各具特色的伙伴关系。伙伴关系的基本特征是寻求共同利益，协商合作，结伴而不结盟，是在后冷战时期推动新型国家间关系的创新，也助推了冷战后世界走向非对抗的新格局。中国提出了构建新型大国关系，新型大国关系的基本要义是“不冲突、不对抗”“相互尊重”“合作共赢”，目的在于推动构建一种有别于历史上大国争霸、称霸的新关系。中国坚持走和平发展的道路，所遵循的原则是协商共建，正如“一带一路”倡议，所遵循的是共商、共建、共享原则，为所有参与方提供开放的大平台，旨在推动构建新型的发展合作关系与秩序；中国提出构建“人类命运共同体”倡议，旨在推动构建一种和谐共处、合作发展的新世界。面对大变局，人类需要以新的理念面向未来的国际新秩序。

——摘编自费正清《中国：传统与变迁》

- (1) 根据材料一并结合所学知识，分析 19 世纪早期的中国人应对千年变局的态度变化及其原因。(8分)
- (2) 根据上述并结合所学知识，比较千年变局与百年变局的差异性，简析中国在外交方面如何应对百年变局。(12分) 更多试题与答案，关注微信公众号：三晋高中指南
- (3) 根据上述材料并结合所学知识，概述中国两次应对变局的启示。(5分)

43. 阅读材料，回答下列问题。(15分)

材料一

整个 70~80 年代，医疗社会保险支出的增长势头仍然很猛，人均医疗费的增长速度远远超过国民生产总值的增长速度，前者均在后者的 8 倍以上，这使得各国不堪负担，并对其经济发展产生了不利影响。同时，

西方很多国家病床使用率只有 2/3，医疗能力的严重闲置、浪费对经济发展产生了消极的影响，也增添了劳动者的负担，与此同时，西方国家病人往往要经过很长时期的等待才能获得诊治机会，病人的合理要求得不到满足。

——摘编自李秋波《西方国家医疗社会保险制度的改革与启示》

材料二

为解决医疗制度资金缺口，西方国家一方面扩大税基，另一方面提高税率，例如日本从 1999 年 9 月起，将政府管理的健康保险费率从月工资的 8.2%，提高到 8.5%。部分国家在增加病人自付医疗费用比重的同时，还普遍对大型、昂贵的医疗设备等资源的配置实施区域卫生规划，加强管理和控制。德国、日本、新加坡等国家还根据老年人慢性病患病率高、部分患者需要长期护理的特点，推出了老年人护理保险。在欧美国家，社会医疗保险与社区卫生服务是相互依存的。在以私营开业家庭医生为社区卫生服务主要提供者的国家，社会医疗保险是社区卫生的主要管理、调节和控制方式。

——摘编自彭晓娟《西方国家医疗保险制度改革趋势及对我国的启示》

- (1) 根据材料一并结合所学知识，归纳现代西方国家医疗保险制度的局限。(4 分)
- (2) 根据材料二并结合所学知识，概括西方国家医疗保险改革的趋势。(6 分)
- (3) 根据材料并结合所学知识，谈谈西方医疗保险制度发展对我国的启示。(5 分)

44. 阅读材料，回答下列问题。(12 分)

材料

有人认为宗教与科学是互相对立的学说，在中世纪，宗教是扼杀科学的最大敌人，现代社会科学是破除迷信与宗教的最好的锐利武器，宗教是落后势力的典型。也有人认为宗教是科学的前身，科学是从宗教里面发展而来的，所以宗教往前一步就成为科学。近代初期的科学家大多是基督教神职人员，如哥白尼、开普勒、布鲁诺等，或具有神学背景，如伽利略等。

——摘编自蒋四清《宗教是科学的死敌吗？》

结合所学知识，说明材料中体现出现象并加以合理解释。(要求：主题明确，论证充分，表述清晰)



关于我们

自主选拔在线是致力于提供新高考生涯规划、强基计划、综合评价、三位一体、学科竞赛等政策资讯的升学服务平台。总部坐落于北京，旗下拥有网站（[网址：www.zizzs.com](http://www.zizzs.com)）和微信公众平台等媒体矩阵，用户群体涵盖全国 90% 以上的重点中学师生及家长，在全国新高考、自主选拔领域首屈一指。

如需第一时间获取相关资讯及备考指南，请关注**自主选拔在线**官方微信号：**zizzsw**。



 微信搜一搜

 自主选拔在线

自主选拔在线
zizzsw

自主选拔在线
微信号：zizzsw

自主选拔在线
微信号：zizzsw

自主选拔在线
微信号：zizzsw

自主选拔在线
微信号：zizzsw