

郑州市 2023 年高中毕业年级第二次质量预测

文科综合试题卷

本试卷分选择题和非选择题两部分。考试时间 150 分钟，满分 300 分。考生应首先阅读答题卡上的文字信息，然后在答题卡上作答，在试题卷上作答无效。交卷时只交答题卡。来源：高三答案公众号

第 I 卷

惠安县地处闽南沿海，依托当地自然条件，以石造像，石雕产业闻名。近年来，当地石雕产业所需石料多从国外进口。2017 年，惠安县积极打造雕艺文创园，建设雕艺博物馆、大师工作室、世界石雕公园三大板块，逐梦“世界石雕之都”。据此完成 1~3 题。

1. 早期惠安县发展石雕产业的主要优势是
A. 气候湿润 B. 河湖众多 C. 山地广布 D. 植被丰富
2. 近年来惠安县石雕所需石料多从国外进口的原因可能是
A. 当地石料品质较低 B. 当地环保意识增强
C. 国外石雕市场广阔 D. 国外开采成本低廉
3. 惠安县打造雕艺文创园，主要致力于
①加强文化遗产 ②推进产业转型
③强化技术创新 ④推动产业外迁
A. ①② B. ①③ C. ②④ D. ③④

省际行政边界区是以省级行政边界为起点向行政区内部横向延展一定宽度所构成的、沿边界纵向延伸的窄型区域。省际边界区内部县域在空间上临近但联系并不密切，远离行政和经济中心，发展较为缓慢，多数地区城镇化水平较低。图 1 为 2019 年我国省际边界区县域城镇化水平分布示意图。据此完成 4~6 题。



图 1

4. 导致省际行政边界区内部县域空间邻近但联系不密切的普遍原因最可能是

- A. 自然条件恶劣 B. 交通条件落后 C. 行政壁垒 D. 文化差异

5. 部分西部省际行政边界区域县域城镇化水平高的主要原因是

- A. 地形平坦 B. 资源丰富 C. 人口稠密 D. 科技发达

6. 促进省际行政边界区高质量发展应

- ①调整省级行政区划便于统一管理
②增强中心城市对边界区的帮扶带动
③大力承接传统工业推进产业发展
④加强边界区临近县域间的沟通协作

- A. ①② B. ①③ C. ②③ D. ②④

黄河下游河床由于泥沙淤积,在大堤的束缚下不断抬高形成地上悬河。某悬河段两岸群众曾在主河槽两侧自发加建新堤,图2为该悬河段横断面示意图。据此完成7~8题。

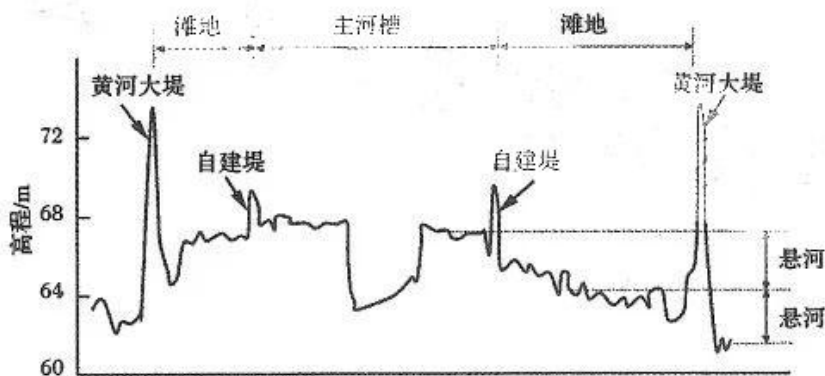


图2

7. 在大堤内自发加建新堤的目的是

- A. 增加流速提高河段冲淤能力 B. 减少水流对黄河大堤的冲刷
C. 促进泥沙淤积提高土壤肥力 D. 扩大耕地面积保障生产安全

8. 自建堤可能导致该河段

- A. 洪水发生频率增加 B. 河道摆动更加频繁
C. 大堤冲决风险减小 D. 形成新一级的悬河

呼伦湖(图3)为内蒙古地区最大湖泊,受湖泊自身特征和区域内气象因素等影响,呼伦湖不同部位冰情复杂。在呼伦湖湖冰冻结消融过程中,湖泊南部

12. 某公司围绕印刷过程中的机器视觉技术难题,经过 20 多年深耕细作,从 5 人发展成 2000 多人的团队,研发人员占比超 40%,拥有专利 540 余项,拿下了智能视觉装备多个领域的市场占有率第一。该公司的成功得益于

- ①创新营销方式,提高企业市场份额
- ②注重技术研发,助力企业创新发展
- ③聚焦主业谋发展,构筑核心竞争力
- ④降低生产成本,提高企业的利润率

A. ①② B. ①④ C. ②③ D. ③④

13. 数据作为新型生产要素,已快速融入生产、分配、流通、消费和社会服务管理各个环节。中央全面深化改革委员会提出,建立数据产权制度,推进公共数据、企业数据、个人数据分类分级确权授权使用,建立数据资源持有权、数据加工使用权、数据产品经营权等分置的产权运行机制,健全数据要素权益保护制度。建立这样的产权运行机制能够

- ①促进数据的高效流通使用,创新赋能实体经济发展
- ②放活数据产品经营权,发挥政府配置资源决定作用
- ③加大数据供给,提高数据要素在初次分配中的比重
- ④厘清数据产权,保护数据要素各参与方的合法权益

A. ①③ B. ①④ C. ②③ D. ②④

14. 基层供销社是以农民为主体、群众自愿入股组织起来的集体所有制合作经济组织,在“供”的一侧整合资源,在“销”的一侧整合销售渠道,让小农户融入大产业、对接大市场,克服农产品流通产业链长、流通环节多、上下游高度分散等弊端带来的流通风险。发挥基层供销社的积极功能有助于

- ①培育新型经营主体,巩固集体经济主体地位
- ②坚持以市场为导向,消除农户种植经营风险
- ③畅通流通渠道,大力提高农产品的流通效率
- ④提升为农民服务的能力,推动农村经济发展

A. ①② B. ①③ C. ②④ D. ③④

15. 虚拟产业园通过搭建网络虚拟平台,推动在产业链和价值链方面有内在联系的企业和机构基于一定的契约和规则形成虚拟空间集聚。企业只需要

高三文综试题卷 第 4 页 (共 18 页)



把公司注册到虚拟产业园中,不用入驻指定地理区域生产经营,可自由选择办公城市和地点。发展虚拟产业园能够

- ①突破物理空间限制,缓解产业发展用地紧张
- ②振兴虚拟经济,筑牢现代化经济体系的根基
- ③推动企业之间信息共享,促进资源有效协同
- ④推动数字产业化,解决经济发展的动力问题

A. ①② B. ①③ C. ②④ D. ③④

16. 近日,最高人民法院、国家知识产权局联合印发的《关于强化知识产权协同保护的意見》指出,进一步明确联络机构,建立会商机制,推动协同保护相关法律政策完善,促进行政标准与司法标准统一。两部门强化知识产权协同保护的做法

- ①明晰了国家机关职责,形成协同保护合力
- ②履行了参政议政职能,完善协同会商机制
- ③落实了依法治国方略,促进相关标准统一
- ④推进了国家机构改革,提高业务协作能力

A. ①③ B. ①④ C. ②③ D. ②④

17. 云南省元江哈尼族彝族傣族自治县咪哩乡充分利用民族传统节日,深度挖掘咪哩乡民族文化、红色文化等多元文化内涵,开展丰富多彩的非物质文化遗产项目展演活动,加强各民族之间的联谊交流,打造了各民族群众守望相助的“咪哩”品牌。这表明咪哩乡

- ①充分行使自治权,推动民族文化遗产的保护
- ②在促进各民族共同繁荣前提下实现民族团结
- ③弘扬民族文化,铸牢了中华民族共同体意识
- ④创建民族团结载体,营造民族团结进步浓厚氛围

A. ①② B. ①④ C. ②③ D. ③④

18. 近日,中国外交部发布的《关于政治解决乌克兰危机的中国立场》指出,冲突没有赢家,开启外交谈判是解决乌克兰危机的唯一正确出路,中方始终并将继续站在和平一边,站在对话一边,我们愿同各方一道,推动乌克兰危机的政治解决,争取和平早日来临。我国的立场表明

高三文综试题卷 第 5 页 (共 18 页)

- ①促进世界和平与发展是我国外交政策的基本准则
- ②我国推动冲突各方朝着共同安全的目标相向而行
- ③我国一直致力于推动建设公平正义的新型国际关系
- ④我国是维护世界和平与稳定的积极因素和主导力量

A. ①③ B. ①④ C. ②③ D. ②④

19. 2023 年央视春晚节目《一带繁花一路歌》，九个“一带一路”沿线国家的艺术家演唱了本国极具代表性的曲目，并与中国艺术家“隔空”联袂演唱了中国歌曲《茉莉花》，展现了我国的文化自信与开放气象。这表明


- ①要发挥中国文化引领世界文化发展的作用
- ②不同国家的文化在交流、借鉴中融为一体
- ③不同国家文化的交流是人类文明进步的动力
- ④文化在交流互鉴中能够更好地实现创新发展

A. ①② B. ①④ C. ②③ D. ③④

20. 漫画《光想不干白搭》给我们的哲学启示是

- ①确立正确目标是人们取得成功的决定因素
- ②想问题办事情需要坚持一切从实际出发
- ③发挥意识的直接现实性才能够获得成功
- ④要处理好客观条件与主观能动性的关系

A. ①② B. ①③
C. ②④ D. ③④



21. 人工智能聊天机器人 ChatGPT, 拥有强大的信息整合能力、自然语言处理能力, 能够通过理解和学习人类的语言来进行对话, 还能根据聊天的上下文进行互动, 像人类一样聊天交流, 甚至能完成撰写邮件、写论文等任务, 成为史上增长最快的消费者应用。由此可见

- ①日益完备的智能认识工具延伸了人的认识器官
- ②会思维的机器人日益成为人们工作生活好帮手
- ③智能聊天机器人能够替代人类开展创造性劳动
- ④智能聊天机器人可以推动人们认识的不断提高

A. ①③ B. ①④ C. ②③ D. ②④

高三文综试题卷 第 6 页 (共 18 页)



22. 随着网红经济的发展,许多自媒体博主变身“探店达人”,以图文或视频的形式在社交平台上分享实地消费体验,为平台用户提供信息作为消费参考,也为商家带来客流。然而,探店作为通过内容引流的新兴业态,在流量和利润的驱使下,一度因缺乏相关规范催生了种种乱象。材料蕴含的哲学道理是

- ①在网红经济中最新出现的事物是不可战胜的
- ②符合发展必然趋势的事物充满旺盛的生命力
- ③要坚持两点论和重点论相结合的方法看问题
- ④凡是拥有强大力量的事物,前途必定是光明的

A. ①② B. ①④ C. ②③ D. ③④

23. 习近平总书记明确指出,中国式现代化打破了“现代化=西方化”的迷思,展现了现代化的另一幅图景,拓展了发展中国家走向现代化的路径选择,为人类对更好社会制度的探索提供了中国方案。这一论述体现的辩证法道理有

- ①把握矛盾的特殊性,才能够找到解决中国具体问题的办法
- ②普遍性与特殊性相互包含,要从中国式现代化找共同特征
- ③普遍性寓于特殊性中,中国式现代化为外国发展提供借鉴
- ④把握事物矛盾的普遍性,才能够把不同质的事物区别开来

A. ①③ B. ①④ C. ②③ D. ②④

24. 商代受中原以外文明的影响,在农业作物中,出现了南方的稻与西方的麦;在建筑方法上,把南方的木结构与中原的夯土技术相结合,成为中国传统建筑的主流。这体现了

- A. 集权促进文明交流
- B. 早期国家已经形成
- C. 商代文明影响广泛
- D. 中华文明多元一体

25. 《晋书》记载,晋明帝曾下诏“吴时将相名贤之胄,有能纂修家训,又忠孝仁义,静己守真,不闻于时者,州郡中正亟以名闻,勿有所遗”。材料反映当时选官

- A. 以门第为主要标准
- B. 较重视家训和品德
- C. 决定权在皇帝手中
- D. 具有公平公正特点

26. 有学者认为,宋代的山水画展现的题材、主题、思想感情与六朝以至唐代的人物画有较大不同。如下图:唐代周昉的《簪花仕女图》描绘了几位衣着艳丽的贵族妇人赏花游园,北宋范宽的《溪山行旅图》中描绘了运载货物的商旅行

进在山径中。这反映了宋代



唐 周昉《簪花仕女图》(局部)



宋 范宽《溪山行旅图》(局部)

- A. 重农抑商政策的改变 B. 以人为本的价值取向
C. 世俗文化的发展趋势 D. 开放包容的时代气息

27. 中国手工业者自唐宋以来就有行帮,它不是维护劳动者利益的组织,而是封建国家强加于手工业者的一种编制。到了明清时期,行帮已成为手工业者长期习惯了的组织,因而具有更大的约束力。按照行帮的规定,原料分配、产品规格、学徒帮工的人数、销售的市场和产品的价格都要受到限制。由此可见明清时期

- A. 新的生产方式发展存在阻力 B. 缺少资本主义萌芽的条件
C. 手工业的管理制度相对完善 D. 封建国家垄断手工业市场

28. 对下表数据解读正确的是

1849年—1911年晚清税收变化表

(单位:万两,比重:%)

年代	农业税收入		工商杂税收入		其他收入		总收入	
	数额	比重	数额	比重	数额	比重	数额	比重
1849	3281	77	969	23	0	0	4250	100
1885	3071	40	3923	51	714	9	7708	100
1911	4810	16	20441	69	4445	15	29696	100

- A. 中国的经济结构发生变动 B. 政府鼓励工商业发展
C. 晚清时期农业衰退较严重 D. 列强加剧了资本输出

高三文综试题卷 第 8 页 (共 18 页)

29. 以下关于抗日战争的研究,史实与史论对应正确的是

史实	史论
A. 1931年9月27日,在北平的奉天会馆召开了“东北民众抗日救国会”成立大会,其宗旨是:“抵抗日人侵略,共谋收复失地,保护国家主权。”	抗日救亡已成为全民共识。
B. 1934年日本陆军、海军与外务三省官员达成《关于对华政策》纪要,表示“使中国成为以日本为中心,日满华三国友好合作,确保东亚和平的帝国方针的追随者”。	日本发动全面侵华战争。
C. 1932年“一·二八”事变后,日本在华中使用日本银行券和法币作为军事通货;1937年10月,日本在华中占领区发行军票。	日本在侵华战争中“以战养战”。
D. 1943年,美英中三国公布《开罗宣言》提到“三国之宗旨,在剥夺日本自从一战以来在太平洋所夺得或占领之一切岛屿,在使日本所窃取于中国之领土,例如满洲、台湾、澎湖列岛等,归还中华民国。”	二战后中国国际地位空前提升。

30. 1941年11月,陕甘宁边区参议会选举常驻参议员和政府委员时,候选人中中共党员超过了三分之一,著名共产党人谢觉哉、王维舟等18人立即要求退出竞选。结果中共党员仍然多一名,徐特立立即声明退出,让给了党外人士。这一做法

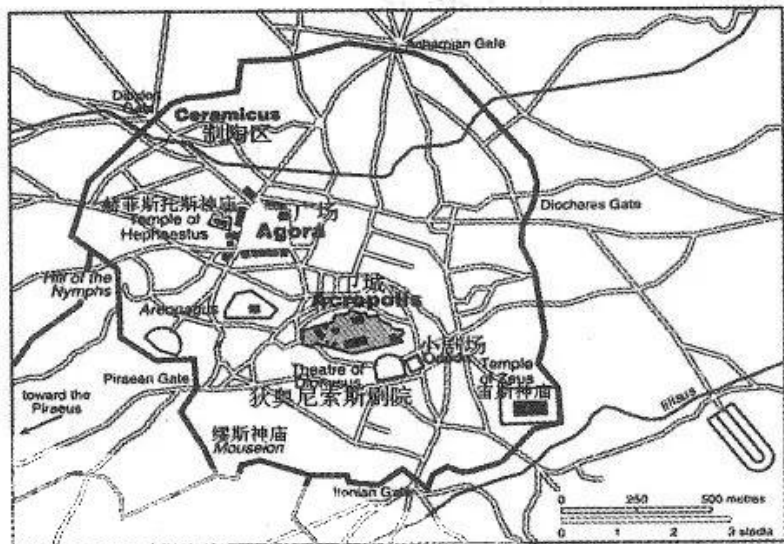
- A. 增强了国共两党合作抗日的实力
- B. 有利于抗日民族统一战线的建立
- C. 加速了中国抗日战争的全面胜利
- D. 加强了中共抗日民主政权的建设

31. 1953年以来,在武汉市委“基建第一”、“紧密团结起来,为把武汉建设成为新的社会主义工业城市而奋斗”的口号引领下,新建工业企业32个,其中投产企业29个。国家重点工程青山热电厂、国棉一厂等相继建成,武汉钢铁厂等国家骨干工程开始建设。这些成就

高三文综试题卷 第9页(共18页)

- A. 推动了建国初国民经济的恢复 B. 是国家优先发展重工业的缩影
C. 说明武汉工业水平领先于全国 D. 得益于国家工业化战略的实施

32. 古代雅典除了有著名的帕特农神庙,还有分布着其他诸多神庙(如下图所示),公共活动区如广场、剧场也居于城市核心位置。私人住宅围绕着卫城、公共建筑物和广场而建,杂乱简陋。可见雅典的城市布局



雅典平面图(公元前 430 年)

- A. 缺乏合理的城市发展规划 B. 推动了商品经济的快速发展
C. 与其民主的政治环境相关 D. 营造了自由宽松的宗教氛围

33. 19 世纪初阿根廷大量出口谷物、肉类和毛皮等,1853—1873 年间阿根廷出口总额增长七倍,牛羊饲养业主对修筑铁路,建立肉类包装厂持反对意见。与此同时,外国资本大量流入。这表明当时阿根廷

- A. 对国际市场具有较强的依附性 B. 实现了国家工商业的迅速发展
C. 未摆脱殖民统治实现民族独立 D. 积极探索发展外向型经济模式

34. 1918 年德国成立魏玛共和国,宪法规定国会由年满 20 岁的公民按比例代表制的原则选举产生,政党所赢得的席位严格按照其获得选票的数量分配。当时有大小政党一百多个,能经常进入国会的就有二十多个,形成一个多党并立、互不妥协的政治制度,单一政党难以赢得多数而组阁。据此可知

- A. 国会处于国家的权力中心 B. 内阁党派林立缺乏稳定性
C. 政治制度不适当当时国情 D. 践行了分权与制衡的原则

35. 诺贝尔文学奖获得者鲍勃·迪伦的作品《答案在风中飘》中写道:“一只白鸽要飞过多少片大海,才能在沙丘安眠”,作品创作于 1962 年。当时美国青

高三文综试题卷 第 10 页 (共 18 页)

年通过这样一系列的歌曲和文学作品表达抗议与愤怒,他们不愿重蹈父辈的覆辙,开始关注人间疾苦,主张用和平解决争端。这类作品

- A. 再现了当时美国的社会原貌 B. 以非传统手法表达精神反叛
C. 内容夸张充满丰富的想象力 D. 结构严整反映社会重大事件

第 II 卷

本卷包括必考题和选考题两部分。第 36 题至第 42 题为必考题,每个试题考生都必须作答。第 43 题至第 47 题为选考题,考生根据需求作答。

36. (24 分) 阅读图文材料,完成下列要求。

二十世纪中期以来,日本经济发展迅速,大量农村人口涌入城市,农业农村发展近乎停滞。为扶持国内农业农村发展,日本先后出台一系列政策和法规构成了日本乡村振兴的基本框架。经过半个世纪的探索与实践,日本农业实现了高端化升级,农村面貌焕然一新。表 1 为日本不同阶段出台政策的高频词语统计和政策目标。来源:高三答案公众号

表 1

阶段	出台政策中的高频词语(次数)		政策目标
阶段① 1947—1985 年	组合(2667)	土地(1997)	集中生产,盘活地方
	协同(810)	公共(1438)	
阶段② 1986—1998 年	维修(324)	设施(143)	开发乡村旅游
	基础(218)	市民(76)	
	经营(187)	都市体验(51)	
阶段③ 1999 年至今	养老金(306)	保险(319)	推进农业可持续发展
	肥料(357)	多样(298)	

- (1) 分析日本乡村振兴起步时面临的突出问题。(8 分)
 (2) 为了推进日本农业的可持续发展,从阶段③出台政策的高频词语中任选 2 个,推测日本可能采取的措施。(6 分)
 (3) 分析 20 世纪 90 年代日本发展乡村旅游的主要条件。(4 分)
 (4) 简述日本乡村振兴对我国的启示。(6 分)

37. (22分) 阅读图文材料, 完成下列要求。

浑善达克沙地(图5)曾经水草丰美, 20世纪后期, 由于草场退化严重, 沙尘暴频发。21世纪初, 这里开始进行生态恢复。在浑善达克沙地深处某行政村, 设计了乔—灌—草多层次、高密度防风林。同时, 为了保证树木成活, 使用生根剂处理树木。当年种植的旱柳萌芽了, 然而好景不长, 次年这些树木就不再抽叶, 并逐渐枯死。2002年, 人们在严重退化的土地上, 建起了围栏, 让其自然恢复。到2008年, 该行政村草被完全恢复, 自然生长的榆树高达5—8米。

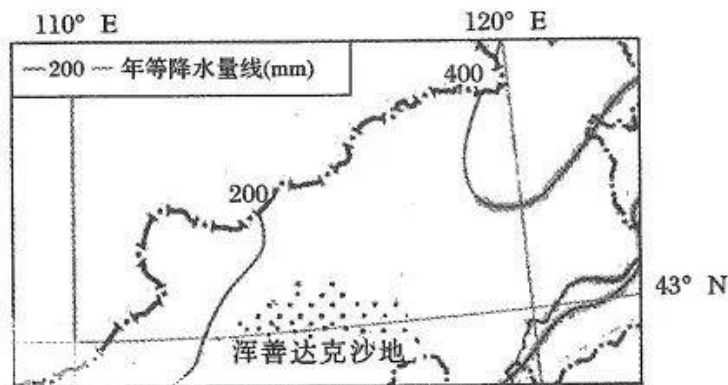


图5

(1) 推断浑善达克沙地的主要气候特征。(6分)

(2) 分析当地在严重退化的沙地上, 人工树木短暂存活后逐渐枯死的原因。

(6分)

(3) 说明建起围栏后当地植被自然恢复的过程。(6分)

(4) 对于“在浑善达克沙地类似地区应加强人工恢复植被”这一问题, 提出自己的观点, 并说明理由。(4分)

38. 阅读材料, 完成下列要求。(14分)

着力扩大国内需求, 培育完整内需体系, 是加快构建以国内大循环为主体、国内国际双循环相互促进的新发展格局的必然选择。

受疫情叠加影响, 2022年我国社会消费品零售总额439733亿元, 比上年下降0.2%, 但实物商品网上零售额比上年增长6.2%, 品质化升级类消费相对较多的专业店、专卖店商品零售额分别增长3.5%和0.2%, 新能源汽车销售呈高速增长态势, 比上年增长90%。在固定资产投资方面, 部分关键领域投资仍不足, 民间投资较上年仅增长0.9%。对此, 国家积极扩大有效投资, 聚焦新一代信息技术、人工智能等战略性新兴产业, 超前开展重大科技基础设施和关键核

高三文综试题卷 第12页 (共18页)



心技术研发能力建设;借助国家“十四五规划”重大基础设施工程,鼓励民间资本参与生态环境、城市供水、养老服务设施等补短板项目建设,增强民间投资信心,促进民间投资高质量发展,让百姓更早、更多、更好地享受到多样化的公共服务。

结合材料并运用经济生活知识,分析着力扩大国内需求对深化供给侧结构性改革的积极影响。(14分)

39. 阅读材料,完成下列要求。(12分)

办好农村的事,实现乡村振兴,关键在党。加强乡村党建工作,推进以党建引领基层治理。

走进河南大地,一枚枚闪亮的党徽,在乡村振兴一线闪耀。鄢陵县按照河南省委关于“五星”支部创建部署要求,把创建工作作为县镇村三级书记党建项目,开展“创星夺旗·全域晋级”党建引领基层治理行动,在村创“五星”支部,乡镇夺“红旗”党委,激活了乡村振兴“一池春水”。灵宝市尹庄镇,组建党员便民服务小分队,定期开展上门服务,解决偏远村组群众及留守老人办事难等问题。巩义市鲁庄镇开展“深化基层治理大走访”活动,镇党政班子成员、各村支书走访群众,收集化解问题矛盾,了解群众所需所盼,确保我们的基层干部沿着正确的方向带领农民群众全力投入到乡村振兴工作中来。滑县探索党建引领、群众参与乡村治理的新模式,凝聚乡村各类优秀人才,通过问需、问计、问效等方式,让群众说事议事、干群合力干事,实现了小事不出组、大事不出村、矛盾不上交,逐步构建了党建引领、干群同心、多元参与、共建共享的基层治理新格局。

结合材料并运用政治生活知识,说明河南省是如何以“党建+”激发乡村治理活力的。(12分)

40. 阅读材料,完成下列要求。(26分)

2023年是毛泽东等老一辈革命家为雷锋同志题词60周年。60年来,学雷锋活动在全国持续深入开展,雷锋精神滋养着一代代中华儿女的心灵。

从一名普通的汽车兵,到全国人民学习的道德榜样,雷锋同志以其22岁的短暂生命,谱写了辉煌壮丽的人生诗篇。从“生为人民生,死为人民死”的坚定信仰,到“忠于革命忠于党”的赤胆忠心;从“把别人的困难当作自己的困难”的

高三文综试题卷 第13页(共18页)



助人精神,到“永做革命的螺丝钉”的敬业态度;从“不受百炼,难以成钢”的刻苦品质,到“生活好来别忘本”的朴素作风……雷锋平凡而伟大的一生,树起了一座令人景仰的道德丰碑。六十年来,雷锋精神始终鼓舞和影响着一代又一代中国人,涌现出一批批雷锋式的英雄人物。从与时代同行诠释“雷锋精神”生命力的郭明义,到用生命坚守初心和使命的扶贫干部黄文秀,再到点亮乡村女孩人生梦想的乡村教师张桂梅……在这些时代楷模的身上,无不闪现着雷锋精神的道德光芒,激励着更多的人在一代代人的赓续传承中发扬光大。

“实践证明,无论时代如何变迁,雷锋精神永不过时。”习近平总书记近日对深入开展学雷锋活动作出重要指示,让学雷锋在人民群众特别是青少年中蔚然成风,让学雷锋活动融入日常、化作经常。

(1)结合雷锋平凡而伟大的一生,运用价值观知识说明在平凡岗位亦可铸就辉煌的人生。(10分)

(2)实践证明,无论时代如何变迁,雷锋精神永不过时。结合材料,运用培养担当民族复兴大任的时代新人的知识对此观点加以说明。(10分)

(3)结合材料并综合运用所学知识,就如何“让学雷锋活动融入日常、化作经常”提出三条具体建议。(6分)

41. 现代化的本质是一种文明新形态的生成,以工业化、城市化、市场化、信息化为推动力,以效率化、世俗化、民主化、公平化为价值取向。阅读材料,回答问题。(25分)

材料一 中国始终坚持走和平发展道路,一方面,根植于中华文化,中国具有爱好和平、促进发展的历史传统;另一方面,中国近代遭遇西方工业化列强侵略,国家和人民深受其害,中国秉持“己所不欲,勿施于人”的同理心态,不走帝国主义压迫他国的老路。社会主义革命和建设时期,中国始终坚持独立自主与和平发展原则,为中国式现代化奠定了稳定的政权基础。改革开放和社会主义现代化建设新时期,“和平与发展是当今世界的主题”被写入党的十三大报告,让世界逐渐了解中国式现代化不是威胁而是机遇。随着东欧剧变和苏联解体,党中央意识到要和平、求合作、促发展已经成为时代主流,维护世界和平的因素正在不断增长,促进中国式现代化发展具有相对良好的国际环境。

——摘编自丁志刚、熊凯《理解中国式现代化的四重逻辑:基于中西方现代化的比较》

高三文综试题卷 第14页(共18页)

材料二 资本主义社会的现代化是一条血淋淋的殖民、掠夺、强权之路，是强取豪夺、霸权横行之路，是集聚私有财产之路。从“西方自由主义鼻祖”洛克开始，资本阶级对财富的占有就上升为最基本的权利，其社会制度成为维护私有财产的工具，是仅仅服务于少数资本家自由、民主的现代化。资本主义的现代化是物质至上、资本至上的现代化之途，造就了不可消除的贫富差距，资本主义的现代化就是制造贫富矛盾并从中牟利的手段，是只为资本获得更多利益的现代化，在追逐利益的现代化进程中不惜发动战争、地区冲突，是一条弱肉强食的、少数人获得巨大利益的、少数人致富的现代化之路。来源：高三答案公众号

——摘编自景君学、李靖童《唯物史观视域下中国式现代化的四重维度》

(1) 根据材料一，说明中国式现代化的主要特点及其历史背景。(12分)

(2) 根据材料一、二并结合所学知识，简析中西方现代化的异同。(13分)

42. (12分) 阅读材料，完成下列要求。

材料 国家治理能力，主要指政府为民众提供安定、繁荣的生活环境的能力。它受到国家历史、文化、殖民遗产与法律传统等多种因素影响。

(一) 国家历史

治理绩效很大程度上取决于一个国家官僚队伍的质量，无论是维持社会秩序，提供基本公共品，还是促进经济增长和社会公平，都需要高素质的官僚体系。国家历史是决定官僚能力的重要因素。长期生活在统一国家中，能够培育共同的语言和文化，增强社会凝聚力和人与人之间的信任感。丰富的社会资本会有效减少官民间的对立，使得政府人员深深地“嵌入”社会之中，从而提高官僚组织的效率。

(二) 文化

文化是社会中观念、信仰和价值观的总和，它制约着人们的行为模式，也决定着某个社会采用的治理模式。

(三) 殖民遗产与法律传统

发展中国家大多曾是欧美国家的殖民地，殖民经历给这些国家留下了影响深远的文化和制度遗产。

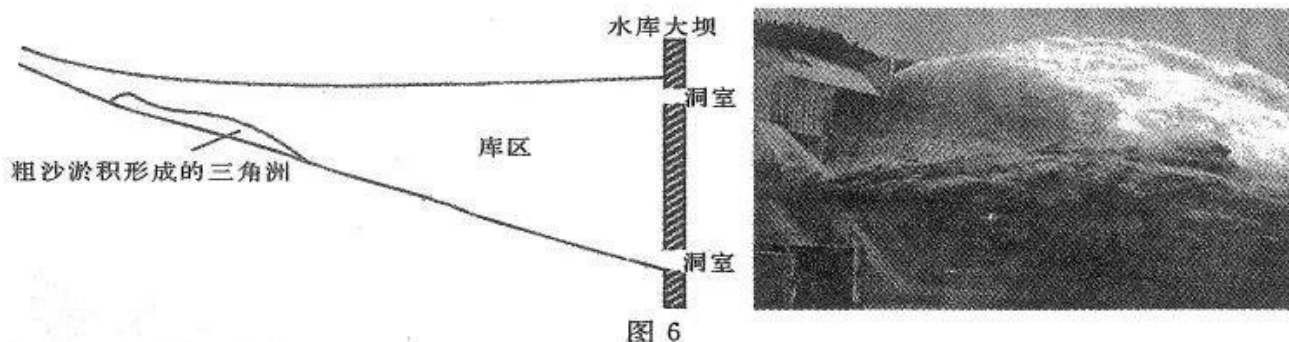
——摘编自曾庆捷《围绕治理能力的政治发展：国家间差异的历史起源》

根据材料并结合所学知识，就材料整体或其中任意一点拟定一个论题，并予以阐述。(要求：观点明确，持论有据，史实准确，史论结合，逻辑清晰。)

请考生在第 43、44 两道地理题中任选一题作答,如果多做,则按所做的第一题计分。作答时用 2B 铅笔在答题卡上把所选题目的题号涂黑。

43. [地理一选修 3: 旅游地理](10 分)

利用水库对黄河调水调沙是一种有效的工程措施,小浪底水利枢纽工程从 2009 年竣工至今,每年均将下游上亿吨的泥沙送入大海。小浪底调水调沙时期,水流从坝顶和底部排水排沙洞室群中下泄,场面壮观,吸引众多游客前来观看。图 6 为小浪底水利枢纽纵剖面示意和调水调沙实景图。



从观赏时间、景观特点及对黄河防汛的贡献三个方面写一段小浪底调水调沙的简介。

44. [地理一选修 6: 环境保护](10 分)

多年冻土是寒冷气候的产物,气候变暖则会造成多年冻土退化。多年冻土退化的表征之一就是地下冰融化,使得地表土壤失去支撑,形成多种地貌(图 7),进而导致多年冻土区环境发生改变。




图 7

分析地下冰融化对多年冻土区自然环境的影响。



请考生在第 45、46、47 三道历史题中任选一题作答,如果多做,则按所做的第一题计分。作答时用 2B 铅笔在答题卡上把所做题目的题号涂黑。

45. [历史——选修 1:历史上重大改革回眸](15 分)

材料 20 世纪 80 年代至今,我国已进行了八次机构改革和行政管理体制改革。通过 1982 年、1988 年的两次改革,国务院各部委数量减少为 41 个。在经历 1993 年调整经济类职能部门的改革之后,1998 年撤销煤炭工业、机械工业、纺织工业等几乎所有工业专业经济部门,改成行业协会。除国务院办公厅外,国务院的组成部门锐减到 29 个。2003 年机构改革的重点是把经济体制改革和经济发展更加密切地结合起来,健全和加强金融监管体制。2008 年改革的主要任务是围绕转变政府职能和理顺部门职责关系,探索实行职能有机统一的大部门体制,健全国家发展和改革委员会、财政部、中国人民银行协调机制,形成完善的宏观调控体系。2013 年的机构改革,以职能转变为核心,进一步简政放权,大幅度减少行政审批项目,在机构调整和制度机制建设等方面加以改革,令人印象深刻的是实行铁路行业的政企分开。2018 年中共十九届三中全会全面部署了党和国家机构改革,新一轮的以推进国家治理体系和治理能力现代化为导向的机构改革不断走向深入。

——摘编自左然等《40 年来我国机构改革的经验和启示》等

(1) 根据材料,概括 20 世纪 80 年代以来我国机构改革的特点。(8 分)

(2) 根据材料并结合所学,分析 20 世纪 80 年代以来我国机构改革的影响。(7 分)

46. [历史——选修 3:20 世纪的战争与和平](15 分)

材料 针对马岛(位于南大西洋,毗邻南美洲和南极洲)的主权问题,英国与阿根廷曾于 1982 年爆发过战争,英方获胜,但阿根廷始终未放弃对马岛的主权要求。战争后连续 7 届联合国大会决议均敦促英阿两国谈判解决主权问题,但英国一直拒绝回到谈判桌上。双方新一轮冲突发生于 2010 年,英国政府单方面允许本国石油公司在马岛附近海域进行石油勘探,阿根廷政府立即宣布封锁马岛海道表示抗议。英国派出战舰“捍卫主权”,两国关系剑拔弩张。毋庸置疑,历史和国际法有利于阿根廷,世人和国际社会同样倾向于阿方。面对冲突,阿根廷政府多次表示不会使用武力,坚持在国际法和国际框架内收回马岛主权。拉美当前团结一致,拉美区域性组织都坚定地支持阿根廷,敦促英国尽快与阿根廷进行谈判。面对英方的蛮横,从长期看,阿根廷要想有所作为,需要积

高三文综试题卷 第 17 页 (共 18 页)



极发展国力。同马岛之间建立密切联系,赢得岛内大量英裔居民的认同,让岛民接受谈判继而改变意愿是英阿打破僵局最关键的一步棋。

——摘编自赵万里《马岛争端现状及其解决前景》

- (1)根据材料并结合所学知识,分析马岛问题出现的背景。(6分)
- (2)根据材料并结合所学知识,概括阿根廷解决马岛问题的有利因素。(9分)

47. [历史——选修4:中外历史人物评说](15分)

材料 计然,春秋末年越王勾践的谋臣,是当时倡导贸易理论的著名人物。他认为农业年成的好坏跟岁星运行一样有规律,每十二年中,六年是丰年、六年是荒年,其中一年是大饥荒。在经济理论上,计然认为“时断则循,智断则备”(《史记·货殖列传》),即对天时变化的规律能够作出判断,就必须遵循;智慧能够依据客观规律对商情作出判断,就该预作储备。他主张当某些物资货源充足而价格便宜时,预先大量储备,待市场上货源匮乏而价格上涨时抛售。他说“早则资舟,水则资车,物之理也。”(《史记·货殖列传》)这种“待乏”的贸易原则,在货源充足时收储,货源匮乏时出售,对生产者和消费者都是有利的。计然根据这一“待乏”贸易原则制定了一整套经商方法,他称之为“积著之理”,包括:一、储藏的货物须妥为保藏勿使损坏,叫做“务完物”。二、收购和出售商品必须掌握适当时机,不能错过机会。三、商品和资金都必须周转迅速。计然认为它不仅适用于商人,也还适用于当时各国政府。国家设立官市,在粮价贱时收购粮食,售出牲畜及其他货物;在粮价贵时出售粮食,收买田宅、牛马,积聚货物,这样既可以稳定粮价,国家又可以获利十倍。(《越绝书·计倪内经》)

——摘编自杨宽《战国史》

- (1)依据材料并结合所学,概括计然的主要思想。(8分)
- (2)依据材料并结合所学,评价计然的思想。(7分)

关于我们

自主选拔在线是致力于提供新高考生涯规划、强基计划、综合评价、三位一体、学科竞赛等政策资讯的升学服务平台。总部坐落于北京，旗下拥有网站（[网址: www.zizzs.com](http://www.zizzs.com)）和微信公众平台等媒体矩阵，用户群体涵盖全国90%以上的重点中学师生及家长，在全国新高考、自主选拔领域首屈一指。

如需第一时间获取相关资讯及备考指南，请关注**自主选拔在线**官方微信号：**zizzsw**。



 微信搜一搜

 自主选拔在线