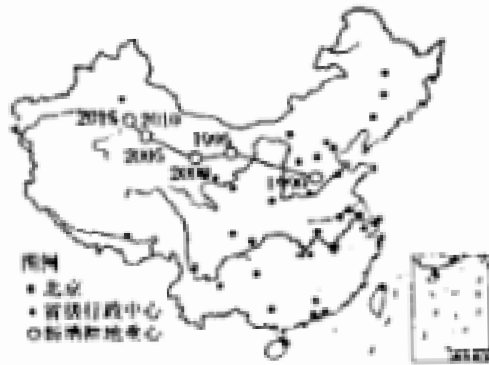


图1甲示意1990—2015年我国新增耕地重心位置的变化，图1乙示意在我国西北四种不同的灌溉方式和灌溉时间对土壤盐分含量的影响。据此完成4-5题。



甲

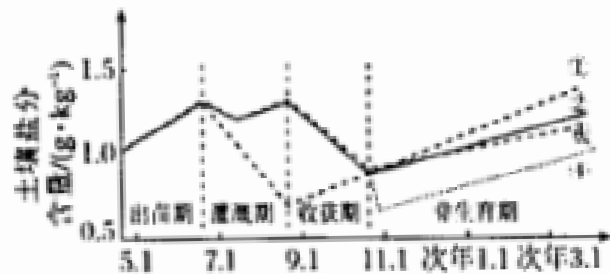


图1

乙

4. 甲能直接反映出
- A. 西部地区耕地后备资源丰富
 - B. 我国耕地资源数量北少南多
 - C. 西部地区耕地资源质量较好
 - D. 我国耕地资源数量北多南少
5. 在西北干旱、半干旱地区发展农作，若灌溉不当会造成土地盐碱化，推测图乙中④灌溉方式为
- A. 大水漫灌
 - B. 膜下滴灌组合非生育期冬灌
 - C. 膜下滴灌
 - D. 膜下滴灌组合非生育期春灌

肯尼亚山位于肯尼亚中部，是非洲第二高峰，且物种极其丰富。图2示意肯尼亚山的地理位置及其垂直方向上的自然带分布。据此完成6-8题。

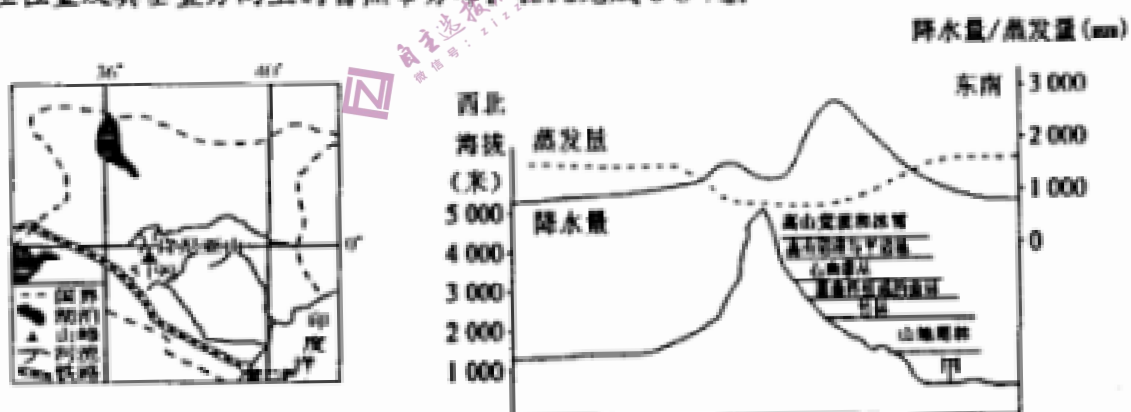


图2

6. 若P表示降水量与蒸发量的差值，则肯尼亚山东南坡P=0处海拔约为
- A. 800
 - B. 1500
 - C. 2000
 - D. 4200

7. 甲地植被地域分布体现

- A. 由赤道到两极的地域分异
- B. 垂直地域分异
- C. 从沿海向内陆的地域分异
- D. 地方性分异

8. 据图推测肯尼亚山自然带谱较多的坡向及直接原因

- A. 西北坡 水热差异大
- B. 东南坡 水热差异大
- C. 西北坡 相对高差大
- D. 东南坡 相对高差大

大气河是指大气低层里的一种长带状强水汽通道。2023年3月22日，美国加利福尼亚州（加州）遭遇新一轮“大气河”风暴，洪水预警，数万人断电。由于受北半球大气环流的影响，由热带地区向极地地区输送的“大气河”的运动方向与盛行风一致。图3示意垂直于大气河水汽运动方向的垂直剖面。据此完成9-11题。

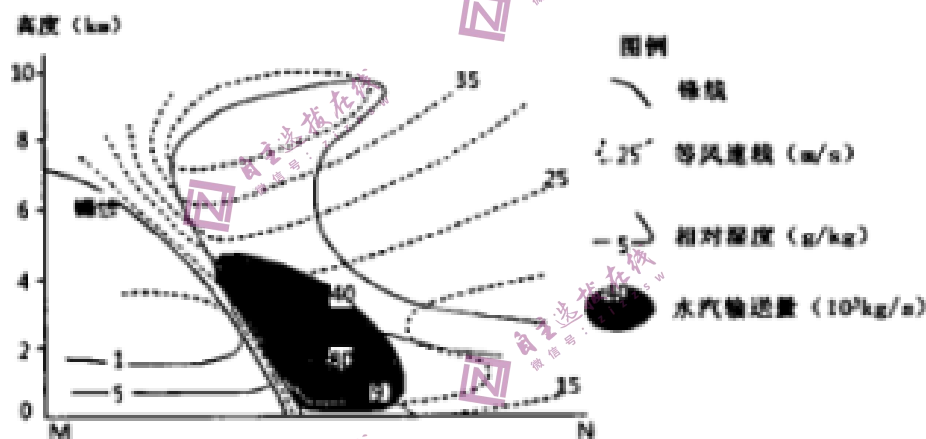


图3

9. 有利于“大气河”形成和发展的位置是

- A. 低压槽处
- B. 高压脊处
- C. 气旋中心
- D. 反气旋中心

10. 关于剖面图及“大气河”的叙述正确的是

- A. 风速随海拔升高而降低
- B. MN的走向为东西走向
- C. 美国加州“大气河”的水汽来源为墨西哥湾
- D. 美国西部山地加剧“大气河”对当地的影响

11. 根据材料推测，下列地区最可能存在“大气河”的是

- A. 阿拉伯半岛
- B. 西伯利亚地区
- C. 东亚地区
- D. 亚马孙平原

12. 习近平总书记在党的二十大报告中深刻总结了新时代的伟大成就和伟大变革，指出从现在起，中国共产党的中心任务就是团结带领全国各族人民全面建成社会主义现代化强国，以中国式现代化全面推进中华民族伟大复兴。对此，下列认识正确的是
- ①中国式现代化从根本上改变了中国社会的发展方向
 - ②中国式现代化彰显了中国特色社会主义的强大生机与活力
 - ③中国特色社会主义道路是实现中华民族伟大复兴的必由之路
 - ④我国已经实现社会主义现代化
- A. ①② B. ①④ C. ②③ D. ③④
13. 《共产党宣言》的问世是人类思想史上的一个伟大事件，《共产党宣言》是一部科学洞见人类社会发展规律的经典著作，是一部充满斗争精神、批判精神、革命精神的经典著作。下列关于这部著作的描述，正确的是
- ①分析了资本主义生产方式的内在矛盾与人类社会的发展规律
 - ②科学论证了资本主义必然灭亡和社会主义必然胜利的历史必然性
 - ③为未来共产主义社会提供了具体方案
 - ④为科学社会主义的创立奠定了理论基石
- A. ①② B. ①④ C. ②③ D. ③④
14. 2023年3月6日，习近平总书记在看望参加政协会议的民建工商联界委员时强调：党中央始终坚持“两个毫不动摇”“三个没有变”，始终把民营企业和民营企业家当作自己人。要引导民营企业和民营企业家正确理解党中央方针政策，增强信心、轻装上阵、大胆发展，实现民营经济健康发展、高质量发展。此举意在
- ①鼓励、支持、引导非公有制经济发展，提振民营企业经营信心
 - ②激发社会主义市场经济的活力，助力我国经济高质量发展
 - ③巩固公有制主体地位，充分发挥其主导作用
 - ④推动有效市场和有为政府更好结合
- A. ①② B. ①④ C. ②③ D. ③④
15. 共同富裕，锚定的是人民对美好生活的向往。“实现共同富裕的目标，首先要通过全国人民共同奋斗把‘蛋糕’做大做好，然后通过合理的制度安排正确处理增长和分配关系，把‘蛋糕’切好分好。”这是一个长期的历史过程，我们要创造条件、完善制度，稳步朝着这个目标迈进。据此，正确的解读是
- ①要健全体现效率、促进公平的收入分配制度
 - ②要健全生产要素按贡献参与分配，缩小收入差距

③实现共同富裕是社会主义市场经济体制优势的内在要求

④坚持以人民为中心的发展思想，增进人民福祉

A. ①②

B. ①④

C. ②③

D. ③④

16. 在中国共产党与世界政党高层对话会上，习近平总书记面向世界首次提出全球文明倡议。全球文明倡议是继全球发展倡议、全球安全倡议后，新时代中国为国际社会提供的又一重要公共产品。“三大倡议”的提出

①蕴含了新时代中国共产党治国理政的智慧和方案

②彰显了中国“大道之行，天下为公”的信念和力量

③突出了中国共产党领导世界文明的决心和意志

④维护了中国世界最大发展中国家的地位和作用

A. ①②

B. ①③

C. ②④

D. ③④

17. 2023年2月，国家卫生健康委、全国老龄办印发《关于开展2023年全国示范性老年友好型社区创建工作的通知》，明确今年将创建1000个全国示范性老年友好型社区，这些社区的老年人居住环境将明显改善，为老服务水平将有效提升。老年友好型社区的创建将有利于

①为老年人提供多样化养老服务，方便日常生活

②进一步保障老年人的民主权利，切实做到老有所养

③开创中国式养老新局面，切实解决中国养老难题

④增进老年人在社区生活的获得感、幸福感和安全感

A. ①②

B. ①④

C. ②③

D. ③④

18. 吉林是农业大省，我国重要的商品粮基地。近年来，从拉升粮食产业链，到提质特色农业产业链，壮大种养循环产业链，吉林着力做强“三链”促进三产融合，推动乡村产业高质量发展。从哲学上看，推动三大产业融合发展，要做到

①立足一产的基础地位，打好吉林发展根基

②树立全局观念，推动三大产业的融合发展

③把握联系多样性，力争三大产业系统优化

④坚持整体性思维，实现三大产业同步发展

A. ①②

B. ②③

C. ①④

D. ③④

19. 近日，以“坚持守正创新擦亮非遗品牌”为主题的“2023非遗品牌大会”在广州市开幕。大会旨在搭建共创非遗品牌、共话保护传承、共享非遗保护成果的平台，推出更多展现中华优秀传统文化内涵、具有国际知名度和影响力的非遗品牌，为做好非遗系统性保护、推动中华优秀传统文化走出去作出积极贡献。“擦亮非遗品牌”能够

- ①筑牢中华民族精神根基，展现中华民族精神追求
- ②彰显中华文化独特魅力，求同存异实现文化融合
- ③传递中华文化精神实质，推动非遗文化创造性转化
- ④努力挖掘其当代价值，促进非遗文化创新性发展

A. ①② B. ②③ C. ①④ D. ③④

20. 据美国“枪支暴力档案”网站统计，刚刚过去的 2022 全年，美国共有 44186 人死于不同形式的枪支暴力，其中超过 2 万人死于他杀。面对愈演愈烈的枪支暴力，加之美国政府在控枪上的失能，多数美国民众已不再相信有关枪支保障安全的“政治叙事”，这体现

- ①利益集团影响政府的决策维护自身利益
- ②美国民主政治已不能维护统治阶级利益
- ③枪击案频发暴露美国人权保障的虚伪性
- ④美国国家结构形式不利于维护人民权益

A. ①② B. ①③ C. ②④ D. ③④

21. 近年来，我国对标国际先进水平，不断深化“放管服”改革，开展了促进跨境贸易便利化专项行动，取得了一系列实质性成果。进出口货物整体通关的时间更短、进出口环节费用更低、办理进出口手续更便利等一些列成果，为我们促进外贸高质量发展增添了信心。上述举措

- ①优化了营商环境、推动了对外贸易高质量发展
- ②放宽了市场监管，实现更高水平对外开放
- ③促进我国更好吸引外资，持续扩大利用外资规模
- ④彰显我国坚持敞开开放大门，参与经济全球化

A. ①② B. ②③ C. ①④ D. ③④

22. 《中华人民共和国家庭教育促进法》第四十九条：公安机关、人民检察院、人民法院在办理案件过程中，发现未成年人存在严重不良行为或者实施犯罪行为，或者未成年人的父母或者其他监护人不正确实施家庭教育侵害未成年人合法权益的，根据情况对父母或者其他监护人予以训诫，并责令其接受家庭教育指导。这表明

- ①育小职责大，教育和保护未成年子女是父母的权利和义务
- ②敬老是义务，成年子女对父母有赡养的义务
- ③父母有权对子女进行约束和引导，但无权对其进行惩戒
- ④父母或其他监护人接受家庭教育指导，有利于促进未成年健康成长

A. ①② B. ①④ C. ②③ D. ③④

23. 2022 年，中国航天全年完成 64 次发射任务，再创历史新高；空间站建造阶段 6 次飞行任务全部顺利完成，载人航天工程“三步走”战略圆满收官。中国空间科学必须抓住当前历史机遇，不仅补齐短板，更要率先突破，向空间科学的深度和广度进军，为航天强国、科技强国做出先行标志性贡献。这表明

- ①人们可以根据航天现在发展状况必然地推知航天的未来
- ②对航天的认识经历了从感性具体到思维具体再到思维抽象的过程
- ③要以统一性的观念正确把握航天发展过程中的量变与质变
- ④要坚持事物发展渐进性与飞跃性、连续性与间断性的统一

A. ①② B. ①④ C. ②③ D. ③④

24. 《陈式太极拳图说》中提到：“自子至丑、寅，我之引，即息也；自卯至辰、巳，我引之使进，即长也；自午至未、申，即敌之盛气尽处，即我之转关处，亦即击人处，敌不得势，其气即消灭，不能不有落脚之地，所谓落也；酉、戌、亥，即敌之虚，惟虚故空，能不失败乎？”该拳说所体现出的中华传统文化精髓是

- A. 天人合一思想
- B. 自强不息精神
- C. 习武当重武德
- D. 和而不同理念

25. 据司马迁《史记·酈生陆贾列传》载：“沛公（刘邦）不好儒，诸客冠儒冠来者，沛公辄解其冠，溲溺其中。与人言，常大骂……”现实中酈食其、陆贾等儒生均获得了刘邦的尊重并受到重用，对此最合理的解释是

- A. 刘邦性情洒脱但喜怒无常
- B. 沛公务实且知人善任
- C. 汉初治国理念变化的产物
- D. 《史记》主观色彩浓重

26. 据载：崔忻使团由长安出发至登州，乘船渡海至都里镇后，再乘船沿海东行，入鸭绿江，溯江而上再转陆路到达震国都城，后在返回途中于放顺黄金山南麓及西北麓各凿井一口，并刻下：“敕持节宣劳鞅鞅使鸿胪卿崔忻井两口永为记验开元二年五月十八日”共二十九字以纪念此行。据此推测，崔忻使团此行最主要的任务是

- A. 册封渤海郡王
- B. 联合女真灭辽国
- C. 确保丝路畅通
- D. 视察奴儿干都司

27. 有作家描写 16 世纪 70 年代外国的社会生活时，这样写道：“没过多久，中国的丝织品就传遍了京都和利马的大街小巷，中国的棉纺织品也被卖到菲律宾和墨西哥的市场上，而中国的瓷器也被从堺市（日本大阪府的城市）到伦敦的家庭广泛使用。”由材料可以推知该时期

- A. 大量白银流入中国市场
- B. 中国已经形成全国性市场
- C. 中国是世界的贸易中心
- D. 中国是世界上最发达国家

28. 戊戌变法期间，康广仁在给密友的信中说：“伯兄（指康有为）规模太广，志气太锐，包揽太多，同志太孤，举行太大，当此排者、忌者、挤者、谤者，盈衢塞巷，而上又无权，安能有成？弟私窃深忧之，故常谓但竭力度八股，俾民智能开，则危崖上转石，不患不能至地。”材料在一定程度上反映出戊戌变法

- A. 措施过于激进
- B. 推动民众思想解放
- C. 缺乏群众基础
- D. 潜伏着失败的危机

29. 2023 年是毛泽东同志诞辰 130 周年。毛泽东同志不仅是一位杰出的政治家、军事家，在诗词方面也颇具造诣，他的诗词往往在看似不经意的轻描淡写间，展示纵横万里的境界，发出吞吐山河、雷霆万钧的气势，下列历史事件中最能佐证其“纵横万里”的是

- A. 井冈山会师
- B. 八七会议
- C. 七届二中全会
- D. 古田会议

30. 1944 年 7 月至 8 月，中缅印战区美军司令部派遣美军观察组进驻延安。会谈期间，美方代表谢伟思突然向毛泽东提出，中共如果想要获得美国的援助以及国际社会的支持和认可，最好修改一下“中国共产党”这个名字，但遭到了拒绝。该事件表明

- A. 中国共产党有能力独立领导抗战走向胜利
- B. 美国对国民政府失望并对其施加压力
- C. 中国共产党奉行独立自主的和平外交方针
- D. 美国欲将中国共产党纳入其国家战略

31. 阅读 1949-1957 年京版图书出版数量统计表，可得出京版图书

年份	全国出版量	北京出版量				京版百分比 (%)
		社科	科技	综合类	合计	
1949-1954	47739	3646	3835	46	7527	15.77
1955	11694	2747	2490	33	5270	45.07
1956	16751	3199	2804	19	6022	35.95
1957	16227	2677	3390	21	6088	37.52

——北京地方志总编辑委员会

- A. 各类图书逐年下降
- B. 与国家战略需要密切相关
- C. 出版内容引领全国
- D. 占据了出版行业半壁江山

32. 在长达二十多年的伯罗奔尼撒战争（公元前 431—前 404）中，斯巴达最终取得对雅典的胜利，当时雅典由赛提亚领导的寡头政权借战争失利之机宣布放弃民主，并暗地里赞赏斯巴达的贵族制政府。雅典投降后，斯巴达与之达成和平协议的条件之一，便是召回所有被流放的寡头贵族。他们一回来，即以赛提亚为首宣布开展一场富人革命，反对在这场灾难性战争中执政的“民主”政党，这表明雅典
- A. 确立了贵族政治
 - B. 形成了政党政治
 - C. 民主政治出现了危机
 - D. 形成了新的阶级对立
33. 学者芒图提出：“除去某些例外，产业革命前的资本主义的每一事例，都可以归到地主、金融業者、从事大宗买卖的商人这三类之一中去。”假设该结论成立，那么这“三类”人为工业革命的发生可以直接提供的是
- A. 政策因素
 - B. 资本因素
 - C. 市场因素
 - D. 劳动力因素
34. 1952 年，苏联对农业进行了调查，结果显示：苏联集体农庄播种机械化程度达到了 87%，联合收割机收割的农作物达到了 70%，休耕犁耕机械化程度达到了 96%，秋耕机械化程度达到了 97%，棉花种植机械化程度 98%，甜菜种植机械化程度 95%。这些数据说明当时苏联
- A. 斯大林模式潜藏着弊端
 - B. 农业机械化程度较高
 - C. 赫鲁晓夫重点改革农业
 - D. 科技成果多用于农业
35. 1955 年苏联同意给缅甸 7 项“赠礼工程”，就是用缅甸的大米换取苏联的援建工程项目。1960 年，美国总统批准的一项文件宣称“理解柬埔寨的中立主义外交政策，关心柬埔寨的经济发展和 社会进步”，“向老挝提供的援助应有利于促进社会、经济进步及国家统一。据此可知这一时期
- A. 美苏均树立了“负责任的大国”形象
 - B. 东南亚成为美苏重点争夺的地区
 - C. 意识形态渗透成为“冷战”一大特色
 - D. 美苏重视争取新兴民族独立国家

二、非选择题：本题共 10 小题，共 160 分。

36. 阅读图文资料，完成下列要求。（28 分）

上世纪 70 年代，香港逐渐从劳动密集型制造业基地转变为国际著名金融中心和世界知名自由贸易港口，也是亚洲主要的国际航空港。此外香港有 5 所大学排名世界百强。近几年香港提出“再工业化”的理念。下图示意香港地理位置。



(1) 从地理位置的角度分析香港发展物流业的优势。（6 分）

(2) 分析香港成为国际著名金融中心的区位条件。（8 分）

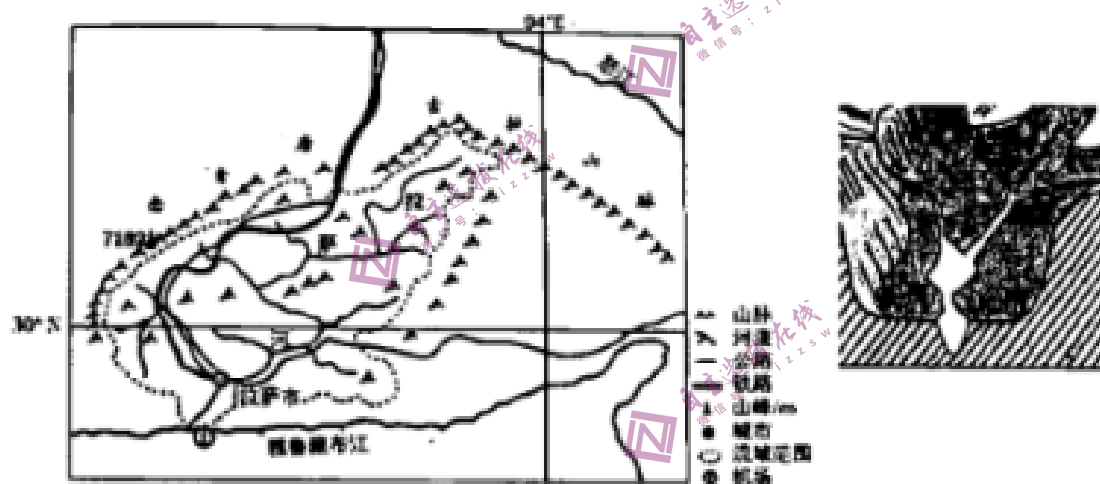
(3) 说出香港发展自由贸易区对本地市民的有利影响。（6 分）

(4) 结合香港自身优势，请为香港“再工业化”提出可行性措施。（8 分）

37. 阅读图文资料，完成下列要求。(28分)

念青唐古拉山脉全长 1400 米，平均海拔 5000-6000 米，冰川广布。冰川可分为大陆性冰川和海洋性冰川，大陆性冰川是指大陆性气候条件下发育的冰川，冰温低，又称“冷型”冰川，海洋性冰川则相反。相较于海洋性冰川，大陆性冰川“洁白如玉”，更具观赏性。

谷肩地貌是冰川地貌的一种，由于地壳隆升，在原“U”形槽谷底部又形成“V”形河谷，形成“谷中谷”的形态，将“U”形断面到“V”形断面之间的条状平坦台地称为谷肩。作为我国“一带一路”倡议中中巴、中尼等铁路有大段线路穿越冰川密集分布区，在冰川区致灾与有利因素兼备的背景下，趋利避害成为铁路选线的重要方针。下图示意念青唐古拉山脉分布和谷肩地貌。



- (1) 判断念青唐古拉山脉东西两段的冰川类型，并从冰川的数量、雪线高低对比两段冰川发育程度。(6分)
- (2) 说明相较于海洋性冰川，大陆性冰川更加“洁白如玉”的原因。(6分)
- (3) 从地质作用的角度推测“谷中谷”形态的形成过程。(6分)
- (4) 谷肩地貌是铁路建设中可利用的一种冰川地貌，结合材料说明理由。(6分)
- (5) 分析海洋性冰川分布区对铁路选线的不利影响。(4分)

38. 阅读材料 回答问题 (10 分)

2023 年 3 月 16 日, 中共中央、国务院印发了《党和国家机构改革方案》, 并发出通知, 要求各地区各部门结合实际认真贯彻落实。《方案》中包含“深化党中央机构改革”“深化全国人大机构改革”“深化国务院机构改革”“深化全国政协机构改革”“优化机构编制资源配置”等五个部分。

《方案》共涉及 13 项内容, 包括组建国家金融监督管理总局, 组建国家数据局, 优化农业农村部职责, 完善老龄工作体制, 完善知识产权管理体制, 国家信访局调整为国务院直属机构, 精减中央国家机关人员编制等。

“随着形势和任务的不断变化, 一些与经济社会发展不相适应的机构职能、体制机制等问题进一步凸显, 迫切需要通过新一轮的机构改革优化政府职责体系和组织结构, 加快推进国家治理体系和治理能力现代化, 进一步理顺党政机构职责关系, 准确定位国家机构的职责, 合理分工, 增强合力, 避免国家机构职能重复, 分工重叠, 从而为全面建设社会主义现代化强国提供体制保障。”

结合材料, 运用《政治与法治》的相关知识, 谈谈此轮党和国家机构改革的重要性。

39. 阅读材料 回答问题 (10 分)

2020 年 1 月 25 日, 党中央成立疫情防控领导小组, 习近平强调, 生命重于泰山, 疫情就是命令, 防控就是责任, 各级党委和政府必须把人民群众生命安全和身体健康放在第一位, 把疫情防控工作作为当前最重要的工作来抓。截止 2020 年 5 月 1 日 24 时, 全国所有省份应急响应级别均调至二级及以下。当前要做好常态化的疫情防控坚决防止疫情反弹, 为经济社会秩序的恢复提供有力保障。

同时, 各地要充分发挥区域、部门协同互助机制, 稳步推进各类企业复工复产, 增强企业活力, 促进经济良性运转, 为人民生活的安定、全面小康社会的实现提供坚实的物质保障, 这也是我们当前要着力解决的大问题。

日前全国规模以上工业企业基本实现了复工复产, 截至 4 月 21 日, 平均开工率和复工率分别达到 99.1% 和 95.1%, 国家发改委表示: 将会同有关部门, 在财政金融、投资消费、就业民生等方面, 抓紧推出一批更有力度、更有针对性的政策举措, 稳步推进企业生产秩序的全面恢复。

2023 年的中国已经实现防控疫情常态化, 经济全面复苏。

结合材料, 运用主次矛盾辩证关系原理及其要求, 分析党中央是如何处理疫情防控与企业生产之间关系的。

40. 阅读材料 回答问题（10分）

10年来，国际局势风云变幻，人类命运共同体理念的影响力、感召力愈发凸显，为携手建设更加美好的世界凝聚广泛国际共识，注入强大信心、勇气和力量。

2023年2月9日至11日，柬埔寨首相洪森应邀对中国进行正式访问，这是农历春节后首位访华的外国领导人，充分体现了中柬关系的高水平。

中柬从政治、产能、农业、能源、安全领域入手，打造多领域合作架构。高水平政治互信和高层交往是两国关系不断迈上新台阶的根本保障；高质量产能合作是两国关系互利共赢的重要体现；农业合作是柬埔寨实现农业现代化转型和提升粮食安全水平的重要途径；能源合作推动柬埔寨可再生能源发展和绿色发展进入“快车道”；安全与执法合作是中柬命运共同体建设的重要内容。

结合材料，运用《当代国际政治与经济》知识，分析上述合作架构是如何践行人类命运共同体思想的。

41. 阅读材料 回答问题（12分）

大自然公司成立于2009年，旗下拥有“大自然”“Nature”、“图片”等多个注册商标。经过十多年持续宣传、使用，该品牌地板产品销售遍布全国各地，并获得了包括“驰名商标”在内的众多荣誉，具有较高知名度。从2017年开始，A公司生产、销售的“大自然美学家”地板与大自然公司主张保护的“大自然”“Nature”、“图片”商标构成近似。在店铺装潢、整体色彩搭配和视觉效果上容易使相关公众对商品来源产生误认，或认为与大自然公司的商品有特定联系。2020年初，大自然公司经证据保全公认证后诉至法院，要求A公司立刻停止侵权并赔偿各项损失1500万元。

(1) 假如你是法官请对本案作出判决，并说明理由。（6分）

(2) 依据市场竞争基本原则的知识，说明本案对经营者的启示？（6分）

42. 阅读材料 回答问题（10分）

三段论是演绎推理的一种重要形式，它是以两个已知的性质判断为前提，借助一个共同的项推出一个新的性质判断的推理。三段论可以有多种形式结构，在许许多多的形式结构中，有些是正确的，有些是不正确的。我们只有熟知其推理规则，才能自觉避免这类推理中的逻辑错误，进而揭露诡辩，维护真理。同学们在政治课上学习了三段论推理知识后，进行了以下讨论：

举例	逻辑错误	应遵循的逻辑规则
调查报告不是文学作品，这篇文稿不是调查报告，所以，这篇文稿是文学作品	双否定前提	两个否定的前提不能必然推出结论
青少年是民族的希望，我是青少年，所以，我是民族的希望。	①	②
有的动物会跳跃，这个兔子会跳跃，所以，有的动物是兔子。	③	④
自媒体是思想政治教育的工具，自媒体也是娱乐的工具，所以，娱乐工具都是思想政治教育的工具。	⑤	前提中不用延的项在结论中不得周延

请运用三段论推理的相关知识，完成表格中相应的内容。

43. （25分）阅读材料，回答下列问题。

材料一 宋代之前是五代十国，这一时期，改朝换代多依靠武人，因此武人日益骄横，很多人不愿意读书；宋代统治者把大量读书人吸引到科举考试做官上来，让他们把毕生精力放在读书、考试上，一方面有利于减少社会不稳定的因素，另一方面也繁荣了文化，促进了知识的传播。为了鼓励学子参加科举考试，逐渐取消了唐代以来举士时在品行、职业、服纪等方面的限制，因此，国家取士的范围更加扩大。自隋至清，各代进士录取总数，以宋为最，达 36131 人，加上诸科等总数达 11 万多人。宋代统治者为了防范考试作弊，在考试管理上采取了许多较为严格的举措，主要有：避亲嫌、弥封、誊录、锁院等。宋初科举，沿袭了两级考试制度，但在宋太祖开宝六年以后，科举取士变为解试、省试、殿试三级考试，逐级升考拔录，比较严格。王安石任宰相后，对科举考试的内容着手进行改革，废除了进士科以外的其他科目，规定进士考试为四场：一场考大经，二场考兼经，三场考论，最后一场考策。宋代，为鼓励读书人，彰显读书的种种好处，只要科举考试及第就可以任官。宋太祖时，官位高低与考试等次还没有直接联系，但这种状况至太宗时发生了很大变化，即特别重视高第。

——摘编自周宝砚《宋代科举考试制度》

材料二 1882年3月，伊藤博文受日本政府派遣，率领“宪法考察团”赴欧洲考察宪政状况与官制，1885年，日本第一届内阁建立，这时便分出了文部。在实施内阁制过程中，日本近代的文官制度逐步完善起来，并制定了一系列的考核和任用制度。随后，有关官吏考试和任用等方面的规定和纲要陆续出台。1887年，日本的明治政府实行《文官考试试补及见习规则》，对高级文官和普通文官的人员任用都进行了限定，确认了国立大学学历的重要性。1893年，明治政府颁布《文官任用令》和《文官考试规则》，对文官的任用进行规定，强调必须以考试合格为前提，从此以后，学校的考试制度更加严格，考试内容更加充实和丰富。后来，日本政府又颁布《文官分限令》和《文官惩戒令》，从此时起，日本官吏相关的所有的制度，都已有较完备的制度。此后越来越多的平民依靠自己的勤奋努力、实际的能力与学问进入政府担任官职，经过严格考试的检测和考核，成为具有社会责任感的官员。……清末民初，中国先进知识分子以日本为“偶像”，纷纷求学于日本，中华民国北京政府模仿日本文官制度实行了官制改革……

——摘编自姚春海《日本近代文官制度的建立及其启示》

请回答：

- (1) 据材料一和所学知识，概述北宋初年统治者重视发展科举的原因，并分析这一时期科举制的特点。(13分)
- (2) 据材料二和所学知识，概述近代日本公务员制度发展进程中所呈现出的特点，并分析其在政治建设方面的所产生的影响。(12分)

44. (12分) 阅读表格材料，回答下列问题。

中国对西方人及西方国家称呼的变化

A. 对外国人的称呼变化		B. 对西方国家称呼的变化		
时间	称呼	时间	文件	称呼
鸦片战争之前	“夷”	晚明	《职方外纪》	“以西把尼(西班牙)东北为佛郎察(法国)。”
鸦片战争到新 中国初期	“鬼子”	晚清	《圆明园失宝叹》	将法国与俄罗斯分别称为“佛狼西”与“罗利国”
民国初年和新 中国初期	“外国佬”	1901年	《过渡时代论》	顺流而渡者，其英吉利耶？乱流而渡者，其法兰西耶？方舟联队而渡者，其德意志、意大利、瑞士耶？攘臂冯河而渡者，其美利坚、匈牙利耶？”
改革开放后	“老外”；信 息时代网称 “歪果仁”			

——据《从中国对西方人与国家称呼的变化》整理

提炼材料中关于“中国对西方人称呼的变化”或“中国人对西方国家称呼的变化”的观点并加以阐述。(12分)

(要求：围绕材料中的A类或B类材料展开分析，观点明确，史论结合，逻辑清晰)

45. (15分) 阅读材料，回答下列问题。

材料 1845年的爱尔兰只依赖一种作物：马铃薯，而苦难也定格在1845年的夏天。1845年夏，马铃薯霜霉病持续的、大范围的侵袭爱尔兰，马铃薯大面积绝产，饥荒发生。1846年马铃薯病害已经几乎蔓延至爱尔兰的所有郡，各种疾病也开始流行……大部分的英国舆论都戴着有色眼镜去考虑问题：袭击爱尔兰的“灾难”是对奢侈和无忧无虑的生活的警告。《泰晤士报》也加入了论战，反对“最不可靠的作物和最差的食物”，在它看来，上帝的意图不容质疑，它迫使特别需要改变的爱尔兰人接受另外一种不同于马铃薯的生计手段。整个大饥荒期间，尽管英国政府也启动饥荒危机救助机制，但是所有这些有限的努力对于这场空前的大饥荒来说仅是杯水车薪，大饥荒带来的死亡人数巨大。马铃薯饥荒导致了营养不良，身体免疫力下降，于是疫病流行，饥荒与疫病交替肆虐，让爱尔兰人陷入了痛苦的深渊。大饥荒带来空前对外大移民运动，主要移民方向为美国、加拿大、澳大利亚、新西兰和英国本土。大饥荒后激发了爱尔兰独立的民族意识和民族主义情绪，爱尔兰人此后几十年一直在思考本民族的未来之路，最终爱尔兰人选择以本民族自己的方式决定未来。1922年爱尔兰实现自治，1949年爱尔兰共和国成立，英爱之间的民族矛盾和历史积怨直至如今都未能彻底化解，北爱尔兰问题仍旧是当今英国面临的重要政治议题。

——摘编自曹瑞臣《作物改变世界》

请回答

(1) 据材料和所学知识，概述爱尔兰大饥荒产生及持续恶化的原因，并分析其影响。(9分)

(2) 据材料和所学知识，阐明爱尔兰大饥荒的启示。(6分)

命题、校对：高三文科综合命题组