

# 高三联考

## 文科综合能力测试

注意事项：

1. 答题前，考生务必将自己的姓名、考生号等填写在答题卡和试卷指定位置上。

2. 回答选择题时，选出每小题答案后，用铅笔把答题卡上对应题目的答案标号涂黑；如需改动，用橡皮擦干净后，再选涂其他答案标号。回答非选择题时，将答案写在答题卡上。写在本试卷上无效。

3. 考试结束后，将本试卷和答题卡一并交回。

一、选择题：本题共35小题，每小题4分，共140分。在每小题给出的四个选项中，只有一项是符合题目要求的。

作为自主品牌先锋力量的代表，江淮汽车近年来积极践行国家“走出去”战略和“一带一路”倡议，不断开拓国际业务，已与全球100多个国家和地区建立良好的合作关系，不同汽车在国外广受好评。江淮汽车在甲、乙两国建有组装工厂，图1为甲、乙两国位置及乙国地形分布图。据此完成 1-3题。

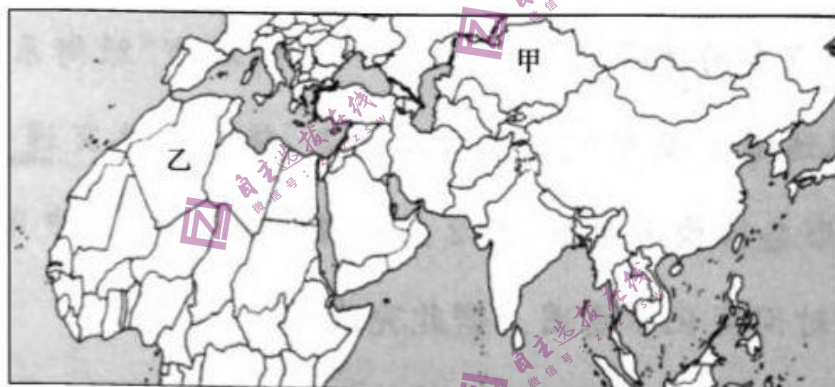


图1

1. 践行国家“走出去”战略，江淮汽车具备的首要优势是( )

- A. 技术较为先进
- B. 价格较为优惠
- C. 国家政策支持
- D. 市场较为广阔

2. 江淮汽车在甲国建立组装工厂，对当地的直接影响是( )

- A. 提升国家形象
- B. 增加就业机会
- C. 提高教育水平
- D. 改善投资环境

3. 与国内相比，江淮汽车为乙国设计的车型更应注重提升( )

- A. 空调制冷效果
- B. 车内承载空间
- C. 整车智能程度

D. 电机防潮功能

改革开放以来，我国已经逐步由“少年中国”发展为“银发中国”。新时期老年人身体好，许多人有继续工作的愿望，国家对老年人人力资源的开发也高度重视。图2示意我国2002-2021年老年人口增长状况。据此完成4-6题。

4. 导致我国由“少年中国”发展为“银发中国”的主要因素是 ( )

- A. 计划生育政策
- B. 社会经济发展
- C. 社会福利完善
- D. 生育观念转变

5. 图示期间，我国

- A. 老年人口比重波动上升
- B. 总人口数量波动下降
- C. 老年人口比重逐年升高
- D. 总人口增速持续下降

6. 现阶段我国老年人人力资源开发的重点区域首先在 ( )

- A. 落后地区的乡村
- B. 落后地区的城市
- C. 发达地区的乡村
- D. 发达地区的城市

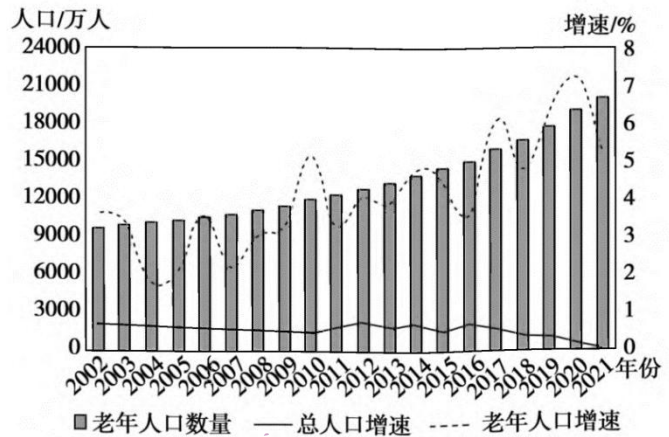


图 2

青弋江发源于安徽黄山地区，是长江下游地区右岸的一级支流。其从辫状水系到稳定河谷的发育过程与黄山北麓断层激活和夏季风阶段性减弱高度相关。图3左图为青弋江位置示意图，图3右图为青弋江发育形成示意图。据此完成7-8题。

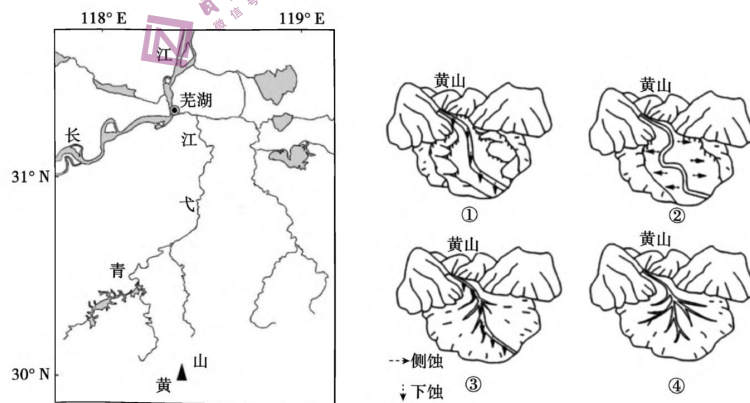


图 3

7. 青弋江发育形成的过程按时间先后排序正确的是 ( )

- A. ①②③④
- B. ③①②④
- C. ④③②①

D. ②③①④

8. 青弋江稳定河谷的形成过程中 ( )

- A. 断层激活和夏季风减弱都利于河谷的发育
- B. 断层激活和夏季风减弱都阻碍河谷的发育
- C. 只有断层激活利于河谷的发育
- D. 只有夏季风减弱利于河谷的发育

被动式住宅是通过建筑设计, 被动利用太阳能和家电设备的散热为居室提供热源, 依靠高效的热回收新风系统, 在保证合理舒适性的条件下, 最大程度地减少供热和制冷能源需求的环保型建筑。图4示意某中纬度城市被动式住宅。据此完成9-11题。

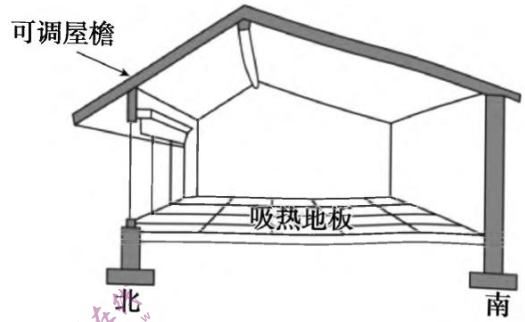


图 4

9. 该城市最可能位于 ( )

- A. 欧洲西部
- B. 江汉平原
- C. 巴西高原
- D. 潘帕斯草原

10. 被动式房屋的可调屋檐 ( )

- ①夏季调长, 冬季调短
- ②夏季调短, 冬季调长
- ③长短主要受昼长影响
- ④长短主要受正午太阳高度影响

- A. ①③
- B. ②④
- C. ①④
- D. ②③

11. 被动式节能屋使用时的能耗成本, 我国比同纬度的欧洲西部高, 原因是我国 ( )

- A. 受海洋影响更大
- B. 冬夏季的温差更大
- C. 光照强度更大
- D. 降水季节变化更大

12. 图5表示某产品的供求量与价格的关系 (横轴为供求量, 纵轴为价格。D1为变动前的曲线, D2、D3为变动后的曲线)。在不考虑其他因素的前提下, 以下描述正确的是 ( )

- ①个税专项附加扣除添“新项”, 黄金首饰的均衡价格从E<sub>1</sub>向E<sub>2</sub>移动
- ②央视3·15晚会曝光某品牌酸菜的质量隐患, 某品牌酸菜的均衡价格会从E<sub>1</sub>向E<sub>3</sub>移动
- ③共享单车、共享汽车不断推广, 传统能源汽车的均衡价格会从E<sub>1</sub>向E<sub>2</sub>移动

④某地开展“惠车促消费活动”, 汽车的均衡价格由E<sub>1</sub>向E<sub>3</sub>移动

- A. ①②
- B. ①④
- C. ②③
- D. ③④

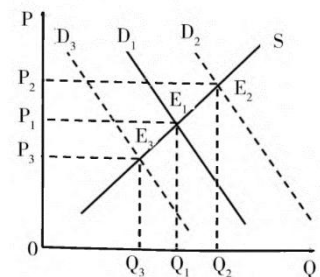


图 5

13. 中央经济工作会议要求, 2023年要坚持稳字当头、稳中求进, 继续实

施积极的财政政策和稳健的货币政策。积极的财政政策要加力提效，继续优化完善助企纾困政策，稳健的货币政策要精准有力，保持流动性合理充裕。下列对我国经济政策传导路径描述合理的是

( )

- ①加大税费优惠力度→增加信贷资金→促进高质量发展
- ②降低存贷款利率→缓解企业融资压力→激发企业投资需求
- ③提高存款准备金率→增加信贷资金投放→提升企业盈利能力
- ④增发地方专项债券→加大民生领域投资→补短板、惠民生、增后劲

- A. ①②
- B. ①③
- C. ②④
- D. ③④

14. 进入2023年以来，已有多个省份先后上调最低工资标准。以青海为例，近3年，该省最低工资标准占人均GDP的比重逐年下降，同时社会平均工资的实际水平不断提高，而现行最低工资标准占社会平均工资的比重明显偏低，已无法满足该省城镇居民最低收入户及其赡养人口的基本生活。上调最低工资标准

( )

- ①是通过市场调节手段缩小收入差距的重要措施
- ②有利于引导企业履行维护职工权益的社会责任
- ③表明居民收入增长应与经济增长保持基本同步
- ④意味着社会保障水平须由相应经济实力作支撑

- A. ①②
- B. ①④
- C. ②③
- D. ③④

15. 2022年，开放推动中国高质量发展稳步前行。外资加速布局中国市场，中国服务加速在全球落地。《世界开放报告2022》显示，中国开放指数提高了5.6%，排名上升8位，成为推动经济全球化的重要力量。由此可见，我国

( )

- ①提高外商准入门槛，吸引国外产品进入中国市场
- ②积极适应经济全球化发展，主导国际市场
- ③奉行互利共赢的开放战略，发展更高层次开放型经济
- ④加快构建畅通国内国际双循环相互促进的新发展格局

- A. ①②
- B. ①③
- C. ②④
- D. ③④

16. 2023年3月10日，贯彻落实党的二十大和二十届二中全会精神，十四届全国人大一次会议表决通过了关

于国务院机构改革方案的决定。方案中对加强科学技术、金融监管、数据管理、乡村振兴、知识产权、老龄工作等多项重点领域的机构职责进行了优化和调整。材料表明 ( )

- ①坚持党的领导，更好履行政府职能
- ②自觉接受监督，实施“阳光工程”
- ③降低行政成本，提高行政效率
- ④顺应时代形式，推进行政管理体制改革的

- A. ①③
- B. ①④
- C. ②③
- D. ②④

17. 民有所呼，我有所应。2023年2月是某市人大代表“为民办实事”集中活动月。代表们围绕群众关心的就业、教育、医疗、养老等民生问题以及人居环境整治等热点难点问题，通过召开座谈会、入户摸底、“赶大集”等形式，深入最基层，集中倾听民声民意，扑下身子帮助群众解决“急难愁盼”问题。这表明人大代表 ( )

- ①采取多种形式深入基层调研，不断提高自身履职能力
- ②牢记党的宗旨，为民履职尽责，自觉接受人民的监督
- ③与人民群众保持密切联系，帮助所在地政府推进工作
- ④是人民利益的代言人，直接行使法定权利维护人民权益

- A. ①③
- B. ①④
- C. ②③
- D. ②④

18. 我国民族区域自治的法制化进程

时间	进程
1936年	建立了第一个县级民族区域自治政权-陕甘宁省豫海县回民自治政府
新中国成立前后	党中央在广泛征求各方面意见后，决定实行民族区域自治，并将民族区域自治写入新中国第一部宪法
1952年	中央人民政府颁布《中华人民共和国民族区域自治实施纲要》
1984年	《中华人民共和国民族区域自治法》颁布实施

注：目前，我国已经成立了155个民族自治地方，包括5个自治区、30个自治州、120个自治县，此外还成立了近千个民族乡，作为民族区域自治的重要补充。由上表可知 ( )

- ①多元一体是我国民族格局的最重要特点
- ②党的领导是实行民族区域自治制度的根本政治保证
- ③实行民族区域自治制度是我国国家治理体系的重要组成部分
- ④民族区域自治制度为自治地方行使部分主权提供了制度保障

- A. ①②
- B. ①④



C. ②③

D. ③④

19. 2022年10月12日，正在国际空间站执行任务的意大利航天员萨曼莎·克里斯托弗雷蒂的一组太空摄影作品引用了中国著名书法家王羲之所著《兰亭集序》中的名句（见图6），并附上意大利语与英语翻译发布在个人社交媒体上，将心绪诉诸这一千年名句。材料表明

（ ）

①文化多样性是人类文明进步的根本动力

②世界文化因交流而多彩、因交融而丰富

③文化在交流中渐趋融合可以消弥文化差异

④中华优秀传统文化具有超越民族的传播力

A. ①③

B. ①④

C. ②③

D. ②④

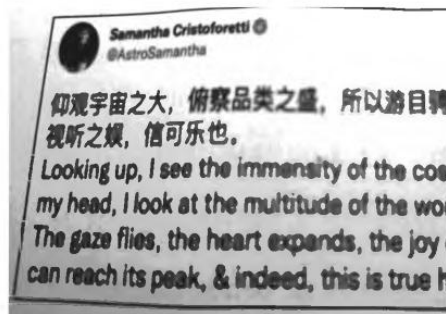


图 6

20. 2023年春节期间，《流浪地球2》在国内、北美及英国等市场的热映引发全球关注该影片借助3D打印、数字建模、激光雕刻等诸多技术，制作精细，画面逼真，不仅是一部工业化水平很高的科幻片，还蕴含着深厚的中国文化理念，深刻展现出中国语境下的“硬核科幻浪漫”，凸显了人类作为一个团队应对压倒性危机的重要性传递出中国人对“团结”这个概念的深刻认知。该影片的成功表明（ ）

①我国积极发展文化事业，保障人民的基本文化权益

②不忘本来，吸收外来，就能创造高品质的文化产品

③通过科技创新可以推动中华优秀传统文化焕发生机活力

④命运共同体理念反映全人类共同价值追求，能引发共鸣

A. ①②

B. ①③

C. ②④

D. ③④

21. 2022年12月13日，中国科学院国家空间科学中心公布了我国综合性太阳探测卫星“夸父一号”的首批科学图像，实现了多项国内外首次，在轨验证了“夸父一号”三台有效载荷的观测能力和先进性，同时也加深了对太阳“一磁两暴”现象的形成、演化和相互作用的科学认识。材料表明（ ）

①唯有实践能够检验主观认识与客观事物是否符合

②不断推进的科学实验实现了事物发展量变与质变的统一

③真理性认识在发展过程中不断突破自我、超越自身

④科学实验的成功取决于人们对客观条件的正确认识和科学把握

A. ①③

B. ①④

C. ②③

D. ②④

22. 近年来，我国信息平台建设取得长足发展，网上公共信息平台及各类商业信息平台为建设全国统一大市场提供了强大动力。然而，仍有一些领域信息平台建设滞后，城乡、行业、部门之间的信息壁垒依然存在。全国统一大市场呼唤统一信息平台，为此要（ ）

①抓住主要矛盾，发挥统一信息平台对资源配置的决定性作用

②树立全国“一盘棋”思想，把各领域信息平台建设联系起来考察

③坚持系统优化的方法，用综合的思维方式指导统一信息平台建设

④立足短板领域，破除统一信息平台建设中的“数字鸿沟”和信息壁垒

A. ①②

B. ①④

C. ②③

D. ③④

23. 劳动课程内容根据不同学段，制定了“整理与收纳”“家庭清洁、烹饪、家居美化等日常生活劳动”等学段目标。相关信息发布后，在网络上引发广大网民热议，对网民观点进行汇总后发现，主要分为以下几类：

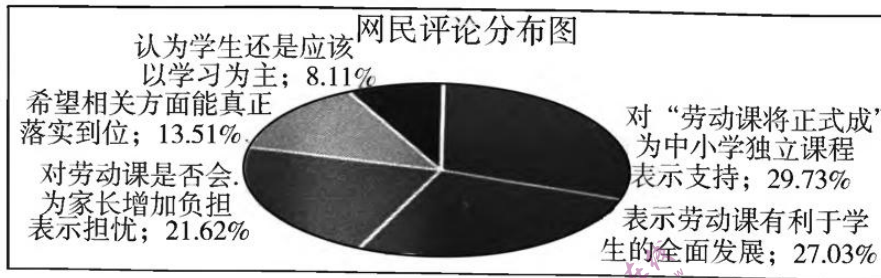


图 7

之所以会产生众多热议，是因为（ ）

①对客观事物的评价受到人的自身经历、情感、立场等因素影响

②价值判断和选择具有社会历史性，时代不同人们的观念往往不同

③对事物价值的评判有客观标准，人们对标准的把握有时不同

④不同时期的人在面对同一事物时会表现出不同的价值选择

A. ①②

B. ①③

C. ②④

D. ③④

24. 下表为战国晚期各国间以“会”为标志的主要外交活动简表。

时间	会盟国	会盟地点	时间	会盟国	会盟地点
前310	秦一魏	临晋（今陕西大荔东）	前283	秦一楚	郢（今河南漯河西）
前308	秦一韩	临晋外	前282	韩一秦	两周间（今河南洛阳）
前304	秦一楚	黄棘（今河南南阳南）	前279	赵一秦	滏池（今河南滏池西）
前285	秦一赵	中阳（今山西中阳）	前278	秦一楚	襄陵（今河南睢县）

据此可知，当时（ ）

A. 秦国向东扩张趋势明显

C. 结盟弭兵成为时代主流

B. 齐国退出争霸队伍

D. 交通发达争霸激烈

25. 唐代南禅寺、佛光寺塑像手法写实，表现了佛衣质感。菩萨衣着的覆盖面积极大地减少，胸膛、臂膀、手足等无不展现着一种裸露美。材料说明，唐代佛寺塑像（ ）

A. 推动市民文化繁荣

B. 反映出佛教的主导性

C. 与时代特色相呼应

D. 带有明显汉化的特点

26. 贞观年间重修《氏族志》，以官爵高下作等级。李唐皇族为首，外戚次之，博陵崔氏的黄门侍郎崔民干为第三等。显庆四年（659年），高宗又下诏改《氏族志》为《姓氏录》。官至五品的官僚皆为士族，升武氏为第一等。该现象反映了（ ）

- A. 朝政被外戚势力掌握  
B. 地方割据势力急剧膨胀  
C. 中央加强对地方控制  
D. 士庶界限进一步被打破
27. 元朝《市舶则法》规定，诸王、驸马、权豪、势要、僧、道等“下番（到国外去）博易到物货……依例抽解”，行省官、宣慰司官、市舶司官不得“拘占船舶”，不得“捎带钱物，下番买卖”。这些规定说明元朝（ ）

- A. 严格限制海外贸易  
B. 外贸管理水平提高  
C. 立法规范海外贸易  
D. 财政收入持续增加
28. 下表为江南乡村绅士管庭芬所作日记，据表可知（ ）

时间	内容
咸丰十一年（1861）六月十七日	“余家每日仅食粥”。
咸丰十一年（1861）十二月三十日除夕	生活困顿，未能钱腊，郁郁而寝，感慨“白头老母频嗟叹，八十余年无此穷”。
同治元年（1862）五月三十日	“时米价至万钱一石，举家食粥，尚不能继，忧虑之极。”
同治元年（1862）六月二十一日	“米价昂至万三千钱一石，民不聊生，余家仅杂粮和以糠批作糜，苟延旦夕，然尚恐不继。”

- A. 洋务运动热衷于求富目标  
B. 统治阶级内讧加剧了粮食危机  
C. 阶级斗争影响了农业生产  
D. 民不聊生成为各地的普遍现象
29. 1898年，某书商慨叹废八股将使自己损失惨重，后来发现“经学书犹有人买”，其损失并不如以前估计之大，而该书商对新学书籍的投资不久又面临亏损。这折射出当时（ ）
- A. 儒学失去统治地位  
B. 列强侵略步伐加快  
C. 政治局势变动迅速  
D. 西方学说深入人心
30. 下表为国民政府统治前期部分地区人口变化表，该表体现出（ ）

地区	时间	人口变化
江苏省	1931-1936	+23.95%
江西省		-91.76%
宁夏省		+22.23%

- A. 区域经济发展出现失衡  
B. 自然灾害导致人口减少  
C. 政治局势影响人口增减  
D. 列强侵略加速人口锐减
31. 1980年与1975年相比，我国粮食播种面积减少6884万亩，总产量却增加674亿斤；棉花播种面积减少53万亩，总产量增加652万担；油料作物和甜菜播种面积共扩大3626万亩，其总产量分别增加70%和150%。这种变化（ ）
- A. 为城市改革奠定了坚实的基础  
B. 缓解了城市商品粮紧张问题  
C. 改变了农村生产经营组织形式  
D. 有利于农村改革探索的深入
32. 公元前213年，马其顿国王腓力五世致信色萨利城市拉瑞萨当局说，你们或许可以看看罗马人的做法，“在奴隶获得解放时，把他们纳入公民队伍，让他分享官职。通过这种方式，罗马人不仅扩展了他们的国家，而且建立了大约70个殖民地”。腓力五世意在说明（ ）
- A. 开放公民权以增强国家力量  
C. 公民是国家管理的重要支柱



B. 加强公民参政意识有利于城市管理

D. 对外殖民扩张促进了罗马帝国建立

33. 西方传统宗教认为“宗教事是圣事，世俗工作是俗事”，世俗职业不能称“天职”，不具神圣性。马丁·路德指出，鞋匠、农民等和受了圣职的牧师一样，承担了工作的责任。加尔文进一步强调，努力劳作就是履行“天职”，就能成为上帝的“选民”。“天职”一词内涵的变化本质上反映出（）

A. 资本主义经济发展的需求

B. 政治平等成为民众追求的目标

C. 宗教思想影响西方职业观

D. 王权取代教权成为时代的潮流

34. 图8为1947年法国漫画家的作品《我们把布局图都交给了美国人》。漫画中矮个子是当时的法国总理拉马迪埃，高个子是已经辞职的戴高乐。该漫画的创作（）



图8

注：漫画中拉马迪埃捧着工厂模型，戴高乐捧着工业、资源布局地图

A. 受西方现代主义画派影响较大

B. 意在抨击美国杜鲁门主义

C. 表达了对法国经济安全的担忧

D. 寓示美法将合作对抗苏联

35. 有学者用全球进口总额占世界GDP的比例来衡量全球化的程度，并绘制了右边这条曲线。据此可知（）

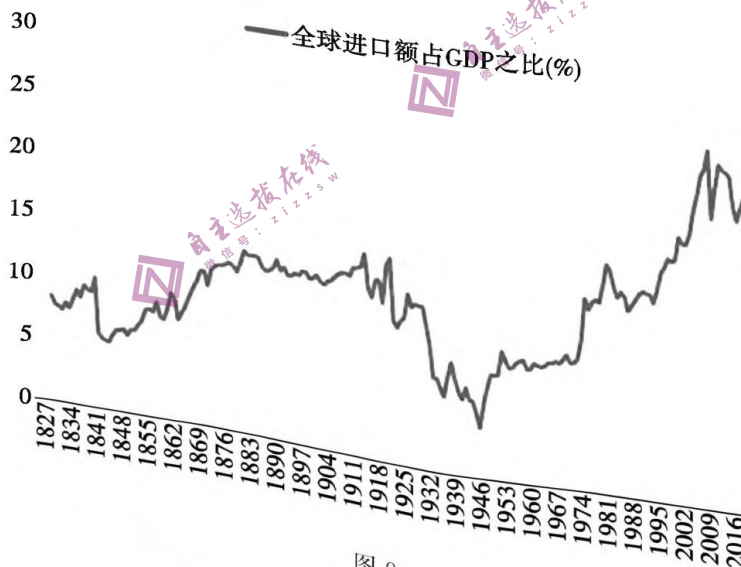


图9

A. 全球化进程曾随一战爆发而停止

B. 二战结束后全球化进程不可阻挡

C. 二战结束前全球化达到了最低谷

D. 全球化在阶段性退潮中持续发展

二、非选择题：共160分。第36~42题为必考题，每个试题都必须作答。第 43~4 题为选考题，考生根据要求作答。

(一) 必考题：共135分。

36. 阅读图文材料，完成下列要求。(22分)

卡塔尔是西亚的半岛国家，第22届世界杯足球赛举办地，虽然有丰富的石油和天然气资源，但这场世界级赛事的电力供应来源却主要是中国承建的光电项目。石油、天然气产业是卡塔尔的经济支柱，工业和制造业不发达。卡塔尔建有庞大的液化天然气基地，并拥有25艘Q型液化天然气运输船（运载能力比常规液化天然气船高50%-80%），是世界第一大液化天然气生产和出口国。图10为卡塔尔位置示意。

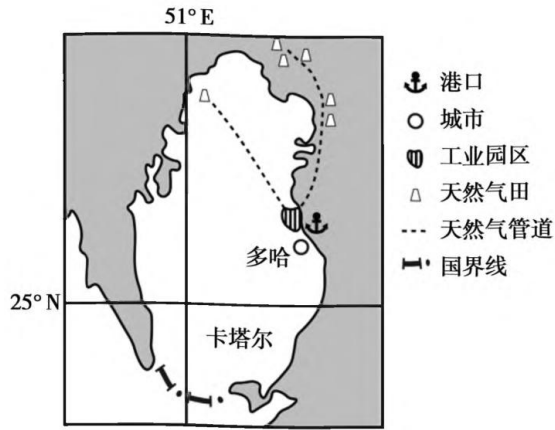


图 10

- (1) 分析卡塔尔建设液化天然气基地的优势条件。(8分)
- (2) 推测卡塔尔目前的经济结构特点，并说明其弊端。(6分)
- (3) 推测卡塔尔以世界杯为契机，大力发展光伏发电的意义。(8分)

37. 阅读图文材料，完成下列要求。(24分)

黄土高原是世界上水土流失最为严重的区域之一，生态系统极为脆弱。自国家相继实施退耕还林还草、封山禁牧等生态修复工程以来，黄土高原植被覆盖度已由1999年的31.6%提高到2018年的63%，但部分造林密度较大区的深层土壤出现干层现象。图11示意黄土高原平均降水量空间差异，图12示意2000-2020年黄土高原不同植被类型蒸发量的变化。

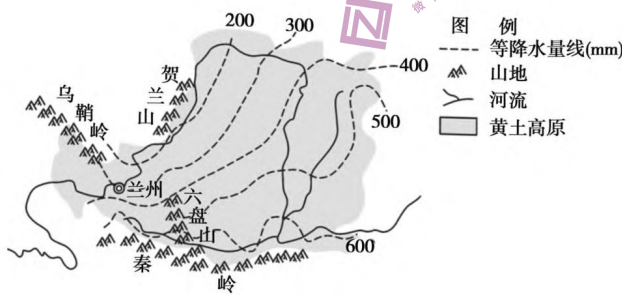


图 11

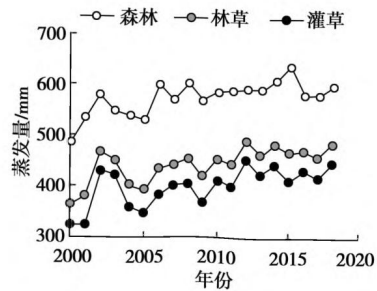


图 12

- (1) 从气候角度，分析黄土高原生态系统极为脆弱的原因。(6分)
- (2) 指出植被覆盖度提高对黄土高原生态修复的主要作用。(6分)
- (3) 说明造林密度较大区的深层土壤已出现干层现象的原因。(6分)
- (4) 试为提高未来黄土高原生态修复效果提出合理建议。(6分)

38. 阅读材料，完成下列要求。（14分）

加强基础研究，是实现高水平科技自立自强的迫切要求，是建设世界科技强国的必由之路。

材料一 2012-2022年我国基础研究经费投入情况

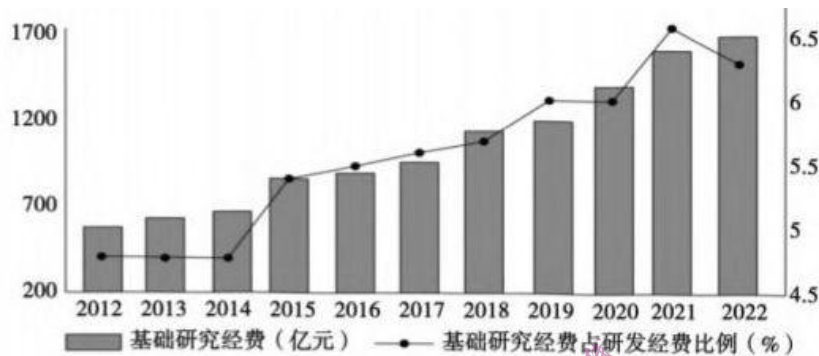


图13

注：欧美发达国家的基础研究经费占研发经费的比重稳定在15%到25%，政府资金占50%左右，企业资金占25%左右，高校和非营利机构资金占25%左右。2022年，我国政府和企业投入的基础研究经费占比分别约为92%、4%。

材料二 国家自然科学基金是中央财政支持基础研究的主渠道。近几年，我国提升国家自然科学基金及其联合基金资助效能，健全同基础研究长周期相匹配的科技评价激励、科技人员薪酬等制度，重点研发计划支持了300多个青年科学家项目，支持首席科学家团队勇闯科学的“无人区”。2022年，我国1169人入选“全球高被引科学家”，材料科学、化学、数学、物理学等12个学科的高水平学术论文被引次数进入世界前两位。同时，基础研究人员收入偏低缺少长期稳定的基地、深耕基础研究理论的团队比较匮乏等制约基础研究人才队伍建设的问题依然存在。

2022年，我国出台《关于企业投入基础研究税收优惠政策公告》，对非营利性科研机构、高等学校接收企业、个人和其他组织机构基础研究资金收入，免征企业所得税。2023年1月，100亿元公益基金资助的“新基石研究员项目”公布首届获资助名单，来自数学与物质科学、生物与医学科学两大领域的58位杰出科学家成为首批新基石研究员，引发社会广泛热议。

(1) 概括材料一反映的经济信息。（4分）

(2) 有观点认为，加强基础研究人才培养，只能依赖财政资金投入，不能靠企业和社会力量。结合材料，运用经济生活知识对此加以评析。（10分）

39. 阅读材料，完成下列要求。（12分）

习近平总书记强调，基层强则国家强，基层安则天下安，必须抓好基层治理现代化这项基础性工作。近年来，M村不断完善“村民议事会”制度，为提升基层治理水平，推动乡村振兴注入了民动力。

### 村务民主决策

“有个事情要和大家商量一下，现在高标准农田的项目可以在本村落户，需要流转大概500亩的土地

进行改造，改造好以后要复耕种粮食，大家考虑一下，再各自发表意见。”“流转出去拿租金，比荒着强得多，我也同意。”“土地租金是多少？怎么签合同？”……这是2022年M村推进高标准农田项目，召开村民会议时的情景。

### 村务公开监督

“这是上个月的低保户名单和补助金额，快看看都有谁。”“柳某家庭贫困，属实”“周某失明一级残疾，属实……”“10月份村财务支出，路灯电费517元，环境卫生用工1670元。差不多！”……在M村党员群众服务中心门口，前来办事的群众在村财务公开栏前你一言我一语地评议着。

### 纠纷就地化解

“你们说说，哪个盖屋不留排水管，非要从我屋头放，我想不通，这分明是针对我！”“那难道是我屋里以前不放水的，凭啥以前能放，现在不能放？”……面对村民王某和刘某两家因为排水问题产生的矛盾纠纷，M村引入村民代表和乡贤参与调解。通过提前调查、现场开会、当场表态、迅速解决等方法，有效缓解了村内矛盾激化、矛盾上交的局面。

结合材料，运用政治生活知识，阐明M村的基层治理经验。

## 40. 阅读材料，完成下列要求。（26分）

党的二十大明确指出，要推进文化自信自强，铸就社会主义文化新辉煌。在全国上下深入学习宣传贯彻党的二十大精神的重要时刻，2022年11月27日，首届仰韶论坛在河南省三门峡市举行。

三门峡是仰韶文化发现的圣地，从1921年到现在，仰韶文化的发现揭开了中国新石器时代考古的篇章。1921年10月，瑞典人安特生与中央地质调查研究所袁复礼等人，在仰韶村开始正式发掘，根据出土文物，安特生判断此地为中国远古文化遗存，并依照国际考古学惯例命名为仰韶文化。不过，他在判断仰韶文化起源上出现了严重的失误，提出“仰韶文化西来说”之后，梁启超次子梁思永、现代考古专家尹达、中国现代考古学的重要奠基人之一夏象、夏魏的学生石兴邦……一代代考古人筚路蓝缕、不懈努力，对仰韶文化源头不懈探寻，印证了融会裴李岗、磁山、老官台文化的仰韶文化，在中国远古大地上开枝散叶，发扬光大，演化为中国分布地域最为广泛的史前文化，形成最初的中国一体化文化圈，成为厘清中华民族文明起源的考古实证依据。

本届论坛以“深化仰韶文化研究探索中华文明起源”为主题，围绕贯彻习近平总书记致仰韶文化发现和中国现代考古学诞生100周年贺信重要精神，交流仰韶文化考古新发现、新进展，持续推动仰韶文化研究向纵深拓展，大力弘扬中华文明灿烂成就。仰韶文化的研究对于探索华夏文明的形成和发展，具有重要的意义。保护好仰韶文化就是保护三门峡发展的文脉，利用好仰韶文化这张“金色名片”，将对三门峡的城市文化建设产生深远影响。因为，一座城市正是以其有形和无形的文物遗迹、精神文化传统，才能形成自身的个性，才能塑造出独具特色的城市形象。而城市形象是城市物质文明和精神文明的重要体现。

（1）结合材料，运用文化生活知识，说明三门峡市如何利用好仰韶文化这张“金色名片”铸就文化新辉煌。（10分）

（2）结合材料，运用认识论知识，分析一百年来一代代考古人深化仰韶文化研究、探索中华文明起



源的过程。(12分)

(3) 某校高三(1)班拟举行“学习仰韶文化邂逅文明之花”活动,请你帮助他们提出两条建议。(4分)

41. 阅读材料,完成下列要求。(25分)

材料一 清朝是继承中国历代王朝传统而建立的统一多民族国家,在对边疆地区统治的过程中,建立了适宜边疆各民族习俗特点的管理边疆事务机构,并适时地颁布了相应的法制。清廷中央管理边疆事务的机构理藩院,与在边疆地区设置的各个施政部门分工明确。

乾嘉之际,《理藩院则例》修订告成,在边疆地区正式立法,用国家颁布的法律来约束各个民族地区活动,达到国家法制的统一。清廷从边疆民族地区特点出发,实行“众建而分其势”的基本政策思路。一方面分化和削弱边疆民族各部上层权势,同时又刻意加以笼络和抚绥,如朝觐制度、满蒙联姻。

-摘编自张岂之主编《中国历史·元明清卷》

材料二 美国的边疆治理主要指对西部的开发与治理,始于独立战争胜利后不久。面对广袤肥沃的土地,美国实行了以销售为主的土地政策。1862年美国颁布《宅地法》,规定“一切忠于联邦的成年人,交付10美元登记费,即可在西部领取160英亩土地”。同时特别注重发展铁路运输,1802年颁布《俄亥俄授权法》,规定公有土地的收入所得,按一定比例投入公共交通建设。……美国西部的边疆治理,还面临着如何使资本主义的民主制度,移植到西部并成长起来的挑战。这既是美国边疆治理的重要目标,也是边疆治理成功推进的保证。美国政府还推行了“熔炉”政策,核心是是强调盎格鲁-撒克逊文化与新的移民文化相互融合,形成新的文化形态。但是“熔炉”理论并不像其描述的那样美好,甚至很多时候是极端野蛮的。以印第安人为例,建国之初的100多万印第安人到19世纪末仅剩下2万人。

-摘编自张健《美国边疆治理的政策体系及其借鉴意义》

- (1) 根据材料一,概括清代边疆治理的特点。(9分)
- (2) 根据材料一、二,结合所学知识,对比分析美国和清代在边疆治理措施方面的不同点。(10分)
- (3) 根据材料并结合美国治理边疆的措施,指出对我国当代边疆治理的启示。(6分)




42. 阅读材料,完成下列要求。(12分)



法国卢浮宫博物馆

始建于1204年,由希腊罗马艺术馆埃及艺术馆、东方艺术馆、绘画馆、雕刻馆和装饰艺术馆等6部分组成。珍贵藏品有《断臂维纳斯》、《蒙娜丽莎》、《汉谟拉比法典》、奥斯曼帝国的孔雀瓷盘和中国的商周青铜器等。



 英国大英博物馆	<p>始建于1753年，设埃及馆、希腊罗马馆、西亚馆、欧洲中世纪馆和东方艺术文物馆等100多个陈列展览室。珍贵藏品有古希腊雕像，埃及木乃伊、中国东晋画家顾恺之的《女史箴图》、商周青铜器和敦煌壁画等。</p>
 俄罗斯艾尔米塔什博物馆	<p>始建于1764年，设古希腊罗马世界部、东方民族文化部、俄罗斯文化史部、修复保管等部。珍贵藏品有沙皇卧室、彼得大帝头发、拉斐尔的《圣母圣子图》、埃及木乃伊、伊朗银器、中国元代青花瓷、清代白玉佛手等。</p>
 中国故宫博物馆	<p>故宫博物院成立于1925年，其前身是明、清两代皇宫，包括太和殿、中和殿、保和殿、养心殿和乾清宫等。珍贵藏品有中国古代书画、法帖、织绣、陶瓷和青铜器等，如乾隆金瓯永固杯、《清明上河图》等。</p>

从材料中提取相关信息，拟定一个论题，并就所拟论题进行简要阐述。（要求：明确写出所拟论题，阐述须有史实依据。）

**（二）选考题：共25分。请考生从2道地理题、3道历史题中每科任选一题作答。如果多做，则按每科所做的第一题计分。**

43. [地理-选修3：旅游地理]（10分）

诗巴丹岛（4° N左右）坐落于东马来西亚西南，一年四季都适合潜水，被冠以“首屈一指的潜水天堂”，“上帝的水族馆”，“潜水员的麦加圣地”等美誉。1993年，经过具有影响力的潜水杂志访问后，被评为“世界五大峭壁潜水之首”，“未曾受过侵犯的艺术品”。去诗巴丹潜水需要提前申请许可证，每日只允许120人上岛，而且将会由驻军检查核实身份。除了限制每日上岛人数之外，岛上既没有酒店，也不住人，去诗巴丹岛的方式都是潜店开船带客人往返。

分析诗巴丹岛被称为“首屈一指的潜水天堂”的原因。

44. [地理-选修6：环境保护]（10分）

“西湖龙井”是杭州名茶，为使茶园获得更高的经济效益，茶农在茶园养鸡。鸡啄食杂草，寻食害虫，在茶园里自然生长，达到鸡、茶共增收的效果。

说明茶园养鸡农业模式的生态效益和经济效益的具体表现。



图 14

45. [历史-选修1: 历史上重大改革回眸] (15分)

材料 鸦片战争前, 国内洋钱的大量流通对传统称量货币发起了挑战。1833年5月24日林则徐向道光帝上书, 提出进行币制改革。首先, 林则徐表示不能对洋钱进行硬性的定价, 在使用洋钱的问题上, 最好在民便之中稍加限制。其次, 林则徐认为使用洋钱是大势所趋, 是不可抑制的, 应该让洋钱继续在国内流通。由于洋钱很受民众欢迎, 林则徐认为“应对洋钱最好的方法就是自铸银钱”。他的设想是: 官局先铸银钱, 每一枚以五钱纹银为准, 银币一面用文清铸其局名, 一面用汉字铸道光通宝四字。最后, 林则徐认为银贵钱贱的关键在鸦片, 只有政府大力禁烟, 才能抑制白银外流, 从而从根本上解决“银荒”问题。林则徐提出自铸货币以抑制洋钱, 严禁鸦片防治“银荒”等顺应民情、有利于当时国内货币流通的主张。但是由于当政者的昏庸、无知和技术不过关等, 这种自行铸造钱币的措施最终因无法与洋钱抗衡而停止。

-摘编自图拉古日《林则徐与近代中国币制改革》

- (1) 根据材料并结合所学, 概括林则徐货币改革的背景。(6分)
- (2) 根据材料并结合所学知识, 简述林则徐货币改革失败的原因。(9分)

46. [历史-选修3: 20世纪的战争与和平] (15分)

材料 二战结束后, 东南欧各国在共产党的领导下进行社会主义建设, 特别是多民族的南斯拉夫仿效苏联确立了联邦制, 这在当时的条件下起到了缓解民族矛盾的作用。在各国政权尚能控制局面的形势下, 东南欧地区的形势是相对平静的。苏东剧变, 使世界力量对比发生了根本性变化。作为胜利者的西方大国成为东南欧的主宰, 西方国家从一开始就以维护人权和民族自决权的名义支持斯洛文尼亚和克罗地亚等国独立, 并发动科索沃战争等肢解南联盟。原苏联势力被彻底排挤出东南欧地区后, 西方国家之间原有的和新生的许多“内部矛盾和利益冲突也逐渐浮出水面”。在东南欧, 欧盟国家考虑更多的是如何将东南欧纳入欧洲一体化的轨道, 完成欧洲一体化的大业。美国考虑的则是它在整个欧洲的存在和主导地位。而所有这一切, 使得东南欧地区重陷动荡和衰败之中, 至今看不到出路。

-摘编自李凡琳《东南欧的稳定与新地区主义》

- (1) 根据材料并结合所学知识, 概括冷战时期东南欧地区形势相对稳定的内部原因。(6分)
- (2) 根据材料并结合所学知识, 指出冷战后东南欧地区形势剧烈动荡的国际背景。(9分)

47. [历史-选修4：中外历史人物评说]（15分）

材料 1960年底，在钱三强的组织下，以于敏等为主的一群年轻科学工作者，悄悄地开始了氢弹技术的理论探索。于敏几乎从一张白纸开始，依靠自己的勤奋，举一反三进行理论探索。四年中，于敏、黄祖洽等科技人员提出研究成果报告69篇，对氢弹的许多基本现象和规律有了深刻的认识。1965年9月，于敏带领一支小分队赶往上海华东计算机研究所，抓紧计算了一批模型。于敏总结经验，带领科技人员又计算了一批模型，发现了热核材料自持燃烧的关键，解决了氢弹原理方案的重要课题。

1986年初，于敏对世界核武器科学技术发展趋势作了深刻分析，向中央提出了加速核试验的建议。1988年，于敏与王淦昌院士一起上书邓小平等中央领导，建议加速发展惯性约束聚变研究，并将它列入中国高技术发展计划，使中国的惯性聚变研究进入了新的阶段。

之后，于敏由于身体的原因逐渐退出研究领域，卸任中国工程物理研究院副院长，转而以“顾问”的身份继续为中国的核物理事业提供宝贵的咨询和建议。

- (1) 根据材料并结合所学知识，概括于敏在核技术方面的贡献。（9分）
- (2) 根据材料并结合所学知识，指出于敏身上所体现的精神。（6分）



