

银川市2023年普通高中学科教学质量检测

文科综合能力测试

本试卷共47小题，满分300分。考试用时150分钟。

注意事项：

1. 答题前，考生务必先将自己的姓名、准考证号填写在答题卡上。认真核对条形码上的姓名、准考证号，并将条形码粘贴在答题卡的指定位置上。

2. 选择题答案使用2B铅笔填涂，如需改动，用橡皮擦干净后，再选涂其它答案的标号；非选择题答案使用0.5毫米的黑色中性（签字）笔或碳素笔书写，字体工整、笔迹清楚。

3. 考生必须按照题号在答题卡各题号相对应的答题区域内（黑色线框）答题，写在草稿纸上、超出答题区域或非题号对应的答题区域的答案一律无效。

4. 保持卡面清洁，不折叠，不破损。

5. 做选考题时，考生按照题目要求作答，并用2B铅笔在答题卡上把所选题目对应的题号涂黑。

一、选择题：本题共35小题，每小题4分，共140分。在每小题给出的四个选项中，只有一项是符合题目要求的。

藜麦是营养价值丰富的农产品，深受消费者欢迎。藜麦原产地在安第斯山脉，国内在与原产地环境相近区试验种植获得成功，后推广种植。下表显示部分藜麦产地藜麦价格（数据来自惠农网）。据此完成1~3题。

藜麦批发地	所在地价格	时间
青海海西格尔木市	15.61元/斤	2023-03-24
山西忻州市繁峙县	12.68元/斤	2023-03-24
内蒙古呼和浩特市武川县	10.5元/斤	2023-03-24
云南丽江市古城区	13元/斤	2023-03-24
甘肃天祝藏族自治县	13.5元/斤	2023-03-24

1. 国内农民乐意引种藜麦，主要是因为

- A. 能丰富消费者饮食结构
B. 自然环境适宜
C. 藜麦价格高于主粮价格
D. 国家政策支持

2. 如果依照产地决定品质，品质决定价格的规律，可以判断藜麦能适应高价格区的生长环境，由此推测藜麦的生长习性应该是

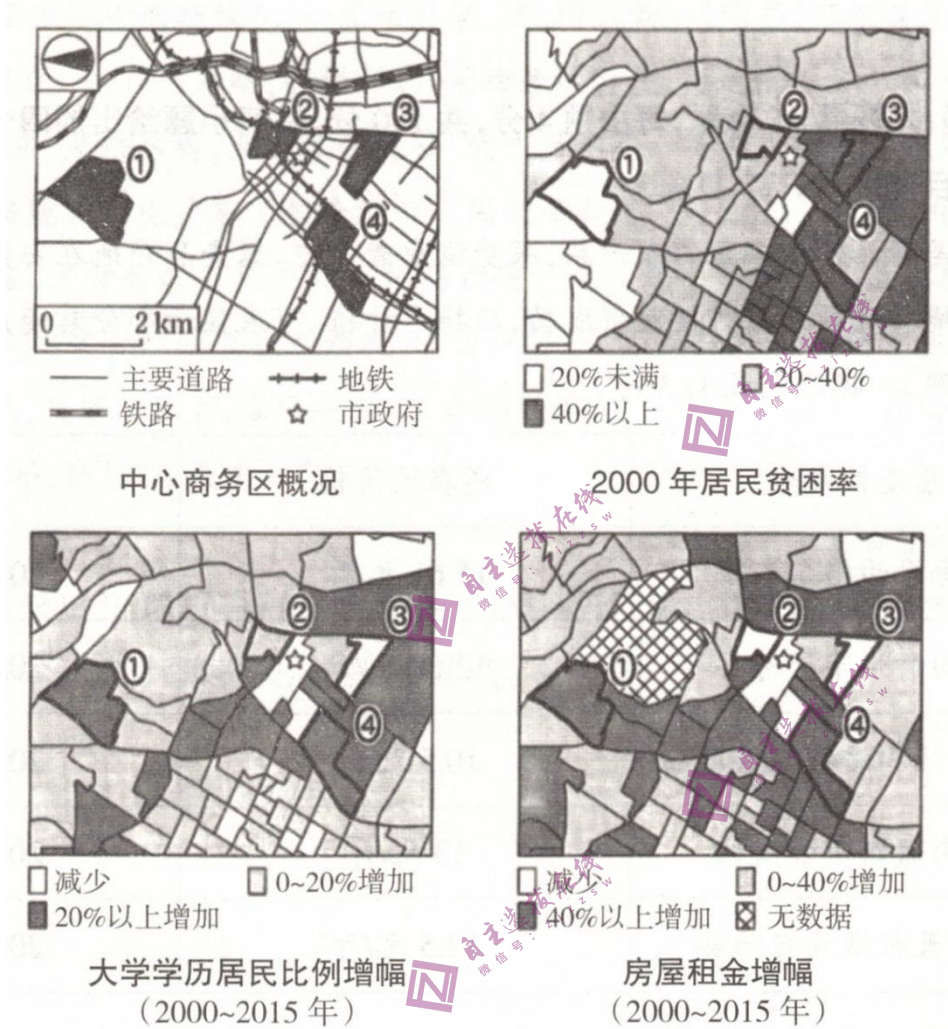
- A. 喜湿热
B. 耐寒旱
C. 喜湿凉
D. 耐干热

3. 藜麦属于杂粮辅助食品，家庭每次使用量少，主要通过电商购买。为降低成本，下列电商做法可行的

是

- A. 在产区到农户家收购
- B. 采用大包装袋销售
- C. 在产区建立大型仓库
- D. 集中在收获季销售

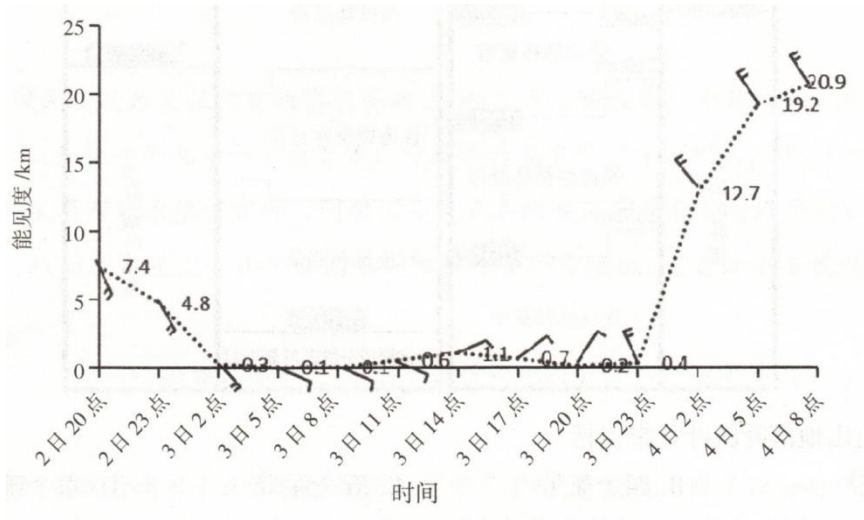
在发达国家大城市内部的衰退地区，由于白领等富裕人群流入而出现的再繁荣现象，叫做绅士化。近些年，一个又一个的贫苦劳工民区被白领等中产阶级入侵，直至所有原居的劳工都迁出后，整个社区面貌就彻底地改变了。下图显示某发达国家大城市中心商务区附近的概况和一些指标。据此完成4~5题。



4. 图中①~④区域能反映绅士化的是
- A. ①
 - B. ②
 - C. ③
 - D. ④

5. 绅士化产生的负面效应是
- A. 社会治安变差
 - B. 削弱传统文化
 - C. 存在种族排斥
 - D. 存在阶层排斥

海雾是在海洋影响下出现在海上的雾。海雾的生成主要是降温 and 增湿两个过程。2020年5月2日一次入海气旋在黄渤海引发大范围海雾。下图示意该时段成山头（山东省威海市）观测站的大气水平能见度和风随时间的变化。据此完成6~8题。



6. 判断2日20:00海雾产生的原因主要是

- A. 冷干空气遇到暖海水形成
- B. 暖湿空气遇到冷海水形成
- C. 冷湿空气遇到暖海水形成
- D. 暖干空气遇到冷海水形成

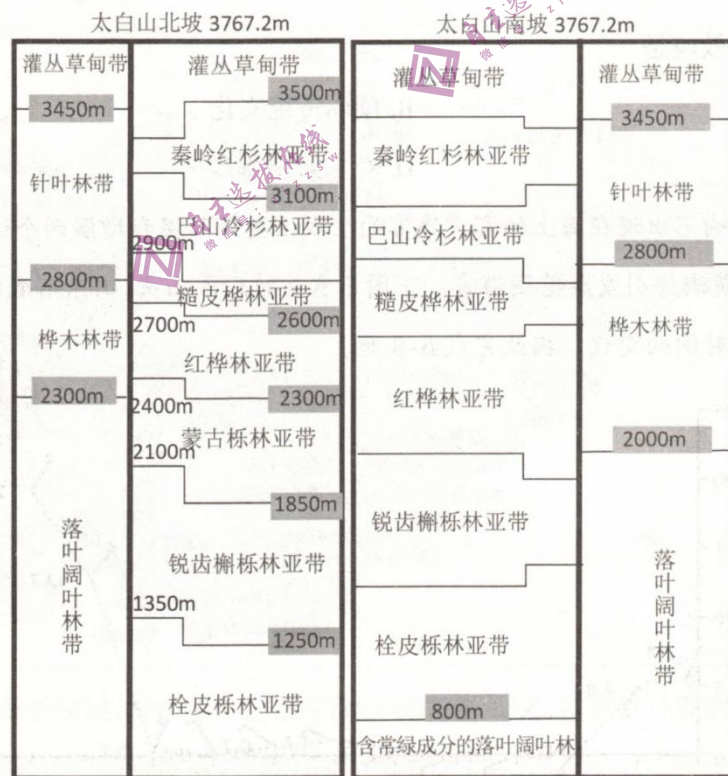
7. 3日白天大气水平能见度有所回升的主要原因可能是

- A. 受气温变化影响
- B. 受风向变化影响
- C. 受洋流变化影响
- D. 受人类活动影响

8. 推测3日23:00后雾区范围收缩方向为

- A. 自东向西收缩
- B. 自北向南收缩
- C. 自南向北收缩
- D. 自西向东收缩

秦岭位于我国南北方气候分界的过渡地带。下图示意秦岭主峰太白山南北坡垂直带谱。据此完成9~11题。



9. 判断太白山山地落叶阔叶林带包括

- A. 三个亚带 B. 四个亚带 C. 五个亚带 D. 六个亚带

10. 长白山南北两侧山地落叶阔叶林带谱极为相似，是因为长白山

- A. 过渡性的地理位置 B. 山体垂直高差较大
C. 南北两侧热量相同 D. 南北两侧降水相同

11. 长白山南坡蒙古栎林亚带消失，原因可能是

- A. 其上面自然带整体下移 B. 南坡自然带整体下移
C. 其分散到其它植被亚带 D. 其相邻亚带植被入侵

12. 根据中国质量协会发布的热水器、油烟机、空调、电视等多个家电产品的2022年用户满意度监测报告显示，具有语音控制、手机App控制等智能功能多的家电比非智能家电销量更好、用户满意度更高。相比非智能家电，消费者更青睐智能家电，是因为

- ①智能功能增加了家电的使用价值，让消费者有更好的体验
②智能功能减少家电生产的社会必要劳动时间，降低了价格
③智能家电与非智能家电存在功能上的替代关系，使用便捷
④智能功能提高了家电的社会劳动生产率，增加家电有用性

- A. ①② B. ①③ C. ②④ D. ③④

13. 2023年3月10日，某国一家资产规模超过2000亿美元专为初创企业融资的中型银行，在该国持续加息周期中遭遇流动性危机。该银行在近日宣布一份融资方案，引发市场恐慌，出现挤兑风暴导致银行倒闭。关于该国持续加息导致这家银行倒闭的传导路径正确的是

- ①企业提取存款→银行遭遇流动性危机→银行宣布融资方案
②企业融资难度增加→企业现金流减少→企业出现运转危机
③银行流动性危机公开→引发银行挤兑风暴→导致银行倒闭
④该国加息→银行贷款利率最大化→初创企业融资成本提高

- A. ①→④→②→③ B. ④→①→②→③
C. ①→②→④→③ D. ④→②→①→③

14. 民营经济已经成为保障民生、促进创新、活跃市场、推动中国高质量发展的生力军。党的二十大报告提出构建新发展格局，构建高水平社会主义市场经济体制，要坚持“两个毫不动摇”，优化民营企业发展环境，鼓励和支持民营经济和民营企业发展壮大，提振市场预期和信心，为企业创造公平竞争、竞相发展的环境。此举

- ①强化了民营经济的使命担当，激发市场主体活力
②意在强创新稳就业，推动民营企业展现更大作为
③进一步提升民营经济在国民经济中的地位和作用
④能够直接提振居民消费信心，拉动形成有效投资

- A. ①②
B. ①③
C. ②④
D. ③④

15. 外资是观察中国经济的重要窗口。根据2018-2022年中国实际使用外资金额统计图可以推断出近五年来

2018-2022年中国实际使用外资金额（亿美元）



- ①中国经济结构优化带来营商环境持续优化
- ②中国把恢复和扩大吸引外资摆在优先位置
- ③中国市场持续回暖，对外资吸引力不断增强
- ④中国在对外开放中逐渐从“走出去”转向“引进来”

- A. ①②
- B. ①③
- C. ②④
- D. ③④

16. 根据党的二十届二中全会审议通过的《党和国家机构改革方案》，十四届全国人大一次会议表决通过了关于国务院机构改革方案的决定。此次国务院机构改革重点是加强科学技术、金融监管、数据管理、乡村振兴、知识产权、老龄工作等重点领域的机构职责优化和调整，转变政府职能，建设法治政府。这表明

- ①新时代对优化政府职责体系和组织机构提出更新、更高要求
- ②党坚持依法执政，使党的主张通过法定程序上升为国家意志
- ③通过国务院机构改革，把国家治理效能更好转化为制度优势
- ④通过国务院机构改革，实现政府职能从管理型向服务型转变

- A. ①②
- B. ①③
- C. ②④
- D. ③④

17. 要想富，先修路。在党和政府的领导下，西藏公路交通基础设施在中央财政大力支持下加快完善：一条条公路串联起雪域高原的高山峡谷，一条条公路“穿城串镇”，“人享其行、货畅其流”。上述材料表明

- ①中央财政的大力支持是民族地区经济社会发展的基本保障

- ②国家对民族地区的财政转移支付是发展少数民族经济的重要手段
- ③中央财政的大力支持保障了自治区少数民族人民的自治权
- ④实现各民族共同发展、共同富裕、共同繁荣是党和国家的重要使命

- A. ①②
- B. ①③
- C. ②④
- D. ③④

18. 2023年3月20至22日，国家主席习近平对俄罗斯进行国事访问。习近平主席同普京总统就两国关系以及共同关心的重大国际和地区问题深入交换意见，促进两国战略协作与务实合作，发表关于深化新时代全面战略协作伙伴关系的联合声明。在乌克兰问题上，中方始终站在和平一边，站在对话一边，站在历史正确一边。由此可以看出

- ①维护世界和平，促进共同发展成为各国处理利益冲突的公认原则
- ②我国处理国际问题时主要根据伙伴国的国家利益制定相关政策
- ③中国坚定奉行独立自主的和平外交政策，始终做世界和平的建设者
- ④中俄将在不结盟、不对抗、不针对第三方原则基础上践行真正的多边主义

- A. ①②
- B. ①③
- C. ②④
- D. ③④

19. 在保证长城本体安全的前提下，北京箭扣长城在修缮过程中尽量用老砖、循古法，保留长城的“旧”。同时通过考古、建筑、材料等多学科合作，研究长城本体的演变过程、病害成因等，为科学编制保护方案提供更全面、系统的依据，延续了长城独特的文化景观特征，为历史文化遗产保护提供了有益借鉴。这意味着

- ①历史积淀的厚度是衡量传统文化先进程度的尺度
- ②与科技的融合有利于延续历史文化的当代价值
- ③保护历史文化遗产是文化传承和发展的重要前提
- ④厚重的历史积淀是历史文化创新与传播的前提

- A. ①③
- B. ①④
- C. ②③
- D. ②④

20. 电影《满江红》以《满江红·怒发冲冠》这首千古流传的古典诗词作为影片叙事主线，很好地处理了历史与艺术、真实与虚构、写实与想象的关系，将爱国主义价值编织进生动曲折、跌宕起伏、一唱三叹的情节叙述中，给观众带来极为生动、自然、深刻的爱国主义精神洗礼。这表明影视创作要

- ①推动优秀传统文化创造性转化、创新性发展

- ②深刻把握时代潮流，丰富传统文化本质内涵
- ③主动引领社会文化思潮，坚持凝聚社会共识
- ④弘扬主旋律，发展人民喜闻乐见的大众文化

- A. ①③
- B. ①④
- C. ②③
- D. ②④

21. 1992年9月21日，中国载人航天工程正式立项实施；2022年12月31日，国家主席习近平在新年贺词中向全世界郑重宣布中国空间站全面建成。几代中国航天人一步一个脚印，用了整整30年，完成了“三步走”战略任务，建成了自主建造、独立运行的“天宫”空间站，在浩瀚宇宙书写了用航天梦托举中国梦的壮丽篇章。几代中国航天人

- ①正确把握了事物发展的实质是新事物的产生和旧事物的灭亡
- ②坚持了在实践中认识和发现真理，在实践中检验和发展真理
- ③把握真理适用的条件和范围，随历史的变化不断推翻已有真理
- ④注重航天工程量的积累，不失时机促进航天工程发展质的飞跃

- A. ①③
- B. ①④
- C. ②③
- D. ②④

22. 漫画讽刺了一些人想问题、做事情

- ①不敢坚持革命批判精神与创新意识
- ②否认离开物质谈运动的形而上学做法
- ③做不到解放思想，实事求是，与时俱进
- ④不懂得自己肯定自己，自己发展自己

- A. ①③

- B. ①④

- C. ②③

- D. ②④



23. “如果你是一滴水，你是否滋润了一寸土地？如果你是一线阳光，你是否照亮了一分黑暗？如果你是一颗粮食，你是否哺育了有用的生命？如果你是一颗最小的螺丝钉，你是否永远坚守在你生活的岗位上……”《雷锋日记》中的这段话启示我们要

- ①坚持人是价值的创造者和价值的享受者
- ②坚定理想信念，坚持正确价值观的指引
- ③践行人的价值在于对社会的责任和贡献
- ④在个人与社会的统一中实现自己的价值

- A. ①③

- B. ①④

- C. ②③

- D. ②④

24. 《尚书·盘庚》中有“古我前后，罔不惟民之承”的记载；武王伐纣檄文《牧誓》中指责纣王信任“多罪逋逃”之人，放任其“俾暴虐于百姓”；《尚书·周书》有“欲至于万年，惟王，子子孙孙永保民”等记载。这可以说明

- A. 早期国家已有民本思想的实践
B. 商周统治者敬天保民思想
C. 中国古代民本思想的发展历程
D. 施行仁政规范了社会秩序
25. 汉代政府通过减赋税、省开支、开放官仓来赈济灾民；武帝统治期间，曾两次由政府组织灾民移徙就食，以度灾荒；东汉时，朝廷更是鼓励官员和吏民出钱出谷，协助救灾。这些社会救济措施的出现
- A. 反映了外儒内法的理念
B. 有赖于“均输平准”制度的实施
C. 体现了政府主导的特征
D. 缘于全国交通运输网络的通畅
26. 唐朝每榜所取进士人数，不过二三十人，且多有士子与考官交通之情形；南宋理宗宝祐四年，登科录取祖上三代履历完整的进士有570名，其中三代皆不仕者307人，占总数的一半以上。这反映了
- A. 士族阶层开始衰落
B. 人才选拔机制渐趋开放
C. 程朱理学成为正统
D. 家族门第观念已然瓦解
27. 清代基层社会组织的家规、族规、乡约、行规等均需呈官批准、拓印盖章方才有效；基层组织的公产也需报官存案、立户领契、缴纳赋税方为合法。这说明了清代
- A. 基层组织成为封建统治的重要补充
B. 契约文书取代律法成为基层治理依据
C. 中央政府强化对地方政府的控制力
D. 乡约族规的制定推动法治社会的建构
- 28.

时段	总人数	年均
1801-1850年	32万人	6400人
1851-1875年	128万人	5.12万人

上表是清代后期福建、广东出国契约华工人数的变化情况，这一变化反映了当时中国

- A. 沿海城市化发展吸纳剩余劳动力
B. 被卷入资本主义世界市场体系
C. 劳动力跨国流动成为就业新主流
D. 政府开始大规模组织劳务输出
29. 1919年6月5日之前，上海租界报纸时常表示对学生运动的同情；但6月5日之后，便开始警告公众不要在租界发放传单，禁止上街游行，《北华捷报》更是将学生运动称之为“骚乱”。这一转变
- A. 推动帝国主义侵华阵营瓦解
B. 体现了中国共产党对运动方向的引导
C. 折射出五四运动影响力剧增
D. 表明了列强对于社会剧变的强烈排斥
30. 1922年5月，彭湃到广东海丰地区开展农民运动，起初并未获得农民的信任，后来通过创办农民运动讲习所大量培养农运人才，一年后，运动区域迅速扩大，农运会员从数十人增加到二十余万人。这一变化反映出早期中国共产党领导人
- A. 提升了农民阶级的文化素养
B. 推动国民革命运动快速发展
C. 壮大了革命统一战线的力量
D. 依据革命实际调整斗争策略
31. 1986年，有西方记者评价中国农民企业家“几乎没有任何商业方面的经验”“不知道如何管理一家工厂，不知道如何做财务报表，也不知道怎样才能生产出质量合格的产品”。然而，他们的企业却蓬勃发展。这种现象出现的主要原因是
- A. 社会主义市场经济体制的建立
B. 农村经济体制改革不断深入
C. 国家经济结构调整任务的完成
D. 全方位对外开放格局的形成

32. 喜剧作家阿里斯托芬曾指出：雅典的立法权仅限于有资格参加公民大会的人；鼓励煽动并滥用贝壳投票，放逐贤能之士；以抓阄或轮流方式决定公职人选，年年换人，造成城邦的混乱。这表明雅典

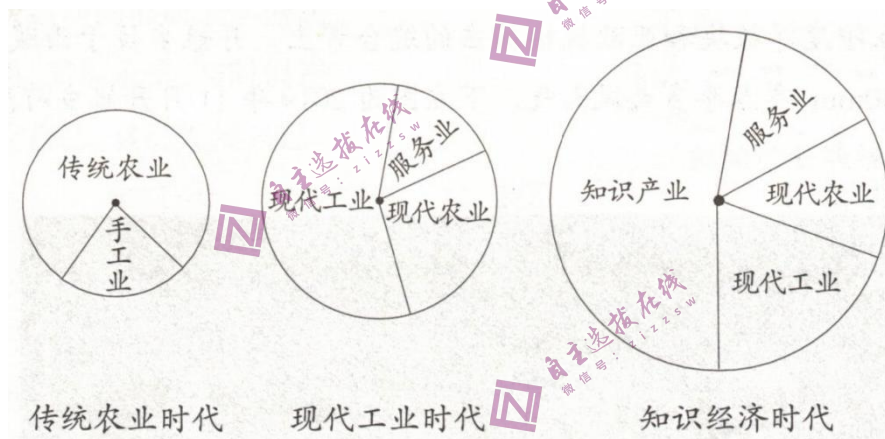
- A. 公民意识日益淡薄
- B. 贤能之士遭遇排挤
- C. 官员素质急剧下降
- D. 民主制度存在缺陷

33. 1556-1665年是西班牙政治、神学、法律、经济、地理、古典文学等各种著作频出的时代；英国诗人哈勒姆评论说：“菲利普二世治下的西班牙，在学术上远超出伊丽莎白统治下的英国。”这表明当时

- A. 启蒙思想在欧洲大陆广泛传播
- B. 西班牙资本主义的迅速发展
- C. 海外扩张开阔了学者研究视野
- D. 西欧浪漫主义流派开始盛行

34. 18世纪80年代，英国工人埋怨梳毛机导致成千上万的工人失业，无以持家，并且呼吁雇主们抛开偏见和私利，禁止使用机器；但即便是开明的雇主，虽承认机器对工人造成极大的危害，可他们仍认为机器的使用必不可少，否则意味着行业的衰落。由此可知，这一时期的英国

- A. 工人阶级力量迅速壮大
- B. 劳资双方因利益不同开始对立
- C. 议会改革形势迫在眉睫
- D. 生产组织形式发生了重大变化



上图是人类文明发展以来，三种不同经济时代的经济结构示意图，其中不同产业所占比例的变化

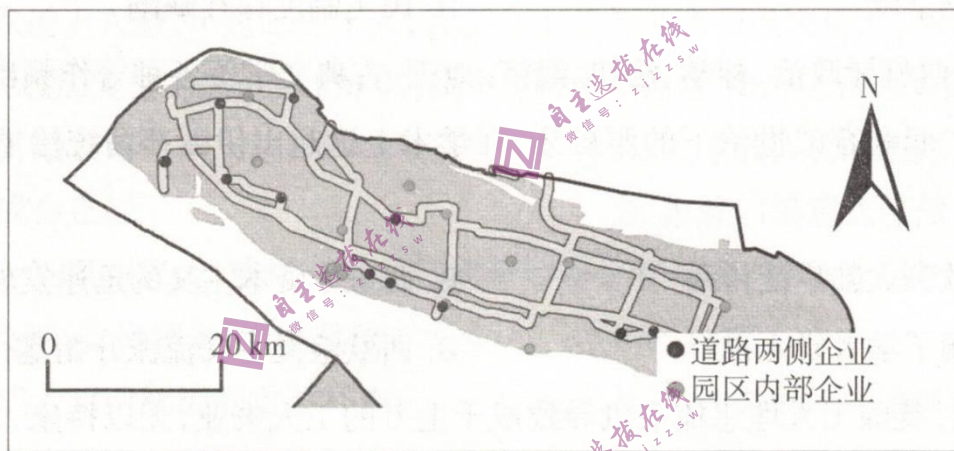
- A. 反映了人类获取财富的主要方式的变革
- B. 缩小了发达国家与发展中国家之间的差距
- C. 推动了国际政治经济新秩序的持续发展
- D. 促进了经济全球化和文明多样化和谐共生

二、非选择题：共160分。第36~42题为必考题，每个试题考生都必须作答。第43~47题为选考题，考生根据要求作答。

(一) 必考题：共135分。

36. 阅读图文材料，完成下列要求。(24分)

上海是国家中心城市和科技创新中心，众多知名工业机器人企业总部布局于此，工业机器人产业处于全国领先地位。上海工业机器人产业链上游（零部件制造）和中游（本体制造）发展受到多种因素制约，致使工业机器人企业纷纷集聚于产业链下游（系统集成和销售），同时下游企业成立成本低，又承接“智能制造2025”产业发展机遇，大量自动化系统集成企业在此集聚，截至2020年共有4482家。下图示意上海崇明岛工业机器人企业分布情况。



- (1) 简述上海成为工业机器人生产中心的优势条件。(6分)
- (2) 分析工业机器人产业链上、中、下游企业各自需求的人才类型。(6分)
- (3) 分析企业布局在道路两侧和布局在园区内部对交通、宣传、厂地面积的不同需求。(6分)
- (4) 请你对上海工业机器人产业今后的发展提出合理化建议。(6分)

37. 阅读图文材料，完成下列要求。(22分)

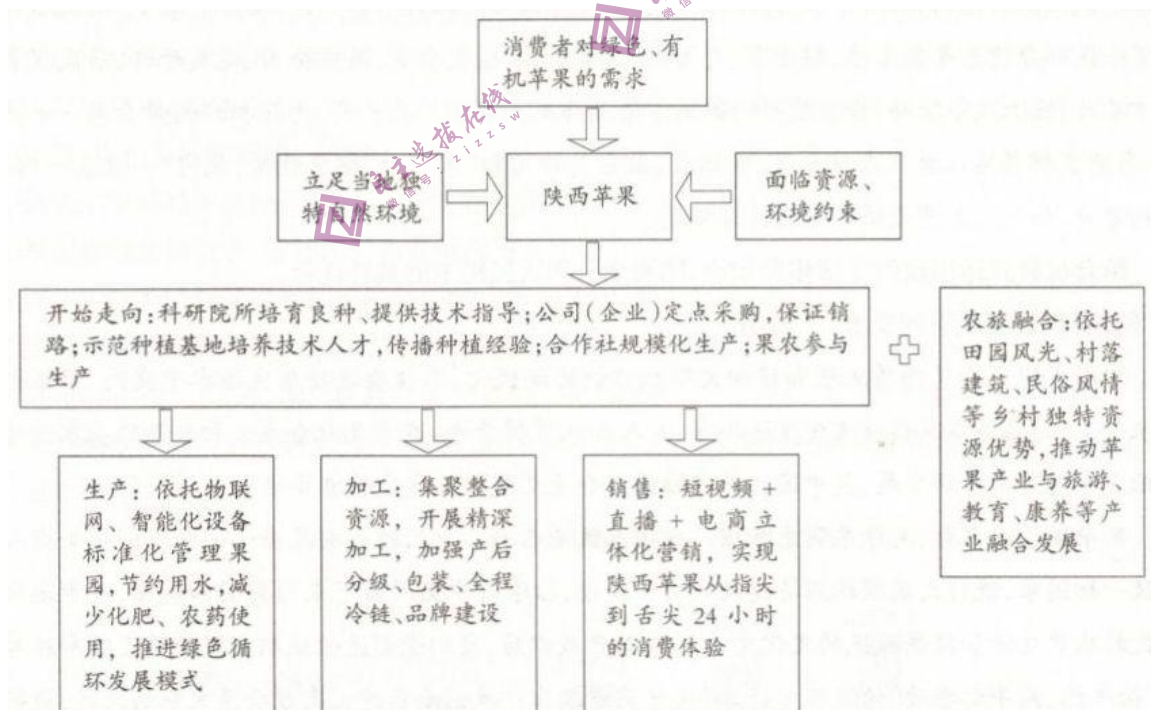
雅鲁藏布江处在印度洋板块和亚欧板块撞击的缝合带上。丹娘乡位于西藏雅鲁藏布江中游地区，年降水量大约640mm，冬春季多大风天气。下左图为2019年11月丹娘乡河段卫星图，下右图为丹娘沙丘局部图（阴影部分为陡坡）。



- (1) 描述图示区域的河谷特征并说明其形成过程。(10分)
- (2) 说明该段河流的流量、流速、含沙量特征。(6分)
- (3) 分析丹娘沙丘的沙源及该地的主导风向。(6分)

38. 阅读材料，完成下列要求。(14分)

陕西立足适合苹果生长的独特自然资源，成为中国最大的苹果主产区和全球集中连片种植苹果规模最大的区域。过去，陕西全省苹果生产面临布局分散、产业链条短、发展粗放、市场高品质苹果以及衍生产品供给不足与资源环境约束加剧并存等问题。近几年，陕西依据现存问题，走向新的发展之路，一颗苹果成了带动农民增收致富的大产业。陕西苹果的发展模式如下图所示。



结合材料并运用经济生活知识，分析陕西如何让一颗苹果成了带动农民增收致富的大产业？

39. 阅读材料，完成下列要求。(12分)

在中国越来越丰富的民主实践中，人们切实感到全过程人民民主在国家稳定、社会现代化进程中发挥出的独特优势。

通过民主选举，在十四届全国人大2977名代表中：少数民族代表442名，全国55个少数民族都有人大代表；归侨代表42名；妇女代表790名；一线工人、农民代表497名，其中有56名农民工代表；专业技术人员代表634名；党政领导干部代表969名。

在上海，依照相关法律规定、党建引领把人民当家作主融入旧城改造全过程。改造前，上海市政府向社会公示改造方案，并广泛向公众、专家征求意见。改造中，居民自主签约、自主搬迁成为践行全过程人民民主的范例，书写了“人民城市人民建、人民城市为人民”的新时代答卷。在武汉，武昌区春天里小区部分设备年久失修，因为有“月月谈”议事会，小区业委会、物业公司、党员干部、居民代表等多方参与，线上线下联动，资金难题的解决方案最终达成共识。在广州，为保护广州母亲河—流溪河，当地发挥属地人大代表信息员、观察员、监督员作用和“家门口”监督优势，试行“一代表一河段”挂钩督办，如今流溪河流域水生态持续恢复。

结合材料并运用政治生活相关知识，阐明全过程人民民主的独特优势。

40. 阅读材料，完成下列要求。(26分)

中国式现代化是物质文明和精神文明相协调的现代化，不仅要求物质生活水平提高、家家仓廩实衣食足，而且还要求精神文化生活丰富、人人知礼节明荣辱。在立足社会主义初级阶段基本国情的基础上实现二者协调发展，是中国共产党推进社会主义现代化建设的重要经验。

新中国成立之初，毛泽东同志指出：“中国人民业已有了自己的中央政府……它将领导全国人民克服一切困难，进行大规模的经济建设和文化建设，扫除旧中国所留下来的贫困和愚昧，逐步地改善人民的物质生活和提高人民的文化生活。”改革开放以后，我们党创造性地确定了物质文明和精神文明“两手抓、两手都要硬”的战略方针。邓小平同志指出：“我们要在建设高度物质文明的同时，提高全民族的科学文化水平，发展高尚的丰富多彩的文化生活，建设高度的社会主义精神文明”。党的十八大以来，以习近平同志为核心的党中央高度重视精神文明建设。习近平总书记指出：“当高楼大厦在我国大地上遍地林立时，中华民族精神的大厦也应该巍然耸立。”

(1) 中国共产党推进社会主义现代化建设的发展历程表明，中国式现代化发展既有物质文明，又有精神文明，是二者的协调发展。结合材料并运用矛盾的同一性知识对此加以分析。(12分)

(2) 结合材料,运用文化的社会功能相关知识说明为什么坚持物质文明与精神文明协调发展成为中国共产党推进社会主义现代化建设的重要经验。(10分)

(3) 清明节前,学校团委计划发起“传承红色文化推动精神文明建设”活动,请你就该活动向团委提出两条建议。(4分)

41. 阅读材料,完成下列问题。(25分)

材料一

中世纪中期(1000-1300年)西欧经济的缓慢复苏和工商业的发展,促使了城市和市民阶层的兴起。随着城市财富和人口的增长,市民阶层为争取自身权益展开了一系列斗争……这些斗争,在经济上动摇了封建制度赖以存在的庄园制农业经济基础;在社会关系上削弱了与封建领主的人身依附关系;在政治上则与封建王权保持着利益和意识形态上的一致。与此同时,西欧国家的王权在向封建领主不断发起进攻时,鼓励城市和市民阶层积极参与国家政治,依靠市民阶层的财政支持和政治合作,王权逐渐取得了对封建领主的优势,为近代中央集权君主政体的建立奠定了基础。

-摘编自计秋枫《市民社会的雏形-中世纪欧洲城市与市民阶层的历史作用》

材料二

明末江南市民阶层为反抗官府的横征暴敛,掀起了多次的抗争。市民阶层把东林党人作为自己的政治代言人,知识分子也学会了依靠市民阶层的力量来对抗专制权力。崇祯四年(1631年)苏州府颁布了“为永革布行承值当官碑”,明确宣布废止各级政府官员和吏胥人等对江南工商业者巧取豪夺的特权,从而在客观上承认了江南市民维权斗争的合法性,这是江南市民社会趋向成熟的表现。

-摘编自许苏民《中国文化现代化的历程-17世纪中西大分流的历史教训》

材料三

新中国初期,国家对城市市民社会组织体系进行了重构,有效地实现了社会的全面整合,在较短时间内构建了新政权的社会基础。以强大的市民社会组织体系为依托,中国共产党成功地将一个个动乱分裂的城市改造成为社会主义的新型城市。

-摘编自高中伟《新中国成立初期党对城市市民社会组织重构》

(1) 根据材料一并结合所学知识,概括中世纪中期西欧市民社会发展的特点,并分析其影响。(10分)

(2) 根据材料二并结合所学知识,分析明末江南市民社会形成的背景,并指出其与中世纪中期西欧市

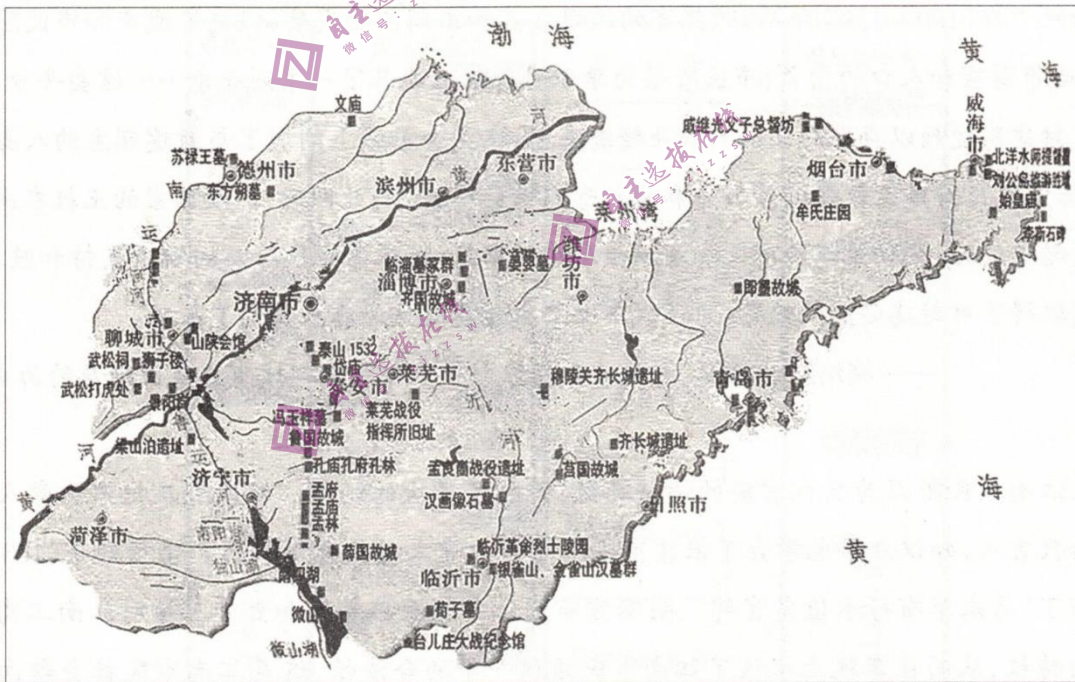
民社会发展的不同。(10分)

(3) 根据材料三并结合所学知识, 简析新中国初期重构市民社会组织的意义。(5分)

42. 阅读材料, 完成下列要求。(12分)

材料

山东省旅游景点分布图



根据材料并结合所学知识, 自拟历史主题, 设计一条旅游线路, 并就设计理念加以说明。(要求: 明确写出历史主题, 线路应列出具体景点, 说明须史论结合。)

(二) 选考题：共25分。请考生从2道地理题、3道历史题中每科任选一题作答。如果多做，则每科按所做的第一题计分。

43. [地理-选修3：旅游地理] (10分)

学者向世界气象组织提出将庐山列入首批世界气象公园之列。庐山蕴藏的气象魅力正在被人们进一步关注、捕捉和科学解读。一旦庐山世界气象公园顺利建成，庐山的日出、云海（云雾、云瀑）、雾凇、雨凇（由冻雨形成）和佛光等气象奇观就会被更多的人观察欣赏。可以预见，在不久的将来，前往庐山的人将能够更好地观赏蔚为壮观的气象景观，人们对庐山气象之美进行审美体验的时候，对庐山的认知也将得到深化和拓展。

- (1) 试分析庐山气象景观旅游资源的价值。(6分)
- (2) 说出观察欣赏庐山雨凇、雾凇应做的安全防范准备。(4分)

44. [地理-选修6：环境保护] (10分)

东亚某国在造纸行业中开展了一系列节能减排工作。下表为该国造纸行业的一些统计数据。

年度	国内原料林 (万公顷)	国外原料林 (万公顷)	废纸利用率 (%)	单位产品化石能源 (%)
1990	14.6	12.9	51.6	100
2000	12.8	27.8	57.2	93.6
2005	15.0	38.7	60.5	85.1
2010	14.7	54.3	62.6	74.5
2011	14.7	54.4	63.1	74.6

- (1) 请利用上表中的数据分析该国开展的节能减排工作。(6分)
- (2) 评价这些工作的开展对本国及原料来源国的利弊。(4分)

45. [历史-选修1：历史上重大改革回眸] (15分)

材料

西安事变和平解决后，中国工农红军在中国共产党的领导下顺应国共合作抗日的需要进行改编。在改编谈判中，共产党虽然答应了国民党提出的红军改名称、换服装、与国民党军队统一编制等要求，但始终

坚持党对八路军的绝对领导权和指挥权。在八路军各级职务配备上，坚持“党指挥枪”的原则，只允许国民党向八路军派驻联络人员。在军事指挥上，八路军坚持独立自主实施军事行动，只同意国民党有要求八路军配合作战的协商权。改编不久，中共中央发现军队中军阀作风等不良习气有所滋长，中央军委立即在八路军中恢复了政治委员制度。此后，八路军积极配合国民党正面战场的作战，在敌后进行游击战，牵制和打击日军。抗日战争进入战略相持阶段以后，国民党正面战场屡遭失利，八路军却在敌后越战越强。中国工农红军主力最终完成改编，出师抗日，这是具有重要历史意义的事件。

-摘编自丁家琪《中国工农红军主力改编为八路军的谈判斗争》

- (1) 根据材料并结合所学知识，简析中国工农红军主力改编为八路军的背景及其特点。(9分)
- (2) 根据材料并结合所学知识，说明中国工农红军主力改编为八路军的历史意义。(6分)

46. [历史-选修3：20世纪的战争与和平] (15分)

材料

1944年6月，美英盟军在诺曼底登陆并攻破了德军“大西洋壁垒”。盟军快速向东推进的同时从战俘营解放了大量苏联战俘，而苏军在其占领区也解放了大量英、美战俘。各国都迫切希望本国战俘能尽快被遣返回国，这促使美、英政府与苏联政府就相互遣返战俘问题进行谈判。1945年2月，美、英、苏三国在雅尔塔会议上，达成了尽快将各自营地上的盟国战俘遣返回原籍国的协定。苏联政府要求无论苏联战俘意愿如何，必须将其全部强制遣返回苏联。5月，三国在德国莱比锡进一步商讨遣返细节并缔结相关协定。协定执行初期，美英两国按照苏联政府的要求进行遣返；然而1945年9月后，美国以“一切战俘都有选择是否被遣返的权利与自由”为准则，不再认同并停止了强制遣返苏联战俘的做法。

-摘编自李旋《二战后美国的苏联战俘遣返政策之转变》

- (1) 根据材料并结合所学知识，简析二战后美国对苏联战俘遣返政策的变化及其原因。(9分)
- (2) 根据材料并结合所学知识，说明二战后美国对苏联战俘遣返政策变化的影响。(6分)

47. [历史-选修4：中外历史人物评说] (15分)

材料

洗夫人(512-602年)，岭南越族人，一生历经梁、陈、隋三朝。《隋书》记载其家“世为南越首领，跨据山洞，部落十余万众。夫人多筹略，抚循部众，每劝亲族为善，由是信义结于本乡。”当时，岭南地区

农业经济大部还处在“火耕水耨，无有蓄积之资”的生产水平。洗夫人引入中原农耕技术，积极提倡“尽力农事”，使得当地农业生产有了显著提升。隋文帝仁寿元年（601年），番州总管赵讷贪虐害民，岭南诸部多有亡叛，文帝降勅委托洗夫人招慰亡叛。她以九十高龄亲载诏书历十余州，宣述圣旨，抚慰民众。洗夫人把梁、陈、隋三朝所赠礼品，分三库保管，每逢年节在庭中展示，并告诫子孙：“汝等宜尽赤心向天子，我事三代主，唯用一好心。今赐物俱存，此忠孝之报也。愿汝皆思念之！”仁寿二年（602年），洗夫人卒，谥曰“诚敬夫人”。

—摘编自白寿彝《中国通史》

- (1) 根据材料并结合所学知识，简析洗夫人能够对岭南地区开发做出贡献的原因。（8分）
- (2) 根据材料并结合所学知识，评价洗夫人的历史功绩。（7分）

