

太原市2023年高三年级模拟考试(一)

文科综合能力测试

(考试时间:上午9:00—11:30)

注意事项:

1. 答题前,考生务必将自己的姓名、考试编号填写在本试卷相应的位置。
2. 全部答案在答题卡上完成,答在本试卷上无效。
3. 回答选择题时,选出每小题答案后,用2B铅笔把答题卡上对应题目的答案标号涂黑。如需改动,用橡皮擦干净后,再选涂其他答案标号。回答非选择题时,将答案用0.5mm黑色笔迹签字笔写在答题卡上。来源:高三答案公众号
4. 考试结束后,将本试卷和答题卡一并交回。

一、选择题:共35小题,每小题4分,共140分。在每小题给出的四个选项中,只有一项是符合题目要求的。

“时间银行”互助养老是指由年轻人、低龄老人为高龄老人提供服务,并将服务时长换算成时间币存入“时间银行”,待自己需要时再取出兑换他人为自己服务的养老模式。1998年我国引入“时间银行”,2018年将其纳入全国居家社区养老服务改革试点范围。图1示意1998~2020年我国“时间银行”的发展过程及数量的变化。据此完成1~3题。

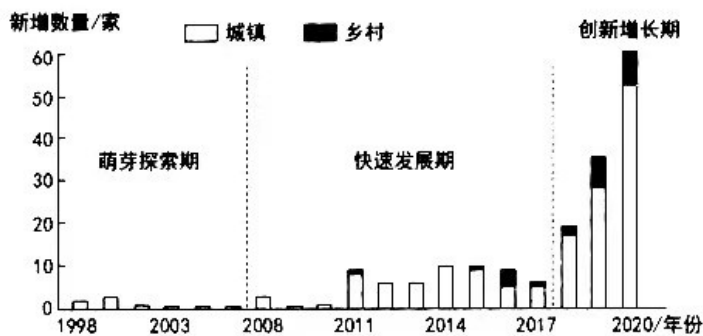


图1

1. 我国引入“时间银行”互助养老模式的初衷是为了
- A. 充实老人退休生活 B. 缓解人口老龄化
C. 减轻社会养老压力 D. 发挥老年人余热

2. 创新增长期, 驱动我国“时间银行”发展的核心因素是

- A. 金融服务业发展
- B. 政府的支持力度
- C. 社区的组织能力
- D. 老龄化程度加剧

3. 导致我国“时间银行”城乡差异的主要因素是

- A. 经济发展水平
- B. 家庭人口规模
- C. 邻里之间关系
- D. 公众接受程度

衢州市经济发展水平低于浙江省平均水平。为打造经济发展新的增长点, 衢州市没有承接发达地区的产业转移, 而是“逆向”在杭州未来科技城内建设了为衢州重点培育数字经济、智慧产业、科技金融类产业的“衢州海创园”, 形成“研发孵化在杭州, 产业在衢州”的格局。据此完成4~5题。

4. 衢州产业选择在杭州研发孵化, 主要是因为杭州更有利于

- A. 简化生产流程
- B. 吸引人才和高端项目
- C. 进行产业配套
- D. 开拓国内和国际市场

5. 建设“衢州海创园”, 对衢州的重要意义在于

- A. 增加就业岗位
- B. 完善产业体系
- C. 加速产业升级
- D. 降低生产成本

水电站蓄水运行后, 其下泄水温直接影响下游水生动植物的繁殖和发育。图2示意长江上游部分河段, 图3示意甲、乙两水文站在水库蓄水前后的水温变化。据此完成6~8题。

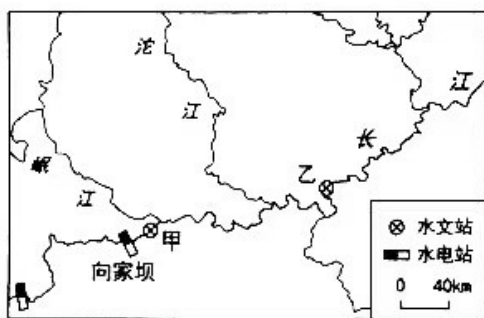


图2

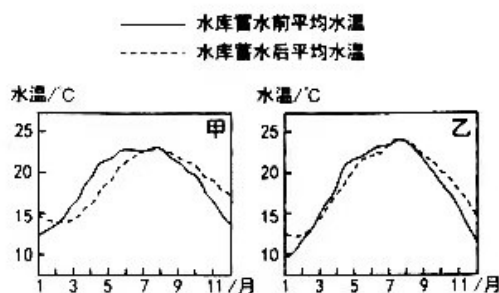


图3

6. 水库对坝下水温的影响主要表现为

- A. 春季低温水下泄
- B. 夏季高温水下泄
- C. 秋季低温水下泄
- D. 冬季低温水下泄

7. 水库对坝下水温的影响程度主要取决于水库的

- A. 面积
B. 深度
C. 宽度
D. 长度

8. 乙水文站春季蓄水前后水温变化幅度小于甲水文站,是因为乙水文站

- ①纬度较高 ②距海洋较近 ③受支流汇入影响 ④距水电站较远
- A. ①②
B. ②④
C. ①③
D. ③④

若尔盖古湖(今若尔盖盆地)的消亡与黄河贯通,是青藏高原东部水文环境变化的转折点。图4示意若尔盖盆地水系分布,甲地位于黄河左岸的二级阶地上,其沉积剖面(图5)记录了若尔盖湖、河环境演化的历史,是研究黄河溯源侵蚀切开若尔盖盆地的典型沉积证据。据此完成9~11题。



图4

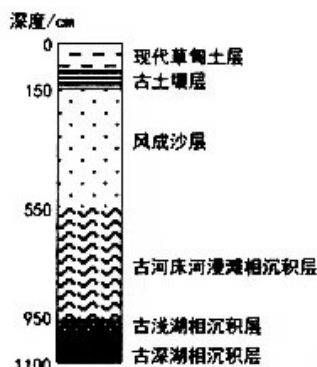


图5

9. 图5中能反映古湖水外泄过程的沉积层是

- A. 风成沙层
B. 古河床河漫滩相沉积层
C. 古浅湖相沉积层
D. 古深湖相沉积层

10. 古深湖相沉积层形成末期,该区域

- A. 温暖湿润
B. 低温少雨
C. 地壳稳定
D. 炎热干燥

11. 古浅湖相沉积层形成时期,若尔盖盆地水系

- A. 转为内流水系
B. 流域面积扩大
C. 呈放射状分流
D. 成为黄河源区

12. 简约安全精彩的奥运盛会、中国空间站全面建成、全年粮食产量创下历史新高、经济总量超过120万亿元、中国自主设计建造的首艘弹射型航母福建舰下水……盘点2022年,这一系列成就

- ①与改革开放极大地解放和发展了社会生产力密切相关
- ②表明党带领人民推动中国特色社会主义进入了新时代
- ③充分体现了中华民族正在向着强起来的伟大目标飞跃
- ④意味着中国特色社会主义将成为世界各国的共同借鉴

A. ①② B. ①③ C. ②④ D. ③④

13. 《礼记·礼运》指出:“大道之行也,天下为公,选贤与能,讲信修睦……是谓大同。”深受传统文化影响的中国早期知识分子在宣传马克思主义之始,就注重将中国传统大同思想与马克思主义的共产主义目标融会贯通,为推动马克思主义中国化进程奠定了思想基础。这表明

- ①中华优秀传统文化是马克思主义科学理论形成的文化土壤
- ②中华大同思想与科学社会主义的价值观主张有契合性
- ③马克思主义基本原理要同中国当代的具体实践相统一
- ④发展马克思主义应当与弘扬中华优秀传统文化相结合

A. ①② B. ①③ C. ②④ D. ③④

14. 社会消费品零售总额是国民经济各行业直接售给城乡居民和社会集团的消费品总额,是研究国内零售市场变动情况、反映经济景气状况的重要指标。图6是2022年我国全年社会消费品零售总额及月度同比增长数据,由此可以推断出我国

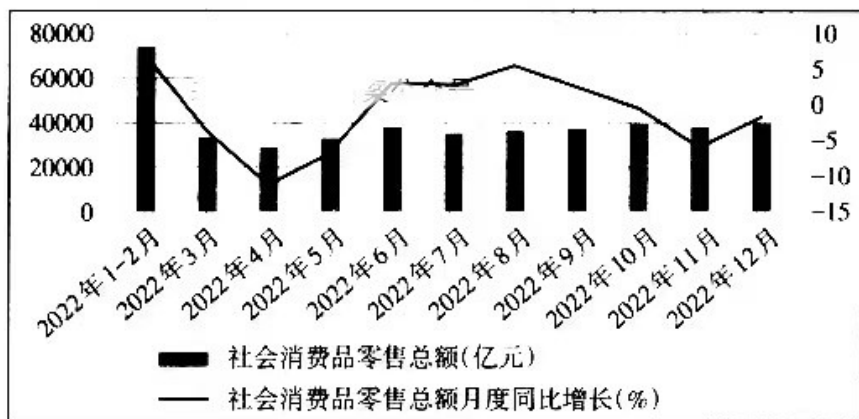


图6

(注:2022年全年社会消费品零售总额达到44万亿元,与2021年基本持平。来源:国家统计局)

- ①居民消费水平不断提高,经济增长基础稳定
- ②居民消费结构得以改善,产业结构转型升级
- ③发展环境存在不确定性,需求面临收缩压力
- ④需要多措并举扩大内需,释放消费增长潜力

A. ①② B. ①④ C. ②③ D. ③④

15. 2023年1月播出的央视纪录片《永远吹冲锋号》引发社会强烈反响。该片共选取12个案例,采访纪检监察干部、有关审查调查对象及涉案人员、干部群众100多人,讲述了中国共产党在新的历史条件下,持之以恒推进全面从严治党的历程。这主要反映出中国共产党

- ①走在时代前列,解放思想、与时俱进
- ②注重自我革命,反腐倡廉、自警自励
- ③坚定人民立场,克己奉公、依法治党
- ④完善监察体系,实事求是、求真务实

A. ①③ B. ①④ C. ②③ D. ②④


16. 2022年12月,十三届全国人大常委会第三十八次会议表决通过了修订后的《中华人民共和国野生动物保护法》,进一步加强对野生动物栖息地的保护,细化了野生动物种群调控措施。现行野生动物保护法于1988年制定,2004年、2009年和2018年三次修正,2016年进行了修订。野生动物保护立法的持续推进

- ①反映了我国自然生态保护意识的提升
- ②强化了全国人大生态监督机构的职能
- ③回应了野生动物保护工作的时代要求
- ④扩大了野生动物保护部门的职责权限

A. ①③ B. ①④ C. ②③ D. ②④

17. 漫画《善于借力则纤手千钧》(作者:王家春)启示我们想问题、办事情要

- ①直面矛盾,利用客观规律有效解决矛盾
- ②解放思想,努力做到客观与主观的统一
- ③尊重规律,把规律作为评价认识的标准
- ④系统思维,全面把握事物间的具体联系



A. ①② B. ①④ C. ②③ D. ③④

18. 梵高用4个月完成流传后世的《向日葵》,达芬奇用4年精雕细琢成《最后的晚餐》,如今人们利用AI生成技术只需4分钟就能完成一幅色彩艳丽、别具韵味的AI画作。有人认为,面对AI画作的挑战,手绘画作依然更具生命力,因为它蕴含着绘画者的情绪与思想,优秀的画作还兼具学术和收藏价值。对此理解正确的有

- ①科学技术取代艺术是画作自我否定的必然结果
- ②主客体方面的因素共同影响人们对事物的认识
- ③AI画作不会有生命力是因其没有人的意识参与
- ④画作传递的思想等信息不同会使其价值有差异

A. ①② B. ①③ C. ②④ D. ③④

19. 2022年11月,二十国集团领导人第十七次峰会在印尼巴厘岛举行,主题为“共同复苏、强劲复苏”。针对人类发展面临前所未有之挑战,习近平主席在峰会上发表重要讲话,强调各国要树立人类命运共同体意识,让团结代替分裂、合作代替对抗、包容代替排他,为“世界怎么了,我们怎么办”的时代课题提供了中国答案。这体现了
- ①国家间的共同利益成为二十国集团加强合作的基础
 - ②非传统安全问题已成为世界和平与发展的主要威胁
 - ③中国积极倡导平等开放合作共赢的全球经济治理观
 - ④二十国集团已经成为促进国际金融稳定的主导力量
- A. ①③ B. ①④ C. ②③ D. ②④
20. 中老铁路让老挝从“陆锁国”变成“陆联国”,蒙内铁路(肯尼亚)拉动当地经济增长2个百分点,斯里兰卡普特拉姆电站点亮了万家灯火,“鲁班工坊”帮助20多个国家的年轻人掌握了职业技能……中国提出“一带一路”倡议十年来取得的这些丰硕成果说明
- ①“一带一路”拓展合作,助推沿线国家经济发展一体化
 - ②“一带一路”务实创新,努力实现高标准可持续惠民生
 - ③中国积极发展开放型经济,坚持内外联动和合作共赢
 - ④中国致力为沿线国家纾困解难,主导经济全球化趋势
- A. ①③ B. ②③ C. ①④ D. ②④
21. 2022年12月,某知名网站因滥用在中国境内中文学术文献网络数据库服务市场的支配地位,构成《反垄断法》禁止的“以不公平的高价销售商品”“没有正当理由,限定交易相对人只能与其进行交易”等违法行为,被国家市场监督管理总局依法处以8760万元罚款。此举旨在
- ①惩戒垄断行为,不断完善法律体系
 - ②维护公平竞争,促进行业健康发展
 - ③明确侵权责任,确保民事主体利益
 - ④规范企业行为,保护公平交易权利
- A. ①② B. ①③ C. ②④ D. ③④
22. 当前,国际战略安全面临许多重大挑战,美国在核政策上大搞“双标”:一方面,在国际社会极力推行防核扩散战略,甚至不惜以莫须有的“大规模杀伤性武器”为由入侵、制裁伊拉克;另一方面,公然违反《不扩散核武器条约》,协助澳大利亚建立核潜艇部队,构成严重的核扩散风险。从逻辑思维角度看,“美式双标”
- ①偷换概念,不符合同一律对思维的明确性要求
 - ②骑墙居中,违背了排中律对思维的确定性要求
 - ③融贯不一,背离了矛盾律对思维的一致性要求
 - ④自相矛盾,其论调就是对客观实际的错误反映
- A. ①② B. ①③ C. ②④ D. ③④

23. 为更好提升法律素养,高二某班举行了模拟法庭活动,会议时同学们积极参与了讨论。下面同学的发言及其引发的逻辑评判对应正确的是

	同学发言	逻辑评判
①	“经调查发现,甲在A地出现时A地发生案件,在B地出现时B地也发生案件,所以甲一定是罪犯。”	属于类比推理,犯了“机械类比”的错误
②	“之前有与此相似的案件,且嫌疑人与甲的外貌特征、兴趣爱好非常接近,所以甲最有可能是案犯。”	属于不完全归纳推理,犯了“轻率概括”的错误
③	“嫌疑人作案一定要有作案动机,甲有作案动机,所以甲是嫌疑人。”	属于三段论推理,犯了“中项不周延”的错误
④	“这个案件要么是甲所为,要么是乙所为,乙已经承认了犯罪事实且证据充足,所以不可能是甲所为。”	属于不相容选言推理,符合推理的规则

A. ①② B. ①③ C. ②④ D. ③④

24. 考古发现,大约建造于公元前3300~2300年间的良渚古城在空间形制上展现出“向心式三重结构”——宫殿区、内城和外城。这一结构在古代礼制社会的都城规划中多次出现。这反映出良渚文明

A. 具有高超的建筑水平 B. 形成了浓厚的宗族观念
C. 凸显出权力中心特征 D. 成为中华文明的发源地

25. 观察下图,图7和图8中人口分布的变化

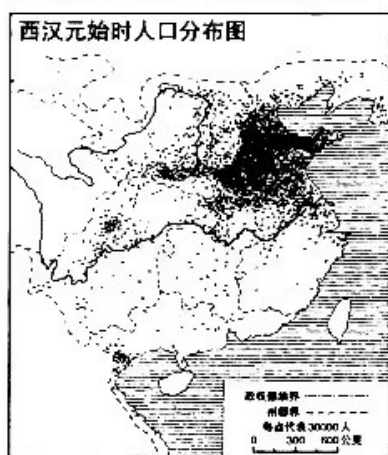


图7

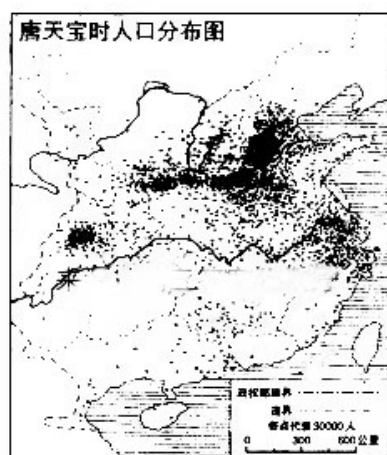


图8

A. 得益于经济重心不断南移 B. 阻碍了北方经济的发展
C. 打破了传统人口分布格局 D. 导致土地兼并日益严重

26. 南宋数学著作《数书九章》中记载了一道数学题:四人合资做生意,入股方式有金、银、盐、钞(特许经营执照)、度牒(可用于免税的出家人身份证明)五种,所获利润为沉香、象牙和胡椒。据此可知,南宋时期

A. 数学进步促进商业发展 B. 民间商贸活动较为活跃
C. 合资经营成为普遍现象 D. 传统社会结构受到冲击

27. 明万历三年,俺答汗与三娘子所筑“大青城”(今呼和浩特)被万历皇帝赐名改为“归化城”,意为“归顺朝廷,接受教化”;清朝初期,位于晋蒙边界的重要关隘“杀胡口”被康熙皇帝赐名改为“杀虎口”。两处地名变更反映出
- A. 明清君主专制不断加强
B. 统一多民族国家得以巩固
C. 边疆地区得到有效治理
D. 政治智慧助推了民族交融
28. 1853年,户部右侍郎王茂荫上奏建议货币改革,将宝钞改为可以兑换金银的钞票,总量以一千两为上限,并指出“官能定钱之值而不能限物之值”,反对铸造“当五百、当千大钱”。这些建议被咸丰皇帝斥责“专为商言而不问国事”。这表明,清政府当时
- A. 面临严重财政困难
B. 大力推行重农抑商
C. 厉行专制闭塞言路
D. 注重维护社会稳定
29. 1937年10月,抗日军政大学第三期学员挖窑洞、建校舍取得较大成绩,毛泽东赞扬“这是伟大的事业”,“是挖开知识分子同工农隔开的一堵墙”。毛泽东意在鼓励抗大
- A. 要与战争形势紧密结合
B. 独立自主改善办学条件
C. 要把生产劳动摆在首位
D. 要坚定正确的政治方向
30. 1948年,中央一份关于农村工作的文件指出,不能“群众要怎样办就怎样办”,不要“忙于进行土地改革”,农民“要在自愿原则下逐步地组织为现时经济条件所许可的以私有制为基础的各种生产的和消费的合作团体”。这一政策旨在
- A. 废除封建地主土地所有制
B. 保障解放战争的顺利发展
C. 尊重农民生产独立自主权
D. 全面推行经济合作化道路
31. 1992年,国务院批准正在改制中的首都钢铁公司获得资金融通权,首钢得以投资创建全国第一家企业银行——华夏银行,按照国际惯例经营金融业务。这表明,首都钢铁公司
- A. 逐步推进所有制变革
B. 主营钢铁业务被弱化
C. 经营自主权得以扩大
D. 积极应对全球化进程
32. 图9为世界范围内农业发源地示意图(部分存在争议)。据此可知

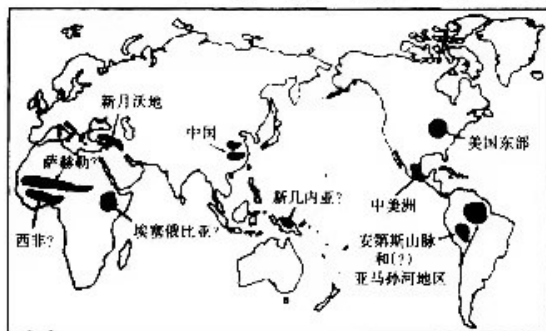


图9

- A. 不同文明可以独立发生
B. 世界文明在交流中发展
C. 农业起源均处大河流域
D. 农耕文明具有扩张潜能
33. 史载,1400年,经霍加尔山脉穿越大沙漠的西撒哈拉商道上骆驼数量达12000头;而16世纪初,已下降到每年不足3000头。这一变化
- A. 加速了西非帝国衰落
B. 导致了新航路的开辟
C. 阻碍了欧非经贸交流
D. 开启了非美奴隶贸易

34. 一战前后,英国议会不断通过授权立法,使内阁获得不经议会参与可直接发布行政命令以代替议会立法的特别权力。这反映出英国

- A. 议会地位逐步下降
B. 权力结构受形势影响
C. 政府决策科学高效
D. 建立了战时管理体制

35. 下表为世界银行对发展中国家和发达国家国民生产总值年平均增长率统计表。

时期	发展中国家	发达国家
20世纪50年代	4.7%	4.1%
20世纪60年代	5.8%	5.1%
20世纪70年代	5.3%	3.2%

表中现象的出现

- A. 改变了两极对崎的格局
B. 与新科技革命密切相关
C. 表明世界贫富差距缩小
D. 有助于国际关系民主化

二、非选择题:共160分。

36. 阅读图文资料,完成下列要求。(26分)

普洱市宁洱县困鹿山村深居山林之中,其古茶园中有存活百年、高大挺拔的普洱古茶树,曾是清代皇家贡茶园。上世纪70~80年代,普洱茶市场价格低,当地村民将部分古茶树砍断矮化,改种粮食作物、经济作物和台地茶(树龄较短、生长较快、密植高产,一般需要按期施肥及喷洒农药),但效益不佳,村民大量外出务工。2000~2007年,随着“普洱茶热”的兴起和对普洱茶“愈陈愈香”的追求,当地政府大力发展以古树茶为主的普洱茶产业,兴建“生态茶园”,将在古茶园中传统木屋居住的茶农,搬迁至距离古茶园1km之外的现代化楼房。2019年困鹿山古树茶以每公斤5~8万元的价格登上云南普洱茶价格榜首。图10示意困鹿山村地理位置。

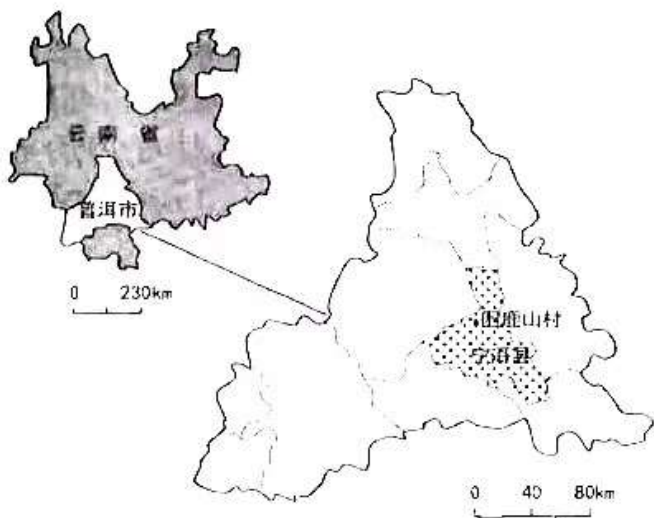


图10

(1)与台地茶相比,分析困鹿山古树茶价格昂贵的原因。(8分)

(2)推测普洱茶产业的大发展对困鹿山村农业生产特点及人口年龄结构的改变。(8分)

(3)说明村民搬迁至古茶园 1km 之外,对困鹿山村普洱茶产业发展的积极影响。(6分)

(4)指出该村大力发展普洱茶产业可能给发展带来的潜在问题。(4分)

37. 阅读图文资料,完成下列要求。(30分)

爆发性浓雾是指在30分钟内大气能见度骤降到500米以下的灾害性天气现象。某年4月16日厦门机场遭遇的一次爆发性浓雾,导致机场运行近乎瘫痪。图11示意当年4月16日17:00厦门岛及周边地区气温分布,图12示意该日厦门机场大气能见度、气温和云量(将天空分为十等份,天空被遮住几份,云量就是几)的变化。



图 11

文综(一) 第10页(共16页)

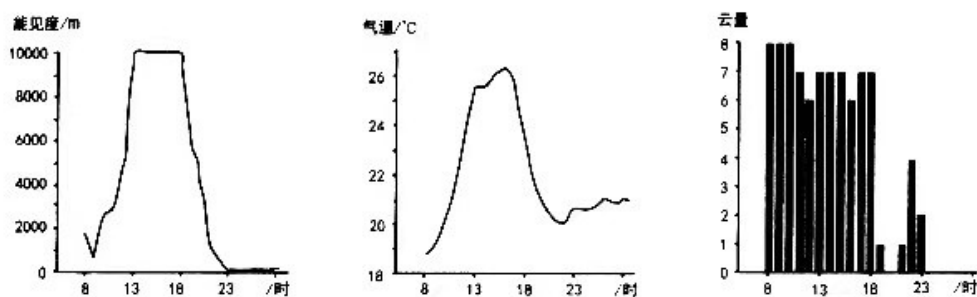


图 12

(1)指出该日厦门机场爆发性浓雾开始出现的时间,并说明判断依据。(6分)

(2)分析该日 18:00 以后,厦门机场大气能见度迅速下降的原因。(12分)

(3)推测厦门爆发性浓雾发生前的天气特点,并说明理由。(8分)

(4)为提高爆发性浓雾预报的准确性,列举机场附近气象站应实时监测的气象要素。(4分)

38. 阅读材料,完成下列要求。(12分)

中央经济工作会议提出,要更大力度推动外贸稳规模、优结构,培育国际经贸合作新增长点。随着疫情防控措施不断优化和一系列稳外贸举措落地,“组团出海”抢订单拓市场成为近期经济发展一大亮点。

2022年11月,广州市组织近40家外贸企业赴东南亚地区参加广东(马来西亚)商品展和亚太区新加坡展;12月3日,浙江省启动了“千团万企拓市场抢订单行动”;12月5日~11日,乘坐商务包机“组团出海”的四川外贸企业代表团,奔走在欧洲数个国家之间;提供机票补贴、高效办理签证,福建省先后组织企业开展了“福品销全球”香港行、RCEP行、欧洲行活动……

政府部门的大力支持,让相关企业吃下了“定心丸”。浙江金华某企业负责人说:“行李箱里装满了六七十款产品,新品占三分之二。产品在外观设计、颜色搭配上,都尽量契合当地的市场需求。”“多见一见客户,争取拿下更多的订单和合作,让企业来年的发展更有底气。”

结合材料,运用《经济与社会》和《当代国际政治与经济》的知识,分析“组团出海”抢订单拓市场火热的原因。

39. 阅读材料,完成下列要求。(20分)

材料一 H市的阳湖司法所是全国优秀司法所。一直以来,阳湖司法所时刻把为民办实事融入到日常工作中,为群众提供优质的法律服务,为社区居民评理说事、解决纠纷搭建平台。在这里,遗产纠纷、邻里矛盾纷纷得以妥善解决,营造出“只要你来,我们都在”的暖心法律服务氛围。司法所以“听、理、劝、借、退、和”六字为主要内涵的调解工作法,是H市挖掘本土文化优秀因子,在全市交流推广的市域社会治理现代化重要试点。下一步,阳湖司法所将不断创新法律服务形式,继续深入企业、社区、农村、工地等场所开展法律咨询和普法宣传活动,形成全民办事依法、遇事找法、解决问题用法、化解矛盾靠法的良好法治氛围。

(1)结合材料一,运用《政治与法治》的知识,分析阳湖司法所的司法行政实践给法治社会建设的启示。(8分)

材料二 2023年1月,村民徐某和程某走进了阳湖司法所解决矛盾。经了解,2022年9月,村民徐某擅自挖开自家附近30米左右路面,维修下埋的污水管网。因维修后没有将路面及时修复且未设置警示标志,致使邻居程某骑电动车出行摔倒。程某要求徐某及时修复道路并赔偿医药费,而徐某认为这部分路面修复费用应由为村里维修污水管网的施工队承担,因施工队不愿承担,所以这段道路迟迟没有修好。

(2)假如你是一名人民调解员,请运用《法律与生活》的知识,提出你的调解意见及其法律依据。(12分)

40. 阅读材料,完成下列要求。(12分)

材料一 历史主动精神是指作为历史主体的人充分发挥主观能动性,在深刻把握历史规律的基础上,立足所处的历史方位,顺应历史发展大势,善于抓住历史机遇,主动担当历史使命,勇于开创未来的精神品质。历史主动精神贯穿于党的百年奋斗历程中,蕴含于中国共产党缔造的精神谱系之中,是党能够团结带领人民以中国式现代化推动中华民族全面复兴的强大精神动力和宝贵的精神财富。

文化自信自强是以中国式现代化全面推进中华民族伟大复兴的重要支撑和深厚底蕴。党的二十大报告历史性地提出“推进文化自信自强,铸就社会主义文化新辉煌”,饱含时代性、前瞻性和创造性,彰显中国共产党始终坚持守正创新,以历史主动精神回应时代化之问与现代化之需。

材料二 新时代弘扬历史主动精神,必须深刻认识我国的现代化是人口规模巨大的现代化、是全体人民共同富裕的现代化,中国共产党的各项工作必须以维护和实现最广大人民的根本利益为出发点和落脚点。聚焦不平衡不充分的发展问题,聚焦人民群众最关心的社会问题,团结带领人民群众不断奋斗创造,满足人民群众对美好生活的追求,保证发展的成果由人民共享。

(1)结合材料,运用“文化遗产与文化创新”的知识,说明新时代弘扬历史主动精神对推进文化自信自强的作用。(6分)

(2)结合材料,运用“正确发挥主观能动性”知识,说明新时代在实现中国式现代化过程中应怎样弘扬历史主动精神。(6分)

41. 阅读材料,完成下列要求。(8分)

位于黄河中游的山西,是黄河文化保护的重要承载区,其非物质文化遗产(以下简称“非遗”)资源分布广泛、品类多样,历史起源早、传承链条完整,兼具民族性与地域性,具有较高的历史文化内涵和时代价值,代表着中华民族独特的精神标识。

2021年12月,《山西省黄河流域非物质文化遗产保护传承弘扬专项规划(2021~2035年)》(以下简称《规划》)正式印发,是国内首个非遗保护传承弘扬的专项规划。《规划》指出,要贯彻“保护为主、抢救第一、合理利用、传承发展”工作方针,深入挖掘非遗蕴含的思想理念、传统美德、人文精神,提升传承人传承能力,提高传承体验设施效能,探索传承模式创新等;统筹协调非遗保护与转型发展、城乡建设、文旅融合等的关系,主动融入黄河国家文化公园建设,整体谋划保护传承弘扬各项政策措施。按照《规划》部署,到2035年,具有山西特色的非遗保护传承弘扬体系更加成熟、完善,文化生态保护进入良性循环,将全方位推动全省文化和旅游业整体联动,从而助推山西实现高质量转型发展。

结合材料,运用《逻辑与思维》的知识,分析说明上述《规划》蕴含的辩证思维特征。

42. 阅读材料,完成下列要求。(25分)

材料一 18世纪末期到19世纪中期,面对城市形成与发展过程中出现的问题,德国部分城市结合社区中卫生、宗教与教育组织的力量进行济贫改革,英美则发起社区睦邻组织运动,目标在于通过社区组织整合社区资源来扶危济困。二战后,欧美各国大都制定了城市社区自治的法律法规。美国联邦政府自1960年以来相继制定了几部关于城市社区发展的法律和法规,如《住宅和社区发展法》《社区再投资法》和《国家和社区服务条例》等。社区组织行使社区管理职能,由社区居民代表选举产生,多层次的非营利组织遍布各个社区,他们为社区提供各种各样的专业性和差异性服务,每年约有9000多万人次的志愿者从事社区服务工作,庞大的志愿者队伍为美国的社会管理和公共服务提供了强有力的人力和智力保障。

——摘编自吴素雄、吴艳《欧美国家社区治理的结构、功能及合法性基础》等

文综(一) 第14页(共16页)

材料二 新中国成立后,在城市建立了一种以“单位”治理社会的体系,各个企事业单位从属于各级政府,城市成员从属于各个单位,国家与城市社会几乎是重合的。1986年初,民政部门首次将“社区”概念引入基层管理,开始倡导和推动社区服务工作,并于1995年制定《全国社区服务示范城区标准》,随之在全国推行。2000年,民政部《关于在全国推进城市社区建设的意见》颁布,标志着社区建设成为城市基层社会管理的新方向。除街道办事处和居民委员会之外,社区还出现以业主委员会、物业管理公司以及社会非营利性公益组织为代表的新兴组织。通过居民会议议事协商和民主听证等形式,社区各类主体都可以平等参与社区公共事务和民主决策。2017年,《中共中央国务院关于加强和完善城乡社区治理的意见》发表,体现了我国社区建设由“社区管理”向“社区治理”的转变。

——摘编自邱梦华《城市社区治理(第二版)》等

(1)根据材料一并结合所学知识,概括西方近代社区产生的背景。(8分)

(2)根据材料一、二并结合所学知识,指出与美国相比,中国城市社区发展的特点。(8分)

(3)根据材料一、二并结合所学知识,简析中国城市社区建设的意义。(9分)

43. 阅读材料,完成下列要求。(12分)

材料 “士”作为古代社会结构的重要组成部分,其发展演变具有深厚的时代烙印,下表是不同时期“士”涵义及身份地位的发展变化:

时期	涵义
上古时期	“吾国古代之士,皆武士也”;掌刑狱之官
商、西周、春秋时期	“卿置侧室,大夫有贰室,士有隶子弟”;贵族阶层;多为卿大夫的家臣
春秋末年到战国时期	知识分子的统称,职业多途化,有武士、文士、吏士、技艺之士、商贾之士、方术之士、谋士等
秦汉时期	称为士大夫,可以指军队中的将士,也常常是在中央政权和州郡县供职的官吏的泛称;称为士人时,则一般特指具有较高封建文化素养、从事精神文化活动的知识分子
东汉时期	特重士名(即人格名望、风骨气节及学识才能)
魏晋时期	“士”固化为特殊的阶层
隋唐以后	士族逐渐退出历史舞台,但士作为一特定阶层的观念仍然保留
宋代以后	又称衿士,是科举中有功名的人,即举人、贡生、秀才、监生,进士未出任者亦为此中人;宋代政治地位提升,“士以天下为己任”,要求与皇帝“同治天下”,绝大多数都从“四民”中产生;明代后政治地位有所下降

——摘编自冯尔康《先秦至近代前期中国社会结构演变简史》等

根据材料并结合所学知识,就材料整体或任一历史时期对“上”涵义的变化进行解读。(要求:明确写出变化,解读逻辑严密,史论结合,表述清晰)

44. 阅读材料,完成下列要求。(15分)

材料一 梁启超无疑是受到孟德斯鸠、黑格尔及达尔文等人“地理环境决定论”的影响,他在多篇论述中指出“地理与历史,最有密切之关系,是读史者所最当留意也。高原适于牧业,平原适于农业,海滨河渠适于商业。寒带之民,擅长战;温带之民,能生文明。凡此皆地理历史之公例也”。“地理影响形成民族特别性格,而此种性格,递代遗传,旋为历史上主要之原动力”。但他同时认为“谓物质的环境具万能力”仅“含有一部分真理”,“人类之所以秀于万物,能以心力改造环境,而非偶然悉听环境所宰制”。

——摘编自梁启超《地理与文明之关系》(1902)等

材料二 二战后,为了批判法西斯与西方地缘政治学说,斯大林在《论辩证唯物主义和历史唯物主义》一文中指出“地理环境可以加速或延缓社会发展的进程,但对社会发展不起决定作用”;“社会发展的决定力量是‘社会物质生活条件’或‘物质资料的生产方式’即人们生存所必须的谋得方式”;“地理环境不可能成为社会发展的主要原因,因为在几万年间几乎保持不变的(自然地理)现象,决不能成为几百年间就发生根本性变化的(社会制度)现象的主要原因”。

——据《斯大林文选》上卷等整理

(1)根据材料并结合所学知识,概括梁启超与斯大林二人观点的不同之处,并简要分析其历史原因。(9分)

(2)请以中国史与世界史各举一例,简要说明“地理与历史,最具有密切之关系”。(6分)

关于我们

自主选拔在线是致力于提供新高考生涯规划、强基计划、综合评价、三位一体、学科竞赛等政策资讯的升学服务平台。总部坐落于北京，旗下拥有网站（[网址: www.zizzs.com](http://www.zizzs.com)）和微信公众平台等媒体矩阵，用户群体涵盖全国90%以上的重点中学师生及家长，在全国新高考、自主选拔领域首屈一指。

如需第一时间获取相关资讯及备考指南，请关注**自主选拔在线**官方微信号：**zizzsw**。



 微信搜一搜

 自主选拔在线