

姓名_____座位号_____

(在此卷上答题无效)

绝密★启用前

2021届“江南十校”一模联考 文科综合

注意事项:

- 1.答卷前,考生务必将自己的姓名和座位号填写在答题卡上。
- 2.回答选择题时,选出每小题答案后,用铅笔把答题卡上对应题目的答案标号涂黑。如需改动,用橡皮擦干净后,再选涂其它答案标号。回答非选择题时,将答案写在答题卡上。写在本试卷上无效。
- 3.考试结束后,将本试卷和答题卡一并交回。

一、选择题:本题共35小题,每小题4分,共140分。在每小题给出的四个选项中,只有一项是符合题目要求的。

山水基底格局是指古城所在区域的天然地形、水系特征的空间格局,是中国古代城市风景体系营建的重要基础。图1为浙江省丽水市松阳古城所在区域地形、水系略图。通过适度的人工干预自然水系统,松阳古城实现了“山—水—城—景”的一体化融合。据此完成1~2题。



图1

- 1.松阳古城基址地貌反映的山水基底格局为
A.河谷依山型 B.盆地据山型 C.丘陵嵌山型 D.平原望山型
- 2.松阳古城人工干预自然水系统的措施是
A.引流穿城 B.筑堰引流 C.近郊调控 D.汇水入渠

作为对外投资的新方式,海外园区已成为探索中国与“一带一路”沿线国家开展经贸合作的重要平台。中国海外园区建设一般采用共商共建模式,但建设高水平海外园区仍面临诸多困境。图2示意高水平海外园区具备的关键优势。据此完成3~5题。

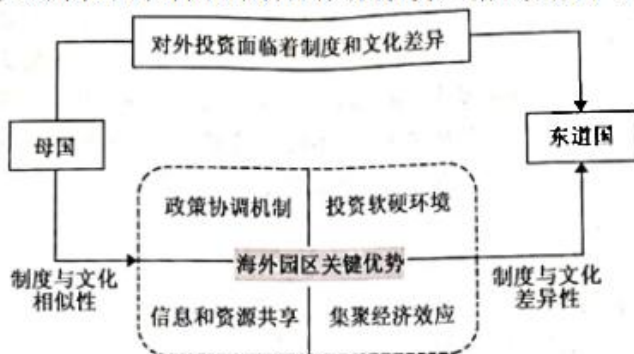


图2

- 3.建设高水平海外园区面临的最大困境是

- A.产业规划不合理 B.融资渠道不畅通 C.人才培养不到位 D.政治经济风险大
- 4.中国海外园区建设采用共商共建模式，有利于
①均摊投资建设成本②构建多方协调机制③降低投资外部风险④消除文化制度差异
A.①②B.③④C.②③D.①④
- 5.引导人园企业快速融入当地生产经营环境的关键优势是
A.政策协调机制 B.投资软硬环境 C.信息和资源共享 D.集聚经济效应

水域对气温的影响取决于水体反射率、比热容和水面蒸发等多要素的综合作用。图3中的三条虚线示意乌江水域面积与冬、夏季及年平均气温之间的关系。据此完成6~8题。

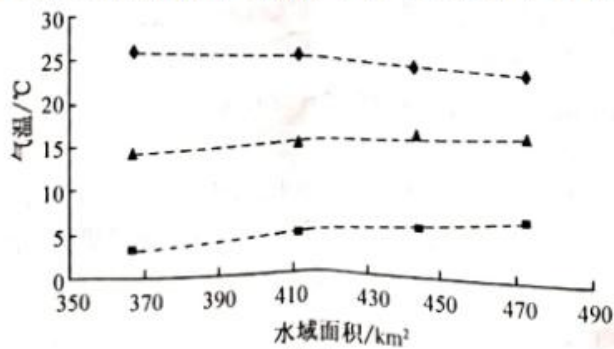


图3

- 6.乌江水域面积增加对该区域平均气温的影响是
A.冬季平均气温上升、年平均气温上升 B.夏季平均气温上升、年平均气温上升
C.冬季平均气温下降、年平均气温下降 D.夏季平均气温下降、年平均气温下降
- 7.水体反射率等要素对气温的作用程度有明显的季节差异，主要表现为
A.冬季，反射率和水面蒸发作用大于比热容
B.冬季，水面蒸发和比热容作用大于水体反射率
C.夏季，反射率和水面蒸发作用大于比热容
D.夏季，水面蒸发和比热容作用大于水体反射率
- 8.推测乌江水域面积增加对该区域平均降水量的影响是
A.冬减夏增 B.冬增夏减 C.冬夏均增 D.冬夏均减

沙漠化敏感性是指受气候、植被、土壤、地形、水文等因素综合影响与制约，导致土地发生沙化的可能性大小。图4表示我国西北干旱区沙漠化敏感性等级的面积占比。据此完成9~11题。

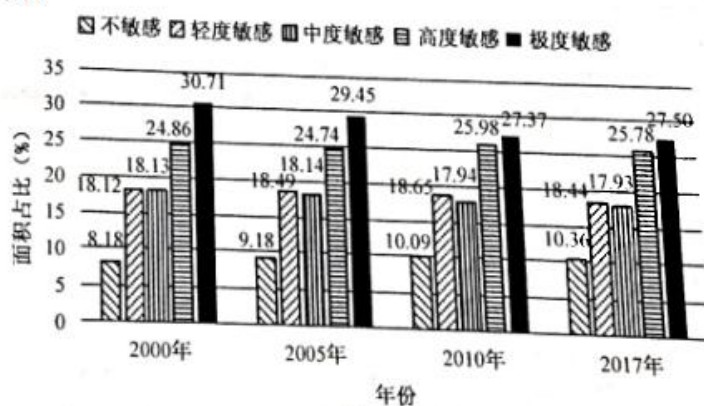


图4

- 9.2000~2017年沙漠化高度敏感地区的面积变化特点是
A.稳定增加 B.稳定减少 C.波动增加 D.波动减少
- 10.改变西北干旱区沙漠化敏感性最活跃、最基本的环境因素是

A.气候 B.植被 C.土壤 D.地形

11.2000~2017年我国西北干旱区沙漠化敏感性

A.整体降低,环境有所改善 B.整体上升,环境有所改善

C.整体降低,环境有所恶化 D.整体上升,环境有所恶化

12.图5反映了2020年1~12月甲国货币对乙国货币的汇率(单位:甲国货币/1单位乙国货币)走势情况。若不考虑其他因素的影响,下列推断合理的是

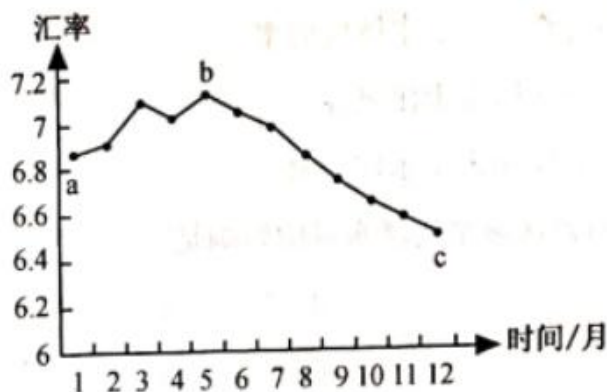


图5

①a点→b点,甲国扩大对乙国投资规模,乙国就业率上升

②a点→b点,甲国到乙国旅游成本将上升,旅游人数减少

③b点→c点,甲国会增加进口乙国商品,对乙国贸易顺差增加

④b点→c点,甲国产品在乙国价格上升,产品价格竞争力降低

A.①② B.①③ C.②④ D.③④

13.当前,随着数字生活方式的普及,以直播带货、到家服务等为代表的新型消费业态正受到追捧,通过APP实现的点餐、养生、旅游等消费快速增长,一些老年人也逐渐融入到数字生活中。为抓住数字消费新机遇,相关企业应

①打造公共服务平台,提升数字服务能力②挖掘新生消费力量,加速线上线下融合

③建立信息共享机制,降低企业要素成本④加快数字转型步伐,积极缩小数字鸿沟

A.①② B.①③ C.②④ D.③④

14.2019年8月,为深化利率市场化改革,提高利率传导效率,推动降低实体经济融资成本,中国人民银行决定改革完善贷款市场报价利率(LPR)形成机制。一年以来,LPR改革卓有成效,我国贷款利率下降明显。下列对此项改革可能产生的影响推导正确的是

①实施积极财政政策→缓解实体融资困难→提高企业创新能力→优化升级产业结构

②降低消费贷款利率→减轻消费贷款负担→增加居民可支配收入→提高居民消费水平

③贷款市场报价利率改革→推动贷款利率下行→盘活银行存量资金→促进资源合理配置

④贷款市场利率下行→银行贷款收益降低→银行高息揽储动力下降→引导存款利率下行

A.①② B.①④ C.②③ D.③④

15.“十三五”期间,我国建立起世界上规模最大的基本医疗保障网,截至2020年末,参保人数超过13.6亿,参保率稳定在95%以上。基本养老、失业、工伤保险参保人数分别达到9.99亿、2.17亿、2.68亿,养老金继续逐年上调,实现“十六连涨”。社会保障体系不断完善的意义在于

①能有效防范和化解社会成员生存危机 ②调节不同社会群体之间经济利益关系

③通过完善初次分配机制促进社会公平 ④促使共享成为引领经济发展的新引擎

A.①② B.①③ C.②④ D.③④

16.新修订的《中华人民共和国未成年人保护法》将于2021年6月1日起正式施行。该法新增“政府保护”“网络保护”专章,进一步明确了家庭、学校、社会、政府等各方在未成年人保护方面的责任。未成年人保护法的修订旨在

A.推动我国司法制度的创新和发展 B.保障我国未成年人的合法权益

C.发挥政府在未成年人保护中的作用 D.推进国家治理体系和治理能力现代化

17.公共安全是人民安居乐业的基本保证,维护公共安全的主战场在基层一线。然而,近年来各类公共安全事件暴露出基层的诸多不灵不快,安全意识疏忽淡薄、预警机制不够健全、监督管理多有漏洞等问题仍然存在。为有效维护公共安全,政府应

- ①加强预警监管,提升基层公共服务应急能力
 - ②以人民为中心,坚持对公共安全的政治领导
 - ③提高预警智能化水平,畅通群众获取信息的渠道
 - ④做好立法工作,为社会救援提供完善的法律保障
- A.①② B.①③ C.②④ D.③④

18.2020年9月23日,习近平总书记在会见联合国秘书长古特雷斯时指出:世界上只有一个体系,就是以联合国为核心的国际体系;只有一套规则,就是以联合国宪章为基础的国际关系基本准则。这表明我国主张

- ①国际关系只能以制度和规则加以协调
 - ②现行的国际秩序是维护世界和平的基础
 - ③联合国应该在国际事务中发挥核心协调作用
 - ④联合国宪章是各国制定对外政策的根本遵循
- A.①③ B.①④ C.②③ D.②④

19.诞生于内蒙古地区,意为红色文化工作队的乌兰牧骑,在新时期开辟了网络新舞台,创造了“以需定供”的互动式、菜单式服务方式,为牧民创作了更多的文艺作品,信守了“哪里最需要,哪里最偏僻,就到哪里送歌献舞”的诺言。这表明

- ①推动基层文化的创新可以实现基本公共文化服务均等化
 - ②满足人民的精神文化需求是文艺工作的出发点和落脚点
 - ③促进文化传播手段的不断创新能够增强人民的精神力量
 - ④融入人民群众生活是文艺创作赢得群众喜爱的成功之道
- A.①③ B.①④ C.②③ D.②④

20.故宫博物院是世界上极少数集艺术、建筑、历史、宫廷文化于一身的特色博物馆。宫殿里的一砖一瓦,都将“中正”“仁和”的寓意铸造其中,堪称中国传统思想文化意识形态最完备的空间表达,是中华民族文化遗产的重要载体。这说明

- ①故宫文化彰显了独具特色的中华文化
 - ②故宫文化是中华民族文化的集中展示
 - ③凝结民族智慧使故宫文化之美跨越历史
 - ④故宫文化是展现优秀传统文化的重要标志
- A.①② B.①③ C.②④ D.③④

21.某实验室成功研制了我国首台具有类脑芯片自主知识产权的类脑计算机。不同于传统计算架构中数据储存和计算分离,类脑计算机采用了模拟人脑神经网络的机构与运行机制,可以实现“意念打字”,完成对脑电信号进行实时解码等多种智能任务。这佐证了

- ①生产工具的革新有赖于人类认识的突破
 - ②服务于社会实践是科技发展的最终目的
 - ③真理性认识在科技发展中不断推翻自身
 - ④人工智能的自觉行为产生于实践的需要
- A.①② B.①④ C.②③ D.③④

22.图6漫画《光喂饭、不喂菜》主要讽刺了当前一些人不懂得

- ①“德”与“智”是相互决定的关系
 - ②适应社会发展要全面提高个人素质
 - ③培养人才需要充分发挥主观能动性
 - ④尊重客观规律是人能够成才的前提
- A.①② B.①③ C.②④ D.③④



23.为保护长江水生生物资源,实现水生食物链循环发展,我国决定自2020年1月1日起,实施为期十年的长江流域禁渔计划。不断致力于维护长江水生生物多样性,是基于

- ①自在事物的联系取决于人为事物的联系
- ②物质世界是由多种联系构成的有机整体
- ③矛盾的普遍性体现并制约矛盾的特殊性

④人与自然的对立统一推动事物变化发展

A.①③ B.①④ C.②③ D.②④

24.《诗经·小雅》中的宴飨诗以君臣欢宴、亲友聚会为主要内容，多描写主人的慈惠、宴饮的礼节、酒肴的丰盛以及宾客对于主人盛情款待的感激和赞颂。这主要体现了

A.好礼从善的价值取向 B.统治阶级的骄奢淫逸
C.宗室内部的礼乐仪式 D.浪漫主义的创作风格

25.汉武帝元封五年（公元前106年）把全国分为十三州部，各设刺史一人，每年八月“省察治状，黜陟能否，断治冤狱，以六条问事”。该举措的主要目的是

A.控制地方豪强势力 B.加强君主专制统治
C.有效监察地方官员 D.彻底解决王国问题

26.图7为元代王祯《农书》所绘的高转筒车，它借助湍急的河水冲动，提水高度较一般筒车加大，适用于水低岸高的山地、丘陵地区。高转筒车的出现

A.源于古代农业生产技术理论创新
B.表明农业生产需求促进农具改进
C.代表古代农业灌溉技术最高水平
D.有利于古代农村产业结构的变革




图7

27.清代书画家郑板桥说：“晨起看竹，烟光、日影、露气，皆游动于疏枝密叶之间。胸中勃勃，遂有画意。其实胸中之竹，并不是眼中之竹也。因而磨墨、展纸、落笔，倏作变相，手中之竹，又不是胸中之竹也。”这反映了郑板桥的艺术创作

A.承袭了格物致知的观念 B.形式主义地重复自然物
C.迥异于传统文人画特征 D.源于自然而又高于自然

28. 表1 1885-1894年新生行业中商办企业表（资本单位：两）

行业	企业数	创业资本总数	企业平均资本	企业地区分布状况
轮船航运	5	700000	140000	上海2、汕头2、芜湖1
轧花	4	315000	78750	上海3、宁波1
棉纺织	2	480000	240000	上海2
电灯	1	50000	50000	广东1
水泥	1	100000	100000	直隶1
合计	13	1645000	126538	上海7、广东3、其他3

——资料来源：许涤新、吴承明主编《中国资本主义发展史》第2卷等

根据表1内容可知

A.商办企业创办适应了民生需求 B.民族资本主义快速发展
C.近代民族工业体系已初步形成 D.企业地区分布趋于均衡

29.孙中山就任临时大总统前，即主张“剪发易服改元”，后又于1912年2月4日在《复中华国货维持会函》中承认易服过急，同意“常服听民自便”。这一态度变化

A.表明其思想已趋于保守 B.缘于国货运动的冲击
C.旨在抵制列强经济侵略 D.由于旧习俗根深蒂固

30.1937年8月，中共中央在洛川会议上提出：“要使大家了解抗战是一个持久的战争，中共应起决定的作用。只有中共在抗战中取得领导权时，抗战胜利才能得到保障，才能使抗战胜利后完成民主共和国的任务”。由此可知中共

A.认识到抗战已进入相持阶段 B.倡导建立抗日民族统一战线
C.放眼未来更长远的革命目标 D.全面掌握了抗日战争领导权

31.20世纪90年代以来，休闲文学开始成为我国人民日常生活中不可缺少的部

闲并供读者休闲、娱乐为旨趣，题材涉及山水、艺趣和美食等方面。休闲文学的盛行反映了

- A.文学已独立于政治之外 B.经济体制改革影响广泛
C.精神享受成为主要追求 D.西方生活方式占据主流

32.雅典人在成为全权公民时均要行宣誓礼，誓词中有这样的话：“我将理性地服从现有的政府和已设立的法律，如果有人企图破坏法律或不服从法律，我决不容许，而必独自或与众斗争此人。”由此可知

- A.雅典民主政治受法制的制约 B.服从法律是成为公民的前提
C.雅典法律仅适用于全权公民 D.理性主义是民主政治的基础

33.1832年10月25日，英国《贫民卫报》载文：“提出改革法案的人，不是想推翻，甚至也不是为了改造贵族制，而是为了从中等阶级那儿获得一支准贵族增援军队以巩固自己的地位。”该文认为英国此次改革

- A.结果体现了决策者的意图 B.客观上不利于共和制发展
C.基于英国完成了工业革命 D.目的是为了巩固贵族统治

34.对于1927年底出现的粮食收购危机，斯大林认为是由于富农的破坏，进而提出农业集体化理论，以社会主义原始积累方式加快工业化进程；布哈林则认为其根源在于国家政策失当，主张重视农村和农民问题，保持国民经济平衡发展。双方分歧的本质在于

- A.意识形态上的根本对立 B.对国内外形势的认识不同
C.社会主义建设模式差异 D.新经济政策是否应该延续

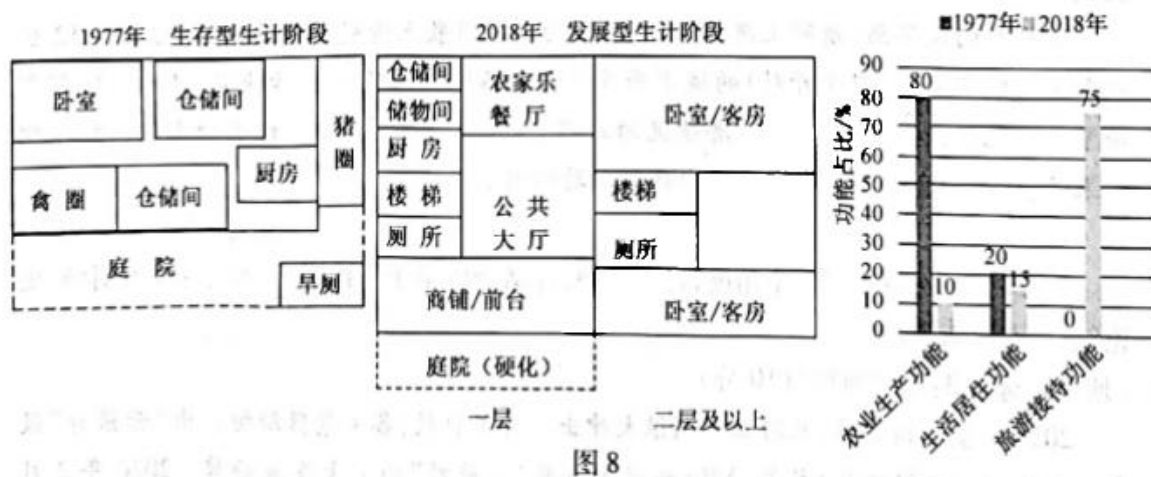
35.关于冷战的起源问题，有意识形态说、国家利益说、文化差异说、个人因素说等，至今尚未达成共识。学者沈志华依据解密的多国档案，认为美、苏经济体系的对立，使两国开始“分庭抗礼”。据此可知

- A.解密档案有助于历史研究深入 B.后期研究成果比传统观点可信
C.学派迭出不利于探索历史真相 D.冷战系美、苏经济体系的对立

二、非选择题：本题共12小题，共160分。

36.阅读图文材料，完成下列要求。（24分）

怀溪镇是我国浙江省温州市的旅游特色镇。水口村位于镇北部穹岭之下的河谷地区，山高林密，森林覆盖率达86%以上，地形起伏较大，平均坡度为27°。2014年水口村开始经济转型，大力发展乡村旅游业。农户宅基地的结构与功能也随之发生显著变化。新一届村两委成员以返乡的本村企业家为主，行事进取，创新创业意识强。图8示意1977年和2018年水口村宅基地内部结构与功能的变化。



- (1)据图指出水口村宅基地内部结构与功能的变化。（8分）
(2)分析1978~2013年水口村宅基地农业生产功能逐渐衰退的原因。（6分）
(3)简述发展乡村旅游业对水口村“乡村振兴”的推动作用。（10分）

37. 阅读图文材料，完成下列要求。（22分）

Zion 国家公园（113°W,37.2°N）地处美国西部科罗拉多高原。研究发现，Zion 国家公园的砂岩红层沉积于三叠纪末由板块碰撞形成的大型内陆盆地。之后，在内外力作用下，Zion 国家公园由最初的构造盆地逐渐演化成高原—峡谷群地貌。图9示意 Zion 国家公园地理位置及地质、地貌状况。

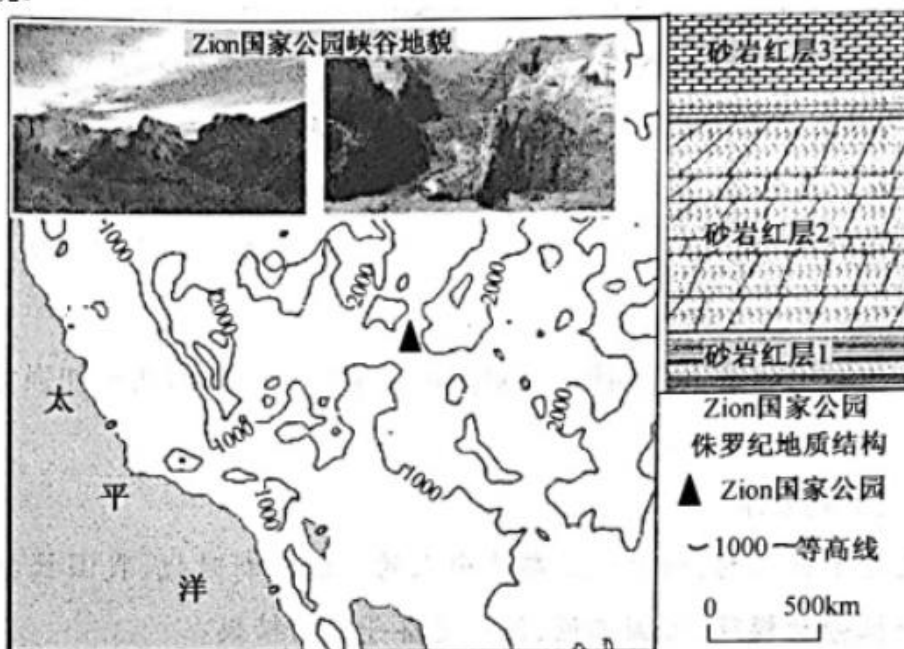


图9

- (1) 说明 Zion 国家公园曾经位于北美西部大型内陆盆地的理由。（6分）
- (2) 砂岩红层 2 形成于侏罗纪时期的内陆沙漠环境。分析该地沙漠环境形成的地形和气候条件。（8分）
- (3) 从内外力作用角度阐释该地从盆地到高原—峡谷群的演化过程。（8分）

38. 阅读材料，完成下列要求。（14分）

站在新的历史起点，中国开放的大门只会越开越大。党的十九届五中全会提出，坚持实施更大范围、更宽领域、更深层次对外开放，依托我国大市场优势，促进国际合作，实现互利共赢。

中国有近 14 亿人口的庞大市场，有 4 亿多中等收入群体的强大购买力。随着我国开放力度不断加大，许多跨国公司主动进行由“在中国制造”向“为中国制造”的转型，越来越多优质产品进入到中国普通百姓的日常生活；金融业、制造业、服务业等领域开放逐步扩大，资金、人才、科技等领域国际合作不断拓展……新鲜血液的注入，“鲑鱼效应”的激发，给国内经济带来了机遇和挑战。

面临当今世界经济全球化遭遇逆流、单边主义和保护主义上升、各种风险挑战进一步加大的形势，习近平主席在第三届中国国际进口博览会开幕式主旨演讲中强调：“中国将秉持开放、合作、团结、共赢的信念，坚定不移全面扩大开放，将更有效率地实现内外市场联通、要素资源共享，让中国市场成为世界的市场、共享的市场、大家的市场，为国际社会注入更多正能量。”这表达了中国愿同世界分享市场机遇、推动世界经济复苏的大国担当。

结合材料并运用经济知识，分析让中国市场成为世界的市场、共享的市场、大家的市场所带来的积极影响。

39. 阅读材料，完成下列要求。（12分）

2020 年是深圳经济特区建立 40 周年。实践证明，深圳奇迹的内在密码就是坚持党的全面领导，把党组织建设好。

特区成立以来，历届市委都高度重视自身建设，不断提升驾驭市场经济的能力，有效破解改革发展难题，成功应对了来自各方面的风险挑战。伴随着城市化进程的推进，特区高度重视社区党建标准化建设，率先探索社区“智慧党建”，全面提升为民服务水平。市委先后制定出台了《特区干部守则》《深圳市反腐倡廉预防体系总体思路》等文件，系统构建反腐倡廉制度体系。近年来，根据新兴领域特点，特区率先在非公领域互联网行业联合会中成立党委，通过龙头带建、区域统建、行业联建“三措并举”，切实引导互联网企业听党话、跟党走。

结合材料并运用政治生活知识，说明深圳经济特区是如何通过加强党的建设创造奇迹的。

40.阅读材料，完成下列要求。（26分）

社会主义是干出来的，新时代是奋斗出来的。进入新时代，我国社会主义事业的各项战线涌现出一批劳动模范、大国工匠，他们是奋斗者的楷模。

国家级技能大师潘从明为了研发新的贵金属提纯工艺，翻阅100多本化学类书籍，写下30多万字学习笔记，做了2000多次试验，最终锻炼出从铜镍冶炼废渣中同时提取8种以上稀贵金属的本领，在一次次刻苦攻关中砥砺前行，改变了我国贵金属冶炼依赖国外技术的局面。被称为世界上首位勇闯特高压带电作业领域的“禁区勇士”胡洪炜，立足岗位提升专业技能水平，不断探寻技术创新，目前已获得专利51项，其中2项正在申请国际专利。他说：“真正的禁区不在于距离而在于每个人的内心，选择一个方向，努力工作，坚持不懈。只要坚持，每个人都是英雄。”

为实现核电锻件国产化、打破国外垄断局面，刘伯鸣在没有任何技术资料可借鉴的情况下，带领团队刻苦攻关，以“头发丝的工作标准”要求自己，反复计算，精确测量，在百吨锻件上做着“绣花”功夫，实现了世界最大百万千瓦整锻低压转子锻件自主化，一举突破了世界性难题。

在实现中华民族伟大复兴的征程中，一大批劳模用他们的智慧和汗水诠释的劳模精神，正成为鼓舞全党全国各族人民风雨无阻、勇敢前进的强大动力。

(1)结合材料并运用人生价值的知识，概括新时代劳动模范身上所具有的优良品质。（12分）

(2)结合材料并运用文化生活知识，说明弘扬劳模精神对提升我国国际竞争力的重要意义。（10分）

(3)某地将开展“劳模精神进校园”活动，请就学校如何开展劳模精神的宣传教育提两条建议。（4分）

41.阅读材料，完成下列要求。（25分）

材料一

美国初始的边疆政策主要指陆地边疆的拓展和治理。通过西进运动拓展西部陆地疆域，并吸引大量商业资本进入西部，实施赠地及拨款政策，快速发展西部交通。在处理族际关系方面，采取具有一定野蛮性的“熔炉”政策，即让到美国西部边疆拓荒的移民在此被同化、融合成一体，产生一个新的文化形态。随着历史进程的推进以及美国的飞速发展，其边疆观念发生相应的变化，最终形成了包含陆地边疆、海洋边疆、高边疆、信息边疆等在内的全方位、立体化、软硬结合的边疆观念体系。

——摘编自李朝辉《美国的边疆架构与国家发展》等

材料二

中华人民共和国成立后，在边疆少数民族地区实行民族区域自治制度。国家大力支援边疆建设和发展，使其长期落后的局面得到扭转，开始展现出前所未有的活力。“中国政府对少数民族文化的保护……不局限于某种文化类型，而是关涉少数民族社会生活的方方面面。”由于少数民族的构成及其地理分布具有特殊性，中国政府往往使用“边疆民族地区”概念，甚至采用“民族地区”指代“边疆地区”。随着国家由建设时期向发展时期转变，内外情势发生了重大变化，中国的边疆观念在适时调整，并在海洋边疆、高边疆、信息边疆等领域进行积极的实践探索。

——摘编自杨力源《边疆治理与中华民族共同体意识演进》等

(1)根据材料一并结合所学知识，归纳美国治理西部边疆的措施并加以评价。（10分）

(2)根据材料二并结合所学知识，概括建国以来我国边疆治理举措的特点，并分析我国民族问题的特殊性。（9分）

(3)综合上述材料,谈谈你对国家边疆治理问题的认识。(6分)

42.阅读材料,完成下列要求。(12分)

材料

张择端的风俗画《清明上河图》,以长卷形式,采用散点透视构图法,生动记录了12世纪北宋都城东京(今河南开封)的城市面貌和社会各阶层人民的生活状况,是北宋时期都城繁荣的见证,也是北宋城市经济情况的写照。《东京梦华录》中所记述的街巷、酒楼、饮食果子、诸色杂卖等都能在这画面中找到生动的图示。

——摘编自毛宁《梦回繁华》

阅读材料,选取任意一个角度,自拟论题,并结合所学予以论证。(要求:观点明确,史论结合,逻辑清晰。)

43.[地理一选修3:旅游地理](10分)

2020年受疫情影响,旅游业受到很大冲击。为了自救,各大景区纷纷推出“云旅游”服务。直播+旅游、纪录片+旅游、VR+旅游为目前“云旅游”的三大发展趋势。2020年2月20日—23日,中国国家博物馆等国内九大博物馆联合抖音平台,开展“在家云游博物馆”线上直播活动。9场直播累计观看人数达20万,九大博物馆账号累计涨了21.4万粉丝。

简述开展“云旅游”直播活动的价值,并为“云旅游”的推广提出合理建议。

44.[地理一选修6:环境保护](10分)

随着工业化进程加快,工业已成为助推我国某市经济社会进入快速发展时代的支柱产业,同时也造成了严重的生态环境问题,其中土壤污染最为严重。目前,全市拥有污染地块15处、重金属排污单位17家、危化品搬迁企业9家、尾矿库3个、非正规垃圾堆放点整治任务3处、规模以上化工企业70余家,土壤污染形势严峻,风险防控任务艰巨。

根据所学知识,针对该市土壤污染现状,提出相应的防控对策。

45.[历史一选修1:历史上重大改革回眸](15分)

材料

16-17世纪,英国鼠疫频发,给都铎王朝带来了巨大压力。传统的以教会为主的应对机制难以为继,王国政府责无旁贷地承担起责任。1518年1月,枢密院发布了英国历史上第一个官方的防疫文告。1578年,政府颁布法令,通过控制疫区人口的流动来阻止鼠疫的传播。从1603年底开始,政府将为瘟疫征收的特别税改为普通税,所有居民都必须缴纳。除了家庭隔离之外,政府还下令建立隔离医院。政府和医疗界印发很多预防手册,指导人们如何做好预防工作。英国逐步建立的各项防疫制度,还有很多问题需要解决和完善,但已经使近代意义上的公共卫生体系初见雏形。通过这一时期公共卫生实践的推进,英国改变了此前在西欧国家中卫生落后的窘况,并成为西欧国家效仿的榜样。

——摘编自邹翔《16-17世纪英国鼠疫与近代公共卫生体系的雏形》

(1)根据材料并结合所学知识,概括英国应对鼠疫的措施及其特点。(9分)

(2)根据材料并结合所学知识,评价16-17世纪英国对鼠疫的应对机制。(6分)

46.[历史一选修3:20世纪的战争与和平](15分)

材料

凡尔赛—华盛顿体系是一战后帝国主义战胜国根据战后新的力量对比,经过斗争和妥协建立的战后国际关系新体系。但分赃不均导致帝国主义国家内部矛盾重重,美国愤然拒绝批准《凡尔赛和约》,苏联独处于体系之外,本应维护这一体系的英法两国却没有发挥应有的作用。加之1929年—1933年的资本主义世界经济危机、十月革命后被压迫民族的独立和解放运动的蓬勃发展以及资本主义国家政治经济发展不平衡因素的影响,仅仅维持了20年的相对和平局面很快就被打破了。凡尔赛—华盛顿体系虽然迅速解体,却为后来雅尔塔体系建立及维持较长时间和平提供了宝贵的经验。

——摘编自万楚蛟、高英彤《凡尔赛—华盛顿体系的脆弱性:从体系建制角度分析其弊端》

(1)根据材料并结合所学知识,概括凡尔赛—华盛顿体系迅速解体的原因。(8分)

(2)根据材料并结合所学知识，简评凡尔赛—华盛顿体系。(7分)

47.[历史—选修4:中外历史人物评说] (15分)

材料

长孙平，河南洛阳人，史称其聪明好学，得到隋文帝赏识和重用。他鉴于“天下州县多罹水旱，百姓不给”的社会现实，认真总结了民间已有的互助自救形式，于开皇五年“奏令民间每秋家出粟麦一石已下，贫富差等，储之闾巷，以备凶年，名曰‘义仓’”。中央政府采取强有力措施，将民间自发兴起的义仓推广至全国。经过多年经营，隋代各地义仓无不充盈。这对于自耕农经济和个体手工业生产应对干旱、蝗灾、水涝、地震、瘟疫及社会动乱，发挥了不可低估的作用。义仓丰富了我国仓廩制度的内容，影响深远，清代乃至民国时期仍然存在。

——摘编自魏明孔《从义仓设置看隋代制度创新》

(1)根据材料并结合所学知识，简析长孙平奏请的义仓得以推广的原因。(8分)

(2)根据材料并结合所学知识，概括隋朝义仓制度的意义。(7分)



2021 届“江南十校”一模联考

地理参考答案与评分细则

1. D 通过读等高线地形图，可以发现古城所在地为平原，且两侧有山地，因此答案选 D，平原望山型。
2. B 据图可知，古城位于干支流交汇附近，浙江丽水位于季风气候区，汛期易出现洪峰威胁古城，枯水期，农业灌溉又不便。多条堰渠和多座堰坝与河流交错分布，筑堰引流防洪灌溉。堰渠没有穿城，也不局限于近郊调控，更不是为了汇水入渠。
3. D 东道国与我国（母国）制度和文化的差异带来的政治经济风险具有不可预测性和突发性等特点，风险最大。
4. C 共商共建模式可以构建国家层面、地方政府层面、入园企业层面等多层级协商机制，有利企业规避战略误判，少走弯路，不走错路，提高企业投资效率，降低投资外部风险。共商共建是多主体参与，但投资成本并非均摊。并不指的是平均分配；共商共建模式能降低因文化制度差异带来的投资风险，并不能消除文化制度差异。选择②③。
5. C 信息和资源的共享可以让入园企业快速了解东道国的投资环境，制订适应当地生产环境的企业战略。答案选 C。
6. A 由三条虚线所反映的气温高低可以看出自上而下依次为夏季、年均温和冬季气温。再依图判断变化趋势即可。
7. D 水域面积变化对气温的影响缘于 3 个因素：第一，水体较陆地反射率小，吸收太阳辐射较多，导致气温上升；第二，水体比热容大，增温时，水体储存较多热量，缓和水上空气的增温，带来减温效应；减温时，水体释放热量，缓和水上空气的降温，带来增温效应；第三，水面蒸发散热带来减温效应。水域对气温的影响，取决上述 3 个因素的综合作用。冬季，前 2 个作用大于第 3 个，夏季，后 2 个作用大于第 1 个。水域面积增加，则冬季平均气温、年平均气温增加，夏季平均气温降低。
8. B 流域水域面积增加，水上空气湿度大，为降水提供了有利条件。在冷季，水体温度相对较高，水上气层不稳定，对流运动和空气上升运动会加强，降水量增加；在暖季，水体温度相对较低，水上大气层结稳定，气体对流运动减弱，降水量减少。因此，水域面积增加时，冬季平均降水量增加、夏季平均降水量减少。
9. C 根据图例可知沙漠化高度敏感地区的面积占比，呈现出先降后升，总体上升的波动上升趋势。
10. B 沙漠化敏感性受气候、植被、土壤、地形、水文等因素的综合影响与制约。气候和土壤起直接作用，是最主要的影响因素；植被对环境的感知最灵敏，是改变西北干旱区沙漠化敏感性最活跃、最基本的环境因素。地形的分布和水文的变化对沙漠化敏感性起到一定的限制作用。
11. A 据图可知，高度敏感和极度敏感的总面积占比下降，不敏感和轻度敏感的总面积占比上升，沙漠化敏感性整体是降低的，环境有所改善。

36. 本组题以山区乡村发展案例为背景创设情境，考查“聚落、土地利用变化”等相关内容，呼应了近两年全国 I 卷地理有关“乡村振兴”考查的新动向。

（1）【详解】：从图名看，1977 年到 2018 年宅基地由生存型生计阶段转变成发展型生计阶段；从内部结构看，楼梯的出现反映了垂直方向的变化（注解也能验证）；从面积上看，

住房用地占比扩大；2018年公共大厅、商铺/前台、农家乐餐厅等的出现，反映了宅基地功能多样化趋势；从柱状图看，出现功能多样化以及主体功能发生转变。

参考答案：

由生存型生计阶段演化为发展型生计阶段；（2分）
出现（两层及以上的）垂直分层结构；（2分）住房用地占比扩大；（2分）
农业生产功能下降，旅游接待功能占主导；（2分）
宅基地利用出现功能多样化趋势（2分）；（每点2分，最高不超过8分）

（2）【详解】：由于水口村位于山间狭窄的河谷地区，山高林密，地表起伏较大，本身农业发展的条件较差，限制了传统农业的规模；1978年改革开放政策实施后，大量农村劳动力外出务工，或改为从事非农业经济活动，带来土地利用类型的改变；非农业用地增加，宅基地的农业生产功能衰退。

参考答案：

发展传统农业的自然基础差，限制了传统农业的规模；（2分）
土地利用类型发生变化，非农业用地逐渐增加；（2分）
家庭外出务工或从事非农经济活动人员增多（宅基地农业生产功能衰退）。（2分）

（3）【详解】：乡村旅游业的发展会带来水口村经济、社会、生态等方面的变化。

参考答案：

推动水口村农业转型发展；（2分）增加村民收入，改善生活质量；（2分）
助推“能人”返乡和人口回流；（2分）完善基础设施，优化人居环境；（2分）
保护乡村生态环境，实现可持续发展等。（2分）（言之有理，酌情给分）

37. 本题以美国西部科罗拉多高原—峡谷群地貌为背景创设情境，从“时空综合、宏微综合”角度考查“地表形态的塑造”等相关内容。

（1）【详解】：地貌判断的理由可分证据信息和成因/原理两方面。
证据上，有砂岩红层分布，可推测该地曾经地势低洼；
成因/原理上，位于板块的消亡边界，板块碰撞挤压下沉形成盆地。

参考答案：

砂岩属于沉积岩，说明该地曾经地势低洼；（3分）
该地位于太平洋板块与美洲板块的消亡边界，板块碰撞挤压形成大型弧后盆地。（3分）

（2）【详解】：由“该地位于北美西部大型内陆盆地”可知，侏罗纪时期，北美大陆板块与太平洋板块俯冲碰撞，北美大陆西部山脉隆起，该地位于山脉的背风坡，气候干旱，降水较少；由地理位置可知，该地夏季受副热带高压带控制，盛行下沉气流，气候干旱，降水较少，形成内陆沙漠环境。

参考答案：

侏罗纪时期，北美大陆板块与太平洋板块俯冲碰撞；（2分）
北美大陆西部（造山运动）山脉隆起；（2分）
（公园所在的）弧后盆地位于山脉的背风坡；（2分）
夏季受副热带高压影响，降水少，蒸发强。（2分）

(3) 【详解】：地貌的演化是内外力地质作用共同作用的结果。结合材料可知，起初，内力作用形成盆地；之后，外力作用形成砂岩红层；地壳抬升，砂岩红层出露地表；在流水、风力等外力的不断侵蚀下，最终发育成高原—峡谷群。

参考答案：

内力挤压，地壳下陷，形成盆地；（2分）

外力沉积形成系列砂岩红层；（2分）

地壳抬升，砂岩红层出露、断裂；（2分）

在流水、风力等外力侵蚀下，发育成高原—峡谷群。（2分）

43. 本题以疫情时期为特殊背景，以博物馆开展“云旅游”为案例，考查旅游地理的相关内容，有很强的时代性。

【详解】：由于疫情，线下实地旅游受到了很大限制，为了增加经济收入，需要开拓新的旅游市场。同时，通过线上相关活动的开展，可以有效地提高旅游景区的知名度。

对“云旅游”推广的建议，可从提高用户体验、完善线上旅游服务及提高知名度等方面着手。

参考答案：

价值（6分）：开拓线上旅游市场；（2分）增加博物馆的经济收入；（2分）提高博物馆的知名度；（2分）

建议（4分）：与知名直播平台合作；（2分）开发相关小程序；（2分）联合媒体开展宣传等。（2分）（每点2分，最高不超过4分）

（本题言之有理，可酌情给分）

44. 本题以我国某市一个土壤污染的真实案例为情境，考查“污染防治措施”等相关内容。

【详解】：该地拥有污染地块15处，需进行土壤污染的治理，推广污染治理的先进技术；重金属排污单位17家，要做好重金属企业排污管控；危化品搬迁企业9家及规模以上化工企业70余家，应推进危化品和化工企业有序关闭或搬迁；尾矿库3个，应做好尾矿库风险防控；非正规垃圾堆放点整治任务3处，因此应大力整治垃圾堆放点。

参考答案：

做好重金属企业排污管控；（2分）扎实做好尾矿库风险防控；（2分）

推进危化品和化工企业有序关闭或搬迁；（2分）大力整治垃圾堆放点；（2分）

严格生态环境执法监管；（2分）加强宣传引导和社会监督；（2分）

推广土壤污染治理先进技术。（2分）（每点2分，最高不超过10分）

（说明：污染防治措施必须紧扣材料中所列出的土壤污染状况，体现措施的针对性。）

2021 届“江南十校”一模联考

历史参考答案与评分细则

一、选择题：（共 48 分）

24	25	26	27	28	29	30	31	32	33	34	35
A	C	B	D	A	B	C	B	A	D	C	A

24. 答案 A

【解析】本题通过宴飨诗考查周的礼乐文化。宴飨诗又称为燕飨诗，主要存于“二雅”之中，反映君臣、亲朋欢聚宴享的诗歌，再现了周的礼仪，体现了周贵族之间待人以礼、与人为善的思想意识和价值取向，故 A 项正确；宴飨诗是以君臣欢宴、亲友聚会为主要内容，不仅仅是宗室内部的礼乐仪式，更不是统治阶级骄奢淫逸的体现，故 B、C 项错误；《诗经》属于现实主义文学，故 D 项错误。

25. 答案 C

【解析】本题考查西汉监察制度。根据材料信息“省察治状，黜陟能否，断治冤狱，以六条问事”可知刺史的主要职责是监察诸侯王和地方官员，并非为了控制地方豪强势力，故 A 项错误，C 项正确；监察地方官，最终是达到加强中央集权，强干弱枝的目的，不是为了加强君主专制，故 B 项错误；汉武帝彻底解决王国问题是在元朔二年（前 127）实施“推恩令”后逐步实现，D 项不符史实，故错误。

26. 答案 B

【解析】本题通过农具革新考查我国古代农耕经济的发展。根据材料信息可知高转筒车是对原有筒车的改进，其改进适应了一些山地、丘陵地区农业生产发展的需求，故 B 项正确；中国古代科学技术重实践，轻理论，高转筒车等农具的改进源于农业生产实践，而非理论创新，故 A 项错误；高转筒车不能代表古代灌溉技术的最高水平，故 C 项错误；高转筒车的出现只是有利于农业生产，并不能推动农村产业结构的变革，故 D 项错误。

27. 答案 D

【解析】本题考查我国古代文化艺术成就。郑板桥“眼中之竹”、“胸中之竹”、“手中之竹”的理论，是他在艺术创作上把主观与客观，现象与想象，真实与艺术有机地融为一体，创造了师承自然，而又高于自然的境界，故 D 项正确；他不是形式主义地重复自然物，而是经过提炼加工、集中概括的，故 B 项错误；其画是对古代文人画的继承和发展，故 C 项错误；A 项不符题意，故错误。

28. 答案 A

【解析】本题通过我国近代商办企业的创办情况考查近代化与民生需求。从表格中商办企业发展的部门来看，是适应了当时民生的需要，故 A 项正确；表格内容体现了当时近代民族工业初步发展的情况，并非快速发展，故 B 项错误；在近代由于各种原因，很难形成独立的民族工业体系，故 C 项不符合史实；虽然内地也有商办企业的出现，但主要还是沿海大城市，区域分布不均衡，故 D 项错误。

29. 答案 B

【解析】本题考查我国近代史的国货运动和社会生活变迁。抓住关键信息“《复中华国货维持会函》”，可知孙中山对“易服”态度的变化是受中华国货维持会倡导国货运动的的影响，故 B 项正确。其他选项材料中没有体现，均不符题意。

30. 答案 C

【解析】本题考查抗战时期中国共产党对新民主主义革命的探索。1938 年

结束后，抗战进入相持阶段，故 A 项错误；1935 年中共召开瓦窑堡会议，就提出了建立广泛的抗日民族统一战线的方针政策，故 B 项错误；据材料可知，战争刚刚开始，中共已经认识到，这场战争既是反抗侵略的民族独立战争，也是建立中共领导的民主共和国的革命解放战争，是放眼未来更长远的目标，故 C 项正确；根据题意，保持中共的领导及其独立性，并非全面掌握了抗日战争领导权，故 D 项不符史实。

31. 答案 B

【解析】本题以休闲文学的盛行考查我国经济体制改革的影响。文学不能独立于政治之外，A 项表述错误；休闲文学的盛行，是随着改革开放的进行，社会经济的发展，人们生活日益丰富多彩而出现的，故 B 项符合题意；休闲文学盛行反映了精神享受和物质享受都成为人们重要的生活追求，故 C 项错误；D 项表述绝对，不符题意，故错误。

32. 答案 A

【解析】本题考查雅典民主政治和法律制度。雅典公民的誓词中反映了公民对法律的服从与维护，一切违背法律，超越民主的行为都会受到惩罚，可知雅典民主政治生活，是严格受到法制制约的，故 A 项正确；成为雅典公民的资格是祖籍为雅典的并具有一定财产的成年男子，而非服从法律，故 B 项错误；雅典法律应适用于全体雅典人，不仅仅适用于公民，故 C 项错误；D 项不符史实，故错误。

33. 答案 D

【解析】本题考查英国历史上的议会改革。解题关键是要抓住设问词。解读材料可知，文章认为英国当时议会改革的决策者实际上是为了巩固贵族统治，故 D 项正确；文章没有涉及此次议会改革的结果，故 A 项不符合题意；文章认为，议会改革的目的是为了巩固贵族统治，没有谈及此次改革的影响，且英国当时是君主立宪制并非共和制国家，故 B 项错误；1832 年英国的工业革命还没有完成，故 C 项错误；

34. 答案 C

【解析】本题考查苏联社会主义建设模式。针对粮食收购危机，斯大林和布哈林不同的主张，其分歧的本质在于社会主义建设模式的差异，故 C 项正确；意识形态上双方都属于社会主义意识形态，没有根本的对立，故 A 项错误；对内对外形势判断不同，新经济政策是否应该延续，都不是双方本质上的分歧，故 B、D 项错误。

35. 答案 A

【解析】本题考查史学理论和方法。解密档案使历史研究的史料和途径更加丰富，有助于历史研究的深入，故 A 项正确；后期的研究成果不一定比传统观点更可信，B 项表述绝对化了，错误；学派迭出应更有利于探索历史真相，故 C 项错误；冷战是以美苏为首的两大阵营之间政治、经济、军事等方面斗争，不仅仅是经济体系的对立，D 项是对材料的错误解读。

二、非选择题（共 52 分）

41（25 分）

【解析】本题考点为大国治理能力和中华共同体意识。通过中美两国边疆政策和边疆治理的比较，考查学生的史料实证、家国情怀和时空观念等历史素养。

(1) 措施：吸引商业资本；政府赠地拨款；发展西部交通；实行“熔炉”政策解决族际关系。（6 分，任答其中三点即可。）

评价：拓展了美国的疆域，促进了美国迅速发展；带有野蛮性，扩张性。（4 分）

(2) 特点：注重对少数民族文化的全方位保护；突出中华民族多元一体格局。（5 分，答一点 3 分，两点 5 分。）

特殊性：中国自古是统一的多民族国家；少数民族主要聚集于边疆地区（大杂居、小聚居）。（4 分）

(3) 认识：要注重边疆开发和建设；要妥善处理民族关系，促进共同发展；边疆观念要与时俱进。(6分)

42. (12分)

【解析】本题以风俗画《清明上河图》为素材，考查学生的发散性思维，以及史料实证、历史唯物主义等核心素养。

评分标准：

论题 (2分)		论证 (8分)		结论 (2分)	
2分	论题明确、语意恰当，不能重复材料中的观点。	6~8分	紧扣论题，论证充分，史实准确，表述清晰，逻辑性强。	2分	契合主题，措辞严谨。
1分	论题不够明确或表达不太恰当。	4~6分	论证较充分，有一定的史实依据，表述不太清晰。	1分	基本契合主题，措辞不够严谨。
0分	没有论题或论题错误。	0~4分	有一定的论证，史实不够准确或错误。	0分	没有结论或结论脱离主题。

示例 1

论题：市井文化是北宋商品经济繁荣发展的体现 (2分)

论述：市井文化是一种市民文化，产生于街区小巷，反映了市民真实的日常生活和心态。随着北宋商品经济发展和城市繁荣，新兴的市民阶层地位日益上升，市井文化也渐趋繁荣。北宋画家张择端的《清明上河图》就是市井文化在绘画艺术中的典型表现，它通过描绘汴河两岸的风光，展现了 12 世纪我国都市各阶层人物的生活状况和社会风貌，体现了北宋商品经济的高度发展。(8分)

结论：北宋是一个物质文化和精神文化空前发展的历史时期，其商品经济的繁荣和市民阶层的发展使得市井文化的发展成为必然。(2分)

示例 2

论题：《清明上河图》是北宋风俗画的代表性作品 (2分)

论述：风俗画是以社会生活风俗为题材的绘画。北宋时期，工商业发展，市民阶层兴起，城市的文化生活丰富多彩，使得绘画的题材范围在反映现实生活方面得到了极大的拓展。北宋画家张择端的《清明上河图》就是代表性的风俗画作品，它通过对汴河两岸风光及各阶层人物活动的生动描绘，以长卷形式，采用散点透视构图法，再现了当时宋都的商业繁荣景象。(8分)

结论：《清明上河图》丰富的思想内涵、独特的审美视角、现实主义的表现手法，使其成为风俗画中的经典之作。(2分)

示例 3

论题：《清明上河图》具有重要历史文献价值 (2分)

论述：张择端是北宋当朝画家，《清明上河图》是一幅写实性很强的艺术作品，具有第一手史料价值。画中所绘景物与文献中有关东京的记载基本一致，有着文字无法取代的历史价值，在艺术表现的同时，也为研究 12 世纪中国城市的生活状况留下了重要形象资料。(8分)

结论：《清明上河图》为我们认识和研究北宋城市经济和市民生活提供了

据（2分）

（其他答案，言之有理，酌情给分）

45.（15分）

【解析】本题考点为近代英国应对疫情的措施及其特点，通过历史关照现实，契合时政热点，考查学生史料实证、历史解释等核心素养。

（1）措施：颁布防疫法令；控制疫区人口流动；征收防疫税；建立隔离医院；印发手册做好预防。（5分，任答一点2分，两点4分，三点5分）

特点：由国家主导应对；不断发展、健全。（4分）

（2）评价：改变了英国卫生落后的窘况；成为西欧其他国家的榜样；近代意义上的公共卫生体系初见雏形；还有许多问题需要解决和完善。（6分，任答其中三点即可）

46.（15分）

【解析】本题考点为一战后的国际关系及世界格局变动，考查学生的史料实证、历史解释、时空观念等核心素养。

（1）原因：分赃不均导致帝国主义国家矛盾重重；美苏游离于体系之外；英法未发挥应有的作用；经济危机的冲击；民族解放运动的影响；资本主义发展不平衡。（8分，任答其中四点即可）

（2）凡尔赛—华盛顿体系是一战后战胜国斗争和妥协的产物；短期内在一定程度上缓和了国际紧张局势；帝国主义的本质注定了它快速崩溃的命运；促使人们反思并努力构建公正合理的世界新秩序。（7分，任答一点3分，两点5分，三点7分）

47（15分）

【解析】本题通过历史人物考查古代灾后重建、相关的社会保障政策及其历史意义，以史为鉴，关注民生。考查学生的史料实证、唯物主义、历史解释等核心素养。

（1）原因：长孙平得到皇帝赏识和重用；应对自然灾害严重的现实需要；民间互助自救具有成效；中央政府采取强有力的措施。（8分）

（2）历史意义：为农业和手工业生产提供保障；有利于社会秩序的稳定；丰富了我国仓廩制度；影响深远，为后代所沿袭。（7分，任答一点3分，两点5分，



2021届“江南十校”一模联考
政治参考答案和评分细则

题号	12	13	14	15	16	17	18	19	20	21	22	23
答案	C	C	D	A	B	B	A	D	B	A	C	D

12. C【解析】a点→b点,表示甲国货币贬值,乙国货币升值,不考虑其他因素的影响,甲国会减少对乙国的投资,去往乙国旅游的成本将上升,人数会减少,①不选,②入选;b点→c点,表示甲国货币升值,乙国货币贬值,甲国对乙国的进口增加,出口减少,贸易顺差减小,同时甲国产品在乙国的价格会上升,价格竞争力降低,③不选,④入选。

13. C【解析】打造公共服务平台是政府等相关部门的职责,①不选;降低要素成本与抓住数字消费新机遇无关,③不选。所以选择②④。

14. D【解析】央行改革完善贷款市场报价利率属于货币政策,①错误;减轻消费贷款负担并不能增加居民可支配收入,②错误。③④推导正确,入选。

15. A【解析】社会保障体系属于再分配的范围,③错误;社会保障体系的完善体现了共享的发展理念,而非共享经济,④不选,故选择①②。

16. B【解析】未成年人保护法修改的宗旨是保护未成年人的合法权益,B正确;ACD不是该法修改的根本目的所在,不选。

17. B【解析】对公共安全的政治领导的主体是中国共产党,②错误;政府只能制定行政性法规,难以为维护公共安全提供完善的法律保障,④错误,选择①③。

18. A【解析】我国主张推动构建国际新秩序,现行的国际秩序并不能有效地维护世界和平,②错误;各国制定对外政策的根本遵循是本国的国家利益,④错误。①③正确且符合题意。

19. D【解析】推动基层文化创新并不能实现基本公共文化服务均等化,①错误;促进文化传播手段的创新与增强精神力量之间没有必然联系,③错误;②④正确且符合题意。

20. B【解析】庆祝民族节日是民族文化的集中展示,②错误;故宫文化不是优秀传统文化的重要标志;①③正确且符合题意。

21. A【解析】真理在实践中不断发展完善,“推翻自身”的说法是错误的,③不选;人工智能并不具备自觉行为,只有人类才有,④错误。

22. C【解析】“德”与“智”是相互影响的关系,并非相互决定,①错误;漫画中的“老奶奶”在培养人才方面错误地发挥了主观能动性,③不选;

23. D【解析】自在事物的联系在人类产生前就存在,不取决于人为事物的联系,①错误;矛盾的特殊性体现矛盾的普遍性,③错误;②④正确且符合题意。

38. (14分)

【试题分析】

本题以扩大对外开放,构建新发展格局为背景,以习近平总书记进博会开幕式的主旨演讲为情境材料,考查考生综合运用所学经济生活知识分析和阐释问题的能力。

【参考答案】

提高世界范围内资源配置效率,推动经济全球化进一步发展,为世界经济增长提供强劲动力。(4分)化解世界经济所面临的难题,维护多边贸易体制,推动建设开放型世界经济。

(3分)依托我国大市场优势,促进国际合作,实现互利共赢,发展更高层次的开放型经济,提高我国对外开放水平。(3分)丰富市场选择,促进消费升级;激发市场竞争,推动产业转型,助力国内经济高质量发展。(4分)

【评分说明】

第一点关键点：提高资源配置效率，推动经济全球化（4分）（如果考生从经济全球化积极作用答题也可得分。）；第二点关键点：化解世界经济难题，推动建设开放型世界经济（3分）；第三点关键点：更高层次的开放（3分）；第四点关键点：促进消费升级；推动产业转型升级（必须从消费和生产角度，各2分，共4分）。

（考生如答参与国际竞争与合作、促进贸易投资、增强企业国际竞争力等其他角度，言之有理，可酌情给分。）

39.（12分）

【试题分析】

本题立意推动党的建设，以“深圳特区成立40周年”为切入口，考查学生综合运用政治生活知识分析和阐释问题的能力。

【参考答案】

围绕改革发展难题，完善党的领导方式和执政方式，提高党的执政能力；（3分）坚持以人民为中心，密切党群联系，提高为民服务水平；（3分）通过制度建设推动从严管党治党，为特区的发展营造良好环境；（3分）创新党建方式，加强党对非公有制的领导，保证深圳经济特区的中国特色社会主义发展方向。（3分）

【评分说明】

第一点关键词：完善党的领导方式和执政方式（3分）（如果考生回答民主科学依法执政，可得2分）；第二点关键词：以人民为中心（3分）（如果考生回答为人民服务也可得分）；第三点关键词：从严管党治党和制度建设（3分）；第四点关键词：加强党对非公有制经济的领导（3分）（如果考生回答发挥党统领全局、协调各方的领导核心作用可得2分）（考生如从其他角度回答，言之有理，可酌情给分）

40.（26分）

【试题分析】

本题立意弘扬劳模精神，选取近几年我国涌现的劳动模范的先进事迹为情境材料。第（1）问突出科学精神，考查考生运用哲学原理分析和概括问题的能力；第（2）问突出政治认同，考查考生综合运用文化生活知识分析和阐释问题的能力；第（3）问突出公共参与，考查考生在现实生活中理论与实际结合的能力。

【参考答案】

（1）爱岗敬业，把个人理想与社会发展有机结合起来；（3分）甘于奉献，在劳动中实现人生价值；（3分）艰苦奋斗，发扬顽强拼搏、自强不息的精神；（3分）勇于创新，在砥砺自我中增长才干，争创一流。（3分）

（2）劳模精神是以爱国主义为核心的民族精神和以改革创新为核心的时代精神的生动体现，弘扬劳模精神是增强我国国际竞争力的要求。（3分）弘扬劳模精神有利于提高劳动者素质，为经济社会发展提供人力支撑；（3分）有利于增强民族的凝聚力和创造力，激发全国人民的奋进力量；（2分）有利于展示民族形象，提升“中国创造”的影响力。（2分）

（3）示例：整理开发劳模先进事迹的课程资源；开展弘扬劳模精神主题实践活动；开设劳模精神的宣传平台。（4分，答出两点即可）

【评分说明】

（1）若考生仅从如何实现人生价值的角度回答，未对劳模精神进行概括，

其他角度回答，言之有理，可酌情给分。

(2)若考生回答文化越来越成为民族凝聚力和创造力的重要源泉，越来越成为经济社会发展的重要支撑，越来越成为综合国力竞争的重要因素，可得4分。其他角度回答，言之有理，可酌情给分

(3)本题为开放性试题，首先学生列举建议要围绕“学校”这一主体，并非班级或个人；其次，对学校开展宣传教育方式的建议最少要有两个，方式雷同则只能给一点的分，如同时答了开展主题演讲活动与主题报告活动则只能得2分。



关于我们

自主选拔在线（原自主招生在线）创办于 2014 年，历史可追溯至 2008 年，隶属北京太星网络科技有限公司，是专注于**中国拔尖人才培养**的升学咨询在线服务平台。主营业务涵盖：新高考、学科竞赛、强基计划、综合评价、三位一体、高中生涯规划、志愿填报等。

自主选拔在线旗下拥有网站门户、微信公众平台等全媒体矩阵生态平台。平台活跃用户达百万量级，网站年度流量超 1 亿量级。用户群体涵盖全国 31 省市，全国超 95% 以上的重点中学老师、家长及考生，更有许多重点高校招办老师关注，行业影响力首屈一指。

自主选拔在线平台一直秉承 “专业、专注、有态度” 的创办公念，不断探索 “K12 教育+互联网+大数据” 的运营模式，尝试基于大数据理论为广大中学和家长提供中学拔尖人才培养咨询服务，为广大高校、中学和教研单位提供 “衔接和桥梁纽带” 作用。

平台自创办以来，为众多重点大学发现和推荐优秀生源，和全国数百所重点中学达成深度战略合作，累计举办线上线下升学公益讲座千余场，直接或间接帮助数百万考生顺利通过强基计划（自主招生）、综合评价和高考，进入理想大学，在家长、考生、中学和社会各界具有广泛的口碑影响力，2019 年荣获央广网 “年度口碑影响力在线教育品牌”。

未来，自主选拔在线将立足于全国新高考改革，全面整合高校、中学及教育机构等资源，依托在线教育模式，致力于打造更加全面、专业的**新高考拔尖人才培养**服务平台。



 微信搜一搜

 自主选拔在线