

高三文科综合考试

本试题卷分为第Ⅰ卷选择题和第Ⅱ卷非选择题两部分,共47小题,时量150分钟,满分300分。

第Ⅰ卷 (选择题 共140分)

本卷共35小题,每小题4分,共140分。在每小题给出的四个选项中,只有一项是符合题目要求的。

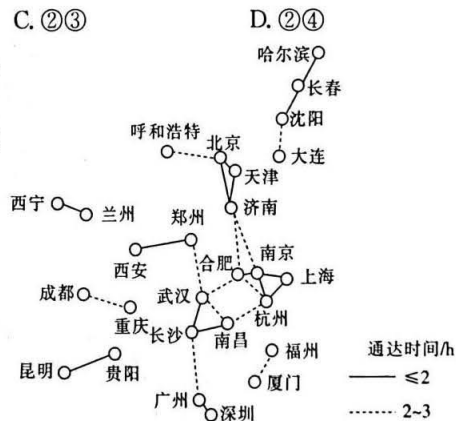
集成电路作为电子信息技术产业的核心,是全球关键核心技术竞争的焦点。新兴工业化经济体崛起,推动网络空间结构由以北美为主导的单中心演变为以北美、东亚—东南亚为主导的多中心格局。随着中国集成电路出口能力的提高,中国已替代美国成为东南亚地区的主要贸易合作伙伴。据此完成1~3题。

1. 推测东南亚地区在全球集成电路产业中的主要分工是
A. 设备研发 B. 市场营销 C. 芯片设计 D. 封装测试
2. 与美国相比,我国出口的集成电路产品对于东南亚地区而言的主要优势是
A. 技术先进 B. 贸易渠道多样
C. 价格较低 D. 应用范围更广
3. 随着经济发展,全球集成电路产品跨洲贸易中
①联系节点增加 ②联系节点减少 ③所有区域跨洲贸易强度都增强 ④部分区域跨洲贸易强度可能减弱

- A. ①③ B. ①④ C. ②③ D. ②④

交通网络构筑了城市关联骨架,发达的交通网络能够深刻影响城市空间联系并重塑区域空间格局。右图示意2021年我国中心城市间高铁3小时以内通达时间格局。据此完成4~6题。

4. 城市节点之间高铁的通达时间主要取决于
A. 经济体量
B. 客流规模
C. 空间距离
D. 技术水平



5. 我国城市群之间高铁通达度最高的是
A. 长三角—珠三角
B. 长江中游—京津冀
C. 长江中游—珠三角
D. 长三角—京津冀

6. 为提高我国高铁通达度及高铁运营的经济效益,建议应
①加快东西向通道布局 ②提升东南沿海通道运能 ③完善发达城市内部高铁网络 ④快速提高西部地区城市间的高铁密度

A. ①② B. ②③ C. ①④ D. ③④

克拉通是地球上古老且稳定的大陆地块。非洲大陆拥有三处规模较大的克拉通,它们形成于几亿年前,其中位于赤道附近的刚果克拉通西部未延伸到海岸线。据此完成7~8题。

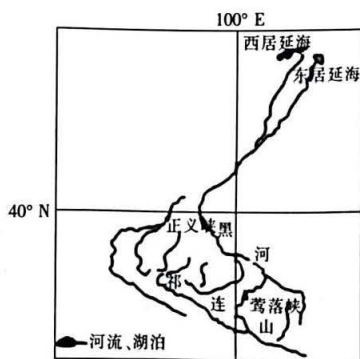
7. 非洲克拉通岩石中,多见

A. 石灰岩 B. 花岗岩
C. 玄武岩 D. 角砾岩

8. 刚果克拉通未延伸到海岸线,推测刚果克拉通西部边缘

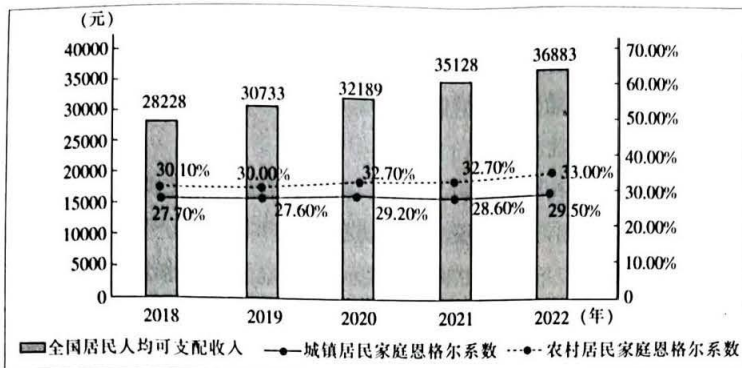
A. 地壳运动较少 B. 为板块交界处
C. 矿产资源匮乏 D. 地势起伏较大

黑河沿岸多线状分布的胡杨。每年夏季出现胡杨母株上大量散落种子的现象,被称为“种子雨”。胡杨种子有白色绒毛,可借助风力、流水传播。由于上游过度用水,20世纪末黑河下游断流,严重威胁胡杨生存。近年来,每年秋季黑河集中向下游生态输水,但未能明显遏制胡杨种群退化。部分来水量较大的年份成为胡杨种子向下游扩散的关键时期。下图示意黑河流域位置。据此完成9~11题。



9. 胡杨呈线状分布在黑河沿岸主要取决于
A. 降水量 B. 蒸发量
C. 地下水位 D. 下渗率
10. 生态输水未能明显遏制黑河流域内胡杨种群退化,可能是因为
A. “种子雨”与生态输水时间不一致
B. 胡杨种子被风沙大量掩埋
C. 上、中、下游水资源分配不均
D. 流域内气候变湿,风速减小
11. 评估胡杨种子向下游扩散条件的最合适指标是
A. 莺落峡水量 B. 正义峡水量
C. 东居延海水位 D. 西居延海水位

12. 以下是 2018~2022 年全国居民人均可支配收入及全国城乡居民家庭恩格尔系数。



不考虑其他因素,据图可以作出的合理推断是

- ①全国居民总体消费能力不断增强,消费结构伴随着收入的变化而变化
- ②城乡居民家庭恩格尔系数回升会促使居民增加旅游等享受资料的消费
- ③2022 年全国城乡居民家庭生活成本较高,家庭食品消费支出占比上升
- ④城乡居民收入增长预期不乐观导致了发展和享受资料的消费支出减少

A. ①③ B. ①④ C. ②③ D. ②④

13. 党的二十大报告提出,支持“专精特新”(专业化、精细化、特色化、新颖化)企业发展。“专精特新”企业在发展中仍存在融资难、融资贵、财务负担较重、政策支持不足等问题,要解决这些企业的“急难愁盼”有赖于更强有力的支持。以下政策支持发挥作用的路径正确的是

- ①信贷支持:降低存款准备金率→提高资金周转效率→纾解“专精特新”企业困难
- ②人才支持:提高企业工资待遇→吸纳专业技术人员→推动“专精特新”企业创新
- ③财税支持:提高增值税起征点→减轻企业纳税负担→激发“专精特新”企业活力
- ④平台支持:搭建孵化平台→整合发展所需配套资源→增强“专精特新”企业信心

A. ①② B. ①③ C. ②④ D. ③④

14. 2023 年中央一号文件提出,加快乡镇区域养老服务中心建设。某县深化“资金+物资+服务”社会救助模式,优先聘用周边村组脱贫户、低保户、低收入户中有照护能力的闲置劳动力,开展定人、定时、定点“三定”服务,对全县的分散供养特困人员,根据全自理、半自理、全护理类别提供服务。该模式

- ①有利于实现劳动力资源的有效利用,保障和改善民生
- ②意在发挥第三次分配作用,维护和实现社会公平正义
- ③可以完善社会保障体系,提升特困人员供养服务质量
- ④贯彻落实按劳分配原则,增加低收入群体的劳动收入

A. ①② B. ①③ C. ②④ D. ③④

15. 近年来,天津市某区轨道交通产业园坚持“在京孵化、在津落地”,承接北京科研单位创新成果转化,打造京津双向协同创新综合服务平台。目前已形成近 50 家轨道交通企业的产业集群,实现动力、控制、信号等产业链全覆盖。该区发展的成功经验是

- ①发挥自身比较优势,有效推进错位承接发展
②构建良好创新环境,加快集聚先进生产要素
③推动城乡协同发展,破解了城镇化发展难题
④坚持区域良性互动,推动全产业链效益提高
- A. ①② B. ①④ C. ②③ D. ③④
16. 近年来,我国各省市努力构建跨部门、跨地区、跨层级的政务信息共享应用平台。围绕办事难、办事慢、办事繁等问题,变被动服务为主动服务,最大限度满足个性化、定制化服务需求。《2022 联合国电子政务调查报告(中文版)》显示,我国电子政务排名在 193 个联合国会员国中从 2012 年的第 78 位上升到了 2022 年的第 43 位。我国加快电子政务建设意在
- ①优化政府部门机构设置,提高政府部门的办事效率
②加快职能转变,以数字化协同提升政务服务的效能
③发挥数字技术优势,增强中国数字经济国际竞争力
④有效整合政务信息资源,打造优质高效的营商环境
- A. ①② B. ①③ C. ②④ D. ③④
17. 2022 年 12 月 30 日,十三届全国人大常委会第三十八次会议表决通过修订后的《中华人民共和国野生动物保护法》。本次修订为贯彻落实党的二十大报告关于促进人与自然和谐共生的精神,根据常委委员、专委会委员和部门、专家学者、社会公众的意见对相关内容进行了修改。这体现了
- ①党的主张、人民意志经由法定程序上升为国家意志
②我国公民可以通过社情民意反映制度参与民主管理
③社会公众监督对全国人大常委会立法具有推动作用
④全过程人民民主理念在实践中转化为国家治理效能
- A. ①② B. ①④ C. ②③ D. ③④
18. 2023 年 3 月,在中国积极斡旋下,中国、沙特和伊朗三国在北京发表三方联合声明,宣布沙特和伊朗达成双边协议,同意恢复双方外交关系。除了沙特和伊朗复交,中东地区近期“和解外交”频现,多国关系呈“回暖”态势,例如土耳其外长十余年来首次访问埃及,叙利亚总统到访阿联酋等。这表明
- ①中东地区各国的共同利益逐渐高于各国的自身利益
②中国是维护世界和平与稳定的积极因素和坚定力量
③中东和解推动了国际关系民主化和竞争向合作转变
④中国积极参与中东地区和平进程符合当今时代潮流
- A. ①② B. ①③ C. ②④ D. ③④
19. 2023 年 2 月 24 日,《复兴文库》公共图书馆馆藏工程启动仪式在北京举行。《复兴文库》精选 1840 年鸦片战争以来同中华民族伟大复兴相关的重要文献,全景式记述了以中国共产党人为代表的中华优秀儿女为实现国家富强、民族振兴、人民幸福而不懈求索、百折不挠的历

史足迹。可见,《复兴文库》

- ①创新文化传播方式,让读者学习影响中国发展进程的思想成果
- ②能够向读者再现中华民族发展史,是民族文明程度的重要标志
- ③可以让读者了解中华民族复兴的历史逻辑,主动肩负时代重任
- ④有利于读者重温党的百年奋斗历史,坚定道路自信和文化自信

A. ①② B. ①④ C. ②③ D. ③④

20.《感动中国》经历 21 年的坚守,聚焦平凡而伟大、朴实而真诚的典型人物,为广大观众献上了一份以人物为单位谱写的精神图谱。感动中国年度人物用热血,用担当,用奉献甚至是生命,温暖了每一个平凡的瞬间。他们的事迹之所以感人至深,是因为这些事迹

- ①记录着动人的中国故事,凝聚着磅礴的中国力量
- ②集中展示中华文化,唤醒了人们对真善美的追求
- ③发挥着模范的力量,塑造着中国国际文化新形象
- ④展现人性的光辉,生动诠释着新时代的中国精神

A. ①③ B. ①④ C. ②③ D. ②④

21. 2023 年 3 月 15 日,习近平总书记在中国共产党与世界政党高层对话会上发表主旨讲话,提出现代化不会从天上掉下来,而是要通过发扬历史主动精神干出来。作为现代化事业的引领和推动力量,政党的价值理念、领导水平、治理能力、精神风貌、意志品质直接关系国家现代化的前途命运。这一论述蕴含的哲学道理是

- ①发挥意识的作用可以将理想变为现实
- ②意识影响着实践发展的趋势和结果
- ③意识的产生和发展离不开客观存在
- ④意识对物质世界具有能动的反作用

A. ①③ B. ①④ C. ②③ D. ②④

22. 2023 年 4 月 1 日,黄河保护法正式施行。该法律重视顶层设计,对上中下游生态建设重点各有侧重,分类施策,同时抓住水沙关系调节的“牛鼻子”,设立“水沙调控与防洪安全”专章,将调水调沙实践的成果写入条文中,在黄河流域组织建设水沙调控和防洪减灾工程体系。


由此可见

- ①解决复杂问题要集中力量解决主要矛盾
- ②对待不同事物的矛盾要采取不同的方法
- ③只有把握矛盾的普遍性才能认清事物本质
- ④关注矛盾特殊性时要把握矛盾主要方面

A. ①② B. ①④ C. ②③ D. ③④

23. 2022 年 12 月 26 日,中共中央政治局召开民主生活会,习近平总书记主持会议并发表重要讲话,强调要大兴调查研究之风,多到分管领域的基层一线去,多到困难多、群众意见集中、工作打不开局面的地方去,体察实情、解剖麻雀,全面掌握情况,做到心中有数。这说明

- ①人民群众是社会实践的主体,是物质财富和精神财富的创造者
 ②坚持从群众中来到群众中去是正确解决群众困难和问题的关键
 ③坚持群众路线是成功建设中国特色社会主义事业的重要保证
 ④人民群众的生活和实践是中国共产党治国理政决策的重要源泉
- A. ①② B. ①④ C. ②③ D. ③④
24. 有学者指出,夏代是个空前广泛的城邦联盟,处于早期国家的第一个发展阶段;商、周则属于第二个阶段,其特征是出现了中央王国和地方族邦的联合体。最适合作为该观点依据的是
- A. 土地私有制取代井田制 B. 官僚政治取代世卿世禄
 C. 王位世袭制取代禅让制 D. 分封诸侯取代方国联盟
25. 始铸于东汉晚期的“龟兹(古国名、位于今新疆)五铢”(正面有小篆“五铢”字样,背面为龟兹文符号),直到南北朝时期仍在持续铸造,仅字风随中原书法风尚变化而略有改变。这反映了当时
- A. 农耕文明开始西传 B. 西域与中原联系紧密
 C. 国内货币形制统一 D. 丝绸之路贸易较繁荣
26. 朱熹曾说:“耳目口鼻之在人,尚各有攸司……本分当为者,一事有阙,便废天职……必知夫所处之职,乃天职之自然,而非出于人为,则各司其职以办其事者,不出于勉强不得已之意矣。”这一言论蕴含了
- A. 道德修养方法 B. 佛道神学思想
 C. 社会责任意识 D. 唯物主义倾向
27. 明初沿袭前朝制度,规定从事盐生产的灶户世代相袭,对于冒充或改当他籍者,施以重罚并令其重归原籍;灶户成为与军户、民户、匠户并列的四籍之一。这类规定旨在
- A. 禁锢社会阶层的流动
 B. 放松封建人身依附关系
 C. 减轻户籍管理的压力
 D. 强化对垄断行业的控制
28. 右图所示为晚清上海中国通商银行等机构发行的庄票。庄票俗称银票,在晚清口岸城市中使用时日益普遍,甚至参与饷银的发放。晚清庄票流行的背景是
- A. 列强资本输出的扩大
 B. 近代银行体系的建立
 C. 国内经济结构的变动
 D. 清廷政治腐败的加深



上海的庄票

29. 1918年,李大钊指出,自俄国革命以来,“马克思主义”几有风靡世界之势,德、奥匈诸国的社会革命也都奉“马克思主义”为正宗。“马克思主义”引发了世人的注意,也招致很多误解。在马克思诞辰100周年之际,各国批评他、介绍他的学者都有很多。这表明马克思主义在中

国的传播

- A. 与国际潮流遥相呼应
B. 直接激发了五四运动
C. 具有真伪混杂的特征
D. 与工人运动结合紧密
30. 1927年12月下旬,中共中央连续发出通知,指示一些地区如果条件不具备,就不要立刻暴动,也停止了原计划的湖南、湖北年关暴动。次年4月,中共中央临时政治局指出,争取群众、建立城乡群众组织、巩固与健全党的组织是当前最重要的工作。中共中央的这些决定
- A. 统一了全党思想认识
B. 有助于积蓄革命力量
C. 纠正了革命路线偏差
D. 得到共产国际的支持
31. 1997年7月,始于泰铢贬值的亚洲金融危机开始爆发,韩国、菲律宾等国家为保护出口产业和减少外汇流失,纷纷推动本位货币大幅贬值,加剧了金融市场的动荡。中国政府则对外承诺,人民币坚决不贬值,保持汇率的稳定。中国的做法
- A. 彰显了负责任的开放大国气度
B. 显示了社会主义制度的优越性
C. 扩大了对周边国家的出口贸易
D. 冲击了美国在金融领域的霸权
32. 公元前5世纪后期的伯罗奔尼撒战争,不仅使雅典公民数量从4万多锐减至约2万,也使雅典失去了大量盟友和附属城邦。战后的雅典公民热衷于个人创收,宁愿雇外邦人当兵打仗。得益于工商业收入的增长,雅典公民的福利不减反增。这可用于说明当时雅典
- A. 发展海外殖民迫在眉睫
B. 民主政治进入鼎盛时期
C. 城邦制度根基受到侵蚀
D. 公民个人自由得到保障
33. 1632年,荷兰画家伦勃朗创作了团体肖像画《杜普教授的解剖学课》,作品还原了解剖学课上师生的鲜活面貌和细腻情感,下图所示为画中部分人物面部和手部的特写。这一作品



教授面部



教授身旁的学生们



较远处的学生们



杜普教授的手部特写

- A. 利用科学情境传播人文精神
B. 采取卓越技法还原真实瞬间
C. 集中体现艺术的世俗化倾向
D. 意在展现画家复杂内心世界

34. 下表所示为 1760~1870 年, 欧美主要国家固定式蒸汽机装机容量统计表(单位: 千马力)。据表可知, 这一时期

	1760 年	1800 年	1840 年	1870 年
英国	5	35	200	2 060
法国	—	3	33	336
普鲁士	—	—	7	391
比利时	—	—	25	176
美国	—	0	40	1 491

注: —表示缺乏统计资料。

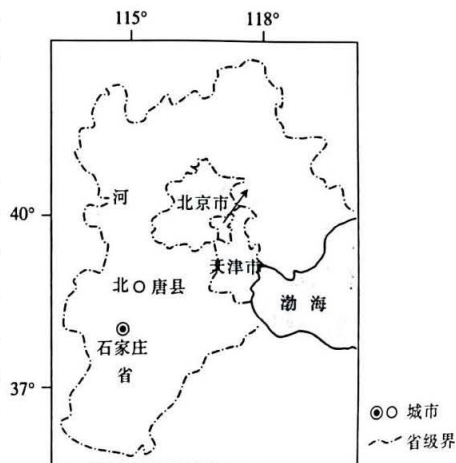
- A. 英国实现了对传统动力的淘汰
B. 蒸汽机在欧洲实现批量化生产
C. 技术革命推动经营方式的嬗变
D. 欧美工业化发展水平明显提升
35. 1997 年, 不结盟运动提出了将安理会成员总数增加到 26 国的改革方案, 后又追加了增加 6 个具有否决权的常任理事国(其中必须包括非洲国家)的提案; 2005 年, 不结盟运动作为主要利益集团的代表, 对联合国改革的《成果文件》进行了广泛讨论, 并提出了大量修改建议。这体现出
- A. 不结盟运动的兴起
B. 多极化趋势的加强
C. 联合国改革的成果
D. 国际关系的民主化

第 II 卷 (非选择题 共 160 分)

本卷包括必考题和选考题两部分。第 36 题~第 42 题为必考题, 每个试题考生都必须作答。第 43 题~第 47 题为选考题, 考生根据要求作答。

36. 阅读图文材料, 完成下列要求。(24 分)

唐县为华北平原传统农业县, 历史上人多地少, 收入较低。1980 年以前, 养殖肉羊一直是补贴唐县农民农耕收入不足的副业。1990 年, 唐县成功引进鲁西小尾寒羊, 养殖户多在自家庭院或房前屋后简单搭建养殖棚进行养殖。1995 年, 唐县成立肉羊养殖企业。2010 年, 唐县肉羊出栏量有 100 万余只, 但人地矛盾尖锐, 养殖户将目光投放在撂荒的耕地上。唐县大规模发展肉羊养殖对土地资源产生严重的不利影响, 也给当地居民正常生产生活带来干扰, 当地政府开始介入优化管理。2018 年之后, 唐县养殖空间呈集聚和扩散并存态势, 一方面向大型养殖园区集聚, 另一方面向远离主城区的地带和主要乡村的外围地带扩散。右图示意唐县位置。



(1) 简述 1995 年以前, 养殖户在自家庭院搭建养殖棚的原因。(6 分)

(2)2010年前后撂荒地取代闲置院落成为拓展养殖空间的首选地,试对此做出合理的解释。

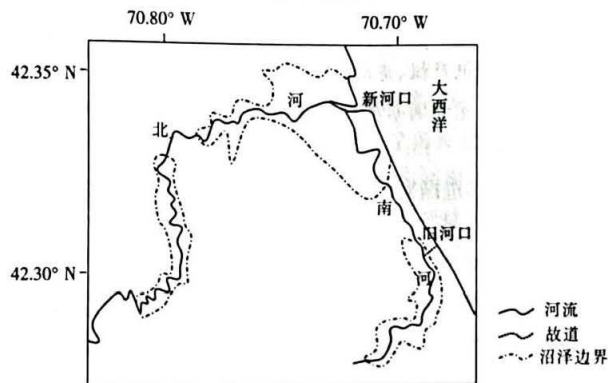
(6分)

(3)分析唐县大规模发展肉羊养殖对土地资源的不利影响。(6分)

(4)简述2018年之后,唐县养殖空间呈集聚和扩散并存态势的意义。(6分)

37. 阅读图文材料,完成下列要求。(22分)

北河、南河地处美国东北部马萨诸塞州(如图),两河共用一处入海通道,流域内植被覆盖率较高。历史上北河、南河冰川发育,海岸带多末次冰期留下的冰碛物。两河口地带为盐沼滩涂,滩涂上广布根系发达的互花米草。1898年,一场海岸风暴侵蚀了海岸带冰碛物,形成新的入海通道,北河缩短了5.6 km,同时延长了南河的长度。入海通道改变后,南河河道保持稳定,而北河河口段河道变宽,最大潮位升高了30 cm。尽管被淹没范围增大,但北河沿岸盐沼堆积加快,盐沼滩涂生态系统并未大面积萎缩。近年来,为整治航道,开展河口和近海岸疏浚工程,导致滩涂侵蚀加快,植被萎缩。



(1)分析北河、南河新河口附近的沉积物主要来自海洋的原因。(6分)

(2)对入海通道改变后南河河道保持稳定的现象做出合理解释。(4分)

(3)分析入海通道改变后北河沿岸盐沼堆积加快的条件。(6分)

(4)为恢复河口盐沼滩涂生态系统提出合理化建议。(6分)

38. 阅读材料,完成下列要求。(14分)

习近平总书记在2022年底召开的中央农村工作会议上指出,要落实产业帮扶政策,做好“土特产”文章。

宁夏的枸杞、黑龙江五常的大米、云南的菌子……说起“土特产”,几乎每个人都能如“报菜名”般流畅地举出些例子。近年来,各地高度重视乡村特色产业发展,充分挖掘自身地域环境优势,因地制宜选准产业发展的突破口,念好“土”字诀,打好“特”字牌,发展“一村一品、一镇一特、一县一业”,很多“土特产”成了名副其实的大产业。在花生种植面积达170多万亩、产量50多万吨,连续26年成为“全国花生生产第一大县”的正阳县,除了种植优质花生做大一产,还补齐产业链,做强二产、做活三产。花生炒货、花生油、花生蛋白、花生奶、生物制燃料、花生宴……一种产品相继登场。被“吃干榨尽”的“正阳花生”通过农业农村部农产品地理标志认证,成为全国特色农产品,红红火火的花生经济让百姓的腰包鼓起来。据初

步统计,到2021年底,全国杂粮杂豆、果蔬茶菌等特色种植基地12.05亿亩,年度生产特色农产品13.85亿吨,养殖特色牲畜669.52万头,生产特色水产品2470万吨,特色产业一产总产值达到9.7万亿元。

结合材料,运用经济生活知识,说明各地高度重视乡村特色产业发展,做好“土特产”文章的原因。

39. 阅读材料,完成下列要求。(12分)

党和国家机构职能体系是中国特色社会主义制度的重要组成部分,是我们党治国理政的重要保障。党的十八大以来,以习近平同志为核心的党中央把深化党和国家机构改革作为一项重要任务,党和国家机构职能实现系统性、整体性重构。面对新时代新征程提出的新任务,党和国家机构设置和职能配置同当前国家发展还不完全适应。为此,根据党的二十大对深化机构改革作出的重要部署,党的二十届二中全会审议通过《党和国家机构改革方案》。在党中央机构改革方面,决定组建中央金融委员会、中央金融工作委员会、中央科技委员会、中央社会工作部、中央港澳工作办公室;在国务院机构改革方面,重点加强科学技术、金融监管、数据管理、乡村振兴、知识产权、老龄工作等重点领域的机构职责优化和调整。2023年3月,中共中央、国务院印发《党和国家机构改革方案》,明确要求各地区各部门要不折不扣把机构改革任务落到实处。

党和国家机构改革是推进国家治理体系和治理能力现代化的深刻变革。结合材料,运用政治生活知识对此加以说明。

40. 阅读材料,完成下列要求。(26分)

马克思主义政党所肩负的使命任务、所从事的事业,都是前无古人的,在开创性实践中遇到的大量崭新课题,没有也不可能从马克思主义经典著作中找到现成答案。我们党在领导革命、建设、改革的历史进程中,面临的历史条件、承担的历史任务、遇到的具体矛盾和问题、需要解答的时代课题,都具有不同于其他国家的特殊性。百年来,我们党坚持用马克思主义之“矢”,射中国的实际之“的”,用接续推进的马克思主义中国化和时代化创新理论成果,指导党和人民事业不断开创新局面。

党的十八大以来,以习近平同志为主要代表的中国共产党人坚持把马克思主义基本原理同中华优秀传统文化相结合,结合新的时代要求提炼概括出一系列重大理念和思想。例如,吸收借鉴天下为公、民为邦本、为政以德等传统理念,创造性提出以人民为中心的发展思想;传承弘扬天人合一、道法自然、取之有度等中华优秀传统文化生态文化,提出构建人与自然生命共同体理念……这些都得到了马克思、恩格斯关于“无产阶级的运动是绝大多数人的,为绝大多数人谋利益的独立的运动”“人的全面自由的发展”“生产将以所有的人富裕为目的”等思想的科学指引,也都得到了中华优秀传统文化中“保民、安民、富民、乐民”等思想的滋养,得到了“合则强,孤则弱”等思想的启迪。这一系列重大理论创新,赋予马克思主义科学理论鲜明的中国特色和时代内涵,使之成为人民所喜爱、所认同、所拥有的理论。

(1)结合材料,运用实践与认识的辩证关系原理,说明继续坚持和推进马克思主义基本原理同中国具体实际相结合的原因。(12分)

(2)结合材料,运用文化生活知识,说明中国共产党是如何推动马克思主义基本原理同中华

优秀传统文化相结合的。(10分)

(3)列举两个实例,说明中国共产党坚持用马克思主义之“矢”,射中国的实际之“的”的理论创新成果。(4分)

41. 阅读材料,完成下列要求。(25分)

材料一

秦始皇在统一文字的基础上,提出了文书档案制度改革的方法。《史记·秦始皇本纪》记载:“制诏三代无文,秦始有之。”秦始皇在文书用印方面,规定只有天子之印称“玺”,百官的印章则统称为“印”或“章”。文书抬头制度主要规定在书写文书时,把一些特定的名词或句子,比如,本朝代名、帝号或与皇帝言行有关的字,在其前都要空一格或几格,或重新另起一行顶格书写,或另起一行高出数格书写。秦始皇还下达了关于避讳的规定,无论是在公务文书还是其他私人文书,所有的书面文字或语言中均不得直呼皇帝的名字。秦朝“以文书御天下”为后世档案工作的发展奠定了基础。

——摘编自张忠年《浅谈秦朝尊君抑臣的文书制度》

材料二

法国大革命前夕,法国档案机构的数量和类型众多,档案的保存相当分散。根据1789年7月29日颁布的《国民议会组织条例》,法国建立了国民议会档案馆,负责保存国民议会的文件。1790年9月,法国颁布了《国家档案馆条例》,将国民议会档案馆改名为国家档案馆,建立了世界上第一个真正具有国家意义的综合性档案馆,负责保存历史档案和历届国民议会、中央各机构的档案文件。同年11月,法国颁布了《关于成立行政区档案馆的法令》。1794年6月,法国国民议会颁布了世界上第一部专门的档案法——《穉月七日档案法令》,使国家档案馆担负起对所有地方档案馆的领导、业务指导和监督之职。1841~1842年,法国普遍建立了市镇档案馆和医院档案馆,如市镇的记录和账目,户籍和市民权利方面的档案,公共财产和地方行政的档案,地亩册、户口调查登记文件、候选人名单和有关选举的档案等。

——摘编自刘晓辉《简述法国档案管理机制与方法》

材料三

国际共产主义运动(下文简称“国际共运”)对于世界发展起到了重要的推动作用,留下了卷帙浩繁的档案。这些档案对于解读国际共运,还原国际共运的真实面貌,具有不可替代的作用。长期以来,一些人趁国内外出现“历史虚无主义”之机,否定国际共运在世界历史中的作用。从目前的国内外形势上看,整理搜集并正确解读国际共运的文献,对抵制“历史虚无主义”能够起到重要作用,也可为党史教育提供重要的国际视角。

——摘编自吴耀庭《档案学视角下国际共产主义运动档案的建设现状——以澳大利亚国家档案馆为例》

(1)根据材料一、二,概括中国秦朝和近代法国文书档案制度建设的异同。(10分)

(2)根据材料一、二并结合所学知识,分别说明中国秦朝和近代法国开展文书档案制度建设的背景。(10分)

(3)综合以上材料并结合所学知识,简析历史文书档案的在史学研究中的价值。(5分)

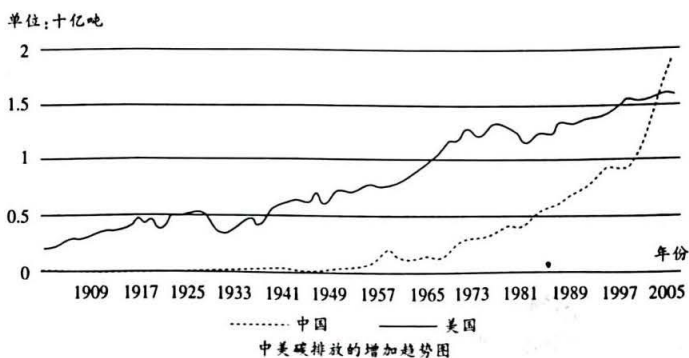
42. 阅读材料,完成下列要求。(12分)

材料一

2018年,中国单位GDP能耗比1953年降低43.1%,年均下降0.9%。从单位GDP能耗指标值(GDP按2018年价格计算)来看,由1953年的0.91吨标准煤/万元逐步上升到1960年最高的2.84吨标准煤/万元后逐步下降,20世纪70年代开始又逐步上升后,基本呈现稳步下降态势,2018年下降到0.52吨标准煤/万元。

——摘编自国家统计局能源司《能源发展实现历史巨变 节能降耗唱响时代旋律——新中国成立70周年经济社会发展成就系列报告之四》

材料二



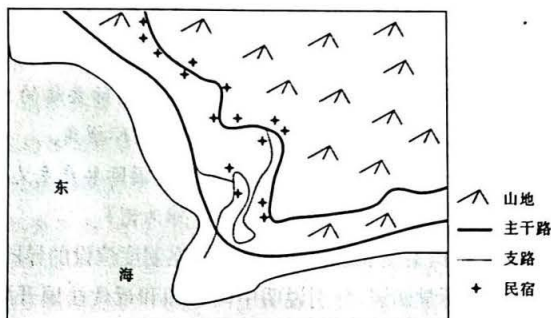
——据美国二氧化碳信息分析中心(CAIAC)相关数据整理

对比两则材料中的信息,围绕“新中国的经济建设”自拟一个论题,并加以阐述。(要求:明确写出所拟论题,阐述须有史实依据。)

请考生从2道地理选考题、3道历史选考题中每科任选一题作答。如果多做,则每科按所做的第一题计分。

43. [地理——选修3:旅游地理](10分)

福建霞浦沿海地区景观类型丰富,摄影题材多样,兴起了乡村旅游的热潮。东壁村民宿集群是霞浦高端民宿发展的样本,建筑造型独特,内部装潢成本高。东壁村紧邻东海滩涂,退潮时分光滩出露,光影变幻,水域内发展紫菜、海带等养殖业。下图示意东壁村民宿集群位置。



分析东壁村民宿集群未在沿海一线分布的原因。

44. [地理——选修6:环境保护](10分)

贡湖湾位于太湖东北部,地处苏州与无锡交界处,长约19 km,宽约8 km,多年平均水深1.89 m,冬季的污染主要集中在贡湖湾南部水域。2007年“引江济太”通过望虞河向太湖补水,但望虞河水质较贡湖湾差。下图示意贡湖湾冬季的水流形势。



分析贡湖湾南部引水前冬季污染较为严重的原因,并从河口的角度对减轻望虞河引水污染提出合理化建议。

45. [历史——选修1:历史上重大改革回眸](15分)

材料

1942年,延安城内发生燃料危机,市民生活用煤严重缺乏。有些机关单位甚至提前两个月预定1000~2000斤煤炭。加上对延安周边森林的采伐,造成局部沙化现象,绥德、米脂一带的居民向森林深处移居。这引起了党中央和边区政府的高度重视。陕甘宁边区政府组织调查团,多次开展调查,并根据调查中发现的问题,采取诸多措施以促进边区煤炭工业发展。边区政府直接投资5万元,在安塞、延安增开煤窑;边区政府鼓励公私合营等多种形式的开采活动,有计划地发展民营煤炭业;边区政府还改善煤厂管理,批判和纠正官僚主义作风;采取工资计件累进制;开展劳动竞赛;等等。据边区建设厅统计,到1943年,煤矿矿井发展到100个,职工1891人,每月生产煤炭7600吨。

——摘编自王飞《延安时期中国共产党社会调查与政策制定——以陕甘宁边区为主的考察》

(1)根据材料并结合所学知识,分析延安燃料危机发生的原因。(6分)

(2)根据材料,说明边区政府应对燃料危机的做法有何特点,并结合所学知识简述其作用。(9分)

46. [历史——选修3:20世纪的战争与和平](15分)

材料

塞瓦斯托波尔位于克里米亚半岛,到20世纪30年代时,北有铁路可通往莫斯科,南出黑海海峡可通地中海,还修建了军用机场。1941年9~11月,德军发动的克里米亚战役导致这一要塞以外的整个半岛沦陷。同年年底,苏联海军从刻赤、奥普可角两地对德实施登陆作战,迫使德军停止对要塞的攻击。1942年5月,德军最终摆脱了苏联海军陆战部队的牵制,动用200多个炮兵连部署发动二战期间德军最为疯狂的一次炮击作战。当时德国最大

口径的巨炮“古斯塔夫”，在第一次作战中连续发射重达 7.1 吨的穿甲弹，引起震撼整个半岛的地下弹药库大爆炸。不久，德军第 8 航空军倾巢出动，对要塞展开每天 1000 架次的轰炸；德军还动用 1300 门火炮对死战不降的苏联“马克西姆·高尔基一号”炮台进行不间断的炮击。同年 6 月底，德军开始对塞瓦斯托波尔市区进行地毯式炮击，首日就发射了 6.4 万吨炮弹。5 日后，苏联守军出于市民的生命安全考虑，不得已向德军投降。

——摘编自李夜雨《回顾塞瓦斯托波尔保卫战：德军被迫用巨炮攻城》

- (1) 根据材料，概括 1941~1942 年苏德塞瓦斯托波尔争夺战的特点。(5 分)
- (2) 根据材料并结合所学知识，分析 1942 年苏联塞瓦斯托波尔保卫战失利的原因及其对苏联的影响。(10 分)

47. [历史——选修 4：中外历史人物评说](15 分)

材料

米芾(1051—1107)，北宋四大书法家之一。同其他三人一样，米芾也曾入仕，也吟诗作画，但他“一日不书便觉思涩”，堪称纯粹的书法家。米芾与苏轼的初交可以追溯到宋神宗时期。米芾《自叙》所谓“遂并看法帖，入魏晋平淡”，便是听从东坡的忠告而改变了书法的风格。元祐二年(1087 年)，米芾参加了以东坡兄弟为首的“旧党”人士聚会。这也许是米芾与黄庭坚的交往之始。米黄二人交好，在评价彼此的书法时，也是直言不讳，大相异趣，绝非无原则的丑诋。米芾“集古字”是想要“自成一家”，而为获黄庭坚所认可。米芾在评判黄庭坚的草书时也以一己所好加以责难。宋徽宗崇宁年间，米芾在书画学博士一年，出入宫禁，受宠若惊，矫情希旨，近乎装疯卖傻。晚年的米芾以穷改节，曲意逢迎，留下了人格上的污点，但米芾与苏黄的结交也留下了君子之交的佳话。

——摘编自曹宝麟《米芾与苏黄蔡三家交游考略》

- (1) 根据材料，归纳米芾作为大书法家的主要表现。(6 分)
- (2) 根据材料并结合所学知识，分析北宋时期书法界名家辈出的有利条件，并对当时的名家辈出局面加以评价。(9 分)

关于我们

自主选拔在线是致力于提供新高考生涯规划、强基计划、综合评价、三位一体、学科竞赛等政策资讯的升学服务平台。总部坐落于北京，旗下拥有网站（[网址: www.zizzs.com](http://www.zizzs.com)）和微信公众平台等媒体矩阵，用户群体涵盖全国 90% 以上的重点中学师生及家长，在全国新高考、自主选拔领域首屈一指。

如需第一时间获取相关资讯及备考指南，请关注**自主选拔在线**官方微信信号：**zizzsw**。

