

绝密★启用前

2024 届高三 10 月统一调研测试 历史

注意事项：

1. 答卷前，考生务必将自己的姓名、准考证号等填写在答题卡和试卷指定位置上。
2. 回答选择题时，选出每小题答案后，用铅笔把答题卡上对应题目的答案标号涂黑。如需改动，用橡皮擦干净后，再选涂其他答案标号。回答非选择题时，将答案写在答题卡上。写在本试卷上无效。
3. 考试结束后，将本试卷和答题卡一并交回。

一、选择题：本题共 16 小题，每小题 3 分，共 48 分。在每小题给出的四个选项中，只有一项是符合题目要求的。

1. 关于六亲，历代的说法不一。按《左传》的说法，指父子、兄弟、姊妹、甥舅、昏媾、姻亚；按《老子》的说法，指父子、兄弟、夫妇；按《汉书》的说法，则指父母、兄弟、妻子。这些说法主要体现了

- A. 宗法文化的影响
- B. 儒学的划分标准
- C. 先秦的政治体制
- D. 秦汉的文明进程

2. 据史料记载，三国时期的成都织锦“伎巧之家，百室离房，机杼相和”，在政府鼓励下蜀锦远销吴、魏，“市廛所会，万商之渊；列隧百里，罗肆巨千；贿货山积，纤丽星繁”。据此推知，该现象是

- A. 长途贩运发达的表现
- B. 南方经济开发的延伸
- C. 蜀汉军事斗争的需要
- D. 商业政策巨变的反映

3. 下图为在唐朝龙泉窑出土的青瓷文物



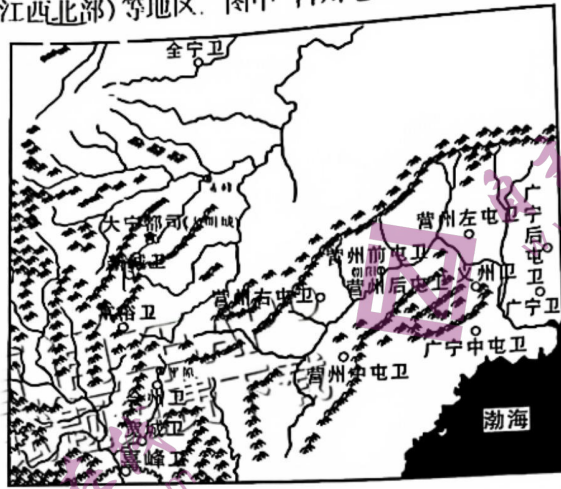
由以上文物，可以推知唐朝

- A. 海上丝绸之路的盛况
- B. 三教并行的现象
- C. 理学形成的时期特征
- D. 瓷器制作的创新

4. 元朝时期，岭北行省的粮食生产有了长足的进步，粮食产量大幅度提高，被称为“漠北粮仓”或“天下粮仓”。出现这一现象的原因是

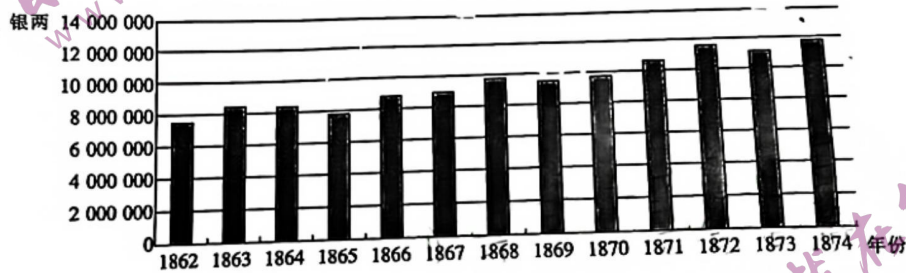
- A. 商品经济的发展
- B. 稻麦复种的推广
- C. 高产作物的引进
- D. 民族交融的推动

5. 下图是明朝《大宁都司卫所分布图》(大宁都司辖区,包括今河北省北部、内蒙古自治区东南部地区、辽宁、吉林、黑龙江西北部)等地区。图中“营州屯卫”“广宁屯卫”发挥的作用在



- A. 抵御匈奴南下骚扰
- B. 保障供给稳定边防
- C. 意图防范倭寇进犯
- D. 保证九边军事防御

6. 下图是清同治年间某一事物的发展趋势。据此判断,图中反映的是



- A. 政府进口关税收入
- B. 外商资本对华输出金额
- C. 外国银行存款数额
- D. 丝茶出口收入变化趋势

7. 1902年1月,清政府下令恢复京师大学堂,并任命在戊戌政变时受革职留任处分的张百熙为管学大臣。张百熙受命后对太学堂进行了整顿,提出先办预科,为本科做准备,同时还设速成科,以收急效。这说明

- A. 清末新政引起全面反响
- B. 学制改革方向明确
- C. 清廷意图挽救统治危机
- D. 戊戌维新余音犹存

8. “这场战役,既打破了日军打击中国第二战区部队,从右翼配合日军华北主力在平汉路作战的战略企图,又顿挫了日军向山西腹地深入的进攻势头,挫伤了日军的锐气,使之再不敢贸然深入,从而有力地支援了正面战场的抗战。”这场战役

- A. 彻底遏止了侵华日军的嚣张气焰
- B. 较好的体现了抗日民族统一战线的力量
- C. 迫使日军放弃对华北的正面进攻
- D. 是八路军主动对日出击规模最大的行动

9. 20
助
A.
C
10.

11

1

9. 20 世纪 60 年代中期,我国积极介入越南战争,为越南提供了大量的武器、大米等物资援助,还派遣了一些军事技术人员前往协助。中国的这些行动

- A. 推动对外全新局面的形成
B. 促使外交关系突破了僵局
C. 加快东南亚国家联盟发展
D. 提高了新中国的国际地位

10. 1986 年 9 月,党的十二届六中全会第一次明确提出了社会主义道德建设的基本要求,即“爱祖国、爱人民、爱劳动、爱科学、爱社会主义”。1992 年党的十四大,再次明确提出在建设社会主义市场经济体制的同时,把精神文明建设提高到新水平。这表明

- A. 社会主义道德建设应放在第一位
B. 社会主义市场经济体制基本确立
C. 中国特色社会主义理论成为共识
D. 党中央注重两个文明的协调发展

11. 史料记载,古代埃及人口在古王国时期大约有 160 万,到了新王国时期,达到了 290 多万,到古埃及后期则已增长到 490 多万。这些数据与后世对古代埃及聚落、城市规模的考古结论相符合。这说明

- A. 古代埃及社会发展进程最快
B. 考古比文献史料的价值更大
C. 文献史料与考古应相互印证
D. 当时埃及城市化程度已很高

12. 下图是公元前 5 世纪中期,雅典城邦执政官伯里克利在街头向平民发表演说。该图片信息可以用于说明,古代雅典



- A. 民主政治的程度较高
B. 奴隶主统治分崩离析
C. 行政官员平民化特征
D. 属于民主共和制国家

13. 公元 646 年,日本中大兄皇太子发布了新的诏令,先后废除了皇室和豪族的私有地、私有民,实施“班田收授法”和租庸调制;废除贵族世袭制,实施官僚政治体制;推行统一赋课制度等。这些措施

- A. 建立起单一的土地国有制
B. 借鉴了当时中国的政治经济制度
C. 旨在打击豪强地主的势力
D. 标志日本大一统的封建制度建立

14. 17 世纪,欧洲市场上可以看到来自世界各地的商品,如烟草、甘蔗、咖啡、可可和白糖,美洲、非洲等地区在地图上也有了更为准确的标注。这反映出

- A. 世界市场最终形成
B. 殖民探险普遍展开
C. 整体世界初具规模
D. 物种交流双向进行

15. 1609 年,当伽利略第一次用望远镜指向天空的时候,他所改变的不仅是人们对于月球和木星的想象,也不限于为哥白尼的“日心说”注入了一剂强心针,而在于他

- A. 昭示了理性方式的进步
B. 开启了地理大发现的探索
C. 证实了牛顿理论的正确
D. 促进自由落体定律的出现

16. 下面这幅创作于 1834 年的漫画,反映了当时德意志诸邦国之间的关税收费站林立。由此可知,当时德国



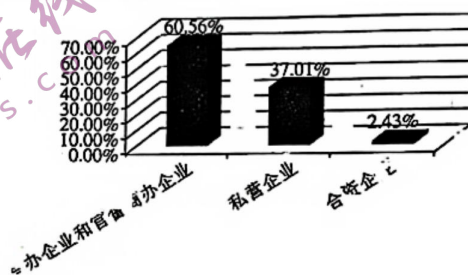
- A. 棉纺织业相当发达
C. 宪法简化征税手续

- B. 官僚政治极其腐朽
D. 国家分裂阻碍发展

二、非选择题:本题共 4 小题,共 52 分。

17. 阅读材料,完成下列要求。(14 分)

材料一 1895 年清朝近代企业结构示意图



——根据刘克祥、吴太昌《中国近代经济史》编制

材料二 1939 年 10 月 17 日日本特工机关就国民党政府高级官员在上海外国银行存款情况,写了一份秘密调查报告,名为《登集团特报丙第一号——政府要人上海外国银行预金(存款)调查表》,这些存款主要存于上海的花旗银行、荷兰银行、大通银行、启丰银行、友邦银行、运通银行、麦加利银行等。

序号	姓名	法币存款(万元)	约合美元(万元)
1	蒋介石	6639	809
2	宋美龄	5230	637
3	孔祥熙	5214	635
4	陈立夫	2400	292
5	宋霭龄	1200	146
6	合计	20683	2519

——根据《中国四大家族》编制

- (1) 根据材料一并结合所学知识,分析当时这种企业结构的形成原因。(6 分)
(2) 根据材料二并结合所学知识,请选择两个角度,论证 1939 年日本特工机关秘密调查报告的史料价值。(8 分)

18. 阅读材料,完成下列要求。(14分)

材料一 抗日战争时期,中国共产党创办新华书店,由中央出版发行部(后又改为中央出版局)领导。中央文化工作委员会则代表政府工作,并成立陕甘宁边区政府文委,负责文化工作。陕甘宁边区文化协会、延安新哲学研究会、政治经济学研究会、鲁迅研究会、延安电影团等各种文化团体也相继成立。中央党校与马列研究院(后改为中央研究院)也建立起来,分别负责干部教育与哲学社会科学研究,此外还成立了著名的鲁迅艺术学院,高举新文化运动的伟大旗帜,促进文化统一战线。

——摘编自《中国抗日战争史丛书》

材料二 1988年,我国正式提出“文化市场”概念。1992年党的十四大提出文化体制改革课题,2002年党的十六大召开,开始全面推进文化体制改革。至2012年9月,据不完全统计,全国注销经营性文化事业单位法人6950家,核销事业编制29.4万个;全国有580家出版社、3000多家新华书店、850家电影制作发行放映单位、57家广电系统所属电视剧制作机构、38家党报党刊发行单位已完成转企改制任务;全国2103家有改革任务的文化系统国有文艺院团有2093家完成改革任务;全国3388种应转企改制的非时政类报刊有3041种完成改制任务。

——摘编自《改革开放40年的中国文化》

- (1) 根据材料一,概括抗日战争时期中共在根据地开展文化建设的主要措施,以及这些措施对抗战的意义。(6分)
- (2) 根据材料二并结合所学知识,分析1988年至2012年我国文化建设的国内背景和主要特点。(8分)

19. 阅读材料,完成下列要求。(12分)

材料

时间	主要事件
1660年	《列举商品法》颁布,规定:殖民地上的烟草、砂糖、棉花等只能输往英国,或经由英国港口的商人之手再输往外国
1663年	《主要商品法》颁布,规定:一切从欧洲输入北美的商品(只有少数例外),首先必须要在英国靠岸卸下,由英国政府征税,然后装船运走
1770年	波士顿惨案,英国殖民当局屠杀北美殖民地波士顿民众的流血事件
1773年	波士顿倾茶事件,满怀独立热情的一批波士顿有志青年,将英国东印度公司342箱茶叶,全部倾倒入进了大西洋
1774年	通讯委员会成立,抗英斗争此起彼伏
1774年9月	第一届大陆会议在费城召开
1775年4月	来克星顿枪声,北美独立战争爆发
1776年7月	大陆会议宣告独立,发表《独立宣言》
1778年	美法结成同盟,西班牙、荷兰宣布反对英国
1783年	英美《巴黎和约》,英国承认美国独立
1787年	制宪会议通过宪法

——根据【美】艾伦·布林克利《美国史》编制

(1)根据材料并结合所学知识,说明英国控制北美殖民地的主要手段。(4分)

(2)根据材料并结合所学知识,简析北美人民在独立过程中的反控制方式,并指出美利坚合众国的阶级本质。(8分)

20. 阅读材料,完成下列要求。(12分)

材料 中国古代状元地理分布情况(部分)

地区	唐	北宋	明	清
河北	11	0	3	3
河南	15	16	2	1
山东	3	9	4	5
山西	4	2	0	0
陕西	1	1	2	1
浙江	0	2	20	20
四川	4	5	1	1
福建	0	7	10	3
江苏	7	4	17	27
湖北	1	0	2	3
贵州	0	0	0	2
广东	0	1	3	1
安徽	1	2	6	7
江西	2	3	18	2
湖南	1	0	0	1
广西	2	0	0	2

——根据萧源锦《状元史话》,【日】宫崎市定《科举史》等编制

根据材料并结合所学知识,请以其中的某一区域的数据变化进行阐述。(要求:写出所选区域,观点正确,史论结合,逻辑严谨,表述清晰)

密 封 线 内 不 要 答 题

2024 届高三 10 月统一调研测试

历史参考答案

1.【答案】A

【解析】“六亲”，实际上是指亲属关系，宗法关系在古代中国社会中居于重要地位，虽然不同时期的“六亲”概念不完全相同，但“六亲”的主体都与宗法血缘密切相关，故 A 项符合题意；道家学派创始人老子提出的“六亲”说法不属于儒家的划分标准，排除 B 项；《汉书》的“六亲”概念体现的是汉朝儒学，不属于先秦时期，更不能代表先秦政治体制，排除 C 项；老子与《左传》展现的是先秦时期思想文化，不属于秦汉时期，材料中也没有体现秦汉文图进程，排除 D 项。

2.【答案】C

【解析】三国时期，魏、蜀、吴三足鼎立，蜀汉发展丝织业，意在为国家军事活动提供经济支撑，故 C 项正确；三国鼎立时期并不利于长途贩运的发展，此时长途贩运发达也不符合史实，排除 A 项；蜀汉位于西南部，不能完全代表南方地区，排除 B 项；重农抑商政策在中国古代始终占据主导地位，未发生过根本变革，排除 D 项。

3.【答案】B

【解析】唐朝统治者奉行三教并行政策，图中文物体现了三教共存的特点，故选 B 项；唐朝海上丝绸之路虽然已经被称为“瓷路”，但仅根据材料中的三件文物，无法判断海上丝绸之路是否繁盛，排除 A 项；理学形成于北宋时期，排除 C 项；题中未说明青瓷器制作技术的情况，排除 D 项。

4.【答案】D

【解析】由于北方的游牧文明与南方的农耕文明的融合，推动了农业技术在岭北行省的推广与发展，促进了粮食产量的长足进步，故 D 项符合题意；岭北地区粮食丰产并非源于商品经济的发展，排除 A 项；岭北行省是北方省份，主要种植粟等作物，不适合水稻种植，稻麦复种主要在南方，排除 B 项；高产作物引进中国是在明清时期，排除 C 项。

5.【答案】B

【解析】从图中的“营州屯卫”“广宁屯卫”等信息，可知明朝在东北地区，推行了“屯卫”制度，两地的屯田与卫所的发展，既减轻了政府的经济负担，保障军队供给；又增强了边疆的军事力量，一举多得，故选 B 项；抵御匈奴是在战国秦汉等时期，明朝主要面临的是蒙古族和满族的威胁，排除 A 项；倭寇主要进犯的地区在福建、浙江一带，排除 C 项；设问仅涉及辽东，不能代表明朝的“九边”（辽东、蓟州、宣府、大同、偏关、榆林、宁夏、固原、甘肃），排除 D 项。

6.【答案】A

【解析】根据图片并结合所学知识可知，19 世纪 60—70 年代，外国对华商品输出呈现出起伏的状况，进口关税的变化也随之呈现出起伏的状态，故 A 项符合题意；外商资本大量对华输出和外国银行在华创办并吸收存款集中在甲午中日战争之后，B、C 两项不符合题意；19 世纪 60—70 年代中国丝茶出口，总体上呈现迅猛增长态势，与示意图趋势不符，D 项错误。

7.【答案】C

【解析】戊戌维新的失败使部分中国人倾向通过革命进行救亡图存；1901 年《辛丑条约》的签订使中国完全沦为半殖民地，民族危机严重；清末恢复京师大学堂、进行学堂整顿（设预科和速成科）是迫于民族危机和资产阶级革命形势发展，其意在挽救统治危机，故 C 项正确；1901—1905 年的“新政”主要在经济和教育等领域，A 项中的“全面”不符合史实，排除；1904 年的癸卯学制，是近代中国第一个由国家颁布的、在全国范围内推行的系统学制，B 项不正确；戊戌维新运动失败后，其内容基本被废除，D 项的表述不准确，排除。

8.【答案】B

【解析】从材料中的“第二战区”“平汉铁路”“山西腹地”等信息,可知这是1937年平型关战役。这场战役有力地配合了国民党正面战场的太原会战,是抗日民族统一战线中不同力量协同抗战的重要体现,故B项正确;这次战役没有达到“彻底遏止”侵华日军、使其放弃“对华北的正面进攻”的效果,排除A、C两项;D项是相持阶段百团大战的作用,排除。

9.【答案】D

【解析】朝鲜战争之后,美国企图利用南越打击社会主义阵营。我国积极介入越南战争,并为北越提供援助,使美国在越战中遭到失败。中国介入越南战争的行动,扩大了新中国的影响力,提升了新中国的国际地位,故D项正确;20世纪60年代,我国外交没有出现全新局面,A项错误;新中国外交格局的突破是在20世纪70年代中美关系正常化,排除B项;东盟的发展与越南战争无直接关联,排除C项。

10.【答案】D

【解析】根据材料信息,社会主义经济建设和精神文明建设都很重要,并要协调发展,党中央两次重要会议强调经济体制改革与发展之际,也要求要重视精神文明建设,故D项正确;A项的表述过于绝对化且不符合实际,排除;1992年党的十四大明确提出要建立社会主义市场经济体制,但这一体制建立需要一个过程,且材料主旨是精神文明建设,排除B项;材料内容并未完整涵盖中国特色社会主义理论,C项表述与题意不符,排除。

11.【答案】C

【解析】材料反映了古代埃及在三个历史时期,人口增长的史实,从双重证据法的角度来看,文献史料与考古发现相互印证,则能够得出相关的历史结论,故C项正确;材料中没有与同时期其他地区相比较,无法得出“最快”的结论,排除A项;考古的价值与文献史料的价值都不是绝对的,不存在某一种的价值比另一种更大,排除B项;从题中信息看,考古地点既有聚落,也有城市,“城市化程度”无法得出,排除D项。

12.【答案】A

【解析】结合所学知识可知,伯里克利时期的改革,促进了雅典民主制度发展,执政官在街头向平民演讲,让平民了解国家政治,参与国家政治,是雅典民主政治程度高的表现,故A项正确;伯里克利就是奴隶主统治的代表,B项表述不正确;材料信息无法说明行政官员平民化特征,排除C项;民主共和制是近代以来才出现的政治体制,排除D项。

13.【答案】B

【解析】根据材料的信息可知,“班田收授法”“租庸调制”“官僚政治体制”“统一赋课”等,都是向中国唐朝学习的结果,故B项正确;日本当时只是废除了皇室和豪族的私有地、私有民,并没有废除其他阶层的私有地,排除A项;材料所述措施,旨在建立起新的政治制度,推动社会进步和发展,C项表述不正确,排除;日本封建制度的建立,是在大化改新完成之后,材料只是说明日本中大兄皇太子发布了新的诏令,没有体现其结果,排除D项。

14.【答案】C

【解析】17世纪以来,随着新航路开辟以及殖民活动的进行,美洲被发现,世界贸易的范围扩大,世界整体化进程加快,故C项符合题意;世界市场最终形成于19世纪末20世纪初,排除A项;当时的殖民探险活动,仅限于非洲和美洲等地,大洋洲、南极洲和北极等地尚未进行,排除B项;题中材料只反映了美洲商品流向欧洲,没有反映欧洲的商品流向美洲和亚洲,排除D项。

15.【答案】A

【解析】伽利略第一次用他发明的望远镜,不仅证实了“日心说”,更重要的是推动了宇宙无限学说的发展,这有利于科学的发展,也是理性方式进步的体现,故选A项;材料现象与地理大发现无关,排除B项;牛顿经典力学确立于1687年,排除C项;自由落体定律出现在16世纪,D项与题意无关,排除。

16.【答案】D

【解析】漫画反映了德意志各邦国之间进行贸易时，遇到重重关卡，关卡通行的门狭窄，难以通过，反映出德意志的政治分裂对商品经济交流的恶劣影响，故D项正确；材料不能体现棉纺织业的兴盛，排除A项；漫画反映的是各邦国之间贸易障碍重重，不能体现官僚政权的腐朽，排除B项；《德意志帝国宪法》颁布于1871年，C项说法与题意不符。

17.【答案】(1)形成原因：洋务运动的开展；清政府支持民间设厂；“实业救国”思潮影响下，民营资本家积极参与；列强侵华的深入，外资企业影响加剧；自然经济的进一步解体。(每点2分，共6分，任答三点即可)

(2)示例

角度一：可用于研究四大家族抗战前后对国家经济的垄断。

论证：四大家族利用掌握国家政权的优势，逐步取得在国内的垄断地位，大发战争横财，民营经济发展举步维艰。(4分)

角度二：可用于研究国民政府抗战时期统治状况。

论证：国民政府在抗战时期，为维护其统治，坚持一党专政、特务统治、保甲制度，四大家族则借此迅速聚敛财富。(4分)

角度三：可用于研究抗日战争期间，国民政府与帝国主义列强的关系。

论证：四大家族的财富主要存在上海市的外国银行，这说明国民政府与帝国主义列强之间，存在千丝万缕的联系。(4分)

角度四：可用于见证日本谍报机关情报搜集能力和侵略本质。

论证：日本谍报机关搜集这些情报，主要目的是用于对华侵略战争，瓦解中国人民抗战士气和全民族团结，以达到其侵略中国、奴役中国的本质。(4分)

角度五：可用于见证日本侵华政策调整(政治诱降政策)。

论证：1938年10月，武汉和广州沦陷之后，加之兵力有限，日本帝国主义开始调整对华侵略政策，以政治诱降为主，引诱国民政府投降；对敌后抗日根据地，采取了重点打击的政策。(4分)

角度六：可用于研究外国资本对华经济侵略及控制的危害。

论证：当时，在上海市有外资银行，表明列强的经济渗透达到了很高的程度，也加剧了列强对中国经济的控制。(4分)

角度七：可用于研究抗战时期中国经济结构的状况。

论证：从外资银行的数量，以及四大家族的存款额，反映了新民主主义革命时期，中国存在自然经济、民族资本、官僚资本、外国资本、新民主主义经济等多种经济成分。(4分)

角度八：可用于体现抗战时期中国的民生状况。

论证：由于外国资本、官僚资本的影响，民族工业发展困难，国统区和沦陷区民众过着水深火热的生活。(4分)

【评分说明】任选两个角度作答，每个角度4分，共8分。只写出角度未进行论证不得分；开放性试题，其他答案若言之有理、论之有据可酌情给分。

18.【答案】(1)措施：成立专门机构和文化团体，加强思想文化建设。(2分)

意义：弘扬新文化运动的精神，巩固了抗日民族统一战线；为抗日战争胜利奠定了领导基础和思想文化基础。(每点2分，共4分)

(2)背景：中国特色社会主义进入新阶段(或答：文化建设要与新时期政治、经济建设相适应)。(2分)

特点：文化建设与市场经济相结合；精简相关机构和人员；实施政企分开；把文化经营性单位推向市场。(每点2分，共6分，答出三点即可)

19.【答案】(1)手段:垄断北美与英国和欧洲的贸易;对北美殖民征收重税;血腥镇压北美人民的反抗。(每点2分,共4分,任答两点即可)

(2)方式:成立反英机构,召开会议决策;破坏商品销售;颁布《独立宣言》,坚持武装斗争;结成反英同盟,孤立英国殖民势力。(每点2分,共6分,其他答案言之有理亦可给分)

本质:资产阶级和种植园奴隶主的联合专政。(2分)

20.【答案】示例(以某一地区为例,若列举出其中某几个地名亦可,12分)

一、黄河中下游地区(北方地区:河北、河南、山东、山西等):

唐宋时期,黄河中下游地区(河北、河南、山东、山西等)状元人数占比很高。(2分)

主要原因是,唐朝的统治中心在长安和洛阳,北宋时统治中心在汴京,北方是传统的经济中心和文化中心,文化教育事业发达,在全国处于领先地位。但是,随着北方(黄河流域)社会动荡和战乱不断,北方人口不断南迁,政治、经济、文化重心逐渐南移,北方的教育事业下滑,状元人数大幅度减少,失去了领先地位。(8分)

总之,北方状元人数在明清时期大幅度减少,与政治、经济、文化中心的变迁密切相关。(2分)

二、长江中下游地区(南方地区:浙江、江苏、江西、湖北、广东等):

明清时期,江南(两江)、湖广、两广等南方地区,状元人数逐渐增加。(2分)

主要原因是,自唐宋后,南方的逐步开发,中国经济重点逐步向南方转移,南方经济实力增长迅速,全国大部分税收集中在江南;北方常受社会动荡和少数民族南下等战乱影响,大量人口和精英人才南迁,全国大部分人口集中在江南;南方非常重视文化教育事业,南方书院林立,科举学习氛围好,求学士人众多,因而最终高中状元人数也占比较大。(8分)

由此可知,南方地区状元人数的增长,与政治、经济、文化中心的变迁密切相关。(2分)

三、任意选取图中南北地区(一个或几个地方)进行对比分析:

理由同上。有观点(2分)有论述(8分)有结论(2分)即可。