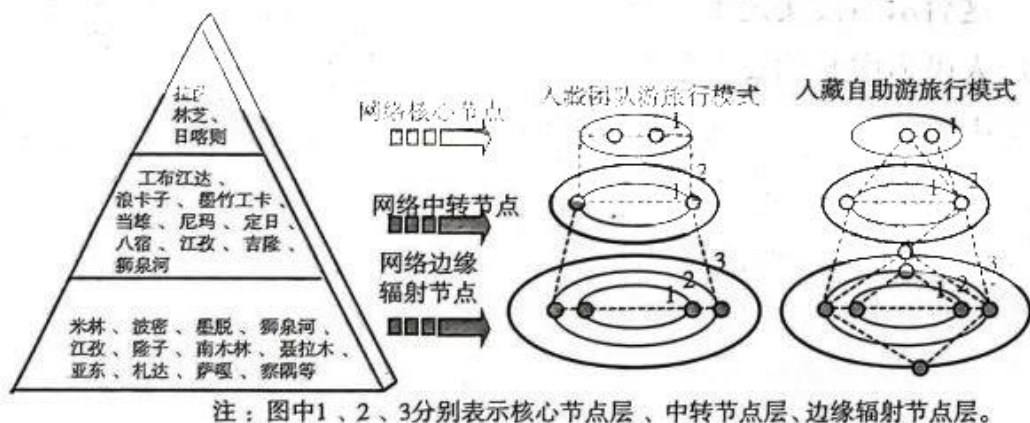


考生注意：

1. 本试卷共 300 分。考试时间 150 分钟。
2. 请将试卷答案填在试卷后面的答题卷上。
3. 本试卷主要考试内容：高考全部内容。

一、选择题：本题共 35 小题，每小题 4 分，共 140 分。在每小题给出的四个选项中，只有一项是符合题目要求的。

近年来，西藏凭借独特且丰富的旅游资源吸引了许多人，游客规模呈指数式增长。根据入藏旅游流网络结构，可将西藏旅游地划分为 3 种节点类型，旅游组织模式则主要分为团队游（以中老年群体为主）和自助游（以年轻人群体为主）。团队游和自助游在游客群体、旅游偏好、支出成本等方面存在较大差异。下图示意入藏旅游目的地层级体系与团队游、自助游组织模式对应关系。据此完成 1~2 题。



1. 入藏团队游和自助游组织模式的共同特征有

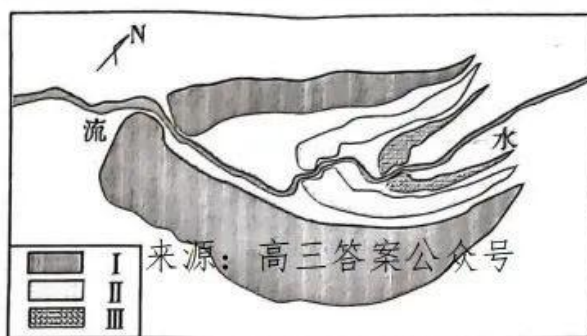
- ①核心—边缘模式 ②往返模式 ③自由—随机模式 ④多环游模式

- A. ①② B. ①④ C. ②③ D. ③④

2. 与自助游相比，团队游较少涉及网络边缘辐射节点的主要原因是

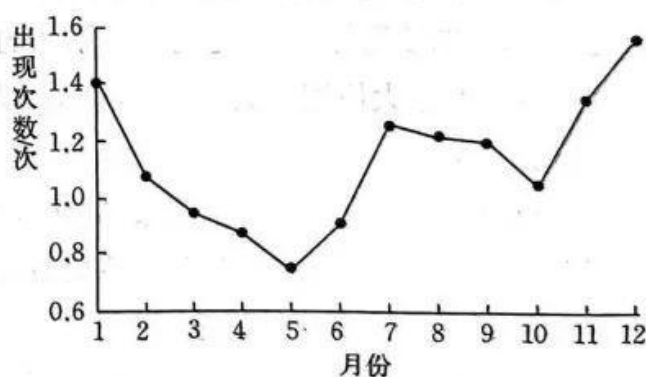
- A. 边缘辐射节点的旅游资源较少
B. 可支配旅游的经济收入较低
C. 身体对环境恶劣区的耐受性较差
D. 缺乏到达目的地的交通工具

下图示意某地自然形成堆积物的空间分布，I、II、III表示三个不同时期形成的堆积物，该地区大致位于海拔 3700 m 处。据此完成 3~5 题。



3. 造成 I、II、III 三处堆积物的主要外力作用是
 - A. 冰川
 - B. 冰川和流水
 - C. 流水
 - D. 流水和风力
4. 堆积物形成时间先后次序是
 - A. I、II、III
 - B. III、II、I
 - C. I、III、II
 - D. II、III、I
5. 由图可推知，图示区域最易发生的自然灾害是
 - A. 泥石流和塌陷
 - B. 地震和滑坡
 - C. 滑坡和泥石流
 - D. 地震和塌陷

雾指近地面的空气层中悬浮着大量微小水滴或冰晶微粒，使水平能见度降到 1 km 以下的天气现象。海雾按成因可分为两种，一种是暖气流受海面冷却，水汽凝结而成的冷却雾，另一种是温暖海水蒸发，使冷空气中的水汽达到饱和状态而形成的蒸发雾。下图示意 1951~2013 年渤海地区雾出现次数的月际变化。据此完成 6~8 题。

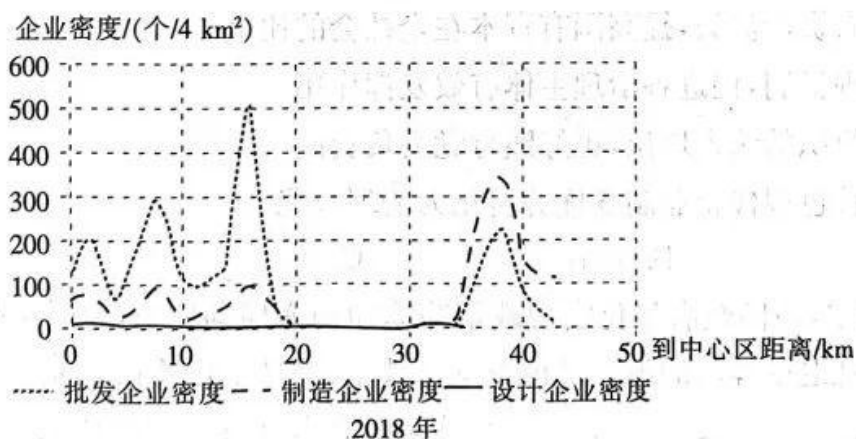
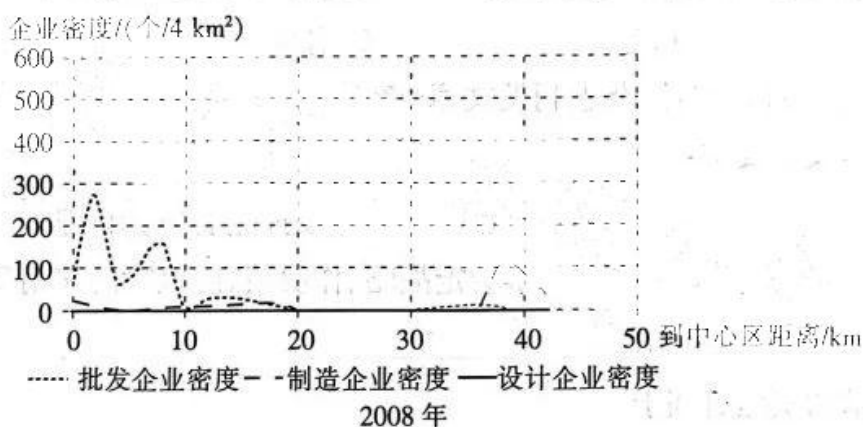


6. 渤海夏季和冬季出现的海雾分别为
 - A. 冷却雾 蒸发雾
 - B. 蒸发雾 冷却雾
 - C. 冷却雾 冷却雾
 - D. 蒸发雾 蒸发雾

7. 判断不同季节渤海海雾特点
- A. 春季雾少的主要原因是气温较低
B. 夏季雾比冬季雾更浓厚
C. 冬季雾单次时间比夏季雾持续时间更长
D. 海雾出现次数的月际变化呈单峰型
3. 12 月份渤海海雾出现次数最多, 其主要原因是

- A. 风力强劲 B. 海气温差大 C. 寒暖流交汇 D. 水汽充足

广州服装产业历史悠久, 改革开放至 20 世纪 90 年代, 企业集设计、生产等职能为一体, 产品产量大但款式单一, 主要在市中心边缘区高度集聚。20 世纪 90 年代后期至今, 服装生产转向小批量、灵活化, 不同企业专注于服装生产链条上的单一或几道工序, 服装产业空间格局随之演变。近年来, 广州服装产业被赋予更多的文化和艺术属性, 形成“设计+展示+旅游”的新型文娱空间, 其产业功能正向多元化发展。下图示意 2008 年与 2018 年广州服装企业数量空间分布变化。据此完成 9~11 题。



9. 与 2008 年相比, 2018 年各类型服装企业的变化情况是
- A. 企业类型增多 B. 同距离企业数量均增加
C. 密度高峰区域基本一致 D. 制造企业增长数量最多

10. 与 2008 年相比,2018 年批发企业距离分布变动的原因包括
①城市中心区环境不断恶化 ②城市中心区地价不断上升 ③城市中心区市场萎缩 ④郊区交通和基础设施不断完善
A. ①② B. ②③ C. ①③ D. ②④
11. 广州市部分服装制造企业布局在城中村,影响其布局的主要因素是
A. 地价 B. 劳动力数量
C. 环境质量 D. 交通
12. 工信部会同财政部印发《关于开展财政支持中小企业数字化转型试点工作的通知》,计划在“十四五”期间围绕 100 个细分行业,支持 300 个左右公共服务平台,培育 4000 至 6000 家试点数字化转型样板企业。想要抓住这一机遇发展自身,中小企业应该
①通过兼并或重组扩大企业的规模 ②制定数字化转型的正确经营战略
③创造良好的就业机会和就业环境 ④培养企业转型需要的数字化人才
A. ①② B. ①③ C. ②④ D. ③④
13. 2022 年 7 月 1 日,《求是》杂志刊发文章《新时代国有企业改革发展和党的建设的科学指南》,文章要求:

国有企业必须坚持“两个一以贯之”,充分发挥党委(党组)把方向、管大局、促落实的领导作用,更好发挥董事会定战略、作决策、防风险的作用和经理层谋经营、抓落实、强管理的作用

该要求的实施有利于

- ①避免国有资产流失,提高国有资本在全社会的比重
②健全管理机制,促进各治理主体有效发挥作用
③明确党组织的法人地位,更好践行党委负责制
④把中国特色现代企业制度优势转化为治理效能
A. ①③ B. ①④ C. ②③ D. ②④
14. 2022 年以来,我国政府强化宏观政策跨周期和逆周期调节,及时果断实施大规模增值税留抵退税等新的组合式税费支持政策、制造业中小微企业延续缓缴税费等稳经济一揽子政策及接续措施,宏观政策既有力有效,又合理适度,推动我国经济恢复向好。由此可见
①市场作用的发挥离不开宏观调控
②宏观政策调节改变了税收的固定性

- ③税收是调节经济运行的重要手段
④国家通过积极的财政政策提振经济
- A. ①② B. ①④ C. ②③ D. ③④
15. 古往今来,人类逐水而居,文明伴水而生,人类生产生活同湿地有着密切联系。2022年11月5日至13日,《湿地公约》第十四届缔约方大会召开。本次大会以“珍爱湿地,人与自然和谐共生”为主题,共谋湿地保护发展,具有十分重要的意义。本次大会有利于
- ①加强生物多样性保护,促进可持续发展
②保护世界水资源,解决好“三农”问题
③推动经济全球化,促进社会生产力发展
④强化绿色发展理念,共同建设美好家园
- A. ①③ B. ①④ C. ②③ D. ②④
16. 2022年10月20日,某市Y社区开展法治夜校学习活动,区人大代表、区政协委员、辖区内商户代表、青年创业者代表、居民代表等参加活动。开展该活动的意义在于
- ①助力社区做好司法工作,推动建设和谐社区
②促进自治、法治相结合,激发社区治理活力
③增强居民法治意识,提高居民参与民主管理的本领
④赋予居委会新功能,是发展基层民主的有效实践
- A. ①③ B. ①④ C. ②③ D. ②④
17. 2022年11月,市场监管总局就《关于进一步规范餐饮服务提供者食品添加剂管理的公告(征求意见稿)》公开征求意见。该公告提出,餐饮服务提供者应当严格按照《食品安全国家标准 食品添加剂使用标准》规定的食品添加剂使用原则、允许使用的食品添加剂品种、使用范围及最大使用量或残留量,规范食品添加剂管理。上述要求体现了市场监管总局
- ①创新监管方式,增强执行力 ②加强市场监管,为人民服务
③深化简政放权,增强公信力 ④科学民主决策,对人民负责
- A. ①② B. ①③ C. ②④ D. ③④
18. 中华民族的伟大复兴离不开乡村振兴。习近平总书记在2022年12月召开的中央农村工作会议上强调,要铆足干劲,抓好以乡村振兴为重心的“三农”各项工作。会议还讨论了《中共中央 国务院关于做好2023年全面推进乡村振兴重点工作的意见(讨论稿)》。这反映了中国共产党

- ①是中国特色社会主义最本质的特征
②是中国特色社会主义事业的领导力量
③通过国务院等国家机关履行国家职能
④在科学执政中维护人民的根本利益
- A. ①③ B. ①④ C. ②③ D. ②④
19. 随着全面推进乡村振兴,城乡文化交融更加紧密,各地乡村涌现出形式多样的群众文化活动,如广场舞、汉服秀、篮球联赛、特色节庆等,其中一些已经变成当代乡村新民俗。这些新民俗
- ①是当代人们的经济、政治生活在精神上的反映
②集中体现着当地民众的整体风貌和精神特征
③是优秀传统文化自觉顺应社会变迁的结果
④在维系当地民众共同生活中起着精神纽带作用
- A. ①③ B. ①④ C. ②③ D. ②④
20. 2022年是毛泽东同志《在延安文艺座谈会上的讲话》发表80周年。延安时期的美术创作是中国共产党领导下革命文艺的重要篇章。广大美术工作者与人民群众的实践相结合,将自己的艺术实践融入革命斗争与社会建设,奠定了新中国美术事业的基础。这启示当代文艺工作者要
- ①坚持以人民为中心的文艺创作导向 ②坚持百花齐放、百家争鸣的方针
③立足于中国特色社会主义伟大实践 ④积极吸收借鉴国外优秀文化成果
- A. ①③ B. ①④ C. ②③ D. ②④
21. 经过十年不懈努力,中国科学院分子植物科学卓越创新中心和上海师范大学科研团队合作,首次从野生玉米中成功克隆出控制玉米高蛋白含量的主效基因 THP9,并通过杂交实验,有效提高了现代玉米的蛋白含量。上述科学实验
- ①根据事物固有的联系建立起了新的具体联系
②说明人利用客观规律改变了大自然的物质性
③具有客观物质性、能动性以及社会历史性
④印证了真理随着实践的发展而推翻自身
- A. ①③ B. ①④ C. ②③ D. ②④
22. 在治理环境污染方面,H市政府要求各县市区、市直有关部门将市环保办的指令落实到位。要在落实各项防污治污举措的同时加强分析研判,必要的举措不能放松,既要反对不负责任的态度,又要反对和克服形式主义、官僚主义,纠正“层层加

码”“一刀切”等做法。从哲学角度看,这要做到

- ①坚持一切从实际出发,实事求是
- ②坚持底线思维,防止发生质变
- ③尊重客观规律,具体情况具体分析
- ④发挥主观能动性,创新治污规律

A. ①② B. ①③ C. ②④ D. ③④

23. 为净化校园环境、加强师德师风建设、切实保护未成年,最高人民法院会同最高人民检察院、教育部发布《关于落实从业禁止制度的意见》。意见按照最有利于未成年人的原则,就依法严格执行犯罪人员从业禁止制度,进一步加强司法保护与学校保护、社会保护的衔接作出了规定。该意见来源:高三答案公众号

- ①表明价值判断和价值选择具有社会历史性
- ②旨在发挥上层建筑对经济基础的积极作用
- ③体现了意识活动具有目的性和自觉选择性
- ④印证了超前的社会意识对社会存在起着引领作用

A. ①③ B. ①④ C. ②③ D. ②④

24. 下表为先秦时期关于“义”观念的部分记载。据此可知,下列结论合理的是

时期	记载	出处
殷商	“惟天监下民,典厥义”	《尚书·高宗彤日》
西周	“遵王之义”	《尚书·洪范》
春秋战国	“义以出礼”“义以生利”“义,人路也”	《左传》《孟子》

- A. “义”是华夏文明的重要内涵
- B. 重义轻利观获得统治阶层认可
- C. 儒学“义利观”内涵不断丰富
- D. 专制集权的政治规范逐渐形成

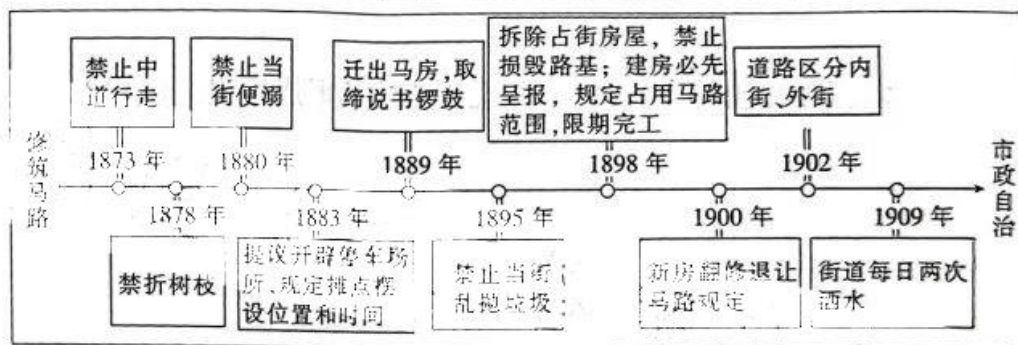
25. 《后汉书·王充传》记载:“充少孤……家贫无书,常游洛阳市肆。阅所卖书,一见辄能诵忆,遂博通众流百家之言。”在当时,游书肆是一种较为流行的现象。这折射出当时

- A. 造纸技术得到推广
- B. 重农抑商政策松动
- C. 儒学理论深入人心
- D. 文化教育得到发展

26. 熙宁四年(1071年),曾巩任齐州(今山东济南)知州,开创了“保伍”之法,以五户为一保,监督人员出入,实行外来人口登记,有盗贼则鸣鼓相援。不仅如此,他还将为富不仁的富户、杀人越货的豪强悉数法办,使齐州风气为之一清。曾巩在地方治理上可供借鉴的经验是

- A. 法律建设与道德教化相协调
- B. 中央集权与地方自治相协调

- C. 民众自治与政府管理相配合
D. 邻里守望与宗族互助相补充
27. 河北宁晋县《高凌烟墓志铭》介绍了高凌烟(1544—1619)在学书、学农失败后,“复去之学贾,贷子母钱,逐什一之利,嗣是家稍进”的人生轨迹。高凌烟的发迹从侧面反映出当时
- A. 雇佣关系已经出现
B. 信贷经济得到发展
C. 弃儒从商成为潮流
D. 农业生产出现衰败
28. 1839年,英国水手在香港无故殴打当地农民林维喜并致其死亡,时任英国驻华商务监督义律以领事裁判权为由拒不交出凶手。林则徐则根据译写《各国律例》所获得的国际法知识打击了义律嚣张的气焰。这反映了当时
- A. 司法权独立的重要性
B. 法治意识普及的广泛性
C. 开眼看世界的必要性
D. 领事裁判权收回的必要性
29. 有学者根据《申报》中的文献绘成了下方的时间轴图。这一图示反映了近代中国



- A. 城市建设逐步规范
B. 立体交通网的形成
C. 商品流通范围扩大
D. 市民自治权的确立
30. 1944年,延安县在发现周边有“吐黄水病”等传染病后,迅速组织各卫生机关和医院选派医疗队赶赴农村,救助患病群众。此外,军队系统医院也积极为驻地疫病患者提供免费治疗。上述行为
- A. 增强了民众对根据地的政治认同
B. 保证了大生产运动的增产增收
C. 改善了边区民众的生活生产环境
D. 提升了根据地军民的抗战热情
31. 2015年11月起,南宁市文明委组织开展公众人物“重品行、树形象、做榜样”活动,活动内容包括开展社会公益活动、举办在线访谈节目、召开专题座谈会等,如开展“光彩行动”,引导企业家积极投身社会公益事业。这类活动实际突出的主题是
- A. 义务、参与、行动
B. 责任、德行、共识
C. 公益、休养、普惠
D. 法治、立德、树人

12. 亚里士多德提出,王权范围越小,王位维持的时间就越长。如斯巴达政权之所以长久,根本原因就在于它的政体精神合乎这样的原则,它的政体自始就设置两位国王,色奥彭浦斯(斯巴达国王)更是彻底奉行谦恭政策,还设置了监察官。据此,亚里士多德认为斯巴达的政治制度
- A. 呈现出向共和制过渡的趋势
B. 赋予公民以决策大权
C. 成功抑制了寡头政治的出现
D. 蕴含一定的民主因素
13. 卢梭认为,自从人类进入文明社会之后,人类幸福安宁的日子就结束了。奴役与被奴役的社会关系使人远离了自身的自然状态,社会成为一个不融洽的人类组织。为此,他提出了社会契约论。卢梭此举的出发点是
- A. 反对君主专制
B. 实现社会和谐
C. 否定社会进步
D. 呼吁暴力革命
14. 1918年7月,第五次全俄苏维埃代表大会通过了苏俄宪法,该宪法第三章第四条规定:“废除秘密条约,现时交战双方军队中的工农进行最广泛的联欢,无论如何都要用革命手段来达到劳动人民间以民族自决为基础的不兼并不赔款的民主和平。”该条款所蕴含的理念的宣扬
- A. 加强了国际工人的团结
B. 有助于苏俄政权的巩固
C. 促进了工农联盟的形成
D. 改变了欧洲的政治格局
15. 20世纪80年代末以来,中美洲国家之间的关系逐步改善,同时世界经济的区域化和西方的贸易保护政策,恶化了国际上初级产品的贸易形势。出于对自身实力的认知及发展的共同需要,中美洲六国于1993年10月签署了《危地马拉议定书》。该议定书的主旨是
- A. 区域经济合作
B. 产业结构调整
C. 反霸权反控制
D. 经济资源互补

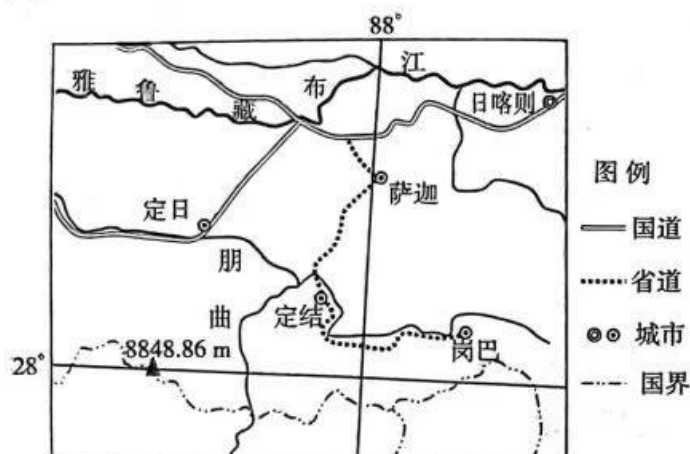
二、非选择题:共160分。第36~42题为必考题,每个试题考生都必须作答。第43~47题为选考题,考生根据要求作答。

(一)必考题:共135分。

36. 阅读图文材料,完成下列要求。(20分)

岗巴羊是西藏自治区岗巴县特产,产地范围为海拔4300~6800 m,地形和地貌复杂,主要以高山植物为食,饮水则来源于冰川积雪融水或泉水。因其独特的生长环境,岗巴羊具有“肉质细嫩、味道鲜美、无膻味”三大特点。受客观条件制约,岗巴羊的养殖长期以来还是依赖传统模式,羊群生长过度依赖草场自然资源,很难实现产业规模效

应。目前,岗巴羊在当地也是供不应求,甚至还有许多假冒的情况。



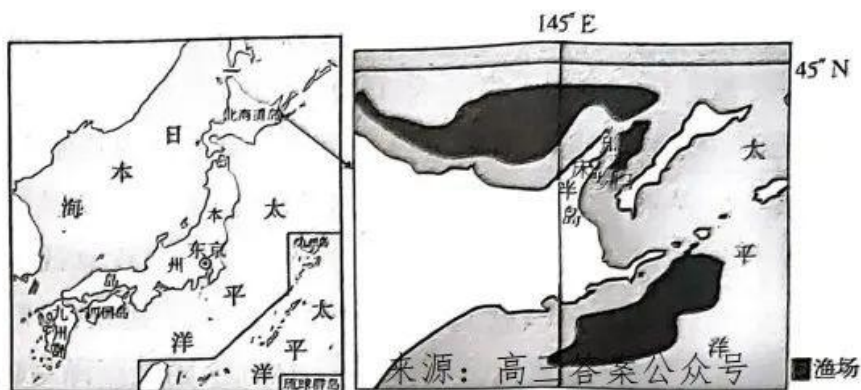
(1)说出岗巴羊的生长习性。(6分)

(2)分析岗巴羊在我国其他省区很难买到且价格昂贵的原因。(6分)

(3)试提出促进岗巴羊产业化发展的可行措施。(8分)

37. 阅读图文材料,完成下列要求。(26分)

知床半岛位于日本北海道岛东北部,整个半岛几乎被茂密的原始森林覆盖,珍稀动植物资源丰富。半岛上的罗臼港被联合国教科文组织列为世界自然文化遗产,海洋物产丰富,各类海洋生物种类繁多。罗臼港是同纬度地区唯一有流冰的地方,每年巨大浮冰到来,将知床半岛围绕,是难得一见的奇景。下图示意罗臼港地理位置。



(1)分析罗臼港海洋生物种类繁多、海洋物产丰富的优势条件。(6分)

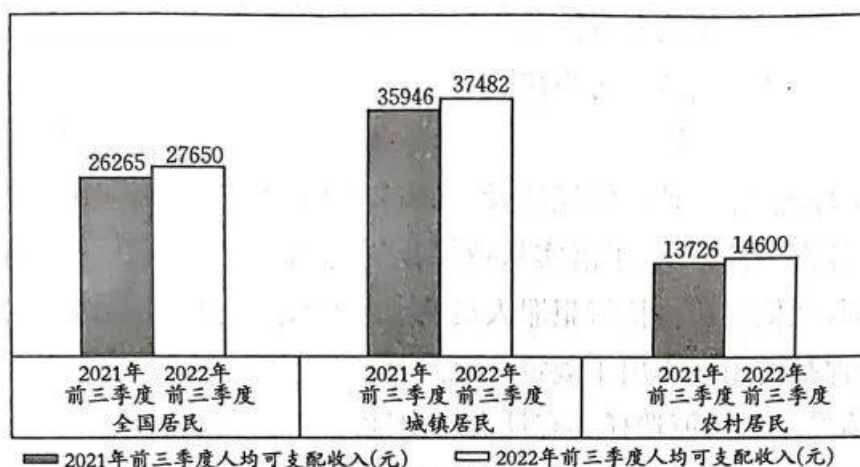
(2)指出罗臼港流冰出现的大致月份,并说明流冰的形成过程。(8分)

(3)指出知床半岛可发展的主要产业类型。(6分)

(4)简述知床半岛发展经济的限制条件。(6分)

38. 阅读材料,完成下列要求。(14分)

材料一 2022年10月24日,国家统计局公布了2022年前三季度全国及城乡居民人均可支配收入,情况如下图:



材料二 党中央农村工作会议对促进农民富裕富足提出了具体要求。党中央指出,进入新发展阶段,必须完整、准确、全面贯彻新发展理念,促进农村居民更多更好地共享国家发展红利。要深刻认识到,促进农民增收,缩小城乡居民收入差距,是一项艰巨的长期任务,也是实现社会主义现代化必须完成的目标。

(1) 概述材料一所反映的我国城乡居民收入存在的问题。(4分)

(2) 结合材料二并运用经济知识,就我国如何解决上述问题提出合理建议。(10分)



39. 阅读材料,完成下列要求。(12分)

2022年11月13日,我国国务院总理在柬埔寨金边举办的第17届东亚峰会上提到,维护南海和平稳定、维护南海航行和飞越自由符合各方共同利益。中国作为最大的货物贸易国,60%的贸易经过南海。南海的航行和飞越自由从来不是问题。中方主张维护南海和平稳定和航道畅通,愿与东盟国家一道,根据已签署20年的《南海各方行为宣言》精神和包括《联合国海洋法公约》在内的国际法原则,按照协商一致原则加快推进“南海行为准则”磋商。各方应当尊重地区国家为维护南海和平稳定所作出的努力,支持地区国家把南海建设成为和平、友谊、合作之海。

结合材料,运用所学当代国际社会的知识,说明中国外交政策有何特色。

40. 阅读材料,完成下列要求。(26分)

中国戏曲历史悠久,而越剧相对年轻。越剧能够在100多年时间里走向全国、深入人心,完成蜕变,离不开几代艺术家的守正创新。

材料一 在越剧百年诞辰之际,浙江小百花越剧团在老版《梁祝》基础上创排新版。新版《梁祝》在尊重经典唱段基础上,充实了剧情和唱腔,将大家耳熟能详的同名小提琴协奏曲融入其中,并借鉴现代舞蹈动作,丰富了传统程式动作。比如,在“化蝶”一幕,新版《梁祝》将昆曲小生的折扇技法和现代舞动作相融合,传统越剧小生手中的折扇成为象征双宿双飞的翩跹蝴蝶。新版《梁祝》上演后,获得诸多国家级奖项,收到来自各大国际艺术节的邀约,展示出当代越剧的艺术魅力。

材料二 由丁台出品的越剧文化传承推广节目《中国好声音》越剧特别季自开播以来受到了观众满满的好评。活态传承的传统戏曲,连接绵延千年的审美积淀与欣欣向荣的美好生活,正以更加多元、丰富的表达持续散发时代魅力。比如,嵊州市打造“越越”“迷迷”越剧卡通形象代言人,并开发微信表情包、美妆等11种系列文创产品。此外,嵊州市还用越剧演唱的形式,创编文明习惯小唱段、学法普法小视频,打造越剧“小九妹”“九斤姑娘”“沙漠王子”等经典形象,用“乡土话”“越乡音”等接地气的形式演绎新时代文明实践。

(1)结合材料一并运用辩证否定观的知识,分析越剧展示出当代越剧的艺术魅力的关键原因。(12分)

(2)结合材料二并运用文化生活知识,说明越剧的成功经验对于传统文化守正创新的启示。(10分)

(3)弘扬中华优秀传统文化,需要加强传统戏曲艺术的传承普及。请你为学校如何开展戏曲文化活动提两条建议。(4分)

41. 阅读材料,完成下列要求。(25分)

材料一 明初,朱元璋“即大召四方名儒”,“使各以其所知荐”,又遣官至各地鼓励荐举官员,这使得当时“由布衣而登大僚者不可胜数”。后来,吏部逐渐掌握了受保荐之人的任用权责,受荐之人接受的考核日益严格,各地贤良的推荐与任用逐渐制度化。大约从万历朝开始,地方政府为表明当地文教事业兴盛、社会风俗乡善,积极宣扬受荐对象品行端庄、著述丰厚等优长,使受荐举人数大增。

——摘编自解扬《从行政整合到政治整合——明代荐举及地方实践》

材料二 晚清时,由科举等正途选拔之官难以承担变局的使命,科举取士的标准和方法受朝野诸多质疑,原先在铨选渠道中属于非主流的保举与捐纳所选拔的官员人数陡然增多。甲午战败后,当权者对学以致用充满期待,科举改革的若干举措在戊戌年接踵而至,千年科举终以停废方式终结。

——摘编自关晓红《晚清选官任用之标准及新趋向》

材料三 民国时期,各届民国政府对文官制度进行了系统的研究与调整:设

考试院,颁布并修订《文官高等考试法》,确定严格的考试程序,允许女子参加文官考试。文官考试的应试人员多是大学生、研究生,其中留学欧美的研究生有很多,他们有着强烈的民族情感。文官考试的考试科目是物理、化学、数学、植物学、动物学、公共卫生、畜牧、林业、采矿等。

——摘编自史新恒《民国时期文官群体探略》

(1)根据材料一,概括明代荐举制度的变化,并结合所学知识说明明代荐举制度的积极作用。(12分)

(2)根据材料二并结合所学知识,指出晚清选官制度变革的背景。(7分)

(3)根据材料三并结合所学知识,简述民国时期文官考试制度的特点。(6分)

42. 阅读材料,完成下列要求。(12分)

材料 运河的开凿和利用,促进了人类社会经济、政治和文化的发展,承载着人类互联互通的共同追求与梦想。下表是部分漫画所反映的苏伊士运河历史变迁过程中的一些事件。

漫画 1	该漫画绘于 1868 年,描绘了苏伊士运河开凿时的场景。画中法国驻埃及领事雷赛布手持挖掘工具站在船上,黑皮肤的“红海”在前面拖船,白皮肤的“地中海”在后面推船,背景中的金字塔显示这里是埃及
漫画 2	漫画家以“Bitter Lake”(苦湖)和“Blood Red Sea”(血海)来描述英法争夺苏伊士运河的情况,还将埃及著名的狮身人面像以骷髅头的形式呈现出来
漫画 3	该漫画中,印有英、法、美三国国旗的轮船以“国际交流”的名义通过苏伊士运河,时任埃及总统的纳赛尔高举印有“阿拉伯民族主义”的旗子,将其拦住。在纳赛尔后方垂钓的是苏联外交部长谢皮洛夫

根据材料并结合所学知识,围绕“苏伊士运河的历史变迁”提出一个观点,并予以阐述。(要求:观点明确,持论有据,阐述清晰。)

(二)选考题:共 25 分。请考生从 2 道地理题、3 道历史题中每科任选一题作答,如果多做,则每科按所做的第一题计分。

43. [地理——选修 3:旅游地理](10 分)

西陂天后宫(右图)位于福建省龙岩市永定区高陂镇西陂村,距市区约 30 千米,拥有 480 年历史,是集妈祖文化、状元文化、建筑文化、红色文化为一体的全国唯一一座七层塔式建筑,是国宝级的文物,被国务院批准列入第六批全国重点文物保护单位名单,近年来成为农村网红打卡地。



来源:高三答案公众号

简述西陂天后宫成为农村网红打卡地的主要优势及当地依托西陂天后宫发展乡村旅游带来的有利影响。

44. [地理——选修 6:环境保护](10 分)

喀纳斯湖位于我国新疆阿勒泰地区布尔津县境内,湖面海拔为 1374 米,蓄水量为 53.8 亿米³,湖泊最深处高程为 1181.5 米,湖深 188.5 米,是一个坐落在阿尔泰山深山密林中的高山湖泊、内陆淡水湖。喀纳斯湖雪峰耸峙绿坡墨林,是国家AAAAA 级旅游景区、国家地质公园、国家森林公园、中国自然保护区、国家自然遗产、全国低碳旅游实验区。近年来,通过实地勘测发现,喀纳斯湖水量、水位都有增长的态势。下图示意喀纳斯湖地理位置。



推测喀纳斯湖水量、水位都有所增长的原因及该变化对周边环境的积极影响。

45. [历史——选修1:历史上重大改革回眸](15分)

材料 大革命失败后,中国共产党先后发动的南昌起义、秋收起义等也接连失败。由于部队建制凌乱,成分复杂,加之疟疾流行,部队弥漫着一种悲观情绪,不时有人“掉队”。面对严峻的形势,毛泽东在1927年9月29日晚,于江西省永新县三湾村主持召开了会议,会议决定立即对部队进行改编。一是建立“支部建在连上”的组织制度,在部队中建立党的各级组织。二是实行党代表制度,连以上设立党代表,并由其担任党组织书记,专做思想政治工作。三是在连以上设立各级士兵委员会,实行民主制度。把“支部建在连上”,就是要抓基层,抓基础,充分发挥基层党组织的战斗堡垒作用。三湾改编确保了党对军队的领导,铸造了一支新型的人民军队,塑造了今天中国人民解放军的军魂:党指挥枪。同时,党在部队成立士兵委员会,进行政治民主、军事民主和经济民主的积极探索,开我军民主管理之先河。

——摘编自廖勇《三湾改编对新时代党的基层组织建设的启示》

(1)根据材料,概述三湾改编的重要内容。(6分)

(2)根据材料并结合所学知识,简析三湾改编的重大意义。(9分)

46. [历史——选修3:20世纪的战争与和平](15分)

材料 上甘岭战役是抗美援朝时期的著名战役。1952年10月14日,美军为扭转战争的被动局面,对上甘岭发动代号为“摊牌作战”的突然袭击。面对“联合国军”对我军的集中攻击,志愿军依托坑道进行防御,适时反击作战,同时增派炮兵、



增调火炮进行支援。我军战术的得当、炮兵与步兵的配合默契,对战役胜利起到重要保障作用。11月25日,上甘岭战役结束,我军共击落击伤敌机270余架,毙伤俘敌2.5万余人,击毁击伤其大口径火炮60余门、坦克14辆。上甘岭战役的胜利基本确定了朝鲜战争的走向,加速了朝鲜停战谈判的历史进程。上甘岭一战,打出了我国的国威,创造了现代战争史上坚守防御作战的范例,打出了“上甘岭精神”,即为了祖国,为了人民,为了胜利的奉献精神;不屈不挠,团结战斗,战胜困难的拼搏精神;英勇顽强,坚决战斗,血战到底的胜利精神。20世纪50年代,“上甘岭精神”成为中国人民战胜困难、取得胜利的同义词。

——摘编自刘波《上甘岭战役的战略复盘》

- (1)根据材料并结合所学知识,概括上甘岭战役取得胜利的原因。(6分)
- (2)根据材料并结合所学知识,分析上甘岭战役胜利的意义。(9分)

17. [历史——选修4:中外历史人物评说](15分)

材料 邓稼先(1924—1986),中国科学院院士,著名核物理学家,中国核武器研制工作的开拓者和奠基者之一,被誉为“两弹元勋”。邓稼先自幼勤奋读书,儒雅有礼。随着日本侵华的加剧,民族危机不断加深,少年邓稼先的爱国情怀被激发出来。1941年,邓稼先就读于西南联合大学,他深受西南联大严谨治学、爱国气氛的熏陶,成长为一名学识优秀、思想进步的青年。抗战胜利后,邓稼先任教于北大。任教期间,他不仅深入钻研学术,还在学生运动中担任重要角色。1948年邓稼先赴美留学,成绩优异的邓稼先,不到两年即取得博士学位,人称“娃娃博士”。1950年,取得博士学位刚9天的邓稼先放弃国外的优厚条件,毅然回到中国并在此后为中国核工业作出突出贡献,尤其是在原子弹理论设计与氢弹理论设计方面。他还与周光召合写了《我国第一颗原子弹理论研究总结》,这是一部核武器理论设计的开创性巨著。因长期从事核试验研究,邓稼先的身体受到放射性物质的严重损伤,1986年,邓稼先因病去世。

——摘编自完颜亮《共和国脊梁之邓稼先:隐姓埋名三十年的两弹元勋》

- (1)根据材料,说明邓稼先对中国社会发展作出的历史贡献。(6分)
- (2)根据材料并结合所学知识,概括邓稼先身上体现出的精神品质。(9分)

关于我们

自主选拔在线是致力于提供新高考生涯规划、强基计划、综合评价、三位一体、学科竞赛等政策资讯的升学服务平台。总部坐落于北京，旗下拥有网站（[网址: www.zizzs.com](http://www.zizzs.com)）和微信公众平台等媒体矩阵，用户群体涵盖全国90%以上的重点中学师生及家长，在全国新高考、自主选拔领域首屈一指。

如需第一时间获取相关资讯及备考指南，请关注**自主选拔在线**官方微信号：**zizzsw**。



 微信搜一搜

 自主选拔在线