



# 高三地理

本试卷满分 100 分,考试用时 75 分钟。

## 注意事项:

1. 答题前,考生务必将自己的姓名、考生号、考场号、座位号填写在答题卡上。
2. 回答选择题时,选出每小题答案后,用铅笔把答题卡上对应题目的答案标号涂黑。如需改动,用橡皮擦干净后,再选涂其他答案标号。回答非选择题时,将答案写在答题卡上。写在本试卷上无效。
3. 考试结束后,将本试卷和答题卡一并交回。
4. 本试卷主要考试内容:高考全部内容。

一、选择题:本题共 16 小题,每小题 3 分,共 48 分。在每小题给出的四个选项中,只有一项是符合题目要求的。

克麦罗沃州拥有俄罗斯煤矿储量最大的库兹巴斯煤田,20 世纪 30 年代起,州内多座小城市由单一的“成城企业”发展而来,即“企业成城”。州府克麦罗沃市主要承担矿山机械制造、能源化工、交通运输等综合职能。2011 年以来,随着资源逐渐枯竭和成本上升,克麦罗沃州煤炭工业陷入危机,“企业成城”人口大量流失,而克麦罗沃市在经济转型中韧性较强,利用西西伯利亚北部运来的天然气壮大能源产业,并通过铁路输出机械装备。据此完成 1~2 题。

1. 克麦罗沃州的小城市多由“成城企业”发展而来,说明“成城企业”
- ①职工规模大 ②管理水平高 ③附加值高 ④关联部门多
- A. ①②                      B. ①④                      C. ②③                      D. ③④
2. 与“企业成城”相比,克麦罗沃市在库兹巴斯煤田经济转型中韧性较强,直接得益于
- A. 行政等级较低                      B. 市场容量较大
- C. 辐射范围较广                      D. 产业类型多元

某企业成立于 1997 年,目前已经成为我国最大的专业速冻食品生产企业之一。2021 年底,该企业开办鲜食水饺门店,首次进入鲜食领域。表 1 为该企业的的大事记。据此完成 3~5 题。

表 1

时间	大事记
1997 年	在郑州成立,生产速冻水饺、速冻汤圆,面向全国销售
2003 年	提出速冻水饺、速冻汤圆包装和个体小型化
2006 年	确定为北京奥运会速冻包馅食品独家供应商
2015 年	成立食品科学博士后工作站
2021 年	在郑州开办首家鲜食水饺门店,主打现包水饺、广式云吞和馄饨,店面仅有几张桌子,可堂食、外带、外卖

考号

题答

姓名

不

内

封

班

学

3. 该企业开办鲜食水饺门店的主要优势是

- A. 产业基础好  
B. 生产成本低  
C. 经营经验足  
D. 科技水平高

4. 未来,该企业鲜食水饺门店应多布局于

- A. 行政区  
B. 住宅区  
C. 工业区  
D. 文教区

5. 该企业成立以来始终致力于

- A. 增加产品类型  
B. 提高商品品质  
C. 塑造知名品牌  
D. 开拓国际市场

罗维亚纳潟湖地处所罗门群岛,由沙坝与外海相隔。19世纪潟湖上独木舟广泛分布,每年有段时间潟湖中所有独木舟停航。20世纪60年代之后,随着造船技术的进步,独木舟逐渐减少。图1示意罗维亚纳潟湖位置,图2为20世纪初期罗维亚纳潟湖独木舟的老照片。据此完成6~8题。

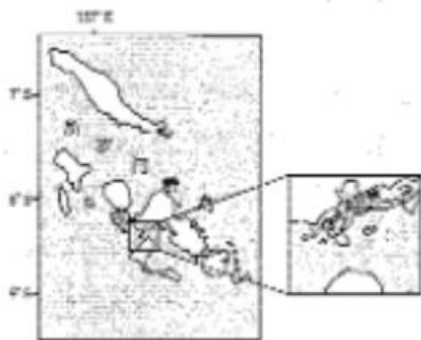


图1



图2

6. 推测19世纪罗维亚纳潟湖的小型独木舟主要用于

- ①获取水源 ②捕捞鱼鲜 ③交通运输 ④军事防御

- A. ①②  
B. ①④  
C. ②③  
D. ③④

7. 罗维亚纳潟湖区域采用小型独木舟运输的主要原因是独木舟

- A. 制作可就地取材  
B. 运输连续性强  
C. 可达范围广  
D. 行驶阻力小

8. 罗维亚纳潟湖区域每年独木舟停航时

- A. 停航时间固定  
B. 停航单次时间较长  
C. 独木舟易受损毁  
D. 停航次数逐年降低

区域下垫面由多种土地利用类型共同构成,共同影响着区域地表温度。图3示意天山北坡经济带各土地覆盖类型白天、夜间的地表温度贡献度指数,其正负值分别表示对地表温度的升温 and 降温作用。与我国大部分区域建设用地不同,天山北坡经济带建设用地在白天对区域地表

温度贡献度指数为负,形成城市“冷岛”。据此完成9~11题。




图3

9. 草地的负贡献度绝对值最大,主要原因可能是草地
- A. 比热容最大  
B. 保温能力最差  
C. 反射率最高  
D. 占地面积最大
10. 据图可知,2005~2018年土地覆盖类型发生明显转变的是
- A. 耕地→未利用地  
B. 冰川→未利用地  
C. 耕地→林地  
D. 建设用地→耕地
11. 天山北坡城市白天形成“冷岛”的关键在于城市
- A. 邻近荒漠  
B. 功能区布局合理  
C. 规模较大  
D. 背靠山脉

非洲野犬目前处于濒危状态,仅剩25个种群。随着人类活动范围的扩大,人和非洲野犬冲突加剧,部分保护区通过加装栅栏来限制动物活动范围,但有的30%的非洲野犬能够越过破旧的栅栏威胁聚落。图4示意非洲野犬的分布范围,图5为南非保护区典型的栅栏景观。据此完成12~13题。



图4



图5

12. 非洲野犬的主要栖息地

- A. 冬夏温差大  
B. 全年风沙多  
C. 树木密度低  
D. 太阳辐射弱

13. 造成保护区栅栏破损的原因可能有

- ①风力侵蚀 ②地壳运动 ③流水冲刷 ④生物活动

- A. ①②  
B. ①④  
C. ②③  
D. ③④

末次冰期晚期气候转暖, 欧洲大陆的古冰盖开始消融, 易北河在下游形成深切河谷, 后逐渐演变为水流不断分汉又汇集的辫状河谷。目前, 易北河下游河谷已经成为北海近岸海域海底的水下峡谷, 该处水下峡谷地层封闭性好。图 6 示意易北河流域的位置。据此完成 14~16 题。

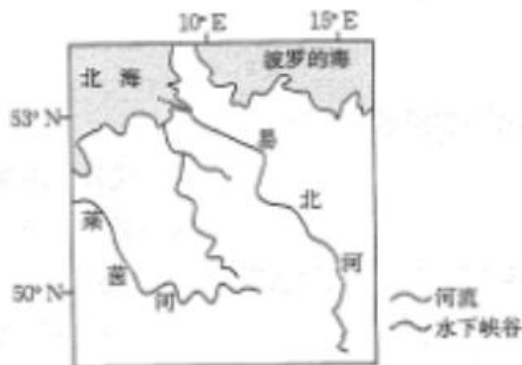


图 6

14. 对易北河深切河谷演变为辫状河谷起到决定性作用的是

- A. 海平面上升  
B. 地壳抬升  
C. 流水侵蚀  
D. 海水堆积

15. 与深切河谷时期相比, 辫状河谷时期易北河下游

- A. 含沙量大  
B. 堆积作用弱  
C. 水位较高  
D. 冰期较长

16. 易北河水下峡谷最可能拥有丰富的

- A. 煤炭资源  
B. 油气资源  
C. 深海渔业资源  
D. 海盐资源

二、非选择题: 本题共 3 小题, 共 52 分。

17. 阅读图文材料, 完成下列要求。(20 分)

犁镜是耕犁的重要部件, 安装于犁头上方, 用以翻土, 因常与土块相摩擦致表面发亮而得名。山西阳城是中国重要的冶铁之乡, 早在 1000 年前就开始冶炼犁镜。犁镜的冶炼需要高纯度的生铁, 并加入黏土矿作为辅料。阳城冶铁业最兴盛时有犁炉近百座, 年产犁镜 70 万片, 品种繁多, 除供应国内以外, 还远销朝鲜、日本、尼泊尔等国。20 世纪 80 年代以来阳城犁镜逐渐停产。2015 年以来, 在乡村振兴等国家政策背景下, 阳城乡村打造冶铁文化旅

游品牌,鼓励部分以传统食宿经营为主的农家乐融入阳城犁镜主题。图7示意阳城的位置。

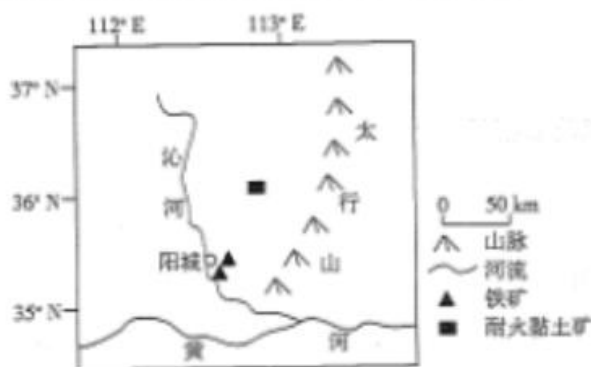


图7

- (1)简述阳城适合冶炼犁镜的资源条件。(6分)
- (2)阳城犁镜品种繁多,试对此做出合理的解释。(4分)
- (3)说明20世纪80年代以来阳城犁镜逐渐停产的原因。(6分)
- (4)分析以阳城犁镜为主题对农家乐经营发展的意义。(4分)

18. 阅读图文材料,完成下列要求。(16分)

蒙古奥罗格湖地处奥罗格盆地腹地,湖盆宽且浅。戈壁阿尔泰山北麓诸多山地河流向北流入奥罗格盆地,在出山口发育一系列冲积扇。在地质历史时期,奥罗格盆地气候反复变化,奥罗格湖面积变化幅度极大,冲积扇剖面呈现水力沉积和风力沉积交替的形势。气候变化以及冲积扇的发育最终导致大约1.5万年前戈壁阿尔泰山诸河无法汇入奥罗格湖,散流在扇面上逐渐消失。近些年来,尽管奥罗格盆地气候呈暖干化,但奥罗格湖水位下降幅度较小。图8示意奥罗格盆地的位置和地形。

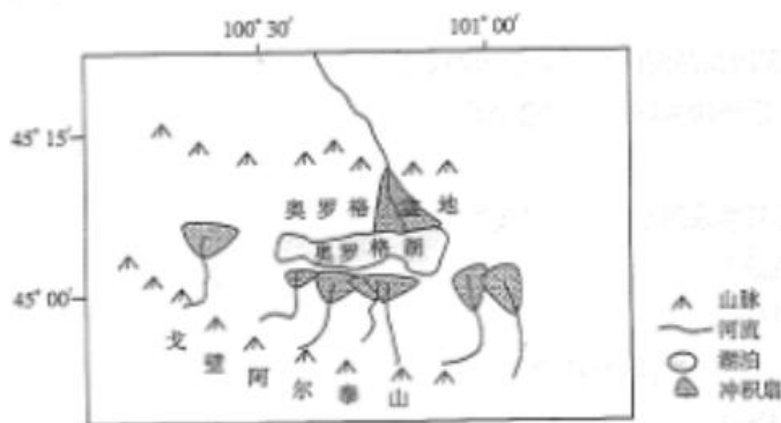


图8

- (1)分析该区域冲积扇剖面中风力沉积物的形成条件。(6分)
- (2)冲积扇的发育对戈壁阿尔泰山诸河无法汇入奥罗格湖起到重要作用,试分析原因。(4分)
- (3)简述近些年来奥罗格湖水位下降幅度较小的原因。(6分)

19. 阅读图文材料,完成下列要求。(16分)

为调整经济布局,探索新的经济增长点,2017年沙特阿拉伯政府提出在沙特西北部修建一座崭新的城市——红海新城。红海新城全部用当地的新能源供电,致力于打造绿色低碳城市。红海新城建设进度较为缓慢。图9示意红海新城的位置。



图9

- (1)分析将红海新城打造成绿色低碳城市的有利条件。(6分)
- (2)说明红海新城的建设对沙特阿拉伯调整经济布局的积极意义。(4分)
- (3)推测红海新城建设进度较慢的原因。(6分)

密封线内不要答题

## 关于我们

自主选拔在线是致力于提供新高考生涯规划、强基计划、综合评价、三位一体、学科竞赛等政策资讯的升学服务平台。总部坐落于北京，旗下拥有网站（[网址: www.zizzs.com](http://www.zizzs.com)）和微信公众平台等媒体矩阵，用户群体涵盖全国90%以上的重点中学师生及家长，在全国新高考、自主选拔领域首屈一指。

如需第一时间获取相关资讯及备考指南，请关注**自主选拔在线**官方微信号：**zizzsw**。



 微信搜一搜

 自主选拔在线