



菁师联盟 2023 届 12 月质量监测考试

文科综合

试卷满分:300分 考试时间:150分钟

注意事项:

- 答卷前,考生务必将自己的姓名、准考证号等填写在答题卡和试卷指定位置上。
- 回答选择题时,选出每小题答案后,用铅笔把答题卡上对应题目的答案标号涂黑。如需改动,用橡皮擦干净后,再选涂其他答案标号。回答非选择题时,将答案写在答题卡上。写在本试卷上无效。
- 考试结束后,将本试卷和答题卡一并交回。

一、选择题:本题共35小题,每小题4分,共140分。在每小题给出的四个选项中,只有一项是符合题目要求的。

摩尔曼斯克(68°59'N, 33°08'E)是北冰洋沿岸的不冻港,每年有较长时间的极昼、极夜。2022年12月2日摩尔曼斯克出现极夜现象。据此完成1~3题。

- 该日,摩尔曼斯克正午太阳高度为
A. 22° B. 34° C. 0° D. 5°
- 该日之后,摩尔曼斯克居民重见天日的那一天,大概是
A. 12月20日左右 B. 12月30日左右
C. 来年1月22日左右 D. 来年1月10日左右
- 当地居民发现,摩尔曼斯克的极昼期长于极夜期,其原因可能是
A. 地球在近日点、远日点公转速度不同 B. 摩尔曼斯克冬、夏半年积雪厚度不同
C. 极昼和极夜结束时太阳方位不同 D. 太阳东升西落的角、线速度不同

我国西北干旱区分布着以荒漠为景观基质、以绿洲为景观镶嵌的基本地表格局。该地表格局形成的良好小气候环境,是绿洲生态系统发展的摇篮。金塔绿洲位于甘肃省酒泉东北部,地处源于祁连山北大河下游的冲(洪)积扇上。有关科研人员在金塔绿洲进行了沙漠绿洲环流的观测与研究。图1示意金塔绿洲范围及观测点位置,表1为某年8月1日17:45在甲、乙观测点观测到的风向角(以北方为基准,顺时针旋转的角度就为风向角)统计表。据此完成4~6题。

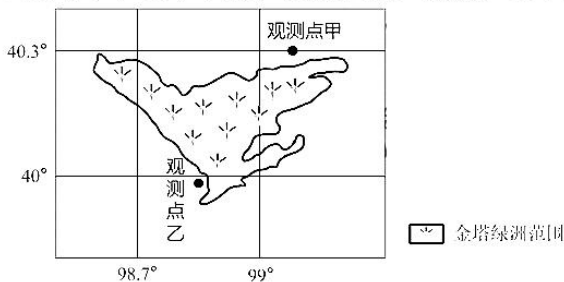


图1
表1

观测点	观测时间	风向角	风速(m/s)
甲	8月1日	135°~180°	1.0
乙	8月1日	0.28°	2.5

- 8月1日17:45,金塔绿洲气压状况是
A. 高于周围沙漠 B. 低于周围沙漠 C. 南高北低 D. 西高东低

座位号
考场号
姓名
班级
学校

5. 8月1日17:45观测到的金塔沙漠绿洲环流,具有的生态意义是
- A.增加空气湿度,补给灌溉水源
B.加快河流流速,扩大流域面积
C.利于植物生长,形成人工林带
D.抑制沙漠拓展,减小昼夜温差
6. 金塔沙漠绿洲环流带来绿洲的“冷岛效应”,其主要原因是
- A.沙漠阻挡寒潮前行
B.绿洲带来大量降水
C.绿洲上空存在逆温层
D.周围沙漠引发沙尘暴

西延高铁线路全长约300千米,设计时速350千米,预计2025年开通运营。西延高铁开通后,西安至延安的运行时间将缩短至1小时左右。西延与西十(西安—十堰)、西康(西安—安康)三条高铁建成投入运营后,将形成以西安为中心的1小时生活圈。图2示意西延高铁线路和主要站点分布。据此完成7~8题。

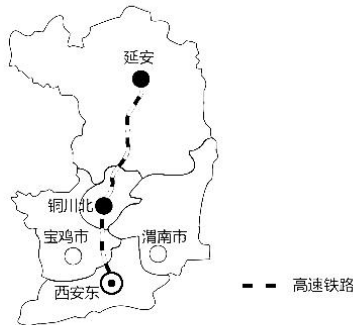


图2

7. 修筑西延高速铁路面临的地形障碍是
- A.大型断裂构造广布
B.黄土高原千沟万壑
C.裸露岩层质地坚硬
D.河流侵蚀地貌发育
8. 西延高速铁路建设的重要意义有
- ①推进西部大开发战略实施
②助力沿途旅游资源开发,加快革命老区乡村振兴步伐
③提升西安省会城市辐射带动作用,推动陕西省区域协调发展
④利于生态环境的治理与修复
- A. ①②④
B. ①③④
C. ①②③
D. ②③④

目前,中国汽车制造中心在上海,上海汽车制造上市企业收入占全国将近一半,其他区域的汽车制造集中度也进一步提升。北部区域从东三省(主要是长春、沈阳)向河北、北京集聚,中部区域向湖北、重庆集聚,南部区域向广东集聚。目前,汽车制造业已经跃升至湖北第一大产业(东风),也是河北(长城)、广东(广汽)的支柱产业之一。据此完成9~11题。

9. 上海市作为中国汽车制造中心的区位优势是
- A.工业发达,资金雄厚
B.信息通畅,科技发达
C.服务水平高,产业链长
D.商贸业繁荣,交通便利
10. 目前,我国汽车制造业的空间布局趋于
- A.线状交织,带状延伸
B.点状布局,面状拓展
C.大分散、小集聚
D.小分散、大集聚
11. 我国汽车制造业趋于的理想区位是
- A.工业基础雄厚,生产协作条件好
B.劳动力工资水平低,生产利润高
C.政府支持力度大,优惠政策诸多
D.重化工业发达,能源供应较充足
12. 2022年11月16日,银行间外汇市场人民币对美元汇率中间价报7.0363元,较前值调升58个基点,实现“四连升”,四个交易日累计调升2059个基点。若不考虑其它因素,这一变化趋势给我国带来的影响可能有
- ①出口企业的商品优势增强,扩大出口
②国外游客入境旅游留学消费大幅增长
③我国企业“走出去”,增加对外投资
④扩大进口,供给增加,满足人民需求
- A. ①②
B. ③④
C. ②④
D. ①③
13. 2022年11月,稳经济一揽子政策和接续措施加快落地见效。中国人民银行开展1720亿元逆回购操作,充分满足金融机构需求;国家税务总局进一步延长制造业缓税补缴期限,加力助企纾困;各地政府加快专项债发行,提速重点项目建设;央行宣布于12月5日降

低金融机构存款准备金率0.25个百分点。据此判断，以下推导合理的是

- ①实施积极财政政策→加快专项债发行→降低企业融资成本→扩大社会投资
- ②延长制造业缓税补缴期限→有序增加市场流动性→加快货币流通速度→降低物价水平
- ③开展逆回购操作→保持流动性合理充裕→金融机构加大信贷投放→支持实体经济发展
- ④实施稳健货币政策→降低金融机构存款准备金率→企业融资更容易→利于经济持续向好

A. ①② B. ①③ C. ②④ D. ③④

14. 国家《“十四五”促进中小企业发展规划》和《“十四五”数字经济发展规划》均明确提出了促进中小企业数字化转型的战略部署。中小企业可以利用数字技术对采购、生产、营销等环节产生的海量数据进行收集和加工，优化生产过程。中小企业数字化转型能够

- ①基于用户实际，不断提高企业产品的价值
- ②更好满足消费者的需求，助力国内大循环
- ③降低企业的生产经营成本，提升竞争优势
- ④降低企业经营风险，提高企业的经济效益

A. ①② B. ②③ C. ①④ D. ③④

15. 莆田双福村抓住城乡融合发展的大趋势，加快挖掘古荔枝树林资源，同时串联其他资源，打造一条乡村体验式旅游路线，集荔枝采摘、水上观光、研学休闲于一体，吸引城市人群到乡村消费，反哺“三农”。目前，该村已成为省级“乡村振兴试点村”。该地的做法

- ①把协调发展作为引领当地发展的第一动力
- ②加快产业融合，积极探索乡村振兴新路径
- ③统筹全域要素，加快了农业农村现代化步伐
- ④通过改变农村基本经营制度，壮大了集体经济

A. ①② B. ①④ C. ②③ D. ③④

16. 习近平总书记在党的二十大报告中指出“发展全过程人民民主，保障人民当家作主”。江苏省人大常委会不断推动基层立法联系点工作制度化、规范化，将基层立法联系点扩充到20个，仅2021年，这些联系点共参与了23个立法项目的调研活动，基层群众一些科学合理的意见建议被吸纳、体现在法规制度设计中。基层立法联系点制度

- ①能确保人大代表依法履职，参加行使国家权力
- ②是表达民意的创新机制，有利于促进立法民主化
- ③丰富了全过程人民民主，保证国家机关协调高效运转
- ④有利于保障人民群众的知情权、参与权、表达权和监督权

A. ①② B. ①③ C. ②④ D. ③④

17. 2022年9月23日，全国政协召开双周协商座谈会，邀请部分全国政协委员、专家学者围绕“充分发挥职业教育在乡村振兴中的作用”协商议政，为职业教育赋能乡村振兴建言资政、凝聚共识。11位政协委员和专家学者在会上发言，126位委员在全国政协委员履职平台上发表意见。以下说法正确的是

- ①人民政协发挥界别优势，推进国家治理现代化
- ②各民主党派通过协商议政，全面推进乡村振兴
- ③人民政协通过科学民主决策，参与管理国家事务
- ④政协委员聚焦社会热点问题，积极建言献策

A. ①③ B. ②④ C. ②③ D. ①④

18. 2022年11月3日, 国家主席习近平在人民大会堂同来华进行国事访问的坦桑尼亚总统哈桑举行会谈。两国元首宣布, 将中坦关系提升为全面战略合作伙伴关系。中坦友好关系是中非友好合作关系的缩影, 中国愿本着“真、实、亲、诚”理念, 帮助非洲朋友实现共同发展, 构建新时代中非命运共同体。材料表明
- ①维护和平、促进发展符合中坦人民的根本利益
②中坦之间全面战略合作伙伴关系取代了竞争关系
③共同利益是中坦国家对外活动的出发点和落脚点
④中非合作能为实现中国式现代化营造有利国际环境
- A. ①② B. ①④ C. ②③ D. ③④
19. 贵州台江县积极开展苗族非遗文化进校园活动, 聘请民间艺人、非遗传承人到学校给孩子们上课, 并组织设计关于苗族文化形式多样的活动, 让孩子们通过学习传统的苗族舞蹈、飞歌, 切身感受苗族文化的魅力, 在寓教于乐中弘扬民族文化。这一作法
- ①有利于挖掘苗族优秀传统文化的育人功能
②丰富了苗族文化内涵, 创新苗族文化表达方式
③能增强学生的文化自信和民族自豪感
④将传统与现代的统一作为文化发展的动力
- A. ①② B. ②④ C. ①③ D. ③④
20. 《中国考古大会》栏目通过“VR 扩展呈现”等技术手段, 将演播室打造成裸眼 3D 的考古现场, 真实还原考古现场环境与场景, 让观众沉浸式体验考古工作; 积极开展大小屏互动与衍生内容的开发, 联合新媒体平台, 同步推出“线上考古”知识问答等活动, 成为一档观众喜闻乐见的电视节目。《中国考古大会》栏目的成功启示我们
- ①文艺创作要在传承的基础上积极融入创新元素
②文艺工作者作为文化创造的主体要以人民为中心
③人民是创作的源泉, 要坚持服务实践的创作导向
④文化创新要关注人民群众的精神文化需求
- A. ①② B. ②③ C. ①④ D. ③④
21. 2022年11月16日, 中国和印度尼西亚合作建设的雅万高铁首次试验运行取得了圆满成功。通车后, 雅加达和万隆两地的出行时间将缩短至40分钟, 两地4000万左右人口就相当于生活在一个城市里, 带来的人流、物流、信息流将对印尼社会资源的流动、经济社会的发展起到有力的推动作用。材料表明
- ①人类可以根据主观需要建立新的积极的联系
②雅万高铁的建设体现了人类实践具有能动性
③处在主客观交汇点上的创新是高铁成功的关键
④部分的功能及其变化会影响整体的功能
- A. ①② B. ①③
C. ②④ D. ③④
22. 图3漫画启示我们
- ①主要矛盾决定事物的发展, 要抓主要矛盾
②要把事物的变化控制在一定度的范围内
③具体问题具体分析是解决矛盾的关键
④把握联系多样性有助于我们正确认识事物
- A. ①② B. ②③
C. ③④ D. ①④
23. 噪声污染防治是重要民生问题, 人民群众对相关法律法规的修定和实施充满期待。十三届全



图3

密
封
线

人大常委会于2021年12月24日通过了《中华人民共和国噪声污染防治法》，2022年6月5日起施行。新法定义的噪声污染，对噪声污染行为的判定提供了更全面的法律标准，构建了社会共治的噪声污染防治责任体系。从历史唯物主义角度看，这一法律的出台体现了

- ①社会意识总是先于社会存在的发展变化而变化
②生产关系的变革对社会经济的发展起促进作用
③法治改革是社会主义制度的自我完善和发展
④上层建筑一定要适合经济基础是社会发展的规律

A. ①② B. ①④ C. ②③ D. ③④

24. 据《史记·殷本纪》所载，从开国之君成汤到亡国之君帝辛共17代30王其中以弟继兄为王者有外丙、仲壬等14王。以子继父为王者有沃丁、小帝辛等10王。可见，“有殷一代，继王位者，弟为多数，兄为少数。弟之继位有两种情况，一是继父之位，一是继兄之位”。这反映出

- A. 禅让制度的长期影响 B. 王位继承方式存在隐患
C. 家天下观念受到挑战 D. 血缘纽带关系渐趋弱化

25. 《春秋繁露·王道》提出：“《春秋》何贵乎元而言之？元者，始也，言本正也；道，王道也；王者，人之始也。王正则元气和顺，风雨时，景星见，黄龙下；王不正则上天，贼气并见。五帝三王之治天下，不敢有君民之心。”这一主张

- A. 表达了民本思想观念 B. 蕴含了君臣平等意识
C. 构筑出君权神授体系 D. 根植于久远历史传统

26. 表2是唐宋时期常科设置情况的变化表。这一变化有助于宋代

表2

唐	北宋前期	北宋中期以后
秀才	进士	进士
进士		
明经	明经	
明法	诸科	
明书		
明算		

注：明法科主要考查专门的法令知识，明书科的考试内容以文字学为主、兼及书法，明算科用以选拔数学专才。

- A. 提高人才的选拔标准 B. 遏制地方的割据势力
C. 士大夫文化素养提升 D. 规范科举录取的途径

27. 清代，梅菪镇出现槟榔行、木履行、打铁街等等，而且这并不局限于梅菪镇，雷州府海康县甚至在明代就出现猪羊市、鸡鹅市、鱼盐市、米穀市、槟榔市、布帛市等。这一现象反映出当时

- A. 市镇经济实现长足发展 B. 专业性市场的发展
C. 重农抑商政策渐趋松弛 D. 长途贩运贸易发达

28. 厘金是清王朝于1853年对几乎所有商品开征的一种商品贸易税。所谓“厘金”主要是对过境商品进行征收。厘金最滥时期，全国厘卡一万多处，密集地区，几十里地就设置多个厘卡，过境商品层层扒皮。货物逢关抽厘，税率较高且重复征收。厘金的实施

- A. 抵制了外国商品的倾销 B. 阻碍了国内统一市场发育
C. 瓦解了传统的自然经济 D. 冲击了清政府的海禁政策

29. 1901年,梁启超在《南海康先生传》中提出,其师康有为是“孔教之马丁·路得”。然而以康、梁为代表的维新人士在提到路德时,几乎都是集中于对路德个人事迹的论述和对其勇气的称赞。由此推知

- A. 改良主张缺乏群众基础
B. 制度改革难以深入人心
C. 国人抵触西方思想传播
D. 维新变法具有空想色彩

30. 图4是中国国民党国民革命军第一军政邮部刊行的漫画《民众的力量》。漫画中,愤怒的民众正将象征“民众的力量”的巨棒狠狠打向“帝国主义”和“军阀”,把他们的帽子都打飞了;后面还有很多民众手举棍棒、标语牌,摇旗呐喊,如潮水般赶来,标语牌上写着“农工兵商学大联合”、“联合起来打倒军阀及一切帝国主义”。该漫画反映了当时



图4

- A. 社会主要矛盾发生变化
B. 我党的群众工作效果明显
C. 革命统一战线逐渐形成
D. 广大民众反帝反封建的力量

31. 罗纳德·基思认为,周恩来坚持不与任何一个超级大国建立牢固的联合,既表明了中国的正义立场,又是“一种战略方针”,它使中国得到更大的战略选择余地,改变了不平等的国际政治结构。该学者意在强调新中国

- A. 逐渐摆脱意识形态束缚
B. 注重维护弱小国家利益
C. 寻求冲破美国外交封锁
D. 奉行独立自主外交政策

32. “没有一个人与其自我的相像会赶上所有人之间的相互相像。因此,无论我们会怎样界定人,一个定义就足以运用于全体。这就充分证明,人与人之间没有类的差别。”既然人与人之间没有什么不同,那么根据理性制定出的法律也应平等地适用于每一个人。该观点反映了古代罗马

- A. 保护私有财产观念
B. 法律面前人人平等
C. 缺乏客观统一标准
D. 自然法的思想主张

33. 列宁指出:“各区普选选出的城市代表组成的,其中大多数自然都是工人,或者是公认的工人阶级的代表”。与资产阶级议会制共和国限制并压抑群众的独立的政治生活相反,巴黎公社是“让群众自下而上地直接参加全部国家生活的民主建设”。这说明巴黎公社的贡献在于

- A. 促进马克思主义传播
B. 发挥全体民众积极性
C. 推动普选制度合法化
D. 扩大民主政治的范围

34. 1936年9月,罗斯福谈到通货膨胀问题时认为,支撑美国前进的两个动力是城市居民工资以及农民的购买力,由此引发的关于劳资关系的争论是“自由人之间的平等关系”而不是“阶级关系”,而该矛盾是美国应对经济危机的关键。罗斯福的这一观点

- A. 致使生产相对过剩加剧
B. 基于应对经济危机冲击
C. 试图缓和劳资矛盾问题
D. 旨在维护资产阶级利益

35. 19世纪后期,美国资本主义经济迅速发展,形成垄断资本,控制国家政权,且已实行两党制,总统和各州州长选举均为两党竞选产生,民主党与共和党各自拉拢选票,不惜重金收买以实现胜选,两党互相攻击、造谣中伤。当时的美国作家马克·吐温的作品揭示这一全过程。这一类型的文学作品

- A. 突出工业化带来的危害
B. 叙述内容均为客观事实
C. 注重细节描写的真实性
D. 带有强烈的反传统色彩

二、非选择题：共160分。第36~42题为必考题，每个试题考生都必须作答。第43~47题为选考题，考生根据要求作答。

(一) 必考题：135分。

36. 阅读图文材料，完成下列要求。(24分)

中国历史文化名村是指保存文物特别丰富、具有重大历史价值或纪念意义，能够较完整地反映历史时期传统风貌和地方民族特色的村落。进入21世纪，尤其在2003年中国第一批历史文化名村评选后，历史文化名村空间分布成为主要的研究内容。图5为各省级行政区中国历史文化名村分布数量图。

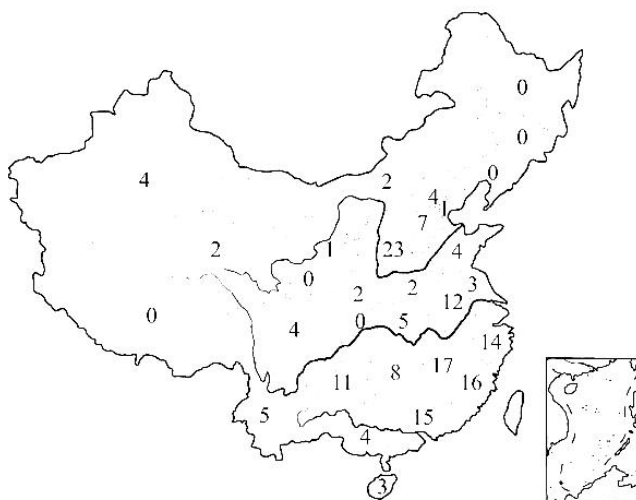


图5

- (1) 描述中国历史文化名村的空间分布特点。(6分)
- (2) 山西省历史文化名村数量最多，就此作出合理解释。(6分)
- (3) 中国历史文化名村多沿河分布，分析其主要原因。(6分)
- (4) 有专家认为，大部分历史文化名村距离主要交通干线较远，交通不够便利，恰恰因这一点使历史文化名村保留至今。你是否同意这一观点，请表明态度并阐述理由。(6分)



37. 阅读图文材料，完成下列要求。(22分)

世界洋流在促进高低纬度间的水热交换中起着重要作用，也影响着沿岸气候。图6为澳大利亚以东海域洋流分布图。

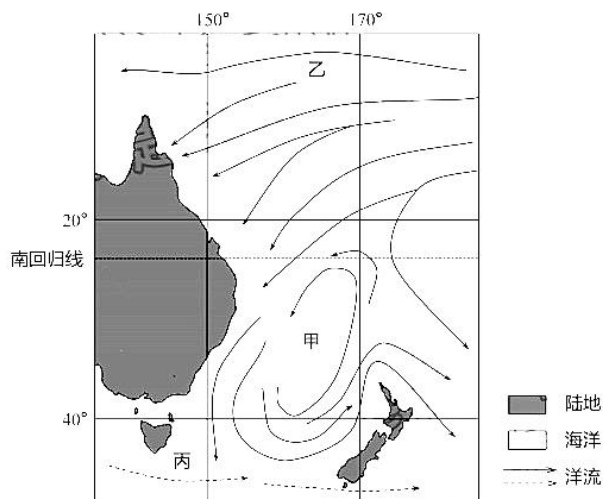


图6

- (1) 甲海域洋流呈逆时针流动，就此作出合理解释。(4分)
- (2) 阐释甲海域洋流对澳大利亚东部气候的影响。(4分)
- (3) 比较乙、丙洋流在成因和性质方面的相似与不同。(8分)
- (4) 推测丙洋流势力的季节变化特点并解释原因。(6分)



38. 阅读材料，完成下列要求。(14分)

材料一 根据统计，我国已实现了“带动三亿人参与冰雪运动”的目标，全国冰雪运动参与人数达到3.46亿人，居民参与率达到24.56%。在《冰雪运动发展规划（2016-2025年）》和《国冰雪场地设施建设规划（2016-2022）》等政策的支持下，2021年我国冰雪行业市场规模为5788亿元，较2020年增涨了50.56%。

2016-2021 中国冰雪行业市场规模(单位:亿元)



图7

材料二 2022年9月1日，国际冬季运动（北京）博览会在北京开幕。今年冬博会延续“冰雪力量”主题，在后冬奥时代，通过对全球冰雪资源的充分整合以及国际间交流合作的持续加强，全面推进冰雪产业的可持续发展，促进中国与世界交流，为全球冬季运动以及冰雪产业创造更多价值。

冰雪产业是高消费、高就业、高速度、高效应的新型综合性产业，涵盖冰雪旅游、冰雪艺术、冰雪体育、冰雪贸易、冰雪设施、冰雪运动等方面，是一个具有多体系、多门类、多系列的新兴产业。冰雪产业以冰雪旅游业为核心，三大产业协调发展，是具有高经济辐射力和强带动作用的高附加值产业，具有无污染性，是保证经济快速发展与可持续发展的天然调和剂和润滑油之一。随着时代发展和社会进步，人民生活水平不断提高，越来越多的人都参与到冰雪运动中去，享受冰雪文化带来的乐趣，冰雪旅游、冰雪运动成为人民提高生活质量、追求美好生活的休闲娱乐和消费方式之一。

(1) 材料一反映了哪些信息？(4分)

(2) 结合材料二，运用经济生活知识分析，发展冰雪产业对我国经济社会高质量发展的重要意义。(10分)



39. 阅读材料，完成下列要求。(12分)

党的二十大报告指出，健全共建共治共享的社会治理制度，提升社会治理效能。社区是社会治理的末梢，是服务群众的最前沿。近年来，南京市雨花台区西善桥街道社区治理工作成效突出，引起社会广泛关注。西善桥街道的基层社区以党建为核心，居民为中心，需求为导向，有效发挥社会组织的专业支撑，居民志愿者的积极参与，以及基金会等慈善资源的及时融入，充分激活了社区中的“沉睡社会力量”。齐修社区的“星级楼层评比”项目，引导居民参与，实现了居民从“袖手看”到“拍手赞”，再到“跟着干”的转变；古遗井社区的“‘三力’文化发展提升居民凝聚力”项目，将文化队伍角色由“划桨者”变为“掌舵者”，在社区融合中穿针引线；明义社区的“明商会，惠民商”融商项目，集合多方优势，通过各项服务支持商圈经济发展，进而激发商圈反哺社区，助推社区治理。

结合材料，运用政治生活知识，分析该地是如何提升社会治理效能的。(12分)

40. 阅读材料，完成下列要求。(26分)

材料一 水利是农业的命脉。由于地理原因，河南林县长年干旱少雨，水资源极度匮乏，上世纪60年代，逐渐摸清大自然“脾气”的林县人民，正式开始了与大自然抗争的艰难历程。10万林县人民以“重新安排林县河山”的决心，凭着革命乐观主义精神，苦战十个春秋，在太行山悬崖峭壁上修成了总干渠全长70.6公里的“人工天河”——红旗渠，结束了林县十年九旱、水贵如油的苦难历史，形成了“自力更生、艰苦创业、团结协作、无私奉献”的红旗渠精神。习近平总书记在河南安阳林州市红旗渠考察时指出，红旗渠就是纪念碑，记载了林县人不认命、不服输、敢于战天斗地的英雄气概；红旗渠精神永在！要用红旗渠精神教育人民特别是广大青少年，社会主义是拼出来、干出来、拿命换来的，不仅过去如此，新时代也是如此。

材料二 20世纪80年代，在红旗渠精神激励下，“十万大军出太行”，林县能工巧匠凭着自己的精湛技术和敢闯敢拼、吃苦耐劳的精神，树立了响当当的建筑品牌，为林县人打开了脱贫致富的新路子。20世纪90年代，在外成功创业的林州（林县1994年成为林州市）建筑企业家，带着先进的理念、资金和项目返乡再创业，成就了“十万大军富太行”的佳话。进入新时代以来，红旗渠精神激励“十万大军美太行”，林州市委市政府以满足林州人

民的美好生活需要为使命，注重创新推进工业转型升级、注重集约统筹推进城乡协调发展、注重生态和谐建设美丽林州、注重改善民生增进人民福祉。

(1) 结合材料一并运用“意识的作用”知识，谈谈你对“红旗渠就是纪念碑，红旗渠精神永在”的理解。(10分)

(2) 结合材料二并运用文化生活知识，分析继承和弘扬红旗渠精神的时代价值。(10分)

(3) 假设你所在的学校将利用新学期开展“继承和弘扬红旗渠精神，争做优秀青少年”主题教育活动，请你设计富有特色的教育活动形式，并说明活动的具体意义。(字数在200字以内)(6分)

41. 阅读材料，完成下列要求。(25分)

材料一 镇江地处长江与京杭大运河这两条“黄金水道”的交汇点，又以其地处丘陵、且山脉横贯的地理优势，向为兵家必争之地。六朝以来，镇江作为“东南锁钥”，身为军事要塞却并不封闭，反倒孕育着一定的开放性和包容性，北方移民和驻军涌入使其迅速繁荣。明清时期，朝廷以漕运替代海运，镇江府漕运发展到顶峰。除了官方的漕运，地处商品经济活跃的江南地区，镇江开始作为中转商港而繁盛，沟通起各个方向的人流、物流、信息流。在旧府城西门外沿江沿河地带（今京口闸）附近建立起的商贸中心，即日后的西津渡，奠定了开埠前镇江港埠区域的空间格局。在鸦片战争前夕，镇江虽常驻副都统一员，但多以商业和文化的繁荣闻名于世。

——摘编自陈文彬《城市节奏的演进与近代上海公共交通的结构变迁》

材料二 19世纪五六十年代，西方列强为了直接介入内陆的中国市场，通过发动第二次鸦片战争迫使清政府开放了一批内河的通商口岸，其中就包括1858年《天津条约》中所规定的镇江的开埠。镇江开埠后，在封建势力的打压和西方资本的蚕食下，长三角地区的铁路修筑较为落后，交通结构近代化显得步履维艰。进入20世纪，随着卢汉铁路（京汉铁路）、粤汉铁路及其附属路段的兴建，中国南北运输的动脉被打通；而津浦铁路与沪宁、沪杭铁路的贯通更是彻底地改变了千年来的贸易路线，极大地影响了途径区域城市的盛衰消长，镇江货物聚散码头的功能开始弱化，商业日渐凋敝。从1912年到1927年间，江浙地区的运河疏于治理，江南运河北段（即镇江段）淤塞甚多。

——摘编自张志毅《近代历史文化名城镇江概略》

(1) 根据材料一并结合所学知识，概括古代镇江城市功能的变化，并分析这一变化的主要原因。(12分)

(2) 根据材料一、二并结合所学知识，指出近代镇江城市发展的影响因素，并简析镇江城市变迁的历史启示。(13分)

42. 阅读材料，完成下列要求。(12分)

材料 作为中国一门重要学科，冷战国际史研究主要聚焦以下三个方面。

表3

领域	具体表现
美苏关系	在对这一关系研究的过程中，从之前的美苏国家利益和意识形态的对焦研究，逐渐转向如何从欧亚冷战的同步性来考察美苏冷战战略的出台，是目前研究需要拓展的，它将进一步深化人们对冷战起源的认识
集团对抗	从先前的苏美争霸促成两大阵营的形成，逐渐深入到社会主义和资本主义各自阵营中的盟国关系如何影响冷战进程，如何加强两大阵营的对比研究，是同盟研究的发展所在
第三世界	从之前涉及较少，到当今强调摆脱殖民主义的不发达国家很多都诞生于冷战格局之中，这些国家挣脱大国控制的方式决定了冷战格局由两极向多极的过渡，对冷战中第三世界的关注有助于理解冷战的终结

——摘编自樊百玉《冷战国际史的研究视角》

根据材料并结合世界现代史知识，就材料整体或其中任意一点拟定一个论题，并予以阐述。(要求：论题明确，持论有据，论证充分，表达清晰。)(12分)



(二) 选考题, 共25分。请考生从2道地理题, 3道历史题中每科任选一题作答。如果多做, 则每科按所做的第一题计分。

43. 旅游地理 (10分)

洞爷湖是位于日本北海道南部的一个圆形的火山口湖, 周围群山环绕, 温泉遍布, 湖中有中岛、观音岛等大小岛屿。绕着洞爷湖还有一座名为“洞爷湖环湖雕刻公园”的野外雕刻公园, 在公园内可以欣赏到以“生命之歌”为主题的58座雕刻作品, 以法国雕刻家的“月之光”为首, 有青铜、大理石、花岗石、不锈钢等各种材质, 雕刻风格丰富多样, 非常精美。春天的樱花、夏天的花海、秋天的红叶、冬天的白雪, 洞爷湖一年四季都有不同景色, 被游客们称为北海道最美的湖泊之一。图8示意美丽的洞爷湖景观。



图8

分析洞爷湖作为旅游景区的美学观赏价值。(10分)

44. 环境保护 (10分)

云南省位于中国西南边陲, 与缅甸、老挝、越南接壤, 国土面积仅占全国的4.1%, 各类群生物物种数均接近或超过全国的50%, 是我国生物多样性最为丰富的省份, 享有“植物王国”“动物王国”“物种基因库”等美誉。云南生物物种数量多, 但分布地域狭窄, 种群规模小、个体数量少, 特化程度高, 适应性差, 一旦被破坏就很难恢复, 因而又是全球34个物种最丰富且受到威胁最大的生物多样性热点地区之一。目前, 云南省生物多样性保护走在全国前列, 成就斐然, 但云南生物多样性仍然受到一定威胁。

分析云南省生物多样性受到威胁的主要原因。(10分)

45. 阅读材料，完成下列要求。(15分)

材料 子产(?—前522)，又字子美，是春秋时期著名的政治家、思想家。当晋、秦争霸时，郑为晋、秦所争。今晋、楚争霸，又为晋、楚所争。国境屡为战场，自襄公以来，几至年年有战事，故其大夫患之。”子产参与郑国政务时，高士奇将此时郑国的时局概括为：“族大宠多，俗淫而侈，又介于晋、楚之间，疆场日骇，民生垫隘，未易以为治。”子产鉴于礼已经无法挽救，故征之于刑书，以法绳之。子产的立法“为民刑程，上下维辑”，没有出现“乱狱滋丰，贿赂并行”之乱象。然明谓子产曰：“毁乡校何如？”子产曰：“何为？夫人朝夕退而游焉，以议执政之善否。其所善者，吾则行之；其所恶者，吾则改之，是吾师也。若之何毁之？我闻忠善以损怨，不闻作威以防怨。岂不遽止？然犹防川：大决所犯，伤人必多，吾不克救也；不如小决使道，不如吾闻而药之也。”

——摘编自姚晓盈《子产的治国理政思想及其践行》

- (1) 根据材料并结合所学知识，分析子产改革的背景。(7分)
- (2) 根据材料并结合所学知识，简述子产改革的作用。(8分)

46. 阅读材料，完成下列要求。(15分)

材料 1939年11月3日，美国修改《中立法》，允许英国以“现款自运”原则购买美国军火。其后，由于英国财政困难，美国于1941年3月11日通过《租借法案》，使英国得到70亿美元贷款购买军火。美英两国领导人在苏德战争爆发后，立即发表声明，表示援助苏联抗德。7月12日，英国同苏联签订了《关于在对德战争中联合行动的决定》。1942年1月1日，正当第二次世界大战扩大的严峻时刻，美国、苏联、中国、英国等26个国家发表了《联合国家宣言》。这份宣言的发表，标志着世界反法西斯联盟的形成。从签字国来看，美国、英国、苏联和中国是单独排在一起，其余26个国家是按照英文大写字母的顺序签字。

——摘编自陈海宏 宋敏忠《世界反法西斯同盟的纲领—〈联合国家宣言〉》

- (1) 根据材料并结合所学知识，概括世界反法西斯联盟建立的过程。(8分)
- (2) 根据材料并结合所学知识，分析世界反法西斯联盟建立的影响。(7分)



47. 阅读材料，完成下列要求。(15分)

材料 1901年1月5日，邓恩铭出生在贵州省。1919年五四运动爆发，邓恩铭投身于汹涌澎湃的学生运动，到济南城内外进行宣传讲演。五四运动后，邓恩铭如饥似渴地阅读《新青年》《每周评论》等。邓恩铭参与讨论通过了中国共产党第一个纲领和中国共产党第一个决议。1922年初，邓恩铭与王尽美等以中共代表的身份赴莫斯科参加远东各国共产党和民族革命团体第一次代表大会，并参加了列宁倡导的“星期六义务劳动”。中共二大以后，在他的领导下，矿区工人很快组织起“矿区工会淄博部”，并建立了淄博矿区第一个党支部——洪山矿区党支部，使淄博矿区的工人运动蓬勃开展起来。1925年2月，邓恩铭与王尽美发动胶济铁路和四方机车厂工人举行全厂大罢工，罢工取得胜利。邓恩铭后因叛徒出卖被捕，1931年4月5日清晨6时慷慨就义，年仅30岁。

——摘编自余玮《邓恩铭：中共一大唯一的少数民族代表》

- (1) 根据材料并结合所学知识，分析邓恩铭的时代贡献。(8分)
- (2) 根据材料并结合所学知识，概括邓恩铭的时代精神。(7分)

关于我们

自主选拔在线是致力于提供新高考生涯规划、强基计划、综合评价、三位一体、学科竞赛等政策资讯的升学服务平台。总部坐落于北京，旗下拥有网站（网址：www.zizzs.com）和微信公众平台等媒体矩阵，用户群体涵盖全国90%以上的重点中学师生及家长，在全国新高考、自主选拔领域首屈一指。如需第一时间获取相关资讯及备考指南，请关注**自主选拔在线**官方微信号：[zizzsw](https://www.zizzs.com)。



微信搜一搜

自主选拔在线