

文科综合试题

注意事项:

1. 答题前, 考生务必用黑色碳素笔将自己的姓名、准考证号、考场号、座位号在答题卡上填写清楚。
2. 每小题选出答案后, 用2B铅笔把答题卡上对应题目的答案标号涂黑。如需改动, 用橡皮擦干净后, 再选涂其他答案标号。在试题卷上作答无效。
3. 考试结束后, 请将本试卷和答题卡一并交回。满分300分, 考试用时150分钟。

一、选择题(本大题共35小题, 每小题4分, 共140分。在每小题给出的四个选项中, 只有一项是符合题目要求的)

上海市临港新片区位于上海东南, 北临浦东航空港, 南接洋山枢纽港, 重点发展先进制造业、现代服务业和战略性新兴产业。近年来, 在国家政策支持下, 中国已成为全球最大的新能源汽车生产和消费国, 2019年某国外知名智能新能源汽车生产企业(甲企业)落户临港新片区, 并实现量产和整车出口, 这是我国首个外商独资整车生产企业。图1示意上海临港新片区及甲企业位置。据此完成1~3题。



上海市临港新片区及甲企业位置示意

图1

1. 上海发展新能源制造业的突出优势是
 - A. 土地资源充足, 土地租金低
 - B. 研发能力强, 新能源丰富
 - C. 国家政策支持, 投资成本低
 - D. 产业基础好, 协作条件好
2. 甲企业选址上海临港新片区的原因是
 - ①劳动力充足
 - ②通江达海, 交通便捷
 - ③政府的政策支持
 - ④能源资源丰富
 - ⑤汽车工业发达, 相关配套产业完善
 - A. ①②③
 - B. ②③⑤
 - C. ②④⑤
 - D. ③④⑤
3. 甲企业进驻中国短期内给我国电动汽车行业带来的影响是

- A. 生产体系更加完善
B. 核心部件供应紧张
C. 技术革命性的提升
D. 国产车受到冲击

某学者利用2020年第七次全国人口普查数据对未来几十年某国人口增长和老龄化趋势进行了预测，发现该国人口负增长比预期更早到来，人口峰值比预期值更低。图2为预测的人口数量。据此完成4~6题。

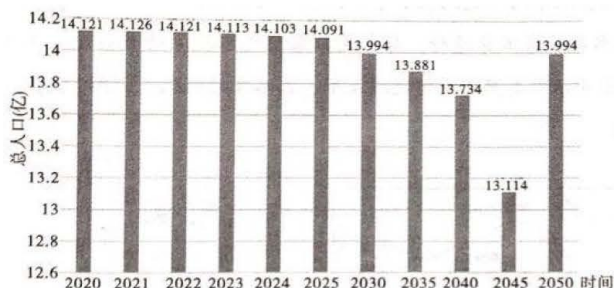


图2 某国目前及预测人口数

4. 人口开始出现负增长的年份为
A. 2020年
B. 2021年
C. 2022年
D. 2030年
5. 未来该国人口最有可能面临的问题是
A. 人口出生率为负值
B. 男女性别比例严重失调
C. 人口老龄化较严重
D. 青少年儿童的比重上升
6. 下列措施中能缓解未来该国人口变化带来的问题是
A. 适当延迟退休年龄
B. 增加就业岗位
C. 大量吸纳海外移民
D. 加快城乡建设

位于长白山西坡海拔2000~2500m的高山苔原，其环境特征与极地苔原相似，植被以多年生小灌木和苔藓地衣为主，小灌木植株矮小，匍匐贴地，强烈分支，交织成网。一般情况下，热量需求越高的植被，吸收养分的能力越强。在全球气候变化的背景下，原先位于较低海拔的草本植物不断上侵，而苔原带原有的灌木开始萎缩退化。图3为草本植物入侵程度与环境因子的关系图。据此完成7~9题。

7. 关于长白山高山苔原带小灌木的生长习性描述正确的是
A. 耐寒 喜光
B. 喜湿 抗风
C. 耐贫 喜温
D. 耐旱 忌风

8. 推断长白山苔原带遭受草本植物入侵程度最高区域的地形地势特点是

- A. 海拔较高、坡度较大
B. 海拔较低、坡度较大
C. 海拔较高、坡度较小
D. 海拔较低、坡度较小

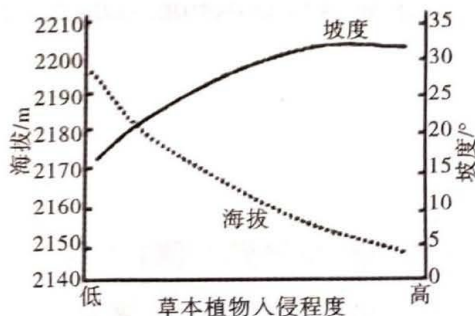
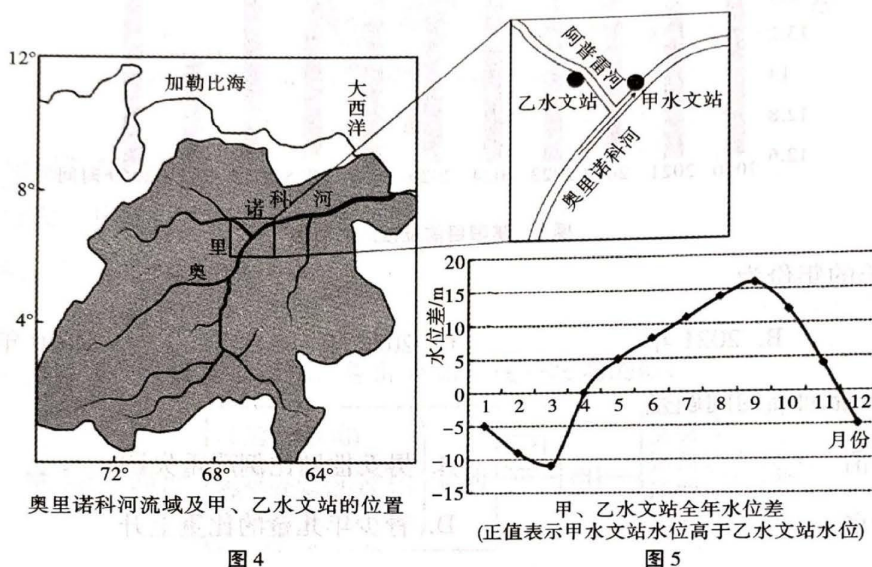


图3

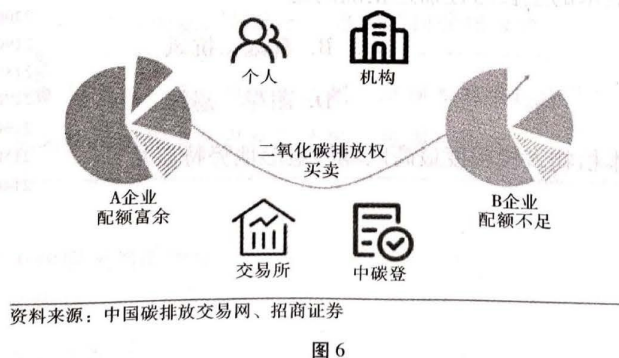
9. 在全球气候变化的背景下，苔原带原有的灌木萎缩退化的原因可能是 _____

- ①气候趋于暖湿
②生存空间缩小
③土壤肥力下降
④冬季积雪变薄
- A. ①②
B. ①③
C. ②③
D. ②④

奥里诺科河支流众多，流量很大，汛期出现河水倒灌支流的现象，下游河段一年中有两次沙峰（合沙量的峰值），第一次沙峰出现在汛期的干支流涨水季节，第二次沙峰出现在汛期后的干流退水期间。奥里诺科河是当地重要交通线，而枯水期航道不易通行，每年定期采用吃水较深的大型耙吸挖泥船对下游河段进行为期1个月的航道疏浚施工。图4示意奥里诺科河流域及甲、乙水文站的位置，图5为甲、乙水文站全年水位差示意图。据此完成10~11题。



10. 奥里诺科河下游河段一年中有两次沙峰，其第二次沙峰的泥沙主要源于
- A. 干流河床 B. 山区沟谷 C. 裸露坡面 D. 支流河床
11. 为保证奥里诺科河下游全年通航，推测当地每年使用大型耙吸挖泥船疏浚航道的最佳施工月份
- A. 12月~次年1月 B. 2月~3月 C. 5月~6月 D. 8月~9月
12. 2023年1月，生态环境部发布的《全国碳排放权交易市场第一个履约周期报告》显示：全国碳市场第一个履约周期碳排放配额累计成交量1.79亿吨，累计成交额76.61亿元，全国碳市场运行框架基本建立，企业减排意识和能力水平得到有效提高，实现了预期目标。图6为碳交易示意图。这表明



- ①二氧化碳排放权作为一种商品，碳排放配额是其价值源泉
- ②二氧化碳排放权作为一种商品，价值实现要通过市场途径

③碳交易形成有效约束激励机制，助力绿色低碳科技革命

④碳交易充分发挥市场机制作用，决定“双碳”目标的实现

A. ①③ B. ①④ C. ②③ D. ②④

13. 某村因地制宜，探索推行“村集体经济组织+其他经济主体”的“1+1”混合发展模式，将村集体经济公司转化为混合所有制企业，由村集体经济控股管理，明确村集体经济组织占股70%，村“两委”成员、党员、群众等自然人占股30%，充分调动了党员群众的积极性，走出了一条加快农业农村现代化、全面推进乡村振兴的新路子。这一发展模式C. ②③

①形成村集体和农户利益共同体，促进共同富裕

②体现股份制是农村集体经济最重要的实现形式

③整合农村资产资源，实现不同所有制资本取长补短

④表明生产要素按贡献分配成为农村的主要分配方式

A. ①③ B. ①④ C. ②③ D. ②④

14. 大规模增值税留抵退税（所谓留抵退税，就是把增值税期末抵扣完的税额退还给纳税人）是2022年组合式税费支持政策的“重头戏”。C市落实新的组合式税费支持政策超750亿元，惠及市场主体140余万户（次）。其中留抵退税约422亿元，89个大类细分行业享受退税红利，行业覆盖面超九成。该举措影响的传导路径是

①减轻市场主体的税费负担 ②拓宽市场主体的融资渠道 ③降低市场主体的经营成本

④激发市场主体的活力 ⑤稳住经济大盘，稳定就业

A. ①→④→③→⑤ B. ③→①→⑤→④

C. ①→③→④→⑤ D. ②→③→⑤→④

15. 2022年我国外贸规模首次突破40万亿元关口，其中出口23.97万亿元，增长10.5%，进口18.1万亿元，增长4.3%。一年来，除了与欧盟、美国等传统贸易伙伴保持经贸往来，我国还利用RCEP生效带来的贸易创造效应积极开拓东盟、非洲、拉丁美洲等新兴市场，推动产业链合作更加紧密。根据以上信息可推测我国

①实施高水平贸易自由化便利化政策

②加快生产要素在全球范围内流动和配置

③实现贸易顺差，出口产品结构不断优化

④坚持市场多元化战略，充分利用国际市场

A. ①③ B. ①④ C. ②③ D. ②④

16. 2022年8月，国家互联网信息办公室发布《数字中国发展报告（2021年）》，贵州省位列数字政府建设水平全国前10名，省级政府网上政务服务水平连续5年居全国前列，3000余个高频事项实现“指尖办、移动查”，“跨省通办”改革经验获国务院第八次大督察通报表扬。贵州省数字政府建设有利于

①促进依法行政 ②便利社会民生服务

③减轻行政管理责任 ④政府职能由管理转向服务

A. ①② B. ①④ C. ②③ D. ③④

17. 昔日的苦窖水变成了甘甜的自来水，过去的土坯房变成了崭新的砖瓦房，高速公路和高铁通到了家门

口，孩子们能就近上好学校，老百姓不用到大城市就他看好病。党的十八大以来，在党中央的亲切关怀和坚强领导下，民族地区3121万贫困人口全部脱贫，民族地区同全国一道打赢了脱贫攻坚战，实现了全面小康，少数民族的面貌、民族地区的面貌、民族关系的面貌发生了历史性变化。这表明

- ①中国共产党的领导是实行民族区域自治制度的前提
- ②平等团结互助和谐的社会主义民族关系进一步巩固
- ③各民族之间经济、文化发展不平衡的状况基本消除
- ④我国坚持民族平等、民族团结和各民族共同繁荣的原则

A. ①② B. ①③ C. ②④ D. ③④

18. 中国是二十国集团的创始国，是二十国集团中最大的发展中国家。自2013年以来，习近平主席出席历次二十国集团峰会，多次围绕“共赢”主张发表重要论述，表明要坚持走开放发展、互利共赢之路的坚定决心，为携手促进世界经济强劲、可持续、包容和平衡增长提供中国方案，为完善全球经济治理贡献中国智慧。这是基于

- ①二十国集团已成为中国参与全球治理的重要平台
- ②中国是公正合理国际新秩序的推动者
- ③中国在全球治理体系中发挥主导作用
- ④人类命运共同体的价值共识已经形成

A. ①② B. ①④ C. ②③ D. ③④

19. 福建土楼是世界文化遗产，某村不断深入挖掘土楼文化内涵，借助客家家训、客家山歌、客家演艺、非遗和传统工艺展示等项目，创新情景表现形式，做活客家土楼文化，丰富乡村旅游业态，打造“一楼一景致、一楼一特色、一楼一主题”的客家特色土楼文化IP，成为网红“打卡地”。材料说明

- ①文化是一个民族生存和发展的精神根基
- ②文化具有服务社会、推动发展的重要功能
- ③文化创新是民族文化永葆生命力的重要保证
- ④文化与经济相互交融成为乡村振兴的关键

A. ①② B. ①④ C. ②③ D. ③④

20. 从商周礼乐到百家争鸣，从汉赋唐诗到宋明理学，从四大发明到农桑稼穡，中华民族数千年的文明江河奔流不息，书写的都是遥遥领先于世界的鼎盛高光。党的二十大报告强调要讲好中国故事、传播好中国声音。增强中华文明传播力影响力

- ①是展现国家形象，增强文化软实力的需要
- ②要坚持文化平等原则，推进文化交流融合
- ③要加强文化建设，强化各国对中华文化的认同
- ④需创新传播内容和手段，提升中华文化吸引力

A. ①② B. ①④ C. ②③ D. ③④

21. 2022年12月26日，中华人民共和国国家卫生健康委员会发布《关于对新型冠状病毒感染实施“乙类乙管”的总体方案》指出，新冠病毒感染将自2023年1月8日起由“乙类甲管”调整为“乙类乙管”，这是我国新冠疫情防控政策的一次重大调整。实施“乙类乙管”后，我国防控工作目标将围绕“保健康、防重症”

采取相应措施，最大程度保护人民群众生命安全和身体健康，最大限度减少疫情对经济社会发展的影响。

由此可见

- ①认识只有不断变化才能正确指导实践
- ②防控政策调整是医学临床实践的目的
- ③意识活动具有自觉选择性和能动创造性
- ④社会实践的需要是认识发展变化的动因

A. ①② B. ①③ C. ②④ D. ③④

22. 当今世界正在经历百年未有之大变局。这场变局不限于一时一事、一国一域，而是深刻而宏阔的时代之变。时代之变和世纪疫情相互叠加，世界进入新的动荡变革期，我们要坚定信心、勇毅前行，共创后疫情时代美好世界。这表明

- ①当今世界在新事物和旧事物的交织融合中实现向前发展
- ②后疫情时代世界发展的总趋势是前进性与曲折性的统一
- ③面对挫折与考验，我们要懂得冷静思考、尽力而为
- ④我们要树牢底线思维，勇敢面对前进道路上的挑战

A. ①② B. ①③ C. ②④ D. ③④

23. 2023年央视春晚将目光更多投向身边人、平凡事和朴素情，引发观众的共情共鸣。各行各业的群众代表走上春晚舞台，合唱一曲《早安，阳光》，素不相识却十分默契，振奋人心的和声唱出新征程上的生活交响；歌曲《小哥》用质朴的歌词和朗朗上口的旋律，唱出快递小哥、外卖小哥、司机小哥的心声。从唯物史观的角度看，春晚讴歌平凡的劳动者是因为

- ①人民群众是社会历史的主体和创造者
- ②人民群众是生产方式中最革命的因素
- ③劳动是创造美好生活的根本途径
- ④劳动是实现人生价值的重要前提

A. ①② B. ①③ C. ②④ D. ③④

24. 侯江波在《浅析鼎由食器演变为国之重器的过程及原因》中，分析了青铜鼎从原有的食器到祭祀礼器，最终上升为国器地位。夏划天下为九州，铸九鼎象征九州，示夏王为天下共主，顺应“天命”，国灭则鼎迁。商周把定都建国称“定鼎”。“鼎”的地位如此之高，主要是因为

- A. 鼎的铸造工艺相当复杂 B. 鼎是国家权力的象征
- C. 鼎代表了青铜器制作的最高水平 D. 鼎体现了天下百姓的意愿

25. 赫章可乐西南夷民族墓葬遗址，被列为建国后“贵州考古十大发现”，属古代夜郎时期（战国至西汉成帝年间），考古发现以卷云纹铜柄铁剑、铜剑和铜戈最有特色，表现出高超的技术水平。上述材料反映了

- A. 当时西南地区割据纷争、战争频繁
- B. 夜郎地区与中原地区存在联系
- C. 这些兵器代表了当时最先进的冶金水平
- D. 西南地区长期脱离中央政权的管辖

26. 服饰的历史源远流长，可以上溯至原始社会。《鉴略·三皇纪》记载：“有巢氏以出，袭叶为衣裳。”服饰，是人类文明的标志，还代表着一定时期的文化。图7是《北魏孝文帝出行图》，下列与材料和图片相吻合的历史信息是



图 7

- A. 是对战国“胡服骑射”的继承
 - B. 传承了鲜卑族的服饰、礼仪，并将其发扬光大
 - C. 深受汉文化的影响，顺应了时代潮流
 - D. 是东晋“衣冠南渡”的产物
27. 图8是中国某一时期的地方机构设置示意图。据此可知，这一时期的政治

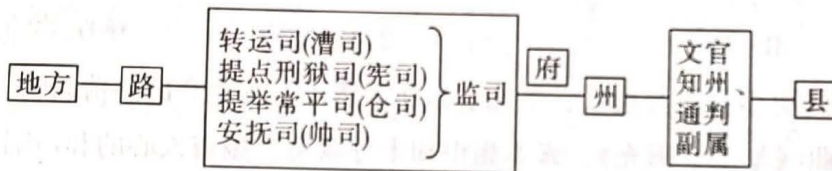


图 8

- A. 充分吸取了隋唐以来藩镇割据的教训
 - B. 国力逐步增强，巩固了国家的大一统
 - C. 分化事权、相互监督，有效加强了君主权力
 - D. 有效改变了先前武将擅权、对抗中央的状况
- 28.

顺治	册封五世达赖“达赖喇嘛”尊号，意思是学问像大海一样的上师
康熙	册封五世班禅“班禅额尔德尼”尊号，意思是精通五明学问的大师
雍正	1727年，设立驻藏大臣，与达赖、班禅共同管理西藏

乾隆	确立金瓶掣签制度。清政府规定达赖、班禅去世后选再选的转世灵童要在驻藏大臣的监督下，从朝廷颁发的金瓶中抽签决定，报朝廷批准
----	--

据表可知，清代

- A. 是西藏地区正式归属中央政府统治的开始
- B. 君主均重视对西藏地区的管理
- C. 促进了东北地区的开发和经济发展
- D. 中央政府基于实际对西藏地区因俗而治

文

29. 翁仕朝著《天下寰球中外交通分五大洲图》，简明清晰，并系史志……自以阅览世界地志为重要人手，自鸦片战争时期，魏源、徐继畲、梁廷楠、姚莹等均循此途，翁氏遗留著作，惟此一种最有贡献。材料说明翁氏著书的主要目的是

- A. 完成自己著述地理著作的愿望
- B. 只引导人们关注世界交通形势
- C. 了解世界，探索新知，寻求强国御侮之道
- D. 发展清王朝的海外及交通事业

30. 图9为中央红军长征示意图，中央红军从江西瑞金出发，一路血雨腥风，突破了敌人的围追堵截，战胜了党内分裂的危机，克服了雪山草地的自然险阻，历经千辛万苦，最后到达陕北，图9所体现的长征精神是



图9

- A. 不怕困难、艰苦奋斗的创业精神
- B. 与时俱进、锐意改革的创新精神
- C. 勇于战斗、无坚不摧的革命英雄主义
- D. 精诚团结、一致对外的民族大义

31. 制作年代尺是学习历史的重要方法，下列关于年代尺相关史实的描述正确的是

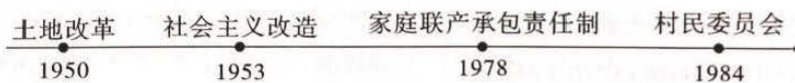


图 10

- A. 都涉及农村经济体制改革
- B. 都调动了广大人民的生产积极性
- C. 都是生产关系的根本性调整
- D. 都推动了基层乡村的发展和建设

32. 自然法首先表现为一种哲学思潮，可在赫拉克利特、苏格拉底、柏拉图以及亚里士德处略见端倪。罗马法学家西塞罗说：“真正的法律乃是一种与自然相符合的正当理性，它具有普遍的适用性并且是不变而永恒的。”根据材料判断下列表述错误的是

- A. 罗马法受到自然法精神的浸润
- B. 自然法精神有穿越时空、超越种族的力量
- C. 万民法体现了自然法，是适用于罗马人的法律
- D. 罗马法体现了统治阶级的意志

33. 这场运动的主要成就使得苏联实现了社会主义工业化，农业也大大地机械化了。第二个五年计划完成时，苏联工业产值较1924年增长了10.7倍，年均增18%，机械动力占农业总动力的66.76，农业产量较1933年增加33%。这些成效的取得

- A. 是利用商品货币关系发展经济的产物
- B. 是把农业与工业等同发展的结果
- C. 是符合苏联国情政策实施的结果
- D. 为苏联卫国战争的胜利提供了有利条件

34. 20世纪50年代，日本颁布了《外资法》等一系列法规，加强了对技术引进的管理，政府有关部门根据不同时期经济发展的需要，列出鼓励进口、放宽引进技术的管理和审查标准，承担引进过程中的一切风险，此举

- A. 适应了日本依据国情制定的内向型经济发展战略
- B. 主要目的是防止出现经济危机
- C. 为二战后日本成为经济大国奠定了基础
- D. 解决了长期困扰的资源短缺问题

35. 美国国际和平基金会欧洲研究所学者锡南·乌尔根表示，面对人们对全球化的不满情绪，政策制定者必须重新构建全球化框架，同时保证促进全球化增长的核心动力始终存在。各国需要花大力气对制定全球治理体制的相关机构进行改革，不仅要减轻全球化造成的负面影响，还要积极增强其正面性。这说明全球化

- A. 加剧了全球竞争中的利益失衡
- B. 使美国等发达国家的经济逐渐衰退
- C. 对发展中国家而言发展空间极为广阔

D. 更加突出了凯恩斯主义的优势和地位

二、非选择题（共160分，第36~42题为必考题，每个试题考生都必须作答。第43~47题为选考题，考生根据要求作答。把答案填写在答题卡上相应的位置，在试题卷上作答无效）

（一）必考题（共7小题，共135分）

36.（22分）阅读图文材料，完成下列要求。

图11是世界某地区示意图，图中阴影部分为该地区某种农作物的主产区。

（1）指出图中阴影部分农产品的类型，并分析该地区利于上述农作物生长的有利气候条件。（6分）

（2）图示地区在发展种植业生产中主要存在哪些问题？其解决措施是什么？（8分）

（3）有农业专家预言，图示地区该种农作物种植业将出现危机。你是否赞同这一观点并说明理由。（8分）

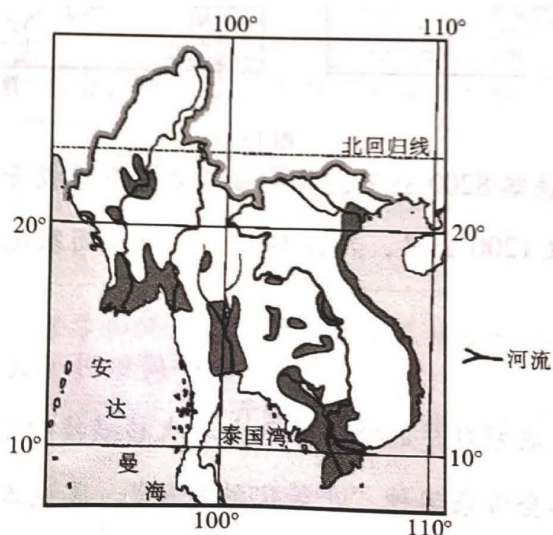


图 11

37.（24分）阅读图文材料，完成下列要求。

海雾是发生在海洋上、岸滨地区或岛屿上空低层大气的一种凝结现象，大量水滴或冰晶悬浮于大气边界层中。海上大气逆温层是海雾形成、维持和发展的重要条件。我国近海地区常出现以平流冷却雾为主的海雾，其中黄海是海雾发生最为频繁的海区。黄海海雾在每年3月开始逐渐增多，4~7月是频发月份，8月之后海雾明显减少。图12为黄海一次较浓重海雾形成时的天气状况图，西太平洋水汽输入，为此次海雾生成提供了条件。

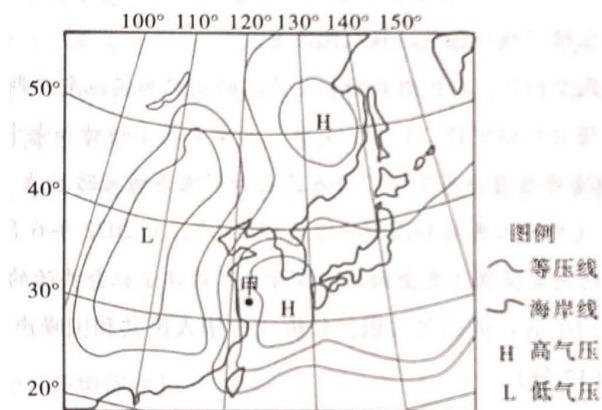


图 12

（1）指出该海区海雾发生的自然条件。（6分）

（2）比较在海雾形成时气—海温度差异，并简述其在海雾形成过程中的作用。（6分）

(3) 此次甲海域发生较浓重海雾天气，描述甲海域海雾的形成过程。(6分)

(4) 分析每年8月之后黄海海雾明显减少的原因。(6分)

38. (14分) 阅读材料，完成下列要求。

党的二十大报告指出，全方位夯实粮食安全根基，牢牢守住十八亿亩耕地红线，逐步把永久基本农田全部建成高标准农田，深入实施种业振兴行动，强化农业科技和装备支撑，健全种粮农民收益保障机制和主产区利益补偿机制，确保中国人的饭碗牢牢端在自己手中。始终绷紧粮食安全这根弦，始终坚持以我为主、立足国内、确保产能、适度进口、科技支撑。确保谷物基本自给、口粮绝对安全，牢牢把住粮食安全主动权，更好满足人民群众日益增长的美好生活需要。树立大食物观，发展设施农业，构建多元化食物供给体系。

结合材料，运用《经济生活》的知识，说明我国应如何保障粮食安全。(14分)

39. (12分) 阅读材料，完成下列要求。

党的二十大报告把发展全过程人民民主确定为中国式现代化本质要求的一项重要内容，强调全过程人民民主是社会主义民主政治的本质属性，对“发展全过程人民民主，保障人民当家作主”作出全面部署、提出明确要求。

中国共产党以自身的生动实践践行全过程人民民主。

噪声污染防治是重要民生问题，人民群众对相关法律的制定和实施充满期待。十三届全国人大常委会深入贯彻习近平总书记“还自然以宁静、和谐、美丽”的重要指示精神和党中央决策部署，积极回应社会对热点问题的关切，于2021年8月公布了《中华人民共和国噪声污染防治法（草案）》并公开征求意见。2021年12月24日通过了《中华人民共和国噪声污染防治法》，自2022年6月5日起施行。新法定义的噪声污染，对噪声污染行为的判定提供了更全面的法律标准，构建了社会共治的噪声污染防治责任体系。

结合材料，运用《政治生活》的相关知识，分析《中华人民共和国噪声污染防治法》的制定是如何体现全过程人民民主的。(12分)

40. (26分) 阅读材料，完成下列要求。

党的二十大报告指出，“中国式现代化是全体人民共同富裕的现代化。共同富裕是中国特色社会主义的本质要求，也是一个长期的历史过程。”

报告提出我国的“共同富裕取得新成效”。近年来，A省在探索解决发展不平衡不充分问题方面取得了明显成效，具备开展共同富裕示范区建设的基础和优势。为推进全国共同富裕提供省域示范。

A省结合本省的实际采取了以下措施推进共同富裕的发展：

一是抓好分配制度的改革。在坚持完善按劳分配为主体，多种分配方式并存的分配制度的同时，制定了相关政策保护合法收入，增加低收入者收入，扩大中等收入者收入，调节过高收入，缩小收入分配差距。二

是在教育、医疗等工作方面，更加注重向农村、基层、欠发达地区倾斜，向困难群众倾斜，促进社会的公平正义。三是以文化为引领，在加强精神文明建设中推进共同富裕，强化社会主义核心价值观的引领作用，满足人民群众的精神文化需要。深挖红色资源。守好“红色根脉”，打造文化遗产品牌。推进高品质精神文化服务体系建设，实现公共文化服务共事均等、促进人民精神生活同步富裕，打造特色文化创新高地。实施文化产业数字化战略，在文化融合发展上不断取得新突破。

(1) 结合材料并运用“矛盾问题的精髓”的相关知识，说明A省是如何建设好共同富裕示范区的。(12分)

(2) 结合材料并运用“中国特色社会主义文化”的知识，分析“A省担负新时代文化使命，全面提升文化软实力”给我们的启示。(10分)

(3) 请就如何弘扬和培育A省精神拟一条宣传标语并指出其哲学依据。(4分)

41. (25分) 交通是社会发展的标志之一，在人类社会的政治、经济和文化发展中有着重要地位。阅读材料，完成下列要求。

材料一

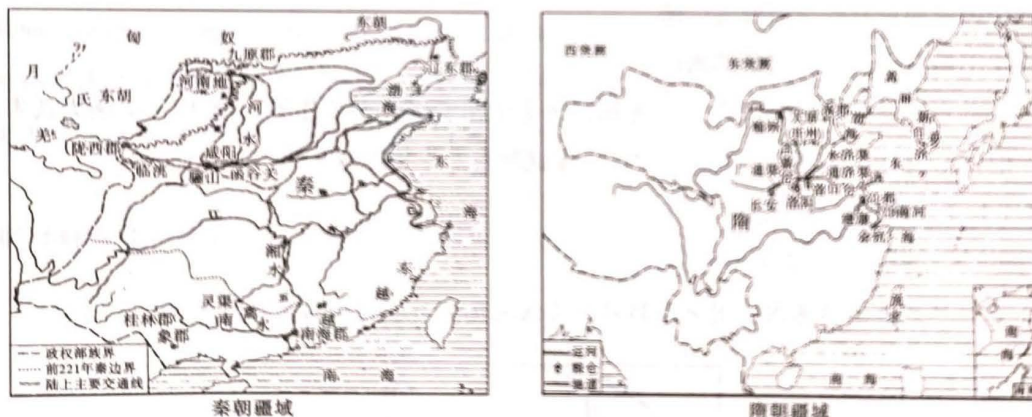


图 13

材料二 至1911年，中国共建铁路8200公里，其中帝国主义直接投资修筑的铁路占46%，贷款建筑的铁路占40%，中国人自建的铁路仅1200公里，只占14%……一些闭塞地区的经济因铁路而活跃，一些古老的城镇因铁路而面目一新。

——周积明《最初的纪年-中国早期现代化研究》

材料三 (英国工业革命期间) 衣冠楚楚的绅士和淑女与衣衫褴褛的下层人民同挤一列火车，还得到处给别人让路。保守人士惊呼，铁路会带来某种“平等化的危险”。民主人士拍手称赞：“我看到这列火车真高兴，我想封建制度是永远一去不返了。”

——选自岳麓版新课程教材《历史》必修二

(1) 根据材料一，概括秦、隋两朝在交通建设方面的主要举措，并结合所学知识对其进行评价。(10分)

(2) 根据材料二, 指出近代中国铁路修筑权具有的特点, 并结合所学知识分析中国近代交通发展的原因。

(8分)

(3) 根据材料三并结合所学知识, 分析英国工业革命中的交通运输变革在社会生活领域及世界经济领域产生的重要影响。(7分)

42. (12分) 阅读材料, 完成下列要求。

材料

社会科学文献出版社 2022 年 5 月新书推荐

- ★ 一部关于启蒙时代的微型百科全书
- ★ 18世纪的欧洲到底发生了什么?



百年启蒙

作者: [德]芭芭拉·施多尔贝格-雷林格

图 14

第1章	欧洲的百年-欧洲国家体制的纷争和基本结构
第2章	经济发展情况与相关理论
第3章	……
第4章	宽容的百年-教会批判、理性宗教、新宗教虔诚
第5章	交际的百年-新的交流方式和媒体
第6章	……
第7章	理性的百年-哲学和科学的问题、方法及组织形式
第8章	改革的百年-自然法理论、开明专制主义和国家的合理化
第9章	革命的百年-起义、反抗和宪法冲突
第10章	……

“启蒙的百年”指的是什么? 启蒙, 究竟有何含义? 用这一概念来定义整个世纪是否恰当? 如此称呼18世纪, 可不是历史学家的发明。生活在当时的杰出人物就已经相信, 他们正处于一个启蒙的年代。

——节选自《百年启蒙》中文版前言

根据材料信息并结合所学世界史知识, 围绕启蒙运动自拟一个论题, 并进行论述。(要求: 论题明确, 史论结合, 史实准确, 表述清晰)(12分)

(二) 选考题 (共5小题, 共25分)

请考生在第43、44两道地理题中任选一题作答; 在第45、46、47三道历史题中任选一题作答。如果多做, 则按所做的第一题计分。作答时用2B铅笔在答题卡上把所选题目的题号涂黑。

43. (10分) 【地理-选修3: 旅游地理】

“打造品牌农业振兴“莓”好乡村”花溪区第三届“花小莓”草莓采摘季开幕式在贵阳市花溪区举行, 4000余亩草莓进入采摘期, 将持续至4月。

草莓园、农家乐里, 采摘草莓, 品尝农家饭……游客络绎不绝, 体验田园生活的乐趣。当前, 贵州省正通过进一步发展赏花经济、发展特色村寨游、开发乡村旅游伴手礼、打造农文旅融合示范样板等措施, 大力促进休闲农业与乡村旅游高质量发展, 激发农业现代化和旅游产业化新动能, 形成农文旅融合发展新格局, 奏响乡村振兴“田园交响曲”。

就目前贵州省“农文旅融合发展”模式, 提出我国乡村旅游发展的具体措施。(10分)

44. (10分) 【地理-选修6: 环境保护】

石漠化是指地表土壤损失、基岩裸露, 土地丧失农业利用价值和生态环境退化的现象。通常情况下山坡因坡度大, 水土流失严重, 石漠化程度比山谷高。云南某小流域山谷低缓, 谷底原生植被多为灌丛, 随着流域人地矛盾加剧, 山谷石漠化比山坡更严重。

与山坡相比, 说明该地山谷石漠化更加严重的原因, 并因地制宜提出山谷石漠化的治理措施。(10分)

45. (15分) 【历史-选修1: 历史上重大改革回眸】赋税是中国古代国家宏观管理经济的重要手段, 是统治者为维护国家机器运转而强制征收的。阅读材料, 完成下列要求。

材料 唐朝中后期由于土地兼并盛行, 失去土地而逃亡的农民增多。农民逃亡, 政府往往责成邻保代纳租庸调, 结果迫使更多的农民逃亡, 租庸调制的维持已经十分困难。公元780年(建中元年), 唐德宗在宰相杨炎的建议和主持下, 对赋税制度进行重大改革。新的税制规定每年分春秋两季征收, 被称为“两税法”。主要内容是按“量出制入”的原则来确定总的税额, 地税征粮, 户税征钱, 原来的租庸调也都折成铜钱并入了户税。规定“户无主客, 以见居为簿”, 承认外来户和选户, 并从法律上承认客户, 而不论他们是自己耕种一块土地, 还是租种别人的土地, 这是对原有户籍制度的一次松动。在租佃制下, 佃农与地主是一种互相依赖的经济契约关系, 他们在法律身份上是平等的。

—摘自吴宗国《中古社会变迁与隋唐史研究》

(1) 根据材料并结合所学知识, 分析唐后期推行两税法的背景。(7分)

(2) 根据材料并结合所学知识, 简析唐后期推行两税法带来的影响。(8分)

46. (15分) 【历史-选修3: 20世纪的战争与和平】石油是一种资源, 同时也是一种商品。它与全球政治、经济实力和国家战略紧密相关。阅读材料, 完成下列要求。

材料一



图15

材料二 1973年10月16日，震撼世界的石油危机爆发。阿拉伯石油生产国为了打击以色列及其支持者，把石油作为捍卫国家主权、收复失地和反对霸权主义的战略武器，成为第三世界反霸斗争的一个伟大创举。阿拉伯各产油国在短短几天内连续采取了三个重要步骤：10月16日，海湾地区的科威特、伊拉克、沙特阿拉伯、卡塔尔、阿联首五个阿拉伯国家和伊朗决定，将海湾地区的原油市场价格提高17%。10月17日，阿尔及利亚、沙特阿拉伯等10国参加的阿拉伯石油输出国组织部长级会议宣布，立即减少石油产量，决定以9月份各成员国的产量为基础，每月递减5%，对于美国等支持以色列侵略的国家的石油供应，逐月减少5%。10月18日，阿拉伯联合酋长国中的阿布扎比酋长国决定完全停止向美国输出石油，接着利比亚、卡塔尔、沙特阿拉伯、阿尔及利亚、科威特、巴林等阿拉伯主要石油生产国也都先后宣布中断向美国出口石油。结果世界市场上每桶石油价格从3美元迅速飙升到21美元，使阿拉伯国家的石油收入由1973年的300亿美元，猛增到1974年的1100亿美元。美国每天的石油进口减少了两百万桶，许多工厂因而关闭停工，正在受到能源危机困扰的美国政府不得不宣布全国处于“紧急状态”，并采取了一系列节省

石油和电力的紧急措施，其中包括：减少班机航次，限制车速，对取暖用油实行配给，星期天关闭全国加油站，禁止和限制户外灯光广告等。

—摘自人民网资料

- (1) 根据材料并结合所学知识，概括阿拉伯等国家以石油为“武器”的原因和实施策略。(8分)
- (2) 根据材料并结合所学知识，说明1973年石油危机对世界格局的影响。(7分)

47. (15分)【历史-选修4：中外历史人物评说】科学家取得的伟大成就与其成长经历息息相关。阅读材料，完成下列要求。

材料 爱因斯坦于1879年3月14日出生于德国乌尔姆市的一个思想开明的重视教育的犹太家庭。他从小

就沉浸在奇思异想当中，有一天，父亲送了一只指南针给卧病在床的爱因斯坦，他深深地被磁针展现出的奇异行为所迷住，这成为他以后对物理学产生浓厚兴趣的原因之一。9岁那年，爱因斯坦在德国一所中学读书，受当时德国军国主义的影响，学校教育墨守成规，死气沉沉。这一切都使具有强烈的独立意识和渴望自由发展的爱因斯坦感到厌恶。后来，他的朋友塔尔梅给他带来了一些科学书籍，其中一套配有插图的《自然科学大众丛书》中伯恩斯坦讨论了光速。从爱因斯坦后来的思想实验来看，伯恩斯坦的书似乎对他产生过影响。1895年，他进入瑞士阿劳州立中学读书，这个学校的自由精神和那些毫不仰赖外界权威的教师们的纯朴热情给他留下了难忘的印象。在这所中学仅一年的时间，爱因斯坦便开始思索空间时间问题，并写出论文《磁场里以太的状态的研究》，为他后来的伟大的理论研究迈出了第一步。

—摘编自[美]沃尔特·艾萨克森《爱因斯坦传》

- (1) 根据材料并结合所学知识，指出爱因斯坦“伟大理论”的名称，并分析其取得科学成就的原因。(8分)
- (2) 根据材料并结合所学知识，简析爱因斯坦提出的“伟大理论”的历史意义。(7分)

关于我们

自主选拔在线是致力于提供新高考生涯规划、强基计划、综合评价、三位一体、学科竞赛等政策资讯的升学服务平台。总部坐落于北京，旗下拥有网站（[网址: www.zizzs.com](http://www.zizzs.com)）和微信公众平台等媒体矩阵，用户群体涵盖全国 90% 以上的重点中学师生及家长，在全国新高考、自主选拔领域首屈一指。

如需第一时间获取相关资讯及备考指南，请关注**自主选拔在线**官方微信信号：**zizzsw**。

