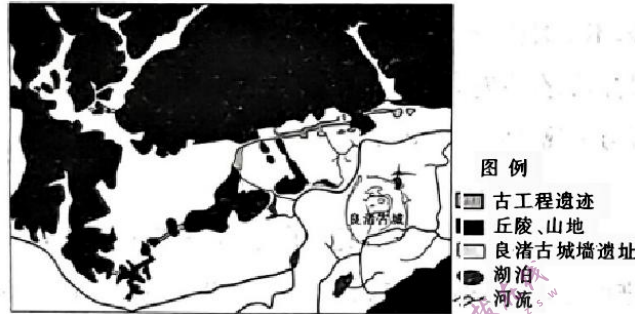


镇安中学 2023 届高三模考 文科试卷

一、选择题:本题共 35 小题,每小题 4 分,共 140 分。在每小题给出的四个选项中,只有一项是符合题目要求的。

良渚古城遗址地处杭嘉湖平原,平均海拔约为 3 米。5500 年前,先民们在这一片沼泽中建立起良渚古城。良渚古城遗址为土遗址,在考古发掘之后,古城不同功能区用覆土覆盖,不同功能区以覆土上方种植不同的植物来区分。据此完成 1-3 题。



- 1.古工程遗迹最可能为
A.水坝 B.城墙 C.桥梁 D.河渠
- 2.良渚古城选址于湿地的原因是
A.土壤含水量高,农业用水量充足
B.有助于抵御外敌,保护古城安全
C.平原面积较大,有多条河流经过
D.风景秀丽,便于发展旅游休闲业
- 3.古城遗址不同功能区用粗土覆盖并种植植被是为了
A.提高植被覆盖率 B.提高土地利用效率
C.增强遗址观赏性 D.加强古遗址的保护

我国某地澳流遍地,但旱灾频发,该地澳流多卵石分布,部分河段河床常见岩石裸露。该地每年 3-6 月阴雨绵绵,7-9 月火南风(焚风)肆虐,滴雨不下。当地人在河道中央砌“墙”,将河水拦腰截断,“墙”内水位抬升形成水潭或宽阔湖面,“墙”外河水溢过“墙”顶形成瀑布,流向下游,有效缓解了旱情。据此完成 4--6 题。

- 4.该地最可能位于
A.华北平原 B.黄土高原 C.江南丘陵 D.长江中下游平原
- 5.该地溪流常见河床岩石裸露反映了
A.水量稳定 B.地形崎岖 C.植被茂密 D.土质疏松
6. 7-10 月的火南风说明
A.流域南部山地促使南风下沉 B.副热带高压位于流域的北部
C.南风源地位于干燥内陆地区 D.火南风源于低纬,是高温主因

下图为世界沿岸海域某种能源的空间分布图。据此完成 7-8 题。



7.该能源为

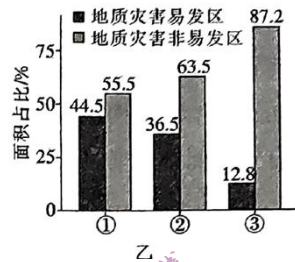
A.风能 B.波浪能 C.太阳能 D.潮汐能

8.该能源丰富区空间分布的主导因素有

①西风②极地东风③地理位置④地形

A.①② B.①③ C.②③ D.②④

甲图为青藏高原和横断山区地质灾害综合分区图，图示区域多滑坡、泥石流、崩塌等地质灾害；乙图为三大分区地质灾害易发区和非易发区的面积占比图。据此完成9---11题。



9. 甲图中分区Ⅰ、Ⅱ、Ⅲ分别对应乙图中的

A.①②③ B.③②① C.①③② D.②③①

10.分区Ⅲ地质灾害非易发区集中分布于

A.东部 B.南部 C.西南部 D.西北部

11. 相较于分区Ⅱ、Ⅲ，与分区Ⅰ地质灾害形成最为密切的特征是

A.植被覆盖率高 B.谷地多呈南北走向

C.地震发生频率高 D.昼夜温差大

12. 2023年以来，全国各地政府陆续推出支持新能源汽车消费政策，包括购车补贴、发放汽车消费券，给予新能源汽车行驶、停车费限免等多项措施。地方利好政策、车企价格竞争以及消费者的出行需求的集中爆发，有望逐渐激发新能源汽车市场进一步扩量。这些政策发挥作用的正确传导路径是

①加快新能源车配套设施建设→培育新的利润增长点→注入绿色发展新动能→让群众享受绿色低碳出行

②推出新能源车置换补贴政策→促进新能源汽车消费→减轻环境压力→建设人与自然和谐共生的现代化

③新能源车价格竞争→淘汰落后产能企业→推动科技进步和资源有效利用→我国新能源汽车产业做强做优做大

④发放汽车消费券→刺激消费者的购车意愿→对需求消费端实现较强的拉动作用→新能源车市场保持增长

A.①② B.①③ C.②④ D.③④

13. 2023年1月10日，国家电网与国家电投举行管理权交接仪式，国内生物质发电领域头部企业国能生物重组进入国家电投。1月14日，中国三峡集团与中交集团签约，三峡集团旗下中国水利电力对外有限公司拟重组进入中交集团，成为中交集团全资子公司。中央企业战略性重组和专业化整合有利于

①优化国有经济布局，维护产业链供应链稳定

②提高国有资本比重，做强做优做大国有企业

③完善公司法人治理结构，激发企业内生活力

④提高国有资本配置效率，提升企业核心竞争力

A.①③ B.①④ C.②③ D.②④

14.数字化转型是点多线长面广的系统工程，完全靠市场化机制无法从根本上改变供给侧热、

需求侧冷的局面。为此，A市对实施高水平技术改造、建设“智能工厂”和“数字化车间”、完成“两化融合”管理体系贯标试点及实现业务上云的企业，给予不同程度奖补。A市的做法旨在

- ①健全统一开放、竞争有序的市场体系
 - ②深化需求侧改革以促进经济高质量发展
 - ③推动数字技术与实体经济深度融合
 - ④打造数字经济新引擎，构建现代化产业体系
- A.①② B.①③ C.②④ D.③④

15.抓紧抓好粮食和重要农产品稳产保供，加强农业基础设施建设，强化农业科技和装备支撑，巩固拓展脱贫攻坚成果，推动乡村产业高质量发展……21世纪以来，第20个指导“三农”工作的中央一号文件《中共中央国务院关于做好2023年全面推进乡村振兴重点工作的意见》于2023年2月13日发布。全面推进乡村振兴

- ①要建立健全城乡同步发展体制机制和政策体系
 - ②必须始终把解决好“三农”问题作为党的中心任务
 - ③是基于“三农”问题是关系国计民生的根本性问题
 - ④要拓宽农民增收致富渠道，加快推进农业农村现代化
- A.①② B.①③ C.②④ D.③④

16.2023年2月，党中央、国务院批准了《全面实行股票发行注册制总体实施方案》（以下简称《方案》）。为抓好《方案》的落实，中国证监会就全面实行股票发行注册制涉及的《首次公开发行股票注册管理办法（征求意见稿）》等主要制度规则草案向社会公开征求意见。上述做法

- ①落实立法听证制度，健全了立法机关与公众的沟通机制
 - ②保障公民对政府决策的知情权，激发公民政治参与意识
 - ③是公民通过社情民意反映制度参与民主决策的具体体现
 - ④是吸纳民意、汇聚民智，践行全过程人民民主的生动实践
- A.①② B.①③ C.②④ D.③④

17.X县人大常委会按照强阵地规范化、强机制常态化、强措施实效化的工作思路，打通代表联系群众的“最后一公里”，着力推进代表联络站建设提档升级，努力将其打造成为“群众之家、选民之家、代表之家、民主之家”。这一举措有利于

- ①完善平台建设，增强人大代表为民服务意识
 - ②扩大人大代表的履职范围，增强履职责任感
 - ③优化代表联络选民方式，密切与选民的联系
 - ④落实人大的质询权，维护人民群众合法权益
- A.①② B.①③ C.②④ D.③④

18.在2023年1月24日召开的拉美和加勒比国家共同体第七届峰会上，国家主席习近平表示，中方同拉方一道，不断加强中拉论坛建设，推动中拉关系进入平等、互利、创新、开放、惠民的新时代。拉共体国家表示高度认同习近平主席关于中拉携手共进，推动构建人类命运共同体的重要主张。这表明中国和拉共体国家

- ①顺应当今时代主题的变化，深度有效参与全球治理
 - ②坚定奉行多边主义，凝聚共识，应对全球性挑战
 - ③推动完善全球治理，共同构建联动包容型的世界
 - ④倡导国际关系民主化，巩固了国际政治经济新秩序
- A.①③ B.①④ C.②③ D.②④

19.某地依托“平西情报联络站”打造了“特色红色教育课程体系”，通过“沉浸式实景+VR虚拟

空间”的方式，使游客置身于影视级布景空间中，将搜证、逻辑推理等相关角色扮演与红色主题教育融合起来，加深了游客对老一辈情报人员坚忍不拔革命精神的体悟。该地的做法

- ①有助于使参观者建立与红色历史文化的情感连接
- ②活力展现了中华优秀传统文化，增强了文化自信
- ③借助媒体融合的传播优势改变了文化传播的手段
- ④厚植了家国情怀，让革命精神薪火相传、延续血脉

A. ①② B. ①④ C. ②③ D. ③④

20. 电视剧《狂飙》从社会变迁、人情法理等极具人文关怀的切入点，探讨良知与犯罪的边界，是一部反黑大剧，更是对社会乱象的反思。该剧对故事悬疑、铺垫进行了细致入微的描写和刻画，令观众不仅获得视觉冲击，也引起思维逻辑、剧情推理的思考，达到了与观众的情感共鸣，成为爆款作品。《狂飙》的成功启示我们

- ①文化创新要与时代同频共振，与观众同声相应
- ②文艺作品剧情要紧张刺激，环环相扣，跌宕起伏
- ③文化要想走进大众，必须迎合大众的审美口味
- ④优秀作品要传递正能量，引导观众追求真善美

A. ①② B. ①④ C. ②③ D. ③④

21. “为者常成，行者常至，历史不会辜负实干者。”在 2023 年春节团拜会上，习近平主席充分肯定过去一年取得的来之不易的成绩，深刻指出“我们靠实干创造了辉煌过去，还要靠实干开创更加美好的未来”。这启示我们

- ①要尊重规律，崇尚科学，不盲目蛮干
- ②要投身实践，不负时代，不骛于虚声
- ③锚定理想目标，靠奋斗创造时代伟业
- ④要坚持客观与主观具体的历史的统一

A. ①② B. ①④ C. ②③ D. ③④

22. 2023 年 2 月 3 日，《人民日报》发表评论指出，历史的机遇往往稍纵即逝。当此之际，不进则退，慢进也是退。抢抓发展机遇，等不得，也慢不得。坚定信心、铆足干劲，顺势而为、乘势而上，必将实现更大发展，助力中国经济行稳致远。材料蕴含的哲理是

- ①抓住有利时机促成质变比量的积累更能助力中国经济发展
- ②要在绝对运动与相对静止的辩证统一中推动中国经济发展
- ③当量的积累达到一定程度，要善于把握时机促成质的飞跃
- ④社会不断向前发展是通过新旧事物的不断交替实现的

A. ①② B. ①④ C. ②③ D. ③④

23. 工厂车间、田间地头、建筑工地、城市街巷，正是千千万万青年奋斗的广阔舞台。这里走出了 23 岁就创造新的桥吊单机作业效率世界纪录的张彦，走出了为“中国碗”装“中国粮”增添底气的水稻专家周雷，走出了世界技能大赛获奖者、砌筑工邹彬，走出了全国五一劳动奖章获得者、快递小哥阮海良。这启示广大青年

- ①充分利用社会提供的客观条件实现人生价值
- ②奋斗是青春的底色，要投身实践，勇于奋斗
- ③受到表彰、赢得荣誉是实现人生价值的基础
- ④要在价值判断的基础上作出正确的价值选择

A. ①② B. ①④ C. ②③ D. ③④

24. 距今 6000 年前后，长江流域的稻作族群经长江各支流发展到珠江水系，并继续向南方迁徙，岭南统一的狩猎—采集经济文化局面开始被打破。资江源头的资源晓锦、桂北湘江诸遗址，就是这一迁徙留下的最早遗存及其后续。这些考古发现与研究可用于探讨

- A. 旧石器时代的生活 B. 稻作文明的诞生
C. 中华区域文明的扩展 D. 岭南私有制的形成

25. 秦始皇灭六国后，改革行政体制，将原称作“邦”的王畿改称为“都”，相应地将“邦门”改称为“都门”。但是，原来的王畿长官邦尉、邦司马等则改称为郡尉、郡司马。这体现出当时

- A. 中央官员受到了约束 B. 郡县制得到有效推行
C. 秦对六国制度的沿袭 D. 分封制在全国被废除

26. 下表反映了北宋时期南北地区生产部门的对比情况。据此可以得出，北宋时期

生产部门	南北地区状况
农业	粮食产量南方高于北方，但两税的见催额却是北方高于南方；经济作物桑、蚕、麻的生产重心仍在北方，而棉花、茶叶的产量则南方胜于北方
手工业	炼铁、纺织业、陶瓷业、酿酒业、建筑业等项目，北方胜于南方；制盐、造纸、冶铜、造船业等项目则南方胜于北方
畜牧业和渔业	北方畜牧业极为发达，渔业南方胜过北方

- A. 区域经济发展各具特色 B. 经济重心尚未出现南移趋势
C. 商业发展受到政府抑制 D. 南北经济交流缺乏现实基础

27. 明代进士邢址“去秋入闽，邵武”任职，“未几病疽”。因命医生把从《心印绀珠经》中获得的药方“检剂服之，遂而获痊”。邢址自此深感“闽土气偏而病湿，民命殊脆”，“此书世所罕见，而备诸方剂多合闽民之病”，故下令“刻之以济惠下民”。这一行为反映了

- A. 活字印刷术得到普及 B. 福建医疗条件的落后
C. 医疗水平的提高 D. 理学熏陶的责任意识

28. 有学者指出，“新青年”群体打破西方传统中“下去”是堕落的观念，他们克服独善其身、自我封闭的局限，回到“黑暗的现实”，体现了社会担当意识。这种“意识”主要表现为

- A. 探索出新的革命道路 B. 对民族独立、民主权利的追求
C. 摒弃了西方近代文明 D. 对民族传统文化的全面否定

29. 1934年，湖北28个县的地租调查数据显示，实物地租占79.8%，而货币地租仅占20.2%，在实物地租中，最落后的分租形式占21.8%。据此可推知，当时湖北地区

- A. 市场对农产品的需求增加 B. 地租剥削阻碍工业发展
C. 农民对市场的依存度较低 D. 地主与农民的矛盾尖锐

30. 1937年9月，毛泽东连续发出指示，包括“整个华北工作，应以游击战争为唯一方向”，“就要战略上有有力部队处于敌之翼侧，就要以创造根据地发动群众为主，就要分散兵力，而不是以集中打仗为主”，等等。这些指示

- A. 促进了抗战路线的转变 B. 体现了中共的主导地位
C. 改变了抗战的基本态势 D. 凸显了持久抗战的策略

31. 从1950年10月开始，沈阳第五机器厂迁往黑龙江齐齐哈尔。据统计，该厂共有925名职工随厂北迁，搬运各种物资1114吨，包括各种机器366台；1950年12月新厂开工，到1951年年底，共生产镗床251台、433型万能铣床57台，以及大批弹头机、弹壳机和汽车防滑链子等。此举旨在

- A. 增强国防保障力量 B. 创建东北工业基地
C. 优化工业空间布局 D. 积累工业建设经验

32. 古希腊喜剧家阿里斯托芬在其作品中写道：“得谟斯，你的权力真正大，你像个君主人人怕，可是呀，也容易叫人家牵着耍。你喜欢戴高帽子，受骗受骗，老是张嘴望着那些演说家，你并不是没有头脑，只是不知想到哪去了。”该喜剧家的言论意在说明

- A. 贵族寡头权势显赫 B. 城邦决策缺乏理性化

C. 民主原则遭到破坏 D. 公民的民主意识淡薄

33. 1784年7月,英国通过《折抵法案》,禁止欧洲其他国家向英国走私茶叶,英国东印度公司向国内输入茶叶的专营权增强,英国的茶叶进口税从119%降至12.5%。18世纪80年代末,英国东印度公司几乎垄断了欧洲的华茶市场。英国这一做法

- A. 表明英国“世界工厂”的地位确立
- B. 促使资本主义世界市场最终形成
- C. 推动了东方生活方式在欧洲普及
- D. 为英国工业革命创造了有利条件

34. 18世纪,法国社会出现了一些喜爱且愿意资助文艺活动的自由贵族和富有资产者,他们的夫人所主持的沙龙活动,日益取代了过去的宫廷游乐活动,凡尔赛宫廷逐渐失去了文艺中心的地位。这一变化主要是因为当时法国

- A. 王权的严重衰落
- B. 启蒙运动的兴起
- C. 资本主义的发展
- D. 言论自由的实现

35. 1963年,德国漫画家创作了一幅漫画——《听我说,各位先生!》。漫画中,形象高大的戴高乐靠坐在座椅上,面前站着四个个头矮小的国家领导人(苏联领导人赫鲁晓夫、西德总理阿登纳、美国总统艾森豪威尔、英国首相麦克米伦),墙上挂着一幅地图,法国处于地图的中心位置。据此可推知,漫画作者意在

- A. 增强西德的国际影响
- B. 强调美苏霸权的衰落
- C. 渲染法国的军事威胁
- D. 期盼国际局势的稳定

二、非选择题 共160分。第36~42题为必考题,每个试题考生都必须作答。第43~47题为选考题,考生根据要求作答。

(一) 必考题: 共135分。

36. 阅读图文材料,完成下列要求。(22分)

北部湾钦州港天然深水岸线长达63 km,内湾深槽天然水深一般为-22~-15 m,最深处达-28.5 m,避风、港池宽、潮差大,是我国非常、宝贵的天然深水良港。钦州港所在的茅尾海,口深内浅,海平面高度会随季节发生变化,是我国著名的大蚝养殖基地。钦州港规划12个作业区,可建1万~30万吨级深水泊位200个,整个港口年吞吐能力在亿吨以上。下图示意钦州港地理位置。

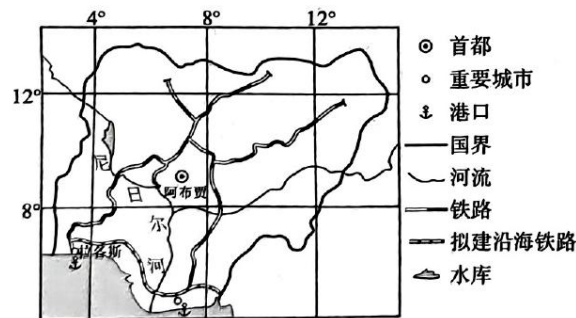


- (1) 分析钦州港风平浪静的主要原因。(6分)
- (2) 指出茅尾海海平面季节变化特点。(4分)
- (3) 分析茅尾海湾口处水深的原因。(8分)
- (4) 简述茅尾海适合大蚝养殖的自然原因。(4分)

37. 阅读图文材料,完成下列要求。(24分)

像非洲的许多发展中国家一样,尼日利亚的化肥施用量极低,化肥生产原料及成品多来自进口。由于迫切需要增加粮食和植物的产量,农民对廉价而优质的肥料寄予厚望。目前尼日利

亚已有多个化肥工厂，化肥厂的认证、化肥市场的管理以及化肥品牌建设、质量检查均由政府把关。拉各斯（如图）是尼日利亚旧都和最大港市，该国政府在最大港市拉各斯石化厂附近再建造一座非洲大陆最大的化肥厂，主要生产颗粒尿素（中性肥料，工业上用氨气和二氧化碳合成）。



- (1)指出政府把关化肥厂的建设及经营管理的主要目的。（6分）
- (2)分析尿素化肥厂毗邻石化厂布局的好处。（6分）
- (3)推测早期该国化肥施用量较低的原因。（6分）
- (4)对该国投资建设大型化肥厂一事，当地民众有人支持，有人反对。请表明你的态度，并说明理由。（6分）

38.阅读材料，完成下列要求。（14分）

材料一



材料二党的二十大报告提出，“优化民营企业发展环境，依法保护民营企业产权和企业家权益，促进民营经济发展壮大”。民营企业发展环境仍然存在一些有待持续优化的地方，广大民营企业对营商环境的持续优化也满怀期待。在要素环境方面，企业期望进一步优化融资支持、科技人才服务等；在政务环境方面，企业期望进一步优化减税降费、优化政务大厅办事流程等；在市场环境方面，企业期望产业政策更加精准、市场准入门槛进一步降低；在法治环境方面，企业期望维权统一服务平台更加健全、涉企案件办理效率进一步提高；在创新环境方面，企业期望在高端人才引进、财政补贴、科技金融等方面给予更多支持。

- (1)概述材料一反映的经济信息。（5分）
- (2)结合材料二，运用经济生活的知识，说明如何推动民营企业高质量发展。（9分）

39. 阅读材料，全科试题免费下载公众号《高中僧课堂》完成下列要求。（12分）

党的二十大报告对我国宪法作出重要论述，对做好宪法工作提出明确要求，强调更好地发挥宪法在治国理政中的重要作用。

我国宪法是中国共产党领导中国人民长期奋斗重大成就和历史经验在国家法治上的最高体现。中国共产党登上中国历史舞台后，经过艰辛探索和实践，成功在中华大地上制定和实施具有鲜明社会主义性质的宪法、真正意义上的人民宪法。我们党领导人民制定的宪法，集中了人民智慧，体现了全体人民共同意志，实现了党的主张和人民意志高度统一，克服了一切旧宪法只代表少数人意志、为少数人利益服务的弊端，因而得到最广大人民群众拥护和遵行，具

有显著优势、坚实基础、强大生命力。

1982年我国现行宪法公布施行后，在党中央领导下，全国人大先后5次对这部宪法的个别条款和部分内容作出了必要的也是十分重要的修正。这些修改对于完善发展我国宪法、推进社会主义法治建设、提高党的依法治国能力发挥了重要作用。

结合材料和所学的政治知识，说明我国应如何更好地发挥宪法在治国理政中的重要作用。

40. 阅读材料，完成下列要求。(26分)

古朴民居，小桥流水，树木葱茏，用旧式砖瓦打造的庭院，在怀旧意境间透出勃勃生机一走进广西壮族自治区北流市新圩镇河村，满眼皆是诗情画意。2022年该村村庄规划入选我国第一批村庄规划推荐案例，成为美丽中国乡村建设典范。

北流市坚持因地制宜，营造宜居宜业宜游的人居环境，形成了具有岭南特色的乡村风貌。该市聘请设计团队对群众积极性高的行政村进行统一设计建设；发展村庄多样性，做到“一村一品”，避免“千村一面”；以传统文化为依托，挖掘各村农耕、民俗、家风、家训、非遗等乡土文化，将乡土特色与时代气息交织相融，改善群众生活条件，让大家吃上了“旅游饭”；遵循“先有规划后建项目”原则，针对村庄规划相对稳定、乡村建设相对动态的特点，在村庄规划上适当“留白”，为乡村民生设施、文旅设施及农村物流、电子商务等新产业新业态发展提供弹性空间。环境优美，文化活跃，生活富足，村风民风也都会跟着变好，村民们都看到了乡村振兴的新希望。

(1)结合材料并运用文化生活知识，说明该村村庄规划为什么能入选我国第一批村庄规划推荐案例，成为美丽中国乡村建设的典范。(10分)

(2)有人认为，只要做好村庄规划，就能建成美丽中国乡村。结合材料并运用意识的有关知识对此加以评析。(12分)

(3)请你为美丽中国乡村建设设计两条公益宣传用语，要求：紧扣主题，朗朗上口，每条在16个字以内。(4分)

41. 阅读材料，完成下列要求。(25分)

材料一 波斯帝国征服的地区不仅广阔，而且社会经济结构复杂。居鲁士和冈比西在征服各国时都保留了它们内部的政治结构，并赋予被征服各民族以地方自治。公元前522年爆发的高墨塔暴动以及大流士执政后爆发两次大规模的、几乎遍及全帝国的起义证明，波斯帝国是不牢固的。后来，大流士进行赋税改革，实行了行省制。他使波斯帝国存在了两个世纪。行省制度到斯帝国灭亡时都未被废除，并为以后的罗马人借用。但波斯帝国的行省制度毕竟是初创，还很不完善，直到波斯帝国崩溃时，各个地区、部落的孤立性和分离主义倾向依然存在，每个行省都拥有一套自己的度量衡制度和货币体系，且在社会经济上仍可独立存在。因为波斯帝国仍是一个军事行政联合体。

——摘编自周启迪《试论波斯帝国的行省与总督》

材料二 自元朝实行行省制开始，行省三司警抚的高层督政区体制就较稳定地确立了下来。元行省制是古代多民族统一国家发展壮大过程中中央与地方权力结构不断调整、完善的产物。它并非单纯的中央集权或地方分权。元行省制的历史价值在于：它创立了一种以行省为枢纽，以中央集权为主，辅以部分地方分权的新体制。该体制下，行省性质具有双重性，行省长期代表中央分驭各地，主要为中央收权兼替地方分留部分权力，所握权力大而不专。元行省制引起了13~14世纪中央与地方权力结构的较大变动，对元代社会和后来的明清、近代影响至深。

——摘编自李治安《元代行省制的特点与历史作用》

(1)根据材料一，概括波斯帝国实行行省制的原因。(9分)

(2)根据材料一、二并结合所学知识，指出波斯帝国行省制与中国元朝行省制的相同之处，并说明元朝行省制的特点。(12分)

(3)根据上述材料并结合所学知识，简述你从地方行政制度演变中得到的认识。(4分)

42.阅读材料，完成下列要求。(12分)

材料

人物	事迹
魏源(1794—1857)	1822年中举,1845年始成进士。据在浙东参加反英战役时的亲身见闻和经历,慨然发奋著述,于1842写成《圣武记》《道光洋艘征抚记》《海国图志》等著作,提出“师夷之长技以制夷”等一系列御敌和富国强兵的主张,并将自己在定海反英战役中提出的建议,整理成《城守篇》《军储篇》等,冀此激励和提振民族自信心,唤醒民众,实现“制夷”和御侮图强
冯桂芬(1809—1874)	1840年进士及第,于1861年撰成《校邠庐抗议》,提出“以中国之伦常名教为原本,辅以诸国富强之术”。1862年李鸿章赴沪后,延揽冯桂芬入幕。去世20多年后,冯桂芬变法思想对维新改良运动仍有影响
黄遵宪(1848—1905)	1876年中举,次年,毅然放弃科举仕途的俗儒之路,出任驻日参赞,走上为民族存亡而寻找真理的外交征程。驻日期间,了解日本国情,搜集200多种资料,于1887年撰成《日本国志》,其内容涉及日本历史、地理、政治、风俗、工艺等,成为研究日本、仿效日本实行维新的具有启蒙性质的著作

阐述从上述材料中发现的三人的共性，并得出一个结论。(要求：共性源自材料，结论明确，史论结合，表述清晰。)

(二)选考题：共25分。请考生从2道地理题、3道历史题中每科任选一题作答，如果多做，则每科按所做的第一题计分。

43. [地理——选修3：旅游地理](10分)

四川省冰雪资源丰富，是我国南方冰雪运动场地最多的省份之一，有我国南方规模最大的高山滑雪场，这些滑雪场基本分布在海拔为2200~2400m的地区。下图为我国四川省滑雪场空间分布图。



指出四川省滑雪场的主要分布特征，并分析原因。

44.[地理——选修6：环境保护](10分)

近年来，冰天雪地的南极大陆变绿了。英国植物学家根据观测资料发现了1679个绿藻爆发点，经研究发现，这些绿藻爆发点的夏季平均温度超过了0℃，并且这些爆发点与企鹅、海豹的活动地点非常接近。

简述南极半岛绿藻爆发的原因，并分析南极半岛绿藻爆发对大气环境的影响。

45. [历史——选修1：历史上重大改革回眸](15分)

材料1894年以后，《闽报》《苏报》《沪报》《国闻报》等地方报纸刊登欧、美、日的农业新知。1898年，清廷设立农工商总局，1906年又改为农工商部，内设农务司，专理全国农政。此外，各省还设有劝业道掌理农政。1904年以后，各省纷纷成立农会，这些农会由地方政府倡导建立，由地方绅民出面组织，经费则由地方政府补助。除农会实际教导农民农业新知外，晚清另设有农业讲习所、农业试验场、农学堂、大学农科。讲习所规模小、成本低-但

终清之世只有三个地区设立；农业试验场初创于1902年，至1906年而遍布全国。有官办，也有绅办；1903年更设有农学堂，一般地区均设有初等、中等农学堂，直隶、浙江、湖北等人文荟萃之区尚设有高等农学堂；至1910年，更设有大学农科。

——摘编自王建朗、黄克武主编《两岸新编中国近代史·晚清卷》

(1)根据材料并结合所学知识，概括清末农政改革的特点。(8分)

(2)根据材料并结合所学知识，评析清末农政改革。(7分)

46.[历史——选修3:20世纪的战争与和平](15分)

材料 1993年10月，在 NATO 国防部长会议上，美国提出同中、东欧国家和独联体等国家和组织建立“和平伙伴关系计划”，以渐进方式扩大 NATO。1994年1月，NATO 首脑会议批准“和平伙伴关系计划”，包括：NATO 正式邀请前华沙条约组织国家和欧洲中立国家参加“和平伙伴关系计划”，在军事演习、维和、危机控制等方面进行合作和政治磋商；伙伴国可向 NATO 总部派出联络员；伙伴国必须承认西方的民主、人权标准，并尊重现有边界。1997年7月，匈牙利、捷克、波兰被邀请于1999年加入 NATO。2002年11月，拉脱维亚、爱沙尼亚、立陶宛、保加利亚、罗马尼亚、斯洛伐克和斯洛文尼亚七国被邀请于2004年加入 NATO。

——摘编自张建华主编《世界现代史(1900-2000)》

(1)根据材料并结合所学知识，分析 NATO “和平伙伴关系计划”出台的历史背景。(8分)

(2)根据材料并结合所学知识，说明 NATO “和平伙伴关系计划”出台的国际影响。(7分)

47. [历史——选修4:中外历史人物评说](15分)

材料 马端临(约1254-1323)，宋元之际史学家。他出身相门，“家传鼎鼐之谱，幼繙(翻)馆阁之储”。南宋灭亡后，他把毕生精力倾注于《文献通考》的编著。此间，历代意识形态的得失问题和田制、税制、官制、兵制的利弊问题有机地联在一起，引起了马端临的高度关注。马端临又究寻到秦汉以降公私藏书十亡六七的惨痛现象，殊感兵败国破之时常为图书蒙厄之日。从《通考》全书看，他一方面“旁搜远绍，门分汇别”，另一方面“参稽互察……融会错综”。其中《经籍考》收载存世可考的图书4000多种。举凡九经三传，百氏遗说，史坛巨制，文苑名著，医卜技艺代表作，神仙浮屠经典，无不诸评俱载，“纪其著作之本末，考其流传之真伪，订其文理之纯驳”。从明清以至近现代，规仿或赓续《经籍考》的著述层现迭出，转密加详。

——摘编自杨寄林《〈文献通考·经籍考〉的成书与价值》

(1)根据材料并结合所学知识，概括马端临编著《文献通考》的条件和特点。(9分)

(2)根据材料并结合所学知识，简析马端临编著《文献通考》的历史功绩。(6分)