

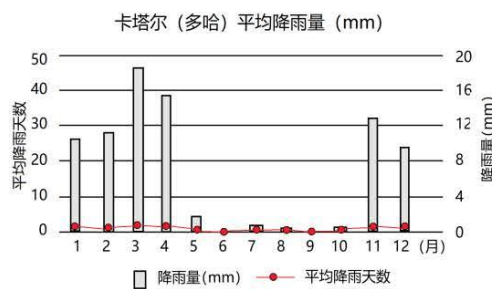
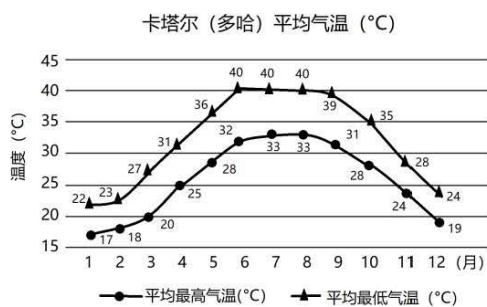
陕西师大附中高 2023 届第十次模拟考试

文科综合能力测试

第 I 卷 (选择题 140 分)

本卷共 35 个小题，每小题 4 分，共 140 分。在每个小题给出的四个选项中，只有一项符合题意。

2022 年 11 月 21 日~12 月 18 日世界杯足球赛在卡塔尔多哈 (25° N, 51.5° E) 举行。为了降低路面温度，卡塔尔人常常使用一种蓝色颜料来粉刷道路。下图是卡塔尔首都多哈的气候资料图。据此完成 1-3 题。



- 多哈气候特征形成的根本原因是
 - 终年受副热带高压控制
 - 终年受到东北信风的控制
 - 副高和西风的交替控制
 - 赤道低压和信风交替控制
- 推测蓝色颜料的“功能”最可能是
 - 蓝色路面会吸收更多太阳辐射
 - 蓝色路面会反射更多太阳辐射
 - 蓝色路面看起来凉爽舒适宜人
 - 蓝色可以彻底地缓解热岛效应
- 卡塔尔世界杯的主要场馆大多坐落在东西轴线上，这一设计
 - 能减少球场和看台的日光直晒
 - 保证白天享受大范围的日光浴
 - 方便球场和看台欣赏日出日落
 - 可以完全降低白天的高温酷暑

屯堡是贵州特有的一种村落形式，是中国历史上以屯田戍边的政策对西南边疆进行统治和开发的产物，是汉族文化的活化石。这里的房屋都由厚重的层理清晰的石头做建材，石头的墙壁，石头的门框，石头的屋顶；碉楼、瞭望口，射击孔随处入眼……房屋内部使用木材，具有典型的徽派风格和满满的江淮遗风。下图为屯堡景观图片。据此完成 4-6 题。



4. 屯堡的石头均是就地取材，该石头最可能是
A. 石灰岩 B. 玄武岩 C. 花岗岩 D. 大理岩
5. 屯堡用石头构筑的目的可能是
A. 取材十分丰富 B. 防御地区冲突
C. 使日温差减小 D. 对抗气候湿热
6. 建筑内部具有典型徽派风格和满满的江淮遗风，这种特点反映
A. 当地气候较寒冷干燥 B. 迁入人口的文化传承
C. 加固房屋以抵御地震 D. 原地地民居文化传承

秦岭山地积雪，是汉江流域和渭河流域水资源的重要补给来源。下表为秦岭南北不同分区积雪日数变化统计情况。据此完成 7-8 题。

积雪日数	关中平原	秦岭山地	汉江谷地	大巴山区
2000 年 (日)	8.2	11.0	4.6	9.6
2010 年 (日)	4.7	13.2	6.7	14.9
2019 年 (日)	2.4	6.8	2.4	8.4

7. 下列符合 2010-2019 年情况的是
A. 秦岭山地不容易出现极端降雪天气
B. 秦岭山地积雪日数低于汉江谷地
C. 汉江谷地积雪日数下降幅度最大
D. 大巴山区积雪日数下降幅度最大

8. 与秦岭山地相比, 汉江谷地积雪日数存在差异的影响因素是

- A. 海陆位置 B. 地形地势 C. 纬度位置 D. 地面反射

陕西省延安市吴起县地处黄土高原, 位于水蚀、风蚀交错区。该县多年平均降水量 466.7mm, 年均蒸发量 891.2mm。自 1998 年起, 该县在荒山及坡地营造水土保持林, 主要造林树种有油松、刺槐、山杏、沙棘等。受自然条件和植被生长习性影响, 四种防护林分布空间差异显著, 下表示意四种防护林分布特征(坡向一般以正北方向记作 0° , 按顺时针方向旋转所得角度为坡向角度)。据此完成 9~11 题。

	分布特征	
	海拔/m	坡向范围
刺槐	1410~1510	$0^\circ \sim 20^\circ$; $50^\circ \sim 62^\circ$; $82^\circ \sim 95^\circ$; $277^\circ \sim 360^\circ$
山杏	1444~1553	$0 \sim 100^\circ$; $280^\circ \sim 360^\circ$
油松	1380~1451	$0^\circ \sim 100^\circ$
沙棘	1365~1562	$0^\circ \sim 74^\circ$; $280^\circ \sim 360^\circ$

9. 该地适生坡向范围最大的防护林类型是

- A. 刺槐 B. 山杏 C. 油松 D. 沙棘

10. 四种防护林在 $135^\circ \sim 225^\circ$ 坡向范围内几乎没有分布, 主要是该坡向范围内

- A. 降水量少 B. 土壤浅薄 C. 蒸发量大 D. 下渗量大

11. 多年观测显示, 曾经作为先锋树种的沙棘分布范围不断缩小, 逐渐被油松等其他乔木取代, 这反映了当地

- A. 热量条件改善 B. 降水总量增多
C. 人类活动减少 D. 生态环境改良

12. 某国一家资产规模超过 2000 亿美元专为初创企业融资的中型银行, 在该国持续加息周期中遭遇流动性危机。该银行在近日宣布一份融资方案, 引发市场恐慌, 出现挤兑风暴导致银行倒闭。关于该国持续加息导致这家银行倒闭的传导路径正确的是

- ①企业提取存款 → 银行遭遇流动性危机 → 银行宣布融资方案

- ②企业融资难度增加→企业现金流减少→企业出现运转危机
 - ③银行流动性危机公开→引发银行挤兑风暴→导致银行倒闭
 - ④该国加息→银行贷款利率最大化→初创企业融资成本提高
- A. ①→④→②→③ B. ④→①→②→③
C. ①→②→④→③ D. ④→②→①→③

13. 国务院总理李强主持召开国务院常务会议，审议通过关于加快发展先进制造业集群的意见，会议指出，发展先进制造业集群，是推动产业迈向中高端、提升产业链供应链韧性和安全水平的重要抓手，有利于形成协同创新、人才集聚、降本增效等规模效应和竞争优势。由此可见，国家加快发展先进制造业集群，可以

- ①推动资源密集型企业发展，提升国际话语权
 - ②助推供给侧结构性改革，促进产业优化升级
 - ③扩大有效和中高端供给，实现社会生产目的
 - ④解决产业发展短板问题，实现经济高速发展
- A. ①③ B. ①④ C. ②③ D. ②④

14. 2023年1月西安市正式启动了职工医保个人账户家庭共济。职工医保个人账户可以用于支付参保人员本人及其配偶、父母、子女在定点医疗机构就医发生的由个人负担的医疗费用，以及在定点零售药店购买药品、医疗器械、医用耗材发生的由个人负担的费用。此举有利于

- ①降低家庭成员医疗负担，创新社会救助实现方式
 - ②拓宽医保个人账户资金使用范围，提升保障水平
 - ③践行共享发展理念，发展商业健康医疗保险事业
 - ④提高医保资金使用效率，完善我国社会保障体系
- A. ①② B. ①③ C. ②④ D. ②③

15. 2023年5月10—11日，第十四届中国矿业循环经济暨绿色矿业发展论坛在江苏徐州召开。本次论坛就如何推进矿业领域更好地践行“绿水青山就是金山银山”理念，促进生态优先、节约集约、绿色低碳发展进行了研讨。发展循环经济的意义在于

- ①坚持循环经济实现绿色发展是我国经济的立身之本
- ②改善生态环境质量，增加优质生态产品的有效供给

- ③保障资源可持续利用，实现人与自然的和谐发展
④发展循环经济要发挥政府在资源配置中的决定性作用
A. ①③ B. ①④ C. ②③ D. ②④
16. 苏丹局势突变以来，党中央十分牵挂每一位在苏丹同胞的安危，习近平总书记作出重要指示，外交部坚决贯彻落实，短时间内组织大规模人员安全、有序撤离喀土穆等交火地区，用行动把外交为民扛在肩上。我国坚持外交为民的政治生活依据是
- ①我国是人民民主专政的社会主义国家，公民是国家的主人
②人民民主具有真实性，外交为民是对公民人权的尊重和保障
③生命安全与健康是公民应有的基本政治权利
④政府是人民的政府，外交为民是政府的责任担当
A. ①② B. ②④ C. ③④ D. ①③
17. 2023年3月10日，2900多名全国人大代表按下表决器，十四届全国人大一次会议表决通过了关于国务院机构改革方案的决定，批准了这个方案。该方案获得批准
- ①彰显了党中央坚定不移全面深化改革的坚强意志
②将为全面建设社会主义现代化国家提供有力保障
③体现了与时俱进地限制国家机构行政职能的做法
④展现了我国建设高效务实的管理型政府的坚定决心
A. ①② B. ①③ C. ②④ D. ③④
18. 在中方支持下，沙特阿拉伯和伊朗两国达成北京协议，中沙伊三方签署并发表联合声明，宣布沙伊双方同意恢复外交关系，开展各领域合作。促成沙伊复交
- ①彰显了中国作为世界和平与发展主导者的角色
②展现了中国为促进中东安全稳定贡献中国智慧
③表明中国维护各国共同利益，积极协调国际关系
④说明要和平、促发展已成为世界各国的共同愿望
A. ①② B. ①④ C. ②③ D. ③④
19. 五一全国旅游市场火爆，西安大雁塔·大唐芙蓉园景区入选全国十大热门景点。西安大雁塔·大唐芙蓉园景区以盛唐文化为背景，以唐风元素为主线，以体验消费为特征，为助力西安文旅强势复苏做出突出贡献。这启示我们

- ①要彻底改造传统文化实现其创造性转化、创新性发展
- ②不断探索中华优秀传统文化与当代社会相协调的新形式
- ③传承优秀传统文化要最大程度挖掘其经济价值
- ④人民群众满意与否是衡量艺术作品价值的根本尺度

A. ①④ B. ①③ C. ②④ D. ②③

20. 中国与西班牙建交 50 周年中西文化之旅正式启动，以新媒体技术，打造中西美术作品的跨时空对话，向海内外受众介绍两国的独特魅力与互鉴成果。此举

- ①有利于促进两国间的文化交流借鉴与融合
- ②发挥了大众传媒文化传递、沟通、共享的强大功能
- ③意在表明各民族文化都是世界文化中不可缺少的色彩
- ④表明文化多样性是人类文明进步的根本动力

A. ①② B. ①③ C. ②④ D. ③④

21. 近日 ChatGPT 火爆全网，ChatCPT 是人工智能技术驱动下的自然语言处理工具，通过大量语言资料学习后，可以像人类一样进行聊天交流，甚至能完成撰写代码、论文和视频脚本等任务。下列对此认识正确的是

- ①ChatGPT 从本质上看是对人类思维某些功能的模拟
- ②ChatGPT 是人类智慧的物化，将成为新的实践主体
- ③ChatGPT 的诞生体现了人类意识活动的主动创造性
- ④ChatCPT 是人类实践的产物，能够能动地认识世界

A. ①③ B. ①④ C. ②③ D. ②④

22. 漫画《生活不是单行线，一条路走不通，你可以转弯》蕴含的哲学道理是



陕西师大附中高 2023 届第十次模考文科综合能力测试试题 第6页（共 16 页）

- ①正确发挥主观能动性就能摆脱客观条件的制约
 - ②意识的自觉选择性影响人们对人生道路的选择
 - ③人生道路的选择与自己所处环境的优劣没有关系
 - ④以辩证的态度对待自己的处境有利于促进实践成功
- A. ①② B. ①③ C. ②④ D. ③④

23. 2023 年是毛泽东等老一辈革命家为雷锋同志题词 60 周年。习近平总书记强调：“雷锋精神，人人可学；奉献爱心，处处可为”“从‘赠人玫瑰、手有余香’中感受善的力量，以实际行动书写新时代的雷锋故事”。这表明

- ①为人民做奉献是为了获得社会的尊重和满足
 - ②正确的价值判断和价值选择要遵循社会发展的客观规律
 - ③实现人生的价值需要正确价值观的指引
 - ④社会意识对社会存在具有能动的反作用
- A. ①② B. ①④ C. ②③ D. ③④

24. 西周时期，诸侯国以宗室担任司徒、司空、司马为最高级辅政，且世袭。春秋时期，诸侯在这些官职之上别置名目以辅政，如秦国“宗室非有军功论不得属籍（世袭官爵），而引用客卿主政”。这一变化

- A. 加强了诸侯王的权力
- B. 削弱了周王室力量
- C. 导致分封制走向崩溃
- D. 提高了宗法制影响

25. 南朝时期，考试日益成为察举的重心所在，察举由举荐孝子或举荐能吏之制，逐渐变成考试文士之制；地方长官的举荐权力，也逐渐变成搜罗文人以应试的行政责任。这一现象促使当时

- A. 考试成为选官的主要方式
- B. 地方权力得以扩大
- C. 政权的统治基础得到扩大
- D. 官僚政治初步形成

26. 南宋学者陈淳编写的蒙学教材《启蒙初诵》里有“天地性，人为贵，无不善，万物备。仁义实，礼智端，圣与我，心同然。……进以礼，退以义，不声色，不货利。”。这反映了当时

- A. 政府主导蒙学教育
- B. 蒙学教材注重思辨
- C. 伦理道德得到重塑
- D. 儒学教育的世俗化

27. 明代隆庆开海后,洋钱(又称洋银)输入中国。清前中期江南地区洋钱“凡完纳钱粮及商贾交易,无一不用洋钱”;江南官民亦追求西方器物,“什物器具,无不贵乎洋者,曰洋铜,曰洋磁,曰洋漆,……遽数之不能终其物。”据此可知,清前中期的江南地区

- A. 传统小农经济开始解体
B. 民众的消费习惯渐趋奢靡
C. 对外贸易结构发生变化
D. 与世界市场存在交流互动

28. 根据下表可知,中国贸易额增长

中国贸易额(含进出口)	事件
1840-1856年,贸易额从52.4万多英镑增长到近150万英镑。	鸦片战争后,国门洞开,被迫开放通商口岸;列强获得片面最惠国待遇等特权。
1872年,贸易额增长到了近400万英镑	1869年苏伊士运河通航; 1871年丹麦公司在中国境内铺设电报线。
1892-1911年,贸易额再次增长了三倍。	外国在中国资本输出,抢夺铁路修筑权; 受日俄战争的影响,东北开放10多处商埠。

- A. 很大程度上受当时重大事件的影响
B. 是促进近代中国经济增长的驱动力
C. 反映了商品结构和贸易对象的变化
D. 反映西方列强侵略中国的程度加深

29. 张之洞素来支持康有为变法,曾资助康有为创办《强学报》。但当康有为在上海创办《强学报》创刊号上大书“孔子卒后二千三百七十三年”之时,立即引起了张之洞的强烈不满。

康、张二人的分歧,本质上是

- A. 变法策略的差别
B. 阶级立场的差异
C. 宣传途径的不同
D. 纪年方式的变化

30. 中共中央在1935年12月6日作出了《关于改变富农策略的决定》,一改以往反对富农的策略,提出对富农采取同情甚至中立的态度,指出排斥富农(甚至一部分小地主)参加革命斗争是错误的,中共中央对富农态度的变化反映出

- A. 中共强调现阶段的革命任务
B. 农村阶级矛盾有所缓解
C. 中国社会主要矛盾悄然变化
D. 中共阶级基础明显扩大

31. 一份档案中记载了湖北省某地的地名变迁:1960年,湖北省黄冈地区鄂城县石山人民公社七里界大队第五小组;1983年,湖北省黄冈地区鄂城县石山乡七里界村第五小组;2001年,湖北省鄂州市鄂城区石山镇七里界街道5号。上述记载可以用于研究当地

- A. 城市化发展的状况
B. 所有制结构的调整
C. 城乡间差距的缩小
D. 农业合作化的进程
32. 11-13 世纪, 意大利波伦亚城出现注释法学派, 他们深入研究和传播罗马法, 西欧大陆逐渐呈现出罗马法复兴的景象。这一现象
- A. 反映出人文主义在西欧兴起
B. 冲击了封建教会的神学统治
C. 标志着罗马法体系发展完善
D. 适应了城市经济发展的需要
33. 1541 年, 加尔文颁布了《教会法令》与《限制奢侈法令》, 限制人们使用和佩戴奢侈品, 并禁止偶像崇拜和圣物崇拜, 这一政策直接让瑞士的首饰行业一蹶不振。而与此同时, 新建的新教教堂却需要钟表来报时, 钟表业迅速发展。这反映了宗教改革
- A. 违背了新兴资产阶级的愿望
B. 影响了近代经济和社会生活
C. 把人从宗教束缚中解放出来
D. 强化了普通民众的宗教信仰
34. 俾斯麦曾说: “当我想到一个塔勒可以帮助一个贫困家庭捱过一个星期, 就觉得自己像穷人家的窃贼。当我能花 30 马克去旅行时, 我当然可以拿出一些钱施舍给穷人, 然后继续旅行, 但是这能改变什么呢? 双倍或十倍的钱也只能满足一部分穷人的需要。” 基于此种认识, 统一后的德意志
- A. 完善了资产阶级民主政治
B. 着手于防止国际工人运动的冲击
C. 致力于建立社会保障体系
D. 力图建立货币联盟解决资金问题
35. 美苏争霸后期, 美国将竞争核心从造核弹转移到发展高新科技方面。美国从开始研制火箭, 到设计、发射人造卫星, 虽然每一步都稍慢于苏联, 但最终在“载人登月”上, 美国弯道超车, 从此将苏联甩在身后这表明
- A. 美苏争夺的重点转向太空领域
B. 冷战客观上促进美苏科技进步
C. 美苏国家安全受到威胁
D. 两强相争影响国际格局

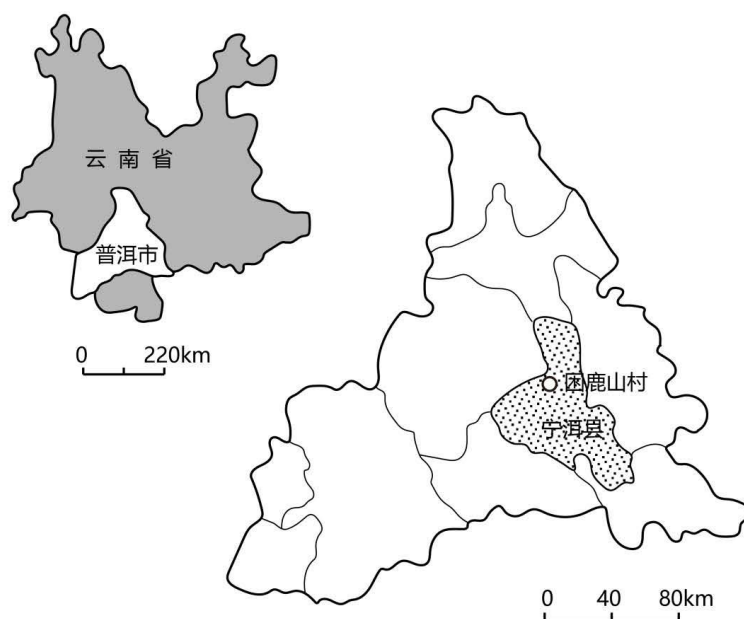
第 II 卷 (非选择题 160 分)

本卷分为必做题和选做题两部分, 第 36-42 题为必做题, 第 43-47 题为选做题, 其中第 43-44 题为地理选做题, 第 45-47 题为历史选做题, 选做题多答部分, 按照第一题计分)

36. 阅读图文材料, 完成下列要求。(22 分)

普洱市宁洱县困鹿山村深居山林之中, 其古茶园中有存活百年、高大挺拔的普洱古树, 曾是清代皇家贡茶园。20 世纪 70~80 年代, 普洱茶市场价格低, 当地村民将部分古

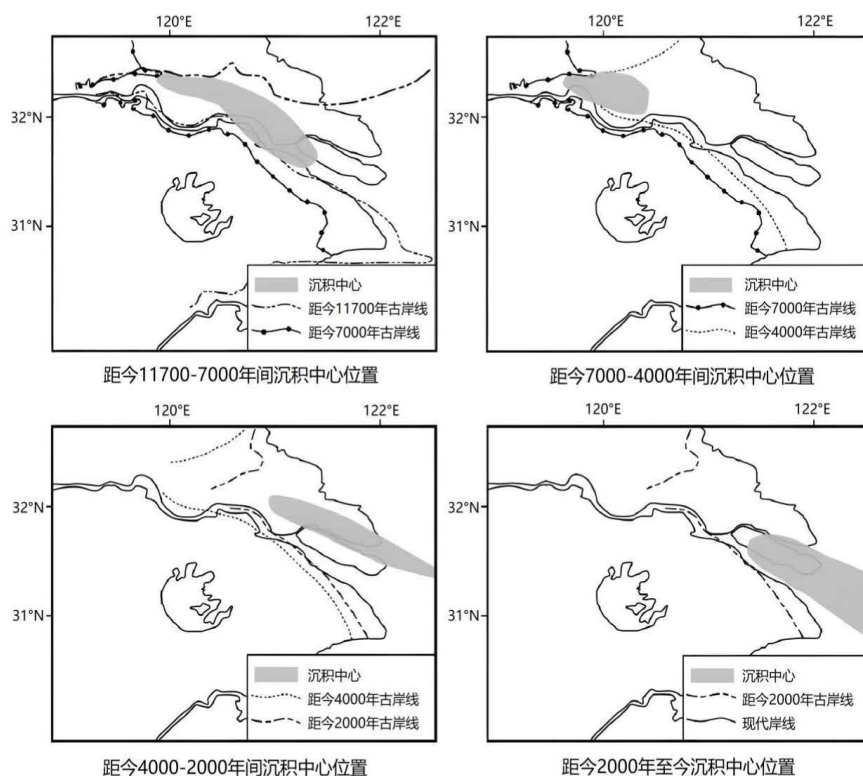
茶树砍断矮化，改种粮食作物、经济作物和台地茶（树龄较短、生长较快、密植高产，一般需要按期施肥及喷洒农药），但效益不佳，村民大量外出务工。2000~2007年，随着“普洱茶热”的兴起和对普洱茶“愈陈愈香”的追求，当地政府大力发展以古树茶为主的普洱茶产业，兴建“生态茶园”，将在古茶园中传统木屋居住的茶农，搬迁至距离古茶园1km之外的现代化楼房。2019年困鹿山古树茶以每公斤5万~8万元的价格登上云南普洱茶价格榜首。图示意困鹿山村地理位置。



- (1) 与台地茶相比，分析困鹿山古树茶价格昂贵的原因。(6分)
- (2) 推测普洱茶产业大发展对困鹿山村农业生产特点及人口年龄结构的改变。(6分)
- (3) 说明村民迁至古茶园1km之外，对困鹿山村普洱茶产业发展的积极影响。(4分)
- (4) 指出该村大力发展普洱茶产业可能给发展带来的潜在问题。(6分)

37. 阅读图文材料，完成下列要求。(24分)

河口三角洲沉积中心的形成受地形、地表径流、海水运动和海平面变化等因素影响。距今11700年以来长江三角洲地壳持续下降。距今2000年以来海平面较稳定，长江三角洲河口地区泥沙沉积速率加快。图为距今11700年以来长江三角洲地区的沉积中心及海岸线位置示意图。



(1) 简述长江三角洲河口地区沉积中心形成的原因。(6分)

(2) 描述长江三角洲河口地区沉积中心的空间变化特点, 并指出其与海岸线的关系。

(6分)

(3) 与距今11700年相比, 推测距今7000年海岸线位置偏西的原因。(6分)

(4) 分析距今2000年以来长江三角洲河口地区泥沙沉积速率加快的原因。(6分)

38. (14分) 阅读材料, 完成下列要求。

国家税务总局2023年5月4日公布的增值税发票数据显示,“五一”假期居民消费和出行意愿高涨,旅游市场火爆带动服务消费快速恢复,同时商品消费保持平稳较快增长。数据显示,“五一”假期,全国消费相关行业销售收入与去年“五一”假期相比增长24.4%。其中,服务消费和商品消费同比分别增长28.7%和19.5%。旅游服务呈现爆发式增长,旅游游览和娱乐服务业销售收入同比增长3.2倍。其中,受国内游及国际游市场升温带动,旅行社及相关服务业销售收入同比增长4.4倍;公园景区、休闲观光活动销售收入同比分

别增长 3.5 倍和 3.3 倍。此外，在旅游市场升温带动下，住宿和餐饮业销售收入实现较快增长。

结合材料并运用经济生活的相关知识，推测五一旅游消费市场火爆可能的原因，并说明旅游消费市场火爆对我国经济发展产生的积极影响。

39. (12 分) 阅读材料，完成下列要求。

协商民主是我国社会主义民主政治的特有形式和独特优势，也是实现党的领导的重要方式。在中国共产党领导下，围绕改革发展稳定重大问题和涉及群众切身利益的实际问题，在决策之前和决策实施之中开展广泛协商，努力形成共识。我国的协商民主包括政党协商、人大协商、政府协商、政协协商、人民团体协商、基层协商以及社会组织协商等多种形式。一项重大政策的出台，通过发挥社会主义协商民主的重要作用，把各党派、各阶层、各方面最广泛地团结起来，形成推进国家治理体系和治理能力现代化的强大合力。“有事好商量，众人的事情由众人商量，是人民民主的真谛。”实践证明，社会主义协商民主在整合社会关系、促进民主监督、提升决策效率等方面展现出独特优势，有力促进了中国经济健康发展、社会和谐稳定和人民生活改善。

结合材料并运用政治生活的知识，说明如何把社会主义协商民主落实到国家政治和社会生活之中，发挥协商民主的重要作用。

40. (26 分) 阅读材料，完成下列要求。

“初心易得，始终难守。”百年征程中，中国共产党勇于推进党的自我革命，始终保持着赶考的清醒和谨慎，成为中国人民最可靠、最坚强的主心骨。

1949 年 3 月，全国胜利已成定局。面对进城的新挑战和执政的新使命，毛泽东在党的七届二中全会上明确提出，“夺取全国胜利，这只是万里长征走完了第一步”，“革命以后的路程更长，工作更伟大，更艰苦”，“务必使同志们继续地保持谦虚、谨慎、不骄、不躁的作风，务必使同志们继续地保持艰苦奋斗的作风”。面对新征程上的新挑战新考验，习近平在党的二十大上强调：“全党同志务必不忘初心、牢记使命，务必谦虚谨慎、艰苦奋斗，务必敢于斗争、善于斗争”。这“三个务必”是基于对党所处历史方位、面临形势任务、党情国情世情发展变化进行深刻分析作出的重大论断，彰显了百年大党新时代赶考的清醒和坚定，对于坚定历史自信、增强历史主动、奋力谱写新时代中国特色社会主义更

加绚丽的华章具有深远的历史意义和重大的现实意义。

从“进京”赶考到踏上新的“赶考”之路，从“两个务必”到“三个务必”，70多年来，党经受住了取得全国政权和长期执政过程中各种糖衣炮弹的诱惑和困难风险的考验，始终走在时代前列，交出了一份优异的答卷。新征程上，我们要始终推进党的自我革命。

(1) 结合材料并运用文化自信的相关知识，分析“三个务必”思想的提出是如何增强党的历史自信和历史主动的？（10分）

(2) 结合材料并运用唯物辩证法的矛盾观，分析如何做到“敢于斗争、善于斗争”，走好新的赶考之路。（12分）

(3) 班级举行“弘扬自我革命精神，争做时代新人”的主题班会，请列举两个发言要点。（4分）

41. 阅读材料，完成下列要求。（25分）

材料一 京杭大运河，简称大运河，是古代一项伟大的水利工程。春秋末期，吴王夫差开凿连通长江与淮河的运河——邗沟。隋统一后，隋炀帝征发民夫开凿了以东都洛阳为中心，北抵涿郡，南至余杭，全长2500公里的大运河，沟通了海河、黄河、淮河、长江、钱塘江五大水系，对南北经济文化交流、维护全国统一作用显著。此后，唐、宋、元均重视漕运，在整治河道的同时建立了漕运仓储制度。大运河的辉煌是在明清时期，中央设置京畿都漕运司，以漕运使主之；地方以府佐、院道和科道官吏掌管本地漕事。

晚清大运河的衰败是多种原因造成的。1851年的农民起义动摇了清政府的统治，战乱中江浙一带的漕运几乎处于瘫痪状态。铁路的兴起对大运河漕运打击沉重，原先需经数月以上的运输时间，现在快则不足10天，慢则一月以内就可以运入京城。1901年，清政府废除漕运制度，大运河多处淤塞，曾经的辉煌逐渐变成了历史的记忆。

——摘编自胡梦飞《辉煌与没落——明清大运河漕运的兴衰》

材料二 1953年后兴建江阴船闸和杨柳青、宿迁千吨级船闸，开始了对大运河的部分恢复和扩建工作。结合南水北调工程，重点扩建了滁州至长江的河段，使运河单向年通过能力达到近8000万吨，并扩大了沿岸灌溉面积和排涝面积，取得了多方面的效益。2006年，京杭大运河被国务院批准列入第六批全国重点文物保护单位名单。2014年，大运河项目成功入选《世界文化遗产名录》，成为中国第46个世界遗产项目。

——摘自刘璐《京杭大运河以世界开凿最早里程最长航运能力最大的美名驰名天下》

陕西师大附中高2023届第十次模考文科综合能力测试题 第13页（共16页）

- (1) 根据材料一并结合所学知识, 概括大运河发展呈现的特点及近代走向衰败的原因。(14分)
- (2) 根据材料二并结合所学知识, 说明建国后大运河建设的作用。(6分)
- (3) 根据材料并结合所学知识, 简析大运河兴衰的历史启示。(5分)
42. 阅读材料, 完成下列要求。(12分)

材料 历史上诸文明的交流并不是一帆风顺的。农业文明时期, 文明的交流特别缓慢。到了工业文明时期, 文明的交流比以前容易和快速了许多。但事实是在各农业文明向工业文明的过渡中, 遇到了许多的困难。一方面, 当时一些历史悠久的农业文明, 因为长期形成的政治经济形势和文化心理态势, 对其他文明的内容有一种拒斥, 即文明的接受者不愿意接受某种文明的内容, 哪怕它是先进的、有效的。另一方面, 当时西方文明国家并不愿意把他们的先进文明传播给其他农业文明国家, 或者其目的并不是传播先进的文明成果, 而意在进行侵略, 只不过以传播文明为幌子而已。

——摘自马克垚《世界文明史》

依据材料并结合所学知识, 围绕文明交流自拟论题并进行论证说明。(要求: 论题明确, 持论有据, 表述清晰)

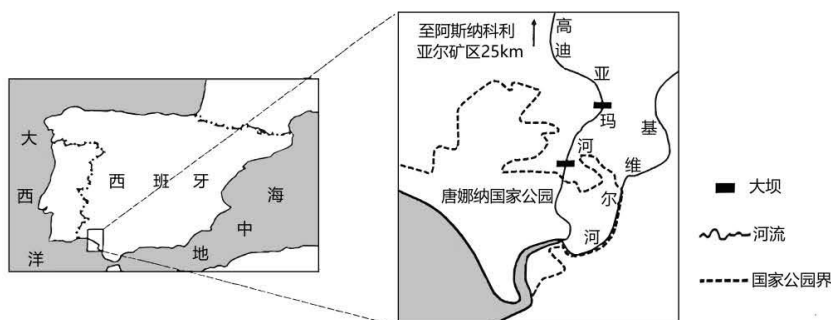
43. 【地理——选修3: 旅游地理】

天目湖旅游度假区位于江苏省溧阳市, 该景区依托两座国家级大型水库, 打造了“山水园”和“南山竹海”两个核心景区, 并陆续推出御水温泉、水世界主题乐园、研学游、亲子游、机车帐篷节、老年疗养基地等众多旅游产品。目前天目湖景区的净收益稳定在同行业前列。

分析天目湖景区净收益高的原因。

44. 【地理——选修6: 环境保护】

阿斯纳科利亚尔矿区地处西班牙南部, 盛产黄铜、锌、铅、汞等高等级矿石。1998年富含重金属酸性废水和有毒矿渣泥浆库因拦坝溃塌而泄漏, 当地迅速采取在高迪亚玛河上修筑水坝、置换客土、移走周边表层土壤、种植香蒲的方式进行治理。到2020年, 该地环境恢复状况良好, 客土上次生植被覆盖, 但少数地区铅等重金属元素仍然超标。下图为阿斯纳科利亚尔矿区周边地图。



- (1) 分析在高迪亚玛河上修筑水坝对治理重金属污染的作用。
(2) 说明采用置换客土方式进行土壤修复的原因。

45. 【历史——选修 1：历史上重大改革回眸】阅读材料，完成下列要求。(15 分)

材料 晚清以来，随着新式学堂的开办，民众“采西学”的诉求日益强烈，对新式出版物的需求颇为迫切。1897 年，夏瑞芳等出版家在上海创办商务印书馆。新文化运动期间，商务印书馆业务受到《新青年》等杂志的冲击，销售额下降，到 1919 年，积压杂志竟有 11 万册。为应对困难，商务印书馆开始广泛与大学和学界人士接触，开始发行由高等教育机构或学术团体所编辑的杂志，扩展并补充了业务范围。1932 年，日本帝国主义进犯淞沪。商务印书馆被炸焚毁，损失巨大。书馆员工坚持斗争，不久后复工。抗战期间，商务印书馆先后迁往香港、重庆，广泛接受各界捐赠古籍，出版了《四部丛刊续编》《资本论》译本等大量珍贵书籍。

——改编自正建朗、黄克武主编《两岸新编中国近代史（民国卷）》等

- (1) 根据材料并结合所学知识，分析商务印书馆创办的背景，并概括近代商务印书馆在文化传承与传播方面的贡献。(9 分)
(2) 文化传承与传播需要依靠各种载体。结合所学知识，请列举一种载体并加以阐述。(要求：史论结合，阐述充分，表述清晰)(6 分)

46. 【历史——选修 3：20 世纪的战争与和平】阅读材料，完成下列要求。(15 分)

材料 对印度的精英群体而言，一战是一个巨大的机遇。印度的精英们希望由于印度人为战争作出巨大牺牲，“战后英国会让印度自治”。甘地当时就宣称：“为祖国和大英帝国，故愿意效力。”国大党把支持英国战争同印度自治相提并论。当时的印度总督说，一战爆发后印度人已经“不为殖民政府添麻烦”。一战期间在欧洲参战的印军上尉阿玛·辛格在日记中写道，参战对他来说不仅是责任，也是宣示其个人的荣誉和民族感。他认为，

陕西师大附中高 2023 届第十次模考文科综合能力测试试题 第 15 页 (共 16 页)

由于印度的参战，印度的地位在战后相应地会得到提高。

尽管印度人为一战付出了巨大的牺牲，战争结束后，英国不仅没有让印度自治，反而变本加厉。在1919年3月通过“罗拉特法案”，对印度实行高压和残杀政策。一战后的印度人为此失望，以致他们不再同英国统治者合作，转而走向非暴力不合作运动、印度国大党一战后成为英帝国的死敌，开始为印度独立而奋斗。甘地在一战后成为印度独立运动的领袖。他在一战结束后意识到，英国对印度的殖民统治是不可名状的“不道德，不公正和自高自大。它用一个谎言来代替另一个谎言，用暴力执政。如采人民对此宽容而不抗争，我们将永远不会进步”。

——摘编自徐国琦《第一次世界大战与亚洲“共有的历史”》

(1) 根据材料和所学知识，指出一战时期印度精英阶层是如何看待战争的，并分析原因。(7分)

(2) 根据材料和所学知识，指出一战后英国对印度的殖民政策，并说明第一次世界大战对印度民族解放运动的影响。(8分)

47. 【历史——选修4：中外历史人物评说】阅读材料，完成下列要求。(15分)

材料 今天下之变亟矣，稍达时局者，必曰兴矿利、筑铁路、整商务、练海军。今试问：驱八股八韵考据词章之士，而属之以诸事，能乎否乎？则曰：有同文馆、水师学堂诸生徒在。今且无论诸生徒之果成学与否，试问：以区区之生徒，供天下十八行省变法之用，足乎否乎？人才乏绝，百举具废，此中国所以讲求新法三十年而一无所成，卒为一孔守旧之论间执其口也。今海内之大，四万万人之众，其豪杰之士，聪明材力足以通此诸学者，盖有之矣。然此诸学者，非若考据词章之可以闭户獭祭而得也。如矿利则必游历各省，察验矿质，博求各国开矿、分矿、炼矿之道，大购其机器仪器而试验之，尽购其矿务之书而翻译之，集陈万国所有之矿产而比较之。练军则必集万国兵法之书而读之，集万国制造枪炮药弹、筑修营垒船舰之法而学之。……故无三十七万金之天文台，三十五万金之千里镜，则天学必不精；不能环游地球，即游矣，而不能遍各国，省府州县皆有车辙马迹，则地学必不精。试问：一人之力，能任否乎？此所以虽有一二有志之士，不能成学，不能致用，废弃以没世也。

——摘编自梁启超《论学会》(1896年11月)

(1) 根据材料，概括梁启超的主要观点。(8分)

(2) 根据材料并结合所学知识，任选梁启超的一个观点予以简评。(7分)

关于我们

自主选拔在线是致力于提供新高考生涯规划、强基计划、综合评价、三位一体、学科竞赛等政策资讯的升学服务平台。总部坐落于北京，旗下拥有网站（[网址: www.zizzs.com](http://www.zizzs.com)）和微信公众平台等媒体矩阵，用户群体涵盖全国 90% 以上的重点中学师生及家长，在全国新高考、自主选拔领域首屈一指。

如需第一时间获取相关资讯及备考指南，请关注**自主选拔在线**官方微信信号：**zizzsw**。

