

2023年4月玉林市高三年级教学质量检测

文科综合

本试卷满分300分，考试时间150分钟

注意事项：

- 答卷前，考生务必将自己的姓名和准考证号填写在答题卡上。
- 回答选择题时，选出每小题答案后，用铅笔把答题卡对应题目的答案标号涂黑。如需改动，用橡皮擦干净后，再选涂其他答案标号。回答非选择题时，将答案写在答题卡上。写在本试卷上无效。

第I卷（选择题，共140分）

一、选择题：本题共35小题，每小题4分，共140分。在每小题给出的四个选项中，只有一项是符合题目要求的。

某奶茶品牌创立于2015年，通过创设富有设计感的体验空间门店和提供优质食材的现制茶饮，走出了一条高端现制茶饮的发展路线，目前该品牌的奶茶门店主要集中在大城市。近些年来，该奶茶品牌不断与其他品牌联名，2023年2月联名东方滋补品老字号D阿胶，推出阿胶奶茶传承养生文化，掀起国潮养生热潮。据此完成1-3题。

- 该品牌奶茶门店在中小城市分布较少的主要因素是
  - 加工技术落后
  - 市场规模狭小
  - 信息网络通达度低
  - 缺乏优质原料
- 下列区域最适合布局该奶茶门店的是
  - 位于郊区的传统工业区
  - 位于老城区的居住区
  - 中心商务区
  - 位于新城区的医院附近
- 该奶茶品牌联名其他品牌的主要目的是
  - 传承优秀传统文化
  - 扩大自身的知名度
  - 吸引顾客，增加销量
  - 引领养生潮流

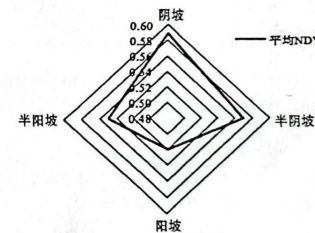
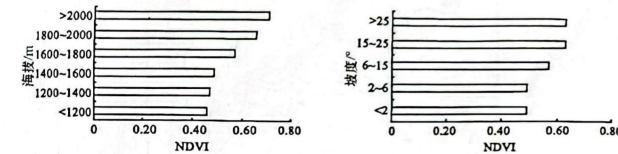
加拿大第二大城市蒙特利尔市于1962年开始建设地铁，进入地下城萌芽阶段。经过几十年的建设，目前拥有全世界最大的地下交通网络，整个地下城共有四层，规模达到了400万平方米，连接10个地铁站、2000个商店、200家饭店、40家银行，是一个巨型的消费购物中心。下图为20世纪80年代蒙特利尔地下城空间示意图，据此完成4-5题。



高三文科综合 第1页（共12页）

- 下列选项与20世纪80年代地下城分布形态最相似的是
  - 多核心模式
  - 分散组团状
  - 放射状
  - 团块状
- 地下城的建设对蒙特利尔市发展的主要积极作用有
  - ①转变城市职能
  - ②提高城市的土地利用效率
  - ③提升城市等级
  - ④缓解交通压力，减少环境污染
  - ②④
  - ①④
  - ②③
  - ①③

大青山地处阴山山脉中段，绵延240km，海拔在1030-2338m之间，属于中山山地。该地区年降水量约410mm，年均温约6.8℃，植被具有明显的垂直分布特征，自下而上由三个垂直带组成：山麓草原带、山地森林灌丛带、山地草甸带。下图为大青山自然保护区不同海拔、坡度和坡向生长季植被覆盖度（NDVI）均值的变化。据此完成6-8题。



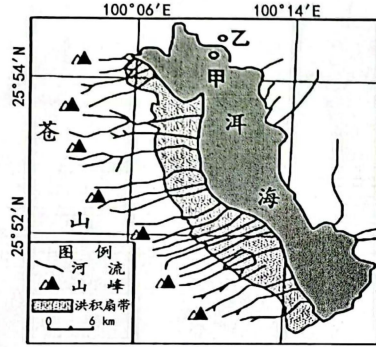
- 据图分析，该山体植被覆盖度（NDVI）高值区的区域特征是
  - 海拔高坡度大的阳坡
  - 海拔高坡度大的阴坡
  - 海拔低坡度大的阳坡
  - 海拔高坡度小的半阴坡
- 从坡度和海拔角度考虑，与图中植被覆盖度（NDVI）低值区关联最大的因素是
  - 太阳辐射
  - 气温
  - 降水量
  - 人类活动
- 与阳坡相比，大青山阴坡
  - 降水量更大
  - 土壤状况较好
  - 森林带分布上限海拔高
  - 坡度更大

高三文科综合 第2页（共12页）

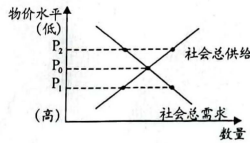


扫描全能王 创建

海拔约 4000m 的苍山山体主要由硬度较大的变质岩组成，山顶附近约半年时间存有积雪，东坡发育了多条河流，在海拔约 1950m 入湖口处形成集中连片的洪积扇。通过钻探发现，在洱海湖区边缘甲地附近普遍存在距今 6000 年前形成的螺壳层（螺多栖息在水体的岸边边缘），在乙地发现距今 3500 年前的湖砂沉积层，且期间周边整体地势变化不大。下图示意洱海周边地理物分布，据此完成 9-11 题。



9. 在图示甲乙之间的区域，距今 6000 年以来洱海湖面水平方向上的变化特点是
- 湖面先向陆地方向推进，后向湖心方向退却
  - 湖面一直向陆地方向推进
  - 湖面先向湖心方向退却，后向陆地方向推进
  - 湖面一直向湖心方向退却
10. 调查发现洱海湖区西侧洪积扇带缺少泥质沉积，最可能的原因是
- 湖水侵蚀带走
  - 风力大，侵蚀强
  - 相对缺少物质来源
  - 以冰川堆积为主
11. 推测与 3500 年前相比，现在的洱海湖区水体特征合理的是
- 污染减轻
  - 水量变小
  - 水深加大
  - 湖底泥沙量变少
12. 通货膨胀是指在纸币流通条件下，现实购买力大于产出供给，导致纸币贬值，引起一段时间内物价持续而普遍的上漲现象。其实质是社会总需求与社会总供给失衡。阅读右图，说法正确的是
- 若物价水平在  $P_1$ ，提高银行存款准备金率，保持经济平稳发展
  - 若物价水平在  $P_2$ ，减少国债发放规模，促进政府财政收支平衡
  - 若物价水平在  $P_1$ ，可降低所得税起征点，提高居民的消费意愿
  - 若物价水平在  $P_2$ ，加大市场信贷投放力度，缓解企业融资困难



高三文科综合 第 3 页 (共 12 页)

13. 保护知识产权就是保护创新。2022 年 10 月 24 日，国家知识产权局联合工业和信息化部印发《关于知识产权助力专精特新中小企业创新发展若干措施》，助力专精特新中小企业创新发展。对于国家出台政策措施，通过知识产权促进企业创新发展的推导合理的是
- 推动知识产权保护和高效利用
  - 确立企业市场创新主体地位
  - 提高企业核心竞争力
  - 促进企业高质量发展
  - 激发企业创新活力
- ⑤→①→③→④
  - ①→②→⑤→④
  - ⑤→②→④→③
  - ①→⑤→③→④
14. 2022 年以来，我国工业部门持续推进数字化、智能化、绿色化转型，技术含量较高、附加值较高的高新技术制造业持续保持较快增长。国家统计局发布数据显示，2022 年前三季度规模以上高技术制造业增加值同比增长 8.5%，有力地支撑了工业平稳较快增长，对经济的带动作用显著增强。由此可见
- 产业结构实现最优化，创新发展理念得到落实
  - 产业转型升级加快，新旧发展动能持续转换
  - 经济韧性增强，新产品、新业态和新产业涌现
  - 经济增长由传统制造业转为高技术制造业
15. 2022 年前 11 个月，我国民营企业进出口 19.41 万亿元，同比增长 113.6%，占我国外贸总值的 50.6%，比上年同期提升 2.2 个百分点。其中出口 13.22 万亿元，增长 18.1%，占出口总值的 60.6%。据此可知
- 民营企业进出口快速增长，国际竞争力提升
  - 民营企业出口商品结构优化，质量提升
  - 民营企业成为拉动我国外贸发展的重要力量
  - 民营经济对外贸发展的控制力持续增强
- ①③
  - ①④
  - ②③
  - ②④
16. 北京市人大立法规范外语服务、上海市人大立法保障进博会、重庆市人大立法规范养犬行为……各地人大始终心怀“国之大者”，坚持与时俱进，结合当地实际开展富有针对性的地方立法，解决人民群众最关心最直接最现实的利益问题，在立法中践行初心使命。这体现了地方人大及其常委会
- 作为立法机关，有责任依法制定和完善地方法规
  - 贯彻民主集中制原则，使立法成果真正惠及人民
  - 坚持实事求是，以助力地方经济发展为工作立足点
  - 依法行使立法权，体现社会主义民主政治的本质特征
- ①②
  - ①③
  - ②④
  - ③④
17. 2022 年以来，贵州罗甸县在村居网格一线实施政协委员联动“党小组+网格员+联户长”，开展庭院协商议事活动，把“请你来商量”协商议事机制真正融入群众生活，有效打通政协协商向基层延伸的“最后一公里”。此举的意义在于
- 拓展协商路径，实现决策的科学民主
  - 推进政协协商与基层协商的有效衔接
  - 推进基层民主协商，更好地集中民智
  - 将根本制度优势转化为基层治理效能
- ①③
  - ①④
  - ②③
  - ②④
18. 新疆维吾尔自治区政府在《2023 年政府工作报告》中指出，过去 5 年，新疆全面实施农村学前 3 年和新疆四地州 15 年免费教育，实现适龄儿童和青少年就学全覆盖、国家通用语言文字教育教学全覆盖、家庭经济困难学生资助全覆盖，义务教育由基本均衡向优质均衡迈进。新疆文化教育事业的发展成就表明
- 我国尊重和保障公民接受教育的权利
  - 党和国家承担着发展文化教育的职能
  - 发展文化教育促进各民族共同繁荣的重要前提
  - 发展文化教育保障少数民族人民更好行使民族自治权
- ①③
  - ①④
  - ②③
  - ②④

高三文科综合 第 4 页 (共 12 页)



扫描全能王 创建

19. 2022年11月29日,我国申报的“中国传统制茶技艺及其相关习俗”列入联合国教科文组织人类非物质文化遗产代表作名录。对中国各地民众来说,茶是必需品,他们对茶有不同的需求。如江浙一带喜绿茶,台地区好乌龙茶,在西藏等地人们习惯用黑茶制作酥油茶、奶茶等。这说明中国茶文化
- ①在世代传承中形成了地域性、民族性特征      ②引导人们感悟人生,增进人际关系和谐  
③具有海纳百川、熔铸百家的包容力              ④体现着中华民族的创造力和文化多样性
- A. ①③      B. ①④      C. ②③      D. ②④
20. 某地创新党史教育形式,在线上,开设“党史百年天天读”“党史故事大家讲”等自办栏目,推出“云长征”活动;在线下,聘任基层宣讲员,深入雪山草原,走到牧民群众家门口,大力宣讲灾后重建、生态环境保护中取得的成就,让老百姓感受党的伟大、党的关怀,坚定不移当好“中华水塔”守护人。上述活动意在引导人民群众
- ①感悟党的初心使命,厚植爱党爱国情感      ②坚定共产主义理想,弘扬伟大时代精神  
③赓续红色文化血脉,筑牢理想信念之基      ④了解党的光辉历史,提升理论认知水平
- A. ①②      B. ①③      C. ②④      D. ③④
21. 不断适应新冠病毒变异新特点和疫情防控新形势,科学精准优化细化防控举措,是打好这场疫情攻坚战的关键。从唯物论角度看,提升科学精准防控水平需要
- ①实事求是地综合研判,调整就医买药措施      ②坚持与时俱进,大胆抛弃既有的防疫政策  
③一切从实际出发,让核酸检测更有针对性      ④具体问题具体分析,让风险区划定更精准
- A. ①②      B. ③④      C. ②④      D. ①③
22. 《关于支持海南自由贸易港建设放宽市场准入若干特别措施的意见》发布,以海南作为全国放宽市场准入试点的先手棋,推出22条“量身打造”的特别准入政策。这22项特别措施,瞄准的是社会资本有进入意愿和破除壁垒迫切需求的关键点,将对相关领域产生巨大撬动效应,为推动全国市场准入改革破冰探路。这些措施
- ①量身打造、精确施策,着眼于海南的特殊定位  
②试点先行、全国推广,体现了个性寓于共性之中  
③瞄准关键、撬动全局,说明事物的性质由矛盾的主要方面决定  
④率先破局、破除壁垒,开拓了市场准入改革的新路径
- A. ①②      B. ②③      C. ①④      D. ③④
23. 在北斗30年的创业之路上,有一个人见证了北斗从无到有、从弱到强的全过程,她就是周建华。回首北斗组网之路,这一路披荆斩棘、险象环生,周建华时刻都在战斗。她自比是一颗螺丝钉,无论任何艰苦的岗位,只要国家需要,她就义无反顾地投身其中,将有限的精力全部投入无限的工作当中,这告诉我们要
- ①在奉献社会中谱写人生的精彩华章      ②把个人理想前途与国家命运紧密结合  
③坚定理想信念就能实现人生价值      ④通过砥砺自我这一根本途径创造价值
- A. ①②      B. ①③      C. ②④      D. ③④
24. 商周青铜器是按照一定的规矩制作的。在制模阶段,用的是原始的规与矩,即今天的圆规与曲尺;在制作纹饰的阶段,用的是意识形态的规矩。从先秦的政治家到普通百姓,无不意识到各种规矩的存在。按规矩制作出来的范就是规范。由此可知
- A. 工匠精神渗透着儒家的思想      B. 标准化生产开始于古代中国  
C. 规范兼具物质与文化的统一      D. 规矩意识贯穿整个中国历史
25. 东汉初年,光武帝加强皇权,增强尚书台的作用;严格控制外戚干政;裁并郡县,裁减官吏,节省开支;整顿吏治,惩处贪污腐败;清查全国垦田、户口数量;释放奴婢;重视儒学。光武帝的这些做法
- A. 奠定了“文景之治”的基础      B. 是为无为而治休养生息的体现  
C. 消除了割据实现了全国统一      D. 不利于豪强地主势力的发展

高三文科综合 第5页(共12页)

26. 唐朝对官员每年一小考,每三年一大考。小考评定被考者的等第,大考综合三年中的等第以决定升降赏罚。考课标准为“四善”“二十七最”,“四善”一曰德义有闻,二曰清慎明著,三曰公平可称,四曰恪励匪懈。“二十七最”则主要是对各类官吏才能方面的考察。据此可知,唐代官员考核制度
- A. 受到儒家思想的深刻影响      B. 受制于专制主义中央集权  
C. 直接关系到官员选拔任免      D. 确保了唐代官员德才兼备
27. 中华民族从多元走向一体的过程是各民族互动交融的过程,这个过程既充满了血与火的冲突,又充满了经济与文化的整合。元明清时期的整合互动包括政治体制的整合、怀柔政策的整合、经济交流的整合、宗教管理的整合等方面。元明清的整合互动
- A. 传播了中原先进的生产方式      B. 奠定了统一多民族国家的基础  
C. 实现了各民族之间的平等往来      D. 显示了中华文明的兼容并蓄
28. 《四库全书·总目》中说:“欧罗巴人天文推算之密,工匠制作之巧,实逾前古。其议论夸诞怪怪,亦为异端之尤。国朝节取其技能,而禁传其学术,具存深意。”上述记载所体现的思想理念在中国近代的传播
- A. 有利于传播民主共和的理念      B. 有利于中国早期现代化的探索  
C. 动摇了封建思想的统治地位      D. 使现代化探索深入到制度层面
29. 据北京政府农商部统计,1914年工业企业注册的资本是六千二百多万,1920年增至一亿五千五百万元,增加125%;资本在50万元以上的大企业1914年只占总数4%,1920年增加至14%。这一现象
- A. 说明了近代民族工业获得初步发展      B. 折射了国民经济建设运动的影响  
C. 反映了中国被迫卷入资本主义市场      D. 为民主革命的新发展创造了条件
30. 1940年3月,毛主席发表《目前抗日统一战线中的策略问题》,深刻分析和判断了国内民族矛盾与阶级矛盾的发展形势,及时明确了党在抗日战争时期的主要任务,提出要“发展进步势力,争取中间势力、反对顽固势力”。这反映出当时
- A. 国共力量的对比发生显著变化      B. 民族矛盾让位于阶级矛盾  
C. 中国共产党对统一战线的维护      D. 抗日战争进入到防御阶段
31. 1978年、1992年我国国民经济成分比较表

所有制性质	经济成分	1978年	1992年
公有制经济	全民所有制经济	80.0%	51.4%
	集体所有制经济	19.2%	35.0%
私有经济	城乡个体经济	0	7.8%
	私营经济、合资、外商独资	0	5.8%

表格中的数据变化主要是由于

- A. 经济体制改革的逐步推进      B. 市场经济体制目标的确立  
C. 计划管理调控作用的增强      D. 南方谈话推动思想的解放
32. 柏拉图在《理想国》中从个人需要的多样性、能力的片面性和个人能力的差异性这三个方面来阐述社会分工的必要性,进而以分工为基础描述了国家的产生。柏拉图的这一国家学说
- A. 是基于对雅典民主政治的反思      B. 成为人文主义萌发的渊源  
C. 对现实政治的发展有直接影响      D. 肯定了个人能力的重要性
33. 金观涛在《西方社会结构的演变》一书中指出:“中世纪西欧的城市既不起源于伯爵的城堡,也不起源于大教区管辖的中心。从地理位置上讲,它们建立在商业贸易的交结点上,出现在封建关系最薄弱、封建统治鞭长莫及或权力真空的地带。所以在这些城市中……无法阻碍资本主义结构的潜组织因素的结合。”材料旨在说明中世纪西欧
- A. 城市的自治特征显著      B. 社会转型因素的逐步成长  
C. 商业贸易的繁荣发展      D. 封建生产关系面临的危机

高三文科综合 第6页(共12页)



扫描全能王 创建

3

官方微信公众号: zizzsw

官方网站: [www.zizzs.com](http://www.zizzs.com)

咨询热线: 010-5601 9830

微信客服: zizzs2018

34. 右边漫画中女性为正义女神朱斯提提亚，是西方法治与民主的象征，但是正义女神的化身却在非洲大肆屠杀土著居民。对于该漫画，以下说法正确的是

- A. 可以与其他史料相互印证，还原历史真相
- B. 属于原始史料，有助于了解西方殖民历史
- C. 真实反映了西方殖民的罪恶，史料价值高
- D. 作者的主观意识强烈，不能用作史料证史



《正义》

35. 针对 20 世纪 80 年代苏联社会发展面临的困境，戈尔巴乔夫认为“可以在最短时间解决长期积累下来的问题，以为能够解决按其内容是不容易同时解决的矛盾。”这反映了戈尔巴乔夫改革

- A. 突破了原有现代化模式的束缚
- B. 导致苏联背离了社会主义方向
- C. 忽视了改革的复杂性及艰难性
- D. 没有处理好改革与发展的关系

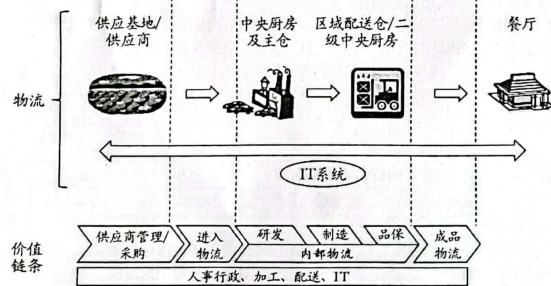
第 II 卷（非选择题，共 160 分）

二、非选择题：本卷包括必考题和选考题两部分。第 36~42 题为必考题，每个试题考生都必须作答。第 43~47 题为选考题，考生根据要求作答。

(一) 必考题：共 135 分。

36. 阅读材料，完成下列各题。(22 分)

材料一：中央厨房是指由餐饮连锁企业建立的，具有独立场所及设施的工厂，完备的中央厨房包括统一采购、标准化生产、统一包装、统一配送等过程。下图为中央厨房产业流程图。

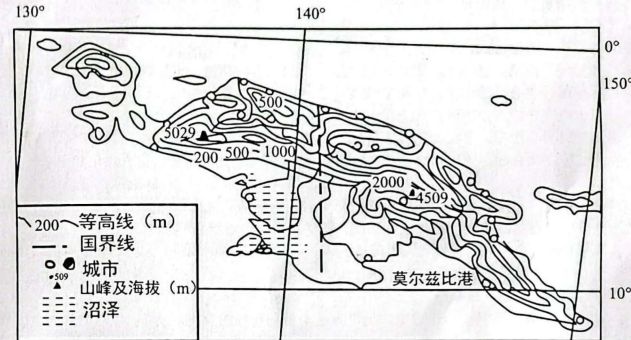


材料二：W 集团以前从事学校食堂食材供应及配送业务，有自家的无公害蔬菜基地，是一家实力雄厚的生鲜配送企业，拥有成熟完善的配送链系统。近些年，W 集团打造了一个符合食药监 A 级厨房要求的学生餐中央厨房，为全市学生提供从生产到送达不超过 4 小时，且餐品温度达到 60°C 以上的学生餐。

- (1) 结合材料指出中央厨房企业的生产特征，并说明其对餐饮连锁企业带来的积极作用。(8 分)
- (2) 说明 W 集团打造学生餐中央厨房的有利条件 (6 分)
- (3) 结合材料推测 W 集团学生餐中央厨房的位置特征。(8 分)

37. 阅读材料，完成下列各题。(24 分)

新几内亚岛是仅次于格陵兰的世界第二大岛，七千年前仍与澳大利亚大陆相连，后由于海平面上升，使两者被海水分隔。连绵不断的中央山脉斜贯全岛，分布有许多死火山，森林覆盖率在 80% 以上。独特的演化和多样的环境使岛内生物多样性非常突出，特有物种多，因鸟类众多，被称为鸟类的乐园。下图为新几内亚岛地形图。



(1) 说明新几内亚岛的自然位置特征 (6 分)

(2) 分析新几内亚岛特有物种多的原因。(4 分)

(3) 鸟类通常以花、果、虫、鱼为食，从食物角度分析新几内亚岛被称为鸟类乐园的原因。(6 分)

(4) 分别说明火山活动和海平面上升对新几内亚岛生物多样性带来的影响。(8 分)

38. 阅读材料，完成下列要求。(14 分)

党的二十大报告指出，中国式现代化是全体人民共同富裕的现代化。共同富裕是中国特色社会主义的本质要求，也是一个长期的历史过程。全科试题免费下载公众号《高中僧课堂》

2022 年 10 月 17 日，习近平总书记参加党的二十大广西代表团讨论，听取了来自广西苍梧县山坪村祝雪兰代表的发言，听她讲述了边远瑶寨发展茶产业带来的巨大变化。广西壮族自治区重点贫困村山坪村茶叶有 1500 多年历史。近年来，该村在党支部的领导下，村委会召集村民多次探讨共同富裕路径，开发制作六堡茶的秘方。创办“茶园讲堂”，培训专业制茶师 30 多人，让近千名茶产业从业者掌握了传统制茶工艺。自治区党委、政府明确提出以六堡茶为引擎打造广西千亿元茶产业，逐步形成了以茶企为龙头，村级集体经济为特色，种植大户和普通农户为补充的茶园建设格局，呈现出“政府引导、企业主体、茶农参与”的良好局面。2019 年，村集体与深圳一家公司合作开发了集民宿、茶园及生产一体的六堡瑶乡田园综合体。目前，梧州市茶叶专业合作社发展到 175 户，从业人员达 5 万多人，直接带动 24 万多农户受益（其中脱贫人口约 3.5 万人），2021 年，村民人均收入超 2 万元。一片片茶叶照亮了“共富梦”，一座座茶山变成了“幸福山”。

结合材料，运用经济生活的知识，分析山坪村发展路径对实现共同富裕的启示。(14 分)



扫描全能王 创建

39. 阅读材料，完成下列要求。(12分)

争得“开门红”、干出“开门红”。2023年新年伊始，F省省委、省政府召开民营经济代表人士座谈会，与大家共商良策、共谋发展。

F省是民营经济大省，是民营经济最早的发地之一，民营企业是全省经济发展的重要支撑、创新创业创造的重要主体、增进民生福祉的重要力量。一直以来，F省切实落实“两个毫不动摇”，把民营企业和民营企业当作“自己人”，该“握手”时就“握手”，出台扶持民营经济发展的有效举措，针对民营企业出台更加有效的财政支持和税费减免政策，营造更好的投资环境和政策预期；该“放手”时就“放手”，持续深化“放管服”改革，创新数字政务服务模式，继续深入推进行政审批体制和投资融资体制改革；加强市场监管，营造公平竞争的市场环境，提振民营经济发展的底气和信心；开展年度全省市场主体满意度调查，落实民营企业参与涉企政策制定机制，政策调整时设置合理过渡期；弘扬重商、亲商、爱商优良传统，树牢红线意识，守好底线，把好事办好，不徇私，不搞权钱交易，做到亲而有度守底线、清而有为敢担当。

结合材料，运用政治生活的有关知识，说明F省政府在推动民营经济发展中的角色定位。(12分)

40. 阅读材料，完成下列要求。(26分)

动物细胞也可能拥有和植物一样的光合作用，逆转细胞退变衰老的“时光之门”被敲开。2022年12月8日，浙江大学医学院附属邵逸夫医院原创性科研成果被国际期刊《自然》杂志以长文(Article)形式刊登，成为国内首篇登上《自然》杂志的骨科研究文章。

类囊体是植物光合作用至关重要的“基地”，对植物有效利用自然界能量起着关键作用，可以说，植物的“能量密码”就蕴藏其中。该团队基于天然光合作用系统，针对进行性疾病的治疗策略进行了研究。经过团队的不懈努力，成功提取并纯化了菠菜绿叶中的类囊体组分。但如何将类囊体安全、精准地递送到动物的衰老退变细胞内，又成为了限制研究团队向医疗领域应用的巨大难题。团队尝试了脂质体包载等多种递送方法，但始终没有取得预期的理想效果。随后，团队大胆假设，小心求证，经过一番摸索，最终成功用细胞膜“伪装”了纳米类囊体“瞒天过海”，实现了纳米类囊体的胞内递送。接着，在老年骨关节炎小鼠中展开多轮实验后，团队得出结论，移入类囊体使软骨细胞的合成代谢得以重塑。实验表明，类囊体在小鼠体内果真起到了为衰老细胞供能的“生物电池”作用。团队成员范顺武说：“未来，我们希望这项研究成果能应用在其他疾病的治疗上，比如心脑血管的再生修复、肌肉萎缩等，让一些重大疾病不用手术也能得到治疗。”

以“根创新”探索科研新范式，也就是说从源头、从根本做创新，这是他们成功的重要原因。团队的科研之路以“突破”为导向，敢于创新、十分融洽，坚持不懈，致力于在基础科学原创领域中创造出现更多的“中国声音”。他们的创新实践是以改革创新为核心的时代精神的生动诠释。经过多年的坚持与积累，课题组成员变得越来越自信，做出了让国内外同行“羡慕”的突破性成果，走出一条自身特色鲜明的基础研究原创道路。

- (1) 结合材料，运用实践和认识的相关知识，分析实践在该医疗团队研究过程中的作用。(12分)
- (2) 弘扬创新精神对于推动科技创新具有重要作用，结合材料并运用文化作用的知识加以说明。(10分)

青年兴则国家兴，青年强则国家强。为实现科技强国梦，我们青少年义不容辞。某班级的同学们纷纷表示要为科技强国“添砖瓦”，并写下承诺书。

我承诺：

- ①
- ②

.....

- (3) 假如你是该班学生，请你将上述两条承诺书补充完整。(4分)

高三文科综合 第9页 (共12页)

41. 能源转型是人类文明发展的驱动力，世界能源转型受多种因素综合影响。阅读材料，完成下列要求。(25分)

材料一

明清江南使用的燃料，主要有薪炭、芦苇、秸秆和煤四大类。明清时期，江南地区的煤资源已得到比较充分的开发，但仍不能满足工农业生产需要，需要湖南、江西、湖北等地输入煤炭。但总的来看，煤炭在燃料消费中所占的比重并不大。资本主义再生产是以扩大再生产为特征的。充分的能源(包括燃料)供应是这种扩大再生产所必需的物质前提之一。以可大量获得的化石燃料作为能源基础，是工业社会的主要特征之一。明清江南的燃料问题限制了社会再生产规模的扩大，从而也限制了资本主义生产关系再生产规模的扩大。因而，在几百年的时间里，江南工农业中的资本主义萌芽成长极为缓慢，只能以马克思所说的那种“资本主义生产的幼年时代”所特有的“蜗牛爬行的速度”向前爬行着。年复一年，虽然多少有所前进，但距离新时代的门槛，道路还十分遥远。

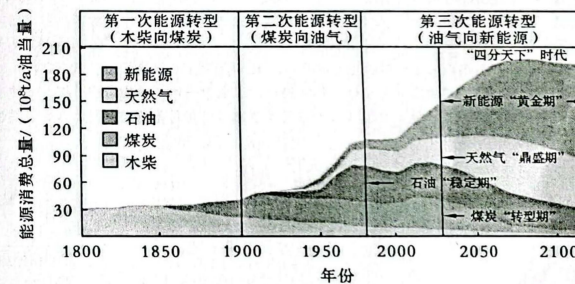
——摘编自李伯重《明清江南工农业生产中的燃料问题》

材料二

英国传统能源依赖木材，16世纪下半期开始，英国能源逐渐转型。到17世纪中期，英国的城镇基本上都开始使用煤炭作为主要生活燃料。到18世纪上半叶，煤炭已经取代柴薪，成为英国制造业所使用的主要能源。到了19世纪，英国已经基本完成了从柴薪到煤炭的能源结构转型，正式步入化石燃料时代。这比欧洲其他国家早了将近150年。凭借储量丰富的煤炭和铁矿，英国海军迅速发展壮大，到1899年拥有各类舰艇472艘，总吨位达到约126.6万吨，大大提升了英国的综合国力。

——摘编自潘荣成《近代早期英国能源转型及其启示》

材料三



——邹才能等《能源革命：从化石能源到新能源》

- (1) 根据材料一二，指出近代早期英国与明清江南地区在能源消费结构上的差异并分析其对两国的不同影响。(12分)
- (2) 根据材料一二三，归纳世界能源转型的规律，并结合所学知识分析影响能源转型的相关因素。(13分)

高三文科综合 第10页 (共12页)



扫描全能王 创建

42. 阅读材料，完成下列要求。(12分)

材料

“殿试策问”作为科举考试的一个重要环节，不仅具有衡才选士的价值，更具有很强的时政性。皇帝往往以制诰阐述问策宗旨，问答之间涉及多方面的社会问题，如吏治、民生民食、风俗教化、河患与漕运等。殿试策问的流程反映了清代殿试策问制度的日臻完善，策问较之其他科考形式，更有利选拔真才实学与贴近社会现实。以下表格是清代的殿试考试时间表：

道光时期	1840	1841	1844	1845	1847	1850	
咸丰时期	1852	1853	1859	1860			
同治时期	1862	1863	1865	1868	1871	1874	
光绪时期	1876	1877	1880	1883	1886	1889	1890
	1892	1894	1895	1898	1903	1904	

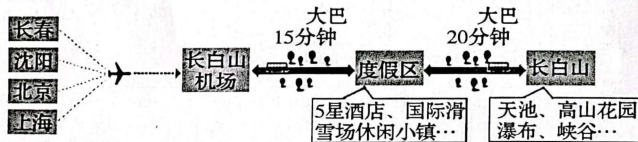
——于爱华《清代殿试时间考》

结合材料和所学知识，请从表中任选一场殿试，拟定一个策问问题，同时请你以一名殿试考生的身份，依据史实说明你如何回答这个问题。(要求：明确写出科举考试年份和问题，解决办法要有史实依据，阐述严谨，用白话文阐述。)

(二) 选考题：共 25 分。请考生从 2 道地理题、3 道历史题中每科任选一题作答。如果多做，则每科按所给的第一题计分。

43. 【地理选修 3：旅游地理】(10 分)

2023 年春节，以滑雪为主题的长白山 S 国际度假区迎来冬奥会后第一个滑雪季，春节期间白色旅游持续火爆，创度假区自开业以来春节客流量、总收益双峰值。S 国际度假区地处 41°N 黄金滑雪度假带，是中国唯一高端山地度假体验地，以长白山 16 峰为依托，南有天池，东有圆池，北有森林，集滑雪、山地度假、高端酒店群、度假小镇、娱乐、温泉于一体，满足商务高端人士的度假需求。自 2019 年起，S 国际度假区就已成为各级专业滑雪训练队的训练基地。下图示意 S 国际度假区旅游信息。



分析 S 国际度假区在 2023 年春节期间客流量、总收益创双峰值的主要条件。

44. 【地理选修 6：环境保护】(10 分)

泥炭地是一种特殊的湿地类型，具有卓越的碳汇能力，泥炭地面积占地球表面的 3%，承担了全球约 1/3 的土壤碳储量，被誉为气候变化的“缓冲器”。位于黄河上游水源涵养区的若尔盖湿地是世界上面积最大、保存最完好的泥炭沼泽湿地，泥炭总储量达 71 亿立方米。近年来，若尔盖湿地泥炭遭到不法分子盗挖，对高原生态环境造成了不可估量的损失。

指出若尔盖湿地利于泥炭形成的环境条件，并分析非法盗挖对碳循环带来的不利影响。

45. 阅读材料，完成下列要求。[历史—选修 1：历史上重大改革回眸] (15 分)

材料

新中国成立以后，中国科学院遵照党和政府的指示，在民族地区组织了一些小规模少数民族语言调查队。从 1956 年 2 月起，中国科学院和中央民族学院、西南民族学院、中南民族学院合作，分别在北京和成都开办了约 500 人的语言调查训练班，并和有关机构共同组成了约 700 人的 7 个少数民族语言调查队。这 7 个工作队从 1956 年 4 月起，分别到广西、广东、贵州、云南、四川、湖南、湖北、青海、甘肃、黑龙江等省的少数民族地区和西藏自治区、内蒙古自治区、新疆维吾尔自治区进行现代方言和原有语言文字的调查研究，各工作队充分尊重各民族自己的意愿，只提出调查研究的结果，至于没有文字的民族究竟创制什么样的文字，或采用何种现有的文字，原来有文字的民族究竟怎样发展现有的文字，或在什么程度上改革现有文字，都由本民族自己决定和解决。

——摘编自李飞龙《政治认同与建国初期少数民族文字改革》

- (1) 根据材料并结合所学知识，概括建国初期少数民族地区文字改革的特点。(7 分)
- (2) 根据材料并结合所学知识，分析建国初期少数民族地区文字改革的影响。(8 分)

46. 阅读材料，完成下列要求。[历史—选修 3：20 世纪的战争与和平] (15 分)

材料

十月革命发生后，由于社会制度和意识形态领域的根本分歧，美国始终拒绝承认布尔什维克政权，并在国际事务中孤立苏维埃国家。20 世纪 20 年代末 30 年代初，世界经济的发展呈现两极发展态势。资本主义世界经济受到重创，这一时期苏联经济不仅没有受到经济危机的影响，相反却在这一时期呈现良好的发展态势。世界经济危机不仅给资本主义国家的经济带来严重破坏，也使国际政治局势发生深刻变化，这种变化成为日后苏美外交关系转变的前提条件和重要契机。1933 年 3 月上台的罗斯福改变了美国对苏联的外交政策，两国开始就建交方面的相关事宜进行谈判。正是由于上述新因素的存在，才使得苏美在长达 16 年没有外交关系的状态得以在 1933 年 11 月 16 日结束，苏美建交是国际关系史上的一件大事，其影响是很大的。

——摘编自曹广全《论推动苏美建交的新因素》

- (1) 根据材料并结合所学知识，概括二三十年代苏美关系走向缓和的背景。(7 分)
- (2) 根据材料并结合所学知识，简析二三十年代苏美关系走向缓和的影响。(8 分)

47. 阅读材料，完成下列要求。[历史—选修 4：中外历史人物评说] (15 分)

材料

《资治通鉴》由北宋史学家司马光(1019-1086 年)所编著，记载了战国至五代一千三百六十二年间的历史，是前古未有的编年体通史巨著。司马光力求描述历史的本来面貌，用“国家兴衰、生民休戚”两项纲领作为修史原则。为此，司马光在编修中搜罗了当时所能找到的史书，率领由当时著名史学家组成的修书班子，分工合作，“研精极虑穷竭所有，日力不足继之以夜”。编修《资治通鉴》成书后即受到从封建皇帝到地主士大夫的推崇。《资治通鉴》在概括历史内容的方法、史学体例和治史方法方面有其超越前人、并能长期影响以后史学发展的内容。比如司马光主张“据功业之实”，即从实际出发对待历史上各代不同政权的做法，冲破了“正统论”的束缚，能够比较正确的对待我国历史上汉族与少数民族政权之间的关系，这是很大的进步。

——摘编自孙方明《论司马光的史学思想》

- (1) 根据材料并结合所学知识，概括司马光史学思想的特点。(7 分)
- (2) 根据材料并结合所学知识，评析司马光史学思想的价值。(8 分)



## 关于我们

自主选拔在线是致力于提供新高考生涯规划、强基计划、综合评价、三位一体、学科竞赛等政策资讯的升学服务平台。总部坐落于北京，旗下拥有网站（[网址：  
www.zizs.com](http://www.zizs.com)）和微信公众平台等媒体矩阵，用户群体涵盖全国 90% 以上的重点中学师生及家长，在全国新高考、自主选拔领域首屈一指。

如需第一时间获取相关资讯及备考指南，请关注**自主选拔在线**官方微信号：[zizzsw](https://www.zizs.com)。



微信搜一搜

自主选拔在线