

鄂南高中 黄冈中学 黄石二中 荆州中学 龙泉中学
武汉二中 孝感高中 襄阳四中 襄阳五中 宜昌一中 夷陵中学
2023 届高三湖北十一校第一次联考
历史 试题

命题学校：襄阳四中 命题人：肖利军 黄琰 审题学校：武汉二中 审题人：黄小平
考试时间：2022 年 12 月 8 日 10:30-11:45

注意事项：

1. 答题前，先将自己的姓名、准考证号、考场号、座位号填写在试卷和答题卡上，并将准考证号条形码粘贴在答题卡上的指定位置。
2. 选择题的作答：每小题选出答案后，用 2B 铅笔把答题卡上对应题目的答案标号涂黑。写在试卷、草稿纸和答题卡上的非答题区域均无效。
3. 非选择题的作答：用黑色签字笔直接答在答题卡上对应的答题区域内。写在试卷、草稿纸和答题卡上的非答题区域均无效。
4. 考试结束后，请将本试卷和答题卡一并上交。


一、选择题：本大题共 16 小题，每小题 3 分，共 48 分。在每小题给出的四个选项中，只有一项是符合题目要求的。

1. 张荫麟、吕思勉在《国史十六讲》中说：“氏室上面的一层是国君和同姓卿大夫构成的大家族，更上的一层是周王和同姓诸侯构成的大家族。其天子和异姓诸侯彼此间则多半有姻戚关系。这整个封建帝国的组织大体上是以家族为经，家族为纬的。”由此可知
A. 封建社会建立在分封制基础上
B. 家国一体的国家治理模式
C. 先秦政权尚未实现中央集权
D. 以血缘宗法构建政权组织
2. 印度佛教认为果报不论现报、生报或者后报都是个人的事。传入中国后，慧远认为：一人得道，其功德“泽流天下，即使内乖亲子的关系，也不违其孝”；果报可以此生世世承负，也可在一个家庭内父子相承，代代承负果报。据此可知佛教
A. 吸收儒家伦理逐渐本土化
B. 增强理论性思辨性日趋系统化
C. 传入中国后开始世俗化
D. 迎合统治者的需求不断政治化
3. 唐《关市令》规定，买卖奴婢、牛、马、驼、骡、驴等，必须“用本司、本部公验以立券”，“无私契之文，不准私券之限”。《唐律疏议·杂律》中规定：“诸负债违契不偿，一匹以上，违二十，笞二十，二十日加一等，罪止杖六十。三匹加二等，百匹，又加三等。各令备偿。”以上材料反映唐朝

2023 届高三湖北十一校第一次联考 历史试题 第 1 页（共 8 页）

- A. 立法保护契约关系
B. 注重保护债务人权益
C. 市场发达交易活跃
D. 以礼入法法律成熟
4. 1258 年蒙古南侵，南宋财政亏空加大，政府滥发纸币导致通胀恶化。为解决以上问题贾似道推行公田法（低价购买民间尤其官员手中超限的部分土地），结果激起民怨，加剧恶性通胀循环。1262 年面对拜占庭帝国的军事进攻，为解决财政压力，威尼斯授权政府发行国债（以税收作为定期利息），被称为 13 世纪最伟大的金融创新。对材料解读正确的是
- A. 战争催生了金融创新
B. 反映农耕文明和商业文明的差异
C. 政府垄断破坏金融秩序
D. 金融稳定是政权巩固的重要因素
5. 西晋王衍擅谈玄学，自比子贡，及为石勒所杀，将死，顾而言曰：“呜呼，吾曹虽不如古人，向若不祖尚浮虚，戮力以匡天下，犹可不至今日。”顾炎武对此评论说：今之君子得不有愧乎其言？由此可知，顾炎武
- A. 呼吁知识分子反清复明
B. 主张天下兴亡匹夫有责
C. 反对王阳明的心学理论
D. 倡导经世致用的思想
6. 德国地质学家李希霍芬于 1868—1872 年间对中国做了 7 次考察，他重点关注矿藏、交通等。1877 年，李氏提交了《山东地理环境和矿产资源》的报告，其中强调了青岛地区优越的地理位置，并提出可以在胶州湾筑建港口的观点。李氏之后，欧美人士来华调查者趾踵相接。上述活动
- A. 开启列强瓜分中国的狂潮
B. 加速了向近代矿业发展的进程
C. 便利了列强对华资本输出
D. 刺激了西方对中国进一步考察
7. 康熙帝将宋朝以来“敬天法祖、勤政爱民”的统治家法作为治国政纲，乾隆帝更是提出“中华统绪，绝不断线”的观点。甲午战争后，梁启超致力于开启、培养国民相应的国家意识。革命派提出，中国在“异种残之，外邦逼之”情况下，建立起一个现代民族国家“殆不可以须臾缓”。上述材料反映了
- A. 近代中国的民族国家意识逐渐形成
B. 国民教育与救亡图存紧密联系
C. 反专制与求民主成为核心价值追求
D. 革命派致力于推翻清王朝统治

8. 图 1 是 20 世纪 30 年代中国共产党在湘鄂西根据地发行的壹元信用券的反面。对该券解读正确的是



附注：中间加盖红色篆字“鄂西农民银行”方印，下面是鄂西农民银行信用券条例（节选）：
一、本行为冲破敌人的经济封锁，活动赤区金融，发展工农商业特发行信用券……
三、本券以政府税收、富农特捐及累进税为担保品。
左侧：“扫除封建势力，消灭军阀混战”
右侧：“武装保护苏联，打倒帝国主义”

图 1

- A. 在湘鄂西普遍使用代用货币
B. 反映革命根据地的主要任务是经济建设
C. 具有鲜明的革命性和阶段性
D. 是中国共产党巩固革命统一战线的探索
9. 1954 年 6 月 30 日，陈云在关于第一个五年计划编制情况向中共中央的汇报中说：“按比例发展的法则是必须遵守的，但各生产部门之间的具体比例，在各个国家，甚至一个国家的各个时期，都不会是相同的。一个国家，应根据自己当时的经济状况，来规定计划中应有的比例。究竟几比几才是对的，很难说。唯一的办法只有看是否平衡。”据材料可知，当时陈云主张
- A. 尊重市场价值规律
B. 全国建立计划经济体制
C. 以经济建设为中心
D. 注重国民经济平衡发展
10. 表 1 是美国公众对中国、日本、俄罗斯的感情“温度”指数，影响表格中美国公众对华感情“温度”变化的原因是

表 1 美国公众对中国、日本、俄罗斯的感情“温度”指数

年份	中国	日本	俄罗斯
1990 年	45	52	59
1994 年	46	53	54
1998 年	47	55	49
2002 年	48	60	55

——摘编自余建军《美国公众的中国观与美国对华政策（1990—2002）》

- A. 世界多极化格局形成
B. 中美意识形态差异逐渐消除
C. 中国改革开放的深化
D. 美国已经丧失世界霸主地位

11. 《汉谟拉比法典》前言中说：安努（众神之父）与恩利尔（大地和空气之神）为人类福祉计，命令我，荣耀而畏神的君主，汉谟拉比，发扬正义于世，灭除不法邪恶之人，使强不凌弱，使我有如沙马什（太阳神和司法天神），昭临黔首，光耀大地。对上述材料理解准确的是
- A. 君主专制王权高于法权
B. 君权神授追求司法公正
C. 神意立法力求伸张正义
D. 法权至上协调社会矛盾
12. 1721年，英国议会首次对行政高官进行质询。1783年，下议院议长宣布，任何议员都有权向大臣或官员提出问题，被质询者可以答复，也可以拒绝答复。1835年，质询首次出现在英国议会下院的议事程序单上，并公布于众，被质询者必须在规定时间内做出答复。这一变化反映了
- A. 质询专业化制度化的发展趋势
B. 议会加强对行政权的监督制约
C. 分权制衡保障民主与决策科学
D. 议会成权力中心掌握国家实权
13. 从19世纪后期到第一次世界大战爆发前，国际贸易迅速发展(如表2所示)。现有研究表明，1870到1914年间经济全球化达到一个小高潮。其主要原因是

表2 世界贸易指数和贸易总额

年份	贸易指数 (以1913年为100)	贸易总额 (单位：10亿法郎)
1870	24	45.5
1880	36	68.8
1890	49	94.2
1900	68	118.2
1910	85	162.4
1913	100	192.4

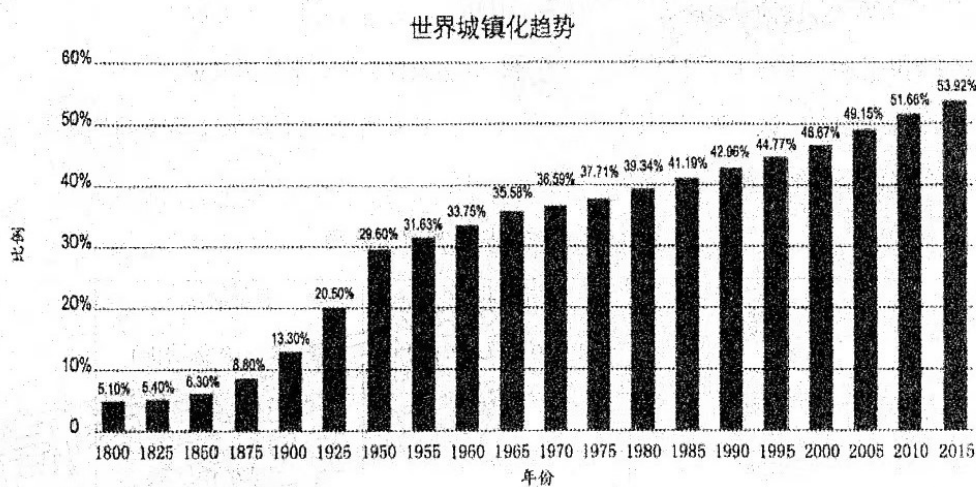
- A. 世界贸易总额迅猛增长的直接推动
B. 工业革命推动世界经济体系化、制度化
C. 资本主义世界市场的最终形成
D. 资本主义进入相对稳定与和平发展时期
14. 1921年列宁指出，在农村还没有实行共产主义的物质基础之前，决不能过早地提出向农村推行共产主义目标；共产主义与商业并非“风马牛不相及”；在大机器工业还没有充分发展的条件下，商业是“千百万小农与大工业之间唯一可能的经济联系”。列宁旨在
- A. 利用商品货币关系恢复农村经济
B. 改革计划经济管理体制
C. 实现国民经济各部门的协调发展
D. 推动农民走集体化道路

15. 某同学写了一篇关于西方资本主义社会问题的历史小论文，并设计了右侧提纲，据此判断这篇论文的主题是

- A. 工业化与城市化进程
- B. 自由主义与国家干预
- C. 民主化与法制化趋势
- D. 社区组织形成与发展

1. 工业革命与城市化问题
 2. 二战后基层自治的发展
 3. 联合国倡导和积极推动
 4. 市场化社会化发展方向

16. 图3为1800年—2015年世界城镇化趋势图，反映了城镇人口占世界总人口比例的变化情况。据此可知，下列有关世界城镇化进程的解释正确的是



注：上图根据联合国《世界城镇化展望（2018年版）》等资料编制，反映了从1800年到2015年，城镇人口占世界总人口比例的变化情况。

图3

- A. 1800—1850年增长缓慢的原因是各国政府不重视城镇化建设
- B. 1850—1925年迅速增长的原因是欧美国家推动亚非拉城镇化
- C. 1925—1950年增长较快的原因是持久和平与稳定的世界环境
- D. 1950—2015年持续增长的主要原因是发展中国家城镇化加快

二、非选择题：本大题包括4小题，第17题12分，第18题14分，第19题14分，第20题12分，共52分。

17. 【戏曲与时代】（12分）

材料一 元末明初，高明在《琵琶记》开场词中说：“正是：不关风化体，纵好也徒然”，提出了戏曲之匡扶“风化”的功能。因与统治阶级所提倡的道德教化不谋而合，所以很受统治阶级的欢迎。明代，丘濬也直接提出戏曲的审美就要与伦理道德有关。正是在这种创作风气下，汤显祖（1550—1616）在李贽等人的影响下，拿起了如椽大笔，与之抗衡，创作了《牡丹亭》。他在《牡丹亭》题词中写道“情不知所起，一往而深……”。近世史家侯外庐对汤显祖的《牡丹亭》给予极高的评价，“他的剧作不但和当时的正统观念相对立，而且向往对封建制社会的历史的矛盾予以加剧并寻求解答。”

——摘编自白寿彝总主编《中国通史》等

材料二 徐渭（1521—1593），字文长，浙江绍兴人，曾师从王阳明门徒季本，研习王阳明的学说。徐渭一生科场不顺，贫困潦倒，但诗文书画皆精。徐渭是公认的南杂剧代表作家，创作的《四声猿》等代表了明代杂剧的最高水平。当时，北曲、南戏并存。他认为北曲多为“马上之音”“杀伐之声”；对南戏则赞誉颇多，认为尽管多为市井之声，却“句句都是本色语”。在明代后期兴起的市民文学艺术中，徐渭以强调“本色”和追求“自然”的鲜明特点而留名史册。

——摘编自白寿彝总主编《中国通史》等

- (1) 根据材料一、二，概括晚明以来戏曲发展的特点。（4分）
- (2) 根据材料一、二并结合所学知识，分析形成以上特点的历史背景。（8分）

18. 【近代中西博览会】（14分）

材料一 1849年，英国维多利亚女王的丈夫阿尔伯特亲王提出要举办万国博览会（首届世界博览会），以向世人展现时代的荣耀。博览会要展示每个国家的产品，应有尽有。等到一切打算都有了头绪，他召集了一个委员会，公布其计划大纲，得到委员们的赞成。大厂家热烈拥护，殖民地和东印度公司表示赞同，各大国踊跃送来展品。议会经过讨论后，通过了将博览会设在伦敦海德公园的议案。1851年5月，在灿烂夺目的场景与欢欣鼓舞的气氛中，万国博览会由女王主持了开幕典礼。

——摘编自（英）里敦·斯特莱切《维多利亚女王传》

材料二 博览会是综合反映社会经济与文明程度的一面镜子。1908年，江宁公园办事处主事道员陈琪向两江总督兼南洋大臣端方提出了创办博览会的设想。1909年，端方与江苏巡抚陈启泰联名向朝廷上奏折，请先创设南洋第一次劝业会，专以振兴实业、开通民智为宗旨。著名实业领袖张謇、虞洽卿等人积极奔走游说。新加坡华商总会为预备陈列品，呼吁爱国侨民“踊跃贤成”。1910年6月5日，南洋劝业会在南京正式开幕，各界代表五千多人参加了开幕典礼。以劝业会为纽带，海内外华人云集一地，既增强了民族的

2023届高三湖北十一校第一次联考 历史试题 第6页（共8页）

凝聚力、向心力，又促使社会化、组织化程度进一步加深，有利于工商关系的融合、交流和发展。南洋劝业会引发了积极的社会效应，起到了开一时之风气，策异日之富强的作用，对推进中国社会的发展产生了重要影响。

——摘编自乔兆红《开一时之风气，策异日之富强——论 1910 年南洋劝业会》

- (1) 根据材料一、二并结合所学知识，分别说明中、英两国举办博览会的历史背景。(8分)
- (2) 根据材料一、二并结合所学知识，简析中英两国举办博览会共同的积极作用。(6分)

19. 【民族解放运动】(14分)

材料一 我们要牢记我们的人民既不是欧洲人，也不是北美人，不是出自欧洲，而是更接近非洲和美洲的混合……无法肯定我们到底属于人类哪一个家庭……

委内瑞拉一直是、仍然是、也必须永远是共和国。它的基础是人民主权、分权、公民自由和取消奴隶制，以及废除君主制和特权阶级。可以这么说，为了将各个阶层、各种政治观点和各种公共习俗重塑为一个整体，我们需要平等。

——玻利瓦尔在委内瑞拉国会上的发言(1819)

材料二 20 世纪二三十年代，拉丁美洲进入民族民主革命和改革时期。智利的左派力量团结其他社会阶层，成立民族阵线联合政府，防止法西斯势力上台；墨西哥、乌拉圭、智利、巴西、古巴等国先后成立了共产党。到 1934 年，绝大多数拉美国家都有了共产党组织，并积极领导了反帝反封建斗争。1934—1935 年，巴西工人运动活跃，参加罢工的高达 150 万人，大多数罢工由巴西共产党领导。1932 年，萨尔瓦多共产党领导了主要由农民参加的全国性人民起义，并在很多地区建立了地方苏维埃政权，虽遭血腥镇压，但在拉美共产主义运动史上留下了浓重的一笔。

——摘编自 2019 年版《中外历史纲要》下册

- (1) 根据材料一并结合所学知识，评析玻利瓦尔的思想主张。(6分)
- (2) 根据材料二并结合所学知识，归纳 20 世纪二三十年代拉美民族民主独立运动的特点，并分析其影响。(8分)

20. 【图说历史】（12分）


漫画不是客观实物的“写真”，它使用夸张、比喻、寓意、突出细节等方式，带有主观和艺术夸张的成分，但仍能反映特定时期的世事变迁与时代内涵，以及作者对历史问题的认识、解释与立场。透过历史漫画，我们可以叙史解史。



图(1) (1945年9月2日) 丰子恺 《炮弹作花瓶 万世乐太平》



图(2) (1949年美国) 他终于上道了



图(3) (1953年) 资源勘探队员手持“邀请函”叩响山洞大门



图(4) (1960年德国) 戴高乐的欧洲之路

请提取以上一幅或多幅漫画的信息，对相关信息进行合理的历史解释。（要求：围绕漫画主题，史论结合，表述清晰。）

关于我们

自主选拔在线是致力于提供新高考生涯规划、强基计划、综合评价、三位一体、学科竞赛等政策资讯的升学服务平台。总部坐落于北京，旗下拥有网站（[网址: www.zizzs.com](http://www.zizzs.com)）和微信公众平台等媒体矩阵，用户群体涵盖全国90%以上的重点中学师生及家长，在全国新高考、自主选拔领域首屈一指。

如需第一时间获取相关资讯及备考指南，请关注**自主选拔在线**官方微信号：**zizzsw**。



 微信搜一搜

 自主选拔在线