

决胜新高考——2023 届高三年级大联考

历史

一、选择题：本大题共 16 题，每题 3 分，共计 48 分。在每题列出的四个选项中，只有一项最符合题目要求。

1. 康叔是“周武王同母少弟”。被周公分封于卫。卫国原是殷商旧地，周公嘱咐康叔尊重殷商的传统，任用“殷之贤人君子长者”。康叔受封时不仅带去了大量周族人，还随迁了殷民七族，殷民宗族首领也在卫国任职。这反映出西周分封（ ）

- A. 导致王权的逐渐衰微
- B. 实现国家对地方的垂直管理
- C. 挑战了宗法贵族体系
- D. 有利于族群认同意识的形成

2. 造纸术何时问世，一直是学术界争论的重大问题。下表中的考古发现在一定程度上反映了汉代造纸术的发展情况。表中信息可以反映出（ ）

出土年份	出土情况
1942 年	内蒙古额济纳河出土了东汉的纸张，纸上有墨色字迹，但词句不甚完整。
1957 年	西安灞桥出土了西汉时期的麻纸，还不便于书写。
1974 年	甘肃省出土了一批东汉纸。纸上残存文字墨迹，可辨出“青贝”等字。
1986 年	甘肃放马滩出土文帝、景帝时期时期的纸张，上有黑线绘制的山、河、道路等

- A. 汉代造纸技术发展进步
- B. 东汉纸已成为主要书写材料
- C. 西北造纸工艺领先全国
- D. 蔡伦改进的造纸术得到推广

3. 谏官向敏中上书宋太宗，建议将中书门下的吏房分出，成立审官院负责官员考课。于是，宋太宗设立审官院，负责少卿监以下的官员考核管理。这表明宋代（ ）

- A. 官僚队伍日益庞大
- B. 官员考核程序渐趋复杂
- C. 宰相职权受到侵夺
- D. 监察机构地位不断提高

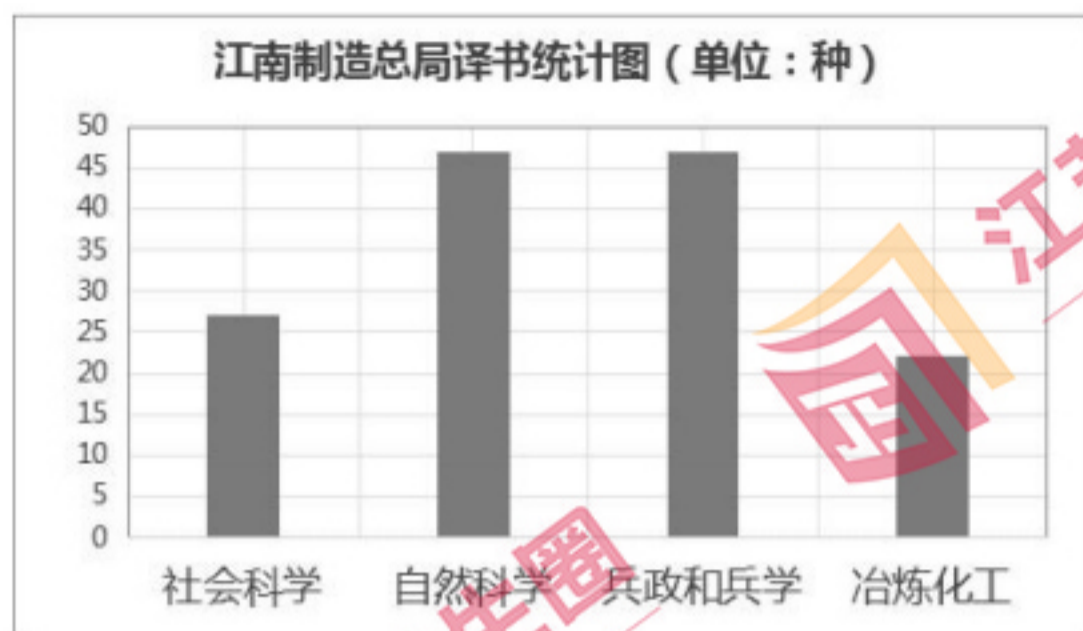
4. 清朝前中期，湖广商人收购大量食米由汉口出发，沿江东下，大部分都运往苏州出售。回航时，多半就近载运苏州的棉布。这一现象产生的主要因素是（ ）

- A. 交通方式的变革
- B. 经济重心的南移

C. 赋役制度的改变

D. 地区经济的差异

5. 江南制造总局翻译馆成立的四十余年里，把不少西方书籍译成中文出版。下图是该馆翻译西方书籍的种类数量统计。据此推断，该馆的译书活动（ ）



A. 适应了兴办近代工业的需求

B. 反映出科学救国成为社会的主流思潮

C. 旨在促进维新变法运动发展

D. 推动知识分子开始关注西方军事技术

6. 据《申报》载：“鄂垣祸起仓卒。呜呼，川乱未已，鄂乱又起，何今日祸变之多耶？夫春间粤乱犹在沿海，此次川乱偏于西隅，今则革党势力已蔓延于长江流域矣，其情形之危更非川粤乱可比。”这一记载反映了（ ）

A. 清朝统治面临崩溃

B. 反清农民起义此起彼伏

C. 国民革命席卷全国

D. 太平天国运动进展迅速

7. 1936年，红四方面军到达四川后，根据朱德的提议，举行了“五一”运动会。大会比赛项目除球赛、跳高、跳远外，还进行了跨越障碍、刺杀、投弹、骑兵表演等项目。这次运动会的召开（ ）

A. 锻炼了井冈山军民的应战能力

B. 适应了民主革命斗争的实际需要

C. 旨在庆祝红军长征的胜利结束

D. 鼓舞了红军开赴敌后战场的士气

8. 日军战史承认，“中国军队引诱日军一直深入到长沙，集中长沙城内外的30万大军将日军包围。”日军第一线部队几经苦战，于1月12日撤回到原驻防地。“这次作战，动摇了一部分官兵的必胜信念。”据此推断，材料反映的战役是（ ）

A. 国民党军队在华北地区组织的重大会战

B. 日军三个月内灭亡中国计划破产的标志

C. 抗战相持阶段中国军队取得的重大胜利

D. 发生在敌后战场的一次大规模进攻作战

9. 下图是创作于 1959 年的宣传画《春耕》，描绘了一个女拖拉机手进行春耕春种的场景。

该作品旨在（ ）



- A. 说明农田耕作已经实现机械化
B. 描绘农村生产方式变革的美好愿景
C. 展现农业社会主义改造的成果
D. 表明女性成为农村建设的主导力量

10. 1964 年，四川省铁路营业里程为 1501 公里，到 1980 年已经增加到 2886 公里。新建的企业主要沿宝成、成昆、成渝、川黔及襄渝铁路线进行分布。资阳、隆昌、达县等工业城镇开始快速发展。这一变化发展主要得益于（ ）

- A. 中国高铁建设不断发展
B. 邓小平主持国民经济整顿工作
C. 三线建设的大规模展开
D. 国有企业的体制改革稳步推进

11. 日本学者指出：“由于苏联的解体，中国成了世界上最后一个社会主义大国。邓小平坦率地承认有人忧虑和怀疑社会主义的命运和前途，他表明要靠经济和发展解决生存问题。”基于上述忧虑和怀疑，邓小平（ ）

- A. 首次提出建设中国特色社会主义
B. 确定了全面建成小康社会的目标
C. 阐释了社会主义初级阶段的理论
D. 推动社会主义市场经济体制建立

12. 生活在公元 2 世纪的希腊历史学家包撒尼雅斯在其《希腊志》中提出，赛里斯人用作制作衣装的那些丝线，它并不是从树皮中提取的，而是另有其他来源。在他们国内生存有一种小动物与树上织网的蜘蛛相似，作出一种缠绕在它们足上的细丝。该记载表明（ ）

- A. 养蚕缫丝技术已传入欧洲
B. 海上丝绸之路已达地中海
C. 西方对中国有了精确了解
D. 中西方存在经济文化交流

13. 1569 年，意大利医生美尔库里亚利斯出版了广受欢迎的体育专著《体操术》。该书以“灵肉一致”“身心和谐”为依据，在全面介绍古希腊、罗马体育活动的基础上，从近代实验科学角度讨论了各种体育运动的医学效果。《体操术》广受欢迎主要由于（ ）

- A. 意大利人对传统文化的崇拜
B. 宗教改革序幕在意大利揭开

C. 该书的内容与精神有利于人的解放 D. 完整的力学体系促进体育运动发展

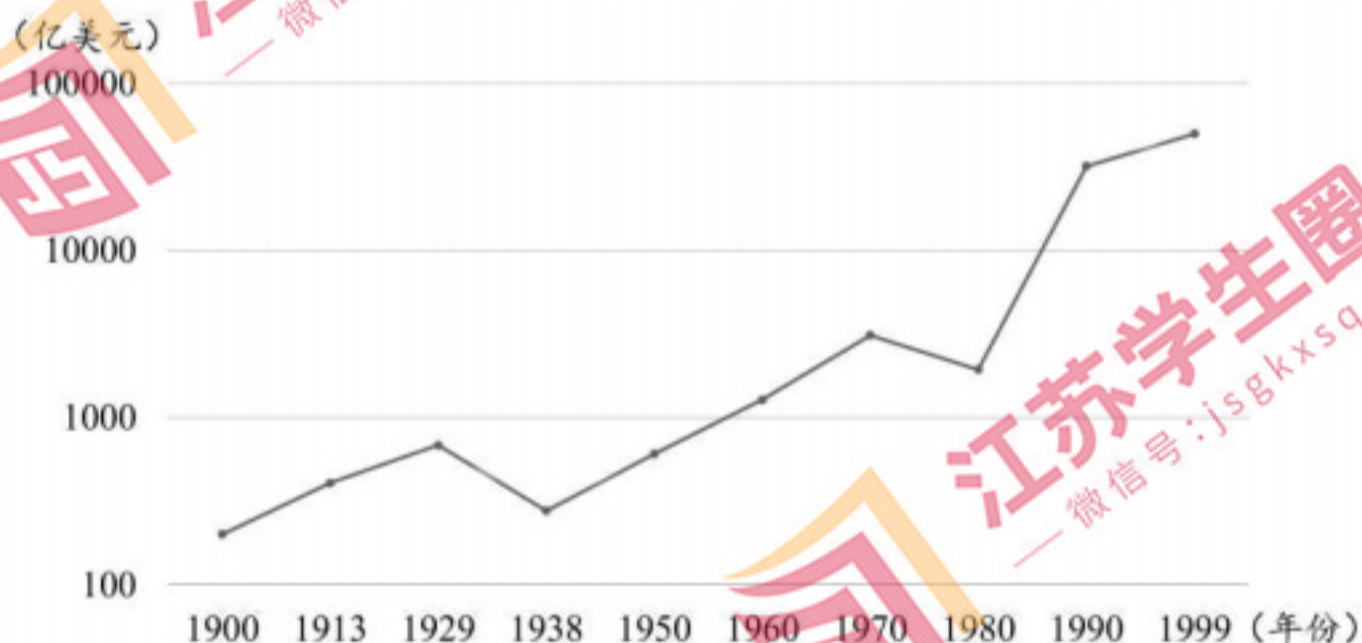
14. 一位希腊人曾说：“拿破仑的所作所为使世人知道了世界的真相。人民曾认为国王是地球上的神，认为国王有理由说自己不管做什么都做得妙。通过现在这一变化，统治人民更困难了。”该言论可以佐证拿破仑战争后，欧洲（ ）

- A. 民族独立意识不断高涨 B. 封建、专制成为众矢之的
C. 各国普遍确立共和政体 D. 资产阶级启蒙运动应运而生

15. “耐普曼”一词首先在报刊上出现，只是“对小商人或那些利用自由贸易钻各种空子的人的戏称”，带有贬义色彩，后来逐渐在俄共（布）领导人中间和社会上流行开来。到30年代初，耐普曼逐渐从苏联经济生活中消失。据此推断（ ）

- A. 前苏联领导人都反对自由贸易 B. 耐普曼出现导致苏联模式形成
C. 耐普曼伴随新经济政策实施而出现 D. 战时共产主义政策遭到商人的抵制

16. 观察“20世纪世界贸易额变化折线图”，导致这种变化趋势的因素是（ ）



- A. 两次世界大战的破坏 B. 电子商务的迅猛发展
C. 国际政治格局的演变 D. 国际协调机制的加强

二、非选择题：本大题共4题，满分52分。

17. 阅读材料，完成下列要求。

材料一 明清时期，输往荷兰的中国瓷器多在景德镇烧制。万历年间，景德镇上各制瓷作坊的佣工“每日不下数万人”。在元代瓷业生产的基础上，景德镇瓷窑发展了青花瓷，尤其是康熙末年创烧成功的粉彩瓷，使得中国的外销瓷一变传统纯净的青花瓷而为绚丽多彩的粉彩。为了使中国瓷器能在荷兰及欧洲畅销，荷兰东印度公司会主动提供瓷器木模交给中国工

匠仿制。由于外销荷兰的瓷器数量大，其品种、造型、装饰均与传统的中国瓷器不同，以景德镇为主的中国瓷器制造业便在瓷器的烧制、绘画、上彩等工序上大胆地进行探索和改进，使外销瓷的生产体系很快在中国建立。随着中荷贸易的发展，中国瓷器作为日用器皿，进入千家万户，同时也把中国的山川城池、风土人情等逼真形象广为传播。

材料二 16世纪末，荷兰船队进入亚洲水域。他们两次劫持葡萄牙大帆船，将船上所载瓷器运回阿姆斯特丹拍卖。1604年以后，荷兰东印度公司开始经营华瓷进口贸易。他们主要使用白银从往来于东南亚的中国商人那里购买瓷器，1608年，东印度公司通过中国商人就订购了108000件瓷器。荷兰东印度公司订购的瓷器不但种类激增，纹饰也更趋多样化。荷兰运往广州的样品装饰图案中既有西方流行“耶稣受难图”、海神、欧洲时尚人物等，也有中国主题的图饰。荷兰东印度公司在中国购买的大多是茶具等日用瓷器，所以受到社会各阶层的欢迎。1764年，荷兰也建厂烧制硬质瓷器。

——以上均摘编自钱江《十七至十八世纪中国与荷兰的瓷器贸易》

- (1)根据材料一，概括明清时期中国外销瓷生产的特点。
- (2)根据材料二并结合所学知识，概括荷兰经营中国瓷器贸易的有利条件。
- (3)根据材料，简析瓷器贸易在中荷两国经济文化交流中的作用。

18. 阅读材料，完成下列要求。

材料 1895年甲午战争失败，维新派疾呼只有变法维新才能救中国。梁启超指出“欲求新政，必兴学校，可谓知本矣。”严复对科举八股制度和旧教育更是深恶痛绝，斥责其有三大害：“锢智慧，坏心术，滋游手。1896年，刑部左侍郎李端棻正式向清政府提出设立京师大学堂的建议。1898年，光绪皇帝颁上谕：“京师大学堂，迭经臣工奏请，现在亟须开办。”梁启超起草的《京师大学堂章程》规定“各省学堂皆当归大学堂统辖。”提出教学内容应该“中西并重，观其会通，无得偏废”。京师大学堂的课程参考西方学校的课程，分为普通学十门、专门学十门以及外国语言文字学五门。《京师大学堂章程》被批准后，光绪皇帝命令各省现有书院一律改为“兼学中学西学之学校”，“皆颁给京师大学堂章程，令其仿照办理”。

——摘编自王晓秋《戊戌维新与京师大学堂》

- (1)根据材料，分析京师大学堂创办的原因。
- (2)根据材料并结合所学知识，概括京师大学堂的特点及创办意义。

19. 阅读材料，完成下列要求。

材料 19世纪中叶，工业资产阶级及其代言人从当时最有影响的功利主义观点出发，要求建立一个廉洁、高效的政府。两党制度形成后，某党一旦掌权，极力安排本党骨干分子，占据要害职位，编织关系网络，而另一政党上台后如法炮制。恰巧，19世纪前期印度殖民政府和牛津、剑桥两所大学先后进行改革，它们的一些有效措施，如实行公开竞争考试选拔人才、奖优汰劣等，为全面实行文官制度改革提供了宝贵经验。克里米亚战争使政府问题暴露无遗：众多机构混乱，官员玩忽职守。1855年首相帕麦斯顿颁布了文官制度改革的正式法令——《关于录用王国政府文官的枢密院命令》。

20世纪前期，政府逐步接纳妇女进入文官行列。在很长时期内，广大妇女只能担任抄写、打字和收发之类的工作，多数是临时雇员，而且受到年龄和婚姻限制，同工不得同酬。面对种种不合理现象，英国文官界妇女在社会进步势力的声援下，长期坚持斗争。1919年，议会通过法案规定：任何人不应因性别或已婚而被剥夺担任文官的资格。但是，直到第二次世界大战之前，仍然只有少数妇女能获此幸。部分妇女进入高级文官阶层，则是几十年以后的事情。

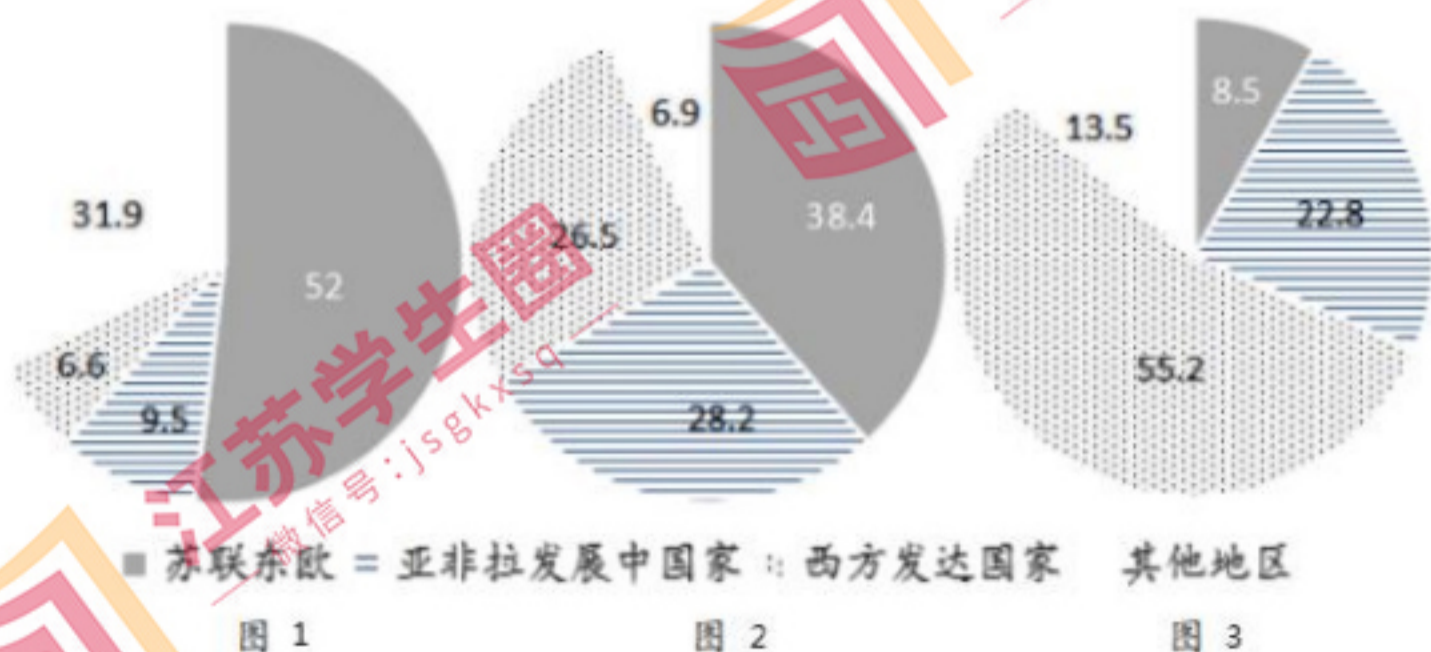
——摘编自阎照祥《英国政治制度史》

(1)根据材料和所学知识，概括英国文官制度建立的原因。

(2)根据材料和所学知识，简评英国的文官制度。

20. 阅读材料，完成下列要求。

材料 图1、图2、图3分别是1951年、1961年、1970年的中国对外贸易额占比统计示意图



上面三幅图反映了新中国成立后中国贸易伙伴的重心不断变化，请结合所学知识加以分析。

1. D

【详解】

本题是单类型单项选择题。据本题主题干的设问词，可知这是本质题。据本题时间信息可知准确时空是：西周（中国）。根据材料“康叔受封时不仅带去了大量周族人，还随迁了殷民七族，殷民宗族首领也在卫国任职。”可知，分封制加强了周部族和其他地区的联系，扩大了西周的统治疆域，促进了民族交融，有利于族群认同意识的形成，D项正确；材料未体现地方势力挑战天子的权威，无法得出王权逐渐衰微，排除A项；秦始皇实行郡县制，实现了国家对地方的垂直管理，排除B项；分封制与宗法制互为表里，排除C项。故选D项。

2. A

【详解】

本题是单类型单项选择题。据本题主题干的设问词，可知这是本质题。据本题时间信息可知准确时空是：西汉（中国）。根据材料可知，西汉时期的纸还不便于书写，东汉时已经出现文字墨迹，说明造纸技术发展进步，A项正确；魏晋南北朝时期纸成为主要的书写材料，排除B项；材料并未对比不同地区造纸术的差异，无法说明西汉造纸工业领先全国，排除C项；材料只提到东汉时期的纸张，但无法判断是蔡伦改进的造纸术推广的结果，排除D项。故选A项。

3. C

【详解】

本题是单类型单项选择题。据本题主题干的设问词，可知这是本质题。据本题时间信息可知准确时空是：北宋（中国）。根据材料可知，宋太宗时期，原来隶属于中书门下的吏房被分出成立审官院，说明宰相职权被削减，C项正确；宋代科举制录取比例增加，官僚队伍日益庞大，材料并未涉及，排除A项；材料不属于官员考核程序，排除B项；材料只强调成立审官院负责官员考核管理，无法得知监察机构的地位，排除D项。故选C项。

4. D

【详解】

本题是单类型单项选择题。据本题主题干的设问词，可知这是原因题。据本题时间信息可知准确时空是：清朝（中国）。根据材料“清朝前中期，湖广商人收购大量食米由汉口出发，沿江东下，大部分都运往苏州出售。回航时，多半就近载运苏州的棉布。”可知，清朝随着商品经济的繁荣，地区经济发展出现专业化趋势，汉口生产食米，苏州生棉纺织业发达，这体现出地区经济的差异，D项正确；交通方式没有变革或差异，排除A项；南宋时，经济重

心已经完成南移，排除 B 项；赋役制度的改变与地区经济差异无关，排除 C 项。故选 D 项。

5. A

【详解】

本题是单类型单项选择题。据本题主题干的设问词，可知这是推断题。据本题时间信息可知准确时空是：洋务运动时期（中国）。据本题材料概括得出主要结论是：洋务运动时期，江南制造总局翻译书籍主要以自然科学、兵政和兵学、冶炼华工等实用性技术有关的书籍为主，反映了洋务运动时期创办军事工业和民用工业的需要，反映出译书活动适应了兴办近代工业的需求，A 项正确；洋务运动时期，学习西方技术受到了顽固派的反对，学习西方技术并非社会主流思潮，排除 B 项；江南制造总局的译书活动适应的是洋务运动，并非维新变法运动，排除 C 项；林则徐、魏源在鸦片战争前后就已经开始关注西方的军事技术，排除 D 项。故选 A 项。

6. A

【详解】

本题是单类型单项选择题。据本题主题干的设问词，可知这是本质题。据本题时间信息可知准确时空是：1911 年（中国）。根据材料“鄂垣祸起仓卒。呜呼，川乱未已，鄂乱又起”并结合所学可知，1911 年 5 月，四川发生保路风潮，清政府紧急调湖北新军入川镇压，鉴于湖北防务空虚，湖北革命党人乘机起义，各省纷纷响应，清朝统治面临崩溃，A 项正确；材料所述是资产阶级领导的辛亥革命，并非农民起义，排除 B 项；1924 年至 1927 年爆发国民革命，与材料不符，排除 C 项；1853 年太平天国定都天京，与材料不符，排除 D 项。故选 A 项。

7. B

【详解】

本题是多类型单项选择题。据本题次题干的提示词，可知这是目的题、影响题。据本题时间信息可知准确时空是：1936 年中国四川。根据材料可知，“五一”运动会除常规的比赛项目外，还进行了跨越障碍、刺杀、投弹、骑兵表演等项目，这些项目在一定程度上锻炼了红军的作战能力，适应了民主革命斗争的实际需要，B 项正确；材料涉及的地点是四川，井冈山在江西，排除 A 项；根据材料信息可知，此时红军长征还未结束，排除 C 项；根据所学可知，此时还未开辟敌后战场，排除 D 项。故选 B 项。

8. C

【详解】

本题是单类型单项选择题。据本题主题干的设问词，可知这是推断题。据本题时间信息可知准确时空是：全面抗战时期（中国）。据本题材料概括得出主要结论是：这次战役的地点在长沙，并在同日军作战中取得了胜利，动摇了日军的必胜信念，这次战役应是长沙会战，据所学知识可知，长沙会战抗战相持阶段中国军队取得的重大胜利，C项正确；国民党军队在华北地区组织的重大会战是太原会战，排除A项；日军三个月内灭亡中国计划破产的标志是淞沪会战，排除B项；发生在敌后战场的一次大规模进攻作战是百团大战，排除D项。故选C项。

9. B

【详解】

本题是单类型单项选择题。据本题主题干的设问词，可知这是目的题。据本题时间信息可知准确时空是：社会主义建设时期（中国）。据本题材料概括得出主要结论是：1958年人民公社化运动后，农村建立人民公社体制，材料中女拖拉机手进行春耕的宣传画表现出人们对于人民公社发展的美好希望，B项正确；材料宣传画中只有一个拖拉机手，不能反映耕作机械化的实现，且不符合当时的国情，排除A项；社会主义改造在1956年完成，与材料时间不符，排除C项；材料为宣传画，只通过材料中一个女拖拉机手不能说明女性成为农村建设的主导力量，排除D项。故选B项。

10. C

【详解】

本题是单类型单项选择题。据本题主题干的设问词，可知这是原因题。据本题时间信息可知准确时空是：20世纪60-80年代的中国。据本题材料信息得出主要结论：根据“新建的企业主要沿宝成、成昆、成渝、川黔及襄渝铁路线进行分布。资阳、隆昌、达县等工业城镇开始快速发展。”可得出西南地区的铁路事业及工业快速发展，主要得益于国家三线建设的开展，把部分工业转移到西南地区，促进了该地区的发展，C项正确；材料中的铁路只是普通的铁路，不是高铁，排除A项；邓小平主持国民经济整顿工作是在文革时期，排除B项；国有企业的体制改革是从1984年才全面展开，排除D项。故选C项。

11. D

【详解】

本题是单类型单项选择题。据本题主题干的设问词，可知这是推断题。据本题时间信息可知准确时空是：改革开放时期（中国）。据本题材料概括得出主要结论是：苏联解体使得当时“有人忧虑和怀疑社会主义的命运和前途，他表明要靠经济和发展解决生存问题”，据所学知识

可知，苏联解体的根本原因是高度集中的政治经济体制，苏联解体之后，1992年邓小平发表南方谈话，论述了姓资姓社问题和社会主义本质问题，中共十四大上提出中国经济体制改革的目标是建立社会主义市场经济体制，D项正确；1982年邓小平提出建设中国特色社会主义，早于苏联解体，排除A项；2002年，党的十六大确定了全面建成小康社会的目标，排除B项；1987年召开的党的十三大提出并系统论述了社会主义初级阶段理论，早于苏联解体，排除C项；故选D项。

12. D

【详解】

本题是单类型单项选择题。据本题主题干的设问词，可知这是本质题。据本题时间信息可知准确时空是：古代的希腊。据本题材料信息得出主要结论：根据“赛里斯人用作制作衣装的那些丝线，它并不是从树皮中提取的，而是另有其他来源。在他们国内生存有一种小动物与树上织网的蜘蛛相似，作出一种缠绕在它们足上的细丝。”可得出材料反映出古希腊的丝线是来源于中国的丝绸，因此说明中西方存在经济文化的交流，D项正确；材料只说有丝线，并不能说明技术已经传入欧洲，排除A项；当时主要是陆上丝绸之路，排除B项；从“有一种小动物与树上织网的蜘蛛相似”可以看出，当时西方人把中国的蚕当成了蜘蛛，说明对中国了解不够，排除C项。故选D项。

13. C

【详解】

本题是单类型单项选择题。据本题主题干的设问词，可知这是原因题。据本题时间信息可知准确时空是：16世纪（意大利）。据本题材料概括得出主要结论是：文艺复兴时期，意大利医生出版的《体操术》之所以受到欢迎是因为强调“身心和谐”，并“在全面介绍古希腊、罗马体育活动的基础上，从近代实验科学角度讨论了各种体育运动的医学效果”，体现了对人的重视，与此时期人文主义思想相契合，C项正确；《体操术》受欢迎是因为其重视人的作用和价值，并非对传统文化的崇拜，排除A项；宗教改革在德国拉开序幕，排除B项；完整的理学体系提出的时间是1687年，排除D项。故选C项。

14. B

【详解】

本题是单类型单项选择题。据本题主题干的设问词，可知这是影响题。据本题时间信息可知准确时空是：宋朝（中国）。据本题材料概括得出主要结论是：拿破仑战争使人民质疑国王权威，反对王权和专制，结合所学知识可知，拿破仑战争传播了自由、平等的启蒙思想，

促进欧洲人民的民主意识加强，打击封建势力，使封建、专制成为众矢之的，B项正确；据所学知识“民族独立意识”指的是反抗侵略和剥削，赢取民族独立的思想，材料信息是说拿破仑战争推动了欧洲国家人民反对本国封建专制，应该是民主意识高涨，排除A项：“各国普遍确立共和政体”的表述过于绝对，与史实不符，而且材料没有欧洲国家确立民主制度的内容，排除C项；资产阶级启蒙运动产生于17世纪，早于拿破仑战争，排除D项。故选B项。

15. C

【详解】

本题是单类型单项选择题。据本题主题干的设问词，可知这是推断题。据本题时间信息可知准确时空是：20世纪20、30年代初（苏联）。据本题材料信息可知，“耐普曼”出现在30年代初之前，指的是小商人或进行自由贸易的人，结合所学知识可知，1921年苏俄实行新经济政策，允许自由贸易，所以可以推知耐普曼伴随新经济政策实施而出现，C项正确；据所学，“都反对自由贸易”的说法过于绝对，排除A项；结合所学知识，“苏联模式”是在斯大林时期形成的高度集中的政治经济体制，实行指令性计划经济体制，不发挥市场的作用，是“耐普曼”逐渐从苏联经济生活中消失的原因，排除B项；据所学，1921年战时共产主义政策就被新经济政策取代，“战时共产主义政策遭到商人的抵制”的说法不能从材料中推断出来，排除D项。故选C项。

16. D

【详解】

本题是单类型单项选择题。据本题主题干的设问词，可知这是原因题。据本题时间信息可知准确时空是：20世纪（世界）。根据折线图可知，20世纪世界贸易额总体呈增长趋势，二战后，成立了关贸总协定，90年代，成立了世界贸易组织，可以看出这些国际协调机制的组织建立后，推动了世界贸易迅速发展，D项正确；战争对世界贸易的影响只是很短的时间，不能概括整个20世纪，排除A项；电子商务出现在20世纪末，不会影响整个20世纪的变化，排除B项；国际政治格局对世界贸易的影响不大，二战后，美苏冷战时期，世界贸易额成长趋势，排除C项。故选D项。

17. (1)特点：瓷器生产工艺精湛，产品种类丰富；瓷器工场大量使用雇佣劳动力；注重技术的传承与创新；适应海外市场需求；生产出现专业化分工。

(2)条件：全球海路的拓展；荷兰的殖民扩张；荷兰曾控制海上贸易；成立东印度公司垄断贸易。

(3)作用：刺激了中国的瓷器生产；促使中国工匠学习西方绘画技艺；促进了荷兰制瓷业的发展；成为中西文化交流的载体。

【详解】

(1) 本题是特点类材料分析题。时空是：明清时期（中国）。特点：据材料一“景德镇上各制瓷作坊的佣工‘每日不下数万人’”可知瓷器工场大量使用雇佣劳动力；据材料一“以景德镇为主的中国瓷器制造业便在瓷器的烧制、绘画、上彩等工序上大胆地进行探索和改进，使外销瓷的生产体系很快在中国建立”可知注重技术的传承与创新，适应海外市场需求；据材料一“景德镇瓷窑发展了青花瓷，尤其是康熙末年创烧成功的粉彩瓷，使得中国的外销瓷一变传统纯净的青花瓷而为绚丽多彩的粉彩”可知瓷器生产工艺精湛，产品种类丰富，生产出现专业化分工。

(2) 本题是背景类材料分析题。时空是：早期殖民扩张时期（荷兰）。据材料二“他们两次劫持葡萄牙大帆船，将船上所载瓷器运回阿姆斯特丹拍卖。1604年以后，荷兰东印度公司开始经营华瓷进口贸易”可知荷兰的殖民扩张，成立东印度公司垄断贸易；据所学知识可知，新航路开辟后推动了全球海路的拓展，17世纪荷兰曾控制海上贸易，被称为“海上马车夫”。

(3) 本题是影响类材料分析题。时空是：早期殖民扩张时期（中国、荷兰）。据材料一“随着中荷贸易的发展，中国瓷器作为日用器皿，进入千家万户”可知刺激了中国的瓷器生产；据材料二“荷兰运往广州的样品装饰图案中既有西方流行‘耶稣受难图’、海神、欧洲时尚人物等，也有中国主题的图饰”可知促使中国工匠学习西方绘画技艺；据材料二“荷兰也建厂烧制硬质瓷器”可知促进了荷兰制瓷业的发展；据所学知识可知，瓷器贸易推动了中西方文化的交流，使其成为中西文化交流的载体。

18. (1)原因：甲午战争后，民族危机日益加深；维新派的推动；开明官员的提倡；旧式教育的弊端。

(2)特点：兼具全国最高学府和最高教育行政机构的性质；推行新式教育；采取分科实施课程教学的方式。

意义：推动清政府进行全面教育改革；是中国教育近代化的标志。

【详解】

(1) 本题是背景类材料分析题。时空是：戊戌变法时期（中国）。据材料“甲午战争失败，维新派疾呼只有变法维新才能救中国”可知甲午战争后，民族危机日益加深；据材料“梁启超指

出“欲求新政,必兴学校,可谓知本矣。”严复对科举八股制度和旧教育更是深恶痛绝”可知维新派的推动;据材料“刑部左侍郎李端棻正式向清政府提出设立京师大学堂的建议”可知开明官员的提倡;据所学知识可知,旧式教育严重束缚人的思想,不适应社会发展的需要。

(2) 本题是特点类、影响类材料分析题。时空是:戊戌变法时期(中国)。第一小问特点,据材料“各省学堂皆当归大学堂统辖”可知京师大学堂兼具全国最高学府和最高教育行政机构的性质;据材料“课程参考西方学校的课程,分为普通学十门、专门学十门以及外国语言文字学五门”可知推行新式教育,采取分科实施课程教学的方式。

第二小问意义,据材料“《京师大学堂章程》被批准后,光绪皇帝命令各省现有书院一律改为‘兼学中学西学之学校’”可知推动清政府进行全面教育改革;据所学知识可知,京师大学堂的设立是中国教育近代化的标志。

19. (1)原因:工业革命的推动;政党政治的弊端;印度殖民政府和牛津、剑桥大学的改革;克里米亚战争暴露了旧官吏制度的问题;民主政治的完善。

(2)评价:公开考试,择优录取,体现了一定的公平性;加强考核,奖优汰劣,提高了官员素质和行政效率;但是长期存在性别歧视、官僚主义、门户之见等顽疾。

【详解】

(1) 本题是背景类材料分析题。时空是 19 至 20 世纪的英国。根据材料“可分析出工业革命的推动;根据材料“两党制度形成后,某党一旦掌权,极力安排本党骨干分子,占据要害职位,编织关系网络,而另一政党上台后如法炮制”可分析出政党政治的弊端;根据材料“印度殖民政府和牛津、剑桥两所大学先后进行改革,它们的一些有效措施,如实行公开竞争考试选拔人才、奖优汰劣等,为全面实行文官制度改革提供了宝贵经验”可分析出印度殖民政府和牛津、剑桥大学的改革;根据材料“克里米亚战争使政府问题暴露无遗:众多机构混乱,官员玩忽职守”可分析出克里米亚战争暴露了旧官吏制度的问题;结合英国民主政治制度的完善可分析出民主政治的完善。

(2) 本题是论述题之历史事物阐释题。结合文官制度要求须经考试等流程才可以录取,可分析出公开考试,择优录取,体现了一定的公平性;结合文官制度提升了官员的素质,提高了行政效率,可分析出加强考核,奖优汰劣,提高了官员素质和行政效率;根据材料“广大妇女只能担任抄写、打字和收发之类的工作,多数是临时雇员,而且受到年龄和婚姻限制,同工不得同酬”可分析出但是长期存在性别歧视、官僚主义、门户之见等顽疾。

20. 图 1: 1951 年中国与苏联东欧的对外贸易额占比一半以上,这反映了新中国初期着重发

展苏联与东欧人民民主国家的经济合作与贸易。这与新中国在外交上实行“一边倒”方针有关，同时朝鲜战争爆发后，以美国为首的西方国家对新中国实施经济封锁。

图 2: 1961 年中国与亚非拉发展中国家的对外贸易额占比显著增加，这体现了中国同亚非拉各国间的友好合作关系进一步发展。这主要得益于中国倡导以和平共处五项原则作为国际关系准则以及中国在万隆会议上提出“求同存异”方针。中国与西方发达国家的贸易关系也在恢复发展，这与 20 世纪 50 年代中国与欧洲外交取得突破有关，中国先后与瑞典、丹麦、芬兰等国建交。

图 3: 1970 年中国与对西方发达国家的贸易已经超过 50%。这表明中国的贸易重心已经转向西方发达国家。这主要得益于中国与法国建交，实现了中国同西方大国关系的突破。此后，中国与西欧国家建交数量明显增多。

可见中国贸易伙伴的重心不断变化与新中国外交政策和国内外局势密切相关。

【详解】

本题是论述题之历史事物阐释题，时空是 1951 年、1961 年、1970 年（中国）。首先，分别阅读三幅图片信息，第一幅图片中可以看到，1951 年中国与苏联东欧的对外贸易额占比一半以上。结合所学可从中国面临的国际环境、美苏对中国的态度等进行分析。结合所学可知，在外交政策方面，新中国成立初期，实行“一边倒”的方针，着重发展苏联与东欧人民民主国家的经济合作与贸易；国际环境方面，朝鲜战争爆发后，以美国为首的西方国家对新中国实施经济封锁。第二幅图片可以看到，1961 年中国与亚非拉发展中国家的对外贸易额占比显著增加。结合所学可知，这一时期，中国倡导和平共处五项原则并在万隆会议上提出“求同存异”的方针，并且中国此时与西方发达国家的贸易关系也在恢复发展，结合所学可知，中国先后与瑞典、丹麦、芬兰等国建交，这有利于中国扩大贸易范围。第三幅图片可以看到，1970 年中国与对西方发达国家的贸易已经超过 50%。结合所学可知，1964 年中国与法国建交，逐渐改善与西方国家的关系，中国的贸易重心逐渐转向西方发达国家。最后进行总结，即中国贸易伙伴的重心不断变化与新中国外交政策和国内外局势密切相关。