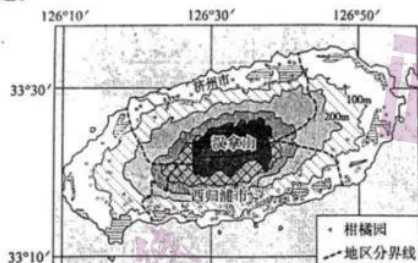


高三地理联考

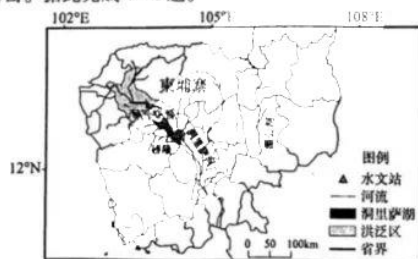
一、选择题:本题共 22 小题,每小题 2 分,共 44 分。在每小题给出的四个选项中,只有一项符合题目要求。

济州岛位于朝鲜半岛南部海域,是典型火山岛,玄武岩广布,土壤贫瘠,柑橘栽培历史悠久,早期以官营为主,集中在北部,且规模小,现代多为民营,范围不断扩大。下为 2019 年济州岛柑橘果园分布示意图。据此完成 1~3 题。



- 济州岛的面积约
A. 180km² B. 1850km² C. 18500km² D. 25000km²
- 与北部相比,南部柑橘园
A. 分布海拔低 B. 风灾危害大 C. 光热较充足 D. 地表起伏小
- 制约早期济州岛柑橘园规模的主要原因是
A. 政府政策 B. 种植技术 C. 交通落后 D. 气候寒冷

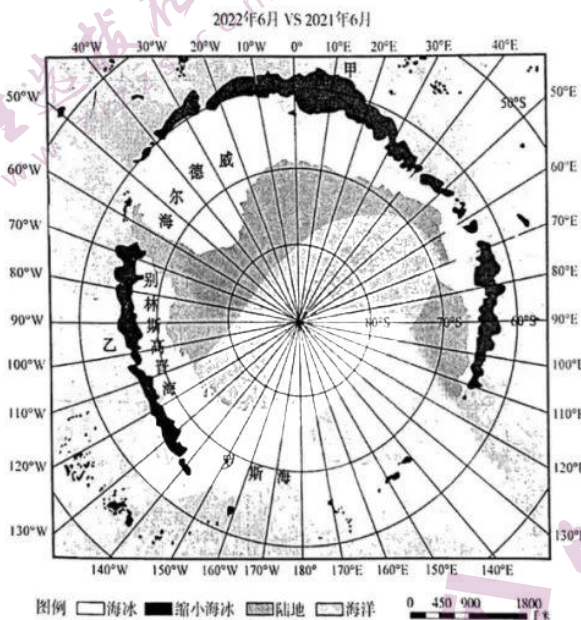
洞里萨湖位于柬埔寨的西北部,由永久性湖区和洪泛区组成,通过洞里萨河与湄公河相连通,50%湖水来自湄公河,5 月至 10 月为雨季,水面可达 16000km²,11 月至次年 4 月为旱季,水面缩小至 2500km²。近年来,人类不合理活动,旱季提前,水面缩小,水位降低,影响湖区的渔业以及周围农业生产。下图为洞里萨湖示意图。据此完成 4~6 题。



高三地理 第 1 页(共 6 页)

4. 洞里萨湖湖区雨季的水汽主要来自
- A. 太平洋 B. 印度洋 C. 大西洋 D. 洞里萨湖
5. 导致近年来洞里萨湖旱季提前的主要原因是
- A. 湖区气温升高,蒸发量增大 B. 湖区植被破坏,降水量增加
- C. 澜沧江上修建众多水电站 D. 湖区周边居民农业抽水增加
6. 洞里萨湖面积减少,会导致
- A. 渔业生产供给服务降低 B. 净化水质支撑服务降低
- C. 娱乐旅游文化服务提高 D. 维持生物多样性调节服务降低

根据监测显示,2022年6月南极海冰覆盖面积约为1307万平方公里,为近年来的最低值,比2021年同期减少了约172.9万平方公里(减少11.7%)。下图为气象卫星南极海冰变化示意图。据此完成7~9题。

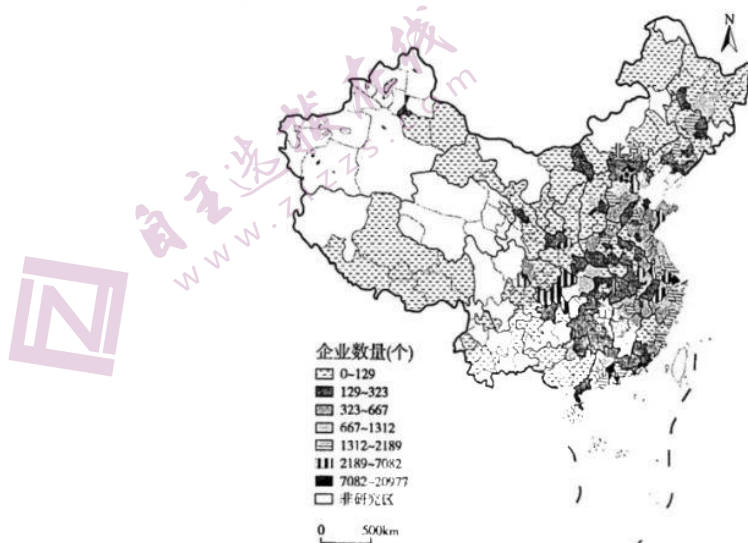


7. 与2021年6月相比,2022年6月南极海冰减少最多区域位于
- A. 太平洋沿岸 B. 大西洋沿岸
- C. 印度洋沿岸 D. 南极半岛沿岸
8. 2022年6月南极海冰面积缩小,表明南极地区
- A. 海平面降低 B. 海拔升高
- C. 降水增多 D. 气候变暖
9. 图中甲海域位于乙海域的
- A. 东北 B. 东南 C. 西北 D. 西南

印度以全球18%的人口创造了近8%的年均经济增速,成为经济发展最快的大型经济体之一,是新兴经济体的代表。印度作为世界耕地大国和农业大国,其土地利用格局演化对全球粮食安全和可持续发展意义重大。下图为2010—2020年印度土地利用转移示意图。据此完成10~12题。

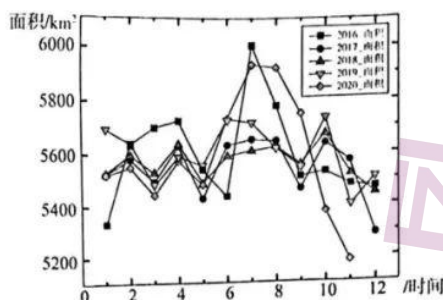
15. 1987—2017年三十年来,金砖国家碳排放平均增速最大的是
A. 印度 B. 中国 C. 南非 D. 巴西
16. 俄罗斯碳排放增速慢,主要是因为该国
A. 经济规模小 B. 经济负增长
C. 煤炭资源贫乏 D. 清洁能源增长快

高新技术企业是指在《国家重点支持的高新技术领域》内,持续进行研究开发与技术成果转化,形成企业核心自主知识产权,并以此为基础开展经营活动,在我国境内(不包括港、澳、台地区)注册一年以上的企业,是知识密集、技术密集的经济实体。2019年,我国共有215791家高新技术企业。下图为我国高新技术企业的空间分布示意。据此完成17~19题。



17. 我国高新企业分布特点是
A. 南高北低 B. 西高东低
C. 东南高西北低 D. 东北高西南低
18. 北京市作为我国高新企业最多的城市,主要得益于
A. 我国政治中心 B. 高速公路枢纽
C. 国际交往中心 D. 我国文化中心
19. 近年来深圳大力发展高新企业,有利于
A. 安置劳力就业 B. 加速产业升级
C. 减少资源消耗 D. 提升城镇化水平

长江流域拥有约占全国35%的水资源总量和40%的淡水,是我国重要的生态屏障。近年来,由于不合理的生产生活方式,长江中下游地区面临着洪水灾害等一系列问题亟须解决。下图为2016—2020年长江干流(上海—宜宾段)水面月际变化示意图。据此完成20~22题。

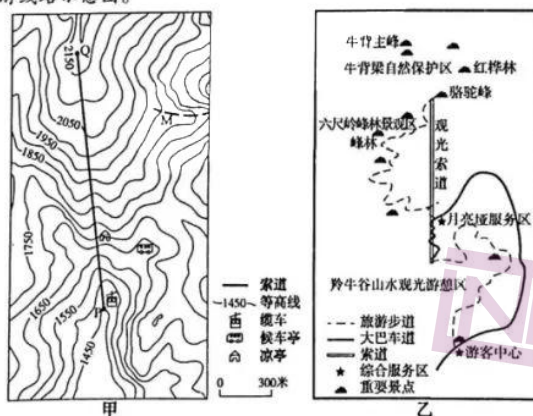


20. 2016—2020年间,长江中下游地区洪涝灾害最严重的年份是
A. 2016年 B. 2017年 C. 2018年 D. 2019年
21. 2020年长江中下游地区
A. 春雨早 B. 梅雨多 C. 伏旱重 D. 寒潮早
22. 防治长江洪涝的措施有
①在中下游建分洪、蓄洪工程 ②在源头修水电站
③在上中游营造防护林 ④在中下游整治污水
A. ①② B. ③④ C. ①③ D. ②④

二、非选择题:共3大题,共56分。

23. 阅读图文材料,回答下列问题。(18分)

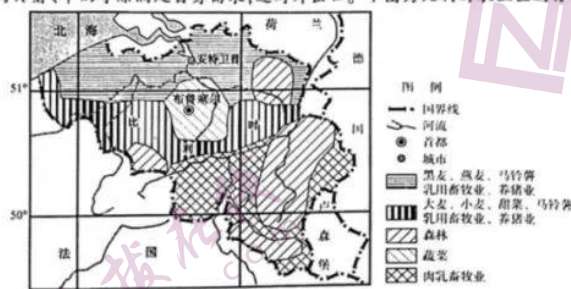
我国某中学利用暑假到我国牛背梁国家森林公园进行研学旅行,景区面积2123公顷,原始森林、潭溪瀑布、峡谷风光和石林景观,造就了这里景观多样性与独特性于一体的国家级森林公园。国家4A级景区、全国青少年户外体育活动营地,被誉为“中国最美原生态旅游景区”。图甲为该景区局部等高线图,图乙为该景区旅游线路示意图。



- (1) 指出甲、乙两图中比例尺较大的那一幅,并说明理由。(6分)
- (2) 图甲索道在图上距离为6.7厘米,索道实际长度约多少米。(2分)
- (3) 分析图乙从月亮崖服务区到骆驼峰旅游步道弯曲的原因。(4分)
- (4) 分析该景区修建缆车索道的利弊。(6分)

24. 阅读图文材料,回答下列问题。(22分)

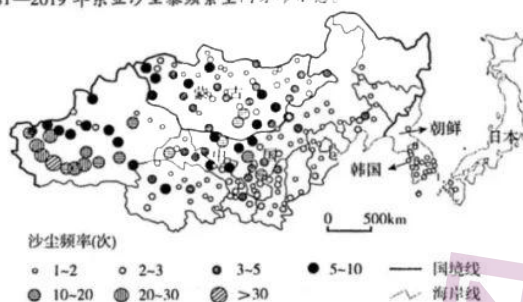
比利时位于欧洲西部,西北濒临北海。国土面积3万平方公里,地形由西北沿海平原、中部丘陵、东南高原组成。现有人口1150万,是欧洲富国,欧盟总部设在安特卫普。农业从业人员只占总人口的2%,一半以上耕地为牧场,机械化水平高,大力发展生态农业,饲养禽畜禁用添加剂,放牧草场禁用除草剂,其中肉类、马铃薯、牛奶等除满足自身需求,还对外出口。下图为比利时农业区的分布示意图。



- (1) 分析比利时发展乳用畜牧业的区位条件。(6分)
- (2) 简述比利时农业生产实行区域化的地理意义。(4分)
- (3) 简析比利时蔬菜种植园单位产值高的原因。(6分)
- (4) 说出比利时大力发展生态农业对我国的启示。(6分)

25. 阅读图文材料,回答下列问题。(16分)

沙尘暴是多发于世界干旱和半干旱地区的灾害性天气现象之一,对人类生命财产造成直接影响,还影响人体健康、社会经济活动。东亚是世界沙尘暴最频繁地区之一,由于气候、植被等影响,多集中在春季。下图为1981—2019年东亚沙尘暴频繁空间分布示意。



- (1) 归纳东亚地区沙尘暴天气空间分布特点。(6分)
- (2) 分析蒙古国春季多沙尘暴天气的自然原因。(6分)
- (3) 列举沙尘暴天气给人类生产生活的带来的危害。(4分)

关于我们

自主选拔在线是致力于提供新高考生涯规划、强基计划、综合评价、三位一体、学科竞赛等政策资讯的升学服务平台。总部坐落于北京，旗下拥有网站（[网址: www.zizzs.com](http://www.zizzs.com)）和微信公众平台等媒体矩阵，用户群体涵盖全国90%以上的重点中学师生及家长，在全国新高考、自主选拔领域首屈一指。

如需第一时间获取相关资讯及备考指南，请关注**自主选拔在线**官方微信号：**zizzsw**。



微信搜一搜

自主选拔在线