

(在此卷上答题无效)

2023年5月福州市普通高中毕业班质量检测

## 历史试题

(完卷时间 75 分钟; 满分 100 分)

友情提示: 请将所有答案填写到答题卡上! 请不要错位、越界答题!

一、选择题: 本题共 16 小题, 每小题 3 分, 共 48 分。在每小题给出的四个选项中, 只有一项是符合题目要求的。

1. 图 1 是良渚文化官井头遗址中出现的成组石构遗迹, 水井、水池、排水沟的地势依次降低, 由此可以确证这一时期
- A. 迈入了文明时代的门槛  
B. 进入了原始农业的阶段  
C. 出现了原始村落的雏形  
D. 产生了水利灌溉的技术



图 1

2. 敦煌悬泉置汉代遗址出土的泥墙书《使者和中所督察诏书四时月令五十条》中有: “毋掘巢。谓巢空实皆不得摘也。” “毋杀胎。谓禽兽六畜怀妊有胎者也, 尽十二月常禁。” 这表明汉代
- A. 生态保护法律化  
B. 食品保障时令化  
C. 佛教思想中国化  
D. 律令制度儒家化
3. 东汉末年, 孙吴实行“复客制”, 免除官僚大族所占佃客的赋役; 西晋时颁行“品官占田荫客制”, 允许各级官僚依制占有土地及一定数量的佃客、衣食客以及荫亲属。这些举措
- A. 巩固了中央集权  
B. 冲击了自耕农经济  
C. 削弱了士族特权  
D. 增加了政府的收入
4. 唐制规定, 京师各机构部门每季都要派御史巡按监察。贞元十九年 (803 年), 监察御史崔远进入了由宦官掌握的右神策军驻地, 结果被杖四十, 流放外州。这反映了出当时
- A. 中枢机构运行机制废弛  
B. 宦官控制朝廷军权  
C. 统治集团内部利益争斗  
D. 监察官员位卑权重
5. 图 2 分别为宋徽宗时期发行的大观通宝和金世宗时期发行的大定通宝。这反映了宋金时期
- A. 商品经济空前繁荣  
B. 书法艺术大放异彩  
C. 文化认同促进传承  
D. 铸币工艺推陈出新




图 2

高三历史 — 1 — (共 6 页)

6. 明万历时，广东佛山黄氏是从事铸冶车模的家庭小作坊主。 到其孙时新拓了生铁生意，并购买了码头。 雍乾年间，产业更见拓大，还新开了当铺。 由此可知，明清之际的广东地区
- A. 宗族势力拥有强大经济实力  
B. 传统手工业面临转型契机  
C. 手工业出现了新的经营手段  
D. 民营手工业占据主导地位
7. 1866年，福州船政学堂第一届招生试题是“大孝终身慕父母论”，少年严复应试，列为第一名，被派往英国留学。 1885年回国后，严复多次参加科考均未中试。 这反映了当时
- A. 中西文化冲突日益激烈  
B. 留学教育制度亟待重构  
C. 中体西用观念深入人心  
D. 选官用人机制严重滞后
8. 1909年，在湖南咨议局成立大会上，巡抚岑春煊率众官员参加并发表演说：“咨议局者，士官与民之间为之枢纽者也。” 士绅代表谭延闿在演说中指出公众参与政治之益，强调“中国图存之妙用，惟在宪政”。 两人的演说，反映了
- A. 辛亥革命爆发的历史必然性  
B. 民众民权意识的充分觉醒  
C. 宪政改革赢得地方普遍支持  
D. 官绅对民主政治认知悬殊
9. 1944年，陕甘宁边区政府制定了《商会组织条例》，各地据此组织商会，并以大、中、小商户各占三分之一的原则，选举产生群众组织性质的商会执委会。 这一做法
- A. 落实了抗日民族统一战线政策  
B. 形成了新民主主义经济模式  
C. 完善了抗日民主政权建设原则  
D. 奠定了反攻阶段的经济基础
10. 图3分别为1949年4月23日、4月25日《南京日报》头版（部分）。 透过其报道立场的变化，说明史料分析尤其应注意史料

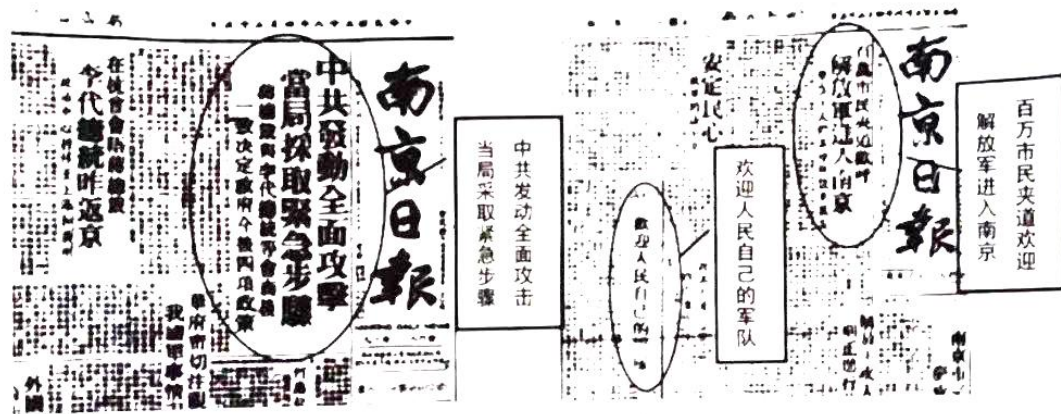


图3

- A. 获取的途径  
B. 编撰的方式  
C. 作者的学识  
D. 产生的环境
11. 1978年9月，邓小平在东北三省、唐山和天津等地视察时强调“我们的体制不适应现代化，上层建筑不适应新的要求”“我们关起门来不行”“现在摆在我们面前的问题，关键还是实事求是、理论与实际相结合、一切从实际出发”，史称“北方谈话”。 这一谈话
- A. 反思了苏联计划经济模式的弊端  
B. 发出了党的工作重心转移之先声  
C. 推动了国有企业改革的全面展开  
D. 明确了我国经济体制改革的目标



12. 形成于公元前 1500 年到公元前 600 年的雅利安人圣典《吠陀》中记载：人民祈祷神赐予一位勇士最伟大的奉献以保护人民的财富和安全，人民会选举他为国王；国王加冕时必须宣誓效忠于法律。这表明古印度
- A. 国家因契约的缔结而形成  
B. 宗教信仰维系着种姓制度  
C. 主权的合法性受多重制约  
D. 外族入侵造就文明多样性
13. 中世纪的西欧城市，大多由选举产生的市长、总管（管理财政）、市政会、城市法庭四部分组成的市政机构，依据城市自我约定的章程，或领主赐予的特许状进行管理。这种状况
- A. 传承古代希腊城邦的管理模式  
B. 沿袭日耳曼人农村公社的传统  
C. 汇集了亚非文明古国政治经验  
D. 孕育近代政治文明的精神要素
14. 1730—1839 年，英国议会共制定了超过 5000 部的圈地议案。这些议案是否通过取决于占有大比例土地面积者的意见，而不是支持或反对的所有者的数量。这些议案的通过，反映了当时英国
- A. 农业资本主义的发展  
B. 议会立法权力的逐步扩大  
C. 君主立宪制度的完善  
D. 新贵族和资产阶级的联合
15. 1848 年《共产党宣言》中提出“最近目的”是“推翻资产阶级的统治，由无产阶级夺取政权”。1890 年，恩格斯把“最近目的”调整为工人争取八小时工作日。这反映了
- A. 科学社会主义理论的局限性  
B. 经济政治形势发生巨大变化  
C. 马克思主义者坚持自我革命  
D. 巴黎公社实践留下深刻教训
16. 表 1 为美国国务院、新闻署制作的一系列对外宣传的小册子。

年份	书名	主要内容
1951	美国黑人：一个进步的群体	——
1952	美国生活中的黑人	精心挑选反映黑人和白人一起上学、工作、服役、交谈、娱乐等日常生活的照片
1953	关于美国黑人的事实真相是什么？	通过一问一答的方式，回答了“美国黑人如何看待美国民主”等 14 个问题
1957	一个非洲人看美国黑人	——
1960	美国黑人：一个进步报告	——

表 1

这反映了美国政府

- A. 注重塑造国家形象  
B. 争取非洲国家支持  
C. 提高制度纠错能力  
D. 着力推进民权改革

二、非选择题：本题共4小题，共52分。

17. 阅读材料，完成下列要求。（8分）

材料一

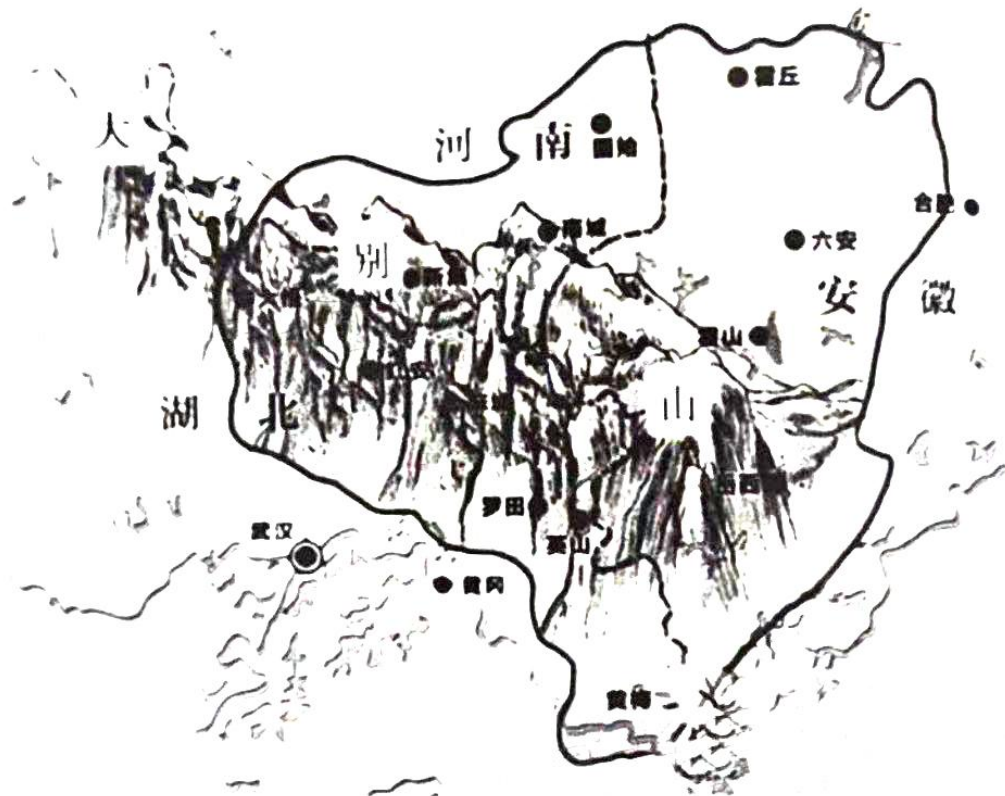


图4 鄂豫皖革命根据地

材料二 大别山中山面积约占全部山区15%，其余多为低山丘陵，山间谷地宽广开阔，并有河漫滩和阶地平原。气候属北亚热带季风型，温暖潮湿，降水丰富，南北两侧水系较为发达，分别注入长江和淮河。植物生长茂密，种类复杂，是主要农耕地区。

——摘编自《中国地理百科全书-大别山》

1927年八七会议后，中共发动黄安（今红安）、麻城起义，逐渐建立起仅次于中央苏区的第二大革命根据地——鄂豫皖革命根据地。根据材料并结合所学知识，分析鄂豫皖革命根据地创建的有利条件。

18. 阅读材料，完成下列小题。(17分)

方志是以一定体例，全面、系统地记述本行政区域自然、政治、经济、文化、社会的历史与现状的资料性文献。

材料一 清初，台湾“草昧初开，无文献之征”。康熙二十三年（1684年），蒋毓英等人纂修《台湾府志》，以“彰一统之盛”，卷一《沿革》详细书写了台湾从“化外之地”到“纳入版图”的过程，卷九《人物》中的《开拓勳臣》为施琅等21位平台有功的将领立传。雍正、乾隆年间，台湾行政区划不断完善，文化教育迅速发展，方志修撰事业进一步发展。光绪十三年（1887年）台湾设省，着手计划纂修第一部台湾通志，出现又一次修志高潮。《恒春县志》中大量收录中日双方关于琉球问题进行交涉的重要档案，《苗栗县志》中多次强调海防问题的重要性，指出“所虑者，不在内寇，而在外夷”。

——摘编自蔡浩翔《从“纳入版图”到“边疆危机”》

材料二 1945年台湾光复后，台湾修志因政府的倡导，加上对本土关怀风气渐起，当地士绅也认为省志是“民族精神之所系，区域研究的起点，而为国史之要删和乡土之历史”，修志事业逐渐发展。1948年设置台湾省通志馆，翌年改组为台湾省文献委员会，台湾地方志编纂迎来了一个小高峰期。在台湾省通志馆以及各县市文献委员会的积极参与下，省通志和县志全面编修，十年间共修成20部方志。这些方志既承接了传统修志方法的一面，也有其现代西方文化影响的一面。在内容方面则广搜博收，注意利用现代科学发展的成果，倡导学科分工以编辑近代型的志书，体例上也出现不同学派的争论。

——摘编自吉正芬《台湾方志编纂简述》

(1) 根据材料一并结合所学知识，分析清代台湾方志纂修的推动因素。(8分)

(2) 根据材料二并结合所学知识，概括自台湾光复至20世纪50年代台湾方志编纂的特点，说明其目的。(10分)

(3) 根据材料并结合所学知识，说明中国史学传统中方志编纂的意义。(6分)



19. 阅读材料，完成下列要求。(8分)

材料 有学者估算，1851年英国3~15岁人群入学率约为43%，其中大部分人就读的是主日学校（是一种私人创办的，在星期日为在工厂做工的青少年进行宗教教育、识字教育、传授工艺知识的免费学校）。办学对慈善的依赖带来校舍、师资的严重不足，贴补家用的需求也导致学生因做工而缺课的现象严重，以及随处可见的体罚管教等种种问题，引发了关于国家是否应该干预教育的激烈讨论。自由主义者、国教徒、工厂主、上层阶级等纷纷加入反对干预的一方，而支持干预的一方则认为，自由、平等地接受教育是天赋人权之一，国家应该承担教育人民的责任。

——摘编自王晓晋《19世纪英国初等教育制度的初步确立》

根据材料并结合所学知识，指出反对干预一方的意图（任答材料所列四种势力中的一种即可）。请你站在支持干预一方的立场上，进一步阐释干预的理由。(8分)

20. 阅读材料，完成下列要求。(12分)

材料 1994年，英国史学家霍布斯鲍姆出版了《极端的年代》。在书中，他把短促的20世纪（1914—1994年）划分为三个历史时期：从1914年到第二次世界大战结束是第一段，称之为大灾难时期；紧接着的25到30年，即到1973年为第二段，是经济成长异常繁荣，社会进行重大变迁的时期，他认为可以视为黄金年代；1970年代以后直至1991年苏联解体和东欧巨变为第三阶段，这是一个解体分散、彷徨不定、危机重重的年代，作者把这一时期称为天崩地裂。

——摘编自姜芑《20世纪的世界体系》

上述材料是学者对1914年至1994年世界史的阶段划分及时代特征的概括。结合所学知识，对其中任一历史时期的时代特征提出不同见解，并进行简要阐释。（要求：见解不得与材料重复，观点明确，史论结合，史实准确，逻辑清晰。）

## 关于我们

自主选拔在线是致力于提供新高考生涯规划、强基计划、综合评价、三位一体、学科竞赛等政策资讯的升学服务平台。总部坐落于北京，旗下拥有网站（[网址: www.zizzs.com](http://www.zizzs.com)）和微信公众平台等媒体矩阵，用户群体涵盖全国90%以上的重点中学师生及家长，在全国新高考、自主选拔领域首屈一指。

如需第一时间获取相关资讯及备考指南，请关注**自主选拔在线**官方微信号：**zizzsw**。



 微信搜一搜

 自主选拔在线

