

2022 年普通高等学校招生全国统一考试

(新高考二卷: 辽宁、海南、重庆)

数 学

注意事项:

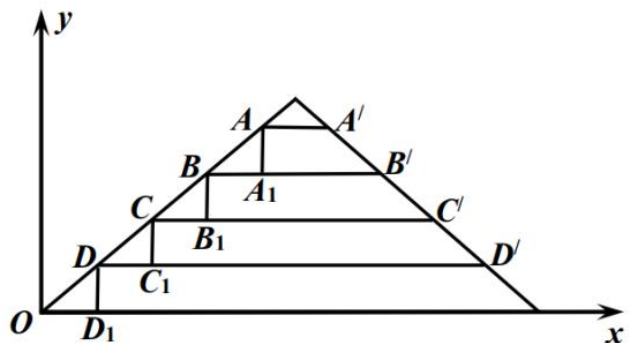
1. 答卷前, 考生务必将自己的姓名、准考证号填写在答题卡上。
2. 答选择题时, 选出每小题答案后, 用铅笔把答题卡上对应题目的答案标号涂黑。如需改动, 用橡皮擦干净后, 再选涂其他答案标号。回答非选择题时, 将答案写在答题卡上。写在本试卷上无效。
3. 考试结束后, 将本试卷和答题卡一并交回。

一、选择题: 本题共 8 小题, 每小题 5 分, 共 40 分。在每小题给出的四个选项中, 只有一项是符合题目要求的。

1. 已知集合 $A = \{-1, 1, 2, 4\}$, $B = \{x | |x-1| \leq 1\}$, 则 $A \cap B =$
- A. $\{-1, 2\}$ B. $\{1, 2\}$ C. $\{1, 4\}$ D. $\{-1, 4\}$

2. $(2+2i)(1-2i) =$
- A. $-2+4i$ B. $-2-4i$ C. $6+2i$ D. $6-2i$

3. 中国的古建筑不仅是挡风遮雨的住处, 更是美学和哲学的体现. 如图是某古建筑物的剖面图, AA', BB, CC', DD' 是桁, DD_1, CC_1, BB_1, AA_1 是脊, OD_1, DC_1, CB_1, BA_1 是相等的步, 相邻桁的脊步的比分别为 $\frac{DD_1}{OD_1} = 0.5, \frac{CC_1}{DC_1} = k_1, \frac{BB_1}{CB_1} = k_2, \frac{AA_1}{BA_1} = k_3$, 若 k_1, k_2, k_3 是公差为 0.1 的等差数列, 直线 OA 的斜率为 0.75, 则 $k_3 =$



- A. 0.75 B. 0.8 C. 0.85 D. 0.9
4. 已知向量 $\mathbf{a} = (3, 4)$, $\mathbf{b} = (1, 0)$, $\mathbf{c} = \mathbf{a} + t\mathbf{b}$, 若 $\langle \mathbf{a}, \mathbf{c} \rangle = \langle \mathbf{b}, \mathbf{c} \rangle$, 则实数 $t =$
- A. -6 B. -5 C. 5 D. 6
5. 甲乙丙丁戊 5 名同学站成一排参加文艺汇演, 若甲不站在两端, 丙和丁相邻的不同排列方式有
- A. 12 种 B. 24 种 C. 36 种 D. 48 种
6. 若 $\sin(\alpha + \beta) + \cos(\alpha + \beta) = 2\sqrt{2}\cos(\alpha + \frac{\pi}{4})\sin\beta$, 则

- A. $\tan(\alpha+\beta)=-1$ B. $\tan(\alpha+\beta)=1$ C. $\tan(\alpha-\beta)=-1$ D. $\tan(\alpha-\beta)=1$

7. 已知正三棱台的高为 1, 上下底面的边长分别为 $3\sqrt{3}$ 和 $4\sqrt{3}$, 其顶点都在同一球面上, 则该球的表面积为

- A. 100π B. 128π C. 144π D. 192π

8. 若函数 $f(x)$ 的定义域为 \mathbf{R} , 且 $f(x+y)+f(x-y)=f(x)f(y)$, $f(1)=1$, 则 $\sum_{k=1}^{22} f(k)=$

- A. -3 B. -2 C. 0 D. 1

二、选择题: 本题共 4 小题, 每小题 5 分, 共 20 分. 在每小题给出的选项中, 有多项符合题目要求. 全部选对的得 5 分, 部分选对的得 2 分, 有选错的得 0 分.

9. 已知函数 $f(x)=\sin(2x+\varphi)$ ($0<\varphi<\pi$) 的图象关于点 $(\frac{2\pi}{3}, 0)$ 对称, 则

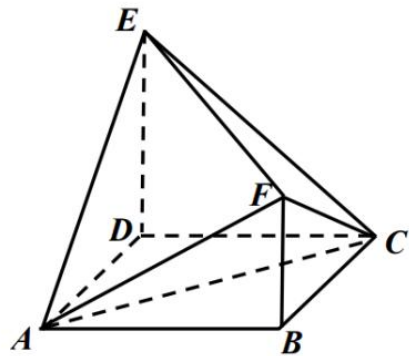
- A. $f(x)$ 在 $(0, \frac{5\pi}{12})$ 单调递减
 B. $f(x)$ 在 $(-\frac{\pi}{12}, \frac{11\pi}{12})$ 有两个极值点
 C. 直线 $x=\frac{6\pi}{7}$ 是曲线 $y=f(x)$ 的一条对称轴
 D. 直线 $y=\frac{\sqrt{3}}{2}-x$ 是曲线 $y=f(x)$ 的一条切线

10. 已知 O 为坐标原点, 过抛物线 $C: y^2=2px$ ($p>0$) 的焦点 F 的直线与 C 交于 A, B 两点, 点 A 在第一象限, 点 $M(p, 0)$, 若 $|AF|=|AM|$, 则

- A. 直线 AB 的斜率为 $2\sqrt{6}$
 B. $|OB|=|OF|$
 C. $|AB|>4|OF|$
 D. $\angle OAM+\angle OBM<180^\circ$

11. 如图, 四边形 $ABCD$ 为正方形, $ED \perp$ 平面 $ABCD$, $FB \parallel ED$, $AB=ED=2FB$, 记三棱锥 $E-ABC$, $E-ACF$, $F-ABC$ 的体积分别为 V_1, V_2, V_3 , 则

- A. $V_3=2V_2$
 B. $V_3=2V_1$
 C. $V_3=V_1+V_2$
 D. $2V_3=3V_1$



12. 若实数 x, y 满足 $x^2+y^2-xy=1$, 则

- A. $x+y<1$ B. $x+y>-2$
 C. $x^2+y^2 \geq 1$ D. $x^2+y^2 \leq 2$

三、填空题: 本题共 4 小题, 每小题 5 分, 共 20 分.

13. 随机变量 X 服从正态分布 $N(2, \sigma^2)$, 若 $P(2<X \leq 2.5)=0.36$, 则 $P(X>2.5)=$ _____.

数学试题第 2 页 (共 4 页)

14. 曲线 $y = \ln|x|$ 经过坐标原点的两条切线方程分别为 _____, _____.
15. 设点 $A(-2, 3)$, $B(0, a)$, 直线 AB 关于直线 $y = a$ 的对称直线为 l , 已知 l 与圆 $C: (x+3)^2 + (y+2)^2 = 1$ 有公共点, 则 a 的取值范围为 _____.
16. 已知直线 l 与椭圆 $\frac{x^2}{6} + \frac{y^2}{3} = 1$ 在第一象限交于 A, B 两点, l 与 x 轴 y 轴分别相交于 M, N 两点, 且 $|MA| = |NB|$, $|MN| = 2\sqrt{3}$, 则直线 l 的方程为 _____.

四、解答题: 本题共 6 小题, 共 70 分. 解答应写出文字说明, 证明过程或演算步骤.

17. (10 分)

已知 $\{a_n\}$ 为等差数列, $\{b_n\}$ 为公比为 2 的等比数列, 且 $a_2 - b_2 = a_3 - b_3 = b_4 - a_4$.

(1) 证明: $a_1 = b_1$;

(2) 求集合 $\{k | b_k = a_m + a_1, 1 \leq m \leq 500\}$ 中元素个数.

18. (12 分)

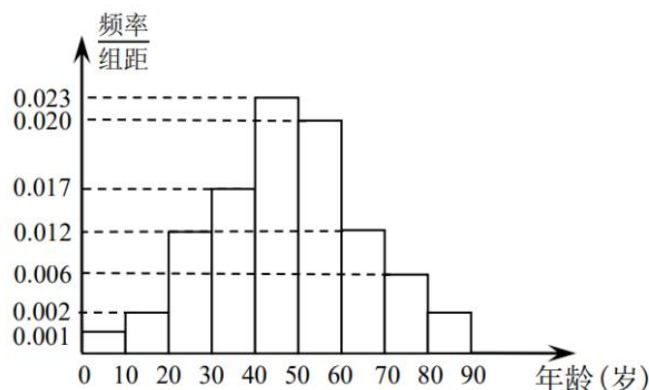
记 $\triangle ABC$ 的内角 A, B, C 的对边分别为 a, b, c , 以 a, b, c 为边长的三个正三角形的面积分别为 S_1, S_2, S_3 , 且 $S_1 - S_2 + S_3 = \frac{\sqrt{3}}{2}$, $\sin B = \frac{1}{3}$.

(1) 求 $\triangle ABC$ 的面积;

(2) 若 $\sin A \sin C = \frac{\sqrt{2}}{3}$, 求 b .

19. (12 分)

在某地区进行某种疾病调查, 随机调查了 100 位这种疾病患者的年龄, 得到如下样本数据频率分布直方图.



(1) 估计该地区这种疾病患者的平均年龄; (同一组数据用该区间的中点值作代表)

(2) 估计该地区以为这种疾病患者年龄位于区间 $[20, 70)$ 的概率;

(3) 已知该地区这种疾病患者的患病率为 0.1%, 该地区年龄位于区间 $[40, 50)$ 的人口数占该地区总人口数的 16%, 从该地区选出 1 人, 若此人的年龄位于区间 $[40, 50)$, 求此人患这种疾病的概率 (精确到 0.0001).

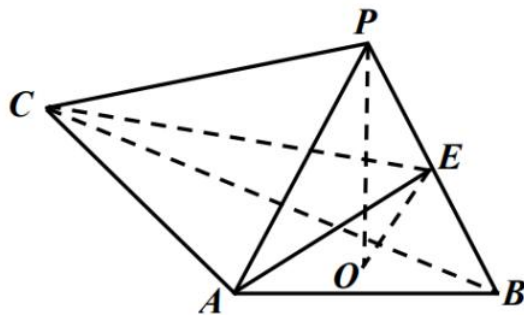
数学试题第 3 页 (共 4 页)

20. (12分)

如图, PO 是三棱锥 $P-ABC$ 的高, $PA=PB$, $AB \perp AC$, E 为 PB 的中点.

(1) 证明: $OE \parallel$ 平面 PAC ;

(2) 若 $\angle ABO = \angle CBO = 30^\circ$, $PO=3$, $PA=5$, 求二面角 $C-AE-B$ 正余弦值.



21. (12分)

设双曲线 $C: \frac{x^2}{a^2} - \frac{y^2}{b^2} = 1 (a > 0, b > 0)$ 的右焦点为 $F(2, 0)$, 渐近线方程为 $y = \pm\sqrt{3}x$.

(1) 求 C 的方程;

(2) 经过 F 的直线与 C 的渐近线分别交于 A, B 两点, 点 $P(x_1, y_1), Q(x_2, y_2)$ 在 C 上, 且 $x_1 > x_2 > 0, y_1 > 0$. 过 P 且斜率为 $-\sqrt{3}$ 的直线与过 Q 且斜率为 $\sqrt{3}$ 的直线交于点 M , 从下面三个条件①②③中选择两个条件, 证明另一个条件成立:

① M 在 AB 上; ② $PQ \parallel AB$; ③ $|AM| = |BM|$.

22. (12分)

已知函数 $f(x) = xe^{ax} - e^x$.

(1) 当 $a=1$ 时, 讨论 $f(x)$ 的单调性;

(2) 当 $x > 0$ 时, $f(x) < -1$, 求实数 a 的取值范围;

(3) 设 $n \in \mathbf{N}^*$, 证明: $\frac{1}{\sqrt{1^2+1}} + \frac{1}{\sqrt{2^2+2}} + \dots + \frac{1}{\sqrt{n^2+n}} > \ln(n+1)$.

名校综合评价介绍

名校综合评价致力于提供综合评价、三位一体、新高考生涯规划、志愿填报等政策资讯服务。总部坐落于北京，用户群体涵盖全国 80% 以上的重点中学师生及家长，在全国新高考、自主选拔领域首屈一指。

如需第一时间获取高中升学报考相关资讯及备考指南，请关注**名校综合评价**官方微信号：**mxzhpj**。

