

南京市 2022 届高三年级第二次(5 月)模拟考试

政治

2022.05

本试卷分为选择题和非选择题两部分,共 100 分;考试用时 75 分钟。

注意事项:

答题前,考生务必将学校、姓名、班级、学号写在答题卡的密封线内。选择题答案按要求填涂在答题卡上;非选择题的答案写在答题卡上对应题目的规定区域内,答案写在试卷上无效。考试结束后,请交回答题卡。

一、单项选择题:共 15 题,每题 3 分,共 45 分。每题只有一个选项最符合题意。

1. 越天山,育人才,补短板,谋发展,播撒产业之火,共唱文化之歌。多年来,江苏一批又一批党员、一部响应党中央号召,以“新栽杨柳三千里,引得春风度玉关”的豪情壮志,踏上新疆这片热土,真情帮扶、科学援建,不断提升对口援疆综合效益,助力绘就亮丽新疆画卷。对口援疆
- A. 是党的民族政策,有利于推动民族地区实现共同富裕
B. 保证了少数民族人民当家作主的地位,是社会主义的本质要求
C. 是民族团结的物质保障,促进了民族地区经济文化繁荣
D. 巩固了中华民族共同体意识,是我国民主集中制的优势体现
2. 人民陪审员制度,是指国家审判机关审判案件时吸收非职业法官作为陪审员,与职业法官或职业审判员一起审判案件的一种司法制度,是我国特有的司法制度安排。人民陪审员被誉为公民在法院中的“耳朵”和“眼睛”,是“不穿法袍的法官”。人民陪审员制度的价值在于
- ①发挥民主监督的作用,能够提升司法公信力
②兼顾专业逻辑和生活逻辑的统一,确保法律面前人人平等
③实现了人民的司法活动参与权,是中国特色的诉讼制度
④有利于普法教育,是我国政治体制改革的主要方向
- A. ①③ B. ①④ C. ②③ D. ②④
3. 某中学校园里,一些棘手问题成为学生参与校园管理的教育生长点。在学校党委领导下,学生事务中心就作业自主选择权、无校服日、校园手机管理、生活垃圾分类等问题向全校发放问卷,邀请学生、家长、教师、法律专家等各方代表召开校园听证会,共同商议,形成了校园公约。这种管理方式
- A. 体现了全过程人民民主的优势,能够实现人民的基本民主权利
B. 丰富了学生参与政治生活的实践,能够培养学生政治参与能力
C. 提高了基层行政管理水平和效率,有利于规则制度的贯彻实施
D. 推动了政府决策的主体多元化,是学校意志与个人意志的统一
4. 近年来,年轻人群体崇尚个性追求自我,在兴趣爱好和社交方式等方面呈现新特点、新潮流。这一群体规模逐渐壮大,消费潜力开始释放,由此催生出卖萌经济、单身经济、社恐经济等新的经济业态。这反映出
- A. 新经济业态为年轻人群体新的消费需求创造了动力
B. 新经济业态改变了年轻人群体的生活方式和消费方式
C. 新的消费热点能够为新经济业态创造出新劳动力
D. 消费业态升级和消费空间拓展推动了新经济业态出现

高三政治试卷第1页 (共6页)

5. 算力是对数据的处理能力。数据中心耗能较高,我国依托西部绿色能源,实施“东数西算”工程,构建全国一体化大数据中心体系。也就是通过构建数据中心、云计算、大数据一体化的新型算力网络体系,将东部算力需求有序引导到西部,让西部的算力资源更充分地支撑东部数据的运算,更好地为数字化发展赋能。实施“东数西算”工程
- ①坚持了开放理念推动东西部联动发展 ②可以优化资源配置提高资源使用效率
③运用了综合的思维方法促进系统优化 ④通过算力规模化的量变实现质的飞跃
- A. ①③ B. ①④ C. ②③ D. ②④
6. 目前,我国围绕新一代信息技术、高端装备、新材料等重点领域打造 25 个先进制造业集群,聚集了 2.5 万家规模以上企业、上千家“专精特新”企业和全国近半数的国家制造业创新中心,主导产业产值超过 9.5 万亿元。下列关于“打造先进制造业集群”表述不正确的是
- A. 有利于发挥资源共享效应,形成区位优势
B. 可以打通上下游产业链供应链,克服市场竞争的自发性弊端
C. 是我国建设制造强国、促进产业迈向价值链中高端的重要路径
D. 能够对相关企业产生虹吸效应,促进专业化分工和创新资源汇聚
7. 随着人口老龄化程度加深,我国老年教育需求迅猛增长,但老年大学、开放大学等各类涉老教育机构常常一位难求,凸显了在资源供给、渠道下沉、部门协同等方面不少深层次问题。可见,解决老年人“读书难”问题,需要
- ①政府大力补齐基本公共服务短板 ②积极引导社会力量参与老年教育
③规范老年教育课程体系的设计和和实施 ④党组织切实履行文化资源共享的职能
- A. ①② B. ①④ C. ②③ D. ③④
8. 行走在南京城里常常有新旧时空穿越之感,以老门东、评事街、大板巷为代表的老街区通过设施嵌入、功能融入、文化代入等举措,空间品质和文化魅力得以提升,生态、生活、生产、生态“四生合一”的崭新气象不断涌现。这启示我们,城市发展
- ①应以人为本,传承城市的历史文脉 ②应尊重传统,保持城市的历史原貌
③要加强老城改造,实现城乡均衡发展 ④要兼顾传统与现代,提升城市品质
- A. ①③ B. ①④ C. ②③ D. ③④
9. 当甲骨文碰上表情包,当古老文字撞上网络流行语,会擦出怎样的火花?清华美院陈楠教授将古老的甲骨文,搭配上多样的色彩和变化的图形,摇身一变就成为了当下的流行语,吃瓜、男神、鸡冻、上天(图1)……绝对是你跟朋友嗨聊的不二选择!假如要写一篇关于甲骨文表情包的推广介绍,下列选项适合做标题的有



图 1

- ①品传统味,感受甲骨文从古至今散发的魅力 ②守民族根,改造传统文化中的糟粕
③融文化潮,在象形中提升人际交往的温度 ④创时代魂,赋予当代文化时尚新颖的载体
- A. ①② B. ①③ C. ②① D. ③④

高三政治试卷第2页 (共6页)

10. 在2022年“4·23世界读书日”到来之际,南京某书店主办了以“万物复书——2022共读文都计划”为主题的文化图书公益导读活动,通过名家导读、线上直播、线下讲座等形式,和市民朋友们共读近年文化精品图书。此次大型公益活动旨在引导更多的读者爱上图书,爱上阅读,挖掘数字文化资源的价值。这一活动

- A. 实现了国家文化软实力的提升
B. 使大众传媒成为文化传播的主要手段
C. 发挥了新媒体的强大传播力和引导力
D. 体现了社会效益要与经济效益相统一

11. 元宇宙(Metaverse)是利用科技手段进行链接与创造的,与现实世界映射与交互的虚拟世界,具备新型社会体系的数字生活空间。伴随着元宇宙应用场景和应用范围的不断扩大,未来人们大量的工作和生活活动都将在元宇宙场景中发生,如购物、娱乐、社交、学习、办公等(图2),元宇宙将成为人们日常不可或缺的一部分。现实世界与以元宇宙为代表的数字世界将会走向深度融合,人们对世界的看法也将发生巨大变化。上述认识属于

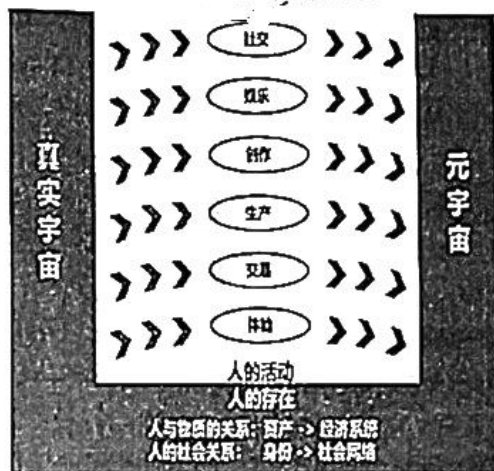


图2

- ①具体科学的发展必将推动哲学的发展
②世界的本质是物质和意识的二元构成
③虚拟与现实是相互依赖和互相影响的
④意识能创造一个理想的或幻想的世界

- A. ①②
B. ①④
C. ②③
D. ③④

12. 2022年4月,借助于新测序方法Oxford Nanopore和PacBio HiFi,近百位科学家合作完成了首个完整无间隙人类基因组测序,填补上最后8%的空缺,同时纠正了之前的一些错误。新确认的DNA片段里包含重要的免疫反应基因,它能帮助人类适应和抵御病毒和细菌感染,在预测药物反应方面很有价值。材料表明了

- ①基因组测序的生产实践具有社会历史性的特点
②测序新方法是基因组测序取得发展的根本动力
③人类基因组测序在主客观互动中不断被超越
④生物技术发展对人类健康有积极的促进作用

- A. ①②
B. ①③
C. ②④
D. ③④

13. 对图3漫画认识正确的是

贫穷有两种:没钱的和有钱的。



图3

- A. 对贫穷的判断没有统一的客观标准
B. 超越了物质上的贫穷精神上才会富有
C. 我们无法做到物质与精神上同时富有
D. 贫穷与富有在一定条件下相互转化

14. 黄河安澜是中华儿女的千年期盼。无论是黄河长江“母亲河”，还是碧波荡漾的青海湖、逶迤磅礴的雅鲁藏布江；无论是南水北调的世纪工程，还是塞罕坝林场的“绿色地图”；无论是云南大象北上南归，还是藏羚羊繁衍迁徙……这些都昭示着：人不负青山，青山定不负人。这告诉我们

- A. 要在坚持整体与部分的有机统一中看待人与“青山”的关系
- B. 要学会运用对立统一的观点理解和把握人与“青山”的关系
- C. 要用前进性与曲折性相统一的原理分析人与“青山”的关系
- D. 要用矛盾的普遍性与特殊性关系去定位人与“青山”的关系

15. 中国共产党自1921年成立以来，始终以世界眼光关注人类前途命运。今天，“坚持胸怀天下”作为百年历史经验，被写入了中国共产党第三个历史决议中。胸怀天下者方可成大业。一个政党要实现永续发展，必须要秉持“大道之行，天下为公”的理念，要有大胸怀、大视野、大格局。“胸怀天下”理念

- ①顺应了世界潮流，符合社会历史发展的客观规律
- ②抓住了主要方面，实现了两点论与重点论的统一
- ③坚持辩证否定观，体现了辩证法的革命批判精神
- ④是先进社会意识，反映了中国共产党的价值追求

- A. ①② B. ①④ C. ②③ D. ③④

二、非选择题：共4题，共55分，包括必做题和选做题两部分。其中第16题~第18题为必做题，每个试题都必须作答。第19题为选做题，包括三小题，请选做其中的两小题；若多做，则按作答的前两小题评分。

16. “看得见山，望得见水，记得住乡愁。”这是对美丽乡村的生动诠释。在乡村振兴过程中，延续乡村的“意蕴”也尤为重要。乡村振兴需要文化的融入，才能更好地服务人民群众的高品质生活需求，使记忆中的故园变成更有活力的新农村。

案例一：H市结合本地实际，制定了新型职业农民培训实施方案，积极探索教育培训、认定管理和政府扶持“三位一体”，生产经营型、专业技能型、专业服务型“三类协同”的新型农民培训体系建设，为现代农业发展提供农村实用人才支撑。各种各样形式多样、深入浅出的培训使农民对专业知识“听得懂、学得会、用得了”，促进了农业科技的推广应用，营造了广大农村爱科学、用科学，依靠科技发展生产、发家致富的氛围。

案例二：用陶罐垒起的墙体、嵌在墙上的木船、活灵活现的雕塑“吹糖老人”、记录历史变迁的旧式马车……在当地政府支持下，S村积极改造村庄风貌，守正出奇将传统农耕文化元素融入村景，村在景中，人在画中。同时，该村引入现代科技开发了田园小火车、VR麦田、高仿真耕作雕塑、体感植物等新一代休闲农业产品，让游客沉浸式地体验多元的农耕文化，村民的日子一天天红火起来。

案例三：W镇加强农村文化阵地建设，引导群众崇德向上、见贤思齐，展示新时代村民良好精神风貌。以乡镇宣传站、村文化活动室为基础，建设了村民文明学校、农民夜校、图书室、阅报栏等各种思想文化阵地，引领带动广大干部、党员和群众争做道德模范、身边好人等“最美人物”，遏制陈规陋习、倡树文明新风，打造了一批乡风文明示范村。

结合案例，综合运用经济生活和文化生活知识，说明如何以文化赋能乡村振兴？（12分）

做法。

17. 2021 年我国新能源汽车产销量分别达到 354.5 万辆和 352.1 万辆,总产销量已连续七年位居全球第一。国内市场中纯电动汽车中国品牌市场占有率达到 81%。同年底,国务院四部委联合下发的一个通知引起了社会广泛关注,焦点在于“2022 年新能源汽车购置补贴政策将于 2022 年 12 月 31 日终止,此后上牌的车辆不再给予补贴”。这意味着与我国新能源汽车发展战略相配套的新能源汽车购置补贴政策将退出历史舞台。

某同学梳理了我国新能源汽车购置补贴政策的实施历程,并制作了示意图(图 4):



图4

- (1)运用经济生活知识,说明我国既然大力发展新能源汽车产业,为什么还要终止新能源汽车购置补贴政策。(9分)
- (2)运用辩证唯物论知识,评价我国新能源汽车购置补贴政策的调整。(10分)

18.【人大代表履职故事】

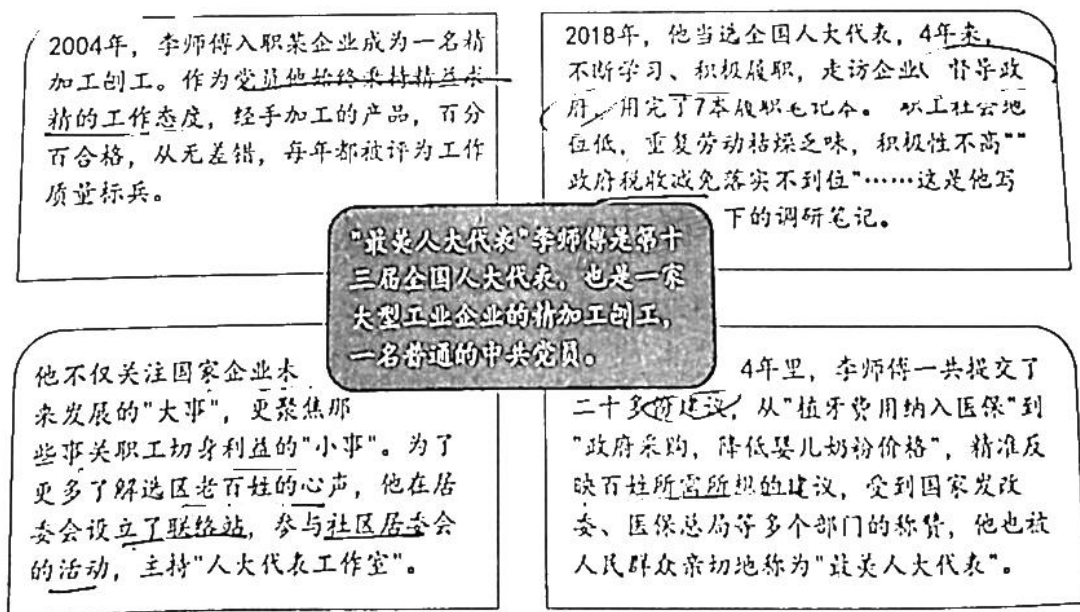


图5

运用政治生活知识,说明李师傅为什么能够成为人民群众口中的“最美人大代表”? (12分)

19.【选做题】本题包括A、B、C三小题,请选定其中两小题,并在相应的答题区域内作答。若多做,则按作答的前两小题评分。

A【经济全球化与对外开放】

疫情之下,2021年我国外贸进出口规模再创历史新高,“十四五”对外贸易实现良好开局。2021年,我国外贸进出口总值39.1万亿元,同比增长21.4%。一般贸易进出口同比增长24.7%,跨境电商、市场采购出口等贸易新业态蓬勃发展,外贸新动能不断集聚。我国积极优化全球市场布局,与东盟、欧盟和美国进出口同比分别增长19.7%、19.1%和20.2%。同期,我国与“一带一路”沿线国家进出口同比增长23.6%,与RCEP贸易伙伴进出口同比增长18.1%。

结合材料,运用所学知识说明我国对外贸易逆势增长的原因。(6分)

B【经济学常识】

李嘉图认为:一种商品没有用就不会具有交换价值。效用对于交换价值来说是绝对不可缺少的,但它不能成为交换价值的尺度。耗费在一件商品上的劳动是商品价值的尺度,交换价值是由价值来调节的,因而是由耗费的劳动量来调节的。

结合材料,说说李嘉图的劳动价值理论对企业的生产经营有何启示?(6分)

C【国家和国际组织常识】

阅读漫画(图6,选自《环球时报》英文版),回答问题:

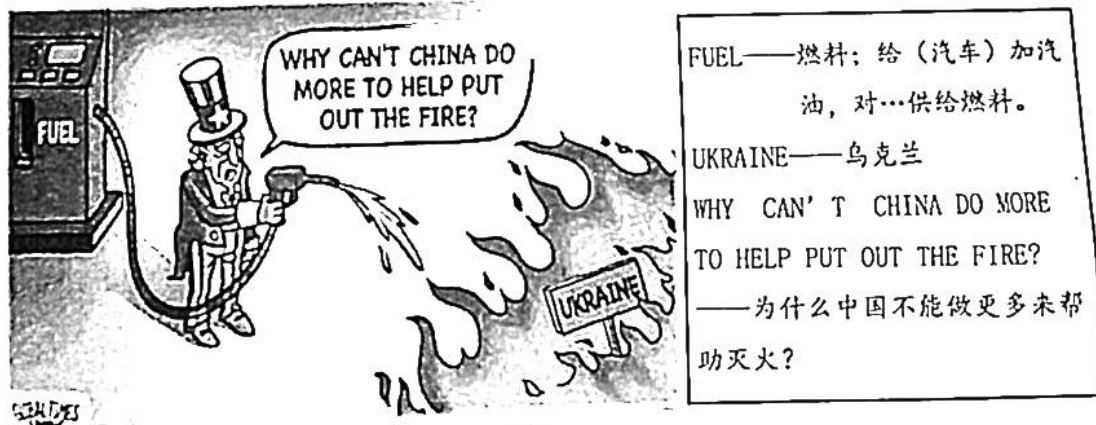


图6

运用所学知识,驳斥漫画中人物对中国的诘问。(6分)

关于我们

自主选拔在线是致力于提供新高考生涯规划、强基计划、综合评价、三位一体、学科竞赛等政策资讯的升学服务平台。总部坐落于北京，旗下拥有网站（[网址: www.zizzs.com](http://www.zizzs.com)）和微信公众平台等媒体矩阵，用户群体涵盖全国90%以上的重点中学师生及家长，在全国新高考、自主选拔领域首屈一指。

如需第一时间获取相关资讯及备考指南，请关注**自主选拔在线**官方微信号：**zizzsw**。



微信搜一搜

自主选拔在线

