

2022 届高三开年摸底联考 全国卷 文科综合

注意事项:

1. 答卷前,考生务必将自己的姓名、考生号等填写在答题卡上。
2. 回答选择题时,选出每小题答案后,用铅笔把答题卡上对应题目的答案标号涂黑。如需改动,用橡皮擦干净后,再选涂其他答案标号。回答非选择题时,将答案写在答题卡上,写在本试卷上无效。
3. 考试结束后,将本试卷和答题卡一并交回。

考试时间 150 分钟,满分 300 分

一、选择题:本题共 35 小题,每小题 4 分,共 140 分。在每小题给出的四个选项中,只有一项是最符合题目要求的。

图 1 为一位游客于某日某地(90°E,40°N 附近)北京时间 20:40 拍摄的夕阳图片。据此完成 1~3 题。



图 1

1. 该游客拍摄时将摄像机镜头调向为
A. 东北方向 B. 西北方向 C. 东南方向 D. 西南方向
2. 该游客拍摄当日,该地的昼长约为
A. 15 小时 20 分钟 B. 8 小时 40 分钟
C. 13 小时 20 分钟 D. 9 小时 40 分钟
3. 游客发现,拍摄后的第二天,该地日出
A. 正东方向 B. 西南方向 C. 东北方向 D. 正西方向

表 1 为我国某城市 8 日内气象要素变化统计表。据此完成 4~6 题。

表 1

	最高气温(°C)	最低气温(°C)	天气状况	风向	风力
周一	8	-5	晴	西南风	微风
周二	18	5	晴	西风	微风

开年摸底联考 全国卷 文科综合 第 1 页(共 16 页)

周三	20	6	晴转多云	西北风	微风
周四	18	-2	雨夹雪转小雪	东北风	微风
周五	3	-3	阴转多云	南风	微风
周六	8	-1	多云	西风	微风
周日	16	5	晴	东风	微风
周一	19	3	晴	东风	微风

4. 该城市 8 日内气象要素发生变化的主要原因是
- A. 冷锋过境 B. 暖锋过境 C. 气旋过境 D. 反气旋过境
5. 周五最低气温降至最低, 说明该日
- A. 太阳辐射减弱 B. 地面辐射减弱
C. 地面积雪深厚 D. 微风传热率低
6. 推测该城市这一天气现象多发的季节是
- A. 初春季 B. 初夏季 C. 初秋季 D. 春末季

在屋顶以绿化形式建设的花园叫屋顶花园。日本东京市政府 2001 年的政策规定, 业主在新建和改建占地面积 1000 平方米以上的民间设施和 250 平方米以上的公共设施时, 必须绿化屋顶可利用面积的 20%。图 2 为日本屋顶花园一景。据此完成 7~8 题。



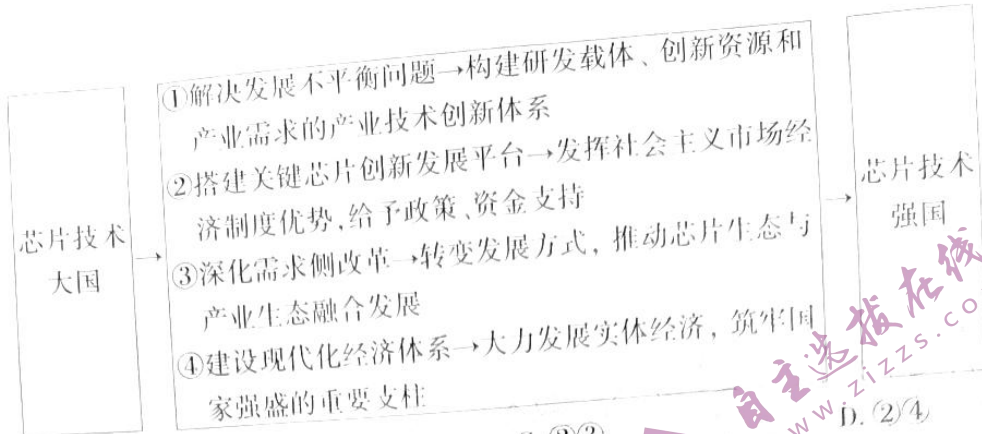
图 2

7. 日本东京市建设屋顶花园的主要目的是
- A. 保护多种生物, 维持生态平衡 B. 节省能源消耗, 缓解热岛效应
C. 净化空气, 美化环境 D. 调节气候, 涵养水源
8. 东京市屋顶花园适宜栽种的植物是
- A. 落叶阔叶植物 B. 常绿阔叶植物
C. 耐旱的植物 D. 喜温凉植物

近年来, 拥有全市 80% 以上生物医药企业的昆明高新技术产业开发区, 依托国家级生物医药等重点研究机构和高等院校, 全力引领云南省生物医药产业高端化、专业化、国际化、现代化、特色化发展。据此完成 9~11 题。

9. 云南省生物医药产业发展的有利区位条件有

- ①传统文化底蕴深厚 ②“植物王国”资源丰富 ③生态环境良好 ④工业基础雄厚
- A. ①② B. ③④ C. ②③ D. ①④
10. 昆明高新技术开发区能够引领全省生物医药产业高端化发展的优势是
- A. 政策支持力度大 B. 辐射带动作用强
C. 科研机构在此汇聚 D. 传统医药历史悠久
11. 推测云南省生物医药产业布局的特点是
- A. 分散式布局 B. 均衡式布局 C. 市场化布局 D. 集群式布局
12. 蔬菜是人们日常饮食中必不可少的食物之一。农业农村部统计数据显示,2021年10月,黄瓜、西葫芦、白萝卜和菠菜等家常菜均价较上月分别上涨65.5%、36.3%、30.7%和26.5%。下列选项对蔬菜价格上涨的原因推断正确的是
- ①恶劣天气影响蔬菜生长,导致供给减少
②蔬菜的生产资料价格上涨,推高蔬菜成本
③运输费用上涨是菜价上涨的根本原因
④新冠肺炎疫情点状散发,降低了产销衔接的难度
- A. ①② B. ①③ C. ②④ D. ③④
13. 微信和支付宝是金融基础设施,是“钱包”;数字人民币是支付工具,是“钱包”的内容。中国人民银行发行数字人民币后,人们仍然可以用微信、支付宝进行支付,只不过“钱包”里装的内容增加了央行货币。这说明数字人民币
- ①是由中国人民银行发行的,具有价值性和法定性
②是数字形式的法定货币,扩大了货币的职能
③加快了货币流通速度,增加了居民货币购买力
④能够实现纸钞所能实现的所有功能
- A. ①② B. ①④ C. ②③ D. ③④
14. 2021年政府工作报告中涉减税政策主要有三项:一是将小规模纳税人增值税起征点从月销售额10万元提高到15万元;二是对小微企业和个体工商户年应纳税所得额不到100万元的部分,在现行优惠政策基础上,再减半征收所得税;三是延续执行企业研发费用加计扣除75%的政策,并将制造业企业加计扣除比例提高到100%。对企业来说,国家采取减税政策传导路径正确的是
- ①减轻企业的税负→降低企业成本→增加企业收益→增强企业应对市场风险能力
②减轻企业的税负→降低企业成本→提高企业投资能力→增加企业职工收入
③减轻企业的税负→增加企业利润→扩大劳动者就业→企业占领市场制高点
④减轻企业经营负担→激发企业和市场的活力→缓解宏观经济压力→促进经济增长
- A. ①③ B. ①④ C. ②③ D. ②④
15. 中国的芯片市场需求占全球50%以上,部分芯片市场需求占70%-80%,而90%的芯片依赖于进口,国产芯片只能自供8%左右。在新发展阶段,如何有效突破关键核心技术“卡脖子”瓶颈,夯实制造业基础,实现产业关键核心技术自主创新,将我国打造成为全球领先创新驱动型国家,已经成为全国各界广泛关注的重要战略和现实问题。下列关于我国从芯片技术大国走向芯片技术强国路径正确的是



- A. ①② B. ①③ C. ②③ D. ②④
16. 《中共中央关于党的百年奋斗重大成就和历史经验的决议》指出,“积极发展全过程人民民主,健全全面、广泛、有机衔接的人民当家作主制度体系,构建多样、畅通、有序的民主渠道,丰富民主形式,从各层次各领域扩大人民有序政治参与,使各方面制度和国家治理更好体现人民意志、保障人民权益、激发人民创造。”发展全过程人民民主必须
- ①把人民当家作主具体体现到国家政治生活和社会生活的方方面面
②坚持党的领导、人民当家作主,依法治国有机统一
③坚持独立自主的和平外交政策
④照抄照搬他国政治制度
- A. ①② B. ①③ C. ②③ D. ②④
17. “船重千钧,掌舵一人。”对于一个国家、一个政党来说,领导核心至关重要;拥有科学理论的政党才拥有真理的力量,拥有科学理论指导的事业才拥有光明的前途。党的十八届六中全会明确提出“两个确立”,即党确立习近平同志党中央的核心、全党的核心地位,确立习近平新时代中国特色社会主义思想的指导地位,反映了全党全军全国各族人民共同心愿,对新时代党和国家事业发展、对推进中华民族伟大复兴历史进程具有决定性意义。这是因为,“两个确立”
- ①继承和发扬了党的优良传统 ②体现了立党为公、执政为民的理念
③是党总揽全局、协调各方的需要 ④是党加强政治、思想、组织领导的品质
- A. ①② B. ①③ C. ②④ D. ③④
18. 2020年以来,某区政协紧扣“精选题、广参与、多协商、求实效”协商议事主旋律,创新举措,搭建平台,深入开展“有事好商量”协商议事活动,为助力基层社会治理提供了政协模式。这体现了人民政协
- ①是爱国统一战线组织
②以协商议事为主为国家发展服务
③通过协商议事活动促进政府提高管理和服务的效能
④通过搭建平台履行国家职能来为社会服务
- A. ①③ B. ①④ C. ②③ D. ②④
19. 电影《长津湖》引发观影热潮,打破多项中国影史纪录。集结一流制作团队、塑造丰满人物形象、运用高科技拍摄制作技术……这部影片以史诗巨制的规模再现抗美援朝战争场面,致

- 敬伟大精神。据此可以推断出电影《长津湖》
- ①是优秀文化的物质载体,对社会发展起推动作用
 - ②承载着家国情怀,有利于弘扬伟大的民族精神
 - ③传承新时代文化,有利于践行社会主义核心价值观
 - ④丰富了新中国文化史,有利于国家物质文明发展
- A. ①② B. ①③ C. ②④ D. ③④
20. 当代中国发展进步的实践进程,离不开看似无形却真切存在的文化力量的支撑和推动;同时,这种发展进步也为文化的创新发展奠定了物质基础,积累着精神能量。这体现了
- ①社会实践是文化创新的基本途径
 - ②社会实践是文化创新的源泉
 - ③文化发展是改革发展的不竭精神动力
 - ④从社会实践中获取文化发展精神动力
- A. ①② B. ①③ C. ②③ D. ③④
21. 为大力创新发展文化资源,助推文化产业发展,某市自然资源局积极主动作为,以实际行动传承好、保护好、利用好全市红色、绿色、古色文化资源,加快构建该市文化发展新格局。对
该市自然资源局的做法理解正确的是
- ①依据当地文化资源的情况,制定文化发展战略
 - ②将把握文化发展规律作为发展策略的出发点
 - ③认识到发挥主观能动性是构建文化发展新格局的前提
 - ④将把握当地文化资源特点作为构建文化发展新格局的关键
- A. ①② B. ①③ C. ①④ D. ②④
22. 习近平总书记曾指出,同步推进新型工业化、信息化、城镇化、农业现代化,薄弱环节是农业现代化。要着眼于加快农业现代化步伐,在稳定粮食和重要农产品产量、保障国家粮食安全和重要农产品有效供给的同时,加快转变农业发展方式,加快农业技术创新步伐,走出一条集约、高效、安全、持续的现代农业发展道路。这体现的哲学道理是
- ①在矛盾特殊性原理指导下,研究事物的普遍性
 - ②部分影响整体,一定条件下关键部分决定整体发展
 - ③矛盾普遍性制约特殊性,矛盾普遍性寓于特殊性之中
 - ④树立全局观念,用综合的思维方法认识事物
- A. ①② B. ①④ C. ②③ D. ②④
23. 张桂梅是云南省丽江市华坪女子高级中学党支部书记、校长。她致力于教育扶贫,扎根边疆教育一线40余年,推动创建了中国第一所公办免费女子高中,2008年建校以来帮助1800多名女孩走出大山、走进大学。张桂梅身患多种疾病,但她拖着病体坚守三尺讲台,用爱心和智慧点亮万千乡村女孩的人生梦想。在2021年2月召开的全国脱贫攻坚总结表彰大会上,张桂梅被授予“全国脱贫攻坚楷模”称号。下列选项中符合张桂梅人生写照的是
- ①只有符合社会发展的人生价值才是有意义的价值
 - ②把维护人民的利益作为最高的价值追求
 - ③人的价值在于对社会的责任和贡献

4. 实现人生价值必须利用社会提供的物质条件
A. ①② B. ①③ C. ②③ D. ③④
24. 《尚书·牧誓》记载,当年武王伐纣,在发起总攻前以“西土之人”统帅的身份,“左杖黄钺,右秉白旄”,举行隆重的战前誓师动员大会;历数商纣“暴虐百姓”“奸宄商邑”的无道、失德行径,称自己的伐商之举是“惟恭行天之罚”。周武王此举意在 C
A. 依靠血缘宗法维护统治
B. 构建海内一统的理想蓝图
C. 借助天命实现政治认同
D. 消除社会底层的敌对情绪
25. 刘邦晚年与心腹之军功大臣订立了“白马之盟”。一方面保证了刘氏皇权独享王位的权力,另一方面,军功大臣因功而侯,因侯而相,形成了以丞相为核心的政府权力机构,事实上造成了政府权力对皇权的分割。这表明汉初政权
A. 形成了郡国并行的政治局面
B. 实现了权力分配的政治妥协
C. 践行了无为而治的治国理念
D. 优化了中央各部门相互关系
26. 宋代在服饰制度方面远不如唐朝开放,主要以保守怀旧为主,崇尚古代的礼服。宋代服饰色彩和图案几乎以自然景色的意象构成,比如兰、牡丹、樱桃等几何纹样为主,还有具有民间风趣的图案,如仙鹤、百蝶等。这一变化反映出
A. 商品经济的发展 B. 程朱理学的影响
C. 市民阶层的崛起 D. 审美水准的提升
27. 表 2 介绍了清代江南举人的社会成分统计情况。导致这一状况形成的主要原因是

表 2

人数	直系三代出高级科名或相应官职	直系三代仅出低级科名	直系三代未出功名但生活于城市	直系三代未出功名且生活于市镇	直系三代未出功名且生活于农村	来自城市/市镇/农村
1433	958(67%)	240(17%)	53(4%)	17(1%)	3	城市 1042(74.6%) 市镇 290(20.8%) 农村 64(4.6%) (37 人 不详)

资料来源:整理自顾廷龙主编《清代朱卷集成》第 130-208、231-303 册。

- A. 传统自然经济逐渐瓦解 B. 世家大族的势力膨胀
C. 农业人身依附关系松弛 D. 维护专制统治的需要
28. 1904 年,美国拒绝修订《限禁来美华工保护寓美华人条约》。在此背景下漫画《龟仔抬美人》问世(见图 3),漫画中四个乌龟抬轿子,轿子里面坐着一个洋小姐。当时,广州的出行工具是轿子,漫画告诫轿夫谁也不要抬她。这幅漫画有助于 B

开年摸底联考 全国卷 文科综合 第 6 页(共 16 页)

哩果棒唔打日作
隻你佢够 熟佢我碗
家重亚 我就咁
烟抬叶千咁来係碗
豆 咁新人我狗
就 唔心毕 美



图3

- A. 塑造积极进取的国民精神
B. 鼓舞广大民众反帝斗志
C. 深化西方民主的理性认知
D. 促使清廷转变外交策略
29. 《关于若干历史问题的决议》指出：“毛泽东在这个时期内，不但在实践上发展了第六次大会路线的正确方面，并正确地解决了许多为这次大会所不曾解决或不曾正确解决的问题，而且在理论上更具体地和更完满地给了中国革命的方向以马列主义的科学根据。”这意在强调毛泽东
- A. 形成了党内的个人崇拜
B. 确立了在全党的领导地位
C. 推动了工作重心的转移
D. 解决了马克思主义中国化
30. 1942年9月，蒋介石制定《加强管制物价方案》，对工资、运价等进行限制，要求同一地区同一时间实行同一价格。1943年3月，行政院颁布了《限价议价物品补充办法》，对粮、油、盐、棉、纱、布、燃料、纸张、运价、工价以外其余物品均实行统一议价。据此可知当时
- A. 民族工业遭遇巨大挫折
B. 官僚资本垄断性削弱
C. 战时经济体制逐渐加强
D. 产业结构趋向合理化
31. 1979年2月，内蒙古发出《关于农村牧区若干政策问题的决定》提出：“今后每年对牧区的基层干部都要进行一次评比奖励。凡是领导群众勤俭办社、民主办社，使社队获得增产增收的不脱产基层干部，应同社员一样得到超产奖励，他们每年的分配收入（包括定额补助部分），均应略高于本队同等劳力收入的水平。”这一政策的出台
- A. 肯定了非公有制经济地位
B. 理顺了计划与市场的关系
C. 推动了基层分配制度改革
D. 明确了现代企业制度原则
32. 希腊史学家汉森认为：“城邦首要的不是物质的东西的组合，如领土、领空、领海，它是由人组成的共同体。公民也不仅仅是一种身份或者所属，甚至不仅仅是一种法律规定的权利义务的承载者，而是人的存在方式，只有参与相应的（政治）活动的人才配享公民之名。”该学者意在强调
- A. 城邦生活缺乏法律基础
B. 公民人权高于国家主权
C. 城邦建设有赖民主实践
D. 职能缺失影响国家稳定
33. 1575—1630年，英国各类贸易公司的社会和阶级构成中，“商人”占了73.5%，其余部分为绅士、骑士、贵族、职业家人士和自耕农。这一时期的26个公司中，乡绅和其他非商人的投资

占该公司或贸易组织总资本的比重在 70% 以上的公司有 9 个,在 50% 以上的有 14 个。据此可以推知,这一时期的英国经济

- A. 逐渐摆脱封建王权的控制
- B. 出现了资本主义生产关系
- C. 推动工业资产阶级的壮大
- D. 呈现新旧势力兼容的特征

34. 王希教授说:“美国宪法不是一个完美无缺的政治设计,一开始不是,现在也不是,宪法诞生后,它是通过群体谈判妥协而化解危机爆发,参与立宪的利益是多元的,立宪的过程必然是一个协商和妥协的过程,由此产生的宪法也必然是一个多元利益相互妥协的产物。”该学者意在强调美国宪法

- A. 存在着日益严重的体制弊端
- B. 践行了启蒙运动的核心内容
- C. 适应了维护稳定的现实需要
- D. 创建了西方的民主共和政体

35. 现行的国际治理体系是二战后由美国主导的西方大国集团建立的,主要治理机制包括协调国际政治的联合国、协调全球贸易体系的世界贸易组织、协调国际货币体系的国际货币基金组织与世界银行等。然而,以美国为代表的西方国家并没有通过全球治理体制的民主化接纳新兴市场的利益和声音,这种冲突对国际和平与安全构成威胁。这表明

- A. 战后资本主义阵营主导世界
- B. 发展中国家的利益被完全忽视
- C. 世界亟待构建新型国际秩序
- D. 世界多极化趋势前景十分黯淡

二、非选择题:共 160 分,第 36~42 题为必考题,每个试题考生都必须作答。第 43~47 题为选考题,考生根据要求作答。

(一)必考题:共 135 分。

36. 阅读图文材料,完成下列要求。(24 分)

陕西省西安市地处中国地理版图的几何中心,目前正在打造西安米字型高铁枢纽,以西安为中心,陕西高铁有八个方向向外辐射延伸,建设进度已完成大半。“米字型”高铁网的建设必将促进陕西省社会经济的飞跃,提升西安这一中心城市的辐射功能。图 4 示意包括已建和规划的“米”字型高铁网络图。

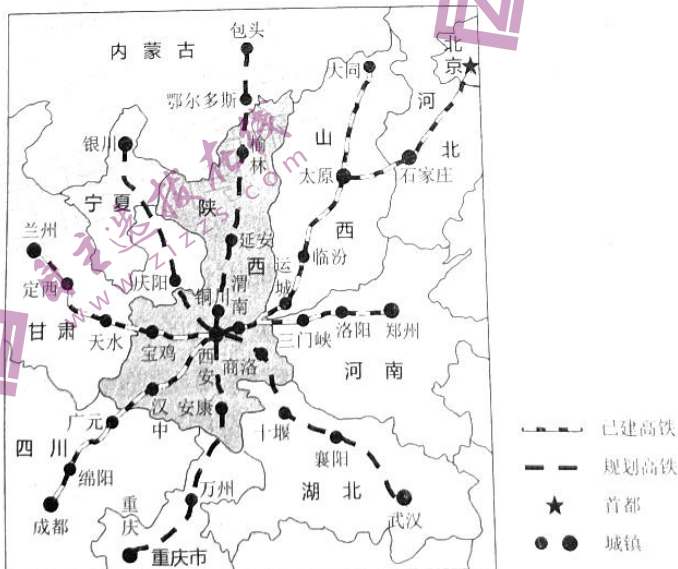


图 4

(1) 说明陕西省高铁建设过程中需要克服的不利自然条件。(6分)

(2) 分析西安市建设“米”字型高铁枢纽的区位优势。(6分)

(3) 简述西安“米”字型高铁枢纽建设对西安城市发展的意义。(6分)

(4) 阐释“米”字型高铁网络对陕西省社会经济发展的有利影响。(6分)

37. 阅读图文材料, 完成下列要求。(22分)

尼加拉瓜位于中美洲中部, 多活火山, 地热资源丰富, 年降水量空间差异显著。境内高原约占全国1/3, 东部沿海为平原, 地势低平, 多丛林沼泽; 中部和西部沿海有山脉斜贯。图5示意尼加拉瓜位置与山脉分布。

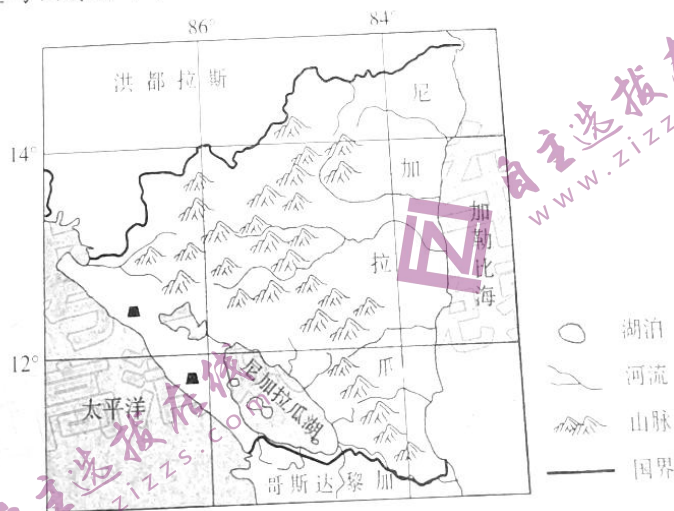


图5

(1) 阐释尼加拉瓜山脉形成的主要原因。(4分)

(2)就尼加拉瓜境内多活火山、地热资源丰富这一现象作出合理解释。(4分)

(3)推测尼加拉瓜年降水量的空间分布特点,并分析原因。(10分)

(4)分析尼加拉瓜东部平原丛林、沼泽的形成条件。(4分)

38. 阅读材料,完成下列要求。(14分)

材料一 2021年9月以来,我国多地拉闸限电,有的是由极端天气、能源供应减少、电煤价格上涨、电力供需紧张引发,有的则是受能耗“双控”(即能源消耗总量和强度“双控”)、碳达峰碳中和目标倒逼等因素影响。

材料二 我国水电、风电、光伏等可再生能源虽然发展迅速,但暂时还难担重任,难以解决目前的用电问题。要避免拉闸限电,从短期来看,应多渠道保障煤炭供应,推动有序用能,确保电力供需平衡;从长期来看,则要纠正运动式“减碳”,多方面综合施策,全力以赴打好电力保供攻坚战,保障基本民生用电需求,最大可能避免出现拉闸限电情况,坚决守住民生、发展和安全底线。

(1)材料一反映了什么经济现象?(4分)

(2)结合材料二,运用经济生活知识,分析国家该如何打好电力保供攻坚战。(10分)

39. 阅读材料,完成下列要求。(12分)

习近平总书记强调:“共同富裕是社会主义的本质要求,是中国式现代化的重要特征,要坚持以人民为中心的发展思想,在高质量发展中促进共同富裕。”

云南省玉溪市红塔区辖区内的东营街社区成为本区域共同富裕先行样本。东营街社区坚持党建引领,以社区居民高品质生活为主轴,科学规划、统筹布局,编制社区发展规划。自从启动异地搬迁提档升级项目以来,社区盘活利用搬迁腾出来的土地,培育发展旅游休闲、文化创意等第三产业,打造文化创意产业园区,实现社区经济新的跨越。

东营街社区认真落实基层自治制度,实施“党建+民主协商”,搭建协商平台,实现“大家的事大家商量”。实施“党建+红色物业服务”,成立绿化环卫队,提供居民小区的绿化卫生服务。建立“勤奋敬业岗”和“服务奉献岗”,组建党员志愿服务队,开展志愿服务活动。实施“党建+环境自治”,鼓励居民积极参与人居环境整治工作。

开展法治宣传教育,聘请专家到社区开展党规党纪、法律法规等专题讲座。社区还专门组织修订完善社区居民公约,强化依法治理社区。在社区治安综合治理方面,定期研究解决矛盾纠纷,成立网格联防队,调处居民纠纷,帮助居民解决困难问题,共建美丽新家园。

结合材料,运用政治生活知识,说明东营街社区是怎样成为本区域共同富裕先行样本的。

40. 阅读材料,完成下列要求。(26分)

饭圈是一个网络用语,饭圈原本是由追星粉丝自发组成的文娱社群,后来逐渐发展成为有组织、专业化的利益圈层。

材料一 近年来,在“唯流量论”下,控评、屠版、互撕、人肉……方法简单,手段粗暴,“饭圈”正歪歪扭扭走向“怪圈”。剥开这些现象的薄纱,其背后根源在于行业资本控盘,娱乐行业一些大资本上下其手,通过数据造假制造行业虚假繁荣,刷流量已成为行业公开的秘密,刷单公司已发展为规模庞大的一支“黑产”队伍。

2021年6月15日起,中央网信办在全国范围内开展为期两个月的“清朗·‘饭圈’乱象整治”专项行动。2021年9月,针对流量至上、“饭圈”乱象、从业人员违法失德等文娱领域出现的问题,中央宣传部印发《关于开展文娱领域综合治理工作的通知》,部署文娱领域综合治理工作。2021年9月2日,国家广播电视总局办公厅发布《关于进一步加强文艺节目及其人员管理的通知》,坚决反对唯流量论,坚决抵制“饭圈”乱象。

材料二 “饭圈”整治离不开正确的美育引导,好的美育教育能给予人力量和辨别丑恶的能力,而非仅短视着眼于所谓的“颜值”“流量”。只有正确引导粉丝,回归艺术和美育的本源,给予他们正确的美育教育和引导,才能让他们更好地辨别什么是真、善、美,提高其文

化素质和文化品格,从而引导其追求高洁的精神追求和人生境界,而不是被一些低俗、不正确的价值、人给框住,让自己的情趣、眼光、追求等降低。

(1)结合材料三,运用社会历史观知识,说明国家为什么要治理饭圈文化。(12分)

(2)资本要自觉担当起弘扬正能量、引导正确价值观的责任。结合材料三,运用文化生活知识,说明弘扬责任担当精神对于治理饭圈文化的重要作用。(10分)

(3)针对未成年人无底线追星、饭圈互撕等价值导向不良的信息和行为,以青少年坚决抵制“饭圈”乱象为主题,写一篇150字左右的发言稿,要求立场鲜明,观点正确。(4分)

41. 阅读材料,完成下列要求。(25分)

材料一 在哥伦布发现新大陆而引发欧洲列强进行的海上角逐中,英国终于露出了自己的牙齿,开始向海上霸主的目标迈进。重商主义原则极大地助长了英国人增强海洋霸权的欲望和信心,加快了构建重商帝国的步伐。而英国议会,在这一过程中起着持久而重要的核心作用。英国从1651年起三次对荷兰开战,强迫荷兰接受其维护英国利益的“航海法”。这项立法可以说是英国开始建立自己殖民帝国的第一项重要举措。总之,从几个世纪的发展历程看,英国的发展基本上遵循着这一模式:依靠海洋贸易发展自身,按照贸易原则调整国家的政治机器,为了增强贸易的实力而推动工业和技术革命,为了市场和原料而不断打击各种竞争对手,为了成功打击对手而强化海军的优势地位。最终,英国逐步掌握海洋话语权。

——摘编自陈晓律、叶璐等《海洋意识与英国的发展》

材料二 第二次鸦片战争后,在清政府的大力推动下,江南水师学堂等官办机构事实上成为了中国最早的军事研究机构,他们延揽中外人才,筛选有代表性和实用性的西方海防著作进行译介,服务于清政府海防建设的需要。除了解西方国家地理知识以外,用先进的科技手段和方法研究中国本土的海洋地理及测绘类的著作也得到了更多的关注,傅兰雅主持翻译的《海道图说》等著作相继翻译出版,这使得晚清海防地理与测绘

开年摸底联考 全国卷 文科综合 第12页(共16页)

研究有了长足发展。晚清西方海防著作译介是近代中国为实现海洋强国梦在军事研究层面实施的一次具有重大历史意义的翻译活动,其持续时间之长,涉及领域之广,翻译成果之丰,是中国翻译史和海军史上前所未有的。它调动了当时政府、军方和民间的大量资金和技术资源,更为重要的是聚集了一大批国内外军事研究与翻译领域最高水平的专门人才。

——摘编自张瑞嵘、龙心刚《海洋强国梦的先声:晚清西方海防著作译介研究》

(1) 根据材料一并结合所学知识,概括新航路开辟后英国逐步掌握海洋话语权的

原因。(10分)

(2) 根据材料一、二并结合所学知识,指出第二次鸦片战争后晚清西方海防著作译介发展的特点,并简析近代英国逐步掌握海洋话语权与晚清西方海防著作译介的关系。

(15分)

42. 阅读材料,完成下列要求。(12分)

材料

表3 中国古代饮食文化简表

时期	特色
先秦时期	“东郭民有祖朝者,上书于晋献公曰:‘愿请闻国家之计。’献公使人告之曰:‘肉食者已虑之矣,藿(豆类作物的叶子)食者尚何预焉?’”
汉初	《淮南子》认为“口好味,接而说(悦)之,不知利害”,是属于“嗜欲”,“重于滋味”是一种“邪气”。
魏晋	毕茂世(卓)云:“一手持蟹螯,一手持酒杯,拍浮酒池中,便足了一生。”
唐	到了唐代,稻米又取代了粟在粮食作物中的首席地位,麦类在唐后期又取得了与粟并驾齐驱的地位,从而形成了稻、麦、粟这样的主食结构。

——摘编自黎虎《略论中国古代饮食文化研究》

开年摸底联考 全国卷 文科综合 第13页(共16页)

45.【历史——选修1:历史上重大改革回眸】(15分)

材料 道光时,两广总督邓廷桢在奏折中说:“内地商贾航海贸易挈本以行搬运制钱,既苦脚费不贻金银出洋,又恐干例禁”道光之际“(各省)入款有减无增,出款有增无减,是以各直省封存正杂等项,渐至通融抵垫解部之款,日少一日”,中央政府的财政“入不敷出为敬尚巨”咸丰三年二月,清文宗奕訢采纳左都御使花沙纳票钞“行虚”的建议,由户部草拟试办银票章程请旨准行。然未总结历代封建政府发行纸币的经验教训,咸丰三年七、八月,京城行银票“市廛观望”,一些商人“相约”抵制,纷纷歇业。宝钞的推行,也使京城一片恐慌。“大商小贾走相告语谓‘毕生贸易所积锱铢,异日悉成废纸’”。“是名为搭收钞票,实则仍概征银。……似此诡词巧取,直以国家正供,恣意侵渔,蠹国害民莫此为甚”。同治元年十一月初七日,清穆宗载淳正式谕令“将直隶、山东、四川、河南等省应征地丁、旗租及各关税课全行停止钞票,改收实银”,历时九年多的票钞便寿终正寝了。

——摘编自文廷海《论清代咸丰间“票钞”改革及其失败》

(1)根据材料并结合所学,指出晚清币制改革的背景及措施。(6分)

(2)根据材料并结合所学,分析晚清币制改革失败的原因。(9分)

46.【历史——选修3:20世纪的战争与和平】(15分)

材料 “在1951—1960年间,苏联的石油(包括凝析油)产量增加了1.1亿吨,而美国在同一时期石油增产了8100万吨。”20世纪70年代爆发了两次世界性的石油危机,使东西方世界面临着严峻的考验。苏联抓住历史有利机遇,实施了石油输出战略。西欧1983年已探明的石油储量为32亿吨,占世界总储量的3.5%,天然气储量为43.24亿立方米,占世界储量的5%。东欧经互会成员国保加利亚1955年的石油产量仅为15万吨,1980年的石油产量达到45万吨。苏联对西欧的能源政策主要是与美国角逐欧洲能源市场,利用油气资源撬开美欧之间的关系,在西欧推行“能源一体化”以突破美国的经济制裁。而苏联对经互会国家能源外交的宗旨,离不开意识形态方面的意图。冷战时期苏联对欧洲的能源外交带有开

开年摸底联考 全国卷 文科综合 第15页(共16页)

明的时代烙印,即东西方意识形态博弈的政治色彩,苏联对欧洲的能源外交特点生动地证实了这一点

——摘编自于春苓、杨超《冷战时期苏联对欧洲的能源外交》

(1)根据材料并结合所学,指出苏联对欧洲的能源外交的形成背景。(6分)

(2)根据材料并结合所学,分析苏联能源外交的特点,并简析其造成的影响。(9分)

47.【历史——选修4:中外历史人物评说】(15分)

材料 马毛姐,女,汉族,安徽无为,1935年9月生,闻名全国的“渡江英雄”,“七一勋章”获得者。1949年春天,解放军准备渡江,她和大哥瞒着父亲,跑到十几里外的凤凰颈船站报了名。为了筹集到足够运送官兵的船只,马毛姐还帮着解放军和区乡工作队挨家挨户地劝说村民,把那些沉在水里的船只捞出来。马毛姐说,那天晚上,她往返横渡长江六趟,把三批解放军运到了江对岸。1954年6月,年满18周岁的马毛姐光荣地加入了中国共产党。从1957年开始,马毛姐先后在合肥车站区麻纺厂、针织厂等单位工作。“她一直拿的是单位里最低级别的工资,每次工资评级,她都把机会让给他人”。离休后,马毛姐给自己安排了一项新工作:做一名宣讲党的革命历史故事的义务宣传员。据不完全统计,30余年来,马毛姐已开展革命传统教育宣讲300余场次。

——摘编自徐海涛、王菲《渡江英雄马毛姐:跟着共产党,老百姓才有好日子过》

(1)根据材料并结合所学,概括马毛姐所作出的贡献。(6分)

(2)根据材料并结合所学,简述马毛姐身上体现的时代精神。(9分)

关于我们

自主选拔在线是致力于提供新高考生涯规划、强基计划、综合评价、三位一体、学科竞赛等政策资讯的升学服务平台。总部坐落于北京，旗下拥有网站（[网址: www.zizzs.com](http://www.zizzs.com)）和微信公众平台等媒体矩阵，用户群体涵盖全国90%以上的重点中学师生及家长，在全国新高考、自主选拔领域首屈一指。

如需第一时间获取相关资讯及备考指南，请关注**自主选拔在线**官方微信号：[zizzsw](https://www.zizzs.com)。



微信搜一搜



自主选拔在线