

华大新高考联盟 2017 届高三 5 月教学质量测评

文科综合能力测试

命题: 华中师范大学考试研究院

本试题卷共 12 页, 46 题(含选考题)。全卷满分 300 分。考试用时 150 分钟。

★祝考试顺利★

注意事项:

1. 答题前, 先将自己的姓名、准考证号填写在答题卡上, 并将准考证号条形码贴在答题卡上的指定位置。
2. 选择题的作答: 每小题选出答案后, 用 2B 铅笔把答题卡上对应题目的答案标号涂黑。写在试题卷、草稿纸和答题卡上的非答题区域均无效。
3. 填空题和解答题的作答: 用签字笔直接答在答题卡上对应的答题区域内。写在试题卷、草稿纸和答题卡上的非答题区域均无效。
4. 选考题的作答: 先把所选题目的题号在答题卡上指定的位置用 2B 铅笔涂黑。答案写在答题卡上对应的答题区域内。写在试题卷、草稿纸和答题卡上的非答题区域均无效。
5. 考试结束后, 请将答题卡上交。

第 I 卷

本卷共 35 小题。每小题 4 分, 共 140 分。在每个小题给出的四个选项中, 只有一项是符合题目要求的。

《国家人口发展规划(2016-2030 年)》中指出, 未来十几年我国人口发展进入关键转折期。表 1 为我国人口变化预测数据。据此完成 1~2 题。

表 1

年份(年)	2015	2020	2030
人口总数(亿)	13.7	14.2	14.5
生育率(%)	1.5~1.6	1.8	1.8
出生人口性别比(100 女孩)	113.5	112	107
人均预期寿命(岁)	76.3	77.3	79
常住人口城镇化率(%)	56.1	60	70

1. 下列说法符合我国人口发展趋势的是

- | | |
|------------------|----------------|
| A. 出生人口性别趋于平衡 | B. 劳动力人口趋于年轻化 |
| C. 人均寿命增长, 死亡率降低 | D. 人口自然增长率不断上升 |

2. 根据我国常住人口城镇化率的变化,推测其对我国农村的影响

- ①推动农业机械化水平的提高 ②农村劳动力平均年龄变小 ③有利于农村生态环境的改善
④农村学校儿童上学平均距离缩短

- A. ①② B. ①③ C. ②④ D. ③④

15~19℃是油菜开花的最适宜温度,20℃左右温度适宜油菜结籽;菊花多属短日照植物,于日照渐短的秋冬季开花。图1示意我国油菜开花日期分布。假设甲、乙两地为我国的油菜种植区(甲、乙位置不确定,图中未标注)。据此完成3~5题。

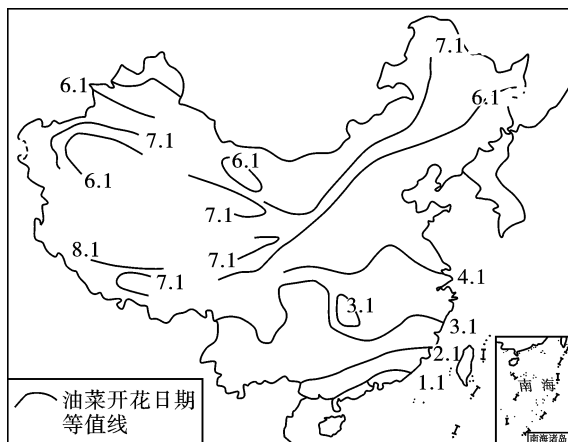


图1

3. 若甲地油菜比乙地开花早,下列说法可能正确的是

- A. 甲地种植春油菜,乙地种植冬油菜 B. 甲地位于珠江三角洲,乙地位于江淮平原
C. 甲位于塔里木盆地,乙位于长江三角洲 D. 甲位于雅鲁藏布江河谷,乙位于河西走廊

4. 若甲乙都可种植油菜和菊花,仅从纬度角度考虑,甲地油菜比乙地油菜开花晚,则甲地菊花比乙地菊花开花时间

- A. 早 B. 晚 C. 同时 D. 不确定

5. 通常情况下,昼夜温差大的地区油菜籽的品质好。西北某干旱山地不同坡向油菜籽品质差异明显,若不考虑其他因素,则油菜籽品质最好的位于

- A. 东北坡 B. 西南坡 C. 东南坡 D. 西北坡

雅鲁藏布江加查河段(藏嘎至虾日)长约76 km。该地区地形抬升扰乱了气候的纬度地带性,成为中低纬度的高寒气候区。图2示意雅鲁藏布江加查河段水系图。据此完成6~8题。

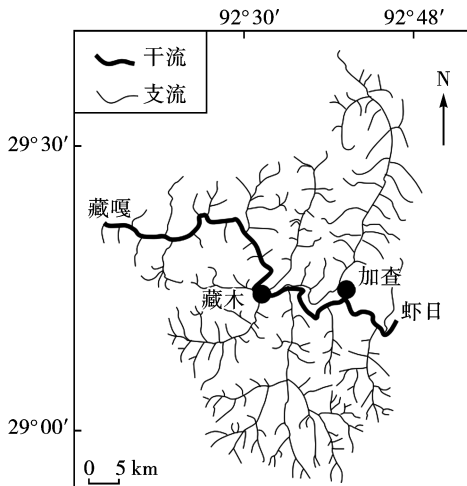


图2

6. 下列有关图示区域地势特点的表述正确的是

- A. 南部、北部和东部高
- B. 中部高,南北低
- C. 南部、北部和西部高
- D. 中部高,四周低

7. 加查河段以藏木为界,其上游河谷狭窄,有两处瀑布,两岸为花岗岩;下游为弯曲河床。以下分析正确的是

- A. 上游河流以溯源侵蚀为主,河谷成 V 型
- B. 上游沉积物多,沿途洪积扇多且广
- C. 下游河床成 U 型,两侧河床几乎对称
- D. 瀑布多因断层影响发育而成

8. 受地形影响,加查河段南北部水热分布不均。对该区域气候的推测正确的是

- A. 江北为高原温带季风半湿润气候,江南为高原温带季风半干旱气候
- B. 江北为高原亚热带季风半湿润气候,江南为高原亚热带季风半干旱气候
- C. 江南为高原温带季风半湿润气候,江北为高原温带季风半干旱气候
- D. 江南为高原亚热带季风半湿润气候,江北为高原亚热带季风半干旱气候

海南省三沙市的黄岩岛是珊瑚带围成的岛礁(如图 3)。风能密度是气流在单位时间内垂直通过单位面积的风能,图 4 示意黄岩岛附近海域风能密度的月变化。据此完成 9~11 题。

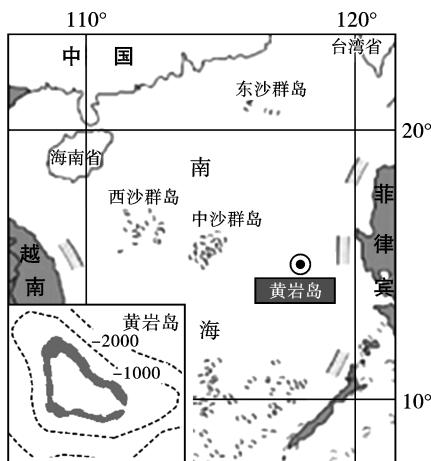


图 3

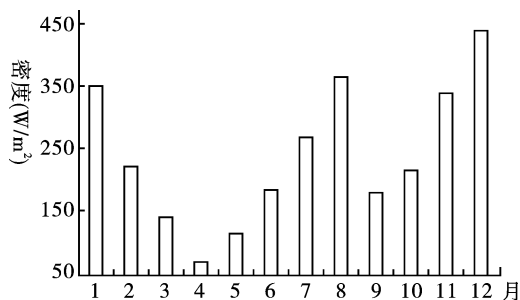


图 4

9. 下列有关黄岩岛的推测正确的是

- A. 黄岩岛中部为一个淡水潟湖
- B. 黄岩岛是火山喷发形成的
- C. 环礁的形成可能与地壳下沉有关
- D. 黄岩岛环礁是板块挤压抬升而成的

10. 黄岩岛风能密度

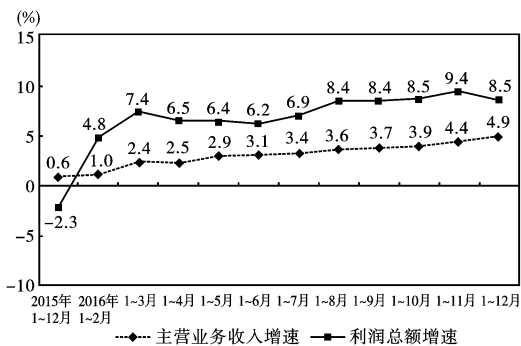
- A. 12 月为最高点,因为该月西北风强劲
- B. 8 月为次高点,因为该月信风强劲
- C. 4 月为最低点,因为该月海陆温差小
- D. 9 月为次低点,因为该月东南风渐弱

11. 下列有关黄岩岛附近海域的地理要素中,其月变化特征与风能密度月变化特征最为相似的是

- A. 太阳辐射强度
- B. 降水量
- C. 气温
- D. 波浪能

12. 图 5 是反映 2016 年我国规模以上(年主营业务收入在 2 000 万元以上)工业企业经济效益的相关数据。从中可以推断,2016 年我国规模以上工业企业

甲 各月累计主营业务收入与利润总额同比增速



乙 各月累计利润率与每百元主营业务收入中的成本

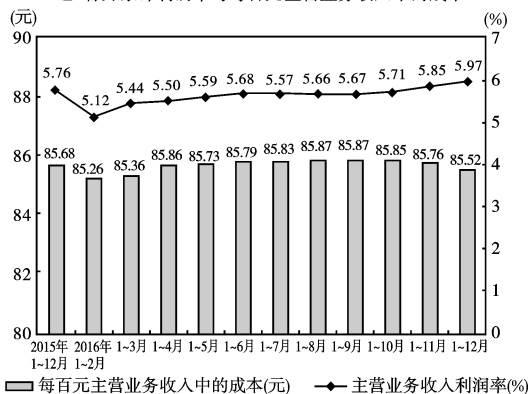


图5

①主营业务增长质量提高 ②多样化经营成效不显著 ③生产要素投入不断扩大 ④产品和服务销售改善明显

A. ①② B. ①④ C. ②④ D. ③④

13. PPP (Public-Private Partnership) 模式是指公共部门通过与私人部门建立伙伴关系提供公共产品或服务的一种方式。2017年, H省将开工建设海绵城市80平方公里, 预计直接投资107亿元。为放大财政资金效应, 省级财政运用PPP模式引导社会资本参与海绵城市投资建设和运营管理。这一举措

①将增加财政支出、刺激需求, 促进国民经济平稳运行 ②旨在巩固不同所有制经济在国民经济中的平等地位 ③有利于优化资源配置, 支持城市基础设施建设 ④有利于激发非公有制经济的发展活力和创造力

A. ①② B. ①③ C. ②④ D. ③④

14. 宏观经济政策效应可通过图示表示。假定其他条件不变, 下列政策实施后, 市场变化与图示(图6中 D_1 为政策出台前相关物品的需求量, D_2 为政策出台后的需求量)对应正确的是

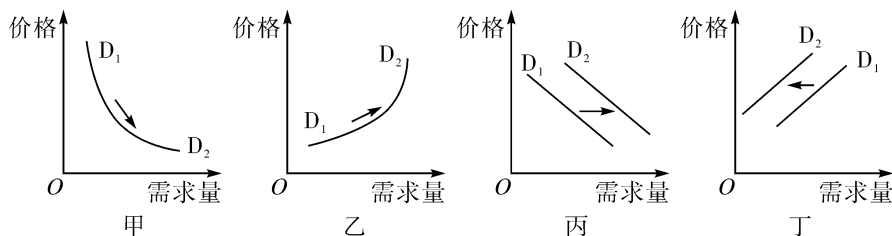


图6

①北京实施医改新政, 取消公立医疗机构15%的药品加成 ②国务院确定, 从2017年1月1日开始放开所有盐产品价格 ③财政部通知, 1.6升及以下排量乘用车车辆购置税税率由5%调整为7.5% ④W市出台相关规定, 本地人购买第二套房首付比例由30%提高至50%

A. 甲—① B. 乙—② C. 丙—③ D. 丁—④

15. 依据央行规定, 2017年1月1日起, 个人购汇申报需要细化到用途和时间, 禁止个人购汇用于境外买房及证券投资; 2017年7月1日起, 对跨境超过20万元人民币的交易, 银行需要上报给央行。这些规定

①旨在严控资本外流, 限制居民境外投资 ②旨在加强外汇管制, 规范外汇市场交易行为 ③有利于稳定我国外汇储备, 增强应对经济风险的能力 ④有利于增加银行可贷资金, 提高银行

的经济效益

A. ①②

B. ①④

C. ②③

D. ③④

16. 因监管缺位,过去不少地方村委会公章被村干部装进了“口袋”,由此产生乱盖章、人情章等腐败问题。为加强公章管理,部分省份地市出现了“村章乡管”现象,一些过去“放错位置”的村委会公章被挪了窝,到了乡镇政府的“柜子”里。“村章乡管”

①表明乡镇政府是监督村干部公章腐败最有效的主体 ②意在解决村干部腐败问题,但违背村民委员会自治法 ③其依据在于乡镇政府与村委会之间存在行政隶属关系 ④便于乡镇政府对基层的监管,但给群众办事带来不便

A. ①③

B. ①④

C. ②③

D. ②④

17. 目前,全国及各省投资项目在线审批监管平台相继建成并投入使用,该平台将提供非涉密项目前期审批、开工建设、竣工投产等整个建设周期各环节的网上受理、办理、监管一条龙服务,实现信息多跑路、群众少跑腿,并提供评议窗口。该平台的开通运行

①是转变政府管理职能、创新管理方式的重要举措 ②是利用信息技术促进公共服务社会化的重要实践 ③有利于加大信息公开力度,接受社会监督 ④有利于减少政府管理环节,提高服务效能

A. ①②

B. ③④

C. ①③

D. ②④

18. 无罪判决率是法院在刑事审判中作出无罪判决的被告人占法院生效刑事判决人数的比例。世界各国因定罪证据标准不同,在无罪判决率上有所差异。英美法系国家或地区一般在 20% 左右,大陆法系国家一般在 5% 左右。我国 2016 年无罪判决率约为 0.084%。对此,评述正确的是

①法院应严格落实罪刑法定、疑罪从无的法律原则,防止发生冤假错案 ②法院应坚持宽严相济的刑事政策,把依法惩罚犯罪和保障人权统一起来 ③司法审判应依法保障被告人各项诉讼权利,体现司法文明 ④司法审判应致力于提高无罪判决率,彰显人道主义精神

A. ①②

B. ③④

C. ①③

D. ②④

19. 针对中央电视台《中国诗词大会》栏目的热播,一位学者评论说:古人作诗,是带着身世经历、生活体验并融入理想志趣的,因此,纵使千百年后再读,依然能够体会到同样的感动。这就是中国古典诗词的生命。这表明

①精神生活具有相对独立性,中华经典诗词能契合不同时代人们的内心 ②优秀文化能丰富人的精神世界,中华经典诗词能使读者得到精神滋养 ③传统文化具有鲜明的民族性,中华经典诗词反映了中华民族独特的人文情怀 ④传统文化具有相对的稳定性,不同时代的人们对诗词意蕴的感悟是相同的

A. ①②

B. ③④

C. ①③

D. ②④

20. 鉴于九一八事变后的十四年抗战历史是前后贯通的整体,2017 年 1 月,教育部要求将中小学教材中的“八年抗战”改为“十四年抗战”。这一改变对于全面认识九一八事变的历史地位等问题具有重要意义。中小学教材修订表明

①历史事实具有客观性,历史教育应努力做到趋向真实的历史 ②历史教育具有自觉选择性,人们可以根据需要重新书写历史 ③人们对历史的认知具有相对独立性,不必受制于历史原貌 ④人们对历史的认知具有反复性,探寻历史之真的过程是曲折的

A. ①②

B. ①④

C. ②③

D. ③④

21. 我国一支研究团队一直致力于研究通过光遗传学技术来调整心脏交感神经节的功能。日前,该团队成功地将一个光敏感通道蛋白表达于心脏交感神经节上,当恶性室性心律失常患者感觉心脏不适时,可自行使用智能手机的蓝牙打开植入体内的“光控”开关,阻断恶性心律失常的发生,从而挽

救生命。材料表明

- ①人可以发挥主观能动性突破事物联系的具体形式 ②人可以根据事物固有的联系建立新的具体的联系 ③事物的联系总是多种多样的,稳定的联系不存在 ④人为事物的联系因其具有人为特点而不具有客观性

- A. ①③ B. ③④
C. ①② D. ②④

22. 图7漫画给我们的哲学启示是

- A. 主观能动性的发挥受客观条件制约,要积极创造条件
B. 事物的量变是质变的必要准备,要重视量的积累
C. 事物的发展要靠质变完成,要勇于尝试质的飞跃
D. 事物发展的道路是曲折的,要勇敢面对挫折的考验



图7

23. 2017年2月13日,在省部级主要领导干部学习贯彻十八届六中全会精神专题研讨班的开班式上,习近平总书记发表重要讲话,告诫领导干部要严格自律,注重防范被利益集团“围猎”,坚持公正用权、谨慎用权、依法用权,坚持交往有原则、有界限、有规矩。领导干部防范被利益集团“围猎”

- ①要密切联系群众,避免与利益集团相接触 ②要以人民利益为最高价值取向,不谋求个人利益
③要注重细节、防微杜渐,不触碰纪律红线 ④要不忘初心、坚定信念,坚守内心的法度

- A. ①② B. ②③
C. ①④ D. ③④

24. 老子的“无为”思想强调“少私寡欲”,要求统治者减损欲望,放下贪欲。孔子也把“食无求饱,居无求安”作为对君子的要求。这种现象

- A. 反映春秋战国时期个人私欲膨胀 B. 都是商品经济发展的结果
C. 体现先秦儒道思想存在一定联系 D. 导致了贵族社会逐步瓦解

25. 秦代北方的郡只相当于今天的一两个地区,河东郡就略似今天山西省的临汾、运城两地区;而南方的郡有如今天的一个省或更大,九江郡起初就相当于今天安徽省及江西省的大部。后来南方政区的幅员越变越小,其政区幅员的变化效率比北方要快。这种变化表明

- A. 统治疆域的扩大 B. 北方经济的衰落
C. 中央集权的加强 D. 政区细化的趋势

26. 三国时期,官学一蹶不振,家庭教育模式兴盛。王昶要求子孙“遵儒者之教,履道家之言”。诸葛亮也在《诫子书》中提出:“夫君子之行,静以修身,俭以养德,非澹泊无以明志,非宁静无以致远。”这些家庭教育观,可以反映出当时

- A. 儒家思想日益衰落 B. “贵儒”又“尊道”
C. 传统文化走向断裂 D. 奉行三教并行政策

27. 唐代大理寺是中央最高审判机关,刑部是中央司法行政机关,御史台是中央监察机关。凡“国之大狱”,即皇帝交办的重大案件或疑难案件,由以上三个机关各派官员进行会审,称为“三司推事”。对这一设计理解正确的是

- A. 体现司法制度的完善 B. 实现了司法的公平公正
C. 反映司法分权的趋势 D. 有利于君主对司法干预

28. 晚清财政收入结构表(单位:万两)

年代	农业税收入		工商杂税收入		其他收入		总收入	
	数额	比重(%)	数额	比重(%)	数额	比重(%)	数额	比重(%)
1849	3 281	77	969	23			4 250	100
1885	3 071	40	3 923	51	714	9	7 708	100
1911	4 810	16	20 441	69	4 445	15	29 696	100

下列选项中对表格信息解读正确的是

- A. 中国日益卷入资本主义世界市场
B. 近代农业生产得到较快发展
C. 洋务运动推动了中国近代化进程
D. 中国正从农业国变为工业国
29. 辛亥革命后,以“民主”、“民权”、“民国”和“国民”等命名的报刊,据不完全统计达 500 余家。1913 年 7 月,全国报纸发行总数达 4 200 万份,平均每 10 人就有一份。“读报者虽限于少数人士,但报纸发表之意见,由公众的或私人议论,几于下等之苦力,亦受其宣传。”这表明
- A. 辛亥革命使民主共和观念深入人心
B. 民主政治体制保障了言论自由
C. 全国人民的政治热情空前高涨起来
D. 中国近代报刊业发展达到顶峰
30. “世界似乎没有一个国家的学生像中国的学生这样,一致而热切地追求现代的和新的思想。”这种社会和思想的酝酿,引发了一场大规模的全国性运动。这场“大规模的全国性运动”的主要影响是
- A. 推动现代科学的传播
B. 促进民众的思想解放
C. 加速国家统一的进程
D. 掀起抗日救亡新高潮
31. 1971 年 10 月,第 26 届联大就阿尔巴尼亚等国提案进行表决,结果 131 个会员国中,一共有 76 票赞成,17 票弃权,35 票反对,这使中国重返联合国的时间提前了。这一外交成就
- A. 与中美正式建交不无关系
B. 这是非洲国家联合支持的结果
C. 表明中国综合国力增强
D. 表明美国的霸权政策不得人心
32. 《十二铜表法》第八表第十四条规定:现行窃盗被捕的,处笞刑后交被窃者处理;如为奴隶,处笞刑后投塔尔泊峨岩下摔死;如为未适婚人,由长官酌处笞刑,并责令赔偿损失。材料体现出罗马法的主要特点是
- A. 内容细致,可操作性强
B. 重视对私有财产的保护
C. 保留较野蛮的习惯法
D. 突出对未成年人的保护
33. 马丁·路德曾指出:“所有节日都应当废除,唯有礼拜日应该保留。假若有意要保留圣母和较大圣徒的节日,就应当把它们并入礼拜日,或在节日仅举行一个早晨弥撒,把那日的其余时间仍用为工作的时间。”这一观点
- A. 有利于促进工商业发展
B. 将矛头指向“因信称义”
C. 强调市民要禁欲和节制
D. 揭开了宗教改革的序幕
34. 美国独立战争爆发之初,古希腊时期雅典人在马其顿的大举进攻面前不肯齐心抵抗,以致城邦沦陷的历史事实得到广泛宣传;而随着战争的结束,斯巴达人随时都准备为国家的利益而献身却成为反面的例证。上述材料主要说明

- A. 牺牲个人利益以巩固国家的重要性
 B. 动员美国民众参与对英战争的迫切性
 C. 独立后维护自由和个人权利的重要性
 D. 古希腊政治体制孕育了美国共和政体
35. 1929年,苏联在制定的第一个五年计划中提出了工业品产量扩大180%、生产资料生产增加230%、农产品增加55%、国民产值增加103%的目标;同年底,斯大林号召“五年计划要四年完成”,计划指标又向上作了大幅度调整。围绕这一计划,下列说法中正确的是
- A. 体现出巩固新生政权的迫切性
 B. 促进了苏联工业的超高速发展
 C. 工业发展计划背离了客观实际
 D. 高度集中的计划经济体制建立

第 II 卷

本卷包括必考题和选考题两部分。第36题—第41题为必考题,每个试题考生都必须作答。第42题—第46题为选考题,考生根据需求作答。

36. (24分) 阅读图文材料,完成下列要求。

油橄榄主要种植在地中海沿岸地区,以“高产、优质、高效益”闻名,所产橄榄油是世界优质食用油的代表,具有很高的药用价值。我国自20世纪中叶开始引入,目前南方有多省种植,其中地处秦岭和大巴山之间的陇南山区为最主要的油橄榄生产基地。专家建议中西部山区大力推广油橄榄种植。图8示意我国油橄榄适种区域。

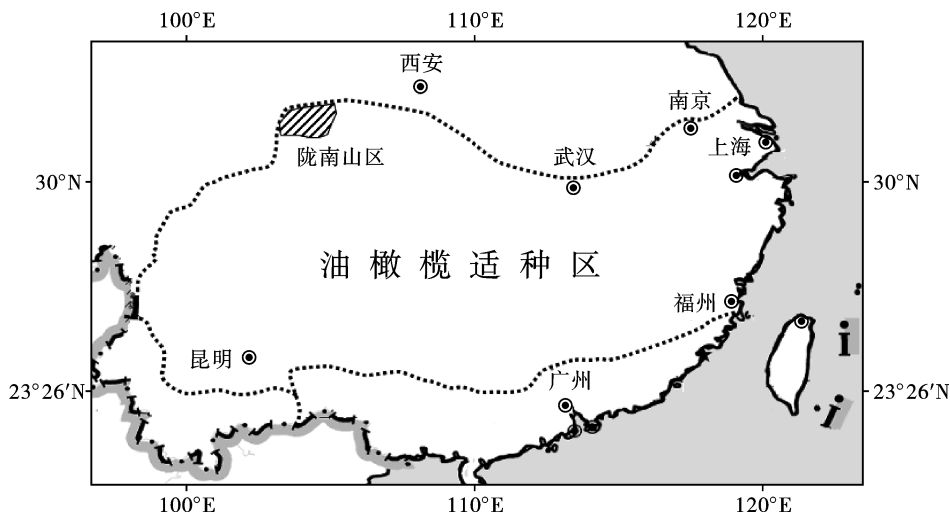


图8

- (1) 结合原产地的气候特点,推测油橄榄的生活习性。(8分)
- (2) 从气候和地形的角度分析,与南京附近适种区相比,陇南山区种植油橄榄的主要优势条件。(8分)
- (3) 请在下列两个问题中,选择其中一个问题作答。如果多做,则按所做的第一个问题计分。(8分)
- 问题①: 试为陇南山区油橄榄产业的可持续发展提出合理化建议。
- 问题②: 试说明中西部山区大力推广种植油橄榄的重要意义。

37. (22分) 阅读图文材料,完成下列要求。

澳大利亚最主要的石油生产基地是西北部的北卡那封盆地(占全澳总产量的73%),其生产的大多数原油出口到新加坡等国。从原油供求情况看,澳大利亚的原油产量仅为其消费量的一半左右,而国内的原油消费少部分来自该国东南原油产区(占全澳总产量的17%),大部分来自新西

兰、中东等国家和地区。澳大利亚西北部和东南沿海所产原油成分差异大,其炼制工艺和产品品种也有差异。该国炼油厂主要分布在东部沿海。图9示意澳大利亚主要产油区分布。

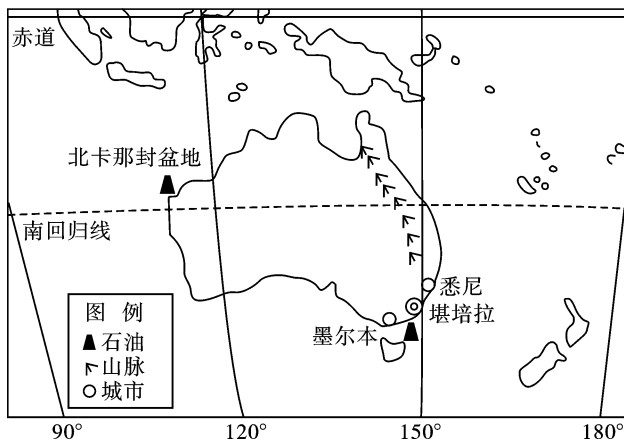


图9

(1) 简述澳大利亚西北部近海油田开采过程中需要克服哪些不利的自然条件。(8分)

(2) 分析澳大利亚炼油厂主要分布在东部沿海的原因。(8分)

(3) 澳大利亚原油资源无法满足本国消费需求,但北卡那封盆地产油区却以出口为主,试分析原因。(6分)

38. (26分) 阅读材料,完成下列要求。

消除贫困是人类梦寐以求的理想,是各国人民追求幸福生活的基本权利。

材料一

到2020年,农村贫困人口如期脱贫、贫困县全部摘帽、解决区域性整体贫困,是中国共产党作出的庄严承诺。党的十八大以来,党中央对脱贫攻坚作出新的部署,吹响了打赢脱贫攻坚战的进军号,脱贫攻坚取得显著成绩。2013年至2016年四年间,每年农村贫困人口减少都超过1000万人,累计脱贫5564万人;贫困发生率从2012年底的10.2%下降到2016年底的4.5%,下降5.7个百分点;贫困地区农村居民收入增幅高于全国平均水平,贫困群众生活水平明显提高,贫困地区面貌明显改善。《中国的减贫行动与人权进步》白皮书指出,中国的减贫行动是中国人权事业进步的最显著标志,为世界减贫事业作出了重大贡献,创造了世界人权发展的新奇迹。

材料二

M县是西部的一个山区贫困县。为摘掉贫困县帽子,县委县政府立足于本县实际,制定产业发展规划,着力推进产业脱贫:高山陡坡发展优质林木,建设绿色屏障;缓坡及河谷发展特色林果、蔬菜种植及养殖,打造有机品牌;发挥自然与人文景观丰富优势,推动红色旅游、民族风情游发展。为了解决当地农民卖果难的问题,该县发挥财政引导作用,通过招投标方式引进了广东的一家生物科技有限公司,按照“龙头企业+基地+农户”的生产经营模式与农户互利发展,建设水果生产基地示范园区;创建“电商+合作社+农户”模式,打造品牌电商,发展快递服务体系,支持农民抱团创市场;运用大数据把握市场热点,提供信息服务,指导农民面向市场适时调整生产。2016年末,M县终于实现了贫困县摘帽的目标。

(1) 结合材料一,运用所学政治生活知识,说明中国共产党为什么致力于减贫行动。(12分)

(2) 结合材料二,运用所学经济生活知识,说明M县是如何通过优化宏观调控推进产业脱贫的。(14分)

39. (26分) 阅读材料,完成下列要求。

2016年11月30日,“二十四节气”被正式列入联合国教科文组织人类非物质文化遗产代表作名录。这不仅又一次引发了我们对中国传统文化自豪之情,也再次唤醒了我们对大自然应有的礼敬。

“二十四节气”长期以来指导中国传统的农业生产和日常生活,是中国传统历法体系及其相关实践活动的重要组成部分。它是两千多年前中国先人通过观察太阳周年运动,探寻一年中时令、气候、物候等方面的变化规律而发明的。它体现了中国人自古以来善于与自然和谐相处,崇尚“天人合一”的思维方式。

“二十四节气”成功入遗是国际社会对中国传统智慧的认可,将促进国际社会更多人认识“二十四节气”,并通过包括“二十四节气”在内的众多中国文化遗产,更深层次体会中国文化和中国人的精神世界。

- (1)结合材料,运用文化生活相关知识,说明“二十四节气”成功申遗的文化价值和意义。(10分)
- (2)有人认为,“二十四节气”的出现最早是服务于黄河中下游的农业生产,因而其应用受到了地域的限制。随着现代气象预报技术的发展,“二十四节气”在当今指导农业生产的作用已经微乎其微。你如何评价这种观点?请运用真理的相关知识说明理由。(12分)
- (3)活态传承是指在非物质文化遗产生成、发展的环境中进行保护和传承,在人民群众生产生活过程中进行传承与发展的传承方式。活态传承能达到非物质文化遗产保护的终极目的。请你为“二十四节气”的活态传承与可持续利用提两条合理化建议。(4分)

40. (25分) 阅读材料,完成下列要求。

材料一

宋代明州地处东南沿海,以其优越的地理位置和快速发展的经济,成为宋代与日本、高丽,以及东南亚各国贸易的主要港口,在宋代对外贸易中占据非常重要的地位。宋淳化三年(992年),两浙路市舶司迁至明州,其对外贸易地位迅速上升,明州市舶务一度成为两浙地区唯一从事对外贸易的管理机构,直到南宋灭亡。宋代时明州人口大量增加,经济迅速崛起,大规模兴修水利,为明州商贸活动提供了保障,也为海外贸易的发展提供了直接的物质基础。隋朝开通了南北大运河,唐代又开凿了宁波到杭州的杭甬运河,明州经济腹地更加扩大了。浙东运河的开通,使明州实际上成为大运河的南端终点,加强了与全国其他地区的交流,也扩大了明州的经济腹地。

——摘编自朱爱武《宋代明州海外贸易的发展对区域经济的影响》

材料二

鸦片战争后,中国对外贸易重心从广州转移到上海。新式工厂制度所带来的高效率,奠定了上海在中国近代经济中的地位,成为贸易重心巩固的物质基础。19世纪60年代,外资保险公司、批发公司、拍卖市场、期货交易等新型组织形式和交易手段的出现,大大提高了上海市场的专业化程度,导致其他区域的交易市场向上海转移。中外商人在租界内的活动摆脱了中国传统政策的约束,促进了资本的流入及各类近代企业的兴办。与此同时,上海一方面作为新开放的口岸,社会风尚受传统势力束缚较少,对待西方人的态度较为理性,从而大大降低了西方人进入上海的预期风险。上海又是一个移民城市,移民面临的生存压力使其易于接受新的价值观念、行为方式,因而加速了正式的及非正式的制度变迁。

——摘编自孙玉琴《简述近代上海对外贸易中心地位的形成》

- (1)据材料和所学知识,分别概括明州和上海在对外贸易中占据重要地位的原因。(12分)

(2)据材料和所学知识,从明州和上海的发展轨迹,概括指出与中国古代相比,近代中国在世界市场中的变化,并分析这种变化对近代中国的影响。(13分)

41. (12分) 阅读材料,完成下列要求。

有学者主张重新审视古希腊文明中的法治和宪政与近现代西方法治和宪政的关系。

	古希腊	近代西方
①	雅典人认同城邦的利益高于一切,个人离开了城邦,就失去了其存在的价值和理由。雅典人没有言论自由、宗教自由等,个人财产不受保护	
②	雅典城邦的公民大会和陪审法庭包揽制定、执行和监督法律的全部权力	
③	雅典民主政治的主要表现形式是平等参与、直接民主、抽签选举、投票表决、轮番而治以及较短的任期等	

——据罗洪洋、赵大华《重新思考古希腊与近现代西方法治和宪政的关系》整理

结合所学解读材料,从上述表格中任选一个主题,并结合相关史实加以论述。(要求:写出观点,观点合理、明确,史论结合。)

请考生在 42、43 二道地理题中任选一题作答。如果多做则按所做的第一题计分并用 2B 铅笔在答题卡上把所选题目题号后的方框涂黑。

42. (10分) 旅游地理

2016年12月28日,武汉“东湖绿道”建成并向市民开放。绿道全程禁行机动车,“共享自行车”便成为绿道重要的交通工具。“随时随地,随借随还”的共享自行车既广受欢迎同时也给景区带来了一系列问题(如图10所示)。



图 10

列举大量共享自行车给东湖绿道景区带来的问题并提出相应的解决措施。

43. (10分) 环境保护

“迷魂阵”是定置网的俗称,以木桩为基,深扎水底,横布渔网,网眼又小又密;水下安装好后可以自动进鱼,每天可不定时取鱼,是一种非法的捕捞方式(如图11所示)。



图 11

分析“迷魂阵”捕捞方式的危害并提出相应的解决措施。

请考生在 44、45、46 三道历史题中任选一题作答。如果多做则按所做的第一题计分并用 2B 铅笔在答题卡上把所选题目题号后的方框涂黑。

44. (15分)【历史上重大改革回眸】

材料

春秋时期以车兵为主、步兵为辅,到战国时期逐渐变成以步兵为主、车兵为辅。其原因是多方面的:一是由于征兵范围的扩大,大批原来居于鄙野的农民被征入伍,他们身份较低,宜于编为步兵;二是车兵受地形条件限制,不能在山林险阻的地区作战;三是坚韧锋利的铁兵器和远射有力的

机弩广泛使用,往往使排列整齐的车兵受到巨大损失。骑兵是战国时期兴起的新兵种,赵武灵王胡服骑射,使骑兵在对外作战中大显神通。许多使用机弩的战士集合在一起组成弩兵,威力无穷,马陵之战中齐军“万弩俱发”而使敌人一败涂地。由于步兵、骑兵和弩兵的出现,战争的场所就从广阔的平原迅速扩展到山林、江河和险要之地,战争方式更加灵活多变。

——摘编自李学勤主编《战国史与战国文明》

(1)依据材料并结合所学知识,概括指出春秋战国时期的军事变革有哪些表现。(6分)

(2)依据材料并结合所学知识,简述春秋战国时期军事变革的影响。(9分)

45. (15分)【20世纪的战争与和平】

材料

1947年6月5日,美国国务卿马歇尔公开提出了美国的援欧计划。马歇尔要求欧洲国家联合起来首先制订一份复兴欧洲经济的计划,美国则据此计划决定可能提供的援助。英、法两国对马歇尔计划作出了积极的响应,并邀请苏联参加。6月底7月初,英、法、苏三国商讨参加马歇尔计划事宜。苏联提出援助应建立在各国分别提出要求的基础上,反对联合的欧洲援助计划,英法则坚持制定一份统一的欧洲经济计划。双方争执不下,最后苏联退出会议。斯大林还训斥了热衷于参与马歇尔计划的捷克斯洛伐克和波兰的领导人,要求他们必须接受苏联的主张。在苏联的影响下,东欧国家也拒绝参加马歇尔计划。1947年7—8月间,苏联先后与保、捷、匈、波、罗等东欧国家签订了贸易协定。该协定加速了以苏联为首的社会主义阵营市场的形成。

——摘编自袁明主编《国际关系史》

(1)根据材料指出围绕马歇尔计划欧洲国家产生的主要矛盾。结合所学知识,说明这一矛盾产生的背景。(9分)

(2)根据材料并结合所学知识,概括指出美苏对峙对欧洲产生了怎样的影响。(6分)

46. (15分)【中外历史人物评说】

材料

1909到1918年是鲁迅沉默的十年。辛亥革命特别是二次革命失败后的黑暗现实,迫使鲁迅把早年“我以我血荐轩辕”的爱国热情,沉淀在、包裹在、压缩在冰一样的观察、探索中。国民性的问题并没有解决,革命倒证明了鲁迅早年的看法:办工业兴实业,“黄金黑铁”,固然不能解决救国问题,去皇帝改共和,也仍然不能使中国兴起。上层是一幕又一幕的政治丑剧,下层却永远沉沦在麻木、“平静”、不觉悟和被宰割的悲惨境地中。

鲁迅这时对改变国民性问题的答案,已落实在对各种社会现象和占统治地位的意识形态进行彻底揭露和猛烈批判上。

——摘编自李泽厚《中国近代思想史论》

(1)据材料和所学知识,分析鲁迅重视“改革国民性”的原因。(6分)

(2)据材料和所学知识,概括鲁迅“改革国民性”的表现和影响。(9分)