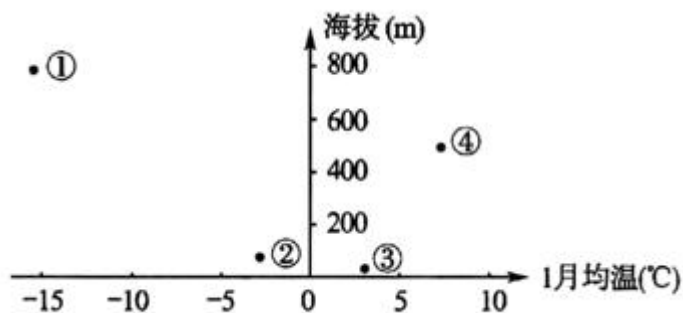


华大新高考联盟名校 2020 年 5 月份高考预测考试 文综地理

一.选择题:本题共 35 小题,每小题 4 分,共 140 分。在每小题给出的四个选项中,只有一项是符合题目要求的。

图中序号①②③④表示我国四个城市平均海拔和 1 月均温。据此完成 1~3 题。



1.①②③④四个城市依次是

- A 乌鲁木齐.石家庄.武汉.成都.
- B 乌鲁木齐.石家庄.成都.武汉
- C.石家庄、成都.武汉、乌鲁木齐
- D.石家庄, 乌鲁木齐、武汉.成都

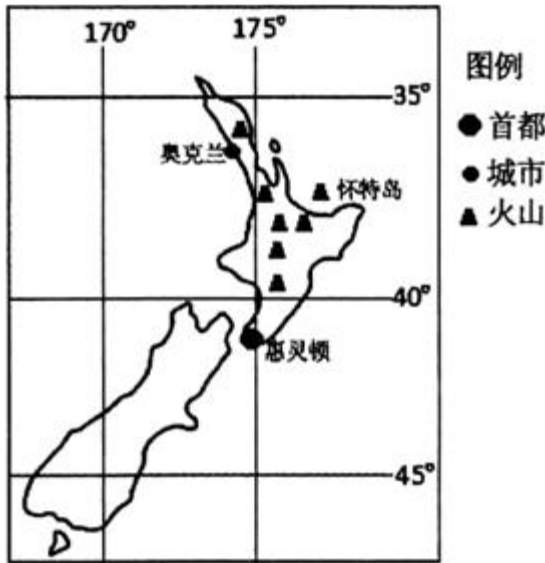
2.①②③④四个城市降水量季节变化最小的是

- A.① B ② C③ D. ④

3.①②③④所在的区域农业各具特色,其中

- A.①所在的地形区以水田农业为主 B.②所在的地形区以种植春小麦为主
- C.③所在的省级行政区以灌溉农业为主 D.④所在的省区西部农业地域类型垂直差异明显

“嘶嘶作吼的喷气孔、咕咕冒泡的泥浆坑、炽热的火山热流和弥漫着酸性蒸汽的美丽.....
长久以来, 怀特岛因其独特的地貌和景致吸引着来自全球各地的观光者。2019年 12月9日,火山突然喷发,造成了游客严重的伤亡。据此完成 4~5 题。



自主招生在线
微信号: zizzsw

4. 怀特岛火山

- A. 位于太平洋板块和印度洋板块的消亡边界 B. 岩浆冷却, 形成大面积花岗岩
C. 此次喷发造成奥克兰机场飞机延误 D. 岩浆物质来自于岩石圈中的软流层

5. 对参加火山旅游的建议应采取

- A. 完全按照旅行社安排执行 B. 提前了解火山活动信息
C. 近距离拍摄喷气孔、火山热流 D. 戴口罩防止吸入有毒气体

在冰川覆盖的地区, 冰川表面较稳定而下沉的冷却气流沿冰面向冰川前方运动, 迫使冰缘地区较暖的空气上升而产生对流交换, 形成由冰川表面向冰缘地带吹送的风, 称作冰川风。在四姑娘山幺妹峰(6 250m)北侧和珠穆朗玛峰北侧的河谷地区均存在冰川风现象。尤其在珠穆朗玛峰北侧海拔 5 300~7 000 米的地区, 昼夜盛行冰川风, 风力强劲, 阵风达到 7~8 级。据此完成 6~8 题。

6. 与冰川风形成原理相似的是

- A. 我国的冬季风 B. 盛行西风
C. 东北信风 D. 太行山东坡的干热风

7. 与珠穆朗玛峰相比, 幺妹峰冰川风仅表现为增强和延长山风, 减弱并缩短谷风, 且不会全天出现, 其原因主要是因为幺妹峰

- A. 山体海拔相对低 B. 冰川覆盖面积相对小
C. 冰雪厚度大 D. 山体雪线低

8. 推断珠穆朗玛峰冰川风风力最强的时段可能为当地时间

- A. 6 时~10 时 B. 0 时~4 时
C. 19 时~23 时 D. 12 时~16 时

因新冠肺炎疫情在美国和全球蔓延, 原定于 2020 年 3 月 24 日至 25 日在美国匹兹堡市举行的七国集团外长会议最终决定通过视频会议的形式举行, 经协商定于德国时间(东一区)25 日 16 点召开会议。接着, 北京时间 3 月 26 日还举行了二十国集团(七国集团加上中国、阿根廷、澳大利亚、巴西、印度、印度尼西亚、韩国、墨西哥、俄罗斯、沙特阿拉伯、南非、土耳其以及欧盟)峰会领导人视频会议。主要讨论全球合作应对新冠肺炎疫情问题。据此完成 9~11

专注名校自主选拔

题。

9. 七国集团外长会议召开时间对下列哪个国家不是很理想

A. 英国 B. 美国 C. 日本 D. 加拿大

10. 二十国集团峰会领导人视频会议开始的时间最可能是北京时间

A. 8点 B. 12点 C. 16点 D. 20点

11. 2020年3月29日凌晨2点德国进入夏令时(将时钟拨快1小时),属于夏令时优点的是

①节约能源②增加工作时间③增加夜晚休闲时间④鼓励“早睡早起”
A. ①② B. ②③ C. ①④ D. ③④

36. 阅读图文材料,完成下列要求。(24分)

羊驼一般生长在海拔4000米的高原上。主要分布在南美洲的秘鲁、玻利维亚和智利等国,大部分已饲养成家畜。在盛产羊驼的玻利维亚,单驼毛珍贵且价值不菲却通常被以低廉的价格卖出去,由于缺乏技术和深加工,羊驼毛利用率不能最大化地被发挥出来。纤维是纺织工业的基本原料之一。产业的绿色化应该从纤维的绿色化开始。现在,很多时装设计师都将目光瞄准了质地优良的羊驼毛。2020年1月,我国浙商克服4000米高原反应,在玻利维亚建羊驼毛纺织厂,受到当地政府的欢迎。图1示意玻利维亚及周边国家地区。图2示意A、B两地月均气温和降水。

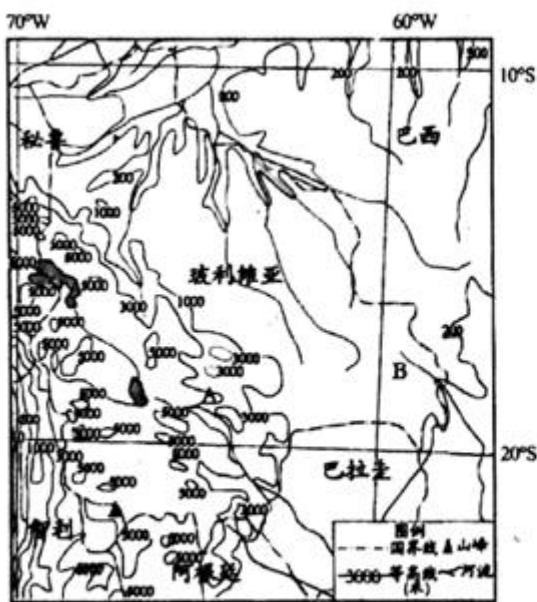


图1

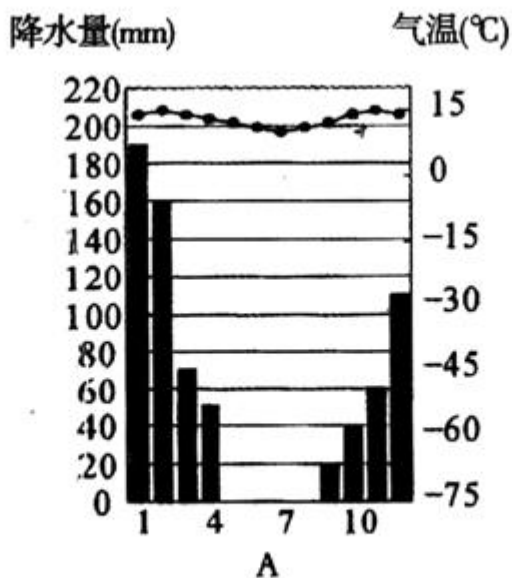


图2

(1) 简述玻利维亚的地理位置和地形特征。(8分)

(2) 根据信息判断A、B两地的气候类型,分析其形成原因。(8分)

(3) 说明浙商在玻利维亚建羊驼毛纺织厂的有利区位条件。(8分)

37. 阅读图文材料,完成下列要求。(22分)

澳大利亚夏年山火多发。2019年11月澳大利亚新南威尔士州森林地区爆发了数十场大火,火势迅速蔓延。旺盛的山火持续4个多月,进一步加刷了澳大利亚2019年夏半年的高温、干旱态势。悉尼大学生态学家估算,在火灾最严重的新南威尔士州,大约有5亿只鸟类、哺乳动物和爬行动物丧生,大量动物流离失所。除了对澳大利亚本国的重大破坏,科学家通过卫星监

专注名校自主选拔

测还发现澳大利亚山火产生的发黑已经扩散至世界多地。图 1 示意新南威尔士等地火点分布。图 2 示意 2019 年澳洲山火炭黑踪迹分布。

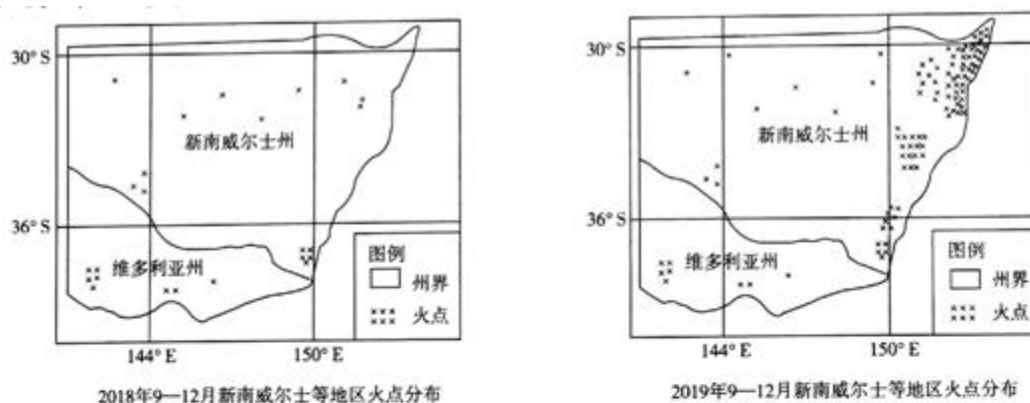


图 1



图 2

- (1)读图 1,比较 2018 年同期山火分布.说明 2019 年澳大利亚新南威尔士等地山火分布特点。(6 分)
- (2)简述图: 2 中 11 月新南威尔士山火炭黑的大致扩散方向,并结合大气环流解释原因。(8 分)
- (3)试从整体性的角度分析此次澳大利亚山火对自然环境的危害。(8 分)

43.[地理一-选修 3:旅游地理](10 分)

邮轮原为运输邮件或运载旅客的交通工具。国际邮轮旅游在 20 世纪 80 年代渐趋蓬勃,不少邮轮公司加入,并投资建设设施更豪华、节目更丰富,排水量更多的邮轮。使邮轮变成一个豪华的海上度假村。餐饮、住宿、娱乐一应俱全。被称为“无目的地的目的地”“海上移动的度假村”,邮轮一般也有一定的航行路线,游客可以在沿线港口下船观光、购物等。邮轮旅游已成为当今世界旅游休闲产业不可或缺的一部分,被我国越来越多的旅游者青睐。



分析国际邮轮旅游被我国越来越多的旅游者青睐的原因。(10 分)

44.[地理一-选修 6:环境保护](10 分)

滨海湿地包括沿海滩涂河口、浅海、红树林、珊瑚礁等,是近海生物重要栖息繁殖地和鸟类迁徙中转站,也是珍贵的湿地资源,具有重要的生态功能,近年来,我国滨海湿地保护工作取得了一定成效。但由于长期以来的大规模围填海活动,滨海湿地大面积减少,自然岸线锐减,对海洋和陆地生态系统造成损害。

提出保护和修复滨海湿地的合理建议。(10 分)

 自主招生在线
微信号: zizzsw

 自主招生在线
微信号: zizzsw

关于我们

自主招生在线是致力于提供新高考生涯规划、强基计划、综合评价、三位一体、学科竞赛等政策资讯的升学服务平台。总部坐落于北京，旗下拥有网站 (<http://www.zizzs.com/>) 和微信公众平台等媒体矩阵，用户群体涵盖全国 90% 以上的重点中学师生及家长，在全国新高考、自主选拔领域首屈一指。

如需第一时间获取相关资讯及备考指南，请关注**自主选拔在线**官方微信号：**zizzsw**。



微信搜一搜

自主选拔在线

关注后获取更多资料：

回复“**答题模板**”，即可获取《高中九科试卷的解题技巧和答题模版》

回复“**必背知识点**”，即可获取《高考考前必背知识点》