

2023 届高三二轮复习联考(三) 全国卷 文科综合

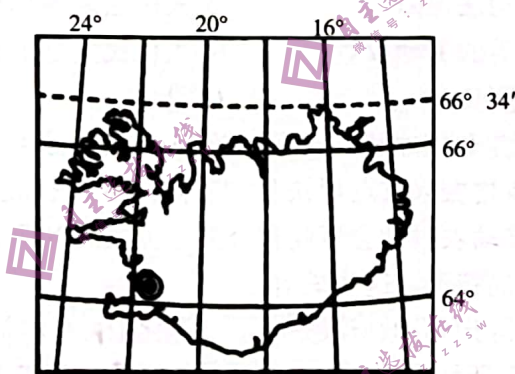
注意事项:

1. 答卷前,考生务必将自己的姓名、考生号等填写在答题卡上。
2. 回答选择题时,选出每小题答案后,用铅笔把答题卡上对应题目的答案标号涂黑。如需改动,用橡皮擦干净后,再选涂其他答案标号。回答非选择题时,将答案写在答题卡上。写在本试卷上无效。
3. 考试结束后,将本试卷和答题卡一并交回。

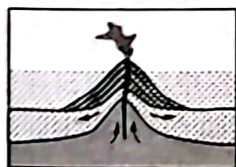
考试时间 150 分钟,满分 300 分

一、选择题:本题共 35 小题,每小题 4 分,共 140 分。在每小题给出的四个选项中,只有一项是最符合题目要求的。

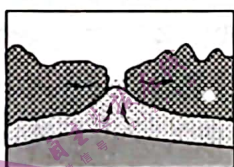
下图为世界某岛国示意图,该国从牙买加和圭亚那进口铝土矿发展了炼铝工业,是世界铝生产大国之一。据此完成 1~2 题。




1. 关于该国所在海域海底地貌状况,对应正确的是



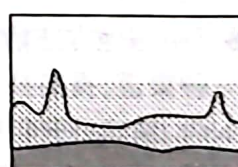
①



②



③



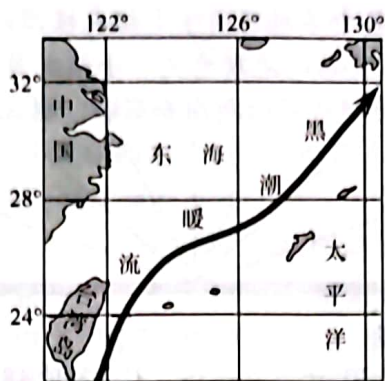
④

- | | |
|------|------|
| A. ① | B. ② |
| C. ③ | D. ④ |

2. 该国发展铝生产的最主要因素为

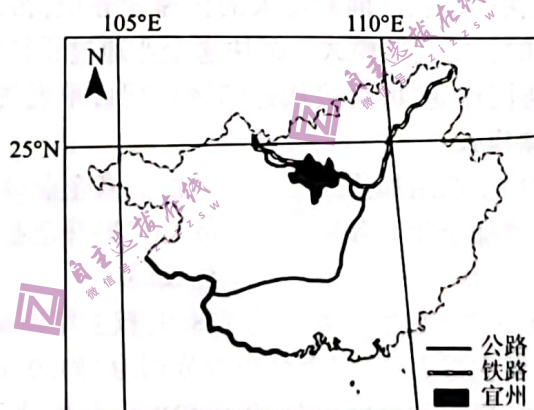
- | | |
|--------|-------|
| A. 原料 | B. 土地 |
| C. 劳动力 | D. 能源 |

黑潮是北赤道暖流的延续,起源于台湾岛东南和吕宋岛以东海域,在 24°N 左右通过台湾岛以东进入东海,一直延伸至 35°N、141°E 附近海域。在整个黑潮系统中,将位于 130°E 以西,30°N 以南海域,主流经过东海外缘的黑潮,称为东海黑潮。东海黑潮的盐度分布具有显著的季节变化特点。下图示意东海黑潮分布。据此完成 3~5 题。



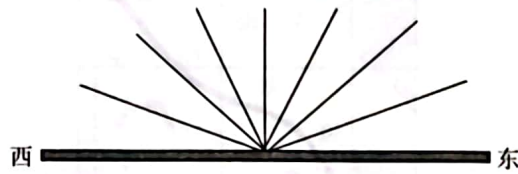
3. 东海黑潮表层海水盐度最高的季节是
 A. 春季 B. 夏季 C. 秋季 D. 冬季
4. 影响东海黑潮表层海水盐度的主要因素是
 A. 降水量、含沙量 B. 蒸发量、径流量
 C. 含沙量、蒸发量 D. 径流量、降水量
5. 黑潮暖流海水盐度垂直变化规律是
 A. 夏季变化率大 B. 冬季变化率小
 C. 春秋变化率大 D. 秋冬变化率大

我国传统的桑蚕产业主要分布在长江中下游和珠江三角洲地区。“东桑西移”是指我国逐步把蚕茧主产区从东部(主要是长江中下游和珠江三角洲)地区向西部地区转移的蚕丝产业发展战略。广西的宜州市是东部蚕丝产业的主要承接地。宜州的养蚕季节(3月~11月)较长。目前,宜州的桑园面积已居全国县域第一,但在蚕桑品种选育、种养殖技术方面相对落后。下图为广西宜州示意图。据此完成6~8题。

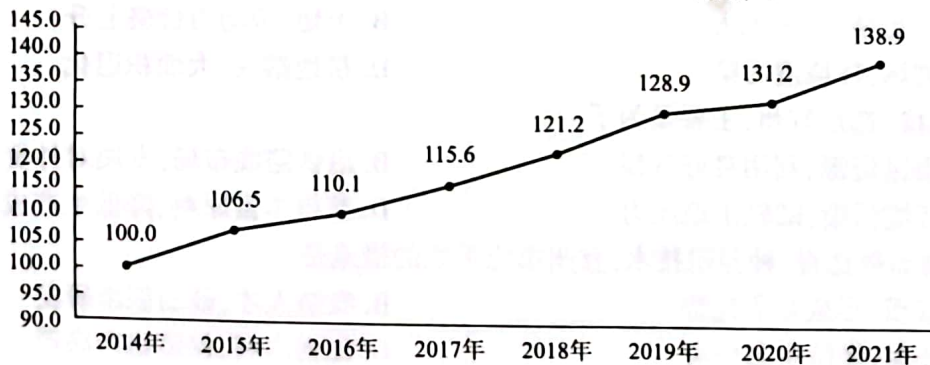


6. 长江中下游和珠江三角洲桑蚕产业移除的主要原因是
 A. 劳动力短缺,后继无人 B. 土地、劳动力价格上升
 C. 生态破坏,环境遭污染 D. 耕地撂荒、大面积退化
7. “东桑西移”选址宜州,主要是为了
 A. 开发山区资源,利用良好气候 B. 沿铁路线布局,发展对外贸易
 C. 免遭环境污染,减轻土地压力 D. 获得丰富原料,降低生产成本
8. 为了提高品种选育、种养殖技术,宜州市应采取的措施是
 A. 扩大规模,形成竞争优势 B. 吸纳人才,鼓励创新研发
 C. 重视环保,保持生态平衡 D. 加强水利,保障稳产高产

太原市(37°54'N,112°33'E)某中学地理研学小组在校园的操场竖立一竹竿,通过观察竹竿影子朝向和长短的变化,印证地球公转的地理意义。小组成员将日出到日落的观察记录绘制成图(见下图),图中实线表示不同时刻竹竿的朝向和影长。据此完成9~11题。



9. 当竹竿影长最短时,北京时间约
 A. 10时48分 B. 11时30分 C. 12时48分 D. 12时30分
10. 由此推测,该日太阳
 A. 向北移动 B. 向南移动 C. 昼短夜长 D. 昼长夜短
11. 若该研学小组连日的观测竹竿影子朝向和长短的变化,可以印证地球公转的地理意义有
 ①正午太阳高度的变化 ②当地所处的气候带
 ③一日内昼与夜的交替 ④当地所处的季节
 A. ①② B. ③④ C. ②③ D. ①④
12. 某视频网站于2022年12月16日零点起启动新一轮会员价格上调。涨价背后是不断加码的内容投入。前三季度该视频网站在内容制作上的投入成本达到126亿元。而随着内容投入的增加,资金的利用效率在提升,内容质量和爆款率也在持续上升,越来越多的钱被花在了刀刃上。这表明
 ①商品的价格是由其价值决定的 ②商品使用价值越好,价格越高
 ③商品的价值会影响其使用价值 ④企业应重视提升商品使用价值
 A. ①② B. ①④ C. ②③ D. ③④
13. 近年来,全国快递业务量快速增长。面对庞大的快递业务量,传统仓库进行数字化革新,从“人找货”转向“货找人”的智能仓储模式。某快递企业通过柔性自动化技术,率先实现了超过1000台AGV机器人协同作业,可直接从存储区匹配订单发货,省掉了中间环节,吞吐能力提高1倍多。智能仓储模式
 ①可延长企业产业链,增加企业附加值 ②能提高企业运营效率,促进企业发展
 ③可扩大企业经营规模,增加企业业务量 ④必然提升企业利润空间,提高企业效益
 A. ①② B. ①④ C. ②③ D. ③④
14. 相关数据显示,2021年京津冀区域发展指数为138.9,较上年提高7.7点。其中,创新发展、绿色发展、协调发展是主要支撑力量,三个分指数分别为153.0、153.0、141.6;开放发展指数和绿色发展指数提升较快,较上年分别提升19.9和8.5,是推动总指数上升的主要因素。下图为2021年京津冀区域发展指数。据此对京津冀地区推断正确的是



- ①创新动能持续增强,创新水平不断提高
②协调发展显现成效,区域发展实现同步
③绿色发展持续发力,协同治理逐步深入
④开放发展逐步恢复,贸易顺差逐步缩小
- A. ①③
B. ①④
C. ②③
D. ②④

15. 2022年1月1日至11月10日,我国税务部门持续加快出口退税进度,服务外贸稳增长,全国已累计办理出口退(免)税16406亿元,同比增长14.9%。此外,出口退税办理流程不断优化。下列对加快出口退税进度,服务外贸稳增长的传导路径排序正确的是

- ①降低出口企业生产成本
②减轻出口企业经营负担
③形成出口企业价格优势
④提升出口企业海外销量
⑤扩大我国出口规模
⑥优化我国出口结构
- A. ①→②→③→⑤
B. ①→③→④→⑥
C. ②→③→⑤→⑥
D. ②→③→④→⑤

16. 2022年12月27日,最高人民法院发布《关于为稳定就业提供司法服务和保障的意见》。其中明确,除依法按协商程序降低劳动报酬外,用人单位安排劳动者通过居家办公或者灵活办公等方式提供正常劳动,劳动者请求按正常工资标准支付其工资的,人民法院应当依法支持。这表明

- ①人民群众的合法权益有司法保障
②人民法院解释相关法律化解社会矛盾
③公民在法律面前享有平等的劳动权益
④人民民主是最真实、最管用的民主
- A. ①③
B. ①④
C. ②③
D. ②④

17. 中共中央、国务院印发的《党和国家机构改革方案》强调,国家乡村振兴局牵头开展防止返贫监测和帮扶,组织拟订乡村振兴重点帮扶县和重点地区帮扶政策,组织开展东西部协作、对口支援、社会帮扶……推动农村社会事业和公共服务发展等职责划入农业农村部,在农业农村部加挂国家乡村振兴局牌子。这些举措

- ①扩大了政府职责范围,有利于优化政府服务
②深化了行政体制改革,有利于提高行政效率
③提升了政府信誉形象,有利于增强政府权威
④统筹了“三农”工作,有利于建设农业强国
- A. ①③
B. ①④
C. ②③
D. ②④

18. 《中国地方法治发展报告 No. 8(2022)》指出,我国各地方人大常委会通过拓展线上线下多种渠道,提高公众立法参与频次和比例。通过法规规章文件集中公开、公开立法调研评估报告、精确公开年度立法计划、公开征求意见参与情况、公开解读说明等关联信息,我国立法透明度得到全面推进。材料表明,我国各地方人大常委会

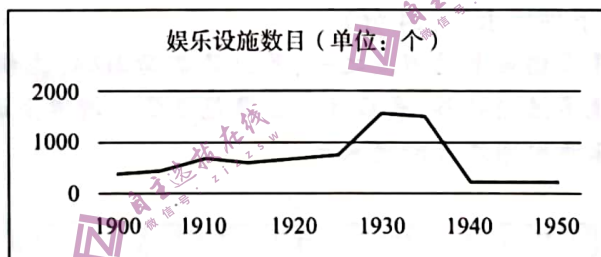
- ①贯彻全过程人民民主理念,保障人民当家作主
②坚持推行政务公开,增强我国地方立法透明度
③坚持科学、民主立法,提升我国地方立法质量
④履行国家行政机关职责,提升我国地方治理水平
- A. ①②
B. ①③
C. ②④
D. ③④

19. 近年来,从“冰墩墩”“雪容融”迅速走红,到故宫文创产品大受欢迎,再到老字号品牌不断推陈出新,文韵悠长的“国潮”,带动一款款产品销售火爆,一个个品牌发展壮大,成为拉动消费、扩大内需的重要力量。这说明

- ①优秀传统文化是文化产业发展的资源
②经济发展为中华文化传播奠定了重要基础
③文化生产力在现代经济格局中的作用突出
④文化创新是文化富有生机与活力的源泉
- A. ①②
B. ①③
C. ②④
D. ③④


20. 当前,一些农村高价彩礼给不少农户带来沉重负担,引发了诸多问题。某市针对这一社会民生热点、痛点问题,持续深入推进移风易俗工作,创新探索移风易俗做法,通过完善机制、示范引领、宣传带动、社会总动员等行动,推动移风易俗工作实现制度化、规范化、常态化,提升百姓生活幸福感、获得感。该市的做法
- ①抵制了农村落后文化,净化了农村社会风气
②推进了农村精神文明与物质文明相协调
③加强了农村思想道德建设,能提升农民道德素养
④完善了公共文化服务体系,保障了农民文化权益
- A. ①② B. ①④ C. ②③ D. ③④
21. 本草考古,就是应用现代考古理论与方法,以考古出土的药物及其相关遗存为对象,探索人类与药物的相互关系,揭示人类发展和利用药物的历史和规律,重建中医药文化遗存的时空框架,理清中医药发展历史脉络。可见,开展本草考古
- ①是认识人类发展和利用药物的规律的唯一途径
②是丰富我国中医药文化宝库的重要推动力
③能够加深人们对中医药文化的认识
④根本目的是认识中医药发展历史脉络
- A. ①② B. ①④ C. ②③ D. ③④
22. 第十四届全国人大一次会议审议的《政府工作报告》指出,要把年度主要预期目标作为一个有机整体来把握,加强区间调控、定向调控、相机调控、精准调控,既果断加大力度,又不搞“大水漫灌”、透支未来,持续做好“六稳”“六保”工作。这是基于
- ①整体居于主导地位,要求我们要立足整体,统筹全局
②量变引起质变,要求我们要坚持适度原则,防止过犹不及
③具体问题具体分析是我们正确认识事物的基础
④主次矛盾相互联结,要求我们要坚持两点论与重点论的统一
- A. ①② B. ①④ C. ②③ D. ③④
23. 1959年3月28日,在中国共产党领导下,一场以废除政教合一的封建农奴制为核心的民主改革在西藏全面展开。百万农奴得到彻底解放,成为自己命运的主人。从那之后,雪域高原创造了“短短几十年,跨越上千年”的发展奇迹。2022年,西藏地区生产总值达2132.64亿元。而1951年西藏地区生产总值仅为1.29亿元。西藏的飞跃发展表明
- ①上层建筑适应经济基础可以推动生产力发展
②生产方式的变革决定着社会形态的更替
③改革是社会主义社会的自我完善与自我发展
④群众观点是无产阶级政党的根本立场和根本观点
- A. ①② B. ②④ C. ①③ D. ③④
24. 他认为音乐的本质是表现“民之常性”,故他的音乐美学观点表现为“法天贵真”。法天贵真的音乐就是合乎人的自然情性、自由抒发人的情性的音乐。这一思想曾极大地影响了嵇康、李贽。材料中的“他”是
- A. 孟子 B. 墨子 C. 庄子 D. 韩非子
25. 西汉高祖时“诸侯皆赋”,“(王国)置丞相,黄金印”。景帝时,“(王国)去丞相曰‘相’,银印,诸侯独得食租税”。这一转变旨在

- A. 削弱丞相权力
B. 加强中央集权
C. 完善官僚政治
D. 实施“推恩令”
26. 据《蜀堰记》记载,顺帝至正元年(1341年)重修都江堰,效果很好,修堰之前,“常岁获水之用仅数月,堰辄坏。今虽缘渠所置碓磑纺绩(借助水力推动的捣米器具和纺车)之处以千万数,四时流转而无穷”。这表明,都江堰的重修
- A. 有利于古代水力机械的推广
B. 巩固了官营手工业的技术优势
C. 促成手工业领域的技术革新
D. 推动了中国南北经济均衡发展
27. 清代规定:“满洲、蒙古尚书以下,司官、小京官以上,亲伯叔兄弟同衙门者,令官小者回避。……祖孙父子,均令子孙回避。……汉官在京部院祖孙父子亲叔伯兄弟回避之例,与满洲蒙古同。”清政府此举主要是为了
- A. 维护等级制度
B. 学习汉族文化
C. 加强官员管理
D. 消除民族隔阂
28. 19世纪60年代,为解决生源问题,清政府规定同文馆的学生可以拿薪水。开始年薪为36两银子,后又提高到120两,最高时达到140两。当时七品官年薪才45两,五品官也不过80两上下。这从侧面深刻反映了
- A. 科举制度渐趋衰落
B. 官办学校待遇较高
C. 洋务运动成效显著
D. 传统思想根深蒂固
29. 清末,东北地区的大豆及大豆制品在未建铁路时出口量不多,1890年输出总值为白银37万两,自有了铁路后,大豆及大豆制品输出总值逐年增加,1900年达白银547万两,1910年达白银3669万两。这说明,铁路在当时
- A. 促进了农产品的商品化
B. 改变了农业的产业布局
C. 导致了传统农业的衰落
D. 丰富了出口货物的种类
30. 下图为20世纪上半期上海近代文化娱乐设施数量曲线图。影响这一时期上海娱乐设施数目变化的主要因素是



- A. 人口数量的增减
B. 民族工业的发展
C. 政治局势的变化
D. 租界面积的大小
31. 1955年,毛泽东说:“我们……所钻研的,是钻社会主义工业化……并且开始要钻原子能……”;1963年,他又指出“科学技术这一仗,一定要打,而且必须打好。……不搞科学技术,生产力无法提高”。这表明毛泽东
- A. 对科学技术重要性的认识不断深化
B. 看到了参与国际科技竞争的重要性
C. 主张科技成果由军用逐步转为民用
D. 认为“一五”计划要为科技现代化服务
32. 公元前4世纪,九执政官是雅典最重要的官职,分管军事、宗教和司法等相关事务。但他们就职前须先经五百人议事会初审,之后还必须通过陪审法庭的复审。这一举措
- A. 体现了古代分权制衡原则的运用
B. 是防止公共权力腐败的重要机制
C. 是原始行政程序繁琐的典型表现
D. 促成了民主政治鼎盛时期的到来

33. 这一时期,他们对宗教秉持着一种以理性改之的态度,开始摆脱宫廷、教会进行创作,对于某些基督教神学的荒谬、教会因迷恋权力而导致的堕落以及因人民的盲从与轻信而仍然影响人民生活的有害权力予以讽刺和抨击。材料中的“他们”可能包括
- A. 但丁 B. 马丁·路德 C. 哥白尼 D. 休谟
34. 1849—1870年,英国第三级铁路客运(为下层人民提供运输服务)人数增长了6倍,而其他两级客运人数只增长了4倍。1846—1870年,第三级客运人数的比重由不足一半提高到65%,而客运收入的比重则由不足20%提高到44%。这表明铁路客运
- A. 促进了城乡经济的一体化 B. 实现了交通运输的商业化
C. 推动了社会观念的平等化 D. 加速了交通服务的大众化
35. 下图为2018年加拿大讽刺特朗普的漫画,以反对美国对加拿大等盟友的进口钢铁和铝分别征收25%及10%的高关税。据此可知



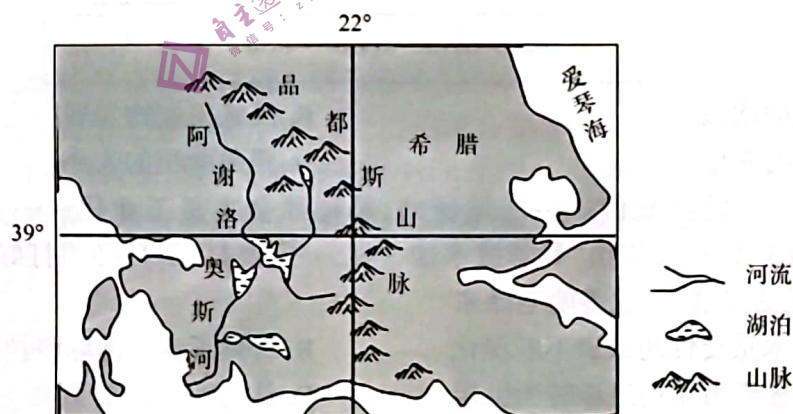
- A. 霸权主义导致资本主义阵营的动荡 B. 经济危机使多极化趋势放缓
C. 单边主义易加重“逆全球化”现象 D. 经济全球化使单极世界解体

二、非选择题:共160分,第36~42题为必考题,每个试题考生都必须作答。第43~47题为选考题,考生根据要求作答。

(一)必考题:共135分。

36. 阅读图文材料,完成下列要求。(24分)

阿谢洛奥斯河是希腊最长的河流之一,源出品都斯山脉,流程220千米,流域面积0.63万平方千米。该河流多流经峡谷,最后注入爱奥尼亚海。河流上游建有两座大坝,河口水深不足0.6米。下图示意阿谢洛奥斯河水系。



- (1) 由阿谢洛奥斯河的流程可知希腊河流比较短促,试分析原因。(6分)
- (2) 简述阿谢洛奥斯河流域的水文特征。(6分)
- (3) 判断阿谢洛奥斯河的航运价值,并说明理由。(4分)
- (4) 分析阿谢洛奥斯河两座大坝的社会经济效益。(8分)

37. 阅读图文材料,完成下列要求。(22分)

碳达峰指的是二氧化碳达到峰值,是指我国承诺2030年前,二氧化碳排放不再增长,达到峰值之后逐步降低。为此我国积极开发新能源,其中青海省成为我国新能源的战略基地,助推我国碳达峰目标的实现。目前,青海省清洁能源装机占比达到90.36%,海南州、海西州两个太阳能和风能、水光风多能互补的能源基地全部跃上千万千瓦级台阶。下图示意青海省太阳能和风能发电基地分布。



- (1) 阐释青海省新能源基地建设的有利条件。(6分)
- (2) 分析与海西州相比,海南州建立新能源基地的区位优势。(4分)
- (3) 简述青海省新能源开发对实现碳达峰目标的重要意义。(4分)
- (4) 说出青海省除太阳能、风能外,还可开发的清洁能源,并分析原因。(8分)

38. 阅读材料,完成下列要求。(14分)

近年来,我国加强高标准市场体系建设,有针对性助企纾困,为企业发展营造更优市场环境,帮助中小微企业和个体工商户解决实际困难。

为解决我国登记管理规定分散杂乱等突出问题,2022年3月1日,国务院决定在全国范围内正式实施《市场主体登记管理条例》,这是我国制定出台的第一部统一规范各类市场主体登记管理的行政法规。2023年3月30日,《市场监管总局办公厅关于开展质量技术帮扶“提质强企”行动的通知》印发以来,各地市场监管部门积极响应,将质量技术帮扶“提质强企”行动与帮扶市场主体纾困工作紧密结合,持续开展“小微企业质量管理体系认证提升行动”,取得了显著成效。市场监管部门优化技术评审方式,增加远程评审手段,将许可和技术评审时间分别再压缩三分之一,审批时限压缩近50%。此外,市场监管总局在芯片、新一代信息技术、新能源、航空航天等领域规划建设7个国家质检中心。

结合材料,运用经济生活知识,说明我国是如何通过优化市场环境助企纾困的。

39. 阅读材料,完成下列要求。(12分)

当今世界变乱交织,“世界怎么了、我们怎么办”的时代之问在全球回响。中共二十大系统总结中国之治的“成功密码”,擘画我国未来发展的宏伟蓝图,不仅开启了中国亿万人民奔赴充满光荣和梦想的远征,也为国际社会提供多维度的中国智慧、中国方案。

中共二十大召开后,中国式现代化成为国际社会热词。中国式现代化破解了人类社会发展的诸多难题,给人类现代化事业提供了宝贵的实践经验。我国经济发展再上新台阶,国

(二) 选考题: 共 25 分。请考生从 2 道地理选考题、3 道历史选考题中每科任选一题作答。如果多做, 则每科按所做的第一题计分。

43. 【地理——选修 3: 旅游地理】(10 分)

沈阳故宫位于沈阳市, 又称盛京皇宫, 始建于清太祖天命十年(1625 年), 建成于清崇德元年(1636 年)。总占地面积 63272 平方米, 建筑面积 18968 平方米, 为清朝初期的皇宫。沈阳故宫不仅是中国仅存的两大皇家宫殿建筑群之一, 也是中国关外唯一的一座皇家建筑群, 其中金龙蟠柱的大政殿、崇政殿, 排如雁行的十王亭、万字炕口袋房的清宁宫, 古朴典雅的文朔阁以及凤凰楼等高台建筑、“宫高殿低”的建筑风格, 在中国宫殿建筑史上绝无仅有。在宫廷遗址上建立的沈阳故宫博物院是著名的古代宫廷艺术博物馆, 藏品中包含十分丰富的宫廷艺术品。它以独特的历史、浓郁的满族特色而迥异于北京故宫。沈阳故宫 2004 年被列入世界文化遗产名录。下图为沈阳故宫景观图。



分析沈阳故宫作为旅游景区的优势区位条件。

44. 【地理——选修 6: 环境保护】(10 分)

稀土资源被誉为“万能之土”, 被广泛应用于军事、航空航天、新材料、电子信息等领域, 是极为珍贵的矿产资源, 被多个国家列为“关键矿产”。我国是世界上稀土资源最丰富的国家, 独占了全球稀土市场高达 90% 的供应量, 但稀土行业经营管理水平低, 企业“小、散、乱、差”, 恶性竞争现象严重。在国际稀土市场价格不断下跌的情况下, 使我国稀土出口利润大幅度下降。由此政府有关人士说, 中国稀土没卖出“稀”的价格, 卖出了“土”的价格, 造成宝贵的资源严重浪费, 稀土资源的合理开发利用成为迫在眉睫的重大问题。

就怎样合理开发利用我国的稀土资源提出合理建议。

45. 【历史——选修 1: 历史上重大改革回眸】(15 分)

材料 明清时期, 国家机器庞大, 各项事务繁杂, 发生了数次文书档案工作改革。这些改革没有完全摒弃前朝档案, 反而十分重视前朝各类档案文件的收集。针对前朝问题, 明清时期又进行了大胆改革, 如朱元璋废三省而设六部及清代的奏折制度等, 就加快了内部文书的运转。在改革过程中按照本朝实际档案工作情况开展实践, 如明初在建设后湖黄册库的过程中考虑到了周边环境的潮湿不利于文档贮存, 于是建立了晾晒制度, 有效延长了文档寿命。明代先后颁布了《行移署押体式》《行移往来事例》及《案牍减繁式》等以加强文书档案管理。

清朝在文书档案管理改革过程中还特别重视“抬头”与“避讳”这两个文书缮写制度。明清文书档案工作改革深刻影响着我国近现代文书档案工作制度的形成和发展。

——摘编自刘霞、麦德豪《论明清文书档案工作改革的影响与意义》

- (1) 根据材料并结合所学知识,概括明清文书档案工作改革的特点。(6分)
- (2) 根据材料并结合所学知识,分析明清文书档案工作改革的影响。(9分)

46.【历史——选修3:20世纪的战争与和平】(15分)

材料 一战中,英国政府成立了战争宣传局等专门机构,利用报刊、传单、漫画、书籍等形式展开有战争史以来最大规模的宣传战。报刊、书籍、漫画主要供国人阅读,官方出版物旨在影响中立国政府和民众,传单则用飞机撒向敌战区的平民和德军。英国的宣传家们相信,在信息不对称的环境下,像是事实的谎言,有时会收到奇效。如1915年英国就把德军一次割下数百名比利时少女耳朵的传闻当成事实煞有介事地广为宣传。为确保英国的正义形象,英国官方还对宣传内容实行严格的检查制度,以封杀不同声音,确保舆论一致。同时,协约国定期在伦敦举行宣传工作联席会议,并设立了专门的协调宣传机构。在英国舆论的凌厉攻势面前,德国的抗辩一开始就十分被动,如德国总理关于国际公约只是“一张废纸”的不加掩饰的坦率令全世界为之震惊。因此,西方学者普遍承认英国一战时的宣传取得了巨大的成功。

——摘编自吴文武《国际法、女权保护与第一次世界大战期间的英德宣传战》

- (1) 根据材料并结合所学知识,概括一战中英国宣传战取得成功的原因。(6分)
- (2) 根据材料并结合所学知识,说明一战中英国宣传战的历史作用。(9分)

47.【历史——选修4:中外历史人物评说】(15分)

材料 李渔(1611年—1680年),明末清初文学家、戏剧家。祖籍浙江兰溪,出身于商业家庭。少年识字读书过目不忘、下笔成篇,天资超凡。成年后几经入仕失意而归,又面临朝廷易代战火纷飞,一生坎坷。他一生曾先后定居杭州、南京等多个城市,交友众多。在戏曲创作方面,他善于打破固有的思维定势,语言上追求“易以新词”,情节上追求“故事新奇”。在创作中他意识到受众知识水平的高低不同,一些昆曲唱词中过于高雅的宾白对于文化水平较低的市民阶层可能就很难消化理解,所以提出了“贵浅显”的戏曲语言创作观点。他绝大多数作品都是喜剧,如在《连城璧》中,形容乞丐时描述道:“知书识字的乞儿”叫做“穷不怕”,还描写了他古怪的行为和装扮。总之,李渔在保持戏曲原有优良传统的基础上实现了全新的价值。

——摘编自牛佳玮《李渔戏曲市场观念研究》

- (1) 根据材料并结合所学知识,概括李渔戏曲创作观念的特点。(6分)
- (2) 根据材料并结合所学知识,分析李渔戏曲观念形成的原因。(9分)

内生产总值增加到121万亿元,五年年均增长5.2%。我国坚定不移推动高质量发展,推进供给侧结构性改革,加快新旧动能转换,激发市场创新活力和绿色发展动力,给全球企业开辟投资新蓝海。《世界开放报告2022》显示,2012至2020年,我国开放指数提高了5.6%。从提出构建人类命运共同体理念,到提出全球发展倡议、全球安全倡议、全球文明倡议,从推动共建“一带一路”到推动建设开放型世界经济……中国理念和行动不断顺应时代潮流和国际社会人心。

结合材料,运用政治生活知识,阐明新时代我国发展为人类发展进步作出的贡献。

40. 阅读材料,完成下列要求。(26分)

江门村地处广西第三高峰——元宝山东麓,曾是连片特困地区。奋发读书,走出大山,曾是这里一代又一代人的夙愿。杨宁曾从这里考上了大学,她也曾祈盼自己能够做到“大高山飞出金凤凰”。大学毕业时,面对南宁一家公司伸出的橄榄枝,杨宁选择“逆行”,成为了家乡的一名大学生村官。

到村任职的第一天,她就换上一双解放鞋,走村入户、了解民情。面对村里留守儿童,她动员姑姑,用闲置房建成“留守儿童之家”,与她一起照看孩子们,直到乡里中心幼儿园的建成;村民吕素明因患病造成家中生活困难,杨宁得知后,设法为他筹集一笔临时救助金,解了他的燃眉之急;前几年,村民梁海春被一场洪水冲下河致瘫痪,家里3个小孩还在读书,杨宁四处奔走,为这个贫困的家庭申请了低保,并连续6年资助孩子上学……

为了从源头上解决贫困问题,杨宁利用当地自然资源,进行创业,然而多次失败。现实无情的打击让杨宁感到些许失落和迷茫,但她并不气馁。后来,杨宁又发动村民用苗族传统的“稻+鸭+鱼”共作模式种植紫黑香糯,为了信守承诺,甚至偷偷卖了自己的婚房作为启动资金,带领村民致富。当年秋天,香糯迎来了大丰收,每亩收入增加两倍。在杨宁的带领下,江门村大做“山”的文章,种植高山特色优质水稻、水果、蔬菜、香菇、木耳、杉木……并在村里建立一家腊味产品加工厂,对村里的农产品进行标准化深加工,带动周边的生猪、香鸭养殖,年产值达260多万元。一条条产业路闯了出来,村民也跟着富起来。2022年10月,她被推选为党的二十大代表,后又被评为感动中国2022年度人物。

(1)结合材料,运用文化生活知识,说明杨宁的事迹对青年一代践行社会主义核心价值观的启示。(10分)

(2)结合材料,运用价值判断与价值选择的相关知识,说明杨宁被评为感动中国2022年度人物的原因。(12分)

(3)如今,越来越多的青年学子选择回到乡村,扎根乡村,带领村民创业致富,请围绕此话题写一篇时评。(4分)

要求:①围绕主题,观点明确;②论证清晰,逻辑严谨;③150字左右。

41. 阅读材料,完成下列要求。(25分)

材料一 萌发于中世纪的英国职业教育,在19世纪后半期迅速发展。19世纪,马尔萨斯等人提出了教育是一项公共事业的思想,教育家阿诺德等人积极提倡发展职业教育。斯德奇等人更是直接参与职业教育,如创办的成人夜校就推动了机械工人讲习所运动的发展。19世纪中期,英国成立了“皇家工艺学会”等以加强对职业教育的管理。1889年,通过了《技术教育法》,要求地方当局提供技术教育等。19世纪后半期的大学不仅开始培养工商业人才,

而且也“向每天的劳动仅足以糊口的人民群众的子弟开放”。为了提升英国的经济竞争力,1880年,“伦敦同业公会”成立了旨在从旁援助技术教育的“伦敦市成人教育协会”。

——摘编自李渝红《英国职业教育介绍》

材料二 建国之初中等技术教育的很多实施机构来源于旧时的公、私立职业学校。1952年3月政务院对其进行调整,规定每所学校都有特定的专业方向,统称为中等专业学校。同时,由于生产部门急需补充技术工人,技工教育制度逐步建立起来。中专和技工学校的毕业生由其管理部门分配工作。为了使不能升学的学生掌握一技之长以便就业,国家还尝试开辟新的途径,从1958年开始,各地农村职业学校大量开办,开展农牧、林果、养殖以及农副产品加工等多类教学。与此同时,城市职业教育也逐步发展,1965年,全国中专在校生54.7万人,技校在校生18.3万人,农业等职业中学在校生443.3万人,三者已占到当时中学在校生总数的34.8%。

——摘编自俞启定《新中国成立以来职业教育定位及规模发展演进的回顾》

- (1) 根据材料一并结合所学知识,概括19世纪后半期英国职业教育迅速发展的原因。(8分)
- (2) 根据材料二并结合所学知识,说明20世纪五六十年代我国职业教育发展的特点及意义。(17分)

42. 阅读材料,完成下列要求。(12分)

材料 晚清时期,画报画刊作为“图文并茂”的新式媒介开始出现,以下为其发展历程简表。

时期	阶段	概况
1872—1883	发轫期	教会画报画刊独步天下,如《画图新报》就以宣传基督教义为主,兼及科学知识介绍
1884—1899	兴起期	创办主体逐渐向国人自办转变,一系列丧权辱国的事件使国内各阶层不断掀起反帝反封建的浪潮,画报画刊更以独特的图像叙事方式深受人们欢迎
1900—1904	发展期	“刊载国内外时事、揭露帝国主义侵略、介绍西方科学技术知识”成为画报画刊宣传的主流。部分画报画刊为吸引读者、扩大发行量,颇为重视编辑业务的改革,如1904年商务印书馆出版的《东方杂志》经常选登官办或民办报刊上的新闻讯息,留下了回看历史场景的珍贵影像资料
1905—1911	鼎盛期	共创刊93种,占晚清画报画刊出版总数的73.8%;除政治中心北京外,主要集中在上海、广州等南方沿海沿江城市,其中上海最为抢眼有72种,占晚清画报画刊出版总数的57.1%。各政治派别不断创办画报画刊作为宣传其主张、形象的代言平台,如1905年留日学生创办的《醒狮》、汉口黄陂街昌明公司发行的《不缠足画报》等。此外,还有些跳出“政治圈”的画报画刊,如劝募赈灾的《图画灾民录》、专注知识介绍的《科学画报》、文化遗产保护的《中国名画》等

——摘编自任谢元《晚清时期画报画刊出版的历程、特点及影响》

根据材料及所学,谈谈你对晚清时期画报画刊出版这一历史现象的认识。