

江西省上饶市六校 2023 届高三第一次联考 文科综合能力测试试题

命题学校：婺源县天佑中学 主命题：戴周建、刘 玲、何少驰
副命题：郑成根、王国龙、吕婷根

注意事项：

1. 答卷前，考生务必将自己的姓名、准考证号填写在答题卡上相应的位置。
2. 全部答案在答题卡上完成，答在本试卷上无效。
3. 回答选择题时，选出每小题答案后，用 2B 铅笔把答题卡上对应题目的答案标号涂黑。如需改动，橡皮擦干净后，再选涂其他答案标号。回答非选择题时，将答案用 0.5mm 黑色笔迹签字笔写在答题卡上。
4. 考试结束后，将本试卷和答题卡一并交回。

一、选择题：本题共 35 小题，每小题 4 分，共 140 分。在每小题给出的四个选项中，只有一项是符合题目要求的。

下表为 2020 年江西省部分地区常住人口年龄结构，该年江西省常住人口为 4518.86 万人。据此完成下面小题。

人口年龄结构	全省	南昌	景德镇	九江	宜春	上饶
0~14 岁	21.96%	17.44%	21.32%	20.96%	22.91%	23.23%
15-60 岁	61.67%	67.59%	62.05%	61.37%	59.05%	59.08%
60 岁及以上	16.87%	14.97%	16.63%	17.67%	18.04%	17.69%

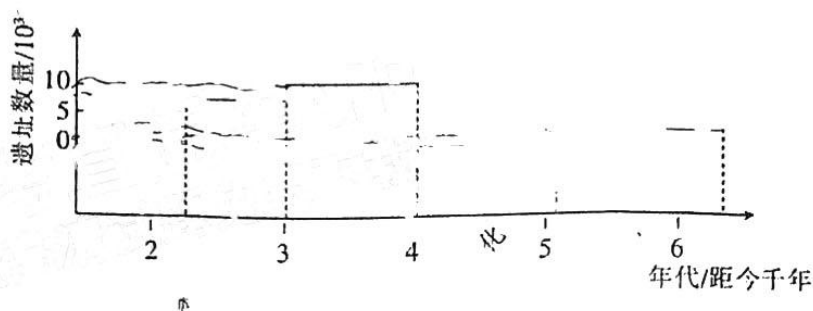
1. 2020 年江西省（ ）

- A. 区域人口年龄结构一致 B. 劳动力人口比重低
 C. 区域劳动人口红利衰减 D. 人口老龄化问题严重

2. 南昌市 60 岁以上人口比重较省内其他地市低，主要是因为南昌市（ ）

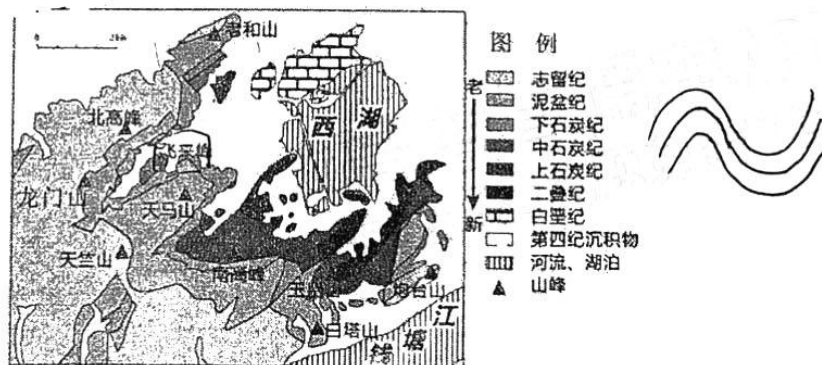
- A. 人口自然增长率高 B. 青壮年人口迁入多
 C. 老龄人口死亡率高 D. 养老服务体系不完善

中国东北地区的西辽河流域地处季风气候敏感带，古聚落的数量和分布范围变化频繁。研究发现西辽河流域是我国旱作农业起源的重要区域，史前人类主要聚集在河流阶地，采集、渔猎和农牧业是其主要经济生活方式。下图示意距今 6000—2000 年来西辽河流域遗址



3. 下列区位因素中，限制该流域古聚落选址的主导因素是（ ）
A. 气候 B. 地形 C. 矿产 D. 水源
4. 从夏家店上层文化时期至夏家店下层文化时期，该流域的气候趋向可能是（ ）
A. 夏季风增强，气候趋向暖湿 B. 夏季风增强，气候趋向暖湿
C. 夏季风变弱，气候趋向暖干 D. 夏季风变弱，气候趋向冷干
5. 图示时段中，该流域内先民分布范围最小的是（ ）
A. 夏家店上层文化时期 B. 夏家店下层文化时期
C. 小河沿文化时期 D. 红山文化时期

杭州西湖是著名旅游胜地，西湖及附近景点被列为世界文化遗产名录。飞来峰位于灵隐寺前，由石灰岩构成，有许多奇幻多变的洞壑。下图为西湖景区周边地质构造示意图。据此完成下面小题。



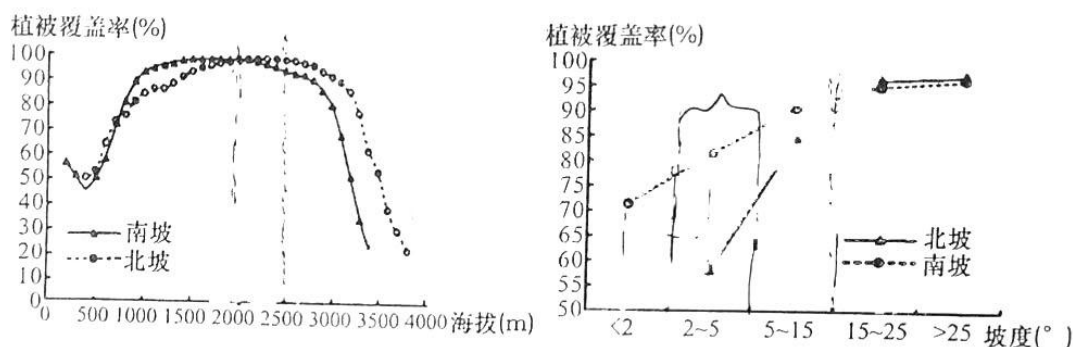
6. 飞来峰所处的构造地貌可能是（ ）
A. 断块山 B. 背斜山 C. 向斜山 D. 火山
7. 飞来峰的地质作用形成过程可能是（ ）
A. 沉积作用-固结成岩-外力侵蚀-水平挤压-地壳抬升
B. 沉积作用-固结成岩-水平挤压-地壳抬升-外力侵蚀
C. 沉积作用-水平挤压-地壳抬升-固结成岩-外力侵蚀
D. 沉积作用-水平挤压-固结成岩-外力侵蚀-地壳抬升

8. 西湖西侧海拔百米的山丘连绵, 该地形对当地地理环境的影响 ()

- ①地势高, 为西湖和钱塘江分水岭; ②提供栖息地, 保护生物多样性;
③依山傍水, 增加自然景观种类, 风景更加秀丽; ④便于两侧交通运输;

- A. ①②③ B. ①②④ C. ①③④ D. ②③④

植被覆盖度是指植被(包括叶、茎、枝)在地面的垂直投影面积占统计区总面积的百分比, 其大小受到自然、人文因素的影响。下图示意秦岭南北坡不同海拔及坡度植被覆盖度情况。据此完成下面小题。



9. 南北坡植被覆盖度 ()

- A. 2500m 处南坡植被覆盖度高于北坡 B. 坡度 2~5 小区域南北坡植被覆盖度差距越大
 C. 中海拔区域秦岭植被覆盖度最低 D. 坡度大于 15° 南北坡植被覆盖度差异小

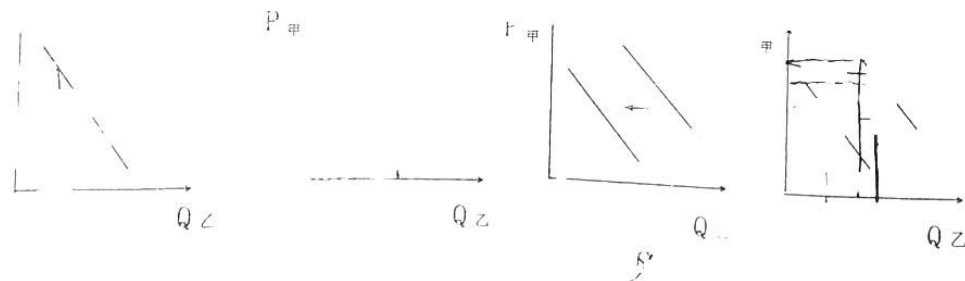
10. 从海拔 2000m 往上, 秦岭南坡植被可能变为 ()

- A. 阔叶林 B. 针叶林 C. 稀树灌丛 D. 高山草甸

11. 2°~5° 的坡度植被覆盖度南北坡差异大, 其差异可能主要源于 ()

- A. 土地面积 B. 植被类型 C. 土壤肥力 D. 作物熟制

12. 甲与乙是互为替代商品, 甲乙商品具有需求弹性。假定甲的价格上升, 其他条件不变, 则乙的需求变动图示 (P 表示价格, Q 表示数量) 是 ()



13. 2021 年全国居民人均可支配收入中, 人均转移净收入 6531 元, 比 2012 年增长 139.4%, 年均增长 10.2%, 占人均可支配收入的比重由 2012 年的 16.5% 提高到 2021 年的 18.6%。2021 年人均财产净收入 3076 元, 比 2012 年增长 149.8%, 年均增长 10.7%, 占人均可支配收入的比重由 2012 年的 7.5% 提高到 2021 年的 8.8%。居民工资性收入和经营净收入保持较快增长。材料表明 2021 年我国 ()
- ①居民收入来源多元化 ~~②~~居民收入增长与经济增长基本同步
~~③~~居民收入差距持续缩小 ④转移净收入和财产净收入快速增长
- A. ①② ~~B. ③④~~ C. ①④ ~~D. ①③~~
14. 2022 年, 中国人民银行贷款市场报价利率改革红利持续释放, 货币政策传导效率增强, 贷款利率稳中有降, 发挥了宏观经济稳定器功能。该政策的作用路径是 ()
- A. 个人消费信贷成本下降→消费增加→物价上涨→企业利润增加→扩大生产规模
~~B. 企业融资成本下降→扩大投资→稳定就业→稳定收入预期→扩大消费需求~~
~~C. 居民扩大储蓄→银行增加贷款→保持流动性充裕→支持创新→推动绿色发展~~
 D. 利率双向浮动→银行竞争加剧→促进金融创新→优化服务→贷款风险降低
15. 建立健全生态产品价值实现机制, 是贯彻落实习近平生态文明思想的重要举措, 是践行绿水青山就是金山银山理念的关键路径, 是从源头上推动生态环境领域国家治理体系和治理能力现代化的必然要求, 对推动经济社会发展全面绿色转型具有重要意义。加快推动建立健全生态产品价值实现机制 ()
- ①要充分发挥市场在资源配置中的决定性作用
 ②体现了改善生态环境就是发展生产力
~~③有利于推进生态产业化和产业公益化、协调化~~
 ④使自然资本成为创造价值的源泉, 厚植生态优势
- A. ①② ~~B. ③④~~ ~~C. ①④~~ ~~D. ②③~~
16. 广东中山市探索人大工作创新, 于 2022 年 3 月 31 日开通“香山号”人大代表直通车, 利用信息技术赋能代表工作, 打造“网—中心—站—点”的上下贯通、线上线下互相联通的一体化代表工作体系, 支持和保障代表更好地依法履职。“香山号”代表直通车一头牵着民心, 一头连着中心大局。“香山号”实现了代表建议随时提随时办, 由集中办理转变为全天候全过程办理, 群众反映的问题得到及时解决。材料体现 ()
- ①创新基层群众自治实践形式 ~~②~~创新人大代表履职手段和方式
 ③提高人大代表履职督政的时效 ④直通车畅通代表决策执行渠道
- A. ①② ~~B. ③④~~ C. ②④ D. ②③

17. 习近平总书记指出,“一百年来,党外靠发展人民民主、接受人民监督,内靠全面从严治党,推进自我革命,勇于坚持真理、修正错误,勇于刀刃向内、刮骨疗毒,保证了党长盛不衰、不断发展壮大。”勇于自我革命()
- ①是中国共产党区别于其他政党的显著标志
②是中国共产党永葆生机活力的重要法宝
③是中国共产党在履行保障人民民主的职能
④是人民当家作主和依法治国的根本保证
- A. ①② B. ②③ C. ③④ D. ①④
18. 中国秉持全球发展命运共同体理念,坚持共商共建共享推进“一带一路”建设,同 149 个国家、32 个国际组织签署了 200 多份共建“一带一路”合作文件。中国始终站在国际抗疫合作最前线,同 180 多个国家和国际组织分享疫情防控和诊疗方案,向 34 个国家派出 38 支医疗专家组,向 120 多个国家和国际组织提供超过 22 亿剂疫苗,开展新中国成立以来最大规模的全球紧急人道主义行动,推动构建人类卫生健康共同体。中国积极开展国际发展合作()
- ①顺应了多极化发展趋势,谋和平、促发展
②有利于中国在全球治理中发挥主导作用
③有利于维护各国共同利益,促进共同发展
④为世界发展提供中国方案,贡献中国力量
- A. ①② B. ①③ C. ③④ D. ①④
19. 2022 年初,电视剧《人世间》的播出引发了观众追剧的热潮。该剧展示了当代中国经历的翻天覆地的社会巨变,全国上下的观众都在为“光字片”里的周家人的日常故事感动。一个普通得不能再普通的家庭,是中国几十年发展的缩影,观众在一点一滴的生活小事中,将自己也视为时代的滔滔江河中一朵奔腾不息的浪花。从中可获得的启示是()
- ①反映时代精神的文化作品有其特有的感染力和感召力
②优秀的文化作品都是对现实生活的真实再现
③文化创作的不竭源泉在于人民群众的实践
④文化创作要以满足群众需求为价值导向
- A. ①② B. ①③ C. ②④ D. ③④
20. 十年来,在公共服务方面,广播电视实现了从村村通到户户通,截至 2021 年年底,全

国广播和电视节目综合人口覆盖率分别达 99.48%和 99.66%。同时，广播电视提供的服务也逐渐从单一向综合转变。比如，疫情期间，遍布乡村的应急广播，通过方言土语将防疫知识送到了田间地头，广播电视的“空中课堂”实现了“停课不停学”。此外，广播电视和网络视听行业服务“三农”、直播带货，推动了产品变产业、流量变销量。材料说明（

①文化产业的发展保障人民基本文化权益
 ②传播手段创新丰富了文化传播的价值内涵

③坚持以人民为中心发展文化事业

④社会主义精神文明建设推动物质文明建设

A. ①② B. ②③ C. ②④ D. ③④

21. 实践告诉我们，中国共产党为什么能，中国特色社会主义为什么好，归根到底是马克思主义行，是中国化时代化的马克思主义行。拥有马克思主义科学理论指导是我们党坚定理想信念、把握历史主动的根本所在。材料说明（ ）

①意识促进客观事物的发展，坚定理想信念

②坚持与时俱进，推动马克思主义中国化时代化

③立足马克思主义科学理论，把握历史主动

④意识具有能动的反作用，坚持马克思主义

A. ①④ B. ②③ C. ②④ D. ①②

22. 《关于推进国家公园建设若干财政政策的意见》明确了财政重点支持生态系统保护修复。意见强调要坚持以自然恢复为主、人工修复为辅，综合考虑生态系统完整性、自然地理单元连续性和经济社会发展可持续性，统筹推进山水林田湖草沙一体化保护和修复。加强森林、草原、湿地等自然资源管护，以及受损自然生态系统、自然遗迹保护和修复。推进国家公园建设的意见说明（ ）

①把人为事物联系转化为客观联系促进生态修复

②系统优化的方法是正确认识生态修复的基础

③把握联系多样性，分类分级因地制宜修复生态

④把握客观联系，建立新的联系，促进生态修复

A. ①③ B. ②③ C. ③④ D. ①④

23. 齐白石是我国著名的艺术大师，虾是白石笔下最写实的对象之一（如下图）。为表现出那种透视感，齐白石的线条有虚有实，简略得宜，似柔实刚，似断实连，直中有曲，乱

小有序，纸上之虾似在水中嬉戏游动，触须也像似动非动。齐白石这种“妙在似与不似之间”体现了（ ）

- ①矛盾同一性寓于斗争性之中 ②矛盾就是对立统一
~~③~~矛盾斗争性向同一性转化 ④在对立中把握统一
 A. ①② ~~B. ②③~~ C. ②④ ~~D. ①④~~



24. 在分封制下，各非周族群都以政治上的从周感超越了之前狭隘的“我族”心理与认知。或者说，周以分封制的形式建立的“单血缘支配的社会”超越了每一个族群中血缘组织的力量，贯彻了王权政治至高无上的理念。可见，分封制有利于（ ）

- A. 中央集权的建立 B. 遏制诸侯间的攻伐
 C. 君主专制的建立 D. 推动统一政治认同

25. 汉代儒家思想有了新的发展，这在铜镜铭文中也有体现：“朱氏明竟（镜）快人意，上有龙虎四时宜，常保二亲宜酒食，君宜官秩家大富，乐未央，宜牛羊。”材料意在强调（ ）

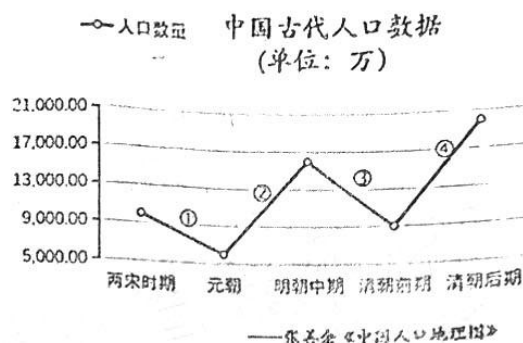
- A. 儒道思想在发展过程中的交流融合 B. 铜镜铭文为儒道思想传播提供土壤
~~C. 道家思想冲击儒家思想的正统地位~~ ~~D. 儒道思想的平行发展并没有交叉点~~

26. 在宋代士大夫的理想政治架构中，皇帝确实居于至高无上的地位，但是如孔子所言“居其所而众星拱之”，实际上处于“虚君”的地位，他最大的责任在于择相或者说任人，不负有实际的处理政事的责任，宰相和士大夫才是政治实践的真正主体和责任者。这反映了（ ）

- A. 皇权受到严重制约 B. 君权相权关系紧张
 C. 君士共治体制形成 D. 重文轻武局面出现

27. 如图为学者整理的两宋至明清中国人口变化示意图。以下关于人口变化原因的说法较为准确的是 ()

- A. ①阶段是中央集权强化的结果
- B. ②阶段是生产组织变革所导致
- C. ③阶段是国家分裂与动荡所致
- D. ④阶段得益于高产作物的推广



28. 有学者认为,“同光中兴”之所以成为可能,关键在于晚清权力结构在此期间发生了实质性变化,形成“区域化集中主义”的新格局。所谓区域化集中主义指的是 19 世纪 60 年代以后清朝中央与地方关系的重大调整。关于“实质性变化”下列说法正确的是 ()

- A. 中央对地方督抚控制的失效
- B. 地方督抚拥有更多的行事权
- C. 地方督抚独立清政府而独立
- D. 中央与地方平衡的丧失

29. 有学者认为,辛亥革命前十年间的“文明”观念具有以下内涵:它意味着历史进化原则支配下的、以“自由”和“法律”为中心的政治文明,但更意味着当时人不得不抗拒的强权主义,“文明排外”的呼声甚嚣尘上。该学者强调的是 ()

- A. 近代中国以西方为榜样进行政治改革
- B. 救亡危局下知识分子关注国家的命运
- C. 西方列强试图以文明的手段灭亡中国
- D. 时人追求自由法律为中心的政治文明

30. 1931 年 11 月 21 日,国民政府通过了“以国防为建设中心”的《国家初期建设方案》,准备以四年为期,进行全面的军事、经济、教育建设。在国民政府看来,采用集中的发展模式,即统制经济更有利于推进战争的准备工作。材料反映了 ()

- A. 统制经济与自由经济绝对对立
- B. 国民政府经济建设日益军事化
- C. 统制经济使官僚资本迅速膨胀
- D. 统制经济保证了战争取得胜利

31. 下表是 1990-2019 年我国初级产品、工业制成品的进出口占比情况,据此可知,我国 ()

年份	初级产品进出口贸易额		工业制成品进出口贸易额	
	出口占比 (%)	进口占比 (%)	出口占比 (%)	进口占比 (%)
1990	25.59	18.46	74.43	81.50
2019	5.43 ↓	32.86	94.57	67.14

- A. 对外贸易处于顺差地位
- B. 对外贸易日趋多元化
- C. 产业结构向高级化转变
- D. 积极参与经济全球化

32. 商品经济和国内政治环境决定了罗马法的特色, 诸如塞维尔帝和安多宁帝批复关于法律权威问题时说: “虽然朕不受法律束缚, 可是朕是遵照法律而生活的”; 查士丁尼在《法学阶梯》序言中也明确宣称: “皇帝的威严光荣不但依靠兵器, 而且须用法律来巩固”。材料反映了 ()
- A. 罗马法蕴涵了皇帝的色彩 B. 皇帝是罗马法发展的渊源
 C. 罗马法强化了皇帝的权威 D. 皇帝对罗马法的贡献最大
33. 卢梭在《论民主制》中明确指出, “就民主制这个名词的严格意义而言, 真正的民主制从来就不曾有过, 而且永远也不会有。多数人统治而少数人被统治, 那是违反自然秩序的。我们不能想象人民无休无止地开会来讨论公共事务”, “十全十美的政府是不适于人类的”。材料反映了卢梭反对 ()
- A. 社会契约 B. 直接民主 C. 民主共和 D. 自由平等
34. 在 17 世纪前期, 英国几乎每年均有粮食出口, 很少从国外进口粮食。但自 17 世纪中叶开始, 英国逐渐从粮食出口国转化为粮食进口国。19 世纪初, 进口在满足粮食需求方面变得越来越重要, 到 19 世纪中期, 进口占了消费的六分之一以上。出现上述现象主要是因为英国 ()
- A. 农业粮食歉收 B. 工业进程加速 C. 饮食结构改变 D. 产业结构失衡
35. 1973 年 7 月, 欧共体成员国在没有与美国进行协商的情况下, 通过了哥本哈根相关决议, 明确要求各成员国在未经共同体的允许下, 不得单方面与美国就跨大西洋关系进行协商对话。材料主要反映了 ()
- A. 美国西欧分道扬镳 B. 欧共体内部协调增强
 C. 西欧谋求独立自主 D. 西欧正挑战美国霸权

二、非选择题: 共 160 分。第 36~42 题为必考题, 每个试题考生都必须作答。第 43~47 题为选考题, 考生根据要求作答。

(一) 必考题: 共 135 分。

36. 阅读图文材料, 完成下列问题。(共 24 分)

材料一: 盐穴是在地下盐层或盐丘中采矿后形成的地下洞穴, 具有体积巨大、密封性好、裂缝自动愈合的特点。江苏金坛盐盆是我国主要的岩盐产地, 埋深 750-900 米, 目前有闲置盐穴 40 多个, 总体积超过 1000 万立方米。

材料二: 江苏常州金坛盐穴压缩空气储能电站依托清华大学非补燃压缩空气储能技术,

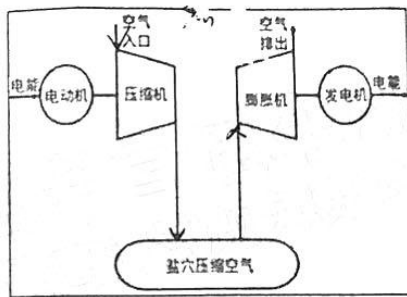

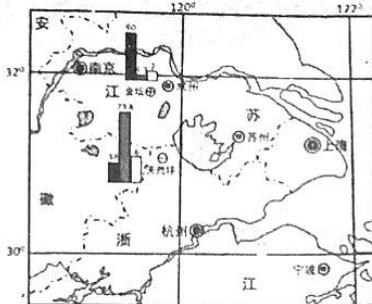
江西省上饶市六校 2023 届高三第三次联考

语文答题卡



历时两年建成世界首座非补燃式压缩空气储能电站，即不燃烧煤和天然气补燃压缩空气储能电站，2022年5月26日，并入国家电网投产。

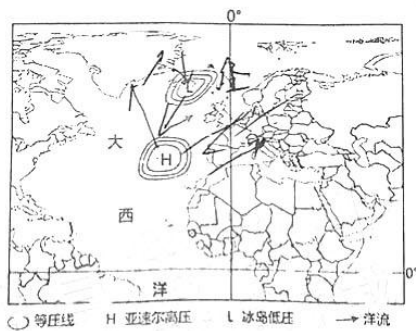
材料三：图左为华东电网部分区域示意图，图右为非补燃式压缩空气储能系统流程图。



- (1) 分析常州市金坛区适合修建非补燃式压缩空气储能电站的有利条件。(8分)
- (2) 与抽水蓄能电站相比，非补燃式压缩空气储能电站优点。(6分)
- (3) 分析该系统中压缩机与发电机的昼夜运行时间并说明原因。(4分)
- (4) 从碳减排的角度，分析发展非补燃式压缩空气储能电站的意义。(6分)

37. 阅读图文材料，完成下列问题。(共22分)

北大西洋涛动，指北大西洋上两个常年活动的气压中心(冰岛低压和亚速尔高压)之间气压差的变化过程，当冰岛低压与亚速尔高压之间气压差变大时，北大西洋涛动增强。北大西洋涛动的强弱显著影响北欧的气候和湖泊水文特征。皮海湖位于芬兰西南部，是气候变化最敏感的区域之一。近半个世纪以来，皮海湖的湖冰显著减少，封冻时间呈明显缩短趋势。研究发现，北大西洋涛动的增强和北欧地区气温的升高是导致皮海湖封冻时间缩短的主要原因，同时，太阳辐射、气温、风浪均可影响湖冰动态变化过程。下左图为北大西洋涛动示意图，下右图为芬兰皮海湖位置示意图。



- (1) 分析北大西洋涛动增强对皮海湖风浪大小的影响。(6分)
- (2) 分析近半个世纪以来皮海湖风浪变化导致湖冰数量减少的动力机制。(8分)
- (3) 简述湖冰数量减少与太阳辐射、气温之间的相互作用缩短皮海湖封冻时间的过程。(8分)

38. 阅读材料，回答下列问题。(14分)

2021年，我国一般贸易方式进出口占进出口总额的比重为61.6%，比2012年提升9.6个百分点；加工贸易进出口占比21.7%，比2012年下降13.1个百分点。2021年，我国市场采购出口9303.9亿元，跨境电商进出口1.98万亿元。

2021年，我国民营企业进出口额比2012年增长1.4倍，年均增长10.3%；占外贸总值的比重为48.9%，比2012年提升7.3个百分点。同时，我国外贸企业努力从“中国制造”向“中国智造”转型升级，具有自主品牌、自主知识产权、自主营销渠道以及高技术、高附加值、高效益出口商品占比不断提高。

2013—2021年，我国与“一带一路”沿线国家进出口总值年均增长7.5%，占同期我国外贸总值的比重从25.0%提升至29.7%。

从海南自由贸易港跨境服务贸易负面清单，到全国版跨境服务贸易负面清单；从国家服务贸易创新发展试点，到探索建设国家服务贸易创新发展示范区，服务贸易对外贸增长贡献度逐步提高。

结合材料，运用经济生活知识说明如何推动对外贸易高质量发展。(14分)

39. 阅读材料，回答下列问题。(12分)

近年来，在深入推进政务服务“一网、一门、一次”改革、“互联网+政务服务”的基础上，一些地区进一步加大改革创新力度，将多个部门相关联的“单项事”整合为企业和群众视角的“一件事”，推行集成化办理，实现“一件事一次办”，大幅减少办事环节、申请材料、办理时间和跑动次数，得到企业和群众的普遍认可。同时，各地区在实施过程中还存在系统对接深度不够，数据共享难，不同地区集成化办理服务的名称、标准、规则不一致等问题，制约了“一件事一次办”推广。

结合材料，运用政治生活知识说明政府如何加快推进“一件事一次办”，打造政务服务升级版。(12分)

40. 阅读材料，回答下列问题。(26分)

党的百年历史，既是百年现代化道路的艰辛探索史，也是中国共产党不断总结、积累现代化建设经验的历程。

在社会主义革命和建设时期，党带领人民在“四个现代化”的初步构想中曲折探索；在改革开放和社会主义现代化建设新时期，党带领人民走出了一条“中国式的现代化”的道路。在中国特色社会主义新时代，以习近平同志为主要代表的中国共产党人，将马克思主义基本原理与中国具体实际相结合、同中华优秀传统文化相结合，对中国特色社会主义现代化道路进行了创新与拓展，取得了举世瞩目的辉煌成就，中国式现代化进入到自觉、主动、变革的新境遇。

党的百年奋斗实践也是现代化的理论内涵不断拓展、实践品质不断创新的历程。一百年来，党领导人民进行伟大奋斗，积累了宝贵的历史经验，使得我们能够成功开创出中国式现代化新道路。

党领导人民成功走出中国式现代化道路，创造了人类文明新形态，拓展了发展中国家走向现代化的途径。

(1) 党的百年历史，是百年现代化道路的艰辛探索史。结合材料运用认识论相关知识对此加以说明。(12分)

(2) 运用文化与经济的关系知识，说明中国特色社会主义现代化道路的创新与拓展为什么要同中华优秀传统文化相结合。(10分)

(3) 新时代中国青年有自己的使命担当。在全面推进社会主义现代化的实践中，青年学生应有怎样的担当？某校以“奋进新征程，建功新时代”为主题开展演讲比赛，请你结合自己实际写一篇演讲稿。要求：不能透露个人信息，字数在150字以内。(4分)

41. 阅读材料，完成下列要求。(25分)

材料一 15世纪末至19世纪初英国农村经历了一场前所未有的“农业革命”。早期阶段从15世纪末至17世纪末，这一时期是敞田制解体之后，以乡绅为主体力量爆发的一场“农业生产和经营方式的变革”。晚期阶段从18世纪末至19世纪初，这一时期主要由议会立法强制性推进。这场革命率先开启英国农业现代化进程，而且在很大程度上构成了近代英国经济全面起飞的关键。

——摘编自李璐《浅析16-18世纪乡绅与英国农业经营方式革新》

材料二 现代中国农村的改革开始于20世纪70年代。1982-1986年，中央连续发布了5个一号文件，肯定了农村创造的经验，排除了阻碍生产力发展的思想和体制障碍。1982年元旦，中央一号文件批转《全国农村工作会议纪要》，明确规定：“集体经济要建立生产责任制也是长期不变的”；1985年，中央一号文件规定，“从今年起，除个别品种外，国家不再向农民下达农产品统购派购任务，按照不同情况，分别实行合同订购和市场收购”。

——摘编自《中央一号文件》

材料三 实现乡村振兴是中国式现代化的必然要求，确保粮食安全是乡村振兴战略的首要任务。在当前全球不确定性增加，外部环境发生深刻变化的复杂形势下，夯实农业基础，保障农产品供应是我国应对各种风险的“压舱石”和“稳定器”。我国农业现代化过程中仍存在诸多问题，因此要实现乡村振兴，就必须扭转农业比较收益低的现状，摆脱农业“小规模、高成本、低竞争力”的困境。

——摘编自武汉大学乡村振兴研究课题组《全面推动乡村振兴，确保粮食安全》

- (1) 根据材料一并结合所学知识，概括英国“农业革命”的背景。(8分)
- (2) 根据材料一、二并结合所学知识，分析中英两国推动农业现代化进程中的不同。(12分)
- (3) 根据以上材料并结合所学知识，谈谈你对当代中国农业现代化的认识。(5分)

党
研

42. 阅读材料，完成下列要求。(12分)

材料 1921年中国共产党的成立是中国政治发展史上的重大事件和转折点，在此后的政治实践中，中国共产党把马克思主义政党理论同中国具体实际相结合，不断调适和扭转政党政治发展走向，将之逐步引向社会主义民主政治轨道，使之适应我国政治发展的实际需求。中国共产党成立后，积极探索符合中国国情的政党制度，其历程可以划分为四个时期：初步探索时期、正式确立与曲折发展时期、恢复与制度化时期和完善成熟时期。在百年发展历程中，中国共产党探索新型政党制度建设积累了宝贵经验。

——摘编自孙文飞，王立峰《中国共产党探索新型政党制度的基本经验与新的实践要求》

探索中国共产党成立以来政党制度建设进程，结合相关史实，撰写一篇历史演讲稿。(要求：主题清晰，逻辑严密，史论结合，表述成文。)

(二) 选考题：共25分。请考生从2道地理题、3道历史题中每科任选一题作答。如果多做，则每科按所做的第一题计分。

43. [地理—选修3：旅游地理] (10分)

婺源建于唐朝开元28年，是江西省一个历史悠久的古县。婺源境内林木葱郁、峰峦叠嶂、峡谷深秀、溪流潺潺，奇峰、怪石、古树及多个生态保护小区构成了婺源美丽的自然景观。这里民风纯朴，文风鼎盛，名胜古迹遍布全县。晒秋人家篁岭、小桥流水人家李坑、乡居人家严田古樟、宋代廊桥绝版彩虹桥……有保持完整的明清古建筑，有田园牧歌式的氛围和景色，吸引无数游客纷至沓来，江西婺源古村落被评选为中国最美六大乡村古镇之一。下图为婺源旅游交通游览图。



分析婺源的旅游价值及旅游资源开发的有利条件。

44. [地理——选修6: 环境保护] (10分)

近期浒苔绿潮在山东日照和青岛登陆,这也是从2007年以来浒苔绿潮连续16年暴发并在山东省南部沿海登陆,且影响到山东近海生态环境、安全生产和沿岸居民生活。

浒苔是一类绿藻,体形呈管状,有时分枝,看上去如同细丝或细枝,单独一株仅约10厘米长。当许多植株聚集在一起,就像一片一片凌乱的头发,会形成“绿潮”,遮蔽水面光线、阻隔氧气交换,对水下的生态系统产生不利影响。

请指出浒苔大量爆发对海洋生态环境的主要危害,并为防治浒苔大量爆发提出合理化建议。

45. [历史——选修1: 历史上重大改革回眸] (15分)

材料 中国古代思想家有诸多朴素的收入分配思想。孔子曾提出:“丘也闻有国有家者,不患寡而患不均,不患贫而患不安。盖均无贫,和无寡,安无倾”的观点,其中,“不患寡而患不均”是一个非常重要的思想。孟子的收入分配思想以施行“仁政”为核心,认为统治阶级“不以仁政、不能平天下”,孟子认为,“民之为道也,有恒产者有恒心,无恒产者无恒心,苟无恒产,放辟邪侈,无不为已。”韩非子主张通过严格的赏罚措施实现社会财富增长目标。韩非子认为社会中存在贫富差别是合理的,同时呼吁减轻民众的徭役,认为应实行“论其赋税以均贫富”的财税政策。韩非子的见解从主观上看是为维护中央集权服务的,但是减轻徭役也确实可以增加民众的收入。

——孙浩进《中国古代及近代收入分配思想评析》

(1) 根据材料并结合所学知识,简析先秦思想家关于财富分配的主张及评价。(10分)

(2) 根据材料并结合所学知识,说明先秦思想家关于财富分配主张的现实启示。(5分)

46. [历史——选修3: 20世纪的战争与和平] (15分)

材料 1990年8月2日伊拉克入侵科威特,引发了海湾危机。美国以“维护正义”和“解放科威特”为名,组建多国部队对伊拉克发动了海湾战争。海湾战争是冷战后规模最大、参战国最多的局部战争。战争分为两个阶段。第一阶段是实施空中战役,代号为“沙漠风暴”。在38天的空袭中,多国部队出动飞机近10万架次,投弹9万多吨,发射各类导弹和精确制导炸弹数百枚,使伊拉克军队丧失大部分战斗力。第二阶段实施地面进攻,代

号为“沙漠军刀”，不到100小时便结束。整场战争仅持续42天，联盟军队以极小的代价取得决定性胜利，重创伊拉克军队。在战争中，美军首次将大量高科技武器投入实战，向全世界展示其压倒性的制空、制电磁优势。海湾战争不仅触动和影响了冷战后的国际政治格局，也改变了世界军事发展的轨迹，开启了信息化战争的新时代。

——摘编自李成刚《冷战结束后的局部战争——海湾战争（上）》

- (1) 根据材料并结合所学知识，概括海湾战争的特点。(6分)
- (2) 根据材料并结合所学知识，简述海湾战争的影响。(9分)

47. [历史——选修4：中外历史人物评说] (15分)

材料 彭玉麟(1816-1890)湘军的重要将领，他生于国家内忧外患之时，自幼学习孔孟之道，使得忠君报国成为其所提倡的军人价值观。道光二十九年(1849年)，参与平定李元发起义。咸丰三年(1853年)，他又受曾国藩之邀加入湘军，从此为国为民，戎马半生。在军人修养方面，将儒家的齐家之道用于强军之中，将孝悌视为人伦之本。彭玉麟熟读儒家经典，深知仁义对治兵的重要性，主张义战，强调师出有名。在执掌军权之后，更加注重军民关系的处理以及民力之运用。明确了军队应当担起保民护民之责任，不得图民之利。他还认为战争并不是单纯的调兵设防，而是国家综合力量的比较，故领兵作战，需有全局观念。他以此思想为指导，试图建立一支强大的军队，抵御外侮，护国保民。

——摘编自施继州《彭玉麟军事伦理思想研究》

- (1) 根据材料并结合所学知识，简析彭玉麟军事伦理思想产生的背景。(5分)
- (2) 根据材料并结合所学知识，概括彭玉麟军事伦理思想的内容。(10分)

关于我们

自主选拔在线是致力于提供新高考生涯规划、强基计划、综合评价、三位一体、学科竞赛等政策资讯的升学服务平台。总部坐落于北京，旗下拥有网站（[网址: www.zizzs.com](http://www.zizzs.com)）和微信公众平台等媒体矩阵，用户群体涵盖全国90%以上的重点中学师生及家长，在全国新高考、自主选拔领域首屈一指。

如需第一时间获取相关资讯及备考指南，请关注**自主选拔在线**官方微信号：**zizzsw**。



 微信搜一搜

 自主选拔在线