

百师联盟 2021 届高三一轮复习联考卷(五) 全国卷

文科综合

注意事项:

1. 答卷前, 考生务必将自己的姓名、考生号等填写在答题卡上。
2. 回答选择题时, 选出每小题答案后, 用铅笔把答题卡上对应题目的答案标号涂黑。如需改动, 用橡皮擦干净后, 再选涂其他答案标号。回答非选择题时, 将答案写在答题卡上。写在本试卷上无效。
3. 考试结束后, 将本试卷和答题卡一并交回。

考试时间 150 分钟, 满分 300 分

一、选择题: 本题共 35 小题, 每小题 4 分, 共 140 分。在每小题给出的四个选项中, 只有一项是最符合题目要求的。

井冈山(26°13'~26°52'N, 113°59'~114°18'E)地处湘赣边界, 方圆数百千米, 在漫长的地质年代中, 岩性软硬不同的岩石分别演化成“井”和“冈”地貌, 形成岗岭、盆地相间的地貌格局。图 1 是井冈山地貌景观图。据此完成 1~2 题。



图 1

1. “井”和“冈”地貌形成的地质基础是
A. 流水侵蚀作用强
B. 硬度不同的岩石成层分布
C. 岩浆活动频繁多发
D. 褶皱与断层构造发育
2. 在农业生产方面, 井冈山地区适宜发展
A. 耕作业
B. 畜牧业
C. 立体农业
D. 灌溉农业

我国是频受台风影响的国家。图 2 为 2018 年 9 月 16 日 17 时台风“山竹”登陆我国华南地区时海平面等压线(单位: hPa)分布图。据此完成 3~5 题。

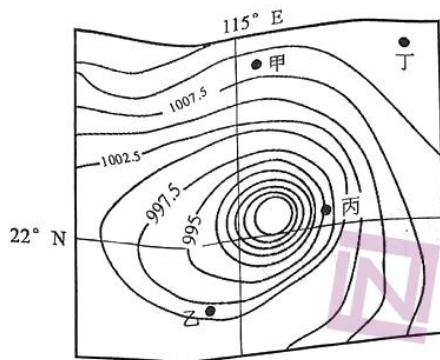


图 2

3. 在图示时段，“山竹”的移动方向大致为 **A** .
 A. 东北方向 B. 西南方向 C. 西北方向 D. 东南方向
4. 图中甲、乙、丙、丁四地，在“山竹”影响下降水最少的是 **D**
 A. 甲 B. 乙 C. 丙 D. 丁
5. 近 50 年来，影响我国的台风频率增多，影响范围增大，可能的原因是 **D**.
 A. 太阳活动增多 B. 大洋环流异常
 C. 火山喷发强烈 D. 全球气候变暖

“天、地、人”三个字中蕴含着几千年来中国人的精神密码。在天地之中爱人，在田园中构建美好生活聚落，是真正的人间乐土。图 3 为我国南方地区某村落景观。据此完成 6~7 题。




图 3

6. 图示村落的有利区位条件有 **D**.
 ①交通便利，利于对外联系
 ②周围植物茂盛，能够有效防御水土流失、山洪、泥石流、滑坡等自然灾害
 ③物产富饶，农业发达
 ④位于山地缓坡，地势平坦，节省建筑投资
 A. ①② B. ③④ C. ①③ D. ②④
7. 该村落位于 **A**
 A. 向阳坡 B. 向阴坡 C. 陡坡 D. 凸坡

向日葵原产北美，种子含油量很高，喜温耐寒、耐旱、耐盐碱，在阳光充足、潮湿的地



区生长最好。向日葵植株高大，叶多而密，是耗水较多的作物。新疆阿勒泰地区出产的“顶山食葵”瓜子，是国家地理标志产品，具有颗粒饱满、口感清香等特点，远销海内外。近年来，阿勒泰地区食葵种植面积快速增加。图4为阿勒泰区域图和气候数据统计图。据此完成8~9题。

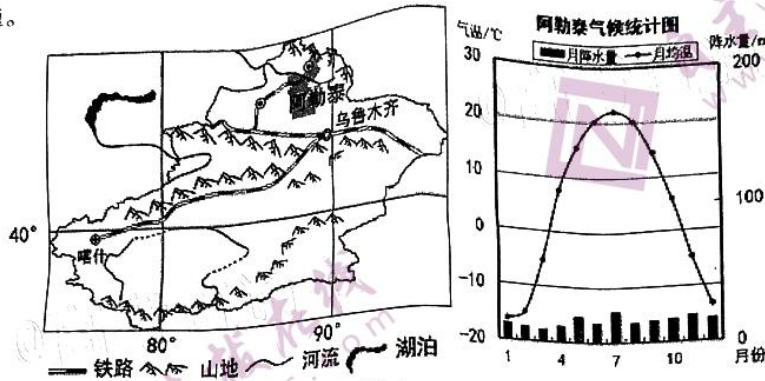


图4

8. 阿勒泰地区种植向日葵的有利气候条件是 **A**.
- A. 位于山地迎风坡，空气湿度大
 - B. 山脉阻挡，冬季风影响小
 - C. 地处河谷地带，风力微弱
 - D. 夏季光热充足，气温日较差大
9. 阿勒泰地区的食葵能够远销海内外，主要依靠的是 **D**.
- A. 生产规模大，产量较高
 - B. 口感出众，品质优良
 - C. 劳动力丰富，生产成本低
 - D. 专用交通线连接世界各地

蒙内铁路连接肯尼亚首都内罗毕和东非第一大港蒙巴萨港，是一条采用中国标准、中国技术、中国装备建造的现代化铁路，全长480千米，沿线建设桥梁79座、涵洞100多座。蒙内铁路是肯尼亚独立以来最大的基础设施建设项目，也是肯尼亚实现2030年国家发展愿景的“旗舰工程”。图5为蒙内铁路线路示意图。据此完成10~11题。

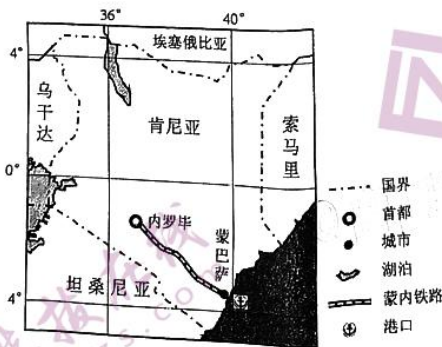
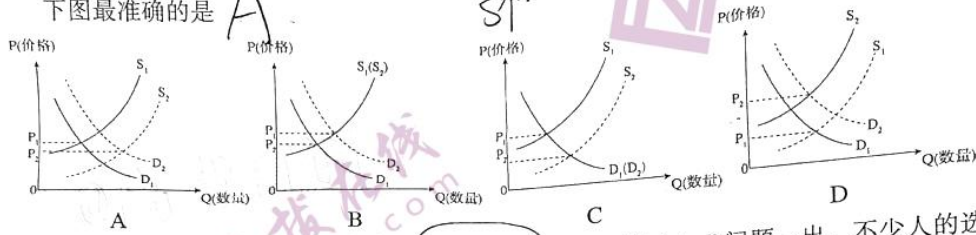


图5

10. 蒙内铁路建设过程中，需要克服的自然障碍有 **A**.
- ①山高谷深，地质构造复杂 ✓
 - ②河流纵横，水流湍急
 - ③地处东非大裂谷，火山喷发频繁 ✓
 - ④自然保护区多且面积大 ✓



11. 蒙内铁路的开通, 带来了产业布局变化, 下列产业适宜在蒙内铁路沿线布局的是 **B**
 A. 采矿业 B. 制造业 C. ①② D. ③④
 12. 2020年下半年, 尽管经济前景充满不确定性, 但全球经济持续复苏, 对原油的需求增加。与此同时, 某些欧佩克成员国的产油量超过了配额, 国际原油价格持续低迷。在不考虑其他因素的情况下, 若用供求曲线来反映这一现象 (D表示需求曲线, S表示供给曲线), 下图最准确的是 **A**



13. 2020年的国庆假期中产生了许多消费新热点。“假期玩什么?”问题一出, 不少人的选择就是手机搜索一番。美团APP搜索大数据显示, 在互联网信息影响下, 人们都越来越喜欢“新奇特”的玩法, 其中轰趴、密室、VR游戏、汉服体验等服务订单同比增幅十分明显, 国庆假期前预订“新奇特”体验的订单量同比增长58%, 而且越来越多的人线上“种草”、线下“打卡”、线上分享, 推动了消费的新循环。这说明 **C**

- ①求异心理引发的消费已经成为消费的主流
 ②企业要注重产品设计的创新性和生产制作的个性化
 ③消费所形成的新需要, 对生产的调整和升级起着导向作用
 ④生产决定消费, 互联网的广泛应用决定了消费的对象不断变化
 A. ①② B. ①④ C. ②③ D. ③④

14. 河北省崇礼县上三道河村蔬菜产业远近闻名。在政府的引导下, 有的农民不仅利用自家耕地, 还通过流转别人的耕地, 种植蔬菜, 几年下来, 收入翻了好几倍。为了开拓市场, 村里成立了崇河农业开发有限公司, 建起恒温库、蔬菜加工车间、交易大厅, 向蔬菜深加工、贮存、集散发展, 不少村民利用蔬菜种植淡季在公司打短工, 每人每天能挣100元。三道河村的发展模式有利于 **B**

- ①完善我国基本经济制度, 增加农民的收入
 ②改变生产资料集体所有, 保障农民财产权益
 ③丰富集体经济形式, 促进农村经济的多元化
 ④完善再分配调节机制, 缩小收入分配差距
 A. ①② B. ①③ C. ②④ D. ③④

15. 2020年9月5日, 中国国际服务贸易交易会在北京拉开帷幕。本届服贸会的主题是“全球服务, 互惠共享”, 它吸引了148个国家和地区的1.8万家企业和机构, 共有10万人注册参展参会。本届服贸会上, 科技感、未来感、互动感扑面而来, 5G技术、人工智能、虚拟现实触手可及。当前全球范围疫情尚未得到全面控制, 各国都面临着抗疫情、稳经济、



保民生的艰巨任务。在这一背景下，中国克服重重困难，举办这样一场重大国际经贸活动有利于 D。

- ①制定公平的国际贸易交往准则，消除“数字鸿沟”
- ②进一步彰显中国对外开放坚定的信心，用开放促改革、促发展、促创新
- ③进一步促进中国开放型经济发展，推动货物贸易转型升级
- ④促进全球服务贸易发展繁荣，推动世界经济尽快复苏

- A. ①② B. ①③ C. ②④ D. ③④

16. 区块链是一个分布式的共享账本和数据库，具有去中心化、不可篡改、全程留痕、可以追溯等特点。某街道小区积极探索“区块链+社会治理”模式，开发了小区自治应用平台，利用区块链分布式记账的特性，实时公布小区费用收支情况和其他通知公告，还应用于物业费使用审批、业委会选举管理、租房登记、维修基金管理等方面，每位居民通过平台都能及时收到信息。从中我们可以看出区块链技术引入小区自治有助于 C。

- ①解决社区治理中出现的问题，促进社会和谐
- ②保障居民的知情权、参与权、表达权、监督权
- ③引导小区居民自主制定和完善社区规定或约定
- ④创新基层群众性自治组织形式，实现社会治理共建共治共享

- A. ①② B. ①③ C. ②④ D. ③④

17. 2020年9月24日，河北省十三届人大常委会第十九次会议审议通过了《河北省人民代表大会常务委员会关于厉行节约、反对餐饮浪费的规定》（以下简称《规定》），并将于2020年11月1日起实施。这是国内首部专门规范厉行节约、反对餐饮浪费的省级地方性法规。《规定》中提出：县级以上人民政府应当加强组织领导，建立健全工作机制，制定具体实施方案，做好厉行节约、反对餐饮浪费监督管理工作。这反映出 C。

- ①省级人大常委会作为国家立法机关行使决定权
- ②政府作为人大的职能部门坚持对人大负责原则
- ③我国人民代表大会制度的组织和活动原则
- ④省级人大常委会行使地方立法权

- A. ①② B. ①④ C. ②③ D. ③④

18. 2020年9月11日，经过数月磋商，第74届联合国大会以169票赞成、2票反对的压倒性多数，通过了呼吁“加强国际合作与团结互助”应对新冠病毒全球大流行的决议。这说明 D。

- ①决议限制了联合国会员国的主权
- ②构建人类命运共同体的理念得到了世界各国的接纳
- ③只有秉持人类命运共同体理念，才能打赢疫情防控全球阻击战
- ④各国加强团结合作，才能维护人类的根本利益

- A. ①② B. ①④ C. ②③ D. ③④

19. 2020年是紫禁城（图6）建成600年，又是故宫博物院成立95周年，紫禁城既是中华民族的骄傲，也是全人类的珍贵文化遗产。紫禁城在中华儿女心目中的崇高地位表明 B。



图6

- ①文化遗产是国家和民族历史文化成就的重要标志
- ②既要尊重本民族文化，又要认同其他民族文化
- ③文化遗产是一个民族文明程度的重要标志之一
- ④传统建筑是展现中国传统文化的重要标志

A. ①②

B. ①④

C. ②③

D. ③④

20. 2020年9月8日，全国抗击新冠肺炎疫情表彰大会在北京人民大会堂隆重举行。由于在抗击新冠肺炎疫情中的杰出贡献，84岁的钟南山荣获“共和国勋章”。在未知的疫情面前，钟南山再次逆行的精神感动着无数中国人，而他在医学上的孜孜不倦同样激励着广大的青年人。钟南山的事迹给广大青年人的启示是

- ①优先提高自身科学文化修养
- ②人的思想境界取决于其科学文化水平
- ③既要增强思想道德修养，又要提升科学文化修养
- ④筑牢理想信念，把学习成果转化为坚定的意志和自觉的行动

A. ①②

B. ①④

C. ②③

D. ③④

21. 1960年5月25日，中国登山队队员登顶世界最高峰珠穆朗玛峰，中国人的足迹第一次留在世界之巅；1975年5月27日，中国登山队9名队员成功登顶珠峰；2005年5月22日，中国珠穆朗玛峰登山测量队成功登顶；2020年5月27日，中国高程测量登山队队员再一次站在珠峰峰顶……为什么每次都是选择5月登顶？主要原因与珠峰的气候特点有关：对流层风速的变化、雨季与风季的交替，使得登顶时间稍选不慎，就会失去良机。这给我们的启示是

- ①人们的实践活动受客观规律和客观条件的制约
- ②规律是客观的，人们可以改造和改变规律
- ③发挥主观能动性，尊重和利用规律是成功的关键
- ④规律的存在和发生作用是无条件的

A. ①②

B. ①③

C. ②④

D. ③④

22. 2020年9月30日，在联合国生物多样性峰会上，习近平主席提出“万物并育而不相害，道并行而不相悖”。这体现的不仅仅是对生物多样性的观照，更传递出对人类社会未来走向的深邃思考。我们从中悟出的哲理是

- ①矛盾着的事物相互依赖，共处于一个统一体中
- ②任何事物都有优劣之分，坚持一分为二看问题



- ③矛盾的特殊性寓于普遍性中，并通过特殊性表现出来
④天地万物相互依存和支撑，构成一个有机联系的整体
- A. ①② B. ①④ C. ②③ D. ③④
23. 2020年10月7日，是国务院批准设立厦门经济特区40周年纪念日。改革开放40年来，厦门始终弘扬“敢闯敢试、先行先试”的特区精神，勇立改革开放潮头。经济特区设立以来，厦门大刀阔斧推行机构改革，在全国率先实行大部委制，简化企业审批、放权给企业，促进了厦门地区发展速度、质量、效益居全国前列。从唯物史观角度看，这体现出
- ①社会意识具有相对独立性
②生产关系一定要适合生产力状况的规律
③上层建筑一定要适合经济基础状况的规律
④改革是推动人类社会发展的直接动力
- A. ①② B. ①③ C. ②④ D. ③④
24. 春秋时期思想学术出现新发展：从重“神”向重“人”发展、从“德治”向“礼制”演化、从“天人合一”向“天道”“人道”相分嬗变，贵族卿大夫更注重“礼”所具有的社会规范作用。这些变化实质上表明
- A. 人文主义的觉醒 B. 礼乐制度的恢复
C. 诸子思想的融合 D. 社会秩序的重构
25. 从秦汉至清，北方内迁的族裔特别重视谱系建构，或是谱系重建（缺漏的部分重建），或是谱系嫁接（攀附为某个显赫或久远的汉人），或排行攀附（联宗、合族）。这些谱系重建活动
- A. 具有民族认同和民族交融的重要意义
B. 表明血缘是连接家族民族的重要纽带
C. 壮大地方豪强势力导致中央权力下移
D. 源于北方少数民族封建化的内在需求
26. 两汉时期正史中尚无褒扬忠节的类传，所凸显的是“义”，南北朝到唐初出现了“忠”“孝”合传，孝先于忠；宋朝以来开创性的以“不事二君”作为入传（忠义传）的标准。这表明
- A. 儒学地位不断提高 B. 国家重视价值导向
C. 中央集权不断强化 D. 家国一体深入人心
27. 王阳明说：“求诸心而得，虽其言之非出于孔子者，亦不敢以为非也；求诸心而不得，虽其言之出于孔子者，亦不敢以为是也。”这一观点
- A. 是西学东渐交流融合的产物 B. 揭露了道学家的虚伪面纱
C. 隐含了平等和叛逆色彩 D. 推动社会主流思想的转变
28. 19世纪中期，某派学者认为：“创设局厂，铸枪炮，造舟舰，‘非不可行，而行之当无徒袭其皮毛’”“凡一国家，如同一个生物体，既有其‘肺腑’，也有其‘皮毛’，前者为本，后者为末。”这一主张
- A. 奠定了民主共和国的理论基础 B. 向“西方学习”上升到思想层面
C. 开启了中国近代化进程 D. 反映了新兴阶级的时代诉求



29. 20世纪20年代前期,江苏无锡地区桑地面积约占耕地面积的30%左右,30年代前后,该地区桑地面积不断下降,到1936年仅占17.89%。与这一变化密切相关的因素是 **B**。
- A. 民族资本主义日渐萎缩
B. 中国与国际市场的联系不断加深
C. 土地革命发展农业生产
D. 日本局部侵华导致国内局势动荡
30. 五四运动以后,“军阀”逐渐成为贬义的“热词”。舆论对军阀问题的讨论涉及军阀现象之表现、军阀问题之解决方略、军阀之成因等。这种追讨式的讨论 **C**。
- A. 有利于北洋政府加强中央集权
B. 为“工农武装割据”创造条件
C. 有利于国民大革命运动的展开
D. 反映出民主政治的进一步发展
31. 至1951年5月,与新中国建立的 **19** 个国家主要是 **欧亚人民民主国家**; 1954年9月至1956年,挪威等11国与中国 **建立** 了 **平等** 大使级外交关系。这一现象 **B**。
- A. 为中国打开了世界市场
B. 归功于外交政策的调整
C. 开创了外交领域新局面
D. 使中国冲破了两极格局
32. 证人面前所作的口头协议,在罗马最初比书面协议更受尊重,但到公元200年后,从前订契约所必备的证人或庄重仪式已无必要,只要是 **明确** 的契约,法律都予以承认。这一变化 **D**。
- A. 说明法律形式重于内容
B. 受到自然法理念的影响
C. 杜绝商品交换中的欺诈行为
D. 体现了罗马法的务实性
33. 马丁·路德说,基督徒乃是全然自由的,是万物的主宰,不需要听命于任何人。这一观点 **A**。
- A. 冲破了基督教神学的束缚
B. 体现了因行称义的必然性
C. 反映了人文主义的时代性
D. 表明“人是万物的尺度”
34. 美国在独立后不久就遭遇债务危机,中央政府全部接收各个州的地方债务,并成立财政部,以中央政府的信用为担保发行新的国债,用筹来的资金偿还各州之前欠下的债务。这种“私债”转换为“国债”的做法 **B**。
- A. 标志着邦联体制的确立
B. 是资本主义生产关系的局部调整
C. 体现了共和主义的传统
D. 一定程度扩大了联邦政府的权力
35. 在1945年英国大选中,工党在其历史上首次以明显优势赢得了议会多数席位,随后进行改革。1949年,普里斯特利说道:“我们是社会主义的君主国,这才是自由主义真正的最后一座纪念碑。”对此理解正确的是 **B**。
- A. 英国社会主义运动高涨
B. 国有化进程改变英国社会性质
C. 福利国家建设得到认可
D. 自由主义经济思想在英国兴起

二、非选择题:共160分,第36~42题为必考题,每个试题考生都必须作答。第43~47题为选考题,考生根据要求作答。

(一)必考题:共135分。

36. 阅读材料,回答下列问题。(24分)

三江平原湿地众多,是中国重要的生态功能区,平原内耕地面积广大,人均耕地面积大致相当于全国人均水平的5倍。近年来,三江平原一直致力于发展生态高效的绿色农业。图7为三江平原湿地分布图。

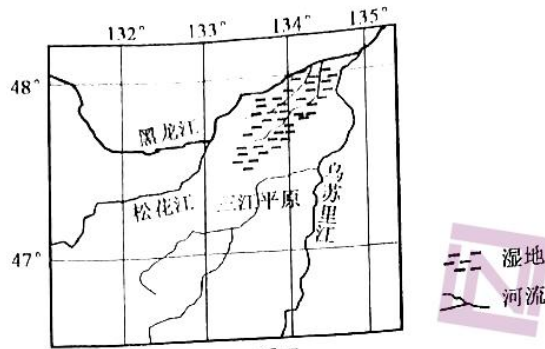


图 7

- (1) 分析三江平原湿地广布的主要原因。(8分)
- (2) 指出三江平原湿地为当地农业生产提供的重要自然资源。(4分)
- (3) 分析三江平原发展耕作业的不利气候条件。(6分)
- (4) 阐释三江平原促进绿色农业发展的有利区位条件。(6分)

37. 阅读材料, 回答下列问题。(22分)

卢旺达是一个以农业为主的国家。近年来, 卢旺达工业化进程加快。位于卢旺达首都基加利经济特区的中资企业 C&H 是目前该国最大的服装生产企业, 也是第一个服装出口企业。该企业现有员工 1500 人, 绝大多数是卢旺达人, 生产的休闲装、运动装和一些时装产品主要出口欧美市场。卢旺达的治安环境位居非洲第一, 首都基加利被认为是非洲最安全的首都之一。图 8 示意卢旺达位置。

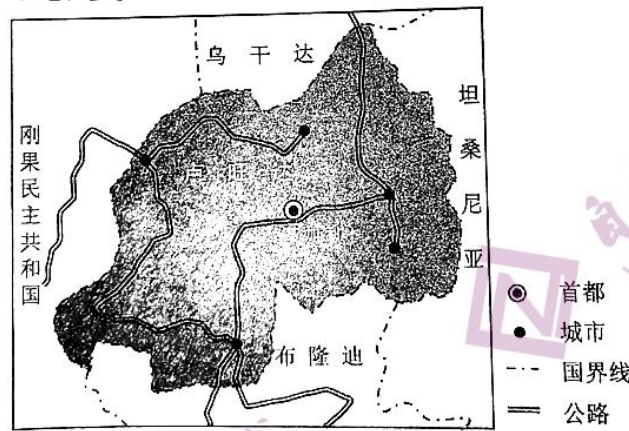


图 8

- (1) 阐释 C&H 服装企业布局于基加利经济特区的区位优势。(8分)
- (2) 分析 C&H 服装企业员工本土化给当地带来的社会效益。(6分)
- (3) 说明卢旺达近年来在产业发展中比较重视服装产业发展的主要原因。(8分)

38. 阅读材料, 回答下列问题。(14分)

2020 年是全面建成小康社会的决胜之年。农业强不强、农村美不美、农民富不富, 决



定着全面建成小康社会的成色和社会主义现代化的质量。

材料一

我国农业现代化情况（2019年）（数据来源：国家统计局）

| 农作物耕种收综合机械化率 | 节水灌溉面积 | 国家财政对农林水投入 | 农业温室面积 | 农产品进出口贸易 |
|--------------|--------|------------------------------|------------------------|---------------------|
| 超过70% | 5.42亿亩 | 21085.59亿元 (比2007年增长5.2倍) | 196.37公顷(比2001年增长2.2倍) | 2300.7亿美元(同比增长5.7%) |

注：目前发达国家农业机械化水平普遍在90%以上。

材料二

2020年9月22-24日，全国新农民新业态创业创新大会在江苏省南京市召开。与往届相比，今年的大会有三个主要特点：一是突出农民工返乡创业。着力推介一批农民工创新创业典型，交流农民工创新创业经验做法、激发农民工创新创业活力。二是汇聚新业态创新类型。充分展示当下农村电商、网红直播、县长带货、加工农产品创意评选等创新创业类型。三是搭建新农民创业平台。引导新农民与投资、融资、科技、市场、信息等主体深入沟通，洽谈合作事宜，促进商贸投资；通过项目创意大赛，开展导师专家“点对点”指导，强化创业服务和创业培训，创新指导服务方式。

(1) 概括材料一包含的经济信息。(4分)

(2) 结合材料二并运用经济生活知识，说明(农民新业态创业创新)对推动(农业现代化)发展的积极意义。(10分)

39. 阅读材料，回答下列问题。(12分)

十九大以来，中国共产党开启全面建设社会主义现代化国家的新征程。

2017年10月18日，中国共产党第十九次全国代表大会在北京召开，习近平总书记向大会作了题为《决胜全面建成小康社会夺取新时代中国特色社会主义伟大胜利》的报告。

2018年1月19日，中国共产党第十九届中央委员会第二次全体会议审议通过了《中共中央关于修改宪法部分内容的建议》。

2018年2月26日，中国共产党第十九届中央委员会第三次全体会议讨论《深化党和国家机构改革方案》稿。

2019年10月28日，中国共产党第十九届中央委员会第四次全体会议在京召开，讨论《中共中央关于坚持和完善中国特色社会主义制度、推进国家治理体系和治理能力现代化若干重大问题的决定》。

2020年10月26日，中国共产党第十九届中央委员会第五次全体会议在京召开，主要议程是研究关于制定国民经济和社会发展第十四个五年规划和二〇三五年远景目标的建议。大会召开之前在社会上广泛征集各界人士、群众的意见，推动“十四五”规划编制顺应民意。

结合材料运用政治生活知识，说明在全面建设社会主义现代化国家新征程中，(中国共产党)是如何发挥作用的。(12分)

40. 阅读材料，回答下列问题。(26分)

2020年9月8日，全国抗击新冠肺炎疫情表彰大会在北京举行。在这次举世瞩目的大



会上，习近平总书记首次全面阐述伟大抗疫精神：生命至上、举国同心、舍生忘死、尊重科学、命运与共。习近平说：我们坚持人民至上、生命至上，以坚定果敢的勇气和坚忍不拔的决心，同时间赛跑、与病魔较量，最终夺取了全国抗疫斗争重大战略成果。在此基础上，我们统筹推进疫情防控和经济社会发展工作，抓紧恢复生产生活秩序，取得显著成效。

抗击新冠肺炎疫情斗争取得重大战略成果，极大增强了全党全国各族人民的自信心和自豪感、凝聚力和向心力，必将激励我们在新时代新征程上披荆斩棘、奋勇前进。习近平强调，伟大抗疫精神，同中华民族长期形成的特质禀赋和文化基因一脉相承，是爱国主义、集体主义、社会主义精神的传承和发展，是中国精神的生动诠释，丰富了民族精神和时代精神的内涵。我们要在全社会大力弘扬伟大抗疫精神，使之转化为全面建设社会主义现代化国家、实现中华民族伟大复兴的强大力量。

(1) 结合材料运用意识能动作用的知识，说明抗疫精神在战胜新冠疫情中是如何发挥作用的。(10分)

(2) 抗击新冠肺炎疫情斗争取得重大战略成果，极大增强了全党全国各族人民的自信心。结合材料并运用文化生活知识，说明弘扬伟大抗疫精神对于坚定文化自信的作用。(12分)

(3) 2020年是不平凡的一年，中国人民在许多领域取得了突出的成就，也铸就了弥足珍贵的“抗疫精神”、“新北斗精神”等，而进一步弘扬这些精神需要每一个人的努力。从个人角度来看，请就如何进一步弘扬这些精神提出两条建议。(4分)

41. 阅读材料，回答下列问题。(25分)

材料一

清代手工业行业的雇佣关系进一步发展。商人作坊主与所雇用的工匠发生工资争议被称为“商匠争端”。作坊主与工匠常因工资纠纷而对簿公堂，政府对工匠的增资要求并非一概禁止。如康熙九年，苏州知府为布商与踹匠制订了“照旧例，每匹纹银一分一厘”的工资标准，并要求双方遵守。并且在康熙三十二年，清政府将踹匠工资的规定刊刻在苏州当地的“皇华亭”上。对于“商匠争议”，政府会代为规定工资标准和发放方式的相关规定，甚至规定商人作坊主所支付的工资形式，这些在一定程度上保障了工匠的权益。……但清代中央与地方政府皆对社会上的“齐行”“叫歇”等罢工事件特别重视，对于罢工，官府例有禁令。

但政府对踹匠罢工的防范较严格、惩处也比较严厉，“如纠众停工，请予照律问拟之外，枷号两个月”。

——据邱澎生《由苏州经商冲突事件看清代前期的官商关系》等

材料二

在手工工场时期，英国政府出台了一系列旨在化解劳资冲突的法令，如《劳工法令》《主仆法》等，并授权治安法官予以推行，对劳资关系进行家长式管控。19世纪上半叶，在英因煤炭、纺织、制陶等行业出现劳资纠纷后，劳资双方不再诉诸治安法官或地方官员，而是自发组建起临时性仲裁与调解委员会，通过劳资双方平等参与、共同协商谈判方式，处理日常各类劳资争议或冲突，到19世纪60年代英国各地各行业纷纷建立起类似的集体谈判机构。此间英国政府曾出台几部仲裁法案，如《调解委员会法》与《仲裁法》，力图对民间仲裁加以规范与管控，但因违背民间冲突化解的自愿原则，因而在实践中沦为—纸空文。19、



20 世纪之交，随着劳资冲突规模的扩大，集体谈判的层级的不断升级，民间自愿主义集体谈判已难以适应新形势，1896 年，在对民间集体谈判实践深入调查基础之上，英国颁布《调解法》，该法案在认可民间谈判自愿原则的同时，适当凸显国家干预在冲突化解中的作用……英国经过长期摸索而开创的集体谈判制，被公认为劳资关系领域一项重大的“社会发明”，在 21 世纪的今天依然是市场经济国家调整劳资关系的重要制度形式。

——摘编自刘金源《从家长制管控到集体谈判——近代英国劳资冲突化解之道》

(1) 根据材料一、二并结合所学知识，归纳 17 世纪中英两国在处理劳资纠纷上有何异同，并简要分析清代处理“商匠争端”的作用。(12 分)

(2) 根据材料二并结合所学知识，概括 19—20 世纪英国化解劳资冲突有何变化，并简要分析其成因。(10 分)

(3) 根据上述材料并结合所学知识，谈谈你对化解劳资冲突的认识。(3 分)

42. 阅读材料，回答下列问题。(12 分)

材料

| 《四库全书总目》 | 《百科全书》 |
|---|---|
| 经部收录儒家“十三经”及相关著作，包括易类、书类、诗类、礼类、春秋类、孝经类、五经总义类等 10 个大类…… 史部收录史书，包括正史类、编年类、纪事本末类、杂史类、别史类、诏令奏议类、传记类等 15 个大类…… 子部收录诸子百家著作和类书，包括儒家类、兵家类、法家类、农家类、医家类、天文算法类、术数类、艺术类、谱录类、杂家类等 14 大类…… 集部收录诗词总集和专集等，包括楚辞、别集、总集、诗文评、词曲等 5 个大类，……除了章回小说、戏剧著作之外，以上门类基本上包括了社会上流布的各种图书。 | 《百科全书》条目选 …… 天然平等 (Natural Equality) 自然权利 (Natural Rights) 观察 (Observation) 和平 (Peace) 政治权威 (Political authority) 政治经济 (Political economy) 言论、出版 (The Press) 祭司 (Priests) 产权 (Property) 审讯 (The Question) 理性 (Reason) 难民 (Refugees) 代表 (Representatives) …… 附录：狄德罗和《百科全书》 |

根据材料并结合所学知识，就材料整体或其中一部分拟定一个论题，并予以阐述。(要求：见解明确，史论结合，表述清晰。)

(二) 选考题：共 25 分。请考生从 2 道地理选考题、3 道历史选考题中每科任选一题作答。如果多做，则每科按所做的第一题计分。

43. 【地理——选修 3：旅游地理】(10 分)

怒江大峡谷又称“东方大峡谷”，位于云南西北部的横断山三江并流地带，呈南北走向，是世界上最长、最神秘、最美丽险奇的大峡谷，平均深度 2000 米。峡谷两侧雪峰林立，雄奇壮观，森林茂密，湖泊遍布，湖水清澈；峡谷幽静深邃，怒江奔腾咆哮，令人震撼。沿峡谷生活着傈僳族、怒族、独龙族、藏族等少数民族，丰富多彩的民族风情，给怒江大峡谷增添了情趣。溜索，是一种渡河工具，它以一条粗绳连接山谷两侧，一头高，一头低，人可由高向低溜过河谷，是大峡谷中最有人文特色的景观。图 9 示意怒江大峡谷位置和怒江大峡谷景观。



图 9

分析怒江大峡谷发展旅游业的有利条件与不利条件。

44. 【地理——选修 6: 环境保护】(10 分)

农村面源污染是指农村地区在农业生产和居民生活过程中产生的、未经处理的污染物对水体、土壤和空气及农产品造成的污染,具有污染范围广,防治难度大等特点。目前,农业已超过工业成为我国最大的面源污染产业。图 10 示意农村面源污染状况。



图 10

简述农村面源污染给人们生产生活及生态环境带来的危害。

45. 【历史——选修 1: 历史上重大改革回眸】(15 分)

材料一

青苗者,其立法之本意,固未为不善也。但其给之也以金,而不以谷,其职之也以官吏,而不以乡人士君子。是以王氏能以行于一邑,而不能以行于天下。

——摘编自《朱子文集》

材料二

甲午中日战争之后,内外交困的清朝政府对其经济政策作了调整。核心是以筹饷练兵为急务,以恤商惠工为本源。清政府在采取措施维持、改造和扩张国家资本的同时,也放宽了对私人资本的限制,鼓励和允许他们在一些领域中的发展,个别的还给予一定的资助与扶持。

——摘编自徐卫国《论甲午战后清政府经济政策的变化》

(1) 根据材料一并结合所学知识,指出青苗法的实质及其影响。(8 分)

(2) 根据材料一、二并结合所学知识,简析晚清经济政策调整与王安石变法的相似之处。(7 分)



46.【历史——选修3：20世纪的战争与和平】（15分）

材料

二战结束后，东南亚地区政局动荡。1950年1月在荷兰科伦坡召开的英联邦外长会议，以英国为首的英联邦国家发起旨在通过提供技术和资金援助提高南亚和东南亚成员国民众的生活水平、促进其经济合作发展的“科伦坡计划”。英国希望利用此计划加强对亚洲经济的控制并抵制社会主义经济的影响。

英国一方面企图限制美国在该地区的开发援助，另一方面想借用美国的财力支持该计划，并且认为若无美国的参与，科伦坡计划的预期目标难以实现。因此，英国极力将美国拉入该计划。美国于1951年成为该计划的成员；在援助金方面，如上所述，1951~1958年，美国已提供该计划总援助额的85%。至此，该计划成员由最初的7个英联邦国家发展到共17个国家，其中，英联邦国家8个，非英联邦国家9个。

(1) 根据材料并结合所学知识，指出20世纪50年代前期“科伦坡计划”的变化及其主要原因。（7分）

(2) 根据材料并结合所学知识，分析“科伦坡计划”提出的影响。（8分）

47.【历史——选修4：中外历史人物评说】（15分）

材料

马海德（1910年~1988年），原名乔治·海德姆，祖籍黎巴嫩，出生于美国，日内瓦医科大学医学博士，1933年来到上海。马海德原计划在中国停留一年，但看到中国人民的悲惨生活后，决定留下来。通过调查，他认识到只有从根本上改造中国的社会结构，才能彻底改变中国劳动人民的悲惨命运。在宋庆龄等人的影响下，马海德开始阅读马克思主义著作和研究中国革命问题，投身于革命活动，他开的诊所成为中共地下工作人员联络、开会的地方。他还在美国和上海的进步刊物上发表文章介绍中国革命。

1936年在宋庆龄的推荐下，马海德和斯诺前往陕北，经过实地调查，他写了关于改进苏区医疗事业的调查报告，得到毛泽东的认可，并被任命为革命军事委员会的卫生顾问。同年2月，加入了中国共产党。20世纪30~40年代，马海德积极争取国际援助，为边区争取了许多急需的医疗器材和药品。在抗日战争时期，马海德曾先后接待了白求恩等外国医生，并协助他们去各抗日根据地开展医疗救护工作。1950年，正式加入中国国籍，并被任命为中央人民政府卫生部顾问，协助组建中央皮肤性病研究所，致力于性病和麻风病的防治和研究，并取得世界范围内的成果。

——摘编自凌空子《马海德小传》

(1) 根据材料，说明马海德能入选“100位新中国成立以来的感动中国人物”的理由。（10分）

(2) 根据材料，概括马海德身上体现的优秀品质。（5分）

百师联盟2021届高三一轮复习联考(五) 全国卷
文综政治答案及评分意见

12. A

【解析】经济复苏，对石油的需求有所增加，某些欧佩克成员国的产油量超过了配额，表示供给增加，国际原油价格持续低迷表明价格下降，最符合题意的是A；B表示价格上涨，不符合题意；C只提到了供给增加，没有提到需求的变化，不全面；D表示供给减少，价格上涨，不符合题意。故选A。

13. C

【解析】材料说明国庆假期出现了许多新的消费热点，这推动了新的服务订单的增加，说明消费所形成的新需要，对生产的调整和升级起着导向作用，企业要注重创新产品设计和生产制作的个性化，②③符合题意；①错误，错在“成为消费的主流”；④错误，不是互联网的广泛应用决定了消费的对象不断变化，而是生产的新产品新服务决定了消费的对象不断变化。故选C。

14. B

【解析】①符合题意，我国的基本经济制度包括所有制结构、分配制度、社会主义市场经济体制，三道河村的发展模式发展壮大集体经济，农民种植蔬菜属于按劳分配方式，都是对我国基本经济制度的完善，增加了农民的收入；②错误，没有改变生产资料集体所有；③符合题意，土地、村办公司都属于集体经济，丰富了集体经济形式，促进农村经济的多元化；④不符合题意，材料说的是初次分配，而不是再分配，并且没有涉及到缩小收入分配差距。故选B。

15. C

【解析】①不符合题意，贸易交易会仅仅是促进服务贸易的发展，与制定贸易交往准则无关；②符合题意，中国举办这场国际经贸活动，彰显了中国对外开放坚定的信心，用开放促改革、促发展、促创新；③错误，错在“货物贸易”，应该是“服务贸易”；④符合题意，中国举办这场国际经贸活动，有利于促进全球服务贸易发展繁荣，推动世界经济尽快复苏。故选C。

16. A

【解析】通过材料分析看出区块链技术引入小区自治，可以解决社区治理中较为突出的问题，保障居民的知情权、参与权、表达权、监督权，①②符合题意；③错误，社区规定或约定由居民会议或业主会议制定，而非居民自主制定；④不符合题意，材料中的做法没有创新基层群众性自治组织形式。故选A。

17. D

【解析】①错误，地方人大常委会不是国家立法机关，我国国家立法机关是全国人大及其常委，且审议通过了《河北省人民代表大会常务委员会关于厉行节约、反对餐饮浪费的规定》是在行使地方立法权，而非决定权；②错误，政府是行政机关，国家权力机关的执行机关，而非人大的职能部门；③符合题意，人民代表大会制度的组织和活动原则是民主集中制，材料中人大与政府的关系体现了上述原则；④符合题意，河北省人大常委会审议这一规定，体

一轮复习联考卷(五) 全国卷 文综政治 参考答案 第1页(共4页)



示
守

现出省人大常委会在行使地方立法权。故选D。

18. D

【解析】①错误，联合国大会的决议对会员国的主权没有限制；②错误，其例证多功... 说明构建人类命运共同体的理念得到了世界各国的接纳；决议的通过说明在构建... 要坚持人类命运共同体理念，才能打赢疫情防控全球阻击战，维护人类的和平发展... 合题意。故选D。

19. B

【解析】紫禁城是我国传统建筑的代表，也是我国和世界的珍贵文化遗产，①正确；②错误，应该是既要认同本民族文化，又要尊重其他民族文化；③错误，科学技术是一个民族文明程度的重要标志之一。故选B。

20. D

【解析】钟南山的事迹体现出他崇高的思想境界和高超的医术，③符合题意；未知的疫情面前，钟南山再次逆行，说明他的坚定意志和自觉行动，④符合题意；①错误，错在“优先”；②错误，错在“取决于”，科学文化水平不能决定人的思想境界。故选D。

21. B

【解析】登顶时间的选择说明人们的实践活动受客观规律和客观条件的制约，成功登顶说明发挥主观能动性，尊重和利用规律是成功的关键，①③符合题意；②错误，规律具有客观性，是不能被改造的；④错误，规律的存在和发生作用是有条件的。故选B。

22. B

【解析】“万物并育而不相害，道并行而不相悖”意思是各物种共同存在而并不相互危害，各种道理、道路共同存在而并不冲突，这说明天地万物相互依存和支撑，构成一个有机联系的整体，矛盾着的事物相互依赖，共处于一个统一体中，①④符合题意；事物本身没有优劣之分，②错误；③错误，应该是普遍性寓于特殊性之中。故选B。

23. B

【解析】①正确，特区精神体现出社会意识的相对独立性；机构改革属于政治领域改革，体现出上层建筑一定要适合经济基础状况的规律，不能体现生产关系一定要适合生产力状况的规律，②错误③正确；④错误，改革是社会发展的强大动力，而不是直接动力，其中阶级斗争是推动阶级社会发展的直接动力。故选B。

38. 【参考答案】

(1) 我国农业现代化水平在逐步提高，表现在耕种收机械化率、节水灌溉面积、农产品进出口贸易等方面，但与发达国家相比，我国农业机械化还有一定差距，我国农业现代化发展有很大潜力。(4分)

(2) ①农民新业态创业创新，有利于吸引更多农民工返乡就业、创新创业；(1分)

②强化对新农民创业服务和创业培训，提高农民素质，有利于以创新促创业，以创业促就业，以就业促增收，更好发挥农民在农业现代化发展中的主体作用；(3分)

③把新媒体运用与农业生产、农产品销售有机结合起来，有利于调整农产品结构，开拓农产品市场，提高经济效益，增加农民收入；(3分)

一轮复习联考卷(五) 全国卷 文综政治 参考答案 第2页(共4页)



④引导新农民与投资、融资、科技、市场、信息等主体深入沟通,利用更多社会资源加大对农业的投入,有利于促进农业的产业化发展和高质量发展。(3分)

【解析】(1)材料概括题型需要注意的是三点:一是描述材料中直接观察到的信息,二是进一步推导出信息背后的引申内涵,三是要注意小注。

(2)此问是高考常见经济题型,根据材料提供信息,总结提炼出经济术语。农民新业态创新创业,有利于吸引更多农民工返乡就业、创新创业;“强化创业服务和创业培训”,提高了农民素质,有利于创新促创业,创业促就业,就业促增收,更好发挥农民主体作用;“电商、网红直播”等方式是利用信息技术,把新媒体运用与农业生产、农产品销售有机结合起来,开拓农产品市场,提高经济效益,增加农民收入;“引导新农民与投资、融资、科技、市场、信息等主体深入沟通”,是在利用更多社会资源加大对农业的投入,促进农业的产业化发展和高质量发展。

39.【参考答案】

①中国共产党是我国的执政党,党是最高政治领导力量,坚决维护党中央权威,健全总揽全局、协调各方的党的领导制度体系,通过党的会议和决定,把党的领导落实到国家治理各领域、各方面、各环节。(4分)

②中国共产党是中国工人阶级先锋队,中国人民和中华民族先锋队,宗旨是全心全意为人民服务,立党为公,执政为民,不断推进国家发展,更好维护人民利益,为人民掌好权,用好权。(4分)

③中国共产党坚持依法治国、依法执政,提出修改宪法建议,完善中国特色社会主义法治体系。(2分)

④中国共产党坚持科学执政、民主执政,把握现代化建设的发展规律,广泛听取群众建议和意见。(2分)

【解析】此题考查的是中国共产党的知识,首先需要全面掌握共产党的知识:地位、性质、宗旨、执政方式等。其次要注意不能罗列教材知识,要根据材料信息进行总结,提炼出与教材知识相吻合的观点:党的十九大以来历次会议的召开都说明了坚持共产党的领导地位;会议的内容都是为了推进国家发展,更好维护人民利益,说明了共产党的性质和宗旨;通过宪法修改的决议说明了依法治国、依法执政;把握现代化建设的发展规律,广泛听取群众建议和意见说明了科学执政、民主执政。

40.【参考答案】

(1)①人能够能动地认识世界。意识活动具有目的性、自觉选择性和主动创造性。面对各种困难,中国人民选择同时间赛跑、与病魔较量,最终夺取了全国抗疫斗争重大战略成果。(4分)

②人能够能动地改造世界,意识对改造客观世界具有指导作用。抗疫精神在激励中国人民战胜疫情、实现中华民族伟大复兴中发挥着强大力量。(3分)

③意识对于人体生理活动具有调节和控制作用。抗疫精神极大激发了中国人民战胜病毒

一轮复习联考卷(五) 全国卷 文综政治 参考答案 第3页(共4页)

的斗志。
(2)文
价值的:
精神的
进一步
强全党
(3分
(3)
②弘扬
(其
【解
(1)
后在
说明
疫情
有持
理;
(;
清抗
谈
议



社会资源加

的信息,

农民新业

业培训”

农民主

农产品

民与投

业的投

!全总

!国家

意为

!好

!法

!建

也

!主

!主

!主

的斗志,增强了全面建设社会主义现代化国家的信心。(3分)

(2)文化自信来自对时代发展潮流、中国特色社会主义实践的深刻把握,对自身文化生命力的坚定信念。(3分)伟大抗疫精神,是民族精神和时代精神的丰富和发展。(3分)伟大抗疫精神,进一步弘扬中华优秀传统文化,丰富爱国主义、集体主义和社会主义精神,进一步增强全党全国各族人民的自信心和自豪感、凝聚力和向心力,促进中华民族的伟大复兴。(3分)

(3)①厚植爱国主义情怀,做民族精神的宣传者。(2分)

②弘扬民族精神,不忘初心、牢记使命,自觉践行民族精神。(2分)

(其它言之有理的,可酌情给分)

【解析】

(1)此题的知识范围并不大,对于这样的题型,首先要把教材中的知识罗列出来,然后在逐一结合材料进行分析。面对各种困难,中国人民选择同时间赛跑、与病魔较量,说明意识活动具有目的性、主动创造性和自觉选择性;抗疫精神不仅激励中国人民战胜疫情,而且也是激励实现中华民族伟大复兴的强大力量,这说明意识对改造客观世界具有指导作用;抗疫精神激发了中国人民的斗志,增强了信心,这体现出意识对于人体生理活动具有调节和控制作用。

(2)此题设问针对的是两个关键词,一是抗疫精神,二是文化自信,因此首先要阐述清楚文化自信的知识,同时把抗疫精神与民族精神的联系表达明白,最后结合材料说明抗疫精神对于坚定文化自信的作用:从历史到现在,再到未来的信心。此题容易泛泛而谈抗疫精神的作用,不能落在文化自信上,因此答题时一定看清设问,把握住关键词语。

(3)建议类型题目。注意两条建议不要重复,此题从抗疫宣传和实践两个角度作答。



百师联盟2021届高三一轮复习联考(五) 全国卷

文综地理答案及评分意见

1. D

【解析】该地经历了多次地壳运动,褶皱、断层发育,在外力作用下,有裂隙的破碎地带的岩石易被风化,侵蚀成谷地或盆地;构造完整、岩性坚硬的岩石难被侵蚀,相对抬升成为岗岭。选项D正确。

2. C

【解析】井冈山降水丰富,岗岭、盆地相间,地形复杂,地势起伏大,耕地有限,森林植被广布,适宜发展农林果牧协调的立体农业。选项C正确。

3. C

【解析】由图可知,“山竹”东部和东南部等压线密集,气压梯度力大,向西北移动的可能性大。选项C正确。

4. D

【解析】丁地远离台风中心,等压线稀疏,风力较弱,降水量小。选项D正确。

5. D

【解析】因全球气候变暖,低纬度海洋水温升高,易发育台风。选项D正确。

6. D

【解析】由图可知,坐落于山间的村落,所处位置地势相对平缓,周围植物茂盛。选项D正确。

7. A

【解析】南方地区降水丰富,阴雨天气多,室内潮湿,位于阳坡可接受充足的阳光,降低空气湿度;冬季室内阳光充足,可提高室温,防御冷湿气候。选项A正确。

8. D

【解析】根据“向日葵性喜温暖,耐旱、耐盐碱,在阳光充足、潮湿的地区生长最好。”的生长条件判断,阿勒泰地区适宜向日葵种植的气候条件是夏季光热充足,气温日较差大。选项D正确。

9. B

【解析】据材料可知,阿勒泰地区的食葵口感出众,品质优良,远销海内外。选项B正确。

10. C

【解析】根据“全长480千米,沿线建设桥梁79座、涵洞100多座”的材料可知,蒙内铁路桥梁、涵洞多,说明其经过的是山高谷深,地质构造复杂和河流纵横,水流湍急的地区。选项C正确。

11. B

【解析】采矿业受制于矿产资源蕴藏量;耕作业受制于耕地资源储量;旅游业受制于旅游资源丰富度,制造业对交通的需求较大。选项B正确。

36. 【参考答案】

(1) 三江平原所处纬度偏高,气温低,蒸发量小;夏季降水多,河流径流量大;冻土

一轮复习联考卷(五) 全国卷 文综地理 参考答案 第1页(共3页)



广布,不利于地表径流下渗;流经平原,河流流速缓慢,排水不畅;黑龙江、松花江和乌苏里江在三江平原地区由较低纬度流向较高纬度,有凌汛现象,河水宣泄不畅。(每点2分,任答其中4点得8分)

(2)肥沃的土壤(黑土)、丰富的水资源。(4分)

(3)纬度偏高,无霜期短,生长期短;(3分)夏季短促,春初秋末多低温冻害。(3分)

(4)人烟稀少,生态环境受干扰少,基本保持原生态;(3分)污染性产业少,环境污染少,水源清洁,空气清新。(3分)

【解析】

第(1)题,从气候、水文、地形等方面分析三江平原湿地广布的主要原因。

第(2)题,从湿地具有肥沃的土壤和丰富的地表水这两大特点入手,指出三江平原湿地为当地农业生产提供的重要自然资源。

第(3)题,主要从热量方面分析三江平原发展耕作业的不利气候条件。

第(4)题,从生态环境、人烟稀少、污染产业较少等方面阐释三江平原促进绿色农业发展的有利区位条件。

37.【参考答案】

(1)位于首都,社会治安好;(2分)拥有较高素质的劳动力,市场广阔;(2分)享有当地优惠政策,生产协作条件好;(2分)交通等基础设施完善。(2分)

(2)可为当地提供更多的就业岗位,增加当地居民收入;(3分)激发员工主人翁意识和创新潜能,提高产品质量。(3分)

(3)卢旺达工业基础薄弱,资金不足,生产协作条件欠佳;(2分)农业人口多,大多不具备工业生产技能;(2分)服装产业投资少,见效快,利于资金积累,且技术要求不高;(2分)卢旺达劳动力价格低廉。(2分)

【解析】

第(1)题,从劳动力、治安、政策、交通等方面阐释C&H服装企业布局于基加利经济特区的区位优势。

第(2)题,从就业岗位、创新工作等方面分析C&H服装企业员工本土化带来的社会效益。

第(3)题,从卢旺达经济发展、劳动力特点和服装产业特点入手,说明卢旺达重视服装产业发展的主要原因。

43.【参考答案】

有利条件:山高谷深的怒江大峡谷、镶嵌在高山的积雪冰川和湖泊等景观具有重要的地质勘测、水文科研和美学观赏价值;(2分)悬挂于峡谷上的溜索和丰富多彩的民族风情具有较高的美学观赏以及历史文化价值;(2分)自然与人文景观相互依存,形成良好的集群状况和地域组合。(2分)

一轮复习联考卷(五) 全国卷 文综地理 参考答案 第2页(共3页)



不利条件：远离经济发达的客源市场；经济落后，交通不便；旅游配套设施不完善，地区接待能力较低。（每点2分，任答其中2点得4分）

【解析】

从旅游资源的价值、地域组合和集群状况分析怒江大峡谷发展旅游业的有利条件。从市场、交通、地区接待能力方面分析怒江大峡谷发展旅游业的不利条件。

44. 【参考答案】

化肥的过量使用容易破坏土壤养分，使土壤肥力下降，农药的过量使用会通过农作物给人体健康带来危害。（3分）

农用薄膜降解周期长，丢弃在田间地头，污染空气、水源，当内部的有害物质进入土壤，转移到农作物体内，会引发食品安全问题。（3分）

牲畜粪便等污染物不经处理随意排放，污染大气、水体和土壤，寄生虫或病原体蔓延，直接危害周围人群的安全。（2分）

生活垃圾被人们随意丢弃，污染大气、水体与土壤，影响人们的生活质量。（2分）

【解析】

从常见的造成农村面源污染的污染物入手，简述农村面源污染给人们的生产生活及生态环境带来的危害。

关于我们

自主选拔在线是致力于提供新高考生涯规划、强基计划、综合评价、三位一体、学科竞赛等政策资讯的升学服务平台。总部坐落于北京，旗下拥有网站（<http://www.zizzs.com/>）和微信公众平台等媒体矩阵，用户群体涵盖全国90%以上的重点中学师生及家长，在全国新高考、自主选拔领域首屈一指。

如需第一时间获取相关资讯及备考指南，请关注**自主选拔在线**官方微信号：**zizzsw**。



微信搜一搜



自主选拔在线

关注后获取更多资料：

回复“答题模板”，即可获取《高中九科试卷的解题技巧和答题模版》

回复“必背知识点”，即可获取《高考考前必背知识点》