

秘密★启用前

贵港市 2021 届高中毕业班 12 月联考监测试题
文科综合

(考试时间: 150 分钟 满分 300 分)

注意事项:

1. 答题前, 考生务必用黑色碳素笔将自己的姓名、准考证号、考场号、座位号在答题卡上填写清楚。
2. 每小题选出答案后, 用 2B 铅笔把答题卡上对应题目的答案标号涂黑。如需改动, 用橡皮擦干净后, 再选涂其他答案标号。在试题卷上作答无效。
3. 考试结束后, 只交答题卡。试卷自行带走。

一、选择题(本大题共 35 小题, 每小题 4 分, 共 140 分。在每小题给出的四个选项中, 只有一项是符合题目要求)

麦秆画是中国古代农业社会的原生艺术, 主材为麦秆, 其制作工序复杂, 题材广泛。河南濮阳的麦秆画工艺精湛, 艺术造诣高, 有“中国民间艺术一绝”的美称, 现已纳入我国非物质文化遗产名录。目前濮阳麦秆画生产商有几十家, 其工人以农村家庭主妇为主, 其产品已经蜚声海内外。据此完成 1~2 题

1. 一幅精美的麦秆画往往价格不菲, 主要原因是其
 - A. 原料精选, 耗材量大
 - B. 艺术性强, 需求量大
 - C. 题材广泛, 数量有限
 - D. 工序复杂, 艺术独特
2. 目前濮阳麦秆画产业面临的困境主要是
 - A. 生产规模小
 - B. 自动化程度低
 - C. 创新能力较弱
 - D. 劳动力不足

2020 年 7 月 26 日, 重庆武陵区发生山体滑坡, 淤塞乌江干流形成堰塞湖, 威胁沿河居民生命和财产安全, 图 1 左图为长江水系图, 右图为滑坡示意图。据此完成 3~4 题。

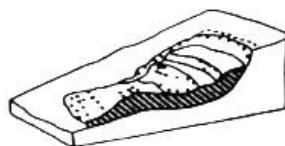



图 1



3. 下列选项中，正确表示滑坡发生后坡面等高线示意图的是



4. 为防范滑坡、加强滑坡的监测，需使用

- A. 遥感技术
B. 全球定位系统
C. 地理信息系统
D. 无人机群

“莫问桑田事，但看桑落洲。数家新住处，昔日大江流。古岸崩欲尽，平沙长未休。想应百年后，人世更悠悠。”读唐朝诗人胡玢的诗，结合图2“某河段示意图”和所学知识，完成5~6题。

5. 下列叙述正确的是

- A. 曲流的东岸是侵蚀岸
B. “数家新住处”应位于乙地
C. 诗中叙述的情境一般发生在河流的上游
D. 河流流向为自南向北



图2

6. 内力作用主要影响河流的

- A. 汛期
B. 含沙量
C. 流向
D. 流量

图3是“沿106°E经线的地形剖面及相关气候资料图”。据此完成7~8题。

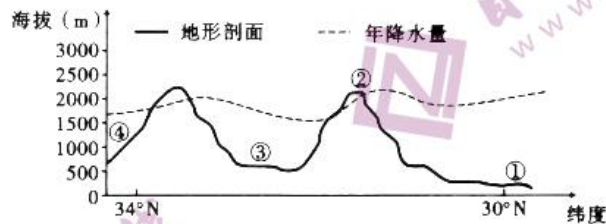


图3

7. 图中②处山地年降水量最多的海拔高度大约位于

- A. 南坡海拔1300米左右处
B. 南坡海拔2200米左右处
C. 山顶2000米左右处
D. 北坡海拔2100米左右处

8. 1月，①地气温高于④地的原因除纬度因素外，主要是因为①地

- A. 海拔较高
B. 受夏季风影响较大
C. 受冬季风影响较小
D. 森林覆盖率高



中国第35次南极科考队昆仑队在抵达南极昆仑站(80°5'01"S, 77°6'58"E)后,于2019年1月5日全面展开天文、冰川和测绘等项目的科研工作。图4为1月5日当地时间10时在昆仑站上拍摄的自动监测设备及其周边景观图。据此完成9~11题。



图4

9. 图示时刻
- A. 北京时间约为6时
 - B. 伦敦和上海日期相同
 - C. 赤道上东半球大部分为黑夜
 - D. 我国东部沿海吹陆风
10. 该日后一个月内
- A. 地球公转速度逐渐变慢
 - B. 开普敦地区温和湿润
 - C. 索马里东部海域出现鱼汛
 - D. 南极圈内极昼范围变大
11. 图中自动监测设备的日影朝向再次出现时,可能为
- A. 6月9日
 - B. 次年12月9日
 - C. 次年10月5日
 - D. 7月5日
12. 如图5表示某产品的供求量和价格的关系(横轴为供求量,纵轴为价格。 D_0 为变动前曲线, D_1 、 D_2 为变动后曲线)。在不考虑其他因素的情况下,以下描述正确的是

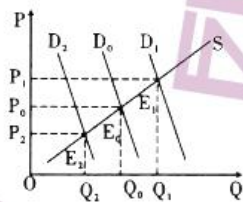


图5

- ①对骑乘摩托车不戴安全头盔的行为予以处罚,安全头盔的需求量会从 D_0 向 D_1 移动
 - ②进口奶粉频繁出现致病菌问题,进口奶粉的均衡点会从 E_0 向 E_1 移动
 - ③燃油汽车的价格提高,新能源汽车的需求量会从 D_0 向 D_2 移动
 - ④建行在深圳推出个人住房租赁贷款,该地商品房的均衡点会从 E_0 向 E_2 移动
- A. ①③
 - B. ①④
 - C. ②③
 - D. ②④



13. 眼下，直播带货风头正劲。各类企业纷纷试水直播带货，依托主播推介，加强与消费者互动，拓宽营销渠道、提升销售效率、强化产业链整合，为互联网经济打开了更广阔的发展空间。“直播带货”

- ①顺应了消费者的从众心理，促使商品价值加快实现
- ②是信任力经济的体现，主播的信誉直接影响销售量
- ③将依托互联网平台，成为当下商品营销的主要渠道
- ④将让海量资源对接海量需求，增加了产品的附加值

- A. ①②
- B. ①③
- C. ②④
- D. ③④

14. 2020年10月23日，中国南水北调集团有限公司（以下简称“南水北调集团”）正式揭牌。当日举行的南水北调集团成立大会透露，公司暂定注册资本1500亿元，为国有独资。南水北调集团能够把政府的作用和市场的机制有机结合起来，可以进行市场化的融资，开展市场化的合作。材料表明

- ①股份制是公有制的重要实现形式
- ②非公有制经济对我国国民经济的支撑作用越来越大
- ③国有经济对优化我国水资源配置格局起着重要作用
- ④把政府的作用和市场的机制有机结合有利于提升管理运营水平

- A. ①②
- B. ①③
- C. ②③
- D. ③④

15. 2020年7月30日，财政部发行700亿元10年期抗疫特别国债。发行抗疫特别国债是党中央、国务院为应对新冠肺炎疫情冲击，加大宏观政策调节和实施力度作出的重大决策。抗疫特别国债正确传导路径是

- ①增加地方财政收入
- ②推动保居民就业、保基本民生、保市场主体
- ③实施积极的财政政策，扩大财政支出
- ④稳健的货币政策更加灵活适度
- ⑤维护经济发展和社会稳定

- ⑥增加居民收益
- A. ①→⑥→⑤
- B. ①→④→⑥
- C. ③→②→⑤
- D. ③→⑤→②



16. 在我国，公民享有广泛的政治权利和自由。依法有序扩大政治参与，是实现全面建成小康社会奋斗目标的新要求。下列对公民参与政治活动的分析，对应正确的是
- ①居民黄某向人大代表反映小区附近工地噪音扰民的问题——参与民主管理
 - ②公民就环保部门工作存在的问题提出批评、建议——行使监督权
 - ③村民直接投票选举产生村委会成员——协商民主
 - ④选出代表人民意志的代表进入决策机关——公民间接参与民主决策
- A. ①② B. ①④ C. ②③ D. ②④
17. 2020年10月17日，十三届全国人大常委会第二十二次会议表决通过新修订的《未成年人保护法》。修改后的未成年人保护法补齐了现有法律中的短板，最大限度地保护未成年人的权益。这表明
- ①全国人大常委会行使立法权 ②全国人大常委会是我国最高的权力机关
 - ③全国人大常委会贯彻以人民为中心的发展思想 ④全国人大常委会行使表决权
- A. ①② B. ①③ C. ②④ D. ③④
18. 新中国成立以来，我们党领导人民持续向贫困宣战。改革开放使这一宣战进入新的历史阶段，特别是十八大以来，以习近平同志为核心的党中央把消除贫困摆在治国理政的更加突出的位置，驻村干部深入贫困地区，深入群众，充分发挥党员先锋模范作用。由此可见，党员干部致力脱贫攻坚
- ①体现了中国共产党人为人民谋幸福的初心
 - ②完善了打赢脱贫攻坚战实现共同富裕的行政体制
 - ③旨在推进乡村治理体系的完善和治理能力现代化
 - ④是坚持党的执政理念贯彻群众路线的内在要求
- A. ①② B. ①④ C. ②③ D. ③④
19. 2020年10月12日习近平赴广东考察，深入潮州、汕头等地考察文物保护单位、历史文化街区等。习近平强调要珍惜和保护好历史文化遗产，不能搞过度修缮，过度开发，尽可能保留历史原貌。加强文物遗产保护、管理和利用
- ①可以给文物保护单位带来较高经济效益
 - ②是推动我国文化事业发展的一项重要内容
 - ③有利于传承和弘扬中华民族优秀传统文化
 - ④能够使国家占据世界文化发展的制高点
- A. ①② B. ①④ C. ②③ D. ③④



20. 电影《秀美人生》通过对百坭村第一书记黄文秀感人事迹的描写，展现了扶贫工作者不忘初心牢记使命的奋斗精神，塑造了百坭村第一书记黄文秀青年英模的形象。塑造第一书记黄文秀青年英模形象的目的是
- ①培育和践行社会主义核心价值观，使其转化为人们的情感认同和行为习惯
 - ②加强思想道德建设，筑牢理想信念之基，提升思想道德修养和科学文化素养
 - ③弘扬道德模范，把弘扬道德模范的榜样作用作为先进文化建设的基础工程
 - ④坚持正确的舆论导向，不断提高新闻舆论对社会风气的引导力和影响力
- A. ①③ B. ①④ C. ②③ D. ③④
21. 伴随着互联网的高速发展，青少年在尽情遨游互联网海洋的同时，也面临着越来越多的网络安全风险。针对网络沉迷、网络欺凌、网络色情等问题，新修订的未成年人保护法专门增设“网络保护”一章。材料告诉我们
- A. 实践具有客观物质性
 - B. 实践是认识发展的动力
 - C. 实践可以变观念为现实
 - D. 实践是认识的最终目的
22. “垃圾是放错位置的资源，把垃圾资源化，化腐朽为神奇，是一门艺术。”到2020年底，先行先试的46个重点城市基本建成垃圾分类处理系统。2025年前，全国地级及以上城市要基本建成垃圾分类处理系统。材料体现的唯物辩证法道理是
- A. 矛盾同一性和斗争性在一定条件下可相互转化
 - B. 事物的优势和劣势相互转化依赖于人的主观能动性
 - C. 矛盾的主要方面规定了事物的性质
 - D. 事物是普遍性和特殊性的辩证统一
23. 中国共产党第十九届中央委员会第五次全体会议审议通过了《中共中央关于制定国民经济和社会发展第十四个五年规划和二〇三五年远景目标的建议》。建议稿指出，“十四五”时期经济社会发展要以推动高质量发展为主题，这是根据我国发展阶段、发展环境、发展条件变化作出的科学判断。材料表明
- ①社会存在决定社会意识
 - ②先进的社会意识推动社会的发展
 - ③社会意识可以先于社会存在而变化
 - ④社会经济的发展取决于生产关系的调整
- A. ①② B. ①③ C. ②④



24. 鲁昭公六年（公元前 536 年），郑国子产“铸刑书”，将刑罚条文铸于鼎上公布了刑书。对这一惊动朝野之举，在洞悉世事变迁、原本与子产非常友好的晋国叔向看来，无异于末世来临，引起了他的极大不安与愤怒，于是……专门去信予以激烈反对。叔向这种态度的原因是
- A. 刑书与礼制冲突
B. 刑书损害了地主阶级利益
C. 刑书超越了时代
D. 刑书违背了法家政治理念
25. 关于董卓祸乱京师后的情况，裴松之在《三国志注》中这样记述“遇太祖至，玩杀男女数万口于泗水，水为不流”。司马光在《资治通鉴》中则记述为“遭操至，玩杀男女数十万口于泗水，水为不流”。据此可知
- A. 史学著作受作者身份影响
B. 文献记录与事实相背离
C. 文化集中反映了时代特征
D. 历史记录在流传中失真
26. 考课是古代一种对在职官吏的官箴和功过考核的制度。南宋思想家陈亮针对宋代考课不注重实绩，只重年资，考课流于形式的弊端，在《中兴论》中提出了以实绩考核职官的主张。该主张
- A. 标志循资原则的成熟
B. 利于国家对人才选拔
C. 提高官吏工作积极性
D. 体现了公平公正原则
27. 下表是明清时南方江南松江府一带的米价变化表。这一变化表明

1632 年，明崇祯五年	白米每石一两银子
1642 年，明崇祯十五年	白米每石需纹银五两，合计铜钱 12000 多钱
1647 年，顺治四年	白米每石纹银四两
1656 年，顺治十三年	白米每石二两银子上下
1669 年，康熙八年	新米每石纹银六钱……后至五钱

- A. 政局变化影响经济发展走势
B. 粮食产量大大增加
C. 白银大量涌入致使物价下降
D. 赋税改革成果显著
28. 《环游地球新录》是迄今为止中国第一部以亲历者身份记述世博会（1876 年）所见所闻的著作。作者李奎是第一个以官方身份正式参加世博会的中国人。李鸿章读后十分赞赏，并上呈总理衙门，给资印行 3000 部。李鸿章的这一做法旨在
- A. 提高清廷国际地位
B. 宣传西方技术助力洋务企业
C. 传播西学开启民智
D. 鼓励学者发展新闻出版事业

29. 1918 年底出版了胡适的《尝试集》，这是中国最早的新诗诗集。《蝴蝶》是其中一首：“两个黄蝴蝶，双双飞上天，不知为什么，一个忽飞还。剩下那一个，孤单恒于怜。也无心上天，天上太孤单。”这表明新诗
- A. 抛弃了旧传统
B. 体现时代主题
C. 创作新旧杂糅
D. 缺乏社会基础
30. 1931 年《中华苏维埃共和国土地法》规定：没收地主、反革命及农村公共土地……以“最有利于贫农、中农利益的方法”按人口或按劳力平均分配；分配给农民的土地允许农民出租、买卖。这一措施
- A. 确保国民革命运动胜利进行
B. 利于革命根据地的建设
C. 推动抗日民族统一战线形成
D. 促进人民统一战线发展
31. 1984 年 10 月 1 日，在首都北京举行了欢庆共和国成立 35 周年的盛大庆典。在首都群众游行队伍中，一条“小平您好”的横幅突然展开，被新闻摄影记者牢牢地定格（如图 6 所示），成为共和国历史上珍贵的记忆。这说明



图 6

- A. 个人崇拜依然严重
B. 改革开放取得初步成效
C. 邓小平理论已形成
D. 人民生活水平极大提高
32. 亚里士多德说：“有些奴隶具有自由人的灵魂，有些人则有自由人的身体，无可置疑，如果人们之间在体形上的差别有如神像和人像的差别那样大，那么大家就应当承认，低贱者应当成为高贵者的奴隶。”这体现亚里士多德
- A. 崇尚自然法的原则
B. 为奴隶制辩护
C. 主张提高奴隶地位
D. 提倡宗教信仰
33. “工人阶级不能简单地掌握现成的国家机器，并运用它来达到自己的目的。”是马克思国家学说中的一条重要原理。这一原理的实质是
- A. 巴黎公社的经验与原则
B. 无产阶级专政的形式
C. 对待旧国家机器的态度
D. 资本主义发展的必然

34. 1930年美国《斯穆特——霍利法》规定：将应税品的平均关税率提高到55.3%，而1934年的《互惠贸易协定法》却授权总统与外国进行双边关税减让谈判时，可将关税升高或者降低到50%。通过谈判，关税大幅度地降低。美国关税变化的原因是

- A. 意识形态影响
B. 美国工业竞争力增强
C. 经济危机加剧
D. 重商主义政策的盛行

35. 图7《筛谷的妇女》是库尔贝1854年的作品，作品真实地表现了乡下人民劳作的场景，这幅作品

- A. 是浪漫主义绘画代表作
B. 利用色彩来突显人物
C. 继承了印象派绘画艺术
D. 体现了现实主义风格



图7

二、非选择题（共160分，第36~42题为必考题，每个试题考生都必须作答。第43~47题为选考题，考生根据要求作答。把答案填写在答题卡上相应的位置，在试题卷上作答无效）

（一）必考题（共7小题，共135分）

36.（24分）阅读图文材料，完成下列要求。

材料一 某科考队于11月考察南美洲巴塔哥尼亚地区，发现该地距海洋近但降水少，草原、沙漠广布，但多外流河，外流河流量较大且流程中流量损耗相对较少；沙漠中分布有保存完好的大片石化森林。

材料二 图8为巴塔哥尼亚地区及石化森林分布示意图。

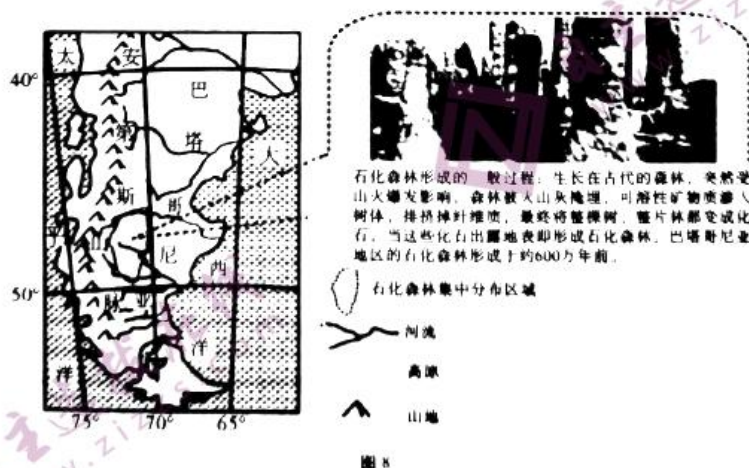


图8

（1）从地形角度，分析巴塔哥尼亚高原很少受到东西两侧大洋水汽“滋润”的原因。（6分）



(2) 干旱的巴塔哥尼亚地区外流河流量较大，且流程中流量损耗相对较少。请分析其自然原因。(8分)

(3) 解释巴塔哥尼亚地区“石化森林”的形成过程。(6分)

(4) 指出古代麦哲伦率领船队通过图8中的重要海峡可能遇到的“凶险”。(4分)

37. (22分) 阅读图文材料，完成下列要求。

面筋又称辣条，起源于湖南省平江县(如图9所示)，是以小麦粉为主要原料，调味制成的一种即食休闲食品。曾经由于缺乏统一行业标准、监管体系不完善，“问题辣条”一时成为众矢之的。2015年平江县荣获“中国面筋食品之乡”称号，2018年“平江面筋”成为中国地理标志产品。如今面筋食品已成为平江四大支柱产业之一，为助推县域经济发展、脱贫攻坚发挥了重要作用。2020年3月，平江县部分企业创新营销模式，为线上顾客网络直播带货，辣条工厂变直播间，一线员工变带货“网红”，观众可在直播间下单购买辣条。

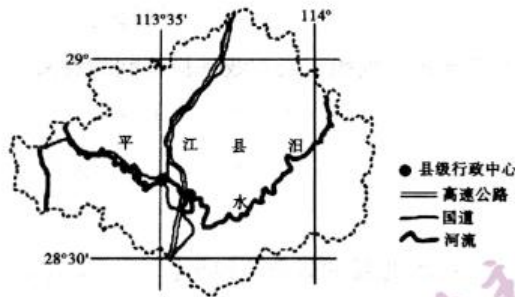


图9

(1) 简述当前平江县大力发展辣条产业的社会经济条件。(8分)

(2) 推测平江县应对“问题辣条”可能采取的合理措施。(6分)

(3) 阐述网络直播带货对平江辣条产业发展的积极影响。(8分)



38. (14分) 阅读材料，完成下列要求。

材料 随着疫情在全球多个国家蔓延，近期逆全球化的声音再次在某些发达国家响起。这些国家将自身困难如失业、治安和经济低迷归咎于全球化，认为全球化得不偿失等。同时，二十一世纪以来，以中国为代表的新兴经济体在国际舞台上的影响力日益提高，使全球化昔日的引领者继续保持引领地位，霸权者维护和实现霸权面临越来越大的挑战。当其将保持引领地位和实现霸权的“不尽如意”简单地归咎为全球化，自然也就滋生和萌发逆全球化思潮，将逆全球化作为迫使后起竞争对手就范的工具也就在“情理之中”。

从目前趋势看，短期逆全球化仍有升温可能，因此对我国而言目前不得不警惕这一趋势，提早做好相应措施。一方面需切实做好外贸部门的减税、减租工作，大幅减少企业经营负担。另一方面，广大外贸企业也应及时调整经营策略，很多出口产品在品质和性价比上要高于国内市场的同类产品，可借助“直播”等新型销售手段做好出口转内销的经营转型，毕竟国内还有潜力巨大的消费市场。同时还需做好的是一些“卡脖子”的关键技术研发工作，保持我国产业链的完整性，防控产业链短期的断档风险。对此，我国从2019年起就采取了诸多措施加强关键技术的研发攻关，但不可否认的是，研发是一项长期工作，需要企业长期持续的资金和人力的投入，未来仍需加大科创企业的直接融资相关政策支持。

结合材料并运用所学经济知识，说明某些国家出现“逆全球化”的原因，并分析我国如何帮助企业应对“逆全球化”。(14分)

39. (12分) 阅读材料，完成下列要求。

材料 当前，新冠肺炎疫情全球大流行和世界百年未有之大变局相互影响，但和平与发展的时代主题没有变，各国人民和平发展合作共赢的期待更加强烈。面对各种全球性威胁和挑战，国际社会比以往任何时候都更需要团结合作，更需要维护多边主义，更需要坚持国际公正和道义。

历史和现实充分表明，大小国家相互尊重、一律平等是时代进步的要求。在纪念中国人民志愿军抗美援朝出国作战70周年大会上，习近平总书记强调：任何我行我素、唯我独尊的行径，任何搞霸权、霸道、霸凌的行径，都是根本行不通的！靠冷战思维，以意识形态划线，搞零和游戏，既解决不了本国问题，更应对不了人类面临的共同挑战。各国要树立你中有我、我中有你的命运共同体意识，跳出小圈子和零和博弈思维，树立大家庭和合作共赢理念，摒弃意识形态争论，跨越文明冲突陷阱，相互尊重各国自主选择的发展道路和模式。以对话代替冲突，以协商代替胁迫，以共赢代替零和，把本国利益同各国共同利益结合起来，努力扩大各国共同利益汇合点，才能建设和谐合作的国际大家庭。

文科综合·第11页(共16页)



结合材料，运用“当代国际社会”知识，分析“以对话代替冲突，以协商代替胁迫，以共赢代替零和”的合理性。（12分）

40. (26分) 阅读材料，完成下列要求。

材料 传统的戏曲人只注重演戏，不注重传播，在信息时代，这样的理念不利于传统戏曲的传承。网络直播的兴起，既节约了传统戏曲观众的时间成本，又突破了地域限制，还创造了新的观演方式，观众用手机可以随时随地观看。

随着网络直播的影响力越来越大，利用直播传播传统文化，逐渐从机构、平台的组织化行为成为很多个体的个人化行为。这几年，在很多剧场的台前幕后，经常能看到90后、00后演员，边演出边进行网络直播。进行网络直播，就是用年轻化的方式跟年轻人沟通，这已成为艺术家们的共识。随着表达方式的创新，传统文化重新点燃了年轻人的兴趣。

传统文化艺术，由于自身特点，不可能总是成为网络直播中的“流量担当”，这要求直播者在进行传统文化的直播时，不能把流量作为唯一追求，更不能为了流量而肆意篡改、亵渎传统文化。文化生长具有其内在逻辑，传播只是其中一个环节，直播之后，传统文化在复兴征程上，还有很长的路要走。对于戏曲等传统艺术而言，网络直播只是打开了其走进年轻人的一扇门，而要让年轻人成为“铁粉”，最终还是要靠自身的艺术魅力。因此，参与网络直播的年轻人，应该多向前辈艺术家学习，努力提升自己的艺术修养和表演水平，用精湛的艺术在网络直播中打动人、吸引人。

(1) 结合材料，运用《文化生活》的知识，谈谈网络直播对优秀传统文化发展的意义。（10分）

(2) 结合材料，运用发挥主观能动性的相关知识，分析应如何利用网络直播使传统文化焕发新的活力。（12分）

(3) 对于传统戏曲，很多年轻人还只是“看热闹”而非“看门道”。请就如何吸引年轻人关注传统戏曲提出两条合理建议。（4分）



41. (25分) 阅读材料，完成下列要求。

材料一 明清时期，历史上传统的消费观受到质疑，新的消费思想应运而生。这集中体现在明代陆楙的思想，他在其《兼葭堂杂著摘抄·禁奢辨》中指出“自一人言之，一人俭则一人或可免于贫；自一家言之，一家俭则一家或可免于贫。致于统论天下之势则不然”“彼以梁肉奢，则耕者庖者分其利；彼以纨绔奢，则鬻者织者分其利”。

——摘编自吕晓萌《中国古代鼓励消费的经济思想辨析》

材料二 18世纪以来，英国社会各阶层对物质财富的追求与对各类奢侈品的狂热消费，突破了等级与阶层，奢侈消费经济兴起。曼德维尔认为奢侈消费刺激贸易发展，促进经济繁荣，公开为奢侈传统进行辩解。英国思想界甚至掀起了“奢侈大讨论”，预示着奢侈消费正在经历“去道德化”趋势。亚当·斯密也为奢侈消费和商业辩护。法国启蒙思想家也极力为奢侈消费鼓与呼。英国作家丹尼尔·笛福在《商业计划》中这样描写英国社会：“人口众多，国家富裕，物质产品丰富多样，人们的生活更加奢侈、爱慕虚荣，每个人都出手阔气。”

——摘编自曹瑞臣《18世纪英国消费社会的兴起》

(1) 根据材料并结合所学知识，概括中西消费观念，并分析其形成的相同因素。(12分)

(2) 根据材料并结合所学知识，分析中西消费观念产生的不同影响。(13分)

42. (12分) 阅读材料，完成下列要求。

材料 近代中国所闯入的外来者具有两重性：其一，它是入侵者，它对中国权益的不断侵犯和夺取，使中国失去了诸多主权，失去了独立与平等地位；其二，它是较农业文明更为先进的工业文明的传入者。历史上，处于较高发展阶段的中原文明曾经多次同化了征服者。而此次，面对着更高发展阶段的文明，中国社会丧失了数千年来未曾丧失的文化优越感，面临着如何向入侵者学习的问题。

——摘编自王建朗、黄克武著《两岸新编中国近代史：民国卷》

根据上述材料，围绕其中的一种或两种观点，并结合中国近代史知识加以阐述。(要求：观点明确，逻辑清晰，史论结合)(12分)

(二) 选考题 (共5小题, 共25分)

请考生在第43、44两道地理题中任选一题作答; 在第45、46、47三道历史题中任选一题作答。如果多做, 则按所做的第一题计分。作答时用2B铅笔在答题卡上把所选题目的题号涂黑。

43. (10分) 【地理——选修3: 旅游地理】

近年来, 在旅游景区兴起的旅游栈道, 其中玻璃栈道都离不开高、险、伴着悬崖而生, 除了体验险要之外, 玻璃栈道上视野开阔, 风景优美, 群山秀色, 一览无余。图10为玻璃栈道景观图。

结合所学知识分析旅游区玻璃栈道兴起的原因。(10分)




图10

44. (10分) 【地理——选修6: 环境保护】

2020年2月, 世界最大的撒哈拉沙漠连续几天刮起了强风, 卷起了漫天黄沙, 大量的沙尘飘过大西洋, 抵达美洲(如图11所示)。据统计, 撒哈拉沙漠每年向大西洋、南美等地输送约1.8亿吨的尘土。随着全球变暖, 近年来这种沙尘天气正在不断加强, 对地球环境带来深刻的影响。

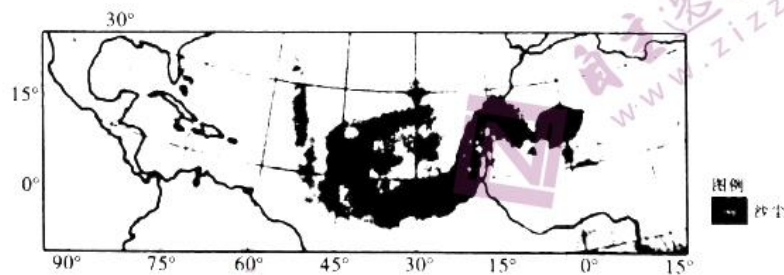


图11

(1) 从沙源和动力角度分析2月大西洋上空出现大量沙尘的原因。(6分)

(2) 当沙尘飘过大西洋上空时, 推断其对洋面气温的影响。(4分)



45. (15分)【历史——选修1：历史上重大改革回眸】

材料 王安石积极倡导科举以经义取士，并把《孟子》列为考试科目之一，以改变“闭门学作诗赋，及其入官，世事皆所不习”的状况。他把改革科举看成是“一道德”，即统一思想，造就改革派人才的主要途径。熙宁四年（1071）二月，王安石在所拟改革科举的中书札子中，认为：“古之取士，皆本学校，道德一于上，习俗成于下，其人才皆足以有用于世。”因此他提出“宜先除去声病偶对之文，使学者得以专意经义”。“贡举新制”规定，应举人不再考试诗赋、帖经、墨义之类，而以《诗》《书》《易》《周礼》《礼记》为本经；《论语》《孟子》为兼经。第一场选考本经中的一经，第二场考兼经，都要“务通义理，不须尽用注疏”；第三场考论，第四场考时务策。同时废罢明经诸科，另设明法科，凡是原先应试明经诸科，而又“不能改试进士”科的，考明法科，“试以律令《刑统》大义断案，中格即取”。新的明法科，时称新科明法。

——摘编自白寿彝著《中国通史》

(1) 根据材料并结合所学知识，概括王安石改革科举制的特点。(6分)

(2) 根据材料并结合所学知识，说明王安石改革科举制的意义。(9分)

46. (15分)【历史——选修3：20世纪的战争与和平】

材料 德军在1942年7月17日，投入150万的兵力进攻斯大林格勒。德军集中了40个师的精锐部队，每天出动上千架次飞机，把100多万颗炸弹投向这座城市，斯大林格勒的建筑几乎全被炸毁。在这危急的时刻，苏军进行了英勇的抵抗。苏联人民也团结起来，人人手执武器在废墟中同冲击市区的德军展开搏斗，前面的倒下了，后面的冲上去。……一名护士为了掩护伤员，端起机枪消灭了30多个德军，自己身负重伤，仍坚持到自己的部队赶到。有7.5万名姑娘，成为高射炮手、无线电兵、卫生员和护士，她们把自己的青春奉献给伟大的斯大林格勒保卫战。全城的人民和苏军密切配合，共同奋战。在参战期间，无论男女老少，人人都是战士，到处都是战场，希特勒的军队陷入人民战争的汪洋大海中，久战不胜。德军的士气一天天低落下去，11月19日，苏联红军终于迎来了激动人心的时刻，斯大林发起了大反攻的命令。坚持了六个月的斯大林格勒大会战终于结束了。

斯大林格勒大战的胜利，是苏德战争的转折点，也是第二次世界大战的伟大转折。

——摘编自中海田《世界上下五千年·历史卷》

文科综合·第15页(共16页)



(1) 根据材料并结合所学知识，简析斯大林格勒会战胜利的原因。(9分)

(2) 根据材料并结合所学知识，说明斯大林格勒大战的历史意义。(6分)

47. (15分)【历史——选修4：中外历史人物评说】

材料 中国医学的发展由于理论上等若干因素的制约，不甚重视人体组织解剖之深入研究，直至清朝仍限于秦汉水平。鉴于此，医术名噪京师的王清任深切感受到认识人体对发展医学的重要意义，强调：“治病不明脏腑，何异于盲子夜行”“著书不明脏腑，岂不是痴人说梦”，抱着“为愿医林中人，一见此图胸中雪亮，眼底光明，临症有所遵循……是吾之厚望”的态度，恭身于滦州稻地镇解剖观察疫死儿童尸体三十余具，还千方百计赴刑场观察处死男女犯人的尸体，并参照动物解剖和亲自查访刽子手对人体解剖的了解经验，先后历时四十二年，终于将所了解的人体内脏之解剖知识，特别对照古人之有错误者，一一绘成人体各内脏之解剖图，并以文字予以论证，终于1830年著成《医林改错》。此外，王清任在医学治疗学上也颇富声誉，他的活血化瘀论和血府逐瘀汤是现代治疗冠心病等的重要理论和药物。梁启超高度赞扬王清任“诚中国医界极大胆之革命论者”。

——摘编自白寿彝著《中国通史》

(1) 根据材料，分析王清任研究人体医学的原因及其历史贡献。(10分)

(2) 根据材料并结合所学知识，说明王清任身上所蕴含的精神品质。(5分)

贵港市 2021 届高中毕业班 12 月联考监测试题 文科综合参考答案

一、选择题（本大题共 35 小题，每小题 4 分，共 140 分）

题号	1	2	3	4	5	6	7	8	9	10	11	12
答案	D	C	D	A	B	C	A	C	B	A	B	B
题号	13	14	15	16	17	18	19	20	21	22	23	24
答案	A	D	C	D	B	B	C	B	B	D	B	A
题号	25	26	27	28	29	30	31	32	33	34	35	
答案	D	B	A	B	C	B	B	B	D	B	D	

【解析】

1. 麦秆画的原料为麦秆，虽经精选，但耗材量不大，A 项错误；麦秆画的制作工序复杂，耗时耗力较多，且艺术独特，因而价格较高，D 项正确；原生艺术、题材广泛与价格高低关系不大，C 项错误；麦秆画品位高雅，欣赏人群数量有限，需求量不大，B 项错误。故选 D。
2. 麦秆画工人以农村家庭主妇为主，文化水平较低，创新能力不足，C 正确；濮阳麦秆画手工艺品，材料中未体现自动化的程度，B 错误；目前濮阳麦秆画生产商有几十家，A 项错误；农村劳动力充足，D 项错误。故选 C。
3. 由湖泊示意图可知：滑坡体上部呈阶梯状分布而非逐渐倾斜，排除 A、C；“淤塞乌江干流形成堰塞湖”说明滑坡体位于山谷中，依据“凸高为低（为山谷）”的原则可判定 D 正确，B 错误。故选 D。
4. 遥感技术（RS）是借助传感器来接收遥远的地物发射或反射的电磁波，从而获得遥感影像，主要应用于灾情监测和资源勘查，A 正确；全球定位系统（GPS），主要应用于定位和导航，B 错误；地理信息系统技术（GIS）主要是用来处理和地理位置有关数据的技术，能够应用于科学调查、资源管理、财产管理、发展规划、绘图和路线规划，C 错误；无人机群可以用以搭载遥感技术传感器，D 错误。故选 A。
5. 河流发生弯曲后，侵蚀堆积现象发生的规律是“凹岸侵蚀，凸岸堆积”，图中河段东岸乙处凸向河心为凸岸，发生堆积现象，西岸甲处为凹岸，发生侵蚀现象，A 错误；乙处发生堆积形成河漫滩平原，适宜人类居住，形成新的居民区，所以“数家新住处”应位于乙地，B 正确；诗中叙述的情境“数家新住处，昔日大江流，古岸崩欲尽，平沙长未休”是指河

- 流的堆积和侵蚀，一般发生在河流的下游，而河流上游主要为侵蚀，堆积作用不明显，C 错误；图中等高线处发育河流，地形为河谷，等高线向北凸出，地势北高南低，河流应该是自北向南流，D 错误。故选 B。
6. 内力作用影响到地势的高低，从而影响河流的流向，C 对；含沙量、汛期、流量都主要受外力作用的影响，A、B、D 错。故选 C。
7. 读图，年降水量最多的海拔高度要从降水最多的点引垂线找到地形剖面图，从地形剖面图上读出海拔高度，不能从降水量线直接读海拔。通过做相应的垂线可知山地②年降水量最多的海拔高度大约位于南坡海拔 1300 米处，A 正确，B、C、D 错误。故选 A。
8. 我国 1 月为冬季，盛行西北季风，④地位于秦岭以北，纬度高，太阳高度小，且白昼时间短，太阳辐射少，为迎风坡，受山地阻挡，冷空气在此聚集气温较低；①地纬度较低，冬季太阳高度大，白昼时间长，位于四川盆地，受北部秦岭、大巴山阻拦冬季风的南下，气温高于④地。可见除纬度因素外，主要受冬季风影响小所致。C 正确，A、B、D 错误。故选 C。
9. 昆仑站所在经度（ $77^{\circ}6'58''E$ ）与 $120^{\circ}E$ 相差约 43° ，计算可知，北京时间为 13 时左右，A 错误；图示时刻赤道上白昼范围大致为： $17^{\circ}E$ 向东至 $163^{\circ}W$ ，东半球所占据的白昼范围为： $17^{\circ}E$ 向东至 $160^{\circ}E$ ，故此时东半球大部分在白昼范围内，C 错；图示时刻， $73^{\circ}W$ 向东至 180° 为 1 月 5 日的范围， 180° 向东至 $73^{\circ}W$ 为 1 月 4 日的范围，伦敦和上海所用时间为 0° 和 $120^{\circ}E$ 的地方时，故图示时刻两地属于 1 月 5 日范围内，B 正确；此时，我国东部沿海为正午前后，吹海风，D 错。故选 B。
10. 此后的一个月为 1 月 5 日至 2 月 5 日，太阳直射点北移，南极圈内的极昼范围变小，D 错；北半球地中海气候区此时为冬季，温和湿润，而南半球此时为夏季，开普敦地区属地中海气候，夏季炎热干燥，B 错；此时为北半球冬半年，索马里东部海域盛行东北风，海水向岸流动，底层海水难以上泛，饵料缺乏，不会形成鱼汛，故 C 错；地球在公转轨道上逐渐远离近日点，地球公转速度变慢，A 正确。故选 A。
11. 1 月 5 日处于南半球夏半年，在当地（地方时）10 点时，太阳位于东北方向，日影朝向西南方向。而要再次出现图示日影状况，太阳直射点的纬度位置应与 1 月 5 日的太阳直射点纬度相一致，日期应在南半球夏季范围内，同时与 1 月 5 日距离 12 月 22 日的天数大致相等，可能为次年 12 月 9 日，B 正确，A、C 错误。故选 B。
12. 某进口奶粉频繁出现致病菌问题，说明有质量问题或安全隐患，人们将会减少对该奶粉的购买，该品牌奶粉的需求量减少，均衡点从 E_0 向 E_2 移动，②错误；燃油汽车的价格提高，作为替代品的新能源汽车的需求量增加，需求曲线由 D_0 向 D_1 移动，③错误。故选 B。



13. ③错误，依托互联网平台，成为当下商品营销的渠道之一，但不是主要渠道；④错误，主播的热度并没有增加产品的附加值。故选 A。
14. 材料南水北调集团是国有独资公司，①不符合题意；公有制经济是我国国民经济的支撑，②错误。故选 D。
15. 抗疫特别国债是财政部发行，不是地方财政，①不符合题意；抗疫特别国债是财政政策，④错误；国债发行是不是增加居民收入，⑥不符合题意。抗疫特别国债是积极的财政政策，推动保居民就业、保基本民生，维护经济发展和社会稳定。故选 C。
16. 向人大代表反映噪音扰民的问题，属于民主监督，①错误；村民直接投票选举产生居委会成员不是协商民主，③错误。故选 D。
17. 全国人大是我国最高国家权力机关，人大没有表决权。②④错误。故选 B。
18. 设问强调的是党员干部，与完善行政体制无关，②排除。党员干部奋战脱贫攻坚旨在打赢脱贫攻坚战，实现全面建成小康社会的目标，而不是推进乡村治理体系的完善和治理能力现代化。③不符合题意。故选 B。
19. 文物的保护管理和利用属于公益性文化事业，文物保护部门不是以营利为目的的，①错误。④夸大了加强文物保护、管理和利用的作用，应排除。故选 C。
20. ②中“提升科学文化素养”说法与材料无关，应排除；发展教育和科学是先进文化建设的基础工程，③中的“把弘扬道德模范的榜样作用作为先进文化建设的基础工程”说法错误，排除。故选 B。
21. 针对互联网发展出现的新问题，人们对未成年人保护法进行了修订，增设“网络保护”一章，体现了实践是认识发展的动力。材料并未体现实践的客观物质性、直接现实性和实践是认识的最终目的，A、C、D 选项均不合。故选 B。
22. “垃圾是放错位置的资源”体现矛盾双方在一定条件下可以相互转化，而不是矛盾同一性与斗争性相互转化，A 表述错误；事物的优势和劣势在一定条件下相互转化，是客观的，不依赖于人的主观能动性，B 表述错误；主要矛盾的主要方面决定事物的性质，C 表述错误。故选 D。
23. 材料未体现社会意识的反作用，②不选；经济社会的发展取决于生产关系是否适应生产力状况、上层建筑是否适应经济基础状况，④表述错误。故选 B。
24. 根据材料“郑国子产‘铸刑书’……晋国叔向看来，无异于末世来临”可知，春秋晋国贵族叔向对郑国子产“铸刑书”的强烈反对态度。结合时代背景可知子产“铸刑书”，体现了新兴地主阶级要求维护自身利益和改革社会政治的强烈要求，与贵族维护周礼维持统治的主张冲突，故 A 项正确，B、C 两项错误。法家主张严刑酷法，子产“铸刑书”符合法家思想，故 D 项排除。故选 A。



25. 根据材料可知，两部著作对死亡人数表述不一，存在一定程度的差别，表明历史在传承中失真，故选 D 项。A、B、C 项在材料中无法体现，故排除。故选 D。
26. 根据材料信息“南宋思想家陈亮针对宋代考课不注重实绩，只重年资，考课流于形式的弊端，在《中兴论》中提出了以实绩考核职官的主张”可知，论资排辈的考核标准存在弊端，故 B 项正确，A 项错误；C、D 两项与材料主旨不符，故排除。故选 B。
27. 结合材料可知，明崇祯年间，受农民起义、少数民族南下等原因影响，致使生产受到严重破坏，故粮价较高；**顺治及康熙年间，社会稳定，经济发展，出现盛世，粮价下降，故 A 项正确，B 项错误；**此时随着新航路开辟有白银大量流入，但不是使物价下降而是上升，故 C 项错误；D 项与材料主旨不符，排除。故选 A。
28. 根据材料信息“李鸿章读后十分赞赏，并上呈总理衙门，给资印行 3000 部”可知，李鸿章认同西方工业革命成果，与洋务派主张学习西方技术相符，故 B 项正确。在当时的西方列强加紧侵略背景下，清廷不可能提高国际地位，故 A 项排除；C 选项“传播西学开启民智”与李鸿章为代表的封建地主阶级利益不一致，故排除；D 选项与材料主旨不符，故排除。故选 B。
29. 根据材料信息可知，新诗保留五言一句古诗的特点，但又通俗易懂，故 A 项错误，C 项正确；B、D 两项材料未体现。故选 C。
30. 根据材料信息可知此时为国共十年对峙，此法规定符合“工农武装割据”理论，故 A 项正确；A、C、D 三项与题干时空不相符，故排除。故选 B。
31. 根据材料信息可知，1984 年改革开放已取得初步成效，“小平您好”是对总设计师邓小平的强烈情感表达，故 B 项正确；A、C、D 三项与材料中时间不符，故排除。故选 B。
32. 根据材料“低贱者应当成为高贵者的奴隶”可知亚里士多德主张奴隶制，故 B 项正确；A、C、D 三项与材料主旨不符，故排除。故选 B。
33. 材料主旨是工人阶级要打破旧的国家机器，建立无产阶级专政，这要求是资本主义经济发展到一定程度的必然，故 D 项正确；A、B、C 三项均为表象，故排除。故选 D。
34. 根据材料可知，罗斯福新政已取得一定成效，工业逐渐恢复，经济危机有所缓解，故 B 项正确，C 项错误；重商主义盛行于 17~18 世纪，与题干不符，故 D 项排除；A 项与材料主旨不符，故 D 项排除。故选 B。
35. 库尔贝是法国著名画家，现实主义画派的创始人，根据材料作品朴实地表现了乡下人民劳作的场景，故 D 项正确；浪漫主义画派以肯定、颂扬人的精神价值，画面具有强烈的感情色彩和激动人心的艺术魅力，材料明显不符合，故排除 A 项；B 项与题干无关，故



排除；印象派绘画把“光”和“色彩”作为绘画追求的主要目的，他们倡导走出画室，描绘自然景物，以迅速的手法把握瞬间的印象，使画面呈现出新鲜生动的感觉，排除 C 项。故选 D。

二、非选择题（共 160 分）

（一）必考题（共 7 小题，共 135 分）

36.（24 分）

（1）（6 分）地处西风带，终年盛行西风；（2 分）西侧有高大的安第斯山脉阻挡太平洋水汽进入；（2 分）巴塔哥尼亚高原东临大西洋，但高原海拔较高，且西风使大西洋水汽向东输送，水汽难以进入。（2 分）

（2）（8 分）巴塔哥尼亚地区的河流多发源于安第斯山脉；冰雪融水补给多，流量较大；（2 分）地势西高东低，河流落差大，流速快；（2 分）巴塔哥尼亚地区东西方向狭窄，河流较短；（2 分）降水少，但由于纬度较高，海拔较高，气温低，蒸发弱，所以流程损失较小。（2 分）

（3）（6 分）几百万年前，安第斯山脉未隆起，巴塔哥尼亚地区受西风影响，降水丰富，森林茂密；（2 分）南极洲板块与美洲板块挤压碰撞导致大量火山喷发，大片森林被火山灰和熔岩埋没，经过漫长的地质作用森林演变成化石；（2 分）安第斯山脉隆起抬升后，巴塔哥尼亚高原气候变得干旱，长期的外力（风化、侵蚀、搬运）作用使埋藏在地下的石化森林出露地表。（2 分）

（4）（4 分）低温、多雨和浓雾；（2 分）大风、急浪。（2 分）

37.（22 分）

（1）（8 分）辣条发源地，产业基础较好；属时尚零食，市场需求量大；劳动力丰富且廉价；原料以小麦粉为主，成本低；高速公路等交通运输便利；品牌知名度高。（每点 2 分，任答四点共 8 分）

（2）（6 分）政府制定并严格执行辣条行业生产标准，规范辣条生产流程；（2 分）加大监督检查力度，确保辣条生产环境干净整洁和产品的质量；（2 分）鼓励企业加大技术和设备投入，实现辣条自动化生产。（2 分）

（3）（8 分）增加销售渠道，提升产品销售量；（2 分）扩大产品知名度；（2 分）工厂直销，减少产品中间流通环节，增强市场竞争力；（2 分）工厂直播，提高生产过程透明度，促使企业提高产品品质。（2 分）



38. (14分) 原因：①疫情加剧了全球经济的不稳定性。(2分)
- ②世界经济发展的不平衡性，拉大了南北差距和各国国内的贫富差距。(2分)
- ③霸权国家对霸权衰弱的焦虑和自信缺失，也是逆全球化思潮重要的诱发因素。(2分)
- 对策：①政府减费降税，为企业提供更大的利润空间。
- ②引导企业积极从出口转内销，开拓国内市场。
- ③支持高科技企业以市场为导向，加强关键技术的研发攻关。
- ④拓宽专项融资渠道，解决科创企业直接融资难融资贵的问题。
- ⑤坚持独立自主，保持我国产业链的完整性，防控产业链的断档风险。(每点2分，答出以上任意四点即可得8分)
39. (12分) ①和平与发展是当今时代的主题，以对话代替冲突符合时代发展潮流，有利于更好应对全球性威胁和挑战。
- ②主权国家在国际社会中享有平等权。主权国家之间以协商代替胁迫，坚持国际公正和道义才能解决人类面临的共同挑战。
- ③国家利益决定国际关系，共同利益是国家合作的基础。以共赢代替零和，才能扩大各国共同利益汇合点，推动构建人类命运共同体。(每点4分，共12分)
40. (26分)
- (1) (10分) ①网络直播为优秀传统文化的发展提供了强大的物质技术手段；(2分)
- ②网络直播能最大程度地超越时空局限，实现传统文化的传递、沟通、共享，增强其影响力；(3分)
- ③网络直播激发了全民族文化创造的活力，促进了优秀传统文化的继承与发展；(2分)
- ④网络直播创造了新的观演方式，推动了优秀传统文化的创造性转化和创新性发展。(3分)
- (2) (12分) ①尊重客观规律是发挥主观能动性的前提和基础。直播者在利用网络进行传统文化的直播时，必须要尊重传统文化自身的特点以及文化生长的内在逻辑。
- ②发挥主观能动性是认识和利用规律的必要条件。直播者应该多向前辈艺术家学习，努力提升自己的艺术修养和表演水平，用精湛的艺术点燃更多人对传统文化的兴趣。
- ③尊重客观规律与发挥主观能动性是辩证统一的关系，直播者利用网络平台传播传统文化，要把尊重客观规律与发挥主观能动性结合起来，传递文化正能量，才能使传统文化焕发新的活力。(每点4分，共12分)
- (3) (4分) ①了解当代年轻人的文化需求。
- ②对传统文化进行内容与形式的创新。(每点2分，共4分)

41. (25分)

(1) (12分) 观念：崇尚奢侈；鼓励消费。(4分)

相同因素：商品经济发展；市民阶层壮大；传统的思想观念受到了冲击；世界联系日益加强。(8分)

(2) (13分) 中国：①推动了手工业和商业的发展，有利于资本主义萌芽；②冲击了封建伦理与等级观念；③未能推动中国的社会转型。(6分)

西方：①为工业革命积累了资本；②刺激了国内工业的发展；③有利于海外贸易的发展；④推动了西方由传统社会向现代社会转型。(7分)

42. (12分)

示例一：赞同第一个观点，近代中国所闯入的外来者是入侵者。(2分)

理由：19世纪中期，英国完成工业革命，为获得更多的商品销售市场和原料产地，发动鸦片战争，清政府战败被迫签订《南京条约》，中国丧失部分领土、关税等主权，开始沦为半殖民地半封建社会；1894年甲午中日战争，中国战败，被迫签订《马关条约》，进一步丧失政治、经济等主权，中国半殖民地半封建化程度大大加深；1900年，八国联军侵华战争，中国战败，签订《辛丑条约》中国半殖民地半封建化社会完成形成。(9分)

由此可见，近代中国所闯入的外来者使中国失去了诸多主权，失去了独立与平等地位，所以外来者是入侵者。(1分)

示例二：赞同第二个观点，近代中国所闯入的外来者是工业文明的传入者。(2分)

理由：19世纪60年代，在外来先进工业文明的影响下，为了挽救封建统治，地主阶级兴办洋务运动，洋务运动过程中创办军事工业、民用工业和近代教育，筹划近代海防，开启了中国近代化的序幕。1898年，以康梁为首的维新派开展维新变法，主张在中国实行君主立宪制，发展资本主义经济，推动中国政治近代化。1915年，以陈独秀等为代表资产阶级知识分子开展新文化运动，提倡民主、科学、新文化等，动摇封建思想统治基础，促进人们的思想解放，推动中国思想近代化。(9分)

由此可见，近代中国所闯入的外来者客观上推动中国近代化的进程，是工业文明的传入者。(1分)

(二) 选考题 (共5小题，共25分)

43. (10分)

玻璃工艺和技术水平提高；安全保护措施齐全；玻璃栈道可全方位观景，视野更开阔；玻璃栈道具有刺激、惊险、猎奇的旅游体验；玻璃栈道开辟了新景点，丰富旅游资源；玻璃栈道可解决景区拥堵问题，增加环境承载力。(每点2分，任答五点即可)



44. (10分)

(1) (6分) 原因：①沙源地是撒哈拉沙漠；(2分) ②撒哈拉沙漠面积广阔，沙源物质丰富；(2分) ③东北信风携带沙土西移。(2分)

(2) (4分) 影响：①沙尘作为凝结核，使大西洋上空云量增多，云层反射太阳辐射增强；(2分) ②沙尘本身也能反射太阳辐射，使洋面气温降低。(2分)

45. (15分)

(1) (6分) 特点：①选拔实用性人才；②统一思想；③考试内容改诗赋为时务策；④完善了考试流程。

(2) (9分) ①为变法提供实用性人才；②为完成整个改革奠定思想基础；③改变科举制重诗轻策的状况；④为后世科举改革提供借鉴。

46. (15分)

(1) (9分) ①苏联军民的团结，共同奋战；②苏军战术的有效性；③苏军具有强大的意志力；④久战不胜，德军士气低落；⑤希特勒的错误指导。

(2) (6分) ①使斯大林格勒免被德国攻占；②加快了二战结束的进程；③是苏德战争的转折点，也是第二次世界大战的伟大转折；④给德军致命打击，再也无力进行大规模的反攻；⑤让苏联人民和全世界人民看到了胜利的希望，坚定了彻底打败德国的信心。

47. (15分)

(1) (10分) 原因：①人体组织解剖学长期得不到发展；②王清任认识到了人体组织解剖对医学的重要意义(或王清任想纠正古人在人体内脏之解剖知识的错误)。(4分)

贡献：①编写人体解剖著作；②为现代医学提供理论支撑；③促进中国医学的发展。

(6分)

(2) (5分) ①刻苦钻研，勇于担当；②心系人民，胸怀医学；③大胆质疑。

关于我们

自主选拔在线是致力于提供新高考生涯规划、强基计划、综合评价、三位一体、学科竞赛等政策资讯的升学服务平台。总部坐落于北京，旗下拥有网站（<http://www.zizzs.com/>）和微信公众平台等媒体矩阵，用户群体涵盖全国90%以上的重点中学师生及家长，在全国新高考、自主选拔领域首屈一指。

如需第一时间获取相关资讯及备考指南，请关注**自主选拔在线**官方微信号：**zizzsw**。



关注后获取更多资料：

回复“答题模板”，即可获取《高中九科试卷的解题技巧和答题模版》

回复“必背知识点”，即可获取《高考考前必背知识点》